

CONCURSO PÚBLICO

Edital 001/2017



CÂMARA MUNICIPAL DE PARÁ DE MINAS

CADERNO DE PROVAS

CADERNO

4

CARGO:

TÉCNICO EM INFORMÁTICA

PROVAS:

- LÍNGUA PORTUGUESA
- MATEMÁTICA / RACIOCÍNIO LÓGICO
- LEGISLAÇÃO MUNICIPAL
- CONHECIMENTOS ESPECÍFICOS

Leia, atentamente, as instruções gerais que se encontram no verso desta capa.

INSTRUÇÕES GERAIS:

1. Este caderno de provas contém um total de **40** (quarenta) questões objetivas, sendo 10 de Língua Portuguesa, 7 de Matemática/Raciocínio Lógico, 8 de Legislação Municipal e 15 de Conhecimentos Específicos. Confira-o.
2. As provas para todos os cargos terão duração de, no mínimo, **1 (uma) hora** e, no máximo, de **4 (quatro) horas**, incluído o tempo destinado à transcrição de suas respostas no gabarito oficial e do texto definitivo da Redação na folha própria.
3. Respondidas as questões, você deverá passar o gabarito para a sua folha de respostas, usando caneta esferográfica azul ou preta.
4. Em nenhuma hipótese haverá substituição da Folha de Respostas por erro do candidato.
5. Este caderno deverá ser devolvido ao fiscal, juntamente, com a folha de respostas e o texto definitivo de sua Redação, devidamente preenchidos e assinados.
6. Por motivo de segurança, os candidatos somente poderão ausentar-se do recinto de realização das provas objetivas decorrida **1 (uma)** hora do início de aplicação das mesmas.
7. Você pode transcrever suas respostas na última folha deste caderno e a mesma poderá ser destacada.
8. A FUMARC divulgará as questões e os gabaritos das Provas Objetivas de Múltipla Escolha no endereço eletrônico <www.fumarc.com.br>, no 2º (segundo) dia útil subsequente à realização das provas.
9. A comissão organizadora da FUMARC Concursos lhe deseja uma boa prova.

Prezado(a) candidato(a):

Coloque seu número de inscrição e nome no quadro abaixo:

Nº de Inscrição	Nome
<input type="text"/>	<input type="text"/>

ASSINALE A RESPOSTA CORRETA.

PROVA DE LÍNGUA PORTUGUESA

RAPIDINHO

Todos nos beneficiamos e nos orgulhamos das conquistas da vida moderna, especialmente da crescente velocidade com que fazemos as coisas acontecerem. Mudanças que antigamente levavam séculos para se efetivarem agora podem ser realizadas em poucos anos, às vezes em poucos meses. Quando não em poucas semanas, ou até em poucos dias. Nas sociedades tradicionais, as normas de conduta, as leis, os costumes, o modo de se vestir, os estilos artísticos tinham uma extraordinária capacidade de perdurar. Tudo se modificava, é claro, mas sempre muito devagar. [...]

Na utilização dos meios de comunicação, os mensageiros foram substituídos pelo telégrafo elétrico, que cedeu lugar ao telégrafo sem fio, ao telefone, à televisão, ao fax, ao e-mail e às maravilhas da eletrônica contemporânea. Não somos bobos, tratamos de aproveitar as possibilidades criadas por todos os novos recursos tecnológicos. Para que perder tempo? Se podemos fazer depressa o que os nossos antepassados só conseguiam fazer devagar, por que não haveríamos

de acelerar nossas ações? Um dos expoentes do espírito pragmático da modernidade, o americano Benjamin Franklin, já ensinava no século XVIII: “Tempo é dinheiro”, time is money.[...]

Dedicamo-nos, então, a uma frenética corrida contra os ponteiros do relógio. Para sermos eficientes, competitivos, apressamos cada vez mais nossos movimentos. Saímos de casa correndo para o trabalho, somos cobrados para dar conta correndo de nossas tarefas e — habituados à corrida — alimentamo-nos às pressas (ah, a chamada fast food!), para depois voltarmos, correndo, para casa. [...]

Impõem-se, contudo, algumas perguntas: nas condições em que somos mais ou menos obrigados a viver, não estaremos, de qualquer maneira, pagando um preço altíssimo, mesmo se formos bons corredores e nos mostrarmos aptos para vencer? Os ritmos que nos são impostos e que aguçam algumas das nossas faculdades não resultam, ao mesmo tempo, num empobrecimento de alguns aspectos importantes da nossa sensibilidade e da nossa inteligência? A necessidade de assimilar com urgência as informações essenciais para a ação imediata não acarreta uma grave incapacidade de digerir conhecimentos sutis e complexos, cheios de carços e mediações que, embora careçam de serventia direta, são imprescindíveis ao aprofundamento da minha compreensão da condição humana? Uma reflexão que se sabe condenada a desenvolver-se num exíguo prazo predeterminado não será, inevitavelmente, superficial? O pensamento que se formula rapidinho não tende a ser sempre meio oco? (Leandro Konder. In: O Globo, 29/08/96)

<https://pt.linkedin.com/pulse/%C3%A0-luz-do-fil%C3%B3sofo-karine-gomes-moura>

QUESTÃO 01

Sobre a constituição do texto, é **CORRETO** afirmar que

- (A) em alguns trechos, há interlocução entre locutor e leitor.
- (B) nele predomina a linguagem oral.
- (C) o 1º parágrafo apresenta a ideia que será desenvolvida ao longo do texto.
- (D) o uso da 3ª pessoa do singular é predominante.

QUESTÃO 02

Todos os sentimentos abaixo estão presentes no texto, **EXCETO**:

- (A) reflexão
- (B) sarcasmo
- (C) sensatez
- (D) veracidade

QUESTÃO 03

São consequências de “Tempo é dinheiro”, **EXCETO**:

- (A) A crescente velocidade com que fazemos as coisas acontecerem só nos traz benefícios.
- (B) Alimentamo-nos às pressas (ah, a chamada fast food!), para depois voltarmos, correndo, para casa.
- (C) Os ritmos que nos são impostos resultam, ao mesmo tempo, num empobrecimento de alguns aspectos importantes da nossa sensibilidade e da nossa inteligência.
- (D) Para sermos eficientes, competitivos, apressamos cada vez mais nossos movimentos.

QUESTÃO 04

Os termos destacados têm natureza adverbial, **EXCETO**:

- (A) “Mudanças que **antigamente** levavam séculos para se efetivarem [...].”
- (B) “O pensamento que se formula **rapidinho** não tende a ser sempre meio oco?”
- (C) “Quando **não** em poucas semanas, ou até em poucos dias.”
- (D) “Um dos expoentes do espírito **pragmático** da modernidade, o americano Benjamin Franklin, já ensinava no século XVIII [...].”

QUESTÃO 05

Todas as constatações abaixo podem ser feitas com base no texto, **EXCETO**:

- (A) Ao acelerarmos nossas ações, conforme o pensamento de Benjamim Franklin, tornamo-nos eficientes, competitivos, apressamos cada vez mais nossos movimentos, pagando um preço altíssimo.
- (B) Ao assimilarmos com urgência as informações essenciais para uma ação imediata, deixamos de assimilar conhecimentos sutis e complexos que são imprescindíveis ao aprofundamento da compreensão da nossa condição humana.
- (C) Ao formularmos um pensamento rapidamente, a tendência é que ele seja mais superficial.
- (D) Ao refletirmos sobre um assunto num prazo curto e pré-determinado, a tendência é de esta reflexão ser, inevitavelmente, superficial.

QUESTÃO 06

Com relação às regras de colocação do pronome oblíquo, a posição do pronome é **facultativa** em:

- (A) “Dedicamo-**nos**, então, a uma frenética corrida contra os ponteiros do relógio.”
- (B) “Os ritmos que **nos** são impostos e que aguçam algumas das nossas faculdades [...]”.
- (C) “Todos nos beneficiamos e **nos** orgulhamos das conquistas da vida moderna [...]”.
- (D) “Uma reflexão que se sabe condenada a desenvolver-**se** num exíguo prazo predeterminado [...]”.

QUESTÃO 07

A concordância nominal está **CORRETA** em:

- (A) É **necessário** a atenção de todos para a leitura do texto.
- (B) Ela tomou decisões o mais sensatas **possíveis**.
- (C) Somente após **bastantes** ameaças, ele arrumou o quarto.
- (D) Quando a moça terminou de arrumar as malas, já era meio-dia e **meio**.

QUESTÃO 08

Analise as seguintes frases, observando o emprego dos sinais de pontuação:

- I. O candidato impaciente espera o momento da prova.
- II. O candidato, impaciente, espera o momento da prova.
- III. O candidato, impaciente espera, o momento da prova.
- IV. Impaciente, o candidato espera o momento da prova.
- V. O candidato espera impaciente, o momento da prova.

As frases estão **corretamente** pontuadas apenas em:

- (A) I, II e IV.
- (B) I, III e IV.
- (C) II e V.
- (D) III e IV.

QUESTÃO 09

Leia o trecho abaixo, completando as lacunas **corretamente**:

'Criptografia limita'

Questionado pelo TechTudo, o WhatsApp disse que trabalha de forma diligente para reduzir o número de mensagens de spam no aplicativo. Porém, é possível que as equipes não tenham acesso ao conteúdo da mensagem em razão da criptografia de ponta ____ ponta aplicada ao mensageiro e adotada em abril de 2016. "Nossas ações ficam de certa maneira limitadas", informou ____ equipe de segurança do WhatsApp ____ redação. Um conteúdo similar ao da nota enviada é encontrado na página "Fique seguro no WhatsApp". Saiba como agir ao receber correntes, links maliciosos e falsas promessas de cupons que podem ser golpes.

Disponível em: <https://www.techtudo.com.br/dicas-e-tutoriais/2017/09/golpes-de-whatsapp-o-guia-de-finitivo-para-nao-cair-em-ciladas.ghtml>. Acesso em 15 fev. 2018.

A sequência que preenche **corretamente** as lacunas do texto é:

- (A) a - à - à
- (B) à - a - à
- (C) a - a - à
- (D) à - à - à

QUESTÃO 10


A divisão silábica está correta, **EXCETO** em:

- (A) cor ren tes
- (B) cri pto gra fi a
- (C) ga fa nho to
- (D) im pres cin dí veis

PROVA DE MATEMÁTICA / RACIOCÍNIO LÓGICO

QUESTÃO 11

Um robô é programado para descrever determinados movimentos de comando e parar em um determinado ponto designado, no mapa nomeado “pista quadriculada”, a seguir por **A**, **B**, **C** ou **D**. O robô é colocado num certo ponto sobre a pista quadriculada (indicado por uma seta), como mostra a figura, e ativado para descrever os seguintes comandos:

INSTRUÇÕES	
<ul style="list-style-type: none"> • Início: → Ande 3 passos para frente → Vire à direita → Repita 2 vezes: <ul style="list-style-type: none"> { Ande 2 passos para frente { Vire à esquerda → $N = \text{resto da divisão de } 19 \text{ por } 5$ Se 19 é primo faça: Ande N passos para frente Senão faça: Ande $N/2$ passos para frente → Vire à direita → Ande 3 passos • Fim 	

Obs.: 1 passo corresponde ao comprimento de um dos lados dos quadrados da pista.

Começando a partir do ponto indicado pela seta da área quadriculada, de frente para a pista, caminhando apenas sobre as linhas e seguindo as instruções fornecidas, qual a letra que corresponde ao **ponto final** desta trajetória?

- (A) A
- (B) B
- (C) C
- (D) D

QUESTÃO 12

Um salão de festas possui 6 portas de acesso. De quantas maneiras distintas ele pode estar aberto?

- (A) 63
- (B) 64
- (C) 719
- (D) 720

QUESTÃO 13

Pedro possuía no dia do vencimento, 01/03/2017, uma dívida de R\$ 1000,00 na fatura de seu cartão de crédito. Caso Pedro não efetuasse o pagamento do valor total da fatura, seriam cobrados juros de 16% sobre o saldo devedor para a próxima fatura. Para quitar sua dívida, Pedro optou por pagar sempre o mínimo (15% sobre o saldo devedor total) da fatura a cada mês e não efetuar mais compras.

A dívida desse consumidor, em 01/05/2017, era de, **aproximadamente**:

(Considere 2 casas decimais)

- (A) R\$ 838, 10
- (B) R\$ 840,00
- (C) R\$ 968, 53
- (D) R\$ 972,20

QUESTÃO 14

Considere os argumentos lógicos I, II e III a seguir:

- I. Todos os gatos são felinos e todos os felinos são ferozes. Concluimos que todos os gatos são ferozes.
- II. Todo médico é músico. Algum médico não é professor. Concluimos que algum músico não é professor.
- III. Se todo professor é estudioso e existem atletas que são professores, concluimos que existem atletas que são estudiosos.

É **CORRETO** afirmar:

- (A) Todos os argumentos são válidos.
- (B) II e III são argumentos válidos.
- (C) I e II são argumentos válidos.
- (D) Apenas o argumento III é válido.

QUESTÃO 15

Uma loja está promovendo a venda de conjuntos com artigos de perfumaria, praticando os preços indicados na tabela a seguir.

PROMO- ÇÃO	Sabonete lí- quido (unida- des)	Creme hi- drante (uni- dades)	Mini Per- fume (unidades)	Preço de venda (R\$)
Conjunto A	1	2	3	23,50
Conjunto B	2	5	6	50,00
Conjunto C	2	3	4	36,00

Baseando-se nas informações dessa tabela, é **CORRETO** afirmar que o preço unitário do sabonete líquido, **em reais**, nessa promoção, é igual a:

- (A) 2,50
- (B) 3,00
- (C) 4,00
- (D) 5,50

QUESTÃO 16

Uma pesquisa entrevistou 40 pessoas sobre a prática de esportes nas modalidades vôlei e natação e os resultados obtidos estão organizados na tabela abaixo:

Modalidade	Praticantes
Vôlei	25
Natação	20
Vôlei e natação	10
Amostra	40

Baseando-se nos resultados dessa pesquisa, é **CORRETO** afirmar que o total de pessoas que **NÃO** pratica nenhum dos esportes é igual:

- (A) 5
- (B) 10
- (C) 15
- (D) 25

QUESTÃO 17

Se a importância de R\$ 4.440,00 foi dividida em partes **inversamente** proporcionais aos números 4, 5 e 6, então é **CORRETO** afirmar que a maior das três partes, **em reais**, equivale a:

- (A) 1.600
- (B) 1.800
- (C) 2.200
- (D) 2.440

PROVA DE LEGISLAÇÃO MUNICIPAL**QUESTÃO 18**

O exercício da liberdade de reunião, conforme a Lei Orgânica do Município, é garantida nos seguintes termos:

- (A) Todos podem reunir-se pacificamente, com ou sem armas, em bens de uso comum do povo, independentemente de autorização, desde que não frustrem outra reunião anteriormente convocada para o mesmo local.
- (B) Todos podem reunir-se pacificamente, desde que não frustrem outra reunião anteriormente convocada para o mesmo local e sujeitem previamente ao crivo da autoridade municipal os fins da reunião a ser realizada.
- (C) Todos podem reunir-se pacificamente, sem armas, em bens de uso comum do povo, independentemente de autorização, desde que não frustrem outra reunião anteriormente convocada para o mesmo local.
- (D) Todos podem reunir-se pacificamente, sem armas, em bens de uso comum do povo, mediante autorização, desde que não frustrem outra reunião anteriormente convocada para o mesmo local.

QUESTÃO 19

Sobre a licitação, nos termos da Lei Orgânica Municipal, é **CORRETO** afirmar:

- (A) As compras, obras e serviços da Prefeitura, bem como dos órgãos da administração indireta serão realizados com estrita observância do princípio de licitação, mas a Câmara Municipal não possui dever de licitar.
- (B) As compras, obras e serviços da Prefeitura, da Câmara Municipal e dos órgãos da administração indireta serão realizados com estrita observância do princípio de licitação.
- (C) O Município não está obrigado a licitar se comprovada a idoneidade da empresa a ser contratada.
- (D) O Município não está obrigado a licitar, devendo fazê-lo se assim previsto em lei de iniciativa do Prefeito Municipal.

QUESTÃO 20

Sobre a iniciativa de projeto de lei no âmbito do Município, é **CORRETO** afirmar que cabe

- (A) a qualquer vereador, à Mesa Diretora, às comissões e aos cidadãos, mas não cabe ao Prefeito Municipal.
- (B) a qualquer vereador, ao prefeito, à Mesa Diretora e às comissões e, na forma da Lei Orgânica, aos cidadãos.
- (C) a qualquer vereador, ao prefeito, à Mesa Diretora e às comissões, mas não cabe aos cidadãos.
- (D) às autoridades de qualquer dos três poderes.

QUESTÃO 21

As decisões da Câmara Municipal serão tomadas, como regra, por maioria

- (A) absoluta, presente à votação a maioria dos membros da Câmara.
- (B) simples quando a sessão for ordinária, e maioria absoluta, quando a sessão ocorrer por convocação extraordinária.
- (C) simples, independentemente do número de vereadores presentes.
- (D) simples, presente à votação a maioria absoluta dos membros da Câmara.

QUESTÃO 22

Constitui dever do servidor público:

- (A) Deixar de aplicar a lei quando assim o exigir o dever de eficiência.
- (B) Negar qualquer pedido de informação que lhe seja dirigido.
- (C) Proteger seu superior hierárquico quando este seja acusado de conduta ilegal.
- (D) Zelar pela conservação do patrimônio público.

QUESTÃO 23

A servidora que adotar criança tem direito à licença remunerada?

- (A) Sim.
- (B) Não.
- (C) Sim, apenas se a criança tiver idade inferior a dois anos.
- (D) Não, apenas tem direito à licença sem remuneração.

QUESTÃO 24

O servidor é responsável pelo prejuízo que causar à Câmara Municipal

- (A) ainda que aja no exercício regular das funções.
- (B) mas não pode sofrer desconto na sua remuneração.
- (C) por conduta culposa ou dolosa.
- (D) por conduta praticada no exercício da função, independente de dolo ou culpa.

QUESTÃO 25

É considerada infração disciplinar de grau médio aquela que

- (A) possa comprometer o ambiente de trabalho.
- (B) possa comprometer a organização do trabalho.
- (C) não expresse conduta ilegal.
- (D) cause dano.

PROVA DE CONHECIMENTOS ESPECÍFICOS**QUESTÃO 26**

Conta de usuário padrão do sistema operacional Linux, também conhecida como “superusuário”, que pode atuar como proprietário de qualquer arquivo ou processo e também pode executar operações especiais que estão fora dos limites para os demais usuários:

- (A) admin.
- (B) master.
- (C) root.
- (D) super.

QUESTÃO 27

Analise as seguintes afirmativas sobre os comandos do sistema operacional Linux:

- I. `chmod` é o comando que pode ser usado para alterar permissões de arquivos e diretórios.
- II. `cp` é o comando que pode ser usado para copiar arquivos e diretórios.
- III. `pwd` é o comando que pode ser usado para alterar a senha do usuário.

Estão **CORRETAS** as afirmativas:

- (A) I e II, apenas.
- (B) II, apenas.
- (C) II e III, apenas.
- (D) I, II e III.

QUESTÃO 28

Opções de inicialização disponíveis nas configurações do Google Chrome 63.0, versão português, para definição da página ou páginas que são exibidas ao iniciar o navegador, **EXCETO**:

- (A) Abrir a página Nova guia.
- (B) Abrir o mecanismo de pesquisa.
- (C) Abrir uma página específica ou um conjunto de páginas.
- (D) Continuar de onde você parou.

QUESTÃO 29

Analise as seguintes afirmativas sobre as sub-rotinas (procedimentos e funções) da programação modularizada:

- I. As variáveis declaradas dentro das sub-rotinas são chamadas de variáveis locais e aquelas declaradas fora de qualquer sub-rotina são chamadas de variáveis globais.
- II. Um parâmetro passado por valor para uma sub-rotina se comportará como uma variável local, isto é, qualquer modificação no valor desta variável não será visível fora da sub-rotina.
- III. Um parâmetro passado por referência para uma sub-rotina se comportará como uma variável global, isto é, qualquer modificação no valor desta variável será visível também fora da sub-rotina.

Estão **CORRETAS** as afirmativas:

- (A) I e II, apenas.
- (B) I e III, apenas.
- (C) II e III, apenas.
- (D) I, II e III.

QUESTÃO 30

Comando da linguagem SQL de banco de dados (padrão ANSI) que irá inserir uma linha na tabela ALUNO sem violar qualquer restrição ou gerar qualquer erro de sintaxe ou de execução, de acordo com as definições de colunas e restrições abaixo, e supondo que a tabela esteja vazia, isto é, sem linhas:





Nome da coluna	Tipo de dados	Permite nulos?	Restrição
codigo	int	não	chave primária
nome	varchar(100)	não	
cpf	char(11)	não	chave única
telefone	char(25)	sim	

O comando **CORRETO** é:

- (A) INSERT FROM ALUNO VALUES (1,'JOSE','11111111111','222');
- (B) INSERT INTO ALUNO VALUES ('JOSE','11111111111','222');
- (C) INSERT INTO ALUNO VALUES (1,'JOSE','11111111111',NULL);
- (D) INSERT INTO ALUNO VALUES (1,'JOSE',NULL,'2222-2222');




QUESTÃO 31

Todas as opções a seguir disponíveis na guia “CRIAR” do Microsoft Access, versão português do Office 2013, estão corretamente descritas, **EXCETO**:

- (A) O ícone  corresponde à opção “Assistente de Consulta”.
- (B) O ícone  corresponde à opção “Formulário”.
- (C) O ícone  corresponde à opção “Relatório”.
- (D) O ícone  corresponde à opção “Tabela”.

QUESTÃO 32

Analise as seguintes afirmativas sobre as funcionalidades disponíveis na guia “FORMATAR” das “FERRAMENTAS DE IMAGEM” que é exibida ao selecionar uma imagem no Microsoft Word, versão português do Office 2013:

- I. A opção  permite escolher como o texto será apresentado ao redor da imagem.
- II. A opção  permite escolher onde a imagem selecionada aparecerá na página.
- III. A opção  permite especificar a cor usada na borda da imagem.

Está **CORRETO** apenas o que se afirma em:

- (A) I e II.
(B) I e III.
(C) II e III.
(D) II.









QUESTÃO 33

Comando acionado pelo atalho de teclado “Ctrl+M” do Microsoft Word, versão português do Office 2013:

- (A) Alinhar o parágrafo à esquerda.
(B) Centralizar texto.
(C) Recuar o parágrafo a partir da esquerda.
(D) Salvar documento.

QUESTÃO 34

Em relação às opções disponíveis nas “Categorias” do “Painel de Controle” Microsoft Windows 7, versão português, correlacione as colunas a seguir associando a configuração à categoria a que ela pertence:

Categorias	Configuração dentro da Categoria
I.  Contas de Usuário	()  Ferramentas Administrativas
II.  Programas	()  Grupo Doméstico
III.  Rede e Internet	()  Gadgets da Área de Trabalho
IV.  Sistema e Segurança	()  Gerenciador de Credenciais

Está **CORRETA** a seguinte sequência de respostas:

- (A) I, III, II, IV.
- (B) III, II, I, IV.
- (C) IV, I, II, III.
- (D) IV, III, II, I.

QUESTÃO 35

O botão “Proteger Pasta de Trabalho”, acionado a partir do menu “Arquivo → Informações” no Microsoft Excel, versão português do Office 2013, disponibiliza as seguintes opções, **EXCETO**:

- (A) Criar Cópia de Segurança.
- (B) Criptografar com Senha.
- (C) Proteger Estrutura da Pasta de Trabalho.
- (D) Proteger Planilha Atual.

QUESTÃO 36

Analise as seguintes afirmativas sobre as funções disponíveis no Microsoft Excel, versão português do Office 2013:

- I. A função **ARRED** arredonda um número para cima afastando-o de zero.
- II. A função **ARRUMAR** remove os espaços de um texto, com exceção dos espaços simples entre palavras.
- III. A função **ÉFORMULA** verifica se uma referência é uma célula que contém uma fórmula e retorna Verdadeiro ou Falso.

Estão **CORRETAS** as afirmativas:

- (A) I e II, apenas.
- (B) II e III, apenas.
- (C) III, apenas.
- (D) I, II e III.

QUESTÃO 37

Analise as seguintes afirmativas sobre os protocolos de rede:

- I. O protocolo 802.11 corresponde às LANs sem fio.
- II. O protocolo 802.16 corresponde às redes pessoais Bluetooth.
- III. O protocolo 802.3 corresponde às redes Ethernet.

Estão **CORRETAS** as afirmativas:

- (A) I e II, apenas.
- (B) I e III, apenas.
- (C) II e III, apenas.
- (D) I, II e III.

QUESTÃO 38

Considerando os barramentos de um computador, o barramento responsável por selecionar um registrador em um dos dispositivos do sistema que é utilizado como a fonte ou o destino do dado após o processamento é o:

- (A) Barramento de controle.
- (B) Barramento de dados.
- (C) Barramento de endereço.
- (D) Barramento de memória.

QUESTÃO 39

Analise as seguintes afirmativas sobre os tipos de *backup*:




- I. *Backup* completo (*full*) corresponde à cópia completa de todos os arquivos de um determinado ambiente de armazenamento de dados.
- II. *Backup* diferencial corresponde à cópia das últimas modificações relativas ao último backup completo (*full*).
- III. *Backup* incremental corresponde à cópia das últimas alterações relativas ao último *backup*.

Estão **CORRETAS** as afirmativas:

- (A) I e II, apenas.
- (B) I e III, apenas.
- (C) II e III, apenas.
- (D) I, II e III.

QUESTÃO 40

Analise as seguintes afirmativas sobre Transições e Animações no Microsoft PowerPoint, versão português do Office 2013:

- I. O ícone  “Apagar” corresponde a uma Transição que pode ser aplicada a um slide.
- II. O ícone  “Aparecer” corresponde a uma Animação que pode ser aplicada a um elemento dentro de um slide.
- III. O ícone  “Empurrão” corresponde a uma Animação que pode ser aplicada a um elemento dentro de um slide.

Estão **CORRETAS** as afirmativas:

- (A) I e II, apenas.
(B) I e III, apenas.
(C) II e III, apenas.
(D) I, II e III.

CONCURSO PÚBLICO

CÂMARA MUNICIPAL DE PARÁ DE MINAS
EDITAL 001/2017

PARA VOCÊ DESTACAR E CONFERIR O SEU GABARITO.

01	
02	
03	
04	
05	
06	
07	
08	
09	
10	

11	
12	
13	
14	
15	
16	
17	
18	
19	
20	

21	
22	
23	
24	
25	
26	
27	
28	
29	
30	

31	
32	
33	
34	
35	
36	
37	
38	
39	
40	

