



PREFEITURA MUNICIPAL DE JUAZEIRO DO NORTE – CE

CONCURSO PÚBLICO – EDITAL 001/2019

PROFESSOR – GEOGRAFIA

NOME DO CANDIDATO: _____

RG: _____ ÓRGÃO EXPEDIDOR: _____

Nº DE INSCRIÇÃO

--	--	--	--	--	--	--	--	--	--

ASSINATURA: _____

LEIA COM ATENÇÃO E SIGA RIGOROSAMENTE ESTAS INSTRUÇÕES:

1. Este caderno contém 60 (sessenta) questões de múltipla escolha, numeradas de 1 (um) a 60 (sessenta).
2. Cada uma das questões apresenta um enunciado seguido de 5 (cinco) alternativas, das quais somente uma deve ser assinalada.
3. Examine se a prova está completa com a sequência numérica das questões, se há falhas ou imperfeições gráficas que causem dúvidas. Qualquer reclamação deverá ser feita durante os 20 minutos iniciais. Após esse tempo, qualquer reclamação será desconsiderada.
4. Depois de decorridas 2 (duas) horas do início da prova, será distribuído o cartão-resposta, o qual será o único documento válido para a correção. Ao recebê-lo, verifique se seu nome e seu número de inscrição estão corretos. Reclame imediatamente se houver discrepância.
5. A folha de respostas não pode ser dobrada, amassada, rasurada ou manchada. Exceto escrever uma frase com 5 (cinco) palavras no local pré-determinado, nada deve ser escrito ou registrado fora dos locais destinados às respostas. Tenha muita atenção ao marcar sua folha de respostas, pois não haverá substituição por erro do candidato. Marque sua resposta pintando completamente o espaço correspondente à alternativa de sua opção.

Ex.: A B C D E
6. A leitora de marcas não registrará as respostas em que houver falta de nitidez, uso de corretivo, marcação a lápis ou marcação de mais de uma letra. Não serão computadas questões não assinaladas.
7. Durante a prova, é proibido o intercâmbio e o empréstimo de material de qualquer natureza entre os candidatos. A tentativa de fraude, a indisciplina e o desrespeito às autoridades encarregadas dos trabalhos são faltas que implicarão a desclassificação do candidato.
8. Qualquer forma de comunicação entre candidatos implicará a eliminação de ambos do certame.
9. Não será permitido ao candidato, durante a realização das provas, portar armas, aparelhos eletrônicos de qualquer natureza, relógios, bolsas, livros, jornais e impressos em geral; bonés, chapéus, lenço de cabelo, bandanas etc.
10. É vedado o uso de telefone celular ou de qualquer outro meio de comunicação. O candidato que for flagrado portando aparelho celular ou qualquer outro tipo de comunicação, durante o período de realização da prova e/ou o aparelho celular tocar, será sumariamente eliminado do certame.
11. Em caso de dúvida, durante a prova, levante o braço para solicitar atendimento da fiscalização. Jamais pergunte em voz alta.
12. Ao terminar a resolução da prova, entregue-a ao fiscal de sala juntamente com a **folha de respostas** e a **Prova Discursiva/Produção Textual**. Não se esqueça de **assinar a folha de frequência**.
13. O candidato que permanecer na sala de provas, por mais de 3h30min, poderá levar consigo o caderno de provas fornecido pela **ORGANIZADORA**.
14. As provas terão duração de 4 (quatro) horas com início às 08h e término às 12h. O candidato só poderá ausentar-se da sala depois de decorridas duas horas do início das provas.
15. Para os candidatos que farão Prova Discursiva/Produção Textual, na última folha do caderno de questões, há a folha de rascunho para redação que poderá ser usada para a produção de seu texto. Quando concluí-la, passe-a para a folha definitiva. Nessa folha, não escreva nada além de seu número de inscrição (no campo próprio) e sua produção, pois qualquer registro como oração, nomes, nome do candidato etc. anula a redação.
 - a) A folha de texto definitivo será o único documento válido para avaliação da Prova Discursiva/Produção Textual. A folha para rascunho no caderno de provas é de preenchimento facultativo e não valerá para tal finalidade.
 - b) A folha de texto definitivo não será substituída por erro de preenchimento do candidato.
16. Os **Gabaritos Preliminares das Provas Objetivas** serão divulgados 72 (setenta e duas) horas após a realização das mesmas.

RASCUNHO

CONHECIMENTOS GERAIS

Leia o texto para responder às questões 1 a 10.

Soneto

Aquela triste e leda madrugada,
cheia toda de mágoa e piedade,
enquanto houver no mundo saudade,
quero que seja sempre celebrada.

Ela só, quando amena e marchetada
saía, dando ao mundo claridade,
viu apartar-se duma outra vontade,
que nunca poderá ser apartada.

Ela só viu as lágrimas em fio,
que duns e doutros olhos derivadas,
se acrescentaram em grande largo rio.

Ela viu as palavras magoadas
que puderam tornar o fogo frio,
e dar descanso às almas condenadas.

Luís Vaz de Camões.

Com base no texto e em seus conhecimentos, responda às questões a seguir.

1. O soneto trata de uma dor. É a dor de um(a)

- a) ausência de viagem.
- b) desencontro fortuito.
- c) prejuízo financeiro.
- d) separação amorosa.
- e) conversa interrompida.

2. A dor de que fala o soneto está descrita nos versos

- a) 1/2.
- b) 3/4.
- c) 5/6.
- d) 7/8.
- e) 12/13.

3. O sentido de fogo no texto é o de um(a)

- a) fogueira muito grande.
- b) brasa fumegante.
- c) simples elemento da natureza.
- d) grande paixão amorosa.
- e) imensa dor

4. No primeiro verso, a figura nele existente é chamada

- a) catacrese.
- b) eufemismo.
- c) antítese.
- d) hipérbole.
- e) metonímia.

5. Quando o autor fala da madrugada, percebe-se aí que há uma

- a) ironia.
- b) alusão.
- c) simpatia.
- d) personificação.
- e) revolta.

6. A repetição do pronome ela no início das três últimas estrofes constitui uma

- a) anáfora.
- b) onomatopéia.
- c) metonímia.
- d) elipse.
- e) hipérbato.

7. A expressão [...] às almas condenadas exerce a função sintática de

- a) adjunto adnominal.
- b) adjunto adverbial.
- c) complemento nominal.

- d) objeto direto.
- e) objeto indireto.

8. Ela, nas três últimas estrofes, é sujeito e refere-se à

- a) claridade.
- b) vontade.
- c) madrugada.
- d) saudade.
- e) piedade.

9. No primeiro quarteto, é CORRETO afirmar que existe(m)

- a) dois períodos simples.
- b) um objeto direto oracional.
- c) um pronome relativo.
- d) uma oração coordenada adversativa.
- e) objeto indireto.

10. Está CORRETA a análise sintática de um dos trechos extraídos do soneto

- a) ... enquanto houver no mundo saudade, – oração coordenada adversativa.
- b) ... quero que seja sempre lembrada. – oração principal.
- c) ... que puderam tornar o fogo frio – oração subordinada adjetiva.
- d) ... as palavras magoadas – sujeito simples.
- e) .. que nunca poderá ser apartada – oração subordinada substantiva

11. Há vocábulos da Língua Portuguesa que podem ser escritos com ou sem acento gráfico sem mudança de sentido. Assinale a alternativa em que não pode ocorrer esta duplicidade.

- a) Boêmia / boemia.
- b) Ômega / omega.
- c) Rúbrica / rubrica.
- d) Hieróglifo / hieroglifo.
- e) Ortoépia / ortoepia.

12. Só em uma alternativa, todos os vocábulos estão acentuados corretamente. Assinale-a.

- a) Feiúra / epopéia / saúde.
- b) Projétil / interim / vôo.
- c) Tórax / álcool / mártir.
- d) Cárie / júnior / gratuito.
- e) Nóbel / íbero / fortuíto.

13. Não há antonímia em

- a) Declive / aclave.
- b) Medroso / intemerato.
- c) Inópia / abundância.
- d) Soberba / humildade.
- e) Ratificar / vetar.

14. Está CORRETA a classificação morfológica dos vocábulos retirados do texto.

- a) ... enquanto (v. 3) – advérbio de dúvida.
- b) ... que (v. 4) – pronome relativo.
- c) ... quando (v. 5) – conjunção temporal.
- d) ... que (v. 8) – conjunção integrante.
- e) ... só (v. 9) – pronome indefinido.

15. Está INCORRETA a afirmação sobre verbo.

- a) Haver e ir são verbos regulares; reaver e precaver-se, anômalos.
- b) Os tempos compostos são formados com os verbos ter e haver.
- c) Existem dois tipos de voz passiva: a analítica e a sintética.
- d) Voz passiva e passividade não devem ser confundidas.
- e) As vozes verbais são: ativa, passiva e reflexiva.

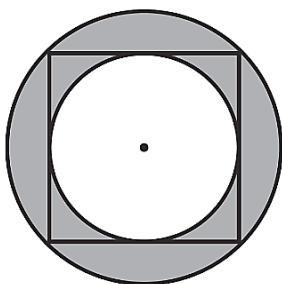
16. Está INCORRETA a conjugação verbal em

- Certos motoristas só freiam em cima do obstáculo.
- O juiz medeia as discussões.
- Os manifestantes incendiaram os ônibus.
- Nós receamos viajar de avião.
- Minha irmã nunca se maquia.

17. Fiz um teste com meu carro para saber se o marcador de combustível estava informando uma leitura correta. Quando o marcador indicava $\frac{1}{4}$ (um quarto), eu fui ao posto de combustível e completei o tanque inserindo 40 litros de gasolina. O manual do veículo dizia que o tanque é de 50 litros, então pude concluir que

- o marcador mostra o volume correto.
- está indicando menos combustível do que deveria mostrar.
- está indicando o dobro de combustível do que deveria mostrar.
- está indicando a metade de combustível do que deveria mostrar.
- está indicando mais combustível do que deveria mostrar.

18. Na figura a seguir, o quadrado tem lado igual a 4cm.



Qual é o valor da área destacada em cinza?

- $2\pi \text{ cm}^2$.
- 4 cm^2 .
- $4\pi \text{ cm}^2$.
- $8\pi \text{ cm}^2$.
- 8 cm^2 .

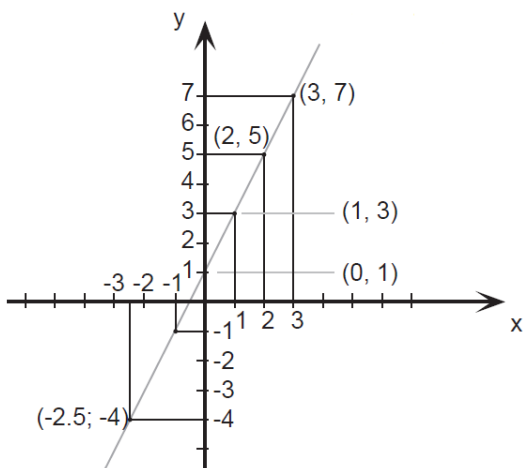
19. O valor de uma bola que eu quero comprar é representado pelo produto das raízes da equação

$$x^2 - 9x + 20 = 0$$

Logo o valor da bola é

- 10.
- 20.
- 30.
- 40.
- 50.

20. Esse é o gráfico representa alguns pontos e um segmento traçado da função $f(x) = 2x + 1$. Julgue as afirmações a seguir.



Assinale a alternativa CORRETA.

A: $f(x)$ é uma função crescente.

B: $f(x)$ é uma função par.

C: $f(0) = 0$.

- A – verdadeira / B – falsa / C – verdadeira.
- A – verdadeira / B – falsa / C – falsa.
- A – falsa / B – falsa / C – falsa.
- A – verdadeira / B – verdadeira / C – falsa.
- A – verdadeira / B – verdadeira / C – verdadeira.

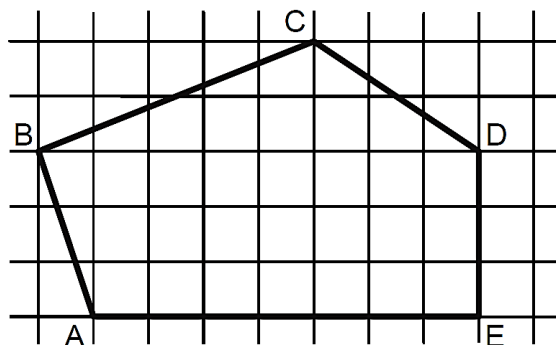
21. Seja $A = \left(1 + \frac{r}{n}\right)^n$. Se o valor de $r = 2$ e $n = 4$, essa expressão vale

- 4.
- 4,5.
- 2,25.
- 9.
- 1,5.

22. Uma indústria farmacêutica desenvolveu um novo remédio líquido o qual irá vender em frascos com capacidade de 16 mililitros cada. Para embalar 800 litros desse novo remédio, o número mínimo de frascos necessários é

- 50.000.
- 15.000.
- 500.000.
- 5.000.
- 100.000.

23. Sabendo que a área de cada quadrado formado pelas linhas finas é igual a 2m^2 , qual é a área do polígono ABCDE destacado pelas linhas grossas?



- 60m^2 .
- 32m^2 .
- 56m^2 .
- 51m^2 .
- 61m^2 .

24. Um clube com 180 sócios está elegendo o novo presidente por meio de votação. São apenas dois candidatos: candidato A e Candidato B. No momento, o candidato A possui $\frac{1}{4}$ dos votos e o candidato B $\frac{2}{5}$. Se todos os votos restantes forem para o candidato A, e se nenhum sócio deixar de votar, então ele será eleito com uma quantidade de votos a mais que o candidato B igual a

- 36.
- 12.
- 50.
- 77.
- 72.

25. Sabe-se que $1.000 \text{ litros} = 1 \text{ m}^3$. Então qual é o volume de água de uma caixa d'água de base retangular de $0,5\text{m}$ por $1,2\text{m}$ e altura de 2m ?

- 1500 litros.
- 1200 litros.
- 2400 litros.
- 1000 litros.
- 1400 litros.

26. Três plantações de cana-de-açúcar são pulverizadas por 3 aviões diferentes em horários, também, diferentes. O primeiro avião pulveriza de 4 em 4 horas, o segundo, de 5 em 5 horas e o terceiro de 7 em 7 horas. Todos decolaram no mesmo horário. Quantas horas depois eles decolarão juntos pela 3ª vez?

- 280 horas.
- 140 horas.
- 420 horas.
- 70 horas.
- 200 horas.

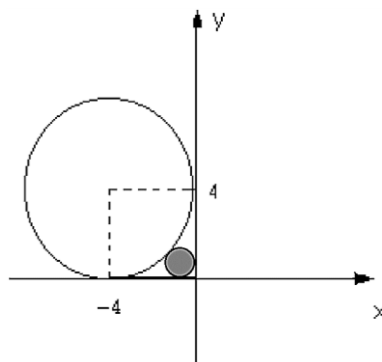
27. Quatro funcionários de uma empresa são capazes de atender, em média, 35 pessoas por hora. Diante disso, espera-se que sete funcionários, com a mesma capacidade operacional dos primeiros, sejam capazes de atender, por hora, uma média de

- 18.
- 36.
- 12.
- 20.
- 42.

28. Em uma eleição, à qual concorriam três candidatos, votaram 1.500 eleitores. O candidato A obteve 376 votos, o B, 645 votos e o C 299 votos. A porcentagem de votos brancos ou nulos foi de

- 12%.
- 10%.
- 15%.
- 18%.
- 22%.

29. Qual expressão representa a área do círculo, destacado em cinza, da figura a seguir? Obs: O círculo destacado tangencia os eixos e a circunferência maior.



- $\pi(2(\sqrt{2}))^2$.
- $\pi(4(\sqrt{2}-1))^2$.
- $\pi(2(\sqrt{2}-1))^{1/2}$.
- $\pi(2(\sqrt{2}-2))^2$.
- $\pi(2(\sqrt{2}-1))^2$.

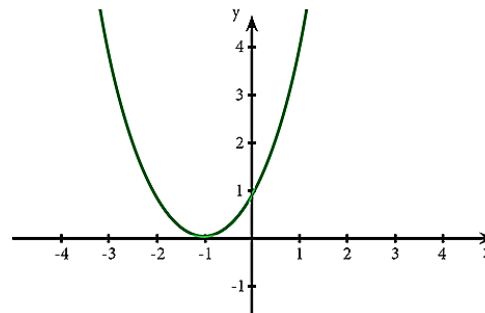
30. Reduzindo a expressão numérica $\frac{25}{\sqrt{3}} - \frac{5}{2\sqrt{3}} + \frac{10}{4\sqrt{3}}$ obtemos o valor.

- $\frac{5}{\sqrt{3}}$.
- $\frac{25}{3}$.
- $\frac{100}{\sqrt{3}}$.
- $\frac{20}{\sqrt{3}}$.
- $\frac{90}{\sqrt{3}}$.

31. Saíram, de Fortaleza para Juazeiro do Norte, três ônibus, simultaneamente transportando 138 passageiros. Sabe-se que no primeiro ônibus viajaram 9 passageiros a mais do que no segundo e, neste, 3 passageiros a menos que no terceiro. Nessas condições, é correto afirmar que o número de passageiros transportados em um dos ônibus é

- 45.
- 40.
- 38.
- 30.
- 35.

32. Para o gráfico de uma equação de segundo grau a seguir, assinale a afirmação verdadeira relativo ao seu valor de delta Δ .



- $\Delta = \text{indeterminado}$.
- $\Delta = 1$.
- $\Delta < 0$.
- $\Delta = 0$.
- $\Delta > 0$.

33. Leia a afirmativa a seguir.

“Aquela ação sistemática e fundamentada, de suporte, mediação e transferência que favorece especificamente o desenvolvimento da sociabilidade do sujeito ao longo de toda sua vida, circunstâncias e contextos, promovendo sua autonomia, integração e participação crítica, construtiva e transformadora no marco sociocultural que lhe rodeia, contando em primeiro lugar com os próprios recursos pessoais, tanto do educador quanto do sujeito e, em segundo lugar, mobilizando todos os recursos socioculturais necessários do entorno ou criando, finalmente, novas alternativas.”

À luz do que foi expresso, é CORRETO afirmar que a citação se trata de uma definição sobre o(a)

- Educação Especial.
- Assistência Social.
- Risco Social.
- Educação Social.
- Vulnerabilidade Social.

34. A produção, conservação e transmissão da cultura popular é o objetivo principal dos Mestres da Cultura no Ceará. Em Juazeiro do Norte encontram-se entre alguns de seus representantes e suas respectivas atividades:

- Mestre Pedro Bandeira representou Juazeiro em 2017 com as atividades de cantoria, repente e atividade de cordel.
- Mestre Tico no ano de 2015 tornou-se Mestre da Cultura com reizado.
- Mestre Geraldo Ramos foi considerado Mestre da Cultura com a atividade artesanato de relojoaria de torre, coluna e sinos de igreja.
- Mestre Maurício Flandreiro destacou-se em 2010 na arte de trabalhar com flamandês.

Marque a opção que apresenta as afirmativas CORRETAS.

- I – II – III – IV.
- II – III – IV.
- I – II.
- I – III – IV.
- I – II – IV.

35. A Secretaria da Cultura do Estado do Ceará (Secult) Com o Edital do Tesouros Vivos da Cultura 2018, contemplou 11 (onze) novos Mestres e Mestras da Cultura. Entre eles são de Juazeiro do Norte

- Francisco Gildamir de Sousa Chagas, Edite Dias de Oliveira Silva e José Maria Pereira dos Santos.
- Adrião Sisnando de Araújo, Antônio Ferreira Evangelista e Expedito Antonio do Nascimento.
- Maria Josefa da Conceição, Raimunda Rodrigues Teixeira e João Pedro de Carvalho Neto.
- Francisco Alves de Freitas, Aécio Rodrigues de Oliveira e Antônio Ferreira Evangelista.
- Edite Dias de Oliveira Silva, Adrião Sisnando de Araújo e João Pedro de Carvalho Neto.

36. Sobre a estimativa da população em 2018 que foi divulgada pelo Instituto Brasileiro de Geografia e Estatística (IBGE), Fortaleza destacou-se como a 6ª Região Metropolitana mais populosa do Brasil, com 4.074.730 milhões de habitantes. A líder da lista é São Paulo com 21.571.281 milhões. Fortaleza tem a maior Região Metropolitana do Nordeste à frente de Recife (PE) e Salvador (BA).

Segundo o texto, a Cidade de Fortaleza é uma das maiores cidades, em população, do Brasil. Neste quesito, quais fatores demográficos podem ser associados?

- Proximidade do litoral, favorecendo o maior aproveitamento da cidade devido aos ventos e à pluviometria.
- A forte migração do século XX, resultante principalmente da rápida urbanização e do êxodo rural.
- A industrialização e a urbanização rápidas que favoreceram maior número de empregos na RMF para populações que possuíam exclusivamente ensinos mais avançados.
- Pela RMF ser uma das metrópoles mais avançadas do Planeta, sendo, assim, atrator de vários migrantes de vários países.
- Pelas políticas públicas que obrigavam vários interioranos a morarem em Fortaleza.

37. Sobre a relação professor/aluno, é INCORRETO afirmar que:

- É permeada por dois aspectos, o cognoscitivo e o socioemocional;
- Deve ser permeada por autoridade e autoritarismo, uma vez que ambas são consequência natural do processo de acúmulo de conhecimento técnico pelo professor e da preocupação deste com a evolução do aluno na construção do conhecimento;
- O diálogo como uma postura necessária à relação professor-aluno e ao processo de ensino-aprendizagem;
- Ela é importante para a efetivação do processo ensinar-aprender;
- Não é crucial para a relação pedagógica;

38. Conforme os princípios de Cipriano Luckesi, a avaliação da aprendizagem escolar NÃO é:

- O ato de avaliar não é um ato neutro que se encerra na constatação;
- A prática de exames que submete a todos, com fins de classificação e seleção;
- Uma prática amorosa, inclusiva, dinâmica e construtiva;
- O ato de avaliar é a disposição de acolher;
- Um recurso pedagógico útil e necessário para auxiliar cada educador e cada educando na busca e na construção de si mesmo e do seu melhor modo de ser na vida;

39. Leia as afirmativas a seguir.

- A Ética constitui o momento objetivo da vivência e da experiência dos valores. Consiste, assim, no conjunto de valores que são criados por determinada sociedade.

NESSE SENTIDO:

- A moral expressaria o momento subjetivo de um comportamento ético; moral seria a capacidade do indivíduo de formular suas próprias opiniões e pautas de comportamento (com base nos valores éticos estabelecidos) e optar por aquele que considerar mais correto e justo.

Marque a opção que apresenta a afirmativa CORRETA.

- A afirmativa I é correta e a afirmativa II é incorreta.
- A afirmativa I é incorreta e a afirmativa II é correta.
- Ambas as afirmativas I e II estão incorretas.
- As afirmativas I e II estão corretas e entre elas há uma relação de complementariedade.
- As afirmativas I e II estão corretas, mas a II afirmativa não estabelece nenhuma relação com a I afirmativa.

40. São características da Ética e da Moral.

- A Ética, em sua dimensão teórica, não é uma prescrição de princípios definidos abstratamente. Seu conteúdo é a prática ético-moral dos homens.
- A Ética é a referência valorativa que estabelece os parâmetros das relações dos indivíduos com a sociedade.
- A reflexão ética é construída, historicamente, no âmbito da Filosofia, tendo por objeto a moral.
- A moral tem sua gênese na capacidade ética de criar valores que servem de referência à conduta dos indivíduos em sua convivência social.
- Todo ato moral supõe uma relação moral com o outro, com os grupos ou com a comunidade.

Marque a opção que apresenta as afirmativas CORRETAS.

- I – II – III.
- II – III – IV.
- I – II – III – V.
- I – III – IV.
- I – II – III – IV – V.

CONHECIMENTOS ESPECÍFICOS

41. Leia o texto a seguir.

Ela concebia o homem como um hóspede de diferentes pontos da superfície da Terra, e que se adaptava ao meio em que vivia, criando vínculos com a natureza e desenvolvendo habilidades que possibilitavam retirar da natureza os recursos necessários a sua sobrevivência. Ao conjunto de técnicas e hábitos, construído e perpetuado de geração a geração, La Blache denominou gênero de vida, que se resumia na relação entre homem e meio, construída historicamente e de forma diferenciada por conta da variedade de meios.

(MORMUL, N.M; ROCHA, M.M. Breves considerações acerca do pensamento geográfico: elementos para análise, p. 74)

Em relação ao texto e à corrente de pensamento geográfico descrita, é INCORRETO afirmar que

- La Blache foi um dos primeiros cátedras da Geografia.
- A Geografia Regional – descrita no texto – é típica do século XX.
- “Gêneros de vida” e habilidades técnicas são importantes conceitos/ideia desta corrente.
- A corrente de pensamento capitaneada por La Blache, entrava em “xeque” com outra oriunda da Alemanha, liderada por Friedrich Ratzel.
- A França é um dos “berços” do pensamento geográfico mundial.

42. Leia o texto a seguir.

Deve ser considerado como uma totalidade, a exemplo da própria sociedade que lhe dá vida (...) Deve ser considerado como um conjunto de funções e formas que se apresentam por processos do passado e do presente (...) ele se define como um conjunto de formas representativas de relações sociais do passado e do presente e por uma estrutura representada por relações sociais que se manifestam através de processos e funções

(SANTOS, 1978, p. 122, grifo nosso).

O conceito abordado no texto, se refere à (ao)

- paisagem.
- lugar.
- território.
- região.
- espaço.

43. Analise o texto a seguir.

Marx, Marshall, Weber e Durkheim tinham isso em comum: davam prioridade ao tempo e à história e não ao espaço e à geografia e, quando tratavam do espaço e da geografia, tendiam a considerá-los de modo não problemático, enquanto contexto ou sítio estável para a ação histórica.

(HARVEY, 2006, p. 142).

Com base no texto e na análise dos conceitos geográficos, David Harvey, atualmente, é considerado da respectiva corrente geográfica:

- Geografia Cultural.
- Geografia Regional.
- Possibilista.
- Geografia Crítica.
- Nova Geografia.

44. Se você está na Cidade de Fortaleza e pretende ligar para a Cidade de Palmas, Tocantins, às 18h – horário dessa cidade, em que horário local de Fortaleza se deve ligar?

- 18h.
- 19h.
- 17h.
- 16h.
- 20h.

45. Considere o texto a seguir.

Permitem representar a superfície esférica da Terra em um plano, ou seja, no mapa; elas são a base para a confecção de um mapa, constituindo uma rede sistemática de paralelos e meridianos, permitindo que esses sejam desenhados.

O texto acima refere-se à (às)

- coordenadas geográficas.
- latitude.
- geóide.
- cartografia.
- projeção cartográfica.

46. Sobre os fusos horários do Brasil, analise as afirmativas.

- Os fusos horários do Brasil são três, sendo eles, Brasília, Centro-Oeste e Norte, Amazonas/Acre.
- O Brasil possui um amplo território, logo suas limitações territoriais de longitude são muitas, sendo de -30° à -165° .
- Os fusos horários não interferem diretamente no cotidiano das pessoas, inclusive nas áreas da Região Norte.
- O Estado do Acre possui dois fusos horários, -4 e -5, em relação ao meridiano de Greenwich.
- O fuso horário mais adiantado do Brasil é o de Brasília.

Marque a opção que apresenta as afirmativas INCORRETAS.

- I – II – III – IV – V.
- II – III – V.
- II – III – IV – V.
- III – IV – V.
- I – II – IV – V.

47. Em um mapa no qual a escala é de 1 : 25.000, a distância em linha reta entre duas cidades é de 8 cm. Qual a distância real entre essas cidades?

- 200 km.
- 20 km.
- 0,2 km.
- 2 km.
- 0,02 km.

48. Em uma situação hipotética, se uma pessoa que saísse da Nova Zelândia (180° L) fosse à cidade de Nova Iorque (72° O), com uma viagem aproximada de 22 horas, acima do Oceano Pacífico. Desta forma, se alguém saísse da Nova Zelândia às 4 da manhã, a que horas uma pessoa chegaria na hora específica de Nova Iorque?

- 2 da manhã do dia seguinte.
- 6 da manhã do dia anterior.
- 19 horas do dia seguinte.
- 2 da manhã do mesmo dia.
- 9 da manhã do mesmo dia.

49. Das estruturas geológicas existentes na Terra, quais são as principais rochas que a correspondem?

- Escudos Cristalinos – rochas sedimentares.
- Dobramentos Antigos – rochas magmáticas.
- Dobramentos Modernos – rochas metamórficas.
- Escudos Cristalinos – rochas metamórficas.
- Bacias Sedimentares – rochas magmáticas.

50. Sobre as características geológicas do Brasil, pode se afirmar que

- há vários terremotos, principalmente próximo ao Norte e no Nordeste do País.
- há apenas terremotos de pequeno porte, geralmente sentidos em prédios de andares altos.
- nem há terremotos, tampouco abalos sísmicos no País, sendo considerado “calmo”.
- não há terremotos, mas há abalos sísmicos em todas as regiões do País.
- O País é “agitado” devido a várias cadeias de montanhas e também, a ilhas vulcânicas.

51. Leia o texto a seguir.

O maior destaque na paisagem da área do Geopark Araripe é representado pela Chapada do Araripe. Este elemento da paisagem cobre uma superfície com aproximadamente 180km de comprimento (na direção leste-oeste) e largura variável entre 30 e 50km, compreendendo o extremo sul do Estado do Ceará, noroeste do Estado do Pernambuco e leste do Estado do Piauí. No geral, o topo da chapada encontra-se entre as altitudes de 850 e 1.000m, sendo que o desnível médio do topo até a sua base pode chegar a 300m. A Chapada do Araripe corresponde a uma superfície aplanada, fortemente influenciada pela estrutura geológica e pelas várias formações rochosas que preservaram a história da evolução da Terra e da Vida ao longo do tempo. A ausência quase total de rios no topo da Chapada do Araripe está diretamente relacionada às características das rochas que a recobrem, os arenitos da formação Exu. Estes arenitos apresentam, como principais características, as altas porosidade e permeabilidade, limitando o escoamento superficial e favorecendo a elevada infiltração da água que alimenta os aquíferos.

(Retirado de www.geoparkararipe.org.br)

Baseado no texto e nos conhecimentos geográficos, qual das opções a seguir, NÃO condiz com as características de uma chapada?

- Presença predominante de rochas sedimentares.
- Altitudes médias, geralmente entre 500 e 1200m.
- Áreas de enorme porosidade e permeabilidade hídrica.
- Superfícies onduladas e instáveis, geralmente no topo.
- Berço de nascentes de rios perenes, como temporários.

52. Analise as afirmativas a seguir.

- A energia nuclear ainda é um dos mais importantes tipos utilizados no Brasil, perfazendo mais de 40% de toda a capacidade total.
- A energia hidráulica (ou hidrelétrica) consegue produzir mais energia por m^2 , logo, é a mais utilizada pelo governo, porém, sua produção é baseada nos climas e na pluviometria.

- III. A biomassa é um dos mais importantes tipos de energia no mundo, mas no Brasil, a produção é insuficiente, chegando a menos de 1% do total nacional.
- IV. A energia solar, atualmente, é apenas uma das energias alternativas mais limpas, porém, pelo alto custo, não consegue ser difundida na maioria das casas do Brasil.

Marque a opção que apresenta as afirmativas CORRETAS.

- a) II – III.
b) I – II – III – IV.
c) III – IV.
d) II – IV.
e) I – II.

53. Analise o texto a seguir.

A maior erupção foi a do monte Tambora, na Indonésia. A erupção aconteceu em 1815 e matou mais de 100 mil pessoas. Foi uma explosão gigantesca, que lançou colunas de chamas com 40 km de altura. Um furacão arrastou casas para o mar, onde se formaram tsunâmis de 5 metros de altura. Muitos morreram queimados, mas a maioria foi dizimada pela fome e por doenças.

(Retirado de www.mundoestranho.com.br)

Considerando o texto e os seus conhecimentos já adquiridos responda o que se pede a seguir. Uma rocha é formada por uma erupção vulcânica, e, posteriormente, ela sofre desgastes pelo vento e pelos rios. Quais agentes/processos foram citados, respectivamente agentes

- a) externos (intemperismo) e agentes internos (tectonismo).
b) internos (tectonismo) e agentes externos (pedogênese).
c) internos (intemperismo) e agentes externos (vulcanismo).
d) externos (tectonismo) e agentes internos (intemperismo e erosão).
e) internos e externos (tectonismo e vulcanismo) e agentes externos (erosão e orogênese).

54. No que se refere ao processo de urbanização brasileira, podemos compreender que

- a) é recente, porém, notadamente disperso no território.
b) antigo, datado do século XVIII, notadamente no Nordeste brasileiro.
c) é recente, 1930-1950, concentrado principalmente na região Sudeste.
d) é disperso desde o século XIX, com destaque para Pernambuco e Bahia.
e) é totalmente concentrado na Região Norte do Brasil com a Zona Franca de Manaus.

55. A urbanização mundial nos dias atuais pode ser caracterizada como

- a) rápida, já que o aumento demográfico se concentra em países como Itália, Portugal e Rússia.
b) lenta, já que o crescimento demográfico mundial é negativo.
c) equilibrada, já que os países desenvolvidos crescem mais, enquanto os menos desenvolvidos estão com dados negativos.
d) desigual, já que os países desenvolvidos possuem índices negativos, enquanto os menos desenvolvidos ampliam-se na China e Índia.
e) equilibrada, já que nenhum país no mundo tem crescimentos demográficos acima dos 10% ao ano, enquanto no Brasil este índice não passa de 1,4%.

56. As metrópoles brasileiras são resultantes da “desigual” urbanização, (1940-1980) e da globalização (intensificada nos anos 1990). Por isso os principais desafios espaciais nos dias de hoje são: a

- a) gestão metropolitana, já que vários municípios diferentes e próximos, espacialmente, produzem uma grande área concentradora de serviços e de riquezas.
b) urbanização rápida, já que, atualmente várias cidades ainda são expandidas, principalmente pelo enorme contingente populacional de migrações.

- c) urbanização lenta, já que, ainda hoje, a população brasileira se concentra em cidades rurais, praticamente oriundas do fluxo do agronegócio.
d) gestão metropolitana, já que as cidades-capitais por possuírem mais riquezas, praticamente, concentram o PIB do Estado, como o do País, tornando estas áreas igualmente desenvolvidas.
e) urbanização lenta, já que o Brasil ainda é pouco urbano, exceto nas capitais e metrópoles do Sudeste.

57. Quais são as principais características demográficas dos países desenvolvidos que, geralmente, não existem nos países menos desenvolvidos? São populações

- a) jovens predominantes.
b) medianas (20-30 anos).
c) adultas em sua maioria.
d) idosas em considerável número.
e) de crianças em grande número.

58. Várias capitais estaduais brasileiras são sedes de regiões metropolitanas. Qual das relacionadas a seguir NÃO condiz com essas características?

- a) São Paulo.
b) Rio de Janeiro.
c) Porto Velho.
d) Campo Grande.
e) Teresina.

59. Leia as afirmativas a seguir sobre a urbanização brasileira e marque (V) para as verdadeiras e (F) para as FALSAS.

() A urbanização brasileira não sofreu nenhum tipo de interferência exterior, limitando-se, assim, aos planejamentos governamentais.

() A urbanização é um importante processo social para compreendermos a atual configuração espacial das cidades que, devido à histórica ocupação rural, o Brasil ainda tem mais de 50% da população nestas áreas.

() A urbanização nordestina é diferenciada de outras regiões, principalmente no que tange à alta industrialização que a promoveu.

() A cidade de São Paulo é uma das únicas e grandes cidades sul-americanas a possuírem maiores exportações voltadas à agropecuária.

Marque a opção que apresenta a sequência CORRETA.

- a) F – V – F – V.
b) F – F – F – F.
c) V – V – V – F.
d) F – V – F – F.
e) F – V – V – F.

60. Vários aspectos energéticos marcam o cenário mundial. Isto se deve principalmente aos contextos históricos e espaciais, além de econômicos. Desta forma, podemos afirmar que as

- a) formas de energias refletem diretamente a técnica e a tecnologia das sociedades, bem como a descoberta de novas formas.
b) formas de energias não refletem diretamente as sociedades, mas sim a não capacidade de gerar novas técnicas e tecnologias.
c) energias obedecem rigorosamente à captação de recursos naturais.
d) principais formas de energias mundiais se concentram no carvão mundial e nuclear.
e) energias mundiais não sofrem diretamente interferência da economia e, dos ciclos capitalistas.

PROVA – PRODUÇÃO TEXTUAL

Prezado(a) Candidato(a), observe as seguintes instruções.

1. Para sua produção textual, leia as orientações e os textos motivadores que estão relacionados à temática de forma direta ou indireta. A partir deles, sem copiá-los e com base nos conhecimentos constituídos na trajetória de sua formação educacional e de sua vida, faça sua redação, no mínimo, 20 linhas, e, no máximo, 30. Não deve ser em forma de poema (versos).
2. Redija um texto **dissertativo-argumentativo** sobre o tema: **A Educação na Escola: Cuidar, mediar e administrar conflitos.** Apresente argumentos relacionados à ação que as instituições e você podem contribuir para que a educação se torne prioridade em nosso país. Selecione, organize e relacione, de forma coerente e coesa, as defesas de seu ponto de vista na língua padrão.

TEXTOS MOTIVADORES

TEXTO I



No contexto escolar, há a uma ação que, em geral, é a principal fonte de hostilidades e sofrimento, sendo um indicativo do quanto a escola está comprometida moralmente. É responsabilidade dos professores e gestores implementar uma cultura de tolerância, respeito e aceitação de que somos diferentes, através da vigilância e de ações de orientação sobre as eventuais agressões.

TEXTO II



TEXTO III

BRASIL É O PENÚLTIMO EM QUALIDADE DA EDUCAÇÃO...



Chargeonline.com.br - © Copyright do autor



**PREFEITURA MUNICIPAL DE JUAZEIRO DO NORTE – CE
CONCURSO PÚBLICO – EDITAL 001/2019**

RASCUNHO DA PRODUÇÃO TEXTUAL

Lined area for text production, containing horizontal lines and a large diagonal watermark reading "RASCUNHO".