

LÍNGUA PORTUGUESA

1. Leia com atenção os textos abaixo e assinale a única alternativa em que a pontuação, a colocação pronominal e a crase estão empregados corretamente.

A () Jorge Amado, um dos representantes do ciclo do romance baiano, nasceu em Itabuna, Bahia, em 10 de agosto de 1912.

Escritor desde a adolescência, Jorge Amado segue o estilo literário do romance moderno. Em seus livros existe o domínio do físico sobre a consciência.

O estilo de Jorge Amado também é conhecido como romance da terra e seus livros possuem uma linguagem agradável e de fácil compreensão.

A partir de 1955 dedicou-se inteiramente à literatura.

Morreu em Salvador, Bahia, no dia 6 de agosto de 2001. Suas principais obras são: "O País do Carnaval", "Jubiabá", "Terras do Sem Fim", "Gabriela, Cravo e Canela", "Capitães de Areia", "Dona Flor e Seus Dois Maridos", "Tereza Batista Cansada de Guerra", "Tieta do Agreste" e "Farda, Fardão e Camisola de Dormir".

B () José de Alencar, é considerado um dos maiores expoentes do romantismo no Brasil.

Atuou como jornalista, crítico, advogado, dramaturgo e político.

Além disso, foi patrono, da cadeira número vinte e três da Academia Brasileira de Letras.

Na primeira, geração romântica, com teor nacionalista e indianista, José de Alencar exaltou diversos aspectos nacionais e à figura do índio, como herói brasileiro.

Principais obras suas indianistas foram: "O Guarani", "Iracema" e "Ubirajara".

C () Machado de Assis nasceu em uma chácara no Morro do Livramento no Rio de Janeiro, filho de um mulato, pintor de paredes, e de uma lavadeira, de origem portuguesa.

Ainda pequeno ficou órfão de mãe e o pai casa-se pela segunda vez. Para ajudar nas despesas da casa trabalhou vendendo doces. Logo cedo mostrou, seus pendores intelectuais.

Machado de Assis foi um dos fundadores da Academia Brasileira de Letras, e em sua homenagem, à Academia é chamada de "Casa de Machado de Assis".

Machado de Assis escreveu inúmeros poemas, contos, peças teatrais e romances.

"Helena", "A mão e a Luva", "Iaiá Garcia", "Quincas Borba", "Dom Casmurro", "Memórias Póstumas de Brás Cubas", "Esaú e Jacó" e "Memorial de Aires" são os principais romances seus.

D () Guimarães Rosa foi um dos principais representantes do regionalismo brasileiro, característica da terceira fase do modernismo. Com uma linguagem fiel à popular, o escritor conseguiu inovar à literatura. Como atuou como médico e diplomata, Guimarães Rosa começou a publicar textos seus mais tarde, a partir dos trinta e oito anos de idade.

Ocupou a cadeira número dois da Academia Brasileira de Letras por apenas três dias já que, atrasou a cerimônia de posse por quatro anos.

Pela importante obra literária, chegou à ser indicado, para o Prêmio Nobel de Literatura, mas morreu no mesmo ano e a sua indicação foi-lhe impedida.

"Sagarana", "Corpo de Baile" e "Grande Sertão: Veredas" são suas obras de maior destaque.

2. Assinale a opção em que as frases apresentam palavras empregadas no sentido figurado.

- I As pessoas são boas por natureza.
- II Eu sou, senhor, ovelha desgarrada.
- III Meu avô fez uma cirurgia no coração.
- IV Ele mora no coração da Amazônia.
- V Cuidado, as paredes têm ouvidos.
- VI Os brasileiros dão mais importância às relações sociais.

- A () I, III e VI
- B () I, II e III
- C () III, IV e V
- D () II, IV e V

3. Observe as frases abaixo e assinale a única alternativa que apresenta um erro de concordância nominal:

- A () Saí ontem com os atletas Cláudio e Djalma.
- B () A criança e o idoso pareciam assustados.
- C () Quando vamos ao teatro, gostamos de chegar cedo.
- D () Os alunos consideraram difícil o simulado e a redação.

4. Assinale a alternativa em que a regência do verbo proceder contraria a norma culta da língua:

- A () Procedo um inquérito.
- B () Não procede este argumento.
- C () Procede-se cautelosamente em tais situações.
- D () Procedia de uma boa família.

Leia com atenção a letra do Hino da Cidade de Taubaté, para responder às questões 5 e 6.

Taubaté das Bandeiras que ousaram
desbravar ínvias selvas, com glória.

Taubaté, cujos filhos não param,
sempre em marcha nas asas da História.

Taubaté das Monções, na erradia
epopeia por rios e lapas,
qual titã a fazer Geografia,
implantando fronteiras nos mapas.

A louvar-te, com ânsia,
tanjam todos os sinos...

Vens de longa distância,
vais a altos destinos.

Quando **outrora** o café, soberano,
todo em ouro, qual midas, floria
alto nível o clã taubateano,
de riqueza, se alteando, atingia.
E tal é o poder, que então goza,
(decantado, na época, em aulo)
que a cidade chegou, poderosa,
a se ombrear com a própria São Paulo!

E hoje, rica e industrial, o esplendor
a **ostentar** de moderna cidade,
tens no ensino tal vulto e labor
que és, inteira, uma só faculdade.

Mas, sem tí o **progresso** se espalma
e em concreto te elevas, heril.
és a mesma cidade **com** alma
que nasceu no alvorear do Brasil!

5. As expressões grifadas: ínvias, epopeia, ombrear, heril e labor são sinônimos, respectivamente de:

A () intransitáveis, ação heróica, igualar, senhoril, trabalho.

B () intransitáveis, senhoril, igualar, ação heróica, trabalho.

C () trabalho, intransitável, igualar, ação heróica, senhoril.

D () trabalho, senhoril, igualar, ação heróica, intransitável.

6. As expressões negritadas: **progresso**, **outrora**, **mas**, **com** e **ostentar** são respectivamente:

A () advérbio, substantivo, preposição, conjunção, verbo.

B () substantivo, advérbio, preposição, artigo, verbo.

C () substantivo, advérbio, conjunção, preposição, verbo.

D () advérbio, substantivo, conjunção, artigo, verbo.

MATEMÁTICA

7. Calcular o valor numérico de $2x + 3a$ para $x = 5$ e

$a = -4$

- A () -2
- B () 4
- C () 2
- D () -4

8. Ao pesquisar o preço de um produto em 20 postos de venda, encontram-se 3 preços diferentes, sendo a distribuição representada em um gráfico.



Considerando esses 20 postos de venda, o preço médio do produto é:

- A () R\$ 12,80
- B () R\$ 13,20
- C () R\$ 13,80
- D () R\$ 14,20

9. Em um concurso público em que participaram 3000 candidatos, 1800 foram aprovados. A razão do número de candidatos aprovados para o total de candidatos participantes do concurso é:

- A () $\frac{2}{3}$
- B () $\frac{3}{5}$
- C () $\frac{5}{10}$
- D () $\frac{2}{7}$

10. Por um descuido meu, perdi R\$ 336,00 dos R\$ 1200,00 que eu tinha em meu bolso.

Quanto por cento eu perdi desta quantia?

- A () 20%
- B () 19%
- C () 26%
- D () 28%

11. Se 6 impressoras iguais produzem 1000 panfletos em 40 minutos, em quanto tempo 3 dessas impressoras produzirão 2000 desses panfletos?

- A () 120 minutos
- B () 160 minutos
- C () 240 minutos
- D () 80 minutos

12. Determine o montante de uma aplicação de R\$ 5.000,00, à taxa de 2,5% ao mês, durante 10 meses.

- A () R\$ 6.220,00
- B () R\$ 7.520,00
- C () R\$ 7.230,00
- D () R\$ 6.250,00

ATUALIDADES

13. Preços disparam, e alimentos perecíveis somem de mercados

“Os preços de frutas e legumes dispararam na CEAGESP. Supermercados não fizeram reajustes, mas alguns itens perecíveis acabaram. Segundo o setor, serão necessários 10 dias para a normalização dos estoques.” A notícia acima, publicada no Jornal Folha de S. Paulo, na primeira página, no dia 26 de maio de 2018 e divulgada pela mídia, refere-se à crise no abastecimento de gêneros alimentícios no Estado de São Paulo, decorrente:

A () Do incêndio ocorrido na CEAGESP (Companhia de Entrepósitos e Armazéns Gerais de São Paulo) no dia anterior, com 5 vítimas fatais.

B () Do reflexo da seca prolongada que se abateu sobre a Região Sudeste, com a redução de volume nos reservatórios das hidrelétricas regionais e a previsão de chuvas baixas em relação à média histórica.

C () Da paralisação dos caminhoneiros, que deixou a capital do Estado em situação de emergência.

D () Dos atritos entre produtores de grãos e produtores de carnes que vinham ocorrendo no campo, desde o início do ano, provocando impacto negativo na produção de gêneros alimentícios para o abastecimento do mercado.

14. Neste ano de 2018 ocorrerão no país eleições para os cargos de Presidente da República, Governadores Estaduais, Senadores, Deputados Federais e Deputados Estaduais.

A eleição do Presidente da República e dos Governadores Estaduais poderá ocorrer em um ou dois turnos.

O primeiro turno das eleições de 2018 deverá acontecer:

A () No dia 1º de outubro

B () No dia 3 de outubro

C () No dia 7 de outubro

D () No dia 15 de novembro

15. Repercussão da morte de uma das maiores e mais versáteis vozes da história da música, ocorrida em 16 de agosto.

Paul Mc Cartney – “Ela fará muita falta, mas sua grandeza como artista e ser humano viverão para sempre”.

Donald Trump – “Mulher maravilhosa com um presente de Deus: A voz”.

Barack Obama – “Em sua voz, poderíamos sentir nossa história, toda ela em todos os tons. – nosso poder ou nossa dor, nossa escuridão ou clareza, nosso questionamento ou redenção e nosso respeito duramente conquistado. Que a Rainha do Soul descanse em eterna paz”.

Barbara Streisand – “É difícil pensar em um mundo sem ela. Não foi apenas uma cantora excepcionalmente brilhante, mas seu compromisso com os direitos civis causou um impacto indelével no mundo”.

As considerações acima referem-se à cantora:

A () Aretha Franklin

B () Billie Holliday

C () Ella Fitzgerald

D () Leny Eversong

16. 15 de agosto foi o último dia para os partidos políticos registrarem candidaturas para concorrer à Presidência da República, nas eleições de outubro.

Os candidatos Marina Silva, Ciro Gomes, Luís Inácio Lula da Silva e Jair Bolsonaro foram registrados respectivamente, pelos Partidos:

A () PSB, PDT, PMDB e PSOL.

B () Rede, PDT, PT e PSL.

C () Rede, PSB, PT e PSOL.

D () PSB, MDB, PT e PSL.

17. No último dia 18 de agosto, Pacaraima, cidade do estado de Roraima se transformou em uma zona de conflito, com pedradas, bombas de gás improvisadas, incineração de pertences de refugiados e vandalização de carros dos moradores locais.

Grupos de brasileiros perseguiram refugiados que vivem nessa cidade e queimaram seus pertences após um comerciante local ser surrado em uma tentativa de assalto na véspera. Agredidos com pedaços de pau, os refugiados foram expulsos das tendas que ocupavam na região:

- A () Definida pelo INCRA (Instituto Nacional de Colonização e Reforma Agrária) e pela FUNAI (Fundação Nacional do Índio) como território indígena, do povo lanomâmi.
- B () Definida pelo IBAMA (Instituto Brasileiro do Meio Ambiente e dos Recursos Naturais Renováveis) como área de preservação ambiental.
- C () Que dá acesso ao Brasil para os refugiados do Haiti.
- D () Da fronteira do Brasil com a Venezuela.

18. O Brasil criou 47.319 vagas com carteira assinada no último mês de julho, segundo dados do CAGED (Cadastro Geral de Empregados e Desempregados) divulgados em 22 de agosto. O resultado é o saldo, ou seja, a diferença entre as vagas abertas e fechadas.

O resultado positivo de julho foi puxado pelo agronegócio, serviços e construção civil. O comércio e a administração pública apresentaram resultados negativos.

Existem outros números sobre desemprego apresentados pelo IBGE (Instituto Brasileiro de Geografia e Estatística), que são mais amplos, pois levam em conta todos os trabalhadores, com e sem carteira.

A última PNAD (Pesquisa Nacional por Amostra de Domicílios) registrou que o Brasil tinha aproximadamente:

- A () 3 milhões de desempregados.
- B () 13 milhões de desempregados.
- C () 23 milhões de desempregados.
- D () 33 milhões de desempregados.

CONHECIMENTOS ESPECÍFICOS

NOÇÕES DE INFORMÁTICA

19. No Windows 10, diversas teclas de atalho podem ser utilizadas para que as tarefas dos usuários sejam realizadas com mais agilidade.

Assinale a alternativa que indica corretamente as ações realizadas ao utilizar as teclas de atalho abaixo:

- Windows + R
- Windows + D
- Windows + L

- A () Abrir a Caixa de diálogo "Executar"; Exibir a área de trabalho; Bloquear o computador.
- B () Exibir a área de trabalho; Bloquear o computador; Abrir a caixa de diálogo "Localizar".
- C () Recortar um arquivo; Deletar um arquivo; Localizar um arquivo.
- D () Abrir as configurações de Rede; Desligar o computador; Exibir a área de trabalho.

20. Fernando deseja enviar um arquivo que está na área de trabalho de seu computador para um pen drive, que está conectado ao computador via USB. Para que o arquivo seja mantido também em sua área de trabalho, os comandos que ele deve executar no arquivo original, e no diretório para onde deseja enviá-lo, são, respectivamente:

- A () Control+X; Control+V
- B () Control+C; Control+V
- C () Control+V; Control+X
- D () Control+X; Control+C

21. Analise as afirmações abaixo quanto às funcionalidades e aplicações presentes no Windows 10:

I Por ser um sistema operacional moderno, o Windows 10 só pode ser utilizado quando está conectado à Internet;

II O painel de controle no Windows 10 foi substituído pela assistente virtual Cortana;

III O navegador de internet padrão no Windows 10 passou a ser o Google Chrome, substituindo o Internet Explorer.

Estão corretas as afirmações:

- A () I
B () I e III
C () II e III
D () Nenhuma das alternativas

22. Luís possui algumas fotos em seu computador que deseja enviar via e-mail para um colega. Para gerar um único arquivo que contenha todas as fotos, e reduzir o tamanho total dos arquivos que estão sendo enviados, o procedimento que deve realizar no Windows 10 é:

- A () Selecionar os arquivos no Explorador de Arquivos, clicar com o botão direito do mouse nos arquivos selecionados e escolher a opção "Enviar Para" -> "Pasta compactada".
B () Selecionar os arquivos no Microsoft Edge, clicar com o botão direito do mouse nos arquivos selecionados e escolher a opção "Reduzir".
C () Selecionar os arquivos no Painel de Controle, clicar com o botão direito nos arquivos selecionados e arrastá-los para o Microsoft Outlook.
D () Selecionar os arquivos no Explorador de Arquivos, clicar com o botão direito do mouse nos arquivos escolhidos e selecionar a opção "Enviar por e-mail com compactação".

23. No MS-Word 2016 (em português), quais teclas de atalho permitem formatar um texto em negrito e itálico, respectivamente?

- A () Control + N; Control + S
B () Control + C; Control + V
C () Control + N; Control + I
D () Control + I; Control + N


24. No MS-Word 2016, a ferramenta "pincel de formatação" permite que:

- A () Seja replicada para o texto selecionado a mesma formatação do parágrafo anterior.
B () Seja aplicada uma formatação automática de acordo com o tipo de documento que está sendo editado.
C () Sejam exibidas todas as opções de formatação disponíveis para o texto.
D () Seja copiada a formatação do texto selecionado para ser aplicada em um outro trecho do documento.


25. Ao digitar uma palavra no MS-Word 2016, o programa sinalizará com um sublinhado vermelho as palavras que não forem reconhecidas, para que o usuário verifique se existe algum erro de ortografia. É possível executar uma ação para que a palavra não seja mais considerada incorreta nas próximas vezes que for digitada, o que é muito comum quando são digitados sobrenomes, por exemplo. Para que isto ocorra, é necessário:


- A () Clicar com o botão direito na palavra não reconhecida, e selecionar as opções "Ortografia" -> "Adicionar ao Dicionário".
B () Clicar com o botão direito na palavra não reconhecida, e selecionar a opção "Adicionar ao catálogo de palavras".
C () Selecionar a palavra desconhecida e executar a tecla de atalho Control + D.
D () Acessar o menu "Dicionário", digitar a palavra considerada incorreta, e selecionar a opção "Adicionar".


26. Na aba "Página Inicial" do MS-Word 2016, são exibidos os ícones abaixo:




É correto afirmar que:

A () O ícone  aplica uma formatação centralizada no texto que for selecionado.

B () O ícone  aplica a cor selecionada na fonte do texto selecionado.

C () O ícone  permite ajustar o espaçamento entre as linhas selecionadas.

D () O ícone  executa uma operação matemática caso o texto selecionado contenha números.

27. Para adicionar uma tabela em um documento do MS-Word 2016, deve ser acessada a opção "Tabela", que está dentro da aba:

- A () Design
- B () Layout
- C () Exibir
- D () Inserir

28. No MS-Excel 2016, foram preenchidos os seguintes valores em uma planilha:

	A	B	C
1	14	7	1
2	3	4	13
3	2	5	9

Na célula C4, foi preenchida a seguinte fórmula:
=SOMA(A1:A3)+C2

O resultado apresentado na célula C4 será:

- A () 19
- B () 20
- C () 29
- D () 32

29. No MS-Excel 2016, ao selecionar as células A1, B1 e C1 e clicar na opção "Mesclar e centralizar", qual será o efeito na planilha?

A () As 3 células serão consolidadas em uma única célula, e caso exista algum texto dentro da célula A1, ele ficará centralizado.

B () Todo o conteúdo presente nas 3 células será somado e o resultado ficará centralizado.

C () O conteúdo das 3 células será mantido, mas a formatação deles ficará centralizada.

D () Será criada uma nova célula na próxima coluna, mantendo as células originais e centralizando o conteúdo da nova célula.

30. Uma planilha do MS-Excel 2016 foi preenchida com os valores abaixo.

	A	B	C
1	Nome	Idade	Cidade
2	Pedro	12	São Paulo
3	Carlos	14	São Paulo
4	Alberto	12	Taubaté
5	Pedro	11	Campinas

O nome da ferramenta que foi utilizada na primeira linha da tabela é:

- A () Índice
- B () Filtro
- C () Organização
- D () Referência

31. Em uma planilha do MS-Excel 2016, foi inserido o conteúdo abaixo:

	A	B	C
1	Luana	Pedro	Henrique
2	Alberto	Júlia	Marta

Ao digitar a fórmula =CONCATENAR(A1;C2) na célula C3, o resultado apresentado será:

- A () LuanaPedroHenriqueAlbertoJúliaMarta
- B () Luana-Marta
- C () LuanaMarta
- D () LuanaPedroJúliaMarta

32. Wagner está editando uma planilha no MS-Excel 2016, em que preenche o CEP em uma das células. Ele possui outra planilha que tem uma relação de CEPs e a Cidade correspondente. Para que o Excel preencha automaticamente a cidade em sua planilha atual, com base no CEP que ele digitou, a fórmula que ele deve utilizar é:

- A () SOMASE
- B () PROCV
- C () BASE
- D () ENCONTRAR

33. No MS-PowerPoint 2016, é possível redimensionar imagens ou formas mantendo-se a proporção da imagem original. Para isto, deve-se:

- A () Redimensionar a imagem ou forma utilizando as alças de dimensionamento enquanto mantém a tecla Control pressionada.
- B () Clicar na imagem com o botão direito e selecionar a opção alterar imagem.
- C () Redimensionar a imagem utilizando a opção "Manter proporção original".
- D () Redimensionar a imagem utilizando a ferramenta "Pincel de formatação".

34. Jaqueline criou uma tabela no MS-Excel 2016 e deseja inseri-la em uma apresentação do MS-PowerPoint 2016. É incorreto afirmar que:

- A () A tabela pode ser editada no MS-PowerPoint 2016 se for utilizada a opção de colagem padrão.
- B () A tabela pode ser colada como uma imagem, sendo necessário para isto selecionar a opção de colagem "Imagem".
- C () Se for utilizada a opção de colagem "Manter somente texto", a formatação aplicada na tabela original será perdida.
- D () Se for utilizada a opção de colagem "Vincular", os dados alterados no arquivo Excel serão replicados para a apresentação do PowerPoint.

CONHECIMENTOS ESPECÍFICOS

NOÇÕES DE DIREITO

35. Assinale, entre as alternativas abaixo, a única que NÃO contempla direitos e deveres individuais e coletivos definidos pela Constituição Federal, em seu artigo 5º

- A () Homens e mulheres são iguais em direitos e obrigações.
- B () É livre a manifestação do pensamento, sendo vedado o anonimato.
- C () A prática do racismo constitui crime passível de fiança e prescritível.
- D () É garantido o direito de propriedade.

36. São direitos sociais, assegurados pelo Artigo 6º da Constituição Federal:

- A () Educação, saúde, alimentação, trabalho, moradia, transporte, crédito bancário.
- B () Educação, saúde, alimentação, trabalho, moradia, transporte, lazer.
- C () Educação, saúde, alimentação, trabalho, moradia, transporte, previdência privada.
- D () Educação, saúde, alimentação, trabalho, moradia, transporte, aposentadoria especial.

37. No capítulo referente à nacionalidade, a Constituição Federal estabelece que "os nascidos na República Federativa do Brasil, ainda que de pais estrangeiros, desde que estes não estejam a serviço de seu país", são considerados brasileiros:

- A () Natos
- B () Naturais
- C () Naturalizados
- D () Nacionais

38. A investidura em cargo ou emprego público depende de aprovação prévia em concurso público de provas ou de provas e títulos, de acordo com a natureza e a complexidade do cargo ou emprego, na forma prevista em lei, ressalvadas as nomeações para:

- A () cargo em comissão mediante escolha em lista triplíce.
- B () função de confiança, mediante escolha em lista triplíce.
- C () função em designação, para substituir titular de cargo afastado nos termos da Lei.
- D () cargo em comissão declarado em lei de livre nomeação e exoneração.

39. Nos termos do § 4º do artigo 37 da Constituição da República Federativa do Brasil, "os atos de improbidade administrativa importarão, na forma e gradação previstas em lei, sem prejuízo da ação penal cabível":

- I Suspensão dos direitos políticos;
- II Perda da função pública;
- III Indisponibilidade dos bens;
- IV Ressarcimento ao erário.

Fazem parte do texto do § 4º do artigo 38 da Constituição Federal:

- A () Apenas as afirmativas I, II e III.
- B () Apenas as afirmativas I, II e IV.
- C () Apenas as afirmativas II, III e IV.
- D () As afirmativas I, II, III e IV.

40. De acordo com o inciso XVI do artigo 37 da Constituição Federal, "é vedada a acumulação remunerada de cargos públicos, exceto, quando houver compatibilidade de horários:

- I a de dois cargos de professor;
- II a de um cargo de professor com outro, técnico ou científico;
- III a de dois cargos ou emprego privativos de profissionais da área administrativa, com profissões regulamentadas;
- IV a de dois cargos ou empregos privativos de profissionais da saúde, com profissões regulamentadas;
- V a de dois cargos ou empregos privativos de profissionais da área jurídica, com profissões regulamentadas.

Das afirmativas acima, I, II, III, IV e V, constam do texto da Constituição Federal (art. 37, XVI), apenas:

- A () I, II e III
- B () I, II e IV
- C () I, II e V
- D () I, III e V

41. Observe os conceitos abaixo e assinale a alternativa correta, a eles correspondente:

- I Organismo político administrativo que, como nação soberana ou divisão territorial, ocupa um território determinado, é dirigido por governo próprio e se constitui pessoa jurídica de direito público, internacionalmente reconhecida;
- II Sistema ou modo pelo qual se rege um Estado;
- III Conjunto de princípios, normas e funções que têm por fim ordenar a estrutura e funcionamento de um órgão público.

I, II e III correspondem **respectivamente** aos conceitos de:

- A () Estado, Governo e Administração Pública.
- B () Governo, Estado e Administração Pública.
- C () Estado, Administração Pública e Governo.
- D () Administração Pública, Estado e Governo.

42. A Constituição Federal, em seu artigo 37, caput, indica, de maneira expressa, os princípios da administração pública direta e indireta de qualquer dos Poderes da União, dos Estados, do Distrito Federal e dos Municípios, que são:

- A () legalidade, parcialidade, moralidade, eficácia e eficiência.
B () legalidade, impessoalidade, honestidade, probidade e eficiência.
C () legalidade, impessoalidade, moralidade, publicidade e eficiência.
D () legalidade, parcialidade, honestidade, publicidade e eficiência.

43. São considerados elementos básicos do Estado:

- A () Soberania, povo e território.
B () Democracia, povo e território.
C () Poderes Executivo, Legislativo e Judiciário.
D () Estados, Municípios e Distrito Federal.

44. Compõe a Administração pública direta da União:

- A () A Agência Nacional de Aviação Civil.
B () O Banco Central do Brasil.
C () A Caixa Econômica Federal.
D () O Departamento de Polícia Federal.

45. De acordo com o direito positivo, a "Administração Indireta" é composta por:

- A () Autarquias, empresas públicas, sociedades de economia mista e empresas concessionárias de serviço público.
B () Autarquias, empresas públicas, sociedades de economia mista e fundações públicas.
C () Autarquias, órgãos autônomos, empresas públicas, sociedades de economia mista e fundações públicas.
D () Autarquias, empresas públicas e fundações públicas.

46. Complete a lacuna do conceito descrito abaixo:

" _____ é todo aquele prestado pela Administração ou por seus delegados, sob normas e controles estatais, para satisfazer necessidades essenciais ou secundárias da coletividade".

- A () Contrato Administrativo.
B () Ato Administrativo.
C () Serviço Público.
D () Poder Público.

47. Os serviços públicos, conforme sua essencialidade, finalidade ou seus destinatários, podem ser classificados em públicos; de utilidade pública; próprios do Estado; impróprios do Estado; administrativos; industriais; gerais e individuais.

Observe o conceito abaixo:

"São Serviços convenientes à comunidade, mas não essenciais, e o Poder Público pode prestá-los diretamente ou por terceiros (delegados), mediante remuneração. A regulamentação e o controle são do Poder Público. Os riscos são dos prestadores de serviço. É o caso do fornecimento de gás, de energia elétrica, telefone e transporte coletivo, entre outros. Estes serviços visam a facilitar a vida do indivíduo na coletividade".

Trata-se de serviços:

- A () Próprios do Estado.
B () Impróprios do Estado.
C () De Utilidade Pública.
D () Administrativos.

48. Associe a 2ª coluna à 1ª e assinale a alternativa que corresponde corretamente a essa associação.

Os requisitos do serviço público são sintetizados em cinco princípios:

- | | |
|----------------|-----------------------------------|
| 1 Continuidade | () Serviços Atualizados |
| 2 Generalidade | () Bom tratamento para o público |
| 3 Eficiência | () Tarifas módicas |
| 4 Modicidade | () Serviços sem interrupção |
| 5 Cortesia | () Serviço igual para todos |

- A () 3, 5, 4, 1, 2
B () 4, 5, 3, 1, 2
C () 2, 1, 5, 3, 4
D () 3, 5, 1, 4, 2

49. Observe os conceitos abaixo:

I É um ato administrativo por meio do qual a administração pública possibilita ao particular a realização de alguma atividade de predominante interesse deste, ou a utilização de um bem público;

II É ato administrativo discricionário e precário pelo qual mediante prévia licitação é consentida ao particular alguma conduta em que exista interesse predominante da coletividade. É formalizada através de contrato de adesão e pode ser revogada unilateralmente pelo poder concedente;

III É o contrato entre a Administração Pública e uma empresa particular, formalizado mediante prévia licitação pelo qual o governo transfere ao segundo a execução de um serviço público, para que este o exerça em seu próprio nome e por sua conta e risco, mediante tarifa paga pelo usuário, em regime de monopólio ou não.

Os conceitos acima referem-se respectivamente a:

- A () Concessão, autorização e permissão.
B () Autorização, permissão e concessão.
C () Delegação, autorização e permissão.
D () Delegação, concessão e autorização.

50. "A delegação, a título precário, mediante licitação, da prestação de serviços públicos, feita pelo poder concedente à pessoa física ou jurídica que demonstre capacidade para seu desempenho, por conta e risco", corresponde a:

- A () Descentralização de Serviço Público.
B () Autorização de Serviço Público.
C () Concessão de Serviço Público.
D () Permissão de Serviço Público.