

CONCURSO PÚBLICO

Edital 03/2017



Companhia Energética de Minas Gerais

CADERNO DE PROVAS

CADERNO

27

CARGO:

- ENGENHEIRO DE SISTEMA ELÉTRICO JR

PROVAS:

- CONHECIMENTOS ESPECÍFICOS
- INTERPRETAÇÃO DE TEXTO / PORTUGUÊS INSTRUMENTAL
- RACIOCÍNIO LÓGICO
- INGLÊS INTERMEDIÁRIO

Leia, atentamente, as instruções gerais que se encontram no verso desta capa.

INSTRUÇÕES GERAIS:

1. Este caderno de provas contém um total de **70** (setenta) questões objetivas, sendo 30 questões de Conhecimentos Específicos, 20 questões de Interpretação de Texto / Português Instrumental, 10 questões de Raciocínio Lógico e 10 questões de Inglês Intermediário. Confira-o.
2. As provas objetivas de múltipla escolha terão duração de, no **mínimo, 1 (uma) hora**, e, no **máximo, 5 (cinco) horas**, incluído o tempo destinado à transcrição de suas respostas no gabarito oficial.
3. Respondidas as questões, você deverá passar o gabarito para a Folha de Respostas oficial, usando caneta esferográfica azul ou preta.
4. Em nenhuma hipótese haverá substituição da Folha de Respostas, por erro do candidato.
5. Este caderno deverá ser devolvido ao fiscal, juntamente, com a folha de respostas, devidamente preenchidos e assinados.
6. O candidato só poderá se ausentar do recinto das provas após decorrida **1 (uma) hora** do início de aplicação das mesmas, por motivo de segurança.
7. Você pode transcrever suas respostas da prova objetiva na última folha deste caderno e a mesma poderá ser destacada.
8. As questões das Provas Objetivas, os gabaritos, o número de candidatos inscritos para a função e o local de trabalho serão divulgados no endereço eletrônico da FUMARC: www.fumarc.com.br, no 1º (primeiro) dia útil subsequente à realização das provas.
9. A comissão organizadora da FUMARC Concursos lhe deseja uma boa prova.

Prezado(a) candidato(a):

Preencha os quadros com seu número de inscrição e seu nome:

Nº de Inscrição

Nome

ASSINALE A RESPOSTA CORRETA.

PROVA DE CONHECIMENTOS ESPECÍFICOS

QUESTÃO 01

A velocidade síncrona de um gerador de 60 Hz com 2 polos (em rotações por segundo) é igual a

- (A) 30
- (B) 60
- (C) 1.800
- (D) 3.600

QUESTÃO 02

Um motor de indução de quatro polos e frequência de 60 Hz tem uma velocidade de 1.700 rpm a plena carga. O escorregamento a plena carga é

- (A) 5,3 %
- (B) 5,6 %
- (C) 5,9 %
- (D) 6,2 %

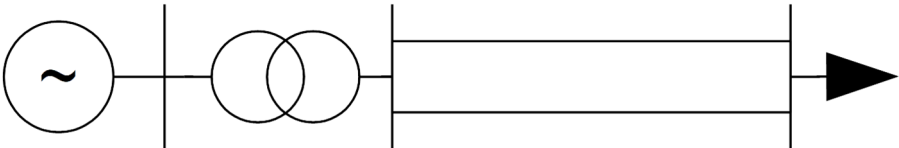
QUESTÃO 03

Uma das correntes de linha que flui para uma carga equilibrada ligada em delta é 20 A. Considerando que uma outra linha está aberta, apresente os componentes simétricos das correntes de linha.

- (A) $20\angle 0^\circ$ A , $10\angle 180^\circ$ A e 0 A
- (B) $20\angle 0^\circ$ A , $20\angle -120^\circ$ A e $20\angle 120^\circ$ A
- (C) $20\angle 0^\circ$ A , $20\angle 180^\circ$ A e 0 A
- (D) $20\angle 0^\circ$ A , $20\angle 120^\circ$ A e 0 A

QUESTÃO 04

Um gerador cujas perdas são desprezíveis está ligado a um sistema elétrico por meio de um transformador de 100 MVA, 15 kV/138 kV e $X = 5\%$. O gerador alimenta uma carga por meio de duas linhas de transmissão com as mesmas características, cada uma com reatância série $X = 2(\sqrt{3} - 0,1)$ pu/fase, resistência e reatância paralela desprezíveis. A tensão na saída do gerador, baixa do transformador, é $1\angle 0^\circ$ pu. Calcule o módulo da tensão (pu) no barramento da carga, sabendo que a potência ativa entregue na carga é $1/3$ pu e a potência reativa é nula ($S_{base} = 200$ MVA).



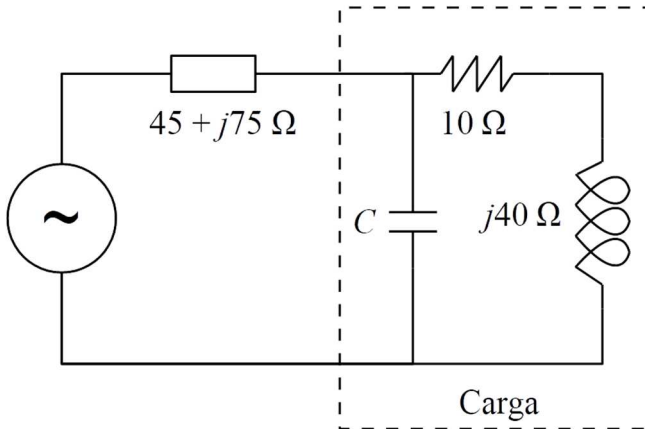
	0°	30°	45°	60°	90°
SENO	0	$1/2$	$\frac{\sqrt{2}}{2}$	$\frac{\sqrt{3}}{2}$	1
COS	1	$\frac{\sqrt{3}}{2}$	$\frac{\sqrt{2}}{2}$	$1/2$	0
TAN	0	$\frac{\sqrt{3}}{3}$	1	$\sqrt{3}$	∞

Está **CORRETO** o que se afirma em:

- (A) $\sqrt{3}$
- (B) $\sqrt{3}/2$
- (C) $\sqrt{3}/3$
- (D) $2\sqrt{3}/3$

QUESTÃO 05

No circuito abaixo, uma fonte alimenta uma carga por meio de condutores cuja impedância é apresentada no diagrama. Calcule o valor de C de modo que a transferência de potência da fonte para a carga seja **máxima**.



Está **CORRETO** o que se afirma em:

- (A) $j30 \Omega$
- (B) $j75 \Omega$
- (C) $-j30 \Omega$
- (D) $-j75 \Omega$

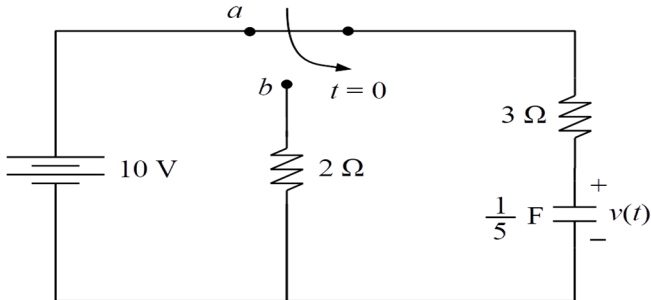
QUESTÃO 06

Sobre os sistemas de transmissão em corrente contínua, está **INCORRETO** afirmar:

- (A) Estações intermediárias não são necessárias.
- (B) Há menor controle do fluxo de potência.
- (C) Há perdas adicionais nos transformadores conversores.
- (D) São mais econômicos para transmitir grande quantidade de energia a longas distâncias.

QUESTÃO 07

No circuito abaixo, uma fonte alimenta um resistor (3Ω) e um capacitor há um longo tempo, encontrando-se em regime permanente. No instante $t = 0$, a chave muda da posição a para b , isolando a fonte do restante do circuito



A tensão inicial no capacitor em $t = 0$ e a expressão de $v(t)$ após o chaveamento em $t = 0$ são, **respectivamente**:

- (A) 0 V e $3 e^{-t} \text{ V}$
- (B) 0 V e $10 e^{-t} \text{ V}$
- (C) 10 V e $3 e^{-t} \text{ V}$
- (D) 10 V e $10 e^{-t} \text{ V}$

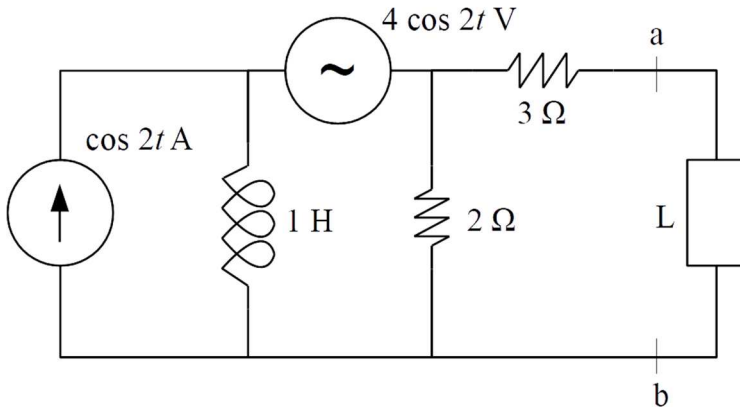
QUESTÃO 08

Um sistema elétrico de potência de dois barramentos tem um gerador alimentando uma carga por meio de uma linha de transmissão cuja reatância série é $0,1 \text{ pu}$, sendo a resistência e a reatância paralela desprezíveis. A tensão no barramento do gerador é controlada igual a 1 pu . A carga consome 100 MVA com fator de potência igual a $\sqrt{3}/2$. A potência aproximada de um banco de capacitor (MVAR) a ser conectado ao barramento da carga tal que a tensão nesse mesmo barramento seja nominal. ($S_{base} = 100 \text{ MVA}$) é:

- (A) 50
- (B) 87
- (C) 90
- (D) 100

QUESTÃO 09

No circuito abaixo, uma carga L está conectada a uma rede elétrica pelos pontos a - b . Encontre a impedância equivalente de Thévenin dessa rede que alimenta a carga.



- (A) $1 + j4 \Omega$
- (B) $2 + j \Omega$
- (C) $3 + j4 \Omega$
- (D) $4 + j \Omega$

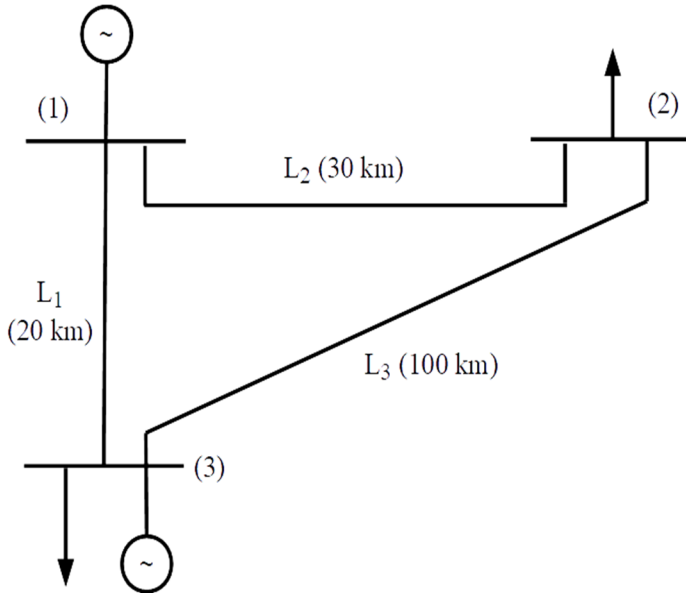
QUESTÃO 10

A afirmativa que apresenta o que acontecerá se duas máquinas síncronas estão operando em paralelo e a tensão de uma delas é repentinamente aumentada é:

- (A) A diferença de potencial entre as máquinas provocará uma perda de sincronismo, que resultará em uma desaceleração de ambas as máquinas.
- (B) As duas máquinas tendem a acelerar, devido à perda de sincronismo.
- (C) Um torque de sincronismo será produzido para restaurar o sincronismo.
- (D) Uma máquina tende a acelerar sua rotação, a outra tende a manter sua velocidade.

QUESTÃO 11

No sistema elétrico de potência abaixo, todas as linhas de transmissão têm reatância série igual a $0,5 \Omega/\text{km}$, resistência igual a $0,1 \Omega/\text{km}$ e reatância paralela igual $0,5 \text{ M}\Omega/\text{km}$. As linhas L_1 e L_2 são curtas e suas reatâncias paralelas podem ser desprezadas.

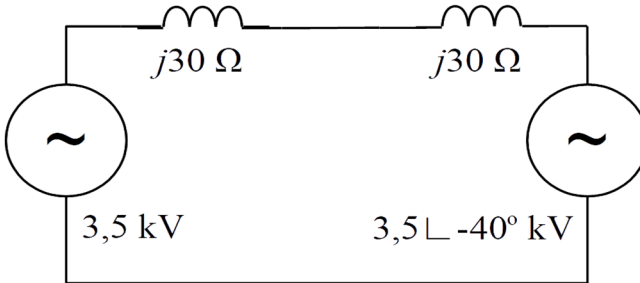


O elemento imaginário de Y_{12} da matriz admitância é:

- (A) $j0,06$
- (B) $-j0,06$
- (C) $j0,07$
- (D) $-j0,07$

QUESTÃO 12

Dois geradores síncronos monofásicos são conectados em paralelo, como mostra a figura abaixo. O enrolamento do estator de ambas as máquinas possui uma reatância de 30Ω e resistência desprezível.

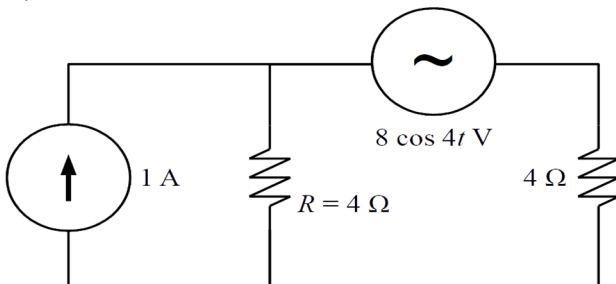


O módulo da corrente (A) circulando entre as duas máquinas é:

- (A) 20
- (B) 25
- (C) 35
- (D) 40

QUESTÃO 13

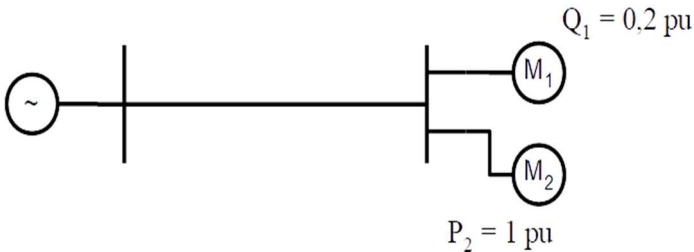
No circuito a seguir, calcule a potência média (W) consumida pelo resistor R (valor de tensão eficaz).



- (A) 3
- (B) 4
- (C) 5
- (D) 6

QUESTÃO 14

Um gerador trifásico alimenta um centro de carga constituído de dois motores, como mostra o diagrama abaixo, e uma carga adicional que consome 0,1 pu com fator de potência unitário (todas as cargas são trifásicas). O fator de potência do motor M_1 é 0,92 e do motor M_2 é 0,9. A linha que liga o gerador ao centro de carga tem reatância série igual a 0,2 pu, sendo a resistência e a reatância paralela desprezíveis. Calcule o módulo da tensão (pu) no barramento do centro de carga sabendo que a tensão no barramento do gerador é nominal e abertura angular entre as tensões das duas barras é de 20° .



Ângulo	Seno	Cosseno	Tangente
20	0,34	0,94	0,36
21	0,36	0,93	0,38
22	0,37	0,93	0,44
23	0,39	0,92	0,42
24	0,41	0,91	0,45
25	0,42	0,91	0,47
26	0,44	0,90	0,49

Está **CORRETO** o que se afirma em:

- (A) 0,92
- (B) 0,95
- (C) 0,96
- (D) 1,00

QUESTÃO 15

A resistência (Ω) de um fio a uma temperatura de 70°C , sendo sua resistência a 20°C igual a 10Ω e $\alpha = 0,001 \text{ }^{\circ}\text{C}^{-1}$, é:

- (A) 21
- (B) 22
- (C) 25
- (D) 26

QUESTÃO 16

Sobre o estudo de medições de grandezas físicas, **NÃO** está correto afirmar:

- (A) As medidas diretas estão, normalmente, associadas ao controle estatístico de produto e processo.
- (B) Medidas diretas são tomadas com um tipo específico de instrumento, como paquímetro, micrômetro etc.
- (C) Medidas indiretas são determinadas a partir de levantamentos estatísticos.
- (D) Nas medidas indiretas, o valor da grandeza é determinado a partir da medição direta de outras grandezas.

QUESTÃO 17

Segundo a Norma Regulamentadora 10 (NR-10), os procedimentos abaixo permitem considerar desenergizadas as instalações elétricas liberadas para trabalho, **EXCETO**:

- (A) Constatação da ausência de tensão.
- (B) Estabilização do nível de tensão.
- (C) Impedimento de reenergização.
- (D) Seccionamento.

QUESTÃO 18

Uma carga de 40 MW com fator de potência 0,8 atrasado está ligada ao sistema elétrico apresentado na figura abaixo. A linha de transmissão que liga o gerador à carga tem reatância de $10 \Omega/\text{fase}$, a tensão entre fases na saída do gerador, cujas perdas podem ser desprezadas, é nominal e a abertura angular entre as tensões dos barramentos do gerador e da carga é 10° . A tensão (kV) no barramento da carga, sendo $T_1 = 100 \text{ MVA}$, $15/138 \text{ kV}$, $X = 10\%$; e $T_2 = 50 \text{ MVA}$, $13,8/138 \text{ kV}$, $X = 12\%$, é:

Ângulo	Seno	Cosseno	Tangente
10°	0,17	0,98	0,18



- (A) 12,5
- (B) 13,5
- (C) 14,0
- (D) 15,0

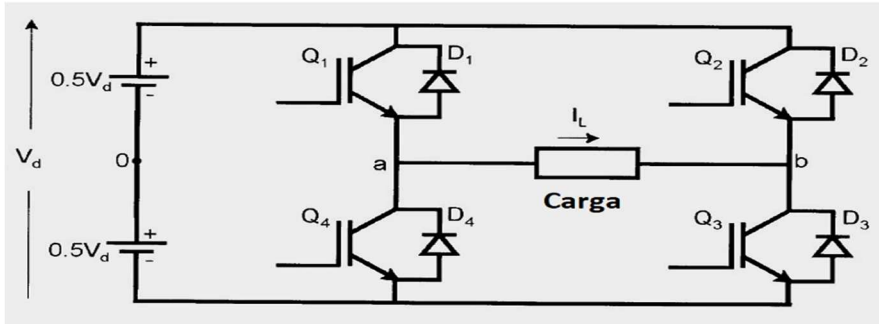
QUESTÃO 19

Um gerador entrega 49 MW a uma carga, o que representa 10% da capacidade máxima de transmissão de uma linha de 138 kV. A tensão no barramento do gerador é nominal e a reatância da linha é $38 \Omega/\text{fase}$ (resistência e reatância paralela desprezíveis). O módulo de tensão (kV) no barramento da carga é:

- (A) 130
- (B) 135
- (C) 138
- (D) 140

QUESTÃO 20

O inversor de ponte completa apresentado abaixo, cuja frequência é 60 Hz e tensão de entrada, V_d , é $\sqrt{2} 50 \pi$ V, alimenta uma carga com as seguintes características: $R = 3 \Omega$ e $L = 10,5$ mH.



A corrente RMS (A) da carga na frequência fundamental é:

- (A) 10
- (B) 25
- (C) 30
- (D) 40

QUESTÃO 21

Uma indústria possui um consumo energético no horário de pico de 200 kVA com fator de potência 0,9 atrasado. A potência (kVAR) do banco de capacitores a ser instalado, tal que o fator de potência seja elevado a 0,92 atrasado, é:

Ângulo (°)	Seno	Cosseno	Tangente
26	0,44	0,90	0,48
23	0,39	0,92	0,43

- (A) 5
- (B) 8
- (C) 11
- (D) 15

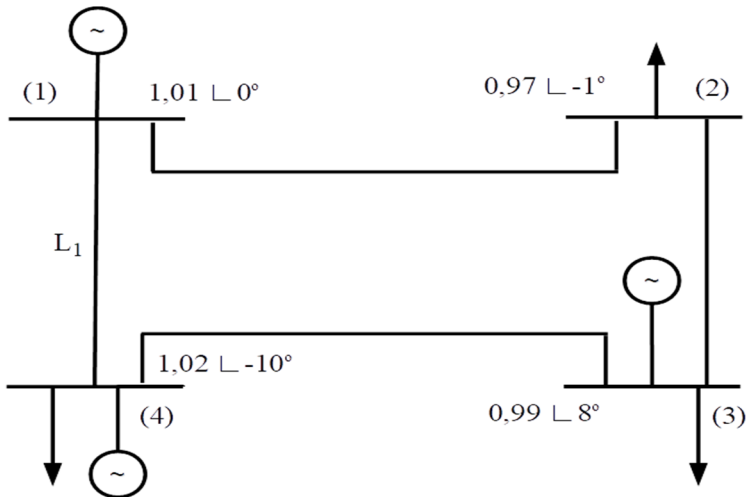
QUESTÃO 22

A Norma Brasileira 5410 (NBR-5410) tem como objetivo estabelecer as condições que satisfazem as instalações elétricas de

- (A) alta-tensão.
- (B) baixa-tensão.
- (C) de proteção contra quedas diretas de raios.
- (D) iluminação pública.

QUESTÃO 23

No sistema elétrico abaixo,



o sentido do fluxo de potência ativa entre os barramentos está indicado **corretamente** em:

- (A) (1) \Rightarrow (2), (3) \Rightarrow (2) e (3) \Rightarrow (4)
- (B) (2) \Rightarrow (3), (1) \Rightarrow (2) e (1) \Rightarrow (4)
- (C) (4) \Rightarrow (1), (1) \Rightarrow (2) e (3) \Rightarrow (2)
- (D) (4) \Rightarrow (3), (3) \Rightarrow (2) e (1) \Rightarrow (2)

QUESTÃO 24

Uma indústria possui quatro tipos de carga, a saber, *motores*, *iluminação*, *aquecimento* e *geral*. A tabela abaixo apresenta o consumo energético médio diário.

Ângulo (°)	Seno	Cosseno	Tangente
46	0,71	0,70	1,02
37	0,60	0,80	0,75
26	0,44	0,90	0,48
18	0,31	0,95	0,33

Tipo de Carga	Potência	Fator de Potência	Uso Diário
Motor	200 kW	0,8	20 horas
Iluminação	10 kVA	0,7	12 horas
Aquecimento	50 kW	0,95	4 horas
Geral	20 kVA	0,9	Contínuo

O custo (R\$) mensal, considerando um mês de 30 dias e uma tarifa de R\$ 0,8/kWh, é:

- (A) 113 mil
- (B) 115 mil
- (C) 141 mil
- (D) 144 mil

QUESTÃO 25

A Norma regulamentadora 10 (NR-10) NÃO é aplicável a instalações elétricas alimentadas por:

- (A) alta-tensão.
- (B) baixa-tensão e extra-baixa tensão.
- (C) baixa-tensão.
- (D) extra-baixa tensão.

QUESTÃO 26

O coeficiente de desempenho de uma bomba de calor com capacidade 10.000Btu/h e compressor com potência nominal de 2 kW é:

- (A) 0,2
- (B) 1,5
- (C) 3,5
- (D) 5,0

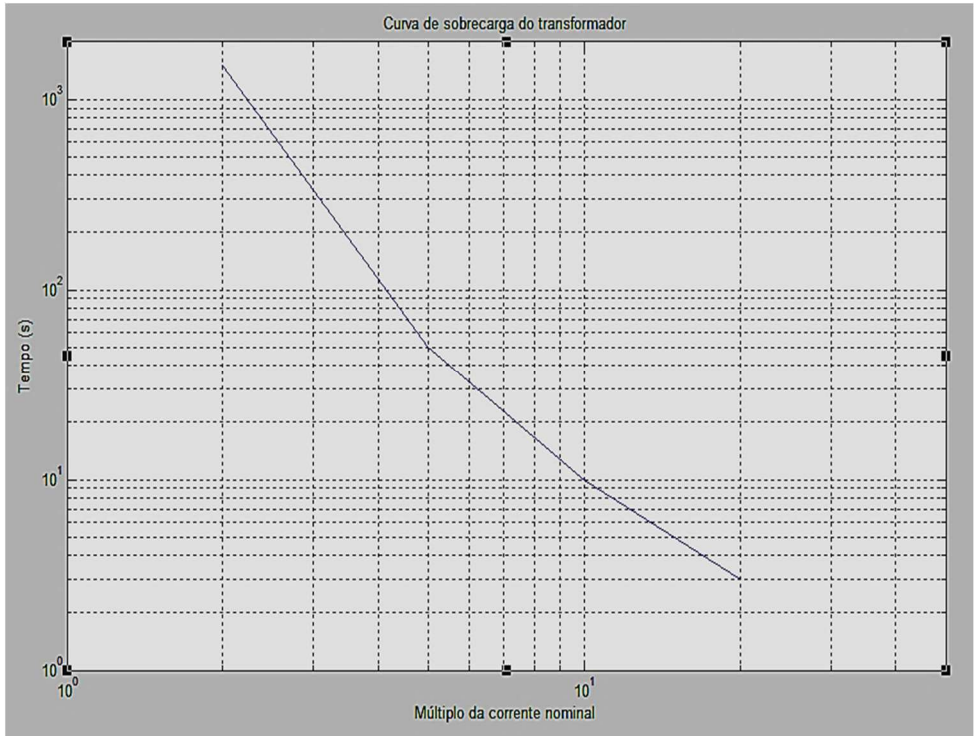
QUESTÃO 27

Para calcular os ajustes dos relés do consumidor, uma concessionária deve fornecer, **EXCETO**:

- (A) Impedância no ponto de entrega.
- (B) Curvas dos relés da concessionária.
- (C) Correntes de curtos-circuitos no ponto de entrega.
- (D) Capacidade dos transformadores da subestação.

QUESTÃO 28

Em uma subestação de distribuição de 138/15 kV, a corrente de curto-circuito trifásico no barramento de 15 kV é 9.600 A. A potência nominal do transformador é 25 MVA.

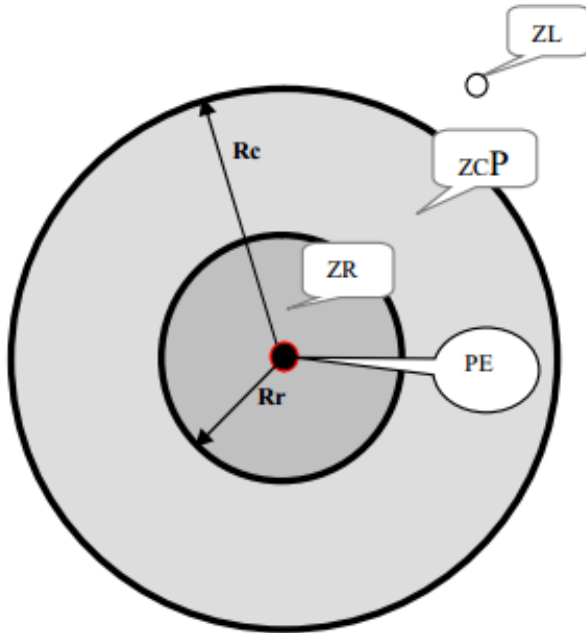


O tempo máximo (s) estimado que esse transformador pode suportar essa corrente de curto-circuito, sem ocorrer nenhum dano, é:

- (A) 10
- (B) 11
- (C) 12
- (D) 13

QUESTÃO 29

Observe a figura:

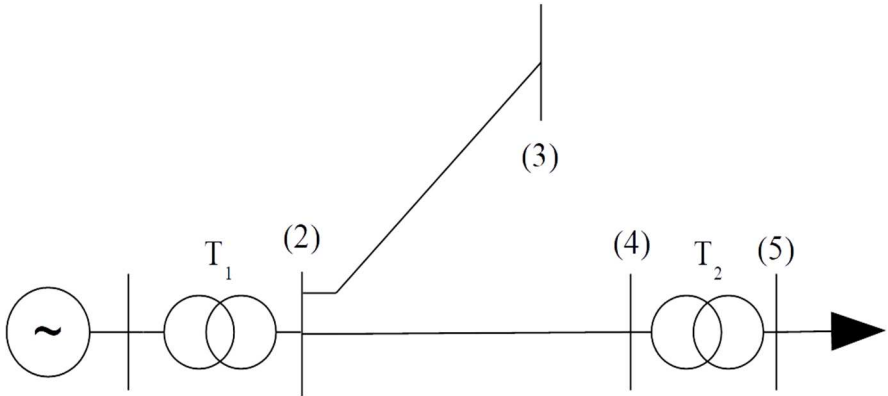


Segundo a Norma Regulamentadora 10 (NR-10), a figura acima define:

- (A) Distâncias do ponto central de torres de distribuição, que delimitam radialmente as zonas de risco.
- (B) Distâncias do ponto central de torres de transmissão, controlada e livre, com interposição de superfície de separação.
- (C) Distâncias no ar que delimitam radialmente as zonas de risco, controlada e livre.
- (D) Distâncias no ar que delimitam radialmente as zonas de risco, controlada e livre, com interposição de superfície de separação física adequada.

QUESTÃO 30

O diagrama abaixo representa um sistema elétrico de 5 barramentos. A tensão no barramento (2) é nominal. Todas as linhas de transmissão são de 230 kV e têm reatância série igual a $70 \Omega/\text{fase}$ e resistência desprezível.



A tensão (kV) no barramento (3) e a perda de potência ativa (MW) na linha que liga os barramentos (2)-(4), sendo $T_1 = 50 \text{ MVA}$, $13,8/230 \text{ kV}$, 10% ; e $T_2 = 50 \text{ MVA}$, $15/230 \text{ kV}$, 11% , são, **respectivamente**:

- (A) 225 e 10
- (B) 230 e 0
- (C) 230 e 10
- (D) 235 e 0

PROVA DE INTERPRETAÇÃO DE TEXTO PORTUGUÊS INSTRUMENTAL

Do moderno ao pós-moderno

Frei Betto / 14/05/2017 - 06h00

A morte da modernidade merece missa de sétimo dia? Os pais da modernidade nos deixaram de herança a confiança nas possibilidades da razão. E nos ensinaram a situar o homem no centro do pensamento e a acreditar que a razão, sem dogmas e donos, construiria uma sociedade livre e justa.

Pouco afeitos ao delírio e à poesia, não prestamos atenção à crítica romântica da modernidade – Byron, Rimbaud, Burckhardt, Nietzsche e Jarry. Agora, olhamos em volta e o que vemos? As ruínas do Muro de Berlim, a Estátua da Liberdade tendo o mesmo efeito no planeta que o Cristo do Corcovado na vida cristã dos cariocas, o desencanto com a política, o ceticismo frente aos valores.

Somos invadidos pela incerteza, a consciência fragmentária, o sincretismo do olhar, a disseminação, a ruptura e a dispersão. O evento soa mais importante que a história e o detalhe sobrepuja a fundamentação.

O pós-moderno aparece na moda, na estética, no estilo de vida. É a cultura de evasão da realidade. De fato, não estamos satisfeitos com a inflação, com a nossa filha gastando mais em pílulas de emagrecimento que em livros, e causamos profunda decepção saber que, neste país, a impunidade é mais forte que a lei. Ainda assim, temos esperança de mudá-lo. Recuamos do social ao privado e, rasgadas as antigas bandeiras, nossos ideais transformam-se em gravatas estampadas. Já não há utopias de um futuro diferente. Hoje, é considerado politicamente incorreto propagar a tese de conquista de uma sociedade onde todos tenham iguais direitos e oportunidades.

Agora predominam o efêmero, o individual, o subjetivo e o estético. Que análise de realidade previu a volta da Rússia à sociedade de classes? Resta-nos captar fragmentos do real (e aceitar que o saber é uma construção coletiva). Nosso processo de conhecimento se caracteriza pela indeterminação, descontinuidade e pluralismo.

A desconfiança da razão nos impele ao esotérico, ao espiritualismo de consumo imediato, ao hedonismo consumista, em progressiva mimetização generalizada de hábitos e costumes. Estamos em pleno naufrágio ou, como predisse Heidegger, caminhando por veredas perdidas.

Sem o resgate da ética, da cidadania e das esperanças libertárias, e do Estado-síndico dos interesses da maioria, não haverá justiça, exceto aquela que o mais forte faz com as próprias mãos.

Ingressamos na era da globalização. Graças às redes de computadores, um rapaz de São Paulo pode namorar uma chinesa de Beijing sem que nenhum dos dois saia de casa. Bilhões de dólares são eletronicamente transferidos de um país a outro no jogo da especulação, derivativo de ricos. Caem as fronteiras culturais e econômicas, afrouxam-se as políticas e morais. Prevalece o padrão do mais forte.

A globalização tem sombras e luzes. Se de um lado aproxima povos e quebra barreiras de comunicação, de outro ela assume, nas esferas econômica e cultural, o caráter de globocolonização.

(Disponível em: <http://hojeemdia.com.br/opini%C3%A3o/colunas/frei-betto-1.334186/do-moderno-ao-p%C3%B3s-moderno-1.464377>. Acesso 05 jan. 2018)

QUESTÃO 31

São vários os interdiscursos que “dialogam” no artigo de opinião de Frei Betto, como fonte de evidências para sua argumentação. Abaixo se apontaram alguns deles, com uma exemplificação. Assinale a opção em que **NÃO haja correspondência entre a nomeação e a exemplificação**:

- (A) Econômico: “Bilhões de dólares são eletronicamente transferidos de um país a outro no jogo da especulação, derivativo de ricos”.
- (B) Político: “... e causa-nos profunda decepção saber que, neste país, a impunidade é mais forte que a lei”.
- (C) Religioso: “Resta-nos captar fragmentos do real (e aceitar que o saber é uma construção coletiva). Nosso processo de conhecimento se caracteriza pela indeterminação, descontinuidade e pluralismo.”
- (D) Tecnológico: “Graças às redes de computadores, um rapaz de São Paulo pode namorar uma chinesa de Beijing sem que nenhum dos dois saia de casa”.

QUESTÃO 32

Anteponha V (verdadeiro) ou F (falso) às asserções, levando em consideração a argumentação do articulista:

() Para o autor, a crença no racionalismo, base da reflexão que sustentava a contraposição a dogmas e possibilitava a liberdade, hoje foi suplantada pela incerteza de uns, e pela alienação de outros.

() Segundo o autor, na contemporaneidade, o caráter de imediatismo e individualismo da nossa sociedade é fruto do sincretismo religioso do povo brasileiro e da falta de conhecimento da história do Brasil.

() A globalização, que se constitui como fenômeno inescapável, apresenta tanto aspectos positivos quanto negativos: no âmbito dos avanços tecnológicos, ao mesmo tempo aproxima e isola pessoas; no econômico, promove grande circulação monetária para uns e desigualdades gritantes, para outros povos.

() Em decorrência do apagamento de fronteiras culturais e econômicas, notam-se interferências nos preceitos morais dos diversos grupos sociais, sobretudo dos países “colonizados”.

() Para Frei Betto, o ceticismo e o hedonismo consumista, marcantes no mundo pós-moderno, construíram uma nova postura ética, uma nova utopia que rejeita o “politicamente incorreto”.

A sequência **CORRETA**, de cima para baixo, é:

(A) F – F – V – F – F

(B) F – V – F – V – V

(C) V – F – V – F – V

(D) V – F – V – V – F

Atente para o fragmento abaixo, a fim de responder as questões 33 e 34:

“O pós-moderno aparece na moda, na estética, no estilo de vida. É a cultura de evasão da realidade. De fato, não estamos satisfeitos com a inflação, com a nossa filha gastando mais em pílulas de emagrecimento que em livros, e causa-**nos** profunda decepção saber que, **neste** país, a impunidade é mais forte que a lei. Ainda assim, temos esperança de mudá-**lo**. Recuamos do social ao privado e, rasgadas as antigas bandeiras, nossos ideais transformam-se em gravatas estampadas. Já não há utopias de um futuro diferente. Hoje, é considerado politicamente incorreto propagar a tese de conquista de uma sociedade **onde** todos tenham iguais direitos e oportunidades.”

QUESTÃO 33

Com relação ao emprego dos pronomes destacados, assinale a afirmativa **INCORRETA**:

- (A) O emprego do demonstrativo “neste” está inadequado; o autor deveria ter utilizado o pronome “nesse”.
- (B) O emprego do pronome relativo “onde” desvia-se da norma prescrita, visto que não retoma constituinte que indica espaço físico.
- (C) O pronome pessoal oblíquo “nos” poderia ser substituído pela forma tônica “a nós”.
- (D) O pronome pessoal oblíquo átono “-lo” retoma, adequadamente, o substantivo “país”, dito na frase anterior.

QUESTÃO 34

I – O vocábulo “bandeiras”, plurissignificativo, aqui é utilizado referencialmente e substituído, metonimicamente, o sentido de “ideais”, “frentes ou propostas de luta”.

II – A expressão “transformam-se em gravatas estampadas” assume valor pejorativo, em contraposição ao elemento que o antecedeu na argumentação.

III – O autor endossa e defende a tese dos politicamente incorretos, que apregoam a busca de uma sociedade equilibrada.

Estão **INCORRETAS** as assertivas:

- (A) I e II, apenas.
- (B) I e III, apenas.
- (C) II e III, apenas.
- (D) I, II, III.

QUESTÃO 35

Chama-se **neologismo formal** ao emprego de palavras novas, derivadas ou formadas de outras já existentes, na mesma língua ou não, e de **neologismo semântico** à atribuição de novos sentidos a palavras já existentes na língua. No trecho a seguir, o autor lançou mão de um neologismo, expediente facultado pela língua portuguesa, com determinada intenção comunicativa.

“Sem o resgate da ética, da cidadania e das esperanças libertárias, e do **Estado-síndico** dos interesses da maioria, não haverá justiça, exceto aquela que o mais forte faz com as próprias mãos.”

Com o composto criado, a argumentação do autor se baseia no recurso a uma formação lexical resultante de:

- (A) recurso à intertextualidade (por meio de uma alusão).
- (B) recurso à metalinguagem (por meio da redefinição de um conceito).
- (C) um processo de analogia (por meio da extensão metafórica do sentido).
- (D) uso de estrangeirismo (por um processo linguístico denominado idiotismo).

QUESTÃO 36

“A morte da modernidade merece missa de sétimo dia? Os pais da modernidade nos deixaram de herança a confiança nas possibilidades da razão. E nos ensinaram a situar o homem no centro do pensamento e a acreditar que a razão, sem dogmas e donos, construiria uma sociedade livre e justa.”

São figuras de linguagem identificáveis no fragmento acima, **EXCETO**:

- (A) Antítese.
- (B) Ironia.
- (C) Metáfora.
- (D) Perífrase.

QUESTÃO 37

Destacaram-se alguns itens lexicais e lhes foram indicados sinônimos apropriados ao valor que assumem no contexto em que se inserem. A correspondência encontra-se **INCORRETA** na opção:

- (A) “Agora predominam o efêmero, o individual, o subjetivo e o estético.
→ momentâneo, transitório
- (B) “E nos ensinaram a situar o homem no centro do pensamento e a acreditar que a razão, sem dogmas e donos, construiria uma sociedade livre e justa.”
→ normas, axiomas
- (C) “Já não há utopias de um futuro diferente.”
→ ilusões, quimeras
- (D) “Somos invadidos pela incerteza, a consciência fragmentária, o sincretismo do olhar, a disseminação, a ruptura e a dispersão.”
→ divergência, disjunção

QUESTÃO 38

Foram indicadas corretamente as ideias representadas pelos conectivos destacados, **EXCETO** em:

- (A) "... causa-nos profunda decepção saber que, neste país, a impunidade é mais forte que a lei. **Ainda assim**, temos esperança de mudá-lo." → concessão
- (B) "... um rapaz de São Paulo pode namorar uma chinesa de Beijing **sem que** nenhum dos dois saia de casa." → condição
- (C) "Estamos em pleno naufrágio ou, **como** predisse Heidegger, caminhando por veredas perdidas." → conformidade
- (D) "O evento soa **mais** importante **que** a história e o detalhe sobrepuja a fundamentação." → comparação

QUESTÃO 39

Ingressamos na era da globalização. Graças às redes de computadores, um rapaz de São Paulo pode namorar uma chinesa de Beijing sem que nenhum dos dois saia de casa. Bilhões de dólares são eletronicamente transferidos de um país a outro no jogo da especulação, derivativo de ricos. Caem as fronteiras culturais e econômicas, afrouxam-se as políticas e morais. Prevalece o padrão do mais forte.

- I. Os termos destacados – “um rapaz de São Paulo”, “Bilhões de dólares” e “o padrão do mais forte” – desempenham mesma função sintática nas orações em que se encontram.
- II. O sujeito da 1ª oração do excerto, cujo elemento predicador é o verbo “ingressar”, é indeterminado.
- III. O termo “às redes de computadores”, preposicionado, completa verbo, portanto é objeto indireto deste.
- IV. “As políticas e morais são afrouxadas” seria a voz ativa correspondente à oração sublinhada.

Estão **CORRETAS** as afirmações contidas **apenas** em:

- (A) I e III.
 (B) I e IV.
 (C) II e III.
 (D) II e IV.

QUESTÃO 40

“A globalização tem sombras e luzes. Se de um lado aproxima povos e quebra barreiras de comunicação, de outro ela assume, nas esferas econômica e cultural, o caráter de **globocolonização**.”

O item lexical destacado:

- (A) é forma derivada dos itens “global” + “colonizar”.
- (B) é formado por composição, pois contém duas bases.
- (C) exemplifica caso de formação por derivação regressiva.
- (D) trata-se de um caso especial de formação, a derivação imprópria.

QUESTÃO 41

Com relação à acentuação gráfica dos itens destacados, avalie as afirmações e assinale a opção que traz uma asserção **INCORRETA**:

- (A) Assim como os itens “crítica” e “sétimo”, todas as demais que apresentarem tal tonicidade deverão receber acento gráfico.
- (B) Os itens lexicais “ruínas”, “saía” e “país” são acentuados pela mesma razão: a presença de vogal -I ou -U tônica num hiato, seguida ou não de -S.
- (C) Os vocábulos “cristã”, “não”, “são” e “evasão” recebem acento gráfico pela mesma razão: trata-se de oxítonas com vogal nasal no segmento final.
- (D) Os vocábulos “Rússia” e “delírio” recebem acento gráfico devido ao encontro vocálico presente em sua última sílaba.

Texto II**Razões da pós-modernidade**

Carlos Alberto Sanches, professor, perito e consultor em Redação – [31/03/2014
- 21h06]

Foi nos anos 60 que surgiu o que se chama de “pós-modernidade”, na abalizada opinião de Frederic Jameson, como “uma lógica cultural” do capitalismo tardio, filho bastardo do liberalismo dos séculos 18 e 19. O tema é controverso,

pois está associado a uma discussão sobre sua emergência funesta no pós-guerra. É que ocorre nesse período um profundo desencanto no homem contemporâneo, especialmente no que toca à diluição e abalo de seus valores axiológicos, como verdade, razão, legitimidade, universalidade, sujeito e progresso etc. Os sonhos se esvaneceram, juntamente com os valores e alicerces da vida: a “estética”, a “ética” e a “ciência”, e as repercussões que isso provocou na produção cultural: literatura, arte, filosofia, arquitetura, economia, moral etc.

Há, sem dúvida, uma crise cultural que desemboca, talvez, em uma crise de modernidade. Ou a constatação de que, rompida a modernidade, destrojada por guerras devastadoras, produto da “gaia ciência” libertadora, leva a outra ruptura: morreu a pós-modernidade e deixou órfã a cultura contemporânea?

Seria o caso de se falar em posteridade na pós-modernidade? Max Weber, já no início do século 19, menciona a chegada da modernidade trocada pela “racionalização intelectualista”, que produz o “desencanto do mundo”. Habermas o reinterpreta, dizendo que a civilização se desagrega, especialmente no que toca aos conceitos da verdade, da coerência das leis, da autenticidade do belo, ou seja, como questões de conhecimento...

Jean Francois Lyotard, em seu livro *A condição pós-moderna*, de 1979, enfoca a legitimação do conhecimento na cultura contemporânea. Para ele, “o pós-moderno enquanto condição de cultura, nesta era pós-industrial, é marcado pela incredulidade face ao metadiscurso filosófico – metafísico, com suas pretensões atemporais e universalizantes”. É como se disséssemos, fazendo coro, mais tarde, com John Lennon, que “o sonho acabou” (ego trip). A razão, como ponto nevrálgico da cultura moderna, não leva a nada, a não ser à certeza de que o racionalismo iluminista, que vai entronizar a ciência como uma mola propulsora para a criação de uma sociedade justa, valorizadora do indivíduo, vai apenas produzir o desencanto, via progresso e com as suas descobertas, cantadas em prosa e verso, que nos deixaram um legado brutal: as grandes tragédias do século 20: guerras atroz, a bomba atômica, crise ecológica, a corrida armamentista...

A frustração é enorme, porque o iluminismo afirmara que somente as luzes da razão poderiam colocar o homem como gerador de sua história. Mas tudo não passou de um sonho, um sonho de verão (parodiando Shakespeare). Habermas coloca nessa época, o século 18, o gatilho que vai acionar essa desilusão da pós-modernidade. A ciência prometia dar segurança ao homem e lhe deu mais desgraças. Entendamos aqui também a racionalidade (o primado da razão cartesiana)

como cúmplice dessa falcatrua da modernidade e, portanto, da atual pós-modernidade.

O mesmo filósofo fala em “desastre da modernidade”, um tipo de doença que produziu uma patologia social chamada de “império da ciência”, despótico e tirânico, que “digere” as esferas estético-expressivas e as religiosas-morais. Harvey põe o dedo na ferida ao dizer que o projeto do Iluminismo já era, na origem, uma “patranha”, na medida em que disparava um discurso redentor para o homem com as luzes da razão, em troca da lenta e gradual perda de sua liberdade.

A partir dos anos 50 e, ocorrido agora o definitivo desencanto com a ciência e suas tragédias (algumas delas), pode-se falar em um processo de sua desaceleração. O nosso futuro virou uma incerteza. A razão, além de não nos responder às grandes questões que prometeu responder, engendra novas e terríveis perguntas, que chegam até hoje, vagando sobre a incerteza de nossos precários destinos. Eu falaria, metaforicamente, do homem moderno acorrentado (o Prometeu) ao consumo desenfreado de coisas (*res*) para compensar suas frustrações e angústias. A vida se tornou absurda e difícil de ser vivida, face a esse “mal-estar” do homem ocidental. Daí surgem as grandes doenças psicossociais de hoje: a frustração, o relativismo e o niilismo, cujas sementes já estavam no bojo do Iluminismo, a face sinistra de sua moeda. Não há mais nenhuma certeza, porque a razão não foi capaz de dar ao homem alguns dos mais gratos dos bens: sua segurança e bem-estar. Não há mais certezas, apenas a percepção de que é preciso repensar criticamente a ciência, que nunca nos ofereceu um caminho para a felicidade, o que provoca um forte movimento de busca de liberdade. O mundo está sem ordem e valores, como disse Dostoiévski: “Se Deus não existe, tudo é permitido”.

A incerteza do mundo moderno e a impossibilidade de organizar nossas vidas levam Giddens a dizer que “não há nada de misterioso no surgimento dos fundamentalismos, a radicalização para as angústias do homem”. Restou-nos o refúgio nos grandes espetáculos, como os do Coliseu antigo: o pão e o circo, para preencher o vazio da vida.

Na sua esteira de satanização social, o capitalismo engendra, então, a sociedade de consumo, para levar o cidadão ao ópio do consumo (esquecer-se das desilusões) nas “estações orbitais” dos shoppings, ou templos das compras, onde os bens nos consomem e a produção, sempre crescente, implica a criação em massa (ou em série) de novos consumidores. Temos uma parafernália de bens, mas são em sua maioria coisas inúteis, que a razão / ciência nos deu; mas, em troca, sofremos dos males do século, entre eles a elisão de nossa individualidade.

Foi uma troca desvantajosa. É o que Campbell chama do sonho que gera o “signo-mercadoria”, que nos remete ao antigo sonho do Romantismo, da realização dos ideais.

Trocamos o orgasmo reprodutor instintivo pelo prazer lúdico-frenético de consumir, sem saber que somos consumidos. Gememos de prazer ao comprar, mas choramos de dor face à nossa solidão, cercados pela panaceia da ciência e da razão, que nos entope de placebos, mas não de remédios para a cura dos males dessa longínqua luz racional, que se acende lá no Iluminismo e que vem, sob outras formas, até hoje. A televisão nos anestesia com a estética da imagem. Para Baudrillard, ela é o nosso mundo, como o mundo saído da tela do grande filme *O Vidiota* (o alienado no mundo virtual da tevê), cujo magistral intérprete foi Peter Sellers.

Enquanto nos deleitamos com essa vida esquizofrênica e lúdica, deixamos na caixa do capitalismo tardio (iluminista / racional) o nosso mais precioso bem: a individualidade. Só nos sobrou a estética, segundo Jameson, ou a “colonização pela estética” que afeta diferentes aspectos da cultura, como a estética, a ética, a teórica, além da moral política.

A pós-modernidade talvez seja uma reação a esse quadro desolador. Bauman fala em pós-modernidade como a forma atual da modernidade longínqua. Já Giddens fala em modernidade tardia ou “modernidade radicalizada”: a cultura atual. Por certo que a atual discussão sobre o pós-moderno implica um processo de revisão e questionamento desse estado de coisas, em que o homem não passa de um *res nullius*, como as matronas romanas.

A cultura moderna, ou pós-modernista, não tem uma razão para produzir sua autocrítica, mas muitas razões, devido à sua prolongada irracionalidade do “modo de vida global”, segundo Jameson. O que se pode dizer é que não há uma razão, mas muitas razões para reordenar criticamente os descaminhos da pós-modernidade, sem esquecermos que a irracionalidade continua nos rondando.

<http://www.gazetadopovo.com.br/opinioao/artigos/razoes-da-pos-modernidade-8bs4bc7sv5e06z8trfk0pv80e>. Acesso em 21/01/18.

QUESTÃO 42

Discutindo uma mesma temática, há, como semelhanças entre os textos I (escrito por um teólogo) e II (escrito por um professor), os seguintes aspectos, **EXCETO**:

- (A) A constatação do adocimento humano face às incertezas e inseguranças decorrentes de um cotidiano que tanto desagregou os vínculos sociais quanto afetou a identidade individual.
- (B) A crítica à pós-modernidade, vista como centrada num cientificismo desumanizador e num consumismo exacerbado.
- (C) O recurso à intertextualidade, por meio de citações explícitas ou a alusões, como forma de dar maior credibilidade à argumentação.
- (D) O recurso a um registro formal, beirando ao hermético, calcado no predomínio do uso denotativo da língua.

QUESTÃO 43

Leia atentamente a tirinha de Mafalda, personagem de Quino que, há mais de 50 anos, traz à tona questões que estão na pauta das discussões em nossa sociedade. Nesta, em especial, o tema é afim ao tratado nos dois textos lidos.



Sobre ela, são feitas afirmações, a seguir, referentes tanto ao conteúdo quanto à forma do texto verbal. Assinale a afirmativa **INCORRETA**:

- (A) Frei Betto afirma que “A globalização tem sombras e luzes. Se de um lado aproxima povos e quebra barreiras de comunicação, de outro ela assume, nas esferas econômica e cultural, o caráter de globocolonização.” → Mafalda representa uma coletividade, e não uma menina singular, individualizada, de um determinado país. Embora mencione verbos na 3ª pessoa do singular, o modo imperativo abrange a todos e a cada um dos consumidores, de forma massificada.
- (B) Para Frei Betto, hoje somos impelidos “ao espiritualismo de consumo imediato, ao hedonismo consumista, em progressiva mimetização generalizada de hábitos e costumes.” → Na tirinha, isso é confirmado pela sequência de verbos no imperativo, que evidenciam a função conativa exercida pela mídia.
- (C) Para Sanches, “a televisão nos anestesia com a estética da imagem.” → Confirma-se plenamente essa afirmação no último quadrinho da tirinha, em que Mafalda demonstra ter consciência da manipulação exercida pela televisão.
- (D) Sanches afirma que “Enquanto nos deleitamos com essa vida esquizofrênica e lúdica, deixamos no caixa do capitalismo tardio (iluminista / racional) o nosso mais precioso bem: a individualidade.” → Essa afirmação é confirmada pelos questionamentos de Mafalda, nos três quadrinhos, em que reflete sobre um “nós”, e não sobre si mesma, um “eu” individualizado.

QUESTÃO 44

Atente para a **indicação de recursos estilísticos** utilizados pelo autor do texto II:

I – “A cultura moderna, ou pós-modernista, não tem uma razão para produzir sua autocrítica, mas muitas razões...”. → Metonímia

II – “Restou-nos o refúgio nos grandes espetáculos, como os do Coliseu antigo: o pão e o circo, para preencher o vazio da vida.” → Comparação

III – “A televisão nos anestesia com a estética da imagem. Para Baudrillard, ela é o nosso mundo.” → Metáfora

IV – “O tema é controverso, pois está associado a uma discussão sobre sua emergência funesta no pós-guerra.” → Hipérbato

Verifica-se que foram **corretamente indicadas** as figuras de linguagem presentes em:

- (A) I, II e III, apenas.
- (B) I, III e IV, apenas.
- (C) II, III e IV, apenas.
- (D) I, II, III e IV.

QUESTÃO 45

Com relação ao emprego dos pronomes destacados, nos contextos em que se encontram, assinale a afirmativa **INCORRETA**:

- (A) "... (esquecer-se das decepções) nas "estações orbitais" dos shoppings, ou templos das compras, **onde** os bens nos consomem e a produção, sempre crescente, implica a criação em massa (ou em série) de novos consumidores" → pronome relativo com semântica de "lugar em que"; pode ser substituído por "em que" ou "nos quais".
- (B) "Eu falaria, metaforicamente, do homem moderno acorrentado (o Prometeu) ao consumo desenfreado de coisas (*res*) para compensar **suas** frustrações e angústias." → pronome possessivo "suas"; tem como referente o substantivo plural "coisas".
- (C) "Foi nos anos 60 que surgiu **o que** se chama de "pós-modernidade", na abalizada opinião de Frederic Jameson.." → pronome relativo "que"; tem como antecedente o demonstrativo "o" equivalente a "aquilo".
- (D) "Restou-**nos** o refúgio nos grandes espetáculos, como os do Coliseu antigo: o pão e o circo, para preencher o vazio da vida." → pronome pessoal oblíquo; uso da 1ª pessoa do plural ("nós) funciona como estratégia que visa adesão à argumentação.

QUESTÃO 46

Sobre o emprego de aspas, atente para a informação a seguir:

Empregam-se as aspas no início e no final de uma citação textual. Ex.: Disse, em frase lapidar o grande Rui: "A Pátria não é ninguém: são todos; e cada qual tem no seio dela o mesmo direito à ideia, à palavra, à associação."

Colocamos, também, entre aspas palavras ou expressões que desejamos destacar. Ex.: Sim, ele foi o cantor da raça, o patriota, o humanista... Mas não esqueçamos de considerá-lo pela face mais verdadeira, o 'homem' sofredor, amante, revoltado..." (Fábio de Melo)

Entre aspas ficam os títulos de obras artísticas ou científicas. Ex.: "Os Lusíadas" cantam as glórias de Portugal. (...)

Finalmente, entre aspas colocamos as palavras ou expressões estrangeiras, arcaicas, de gíria, etc. Ex.: Os animais tinham indiscutível "pedigree". (...)

Analise as seguintes afirmativas, identificando-as com V ou F, conforme sejam verdadeiras ou falsas:

() Os sonhos se esvaneceram, juntamente com os valores e alicerces da vida: a “estética”, a “ética” e a “ciência”, e as repercussões que isso provocou na produção cultural: literatura, arte, filosofia, arquitetura, economia, moral etc. → Aspas destacando itens de forma irônica.

() O mundo está sem ordem e valores, como disse Dostoiévski: “Se Deus não existe, tudo é permitido”. → Aspas indicando citação textual.

() É o que Campbell chama do sonho que gera o “signo-mercadoria”, que nos remete ao antigo sonho do Romantismo, da realização dos ideais. → Aspas destacando uso de estrangeirismo.

() Na sua esteira de satanização social, o capitalismo engendra, então, a sociedade de consumo, para levar o cidadão ao ópio do consumo (esquecer-se das desilusões) nas “estações orbitais” dos shoppings, ou templos das compras... → Aspas deixam entrever ênfase ou menção irônica ao termo destacado.

() A cultura moderna, ou pós-modernista, não tem uma razão para produzir sua autocrítica, mas muitas razões, devido à sua prolongada irracionalidade do “modo de vida global”, segundo Jameson. → Aspas indicando expressão citada de outra fonte.

A sequência **CORRETA**, de cima para baixo, é:

- (A) V – V – V – F – F
- (B) V – F – F – V – F
- (C) F – V – F – V – V
- (D) F – F – V – F – V

QUESTÃO 47

Observe atentamente cada par de frases correlacionadas. **A segunda apresenta uma alteração / transformação** da primeira num aspecto indicado entre colchetes.

Assinale a opção em que a transformação gerou uma **construção incorreta** do ponto de vista da norma padrão:

- (A) Acende-se a luz racional lá no Iluminismo e vem até hoje.
[plural] → Acendem-se as luzes racionais lá no Iluminismo e vêm até hoje.
- (B) A pós-modernidade talvez seja uma reação a esse quadro desolador.
[pretérito imperfeito do subjuntivo] → A pós-modernidade talvez fosse uma reação a esse quadro desolador.
- (C) “Enquanto nos deleitamos com essa vida esquizofrênica e lúdica, deixamos no caixa do capitalismo tardio (iluminista / racional) o nosso mais precioso bem: a individualidade.”
[Futuro do subjuntivo + futuro do indicativo] → Enquanto nos deleitarmos com essa vida esquizofrênica e lúdica, deixaremos no caixa do capitalismo tardio (iluminista / racional) o nosso mais precioso bem: a individualidade.
- (D) Há, sem dúvida, grave crise cultural que desemboca em crise de modernidade.
[pretérito imperfeito + plural] → Haviam, sem dúvidas, graves crises culturais que desembocavam em crises de modernidade.

QUESTÃO 48

Atente para a semântica introduzida pelos conectivos (palavras ou locuções) destacados e assinale a afirmação **INCORRETA**:

- (A) “O mundo está sem ordem e valores, **como** disse Dostoiévski: “Se Deus não existe, tudo é permitido””. → Ideia de comparação.
- (B) “... as luzes da razão poderiam colocar o homem como gerador de sua história. **Mas** tudo não passou de um sonho, um sonho de verão (parodiando Shakespeare).” → ideia de adversidade.
- (C) “Restou-nos o refúgio nos grandes espetáculos, como os do Coliseu antigo: o pão e o circo, **para** preencher o vazio da vida.” → Ideia de finalidade.
- (D) “Harvey põe o dedo na ferida ao dizer que o projeto do Iluminismo já era, na origem, uma “patranha”, **na medida em que** disparava um discurso redentor para o homem com as luzes da razão, em troca da lenta e gradual perda de sua liberdade.” → Ideia de proporcionalidade.

QUESTÃO 49

Atente para o emprego dos pronomes pessoais oblíquos e a análise apresentada, na sequência. Assinale a opção que traz afirmação **INCORRETA**:

- (A) Enquanto nos deleitamos com essa esquizofrenia consumista, nós não enxergaremos **ela** e não **a** combateremos. → Emprego correto: ambos os pronomes pessoais complementam verbos transitivos – “enxergar” e “combater”, respectivamente.
- (B) Para **mim**, falar sobre pós-modernidade é difícil. Para **eu** discutir esse tema, terei de ler muito sobre ele. → Empregos corretos: pronome pessoal oblíquo funciona como complemento; o pronome reto, como sujeito.
- (C) A ciência prometia dar segurança ao homem, mas **lhe** deu mais desgraças e não **lhe** tranquilizou a existência. → Empregos corretos: o pronome oblíquo “lhe” funciona como complemento verbal, na primeira ocorrência, e como adjunto adnominal, na segunda.
- (D) A argumentação do professor Sanches **nos** faz sair da zona de conforto do individualismo e **nos** deixa refletir sobre a existência. → Emprego correto: pronome oblíquo “nos” funciona como sujeito dos verbos “sair” e “refletir”, após os causativos “fazer” e “deixar”.

QUESTÃO 50

Crase significa fusão de dois fonemas “a”, em circunstância marcada por uma exigência verbal ou nominal; é, portanto, fenômeno tanto fonológico quanto morfosintático. Sabe-se que há situações de crase obrigatória, outras em que o acento grave é considerado facultativo e, finalmente, casos em que sua presença é proibida.

Atente para as asserções sobre excertos do texto. A seguir, assinale a opção que traz a afirmativa **CORRETA**:

- (A) “A vida se tornou absurda e difícil de ser vivida, face a esse “mal-estar” do homem ocidental.”
→ Crase proibida. Haveria, porém, crase em: A vida se tornou absurda e difícil de ser vivida, face à face com esse “mal-estar” do homem ocidental.
- (B) “A pós-modernidade talvez seja uma reação a esse quadro desolador.”
→ Crase proibida. Haveria, porém, crase diante da forma feminina: A pós-modernidade talvez seja uma reação à essa grave situação.
- (C) “A razão, além de não nos responder às grandes questões que prometeu responder, engendra novas e terríveis perguntas, que chegam até hoje, vagando sobre a incerteza de nossos precários destinos.”
→ Crase proibida. Haveria, porém, crase obrigatória, se alterássemos a preposição para “... que chegam até hoje, vagando até à incerteza”.
- (D) “A cultura moderna, ou pós-modernista, não tem uma razão para produzir sua autocrítica, mas muitas razões, devido à sua prolongada irracionalidade do “modo de vida global” segundo Jameson”.
→ Crase facultativa. O autor poderia ter optado por não colocar crase antes do pronome possessivo: “... muitas razões, devido a sua prolongada irracionalidade”.

PROVA DE RACIOCÍNIO LÓGICO**QUESTÃO 51**

A tabela a seguir apresenta os resultados de uma pesquisa realizada por uma emissora de rádio com o objetivo de conhecer a preferência musical de seus ouvintes. Foram dadas três opções: Música Clássica (C), Música Sertaneja (S) e Música Popular Brasileira (MPB).

QUANTIDADE DE VOTOS	OPÇÕES REGISTRADAS
27	Gostam de S
34	Gostam de C
40	Gostam de MPB
16	Gostam de C e de S
12	Gostam de S e de MPB
14	Gostam de C e de MPB
6	Gostam de C, de S e de MPB
4	Não gostam de C, S, MPB

Considerando os dados dessa tabela, é **CORRETO** afirmar que:

- (A) 18 ouvintes gostam de Música Clássica e de Música Sertaneja.
- (B) 24 ouvintes gostam de Música Clássica e de Música Sertaneja.
- (C) 25 ouvintes não gostam de Música Clássica.
- (D) 42 ouvintes não gostam de Música Sertaneja.

QUESTÃO 52

Se os termos da Progressão Geométrica (a , b , c) são lados de um triângulo retângulo, então é **CORRETO** afirmar que a razão dessa Progressão Geométrica é um número

- (A) irracional.
- (B) múltiplo de 3.
- (C) natural.
- (D) racional.

QUESTÃO 53

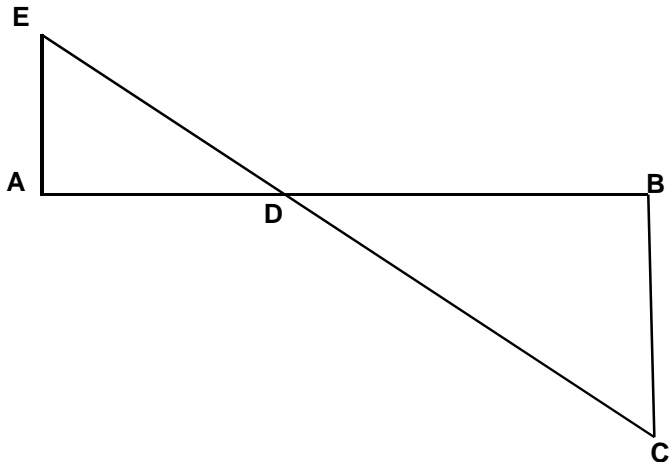
A sequência numérica representada por $(x+1, 2x, x^2 - 5)$ é uma Progressão Aritmética e seus termos expressam as medidas dos lados de um triângulo. Nessas condições, é **CORRETO** afirmar que o perímetro desse triângulo, em unidades de comprimento, é igual a

- (A) 6
- (B) 12
- (C) 18
- (D) 24

QUESTÃO 54

A figura a seguir se constitui de dois triângulos retângulos em A e B, sendo as medidas dos segmentos $AB = 3$, $AE = 700$ e $BC = 200$ unidades de comprimento. Nessas condições, é **CORRETO** afirmar que a medida do segmento DB , em unidades de comprimento, é igual a:

- (A) $\frac{2}{3}$
- (B) $\frac{5}{3}$
- (C) $\frac{7}{3}$
- (D) $\frac{4}{3}$



QUESTÃO 55

Os números inteiros x , y e z são tais que

$$x - 2y = 2z - 1; \quad z + x = y - 2 \quad \text{e} \quad 2x + y + 3z = 1.$$

Nessas condições, é **CORRETO** afirmar que:

- (A) x é maior que y .
- (B) x é menor que z .
- (C) x é simétrico de z .
- (D) x é simétrico de y .

QUESTÃO 56

Os sucessivos termos da sequência: (47, 42, 37, 33, 29, 26, x , y , z , w) são obtidos através de uma lei de formação. Obedecendo a essa lei, é **CORRETO** afirmar que o valor de $(x + y + z + w)$ é igual a:

- (A) 81
- (B) 97
- (C) 125
- (D) 159

QUESTÃO 57

Na tabela a seguir, o número que ocupa a extrema direita em cada uma de suas linhas é o resultado de operações efetuadas com os outros dois números da mesma linha. Se a sucessão de operações é a mesma em todas as linhas, então é **CORRETO** afirmar que o valor de **X** é igual a:

18	14	56
14	8	48
16	8	X

- (A) 18
- (B) 30
- (C) 42
- (D) 64

QUESTÃO 58

Analise os seguintes argumentos:

- I. Se estudasse todo o conteúdo, então seria aprovado em Estatística.
Fui reprovado em Estatística. Concluimos que não estudei todo o conteúdo.
- II. Todo estudante gosta de Geometria. Nenhum atleta é estudante. Concluimos que ninguém que goste de Geometria é atleta.
- III. Toda estrela possui luz própria. Nenhum planeta do sistema solar possui luz própria. Concluimos que nenhuma estrela é um planeta.

Considerando os argumentos I, II e III, é **CORRETO** afirmar que

- (A) apenas II é válido.
- (B) apenas I e III são válidos.
- (C) apenas II e III são válidos
- (D) I, II e III são válidos.

QUESTÃO 59

Duas proposições compostas são equivalentes se seus valores lógicos são iguais. Considerando que **p** e **q** são proposições lógicas, então é **CORRETO** afirmar que a proposição $(p \wedge \sim q)$ é equivalente a:

- (A) $\sim(p \rightarrow \sim q)$
- (B) $\sim(p \rightarrow q)$
- (C) $\sim(p \vee q)$
- (D) $\sim q \rightarrow \sim p$

QUESTÃO 60

Um terreno com uma área total equivalente a 1.296 m^2 foi dividido em três lotes. Se a área do primeiro lote corresponde a $\frac{4}{5}$ da área do segundo lote e a área do terceiro lote é igual à soma das outras áreas, então é **CORRETO** afirmar que a área do maior dos três lotes, **em metros quadrados**, corresponde a:

- (A) 574
- (B) 360
- (C) 648
- (D) 452

PROVA DE INGLÊS INTERMEDIÁRIO

READ THE FOLLOWING TEXT AND CHOOSE THE OPTION WHICH **BEST** COMPLETES EACH QUESTION ACCORDING TO IT:

Technology has created more jobs than it has destroyed

The battle between men and machines goes back centuries. Are they taking our jobs? Or are they easing our workload? A study by economists at the consultancy Deloitte seeks to shed new light on the relationship between jobs and the rise of technology by searching through census data for England and Wales going back to 1871.

Their conclusion is that, rather than destroying jobs, technology has been a “great job-creating machine”. Findings by Deloitte such as rise in bar staff since the 1950s or a surge in the number of hairdressers this century suggest to the authors that technology has increased spending power, therefore creating new demand and new jobs. Their study argues that the debate has been twisted towards the job-destroying effects of technological change, which are more easily observed than its creative aspects.

Going back over past figures paints a more balanced picture, say authors Ian Stewart and Alex Cole. “The dominant trend is of contracting employment in agriculture and manufacturing being more than balanced by rapid growth in the caring, creative, technology and business services sectors,” they write. “Machines will take on more repetitive and laborious tasks, but they seem no closer to eliminating the need for human labor than at any time in the last 150 years.”

According to the study, hard, dangerous and dull jobs have declined. In some sectors, technology has quite clearly cost jobs, but they question whether they are really jobs we would want to hold on to. Technology directly substitutes human muscle power and, in so doing, raises productivity and shrinks employment. “In the UK the first sector to feel this effect on any scale was agriculture,” says the study.

The study also found out that ‘caring’ jobs have increased. The report cites a “profound shift”, with labor switching from its historic role, as a source of raw power, to the care, education and provision of services to others.

Technological progress has cut the prices of essentials, such as food, and the price of bigger household items such as TVs and kitchen appliances, notes Stewart. That leaves more money to spend on leisure, and creates new demand and new jobs, which may explain the big rise in bar staff, he adds. “_____ the decline in the traditional pub, census data shows that the number of people employed in bars rose fourfold between 1951 and 2011,” the report says.

The Deloitte economists believe that rising incomes have allowed consumers to spend more on personal services, such as grooming. That in turn has driven employment of hairdressers. So, while in 1871 there was one hairdresser or barber for every 1,793 citizens of England and Wales; today there is one for every 287 people.

(Adapted from: <https://goo.gl/7V5vuw>. Access: 02/02/2018.)

QUESTÃO 61

What does the word **they** in “*Or are they easing our workload?*” (paragraph 1) refer to?

- (A) Centuries.
- (B) Jobs.
- (C) Machines.
- (D) Men.

QUESTÃO 62

The word **therefore** in “*therefore creating new demand and new jobs*” (paragraph 2) conveys an idea of

- (A) Conclusion.
- (B) Finality.
- (C) Place.
- (D) Time.

QUESTÃO 63

What has the study pointed out in relation to technological change?

- (A) That technological change must be studied by economists as well as researchers.
- (B) That the creative aspects of technological change are considered useless by scientists.
- (C) That the debate has usually emphasized the job-destroying aspects of technological change.
- (D) That the job-destroying effects of technological change are ignored by most people.

QUESTÃO 64

What is the relation between machines and human labor, according to the authors of the study?

- (A) Human labor should not change in the next 150 years.
- (B) Human labor tends to disappear in the next 150 years.
- (C) Machines are closer to abolishing the need for human labor.
- (D) Machines tend to assume more monotonous and arduous tasks.

QUESTÃO 65

When it comes to job losses, what is the authors' conclusion?

- (A) That job losses are irrelevant for a significant part of society.
- (B) That job losses are not related to people's spending power.
- (C) That technology has no influence on job losses whatsoever.
- (D) That technology is responsible for job losses in some areas.

QUESTÃO 66

What has been changing in the role of labor because of technological progress?

- (A) It has become more difficult than it used to be.
- (B) It has more disadvantages than advantages to people.
- (C) It has more emphasis on providing services to people.
- (D) It has turned out to be a source of raw power.

QUESTÃO 67

What is one of the consequences of technological progress pointed by the study?

- (A) It creates new demand and new jobs.
- (B) It has made food more expensive.
- (C) There are less jobs and careers.
- (D) There is no money to spend on leisure.

QUESTÃO 68

The use of the modal verb **may** in “*which may explain the big rise in bar staff*” (paragraph 6) indicates that

- (A) It is mandatory to explain the big rise in bar staff.
- (B) It is necessary to explain the big rise in bar staff.
- (C) It is permitted to explain the big rise in bar staff.
- (D) It is possible to explain the big rise in bar staff.

QUESTÃO 69

The best word to complete this sentence “_____ *the decline in the traditional pub...*” (paragraph 6) is

- (A) But.
- (B) Despite.
- (C) And.
- (D) Because.

QUESTÃO 70

By reading this text we can conclude that

- (A) Personal services are not significant to economic studies.
- (B) Technology has been changing the way humans relate to labor.
- (C) The battle between men and machines is meaningless.
- (D) The so called ‘caring jobs’ tend to disappear in the future.

CONCURSO PÚBLICO

**CEMIG
EDITAL 03/2017**

PARA VOCÊ DESTACAR E CONFERIR O SEU GABARITO.

01	
02	
03	
04	
05	
06	
07	
08	
09	
10	
11	
12	
13	
14	

15	
16	
17	
18	
19	
20	
21	
22	
23	
24	
25	
26	
27	
28	

29	
30	
31	
32	
33	
34	
35	
36	
37	
38	
39	
40	
41	
42	

43	
44	
45	
46	
47	
48	
49	
50	
51	
52	
53	
54	
55	
56	

57	
58	
59	
60	
61	
62	
63	
64	
65	
66	
67	
68	
69	
70	

