



PREFEITURA MUNICIPAL DE JUAZEIRO DO NORTE – CE

CONCURSO PÚBLICO – EDITAL 001/2019

ENFERMEIRO PLANTONISTA CAPS AD

NOME DO CANDIDATO: _____

RG: _____ ÓRGÃO EXPEDIDOR: _____

Nº DE INSCRIÇÃO

--	--	--	--	--	--	--	--

ASSINATURA: _____

LEIA COM ATENÇÃO E SIGA RIGOROSAMENTE ESTAS INSTRUÇÕES:

1. Este caderno contém 60 (sessenta) questões de múltipla escolha, numeradas de 1 (um) a 60 (sessenta).
2. Cada uma das questões apresenta um enunciado seguido de 5 (cinco) alternativas, das quais somente uma deve ser assinalada.
3. Examine se a prova está completa com a sequência numérica das questões, se há falhas ou imperfeições gráficas que causem dúvidas. Qualquer reclamação deverá ser feita durante os 20 minutos iniciais. Após esse tempo, qualquer reclamação será desconsiderada.
4. Depois de decorridas 2 (duas) horas do início da prova, será distribuído o cartão-resposta, o qual será o único documento válido para a correção. Ao recebê-lo, verifique se seu nome e seu número de inscrição estão corretos. Reclame imediatamente se houver discrepância.
5. A folha de respostas não pode ser dobrada, amassada, rasurada ou manchada. Exceto escrever uma frase com 5 (cinco) palavras no local pré-determinado, nada deve ser escrito ou registrado fora dos locais destinados às respostas. Tenha muita atenção ao marcar sua folha de respostas, pois não haverá substituição por erro do candidato. Marque sua resposta pintando completamente o espaço correspondente à alternativa de sua opção.

Ex.: A B C D E
6. A leitora de marcas não registrará as respostas em que houver falta de nitidez, uso de corretivo, marcação a lápis ou marcação de mais de uma letra. Não serão computadas questões não assinaladas.
7. Durante a prova, é proibido o intercâmbio e o empréstimo de material de qualquer natureza entre os candidatos. A tentativa de fraude, a indisciplina e o desrespeito às autoridades encarregadas dos trabalhos são faltas que implicarão a desclassificação do candidato.
8. Qualquer forma de comunicação entre candidatos implicará a eliminação de ambos do certame.
9. Não será permitido ao candidato, durante a realização das provas, portar armas, aparelhos eletrônicos de qualquer natureza, relógios, bolsas, livros, jornais e impressos em geral; bonés, chapéus, lenço de cabelo, bandanas etc.
10. É vedado o uso de telefone celular ou de qualquer outro meio de comunicação. O candidato que for flagrado portando aparelho celular ou qualquer outro meio de comunicação, durante o período de realização da prova, e/ou o aparelho celular tocar será sumariamente eliminado do certame.
11. Em caso de dúvida, durante a prova, levante o braço para solicitar atendimento da fiscalização. Jamais pergunte em voz alta.
12. Ao terminar a resolução da prova, entregue-a ao fiscal de sala juntamente com **a folha de respostas**. Não se esqueça de **assinar a folha de frequência**.
13. O candidato que permanecer na sala de provas, por mais de 3h30min, poderá levar consigo o caderno de provas, fornecido pela **ORGANIZADORA**.
14. As provas terão duração de 4 (quatro) horas com início às 08h e término às 12h. O candidato só poderá ausentar-se da sala depois de decorridas duas horas do início das provas.
15. Os **Gabaritos Preliminares das Provas Objetivas** serão divulgados 72 (setenta e duas) horas após a realização das mesmas.

RASCUNHO

CONHECIMENTOS GERAIS

Leia o texto para responder às questões 1 a 10.

Soneto

Aquela triste e leda madrugada,
cheia toda de mágoa e piedade,
enquanto houver no mundo saudade,
quero que seja sempre celebrada.

Ela só, quando amena e marchetada
saía, dando ao mundo claridade,
viu apartar-se duma outra vontade,
que nunca poderá ser apartada.

Ela só viu as lágrimas em fio,
que duns e doutros olhos derivadas,
se acrescentaram em grande largo rio.

Ela viu as palavras magoadas
que puderam tornar o fogo frio,
e dar descanso às almas condenadas.

Luís Vaz de Camões.

Com base no texto e em seus conhecimentos, responda às questões a seguir.

1. O soneto trata de uma dor. É a dor de um(a)

- a) ausência de viagem.
- b) desencontro fortuito.
- c) prejuízo financeiro.
- d) separação amorosa.
- e) conversa interrompida.

2. A dor de que fala o soneto está descrita nos versos

- a) 1/2.
- b) 3/4.
- c) 5/6.
- d) 7/8.
- e) 12/13.

3. O sentido de fogo no texto é o de um(a)

- a) fogueira muito grande.
- b) brasa fumegante.
- c) simples elemento da natureza.
- d) grande paixão amorosa.
- e) imensa dor

4. No primeiro verso, a figura nele existente é chamada

- a) catacrese.
- b) eufemismo.
- c) antítese.
- d) hipérbole.
- e) metonímia.

5. Quando o autor fala da madrugada, percebe-se aí que há uma

- a) ironia.
- b) alusão.
- c) simpatia.
- d) personificação.
- e) revolta.

6. A repetição do pronome ela no início das três últimas estrofes constitui uma

- a) anáfora.
- b) onomatopéia.
- c) metonímia.
- d) eclipse.
- e) hipérbato.

7. A expressão [...] às almas condenadas exerce a função sintática de

- a) adjunto adnominal.
- b) adjunto adverbial.
- c) complemento nominal.

- d) objeto direto.
- e) objeto indireto.

8. Ela, nas três últimas estrofes, é sujeito e refere-se à

- a) claridade.
- b) vontade.
- c) madrugada.
- d) saudade.
- e) piedade.

9. No primeiro quarteto, é CORRETO afirmar que existe(m)

- a) dois períodos simples.
- b) um objeto direto oracional.
- c) um pronome relativo.
- d) uma oração coordenada adversativa.
- e) objeto indireto.

10. Está CORRETA a análise sintática de um dos trechos extraídos do soneto

- a) ... enquanto houver no mundo saudade, – oração coordenada adversativa.
- b) ... quero que seja sempre lembrada. – oração principal.
- c) ... que puderam tornar o fogo frio – oração subordinada adjetiva.
- d) ... as palavras magoadas – sujeito simples.
- e) .. que nunca poderá ser apartada – oração subordinada substantiva

11. Há vocábulos da Língua Portuguesa que podem ser escritos com ou sem acento gráfico sem mudança de sentido. Assinale a alternativa em que não pode ocorrer esta duplicidade.

- a) Boêmia / boemia.
- b) Ômega / omega.
- c) Rúbrica / rubrica.
- d) Hieróglifo / hieroglifo.
- e) Ortoépia / ortoepia.

12. Só em uma alternativa, todos os vocábulos estão acentuados corretamente. Assinale-a.

- a) Feiúra / epopéia / saúde.
- b) Projétil / interim / vôo.
- c) Tórax / álcool / mártir.
- d) Cárie / júnior / gratuito.
- e) Nóbél / íbero / fortuíto.

13. Não há antonímia em

- a) Declive / aclave.
- b) Medroso / intemerato.
- c) Inópia / abundância.
- d) Soberba / humildade.
- e) Ratificar / vetar.

14. Está CORRETA a classificação morfológica dos vocábulos retirados do texto.

- a) ... enquanto (v. 3) – advérbio de dúvida.
- b) ... que (v. 4) – pronome relativo.
- c) ... quando (v. 5) – conjunção temporal.
- d) ... que (v. 8) – conjunção integrante.
- e) ... só (v. 9) – pronome demonstrativo.

15. Está INCORRETA a afirmação sobre verbo.

- a) Haver e ir são verbos regulares; reaver e precaver-se, anômalos.
- b) Os tempos compostos são formados com os verbos ter e haver.
- c) Existem dois tipos de voz passiva: a analítica e a sintética.
- d) Voz passiva e passividade não devem ser confundidas.
- e) As vozes verbais são: ativa, passiva e reflexiva.

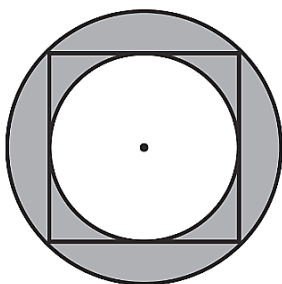
16. Está INCORRETA a conjugação verbal em

- Certos motoristas só freiam em cima do obstáculo.
- O juiz medeia as discussões.
- Os manifestantes incendiam os ônibus.
- Nós receamos viajar de avião.
- Minha irmã nunca se maquia.

17. Fiz um teste com meu carro para saber se o marcador de combustível estava informando uma leitura correta. Quando o marcador indicava $\frac{1}{4}$ (um quarto), eu fui ao posto de combustível e completei o tanque inserindo 40 litros de gasolina. O manual do veículo dizia que o tanque é de 50 litros, então pude concluir que

- o marcador mostra o volume correto.
- está indicando menos combustível do que deveria mostrar.
- está indicando o dobro de combustível do que deveria mostrar.
- está indicando a metade de combustível do que deveria mostrar.
- está indicando mais combustível do que deveria mostrar.

18. Na figura a seguir, o quadrado tem lado igual a 4cm.



Qual é o valor da área destacada em cinza?

- $2\pi \text{ cm}^2$.
- 4 cm^2 .
- $4\pi \text{ cm}^2$.
- $8\pi \text{ cm}^2$.
- 8 cm^2 .

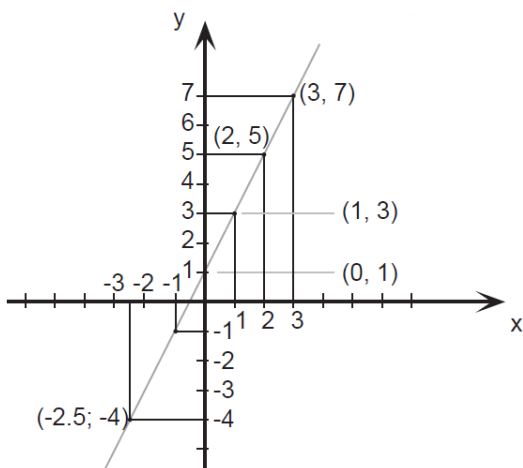
19. O valor de uma bola que eu quero comprar é representado pelo produto das raízes da equação

$$x^2 - 9x + 20 = 0$$

Logo o valor da bola é

- 10.
- 20.
- 30.
- 40.
- 50.

20. Esse é o gráfico representa alguns pontos e um segmento traçado da função $f(x) = 2x + 1$. Julgue as afirmações a seguir.



Assinale a alternativa CORRETA.

A: $f(x)$ é uma função crescente.

B: $f(x)$ é uma função par.

C: $f(0) = 0$.

- A – verdadeira / B – falsa / C – verdadeira.
- A – verdadeira / B – falsa / C – falsa.
- A – falsa / B – falsa / C – falsa.
- A – verdadeira / B – verdadeira / C – falsa.
- A – verdadeira / B – verdadeira / C – verdadeira.

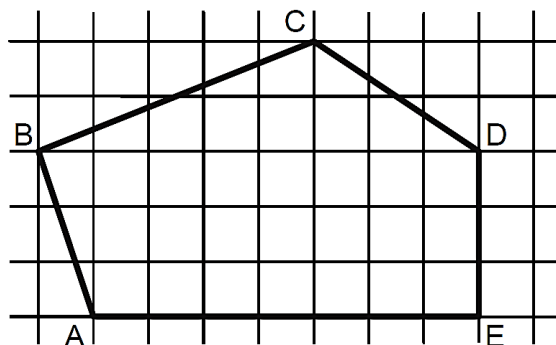
21. Seja $A = \left(1 + \frac{r}{n}\right)^n$. Se o valor de $r = 2$ e $n = 4$, essa expressão vale

- 4.
- 4,5.
- 2,25.
- 9.
- 1,5.

22. Uma indústria farmacêutica desenvolveu um novo remédio líquido o qual irá vender em frascos com capacidade de 16 mililitros cada. Para embalar 800 litros desse novo remédio, o número mínimo de frascos necessários é

- 50.000.
- 15.000.
- 500.000.
- 5.000.
- 100.000.

23. Sabendo que a área de cada quadrado formado pelas linhas finas é igual a 2m^2 , qual é a área do polígono ABCDE destacado pelas linhas grossas?



- 60m^2 .
- 32m^2 .
- 56m^2 .
- 51m^2 .
- 61m^2 .

24. Um clube com 180 sócios está elegendo o novo presidente por meio de votação. São apenas dois candidatos: candidato A e Candidato B. No momento, o candidato A possui $\frac{1}{4}$ dos votos e o candidato B $\frac{2}{5}$. Se todos os votos restantes forem para o candidato A, e se nenhum sócio deixar de votar, então ele será eleito com uma quantidade de votos a mais que o candidato B igual a

- 36.
- 12.
- 50.
- 77.
- 72.

25. Sabe-se que $1.000 \text{ litros} = 1 \text{ m}^3$. Então qual é o volume de água de uma caixa d'água de base retangular de $0,5\text{m}$ por $1,2\text{m}$ e altura de 2m ?

- 1500 litros.
- 1200 litros.
- 2400 litros.
- 1000 litros.
- 1400 litros.

26. Três plantações de cana-de-açúcar são pulverizadas por 3 aviões diferentes em horários, também, diferentes. O primeiro avião pulveriza de 4 em 4 horas, o segundo, de 5 em 5 horas e o terceiro de 7 em 7 horas. Todos decolaram no mesmo horário. Quantas horas depois eles decolarão juntos pela 3ª vez?

- 280 horas.
- 140 horas.
- 420 horas.
- 70 horas.
- 200 horas.

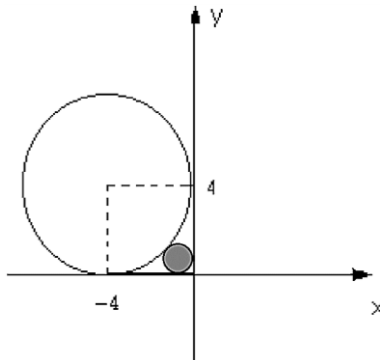
27. Quatro funcionários de uma empresa são capazes de atender, em média, 35 pessoas por hora. Diante disso, espera-se que sete funcionários, com a mesma capacidade operacional dos primeiros, sejam capazes de atender, por hora, uma média de

- 18.
- 36.
- 12.
- 20.
- 42.

28. Em uma eleição, à qual concorriam três candidatos, votaram 1.500 eleitores. O candidato A obteve 376 votos, o B, 645 votos e o C 299 votos. A porcentagem de votos brancos ou nulos foi de

- 12%.
- 10%.
- 15%.
- 18%.
- 22%.

29. Qual expressão representa a área do círculo, destacado em cinza, da figura a seguir? Obs: O círculo destacado tangencia os eixos e a circunferência maior.



- $\pi(2(\sqrt{2}))^2$.
- $\pi(4(\sqrt{2}-1))^2$.
- $\pi(2(\sqrt{2}-1))^{1/2}$.
- $\pi(2(\sqrt{2}-2))^2$.
- $\pi(2(\sqrt{2}-1))^2$.

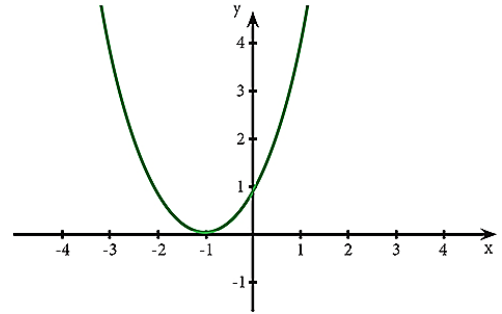
30. Reduzindo a expressão numérica $\frac{25}{\sqrt{3}} - \frac{5}{2\sqrt{3}} + \frac{10}{4\sqrt{3}}$ obtemos o valor.

- $\frac{5}{\sqrt{3}}$.
- $\frac{25}{3}$.
- $\frac{100}{\sqrt{3}}$.
- $\frac{20}{\sqrt{3}}$.
- $\frac{90}{\sqrt{3}}$.

31. Saíram, de Fortaleza para Juazeiro do Norte, três ônibus, simultaneamente transportando 138 passageiros. Sabe-se que no primeiro ônibus viajaram 9 passageiros a mais do que no segundo e, neste, 3 passageiros a menos que no terceiro. Nessas condições, é correto afirmar que o número de passageiros transportados em um dos ônibus é

- 45.
- 40.
- 38.
- 30.
- 35.

32. Para o gráfico de uma equação de segundo grau a seguir, assinale a afirmação verdadeira relativo ao seu valor de delta Δ .



- $\Delta =$ indeterminado.
- $\Delta = 1$.
- $\Delta < 0$.
- $\Delta = 0$.
- $\Delta > 0$.

33. A produção, conservação e transmissão da cultura popular é o objetivo principal dos Mestres da Cultura no Ceará. Em Juazeiro do Norte encontram-se entre alguns de seus representantes e suas respectivas atividades:

- Mestre Pedro Bandeira representou Juazeiro em 2017 com as atividades de cantoria, repente e atividade de cordel.
- Mestre Tico no ano de 2015 tornou-se Mestre da Cultura com reisado.
- Mestre Geraldo Ramos foi considerado Mestre da Cultura com a atividade artesanato de relojoaria de torre, coluna e sinos de igreja.
- Mestre Maurício Flandeiro destacou-se em 2010 na arte de trabalhar com flandres.

Marque a opção que apresenta as afirmativas CORRETAS.

- I – II – III – IV.
- II – III – IV.
- I – II.
- I – III – IV.
- I – II – IV.

34. A Secretaria da Cultura do Estado do Ceará (Secult) Com o Edital do Tesouros Vivos da Cultura 2018, contemplou 11 (onze) novos Mestres e Mestras da Cultura. Entre eles são de Juazeiro do Norte

- Francisco Gildamir de Sousa Chagas, Edite Dias de Oliveira Silva e José Maria Pereira dos Santos.
- Adrião Sisnando de Araújo, Antônio Ferreira Evangelista e Expedito Antonio do Nascimento.
- Maria Josefa da Conceição, Raimunda Rodrigues Teixeira e João Pedro de Carvalho Neto.
- Francisco Alves de Freitas, Aécio Rodrigues de Oliveira e Antônio Ferreira Evangelista.
- Edite Dias de Oliveira Silva, Adrião Sisnando de Araújo e João Pedro de Carvalho Neto.

35. Sobre a emancipação política de Juazeiro do Norte, analise as afirmativas a seguir.

- I. Uma das causas que contribuiu para a emancipação de Juazeiro do Norte da condição de distrito do Crato foi a popularidade de Padre Cícero e o grande contingente de viajantes que o religioso atraía. Tal fato se intensificou após o chamado “Milagre” de Juazeiro que acirrou ainda mais a rivalidade com o Crato que temia perder sua hegemonia no vale do Cariri.
- II. Apesar da forte influência religiosa, Padre Cícero Romão Batista não teve uma forte atuação nos movimentos de emancipação de Juazeiro, temendo criar rixas com os oligarcas do Crato com os quais tinha uma boa relação.
- III. Após a emancipação de Juazeiro em 1911, Padre Cícero tornou-se intendente de Juazeiro, manobra que buscava apaziguar os conflitos entre coronéis do Crato e de Juazeiro.

Marque a opção que indica a(s) afirmativa(s) CORRETA(S).

- a) I.
- b) II.
- c) I – II – III.
- d) I – II.
- e) I – III.

36. As Cidades de Quixadá e Juazeiro do Norte estão respectivamente localizadas a que posição cartográfica da cidade de Fortaleza?

- a) Sul / sul.
- b) Leste / norte.
- c) Sudeste / sul.
- d) Norte / sudeste.
- e) Sul / sudeste.

37. Leia o texto a seguir.

“Penso que, se formos realistas, somos capazes de chegar a um acordo sobre a primeira etapa dessas negociações, o tratado sobre o Brexit, dentro de seis a oito semanas”, disse Barnier numa conferência na Eslovênia. “O Reino Unido decidiu sair em março do próximo ano”, 29 de março, referiu. “Tendo em conta o processo de ratificação da Câmara dos Comuns por um lado, do Parlamento Europeu e do Conselho por outro, devemos chegar a um acordo antes do princípio de novembro. Penso que é possível”, acrescentou. O objetivo inicial das negociações era chegar a um acordo antes da Cimeira europeia de 18 de outubro em Bruxelas, ou seja, dentro de menos de seis semanas. A principal questão por resolver nas negociações é a da fronteira entre a província britânica da Irlanda do Norte e a República da Irlanda, membro da UE. Observadores admitem que, na Cimeira prevista para 20 de setembro em Salzburgo, na Áustria, os líderes europeus anunciem uma Cimeira extraordinária sobre o Brexit para novembro.

(Extraído de <https://24.sapo.pt/atualidade/artigos/uniao-europeia-considera-realista-acordo-para-o-brexit-dentro-de-seis-a-oito-semanas>)

Segundo o texto, podemos depreender que os(a)

- a) blocos econômicos não possuem nenhum tipo de conflito político.
- b) União Europeia apenas se preocupa com ideais da Inglaterra e Alemanha.
- c) conflitos espaciais e econômicos continuam, mesmo na implantação de blocos econômicos.
- d) saída do Reino Unido exclusivamente deve-se à xenofobia, característica de países mais desenvolvidos.
- e) pressão dos EUA fez com que o Reino Unido saísse da União Europeia pela falta de competitividade econômica.

38. Sobre a estimativa da população em 2018 que foi divulgada pelo Instituto Brasileiro de Geografia e Estatística (IBGE), Fortaleza destacou-se como a 6ª Região Metropolitana mais populosa do Brasil, com 4.074.730 milhões de habitantes. A líder da lista é São Paulo com 21.571.281 milhões. Fortaleza tem a maior Região Metropolitana do Nordeste à frente de Recife (PE) e Salvador (BA).

Segundo o texto, a Cidade de Fortaleza é uma das maiores cidades, em população, do Brasil. Neste quesito, quais fatores demográficos podem ser associados?

- a) Proximidade do litoral, favorecendo o maior aproveitamento da cidade devido aos ventos e à pluviometria.
- b) A forte migração do século XX, resultante principalmente da rápida urbanização e do êxodo rural.
- c) Pela industrialização e a urbanização rápidas que favorecera maior número de empregos na RMF para populações que possuíam exclusivamente ensinos mais avançados.
- d) Pela RMF ser uma das metrópoles mais avançadas do Planeta, sendo, assim, atrator de vários migrantes de vários países.
- e) Pelas políticas públicas que obrigavam vários interioranos a morarem em Fortaleza.

39. Leia as afirmativas a seguir.

- I. A Ética constitui o momento objetivo da vivência e da experiência dos valores. Consiste, assim, no conjunto de valores que são criados por determinada sociedade.

NESSE SENTIDO:

- II. A moral expressaria o momento subjetivo de um comportamento ético; moral seria a capacidade do indivíduo de formular suas próprias opiniões e pautas de comportamento (com base nos valores éticos estabelecidos) e optar por aquele que considerar mais correto e justo.

Marque a opção que apresenta a afirmativa CORRETA.

- a) A afirmativa I é correta e a afirmativa II é incorreta.
- b) A afirmativa I é incorreta e a afirmativa II é correta.
- c) Ambas as afirmativas I e II estão incorretas.
- d) As afirmativas I e II estão corretas e entre elas há uma relação de complementariedade.
- e) As afirmativas I e II estão corretas, mas a II afirmativa não estabelece nenhuma relação com a I afirmativa.

40. São características da Ética e da Moral.

- I. A Ética, em sua dimensão teórica, não é uma prescrição de princípios definidos abstratamente. Seu conteúdo é a prática ético-moral dos homens.
- II. A Ética é a referência valorativa que estabelece os parâmetros das relações dos indivíduos com a sociedade.
- III. A reflexão ética é construída, historicamente, no âmbito da Filosofia, tendo por objeto a moral.
- IV. A moral tem sua gênese na capacidade ética de criar valores que servem de referência à conduta dos indivíduos em sua convivência social.
- V. Todo ato moral supõe uma relação moral com o outro, com os grupos ou com a comunidade.

Marque a opção que apresenta as afirmativas CORRETAS.

- a) I – II – III.
- b) II – III – IV.
- c) I – II – III – V.
- d) I – III – IV.
- e) I – II – III – IV – V.

CONHECIMENTOS ESPECÍFICOS

41. O exame psíquico é uma ferramenta de análise que se processa mediante informações coletadas na entrevista e/ou história de vida, associada a expressões verbais e não verbais e à observação do comportamento do indivíduo. Com relação à sensopercepção, analise as afirmativas a seguir, e marque (V) para as VERDADEIRAS e (F) para as FALSAS.

- () Nas ilusões, ocorre uma percepção clara e nítida de um estímulo sensorial.
- () Nas ilusões, os estímulos sensoriais são interpretados de maneira clara e real.
- () Na alucinação, as percepções são experimentadas na presença de estímulo sensorial.
- () Alucinações auditivas podem ter diferentes formas, como zumbido, murmúrios, uma ou várias vozes falando ao mesmo tempo.

Marque a opção que apresenta a sequência CORRETA.

- a) V – F – V – V.
- b) V – V – V – V.
- c) V – V – F – F.
- d) F – F – F – V.
- e) F – V – F – F.

42. Com relação aos psicofármacos, assinale a alternativa INCORRETA.

- a) Valproato de Sódio e Carbonato de Lítio são classificados como estabilizadores do humor.
- b) Olanzapina, Clozapina e Mirtazapina são classificadas como antipsicóticos.
- c) Lamotrigina é um estabilizador do humor.
- d) Haloperidol IM é comumente usado para tranquilização rápida em situações de crise e emergências psiquiátricas.
- e) Fluoxetina e Escitalopram pertencem a classe dos antidepressivos inibidores seletivos da receptação de serotonina.

43. Uma gestante que apresentou a data da última menstruação em 27/01/2019, pela regra Naegele, assinale a alternativa que representa a data provável do parto (DPP).

- a) 03/09/2019.
- b) 02/10/2019.
- c) 03/11/2019.
- d) 02/11/2019.
- e) 03/10/2019.

44. No fim do ano de 2018, foram confirmados 10.262 casos de sarampo no Brasil. Atualmente o País enfrenta surtos de sarampo, principalmente na Região Norte, onde só no Estado do Amazonas foram 9.772 casos confirmados.

(Fonte: Ministério da Saúde, 12 de dezembro de 2018).

Sobre o sarampo, assinale a alternativa INCORRETA.

- a) Como medida de isolamento, são aplicadas as precauções padrão e aerossóis.
- b) Em relação à vacinação, trata-se de vacina atenuada, contendo vírus inativos “enfraquecidos” do sarampo, da rubéola e da caxumba.
- c) A via de aplicação da vacina é subcutânea.
- d) Vacinas contra o sarampo são contraindicadas na gestação.
- e) Em relação à vacinação, trata-se de vacina atenuada, contendo vírus vivos “enfraquecidos” do sarampo, da rubéola e da caxumba.

45. A respeito da esquizofrenia, relacione a coluna B com a coluna A.**COLUNA A**

- I. Paranoide.
- II. Hebefrênica.
- III. Catatônica.
- IV. Residual.
- V. Simples.

COLUNA B

- () Caracteriza-se pela perturbação dos afetos, sendo o mesmo, superficial e inapropriado.
- () Caracteriza-se pela presença de delírios e alucinações.
- () Caracteriza-se pela presença de distúrbios psicomotores que podem alternar entre extremos, estando associados a maneirismos estereotípicos e flexibilidade cêrea.
- () Caracteriza-se pela ocorrência insidiosa e progressiva da excentricidade do comportamento e incapacidade de responder às exigências da sociedade. diminuição da volição.
- () Caracteriza-se por se tratar de quadros mais crônicos da doença, apresentando sintomas como embotamento, retraimento social, frouxidão de laços associativos, pensamento ilógico, pouca comunicação.

Assinale a alternativa que apresenta a sequência CORRETA.

- a) II – I – III – V – IV.
- b) II – I – III – IV – V.
- c) III – I – II – IV – V.
- d) IV – I – II – III – V.
- e) III – II – I – V – IV.

46. Qual dos sintomas a seguir caracteriza o comportamento de uma pessoa em fase aguda de mania?

- a) Aceleração psicomotora e inibição social.
- b) Repetição de hábitos, como tomar banho várias vezes ao dia.
- c) Lentidão psicomotora e isolamento social.
- d) Aceleração do pensamento e baixo limiar da frustração.
- e) Desinibição social e purgação.

47. Leia a assertiva a seguir.

Os transtornos de personalidade compreendem diversos estados e tipos de comportamento clinicamente significativos que tendem a persistir e são a expressão característica da maneira de viver do indivíduo e de seu modo de estabelecer relações consigo próprio e com os outros. Alguns destes estados e tipos de comportamento aparecem precocemente durante o desenvolvimento individual sob a influência conjunta de fatores constitucionais e sociais; enquanto outros são adquiridos mais tardiamente durante a vida.

Com base nesta afirmativa assinale a alternativa CORRETA. O transtorno de personalidade

- a) antissocial compreende o afastamento de contatos afetivos, sociais e outros, com uma preferência por fantasia, atividades solitárias e introspecção.
- b) histriônico caracteriza-se pelas perturbações da autoimagem, sentimentos crônicos de vazio, relacionamentos instáveis, tendências autodestrutivas e dramatizadas.
- c) borderline caracteriza-se pelas perturbações da autoimagem, sentimentos crônicos de vazio, relacionamentos instáveis, tendências autodestrutivas.
- d) antissocial caracteriza-se pelos desrespeitos às regras, baixa tolerância à frustração e sensibilidade pelos sentimentos alheios.
- e) Tanto o histriônico quanto o borderline são caracterizados pela falta de empatia e sensibilização, levando às pessoas que possuem esse transtorno, provocarem comportamentos de automutilação e praticarem tentativas de suicídio vagas.

48. Com relação às emergências psiquiátricas, é CORRETO afirmar que

- a) a agitação psicomotora corresponde à situação de emergência menos comum na psiquiatria, porém é a que mais expõe os profissionais de saúde a quadros de heteroagressividade por parte do paciente.
- b) o quadro de agitação psicomotora deve ser tratado com pequenas doses de diazepam, associado a haloperidol e prometazina IM, independentemente da etiologia do quadro apresentado.
- c) a tentativa de suicídio constitui uma situação de emergência, o indivíduo não apresenta real intenção de morrer, mas seu ato, uma busca por ajuda.
- d) no surto psicótico, é fundamental descartar a existência de condições clínicas gerais, assim como descartar o uso de substâncias psicoativas que possam justificar o quadro psiquiátrico.
- e) síndrome de abstinência alcoólica é um quadro caracterizado pela continuidade e pelo seu uso crônico do álcool, provocando sintomas como tremores, agitação, convulsão, alucinações, podendo levar a morte.

49. A desinstitucionalização e a efetiva reintegração de doentes mentais graves na comunidade são uma tarefa a que o SUS vem se dedicando com especial empenho nos últimos anos. Juntamente com os programas De Volta Para Casa e Programa de Reestruturação dos Hospitais Psiquiátricos, o Serviço Residencial Terapêutico (SRT) vem concretizando as diretrizes de superação do modelo de atenção centrado no hospital psiquiátrico. Analise as afirmativas a seguir sobre o Residencial Terapêutico, e assinale a alternativa INCORRETA.

- Os SRTs devem ser acompanhados pelos CAPS ou ambulatórios especializados em saúde mental, ou, ainda, equipe de saúde da família (com apoio matricial em saúde mental).
- Os SRTs são equipamentos destinados a todo tipo de usuário com transtorno mental grave, com prejuízos significativos na sua autonomia, sendo sua família protagonista no cuidado junto com os CAPS.
- As residências terapêuticas constituem-se como alternativas de moradia para um grande contingente de pessoas que está internada há anos em hospitais psiquiátricos por não contarem com suporte adequado na comunidade.
- Os recursos financeiros que financiavam os leitos psiquiátricos agora desativados, deverão ser realocados para os tetos orçamentários do Estado ou Município responsável pela assistência ao paciente.
- Moradores de rua com transtornos mentais severos, quando inseridos em projetos terapêuticos especiais acompanhados nos CAPS.

50. Para manter uma relação terapêutica com o paciente, é imprescindível o enfermeiro estar atento não apenas ao modo verbal de comunicação, mas também ao modo não verbal, pois através do não verbal, pode ser observada a captação de mensagens, estas, indo além das palavras. Assinale a alternativa CORRETA sobre as técnicas de comunicação não verbal.

- Toque, olhar, paralinguagem, silêncio.
- Paralinguagem, proxêmica, mímica corporal, olhar.
- Tacêsica, cinésica, proxêmica, toque, olhar.
- Paralinguagem, cinésica, proxêmica, mímica.
- Cinésica, paralinguagem, tacêsica, proxêmica.

51. Intoxicação alcoólica, também conhecida por intoxicação patológica, devido à patologia orgânica, pode ser associada a características individuais. O desencadeador deste quadro é a ingestão de pequenas doses de álcool que a princípio, não causaria intensas alterações comportamentais, mas, neste quadro, ocorrerá em virtude da severa exposição ao uso da substância. Sintomas como agitação psicomotora, ilusão, delírio, alucinações e alterações da consciência podem aparecer. Trata-se de um quadro de

- intoxicação alcoólica idiossincrática.
- delirium tremens.
- síndrome de Wernicke-Korsakoff.
- transtorno psicótico induzido pelo álcool.
- alucinação alcoólica.

52. Lei o texto a seguir.

Os principais tipos de transtorno alimentar são a anorexia nervosa (AN) e a bulimia nervosa (BN), e ambos têm como características comuns uma intensa preocupação com o peso e o medo excessivo de engordar, levando muitas pessoas acometidas por esses transtornos ao sofrimento psíquico.

Considerando o texto e seus conhecimentos já adquiridos, analise as afirmativas a seguir.

- Medo extremo de ganhar peso até o ponto de ter fobia à comida.
- Comportamentos alimentares peculiares como esconder alimentos, planejar as refeições contando suas calorias.
- Durante as refeições alimenta-se de maneira lenta.

Assinale a opção que apresenta a(s) afirmativa(s) CORRETA(S) sobre a anorexia nervosa.

- I – II – III.
- I – II.
- II – III.
- I.
- I – III.

53. O transtorno do pânico (TP) é caracterizado pela presença de ataques de pânico recorrentes que trazem sensações desagradáveis para quem sofre com esse transtorno. Além do sofrimento psíquico e do prejuízo funcional vivenciados pelos pacientes com TP, ele está associado a uma série de outros desfechos que, empiricamente, justificam seu tratamento como um problema de saúde pública. Sobre o transtorno do pânico, assinale a alternativa CORRETA.

- Os pacientes com transtorno de pânico podem seguir um padrão de visitas às emergências hospitalares antes do diagnóstico exato, à procura de uma causa orgânica para seus sintomas.
- Sintomas como mal-estar intenso acompanhado de sintomas físicos e cognitivos podem se iniciar de forma brusca, alcançando intensidade máxima em até 2 horas.
- Dentre os psicofármacos, os antidepressivos tricíclicos são a classe de medicamentos de primeira escolha no tratamento do transtorno do pânico.
- A prevalência dos ataques de pânico é muito incomum de modo geral, embora quando aconteçam sintomas como falta de ar, sudorese, medo intenso de perder o controle, taquipneia, podem estar presentes.
- Ataques de pânico são classificados nos grupos das psicoses, devido ao aparecimento de sintomas que não são associados a causas clínicas ou reais, e sim de origem emocional.

54. O Pacto pela Saúde é um conjunto de reformas institucionais do SUS pactuado entre as três esferas de gestão (União, Estados e Municípios) com o objetivo de promover inovações nos processos e instrumentos de gestão, visando alcançar maior eficiência e qualidade das respostas do Sistema Único de Saúde. Com base no Pacto pela Saúde, assinale a alternativa CORRETA.

- Foram definidas três dimensões no Pacto em Saúde: Pacto pela Vida, Pacto em defesa do SUS e Pacto em defesa do Cidadão.
- Os objetivos do Pacto pela Vida dividem-se em três vertentes, sendo elas: mortalidade infantil e materna, saúde do idoso e fortalecimento da atenção básica à saúde.
- O Pacto de Defesa do Cidadão tem como diretrizes principais a regionalização e o financiamento do sistema de saúde.
- Os objetivos do Pacto em Defesa do SUS excluem os gestores de saúde, sendo uma política de Estado, em que é dever dos governantes assegurar o funcionamento do SUS como política pública.
- Promoção da saúde é um dos objetivos do Pacto pela Vida.

55. A Notificação Compulsória é um registro que obriga as notificações, visando ao rápido controle de eventos que requerem pronta intervenção. Assinale a alternativa que NÃO representa uma situação de doença de notificação compulsória imediata.

- Botulismo.
- Raiva humana.
- HIV.
- Poliomielite.
- Doença de Chagas.

56. Sobre exame físico do aparelho cardíaco, assinale a alternativa INCORRETA.

- a) Existem quatro focos de ausculta cardíaca: aórtico, pulmonar, tricúspide e mitral.
- b) Foco aórtico localiza-se no 2º espaço intercostal direito.
- c) Foco pulmonar localiza-se no 5º espaço intercostal esquerdo.
- d) Inspeção e palpação também fazem parte da propedêutica.
- e) Frequência cardíaca é mensurada pelo número de contrações cardíacas por minuto.

57. Não comunicar formalmente ao Conselho Regional de Enfermagem e aos órgãos competentes fatos que infrinjam dispositivos ético-legais e que possam prejudicar o exercício profissional e a segurança à saúde da pessoa, família e coletividade, o profissional enfermeiro estará sujeito à

- a) advertência verbal e multa.
- b) multa e suspensão.
- c) multa e Censura.
- d) censura e advertência verbal.
- e) cassação.

58. O SUS não é uma estrutura que atua isolada na promoção dos direitos básicos de cidadania. Insere-se no contexto das políticas públicas de seguridade social que abrangem, além da saúde, a previdência e a assistência social.

Nesse sentido, o capítulo da saúde na Constituição Federal de 1988 afirma que a assistência à saúde deve abranger atividades curativas e, prioritariamente, atividades preventivas.

Em relação às diretrizes do SUS, a afirmação anterior refere-se à

- a) hierarquização das ações de saúde.
- b) universalidade de acesso aos serviços de saúde.
- c) regionalização da assistência.
- d) integralidade da assistência.
- e) igualdade da assistência.

59. Sobre o Sistema Único de Saúde (SUS), analise as afirmativas a seguir.

- I. O SUS abrange desde simples atendimento até o transplante de órgãos.
- II. O SUS garante acesso integral, universal e gratuito para toda a população do País.
- III. A gestão das ações e dos serviços de saúde deve ser solidária e participativa entre os três entes da Federação.
- IV. O SUS prioriza os trabalhadores vinculados à Previdência Social.

Marque a opção que apresenta as afirmativas CORRETAS.

- a) I – II – III – IV.
- b) I – II – IV.
- c) I – III – IV.
- d) II – IV.
- e) I – II – III.

60. Segundo a Lei 8.080/90, são objetivos do SUS.

- I. A identificação e a divulgação dos fatores condicionantes e determinantes da saúde.
- II. A iniciativa privada poderá participar do Sistema Único de Saúde (SUS) em caráter complementar.
- III. A assistência às pessoas por intermédio de ações de promoção, proteção e recuperação da saúde, com a realização integrada das ações assistenciais e das atividades preventivas.

Marque a opção que apresenta as afirmativas CORRETAS.

- a) I – II – III.
- b) I – III.

- c) II – III.
- d) I – II.
- e) III.