

INSCRIÇÃO	TURMA	NOME DO CANDIDATO
-----------	-------	-------------------

ASSINO DECLARANDO QUE LI E COMPREENDI AS INSTRUÇÕES ABAIXO:	ORDEM
---	-------

301 – Auxiliar Administrativo

INSTRUÇÕES

1. Confira, acima, o seu número de inscrição, turma e nome. Assine no local indicado.
2. Aguarde autorização para abrir o caderno de prova.
3. Antes de iniciar a prova, confira a numeração de todas as páginas.
4. A prova é composta de 30 questões objetivas 1 questão discursiva.
5. Nesta prova, as questões objetivas são de múltipla escolha, com 5 (cinco) alternativas cada uma, sempre na sequência **a, b, c, d, e**, das quais somente uma deve ser assinalada.
6. A interpretação das questões é parte do processo de avaliação, não sendo permitidas perguntas aos aplicadores de prova.
7. Ao receber o cartão-resposta e a folha de versão definitiva, examine-os e verifique se o nome impresso neles corresponde ao seu. Caso haja qualquer irregularidade, comunique-a imediatamente aos aplicadores de prova.
8. O cartão-resposta deverá ser preenchido com caneta esferográfica preta, tendo-se o cuidado de não ultrapassar o limite do espaço para cada marcação.
9. A questão discursiva deverá ser resolvida no caderno de provas e transcrita **NA ÍNTEGRA** para a folha de versão definitiva, com caneta preta.
Serão consideradas para correção apenas as respostas que constem na folha de versão definitiva.
10. A duração da prova é de 4 horas. Esse tempo inclui a resolução das questões e a transcrição das respostas para o cartão-resposta e para a folha de versão definitiva.
11. Não será permitido ao candidato:
 - a) Manter em seu poder relógios e aparelhos eletrônicos ou qualquer objeto identificável pelo detector de metais. Tais aparelhos deverão ser desligados e colocados **OBRIGATORIAMENTE** dentro do saco plástico, que deverá ser acomodado embaixo da carteira ou no chão. É vedado também o porte de armas.
 - b) Usar bonés, gorros, chapéus ou quaisquer outros acessórios que cubram as orelhas.
 - c) Usar fone ou qualquer outro dispositivo no ouvido. O uso de tais dispositivos somente será permitido quando indicado para o atendimento especial.
 - d) Levar líquidos, exceto se a garrafa for transparente e sem rótulo.
 - e) Comunicar-se com outro candidato, usar calculadora e dispositivos similares, livros, anotações, régua de cálculo, impressos ou qualquer outro material de consulta.
 - f) Portar carteira de documentos/dinheiro ou similares.
 - g) Usar óculos escuros, ressalvados os de grau, quando expressamente por recomendação médica, devendo o candidato, então, respeitar o subitem 6.16.5 do Edital.
 - h) Empréstimo de materiais para realização das provas.

Caso alguma dessas exigências seja descumprida, o candidato será excluído do processo.
12. Ao concluir a prova, comunique ao aplicador de prova. Aguarde autorização para entregar o caderno de prova, o cartão-resposta e a folha de versão definitiva.
13. Se desejar, anote as respostas no quadro abaixo, recorte na linha indicada e leve-o consigo.

Língua Portuguesa

Raciocínio Lógico

Informática

Redação

DURAÇÃO DESTA PROVA: 4 horas.

RESPOSTAS					
01 -	06 -	11 -	16 -	21 -	26 -
02 -	07 -	12 -	17 -	22 -	27 -
03 -	08 -	13 -	18 -	23 -	28 -
04 -	09 -	14 -	19 -	24 -	29 -
05 -	10 -	15 -	20 -	25 -	30 -

LÍNGUA PORTUGUESA

O texto a seguir é referência para as questões 01 a 05.

Aprimorar, sempre. Catástrofe, jamais

Sérgio Pardellas

Em tempos de fake news, da efervescência dos debates nas redes sociais e do alcance quase infinito do whatsapp, uma idiossincrasia deletéria ao processo democrático se estabeleceu: as pessoas em geral, agrupadas em bolhas, não querem mais se informar. Estão interessadas em ler e ouvir apenas aquilo que se ajusta ao que elas acreditam.

E ponto final. Da esquerda à direita, passeando pelo que se convencionou chamar de centro do espectro político, quase ninguém escapa incólume. Cara de um, focinho do outro. Se a notícia é contra o político do meu coração, é “fake news”. O repórter, logo, é tachado de “golpista”, “coxinha”, “direitista”, “esquerdopata” ou “comunista”. Se a reportagem atinge em cheio a reputação do adversário, a ordem é disseminá-la sem dó, com pitadas de crueldade se necessário for. Como pau que dá na esquerda, logo dá na direita ou no “centro”, um inimigo comum foi eleito: a mídia. Ou “a grande mídia”.

Assim, o whatsapp virou a principal fonte de informação de oito em cada dez brasileiros. Deu no “zap”, pronto. O incauto vai lá e crava: é real. Alguém ouviu o galo cantar, ninguém sabe onde, mas “assim é, se lhe parece”, como a peça de Luigi Pirandello. Não importa o transmissor, se a gramática foi maltratada, se guarda verossimilhança com a realidade ou não. A pessoa dispara para os seus, formando uma espécie de corrente interminável de beócios que se retroalimentam. Muitas vezes não faz qualquer sentido, não junta lé com cré.

O pior é quando o texto embute uma _____ bem empacotada. É onde mora o perigo. O segredo do sucesso é a mensagem e, se ela soa como música aos ouvidos do freguês, vira verdade.

A pena do jornalista já foi mais respeitada. É uma pena, mas não só. Querer sufocar a imprensa, editorial ou economicamente, constitui prejuízo inegável à democracia. Do lado de cá, _____ é fundamental. A mídia exagera, beatifica e _____ na mesma velocidade, _____ e também comete erros – contra o seu político preferido, mas contra quem você odeia também. Mas não aposte no contrário: sempre houve muito mais acertos e jornalista que é jornalista gosta mesmo é de notícia. Ou de análise, sem torcida, embora imparcialidade total não exista. Cabe ao leitor filtrar. Ou ao veículo, se for o caso, admitir um lado. É um bom debate. O fato insofismável é que o processo de apuração e divulgação da notícia pode até ser falho, nem sempre justo, mas ainda não inventaram modelo mais eficaz.

O filósofo dinamarquês Soren Kierkegaard escreveu, nos estertores da vida, que ensinaria às pessoas como produzir uma catástrofe. Embora tivesse sido um crítico do periódico satírico-iluminista *O Corsário* e da mídia durante alguns momentos de sua existência, Kierkegaard criou, no fim do século XIX, *O Instante*, semanário pelo qual alertava o cidadão sobre os problemas da cultura de sua época. A ruína da imprensa, sabia bem ele, poderia representar o primeiro passo rumo à catástrofe.

(Disponível em: <<https://istoe.com.br/aprimorar-sempre-catastrofe-jamais/>>.)

01 - Assinale a alternativa que preenche corretamente as lacunas acima, na ordem quem aparecem no texto.

- a) meia-verdade – auto-crítica – linxa – inviesa.
- ▶ b) meia-verdade – autocrítica – lincha – enviesa.
- c) meia verdade – autocrítica – lincha – envieza.
- d) meiaverdade – auto-crítica – lincha – inviesa.
- e) meia verdade – auto crítica – linxa – invieza.

02 - O sentido da palavra “idiossincrasia” no texto é o de:

- a) aversão à diversidade.
- b) ideologia.
- c) debilidade.
- ▶ d) comportamento pessoal.
- e) apologia.

03 - No segmento “nos estertores da vida”, a expressão sublinhada pode ser substituída por:

- a) nos momentos de euforia.
- b) nos momentos brilhantes.
- ▶ c) nos momentos finais.
- d) nos momentos de aperto.
- e) nos momentos de indignação.

04 - Com relação às ideias presentes no texto, considere as seguinte afirmativas:

1. Com a expressão “a pena do jornalista” (5º parágrafo), o autor faz referência ao que os jornalistas escrevem.
2. Ao mencionar que o filósofo dinamarquês Soren Kierkegaard disse “que ensinaria às pessoas como produzir uma catástrofe”, o autor insinua que ele teria sido o precursor da *fake news*.
3. Com o termo “beócio”, o autor faz uma referência positiva aos que replicam informações pelo whatsapp.

Assinale a alternativa correta.

- ▶ a) Somente a afirmativa 1 é verdadeira.
- b) Somente a afirmativa 2 é verdadeira.
- c) Somente as afirmativas 1 e 3 são verdadeiras.
- d) Somente as afirmativas 2 e 3 são verdadeiras.
- e) As afirmativas 1, 2 e 3 são verdadeiras.

05 - Em relação ao tema do texto, é correto afirmar que:

- a) As disputas entre direita e esquerda são causadas pelas *fake news*.
- b) As *fake news* compartilhadas via whatsapp originam-se de ações inadvertidas da mídia.
- c) O aprimoramento da divulgação de informações é imprescindível para o estancamento definitivo da divulgação de falsas notícias.
- d) A distorção das informações realizada pelos jornalistas resulta em debates nocivos à democracia.
- ▶ e) A disseminação de notícias via whatsapp é realizada em detrimento da verdade, que é relativizada em favor de interesses pessoais.

06 - Considere o seguinte trecho:

Mesmo com o projeto agora completo, não sou capaz de compreender totalmente quão especiais e únicos são os relacionamentos dos gêmeos. Eu realmente espero que qualquer um que _____ para estas imagens e _____ as citações _____ sentir uma fração do que eu senti quando fiz esses retratos especiais.

É claro que muito poucos de nós conseguirão vivenciar totalmente a ligação que os gêmeos têm, mas espero que, ao tentar ver as coisas através das minhas lentes, _____ aprender a valorizar um pouco mais nossas próprias parcerias.

(Fonte: Gabriel H. Sanchez – BuzzFeed.)

Assinale a alternativa que preenche corretamente as lacunas acima, na ordem em que aparecem no texto.

- a) olha – leia – pode – podemos.
- ▶ b) olhe – leia – possa – possamos.
- c) olhe – ler – poderá – possamos.
- d) olhar – ler – pode – poderemos.
- e) olha – lê – possa – podemos.

O texto a seguir é referência para as questões 07 e 08.**Doutor, quero me parecer com minha selfie**

Cada vez mais requisitantes de cirurgias plásticas tentam parecer com suas fotos retocadas em filtros de aplicativos

Nós nos acostumamos a nos ver com orelhas de cachorro sobre nossa cabeça e até com olhos totalmente desproporcionais. Os filtros de aplicativos como o Snapchat, Instagram e Facetune permitem que mudemos a aparência física a nosso bel-prazer. Muitas vezes porque a *selfie* ficou muito escura, mas em outras será para ressaltar as maçãs do rosto e clarear a pele. Esses *apps* se transformaram em verdadeiros laboratórios fotográficos digitais à procura da aprovação social do *like* e, para um número cada vez maior de pessoas, delas mesmas. Os pacientes de cirurgias plásticas que querem se parecer com seu eu do celular aumentaram no último ano. Esse fenômeno tem nome graças a um artigo da doutora Neelham Vashi na revista de cirurgia plástica JAMA: “dismorfia do *Snapchat*”.

Um estudo da Academia Norte-Americana de Cirurgia Facial, Plástica e Reconstructiva afirma que 55% dos cirurgiões plásticos receberam em 2017 pacientes que queriam operar para sair melhor nas *selfies* – especialmente adolescentes. Como Vashi explica na publicação, são pessoas que tentam se parecer com uma versão fantasiosa de si mesmas. “As pessoas levam suas fotos de determinados ângulos e com certos tipos de luz”, afirma. O risco de querermos nos transformar em uma versão filtrada de nós mesmos, de transformar o físico através de aplicativos e de ficarmos obcecados por isso que chamamos de defeitos é cair em um transtorno dismórfico corporal (TDC). “As redes sociais se transformam em um acelerador para esse tipo de pessoa, que se preocupa em como se parece diante dos outros”, afirma a doutora. [...]

(Garcia, Jorge. <Disponível em: <https://brasil.elpais.com/brasil/2018/08/20/tecnologia/1534765145_147411.html>. Acesso em 23/08/18.)

07 - Com base no texto, assinale a alternativa correta.

- a) O número de cirurgias em pacientes que querem se sair melhor nas fotos postadas em redes sociais tem crescido.
- b) As redes sociais fizeram a fama de uma grande cirurgiã plástica, por ela ter, pessoalmente, a mesma aparência que nas *selfies*.
- c) Quem usa filtros para melhorar as suas *selfies* tem uma doença chamada “transtorno dismórfico corporal”, que é séria e pode levar, em alguns casos, à cirurgia.
- ▶ d) Há uma correlação entre o uso de filtros de aplicativos e a potencialização do transtorno dismórfico corporal em pessoas com essa predisposição.
- e) O transtorno dismórfico corporal se origina do hábito de nos vermos com máscaras próprias dos aplicativos.

08 - Sobre a opinião da doutora Neelham Vashi, assinale a alternativa correta.

- a) Filtros de aplicativo só deveriam servir para melhorar a luz quando a *selfie* ficou muito escura.
- b) Os cirurgiões plásticos não devem dar aprovação a quem procura esse tipo de cirurgia.
- ▶ c) Ficar parecidos com nossas fotos é uma expectativa irreal, porque as fotos são tiradas em condições favoráveis.
- d) O número de requisitantes de cirurgia plástica cresceu 55% em 2017.
- e) A cirurgia plástica é o tratamento mais indicado para o transtorno dismórfico corporal.

09 - Considere o seguinte trecho inicial de uma notícia publicada na revista **Super Interessante** (edição 394, out/2018):

Onde as formigas constroem os formigueiros?

Depende bastante da espécie de formiga.

Os segmentos abaixo dão continuidade a esse trecho inicial, mas estão fora de ordem. Numere os parênteses, identificando a sequência que dá lógica discursiva ao texto.

- () As formigas traçam os caminhos por meio de feromônios, substância que permite que os insetos se comuniquem.
- () Umam constroem sua casa acima do solo. Outras, abaixo. Já a formiga-carpinteira faz seu ninho em árvores ou em qualquer madeira disponível, tal qual os cupins.
- () Em geral, a toca tem várias galerias, usadas para estoque ou transporte de detritos, por exemplo.
- () Assim, nenhuma cava um túnel que não dê em lugar algum.
- () Nesse mundo de mais de 13 mil espécies, há até as que estão mais para cigarra boa-vida do que para a formiga da fábula: nem se dão o trabalho de erguer um formigueiro.

Assinale a alternativa que apresenta a numeração correta, de cima para baixo.

- a) 2 – 1 – 3 – 5 – 4.
- b) 4 – 3 – 1 – 2 – 5.
- c) 1 – 4 – 5 – 3 – 2.
- d) 2 – 4 – 1 – 3 – 5.
- ▶ e) 4 – 1 – 3 – 5 – 2.

O texto a seguir é referência para as questões 10 a 12.

Mel e remédios isentos de prescrição devem ser a primeira opção no tratamento da maior parte das tosse, _____ novas diretrizes recém-divulgadas pelo sistema de saúde britânico.

Antibióticos, _____, são pouco recomendados contra tosse – simplesmente _____, na maioria dos casos, eles não ajudam a combater os sintomas.

As novas recomendações do sistema de saúde são dirigidas especificamente a médicos, com o intuito de minimizar o uso indiscriminado de antibióticos – _____ tem como efeito colateral a proliferação de “superbactérias” cada vez mais resistentes a esses medicamentos.

“Para um paciente com nariz escorrendo, garganta dolorida e tosse, antibióticos não são necessários. A tosse deve passar no intervalo de duas a três semanas”, disse em comunicado a médica Tessa Lewis, representante do Instituto Britânico de Excelência na Saúde, organização que emite recomendações ao sistema público de saúde do país (o NHS).

10 - Assinale a alternativa que preenche corretamente as lacunas acima, na ordem em que aparecem no texto.

- a) de acordo com – também – por que – que.
- b) onde – por outro lado – porquê – que ele.
- ▶ c) segundo – por outro lado – porque – que.
- d) com – porquanto – porque – de que.
- e) com – por sua vez – por que – onde.

11 - “Para um paciente com nariz escorrendo, garganta dolorida e tosse, antibióticos não são necessários. A tosse deve passar no intervalo de duas a três semanas”. Essas duas frases poderiam ser encadeadas, sem prejuízo de significado, por meio da expressão:

- a) embora.
- ▶ b) porque.
- c) por isso.
- d) porém.
- e) bem como.

12 - Sobre o texto, assinale a alternativa correta.

- a) Quando o diagnóstico for o de uma doença de fácil tratamento, é correto se automedicar.
- b) O mel está sendo pesquisado como antibiótico natural no Reino Unido.
- c) Remédios naturais são preferíveis para pacientes que não reagem a antibióticos.
- ▶ d) Além de não ser totalmente eficaz no tratamento contra a tosse, o uso de antibióticos pode provocar efeitos colaterais.
- e) O sistema público de saúde britânico recomenda tratamentos não farmacológicos para grande parte das doenças.

13 - Considere o seguinte trecho:

É um processo fundamental _____ vida, mas não é nada simples. Tanto que, durante _____ evolução, animais primitivos – como os vermes que viviam _____ 600 milhões de anos – foram desenvolvendo uma rede de neurônios no sistema digestivo.

Assinale a alternativa que completa corretamente as lacunas:

- ▶ a) à – a – há.
- b) a – a – a.
- c) a – à – há.
- d) à – à – à.
- e) a – à – à.

14 - O Ministro da Educação de Portugal, Nuno Crato, entre 2011 e 2015, concedeu entrevista à revista *Veja*. Numere a coluna da direita, relacionando as respostas com as respectivas perguntas.

- | | |
|--|---|
| <p>1. O senhor provocou debate acirrado entre educadores do mundo todo ao afirmar que a escola moderna é vítima do “eduquês”. Por que o assunto causou tanto barulho?</p> <p>2. A neurociência vem mapeando os caminhos que a informação percorre no cérebro de uma criança até ser assimilada. As escolas já começaram a fazer uso desse conhecimento?</p> <p>3. Quais boas práticas exatamente essa ala de educadores rejeita?</p> | <p>() Muitos batem na tecla de que prova faz mal. Acham que ela submete o aluno a um alto grau de stress, sem necessidade. Vão aí na contramão do que afirmam os grandes pesquisadores. Eles já sabem que, ao ser questionada e posta a refletir sobre um conteúdo, a criança consegue absorvê-lo melhor, avançando no conhecimento. Também a disciplina é um ponto em que a condescendência e a leitura enviesada de velhas teorias ofuscam a razão.</p> <p>() Infelizmente, a grande maioria passa ao largo dessas descobertas. E isso as mantém congeladas no tempo, aferradas a pensamentos anacrônicos.</p> <p>() Minha crítica bate de frente com uma linha muito celebrada nas escolas de hoje. É uma corrente que dá ênfase excessiva às atitudes e à formação cívica do aluno e deixa em segundo plano o conhecimento propriamente dito. Pergunto: como investir em formação cívica se o estudante não consegue nem ler o jornal? Vejo vários educadores por aí se perdendo em uma linguagem hermética, dúbia e demagógica para falar sobre seus objetivos difusos para a sala de aula.</p> |
|--|---|

Assinale a alternativa que apresenta a numeração correta da coluna da direita, de cima para baixo.

- a) 3 – 1 – 2.
 b) 2 – 1 – 3.
 c) 1 – 2 – 3.
 d) 2 – 3 – 1.
 ► e) 3 – 2 – 1.

15 - Assinale a alternativa corretamente pontuada.

- a) Apesar dos rápidos avanços na tecnologia médica, e na compreensão de como funciona o cérebro humano várias doenças neurológicas como as de Alzheimer e Parkinson, e tumores cerebrais, permanecem sem um tratamento eficaz.
- b) Apesar dos rápidos avanços na tecnologia médica e na compreensão de como funciona o cérebro humano, várias doenças neurológicas, como as de Alzheimer e Parkinson e tumores cerebrais, permanecem sem um tratamento eficaz.
- c) Apesar dos rápidos avanços, na tecnologia médica e na compreensão de como funciona o cérebro humano várias doenças neurológicas como as de Alzheimer e Parkinson e tumores cerebrais, permanecem, sem um tratamento eficaz.
- d) Apesar dos rápidos avanços na tecnologia médica e na compreensão de como funciona o cérebro humano, várias doenças neurológicas, como as de Alzheimer e Parkinson e tumores cerebrais, permanecem sem um tratamento eficaz.
- e) Apesar, dos rápidos avanços na tecnologia médica e na compreensão de como funciona o cérebro humano; várias doenças neurológicas: como as de Alzheimer e Parkinson e tumores cerebrais permanecem, sem um tratamento eficaz.

RACIOCÍNIO LÓGICO

16 - A sequência a seguir foi formada segundo uma certa regra:



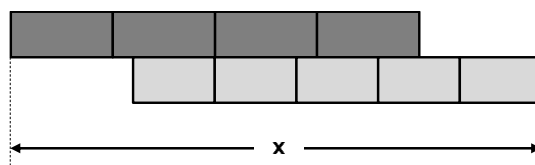
De acordo com essa regra, no passo 26 haverá:

- a) 1 bola preta e 6 traços horizontais.
 b) 2 bolas pretas e 7 traços horizontais.
 c) 1 bola preta e 8 traços horizontais.
 ► d) 2 bolas pretas e 9 traços horizontais.
 e) 1 bola preta e 10 traços horizontais.

17 - Numa figura, temos duas faixas, ambas medindo 24 cm. Uma foi dividida em quatro partes iguais, e a outra em cinco partes iguais, dispostas como indicado ao lado:

Nesse caso, a medida x , em centímetros, é igual a:

- a) 34,0.
 ► b) 31,2.
 c) 30,0.
 d) 28,8.
 e) 22,8.



18 - O valor da passagem de certo ônibus urbano sofreu um aumento de 20% na virada de 2016 para 2017. Na virada de 2017 para 2018, sofreu novo aumento de 10%. O valor da passagem em 2018 será quanto mais do que era antes dos dois aumentos?

- ▶ a) 32%.
- b) 30%.
- c) 28%.
- d) 25%.
- e) 22%.

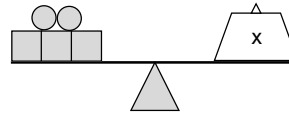
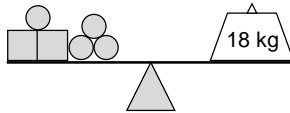
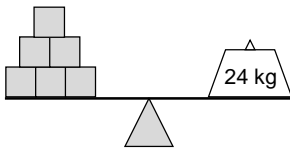
19 - Numa academia, 38 alunos praticam natação e 52 musculação. 11 alunos não fazem parte de nenhum desses dois grupos. Se há um total de 83 alunos na academia, quantos desses praticam ambas, musculação e natação?

- a) 34.
- b) 20.
- ▶ c) 18.
- d) 9.
- e) 7.

20 - Karina possui em seu bolso duas moedas de valores diferentes. Rodrigo, por sua vez, possui três moedas em seu bolso, todas com o mesmo valor. Entretanto, o valor total (em reais) das moedas de Rodrigo é o dobro do valor total das de Karina. Se um dos dois possui uma moeda de R\$ 0,25, quantos reais eles possuem juntos?

- a) R\$ 0,45.
- b) R\$ 0,75.
- c) R\$ 1,50.
- ▶ d) R\$ 2,25.
- e) R\$ 4,50.

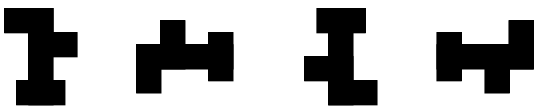
21 - As balanças a seguir estão em equilíbrio:



Nessas condições, o valor de x , em kg, que equilibra a terceira balança é:

- a) 24.
- b) 22.
- c) 21.
- d) 19.
- ▶ e) 17.

22 - A sequência abaixo foi formada segundo uma certa regra:



De acordo com essa regra, o próximo elemento da sequência será:

a)



b)



c)



▶ d)



e)



23 - Considere a sentença:

Se uma pedra é jogada na água, ouve-se um barulho.

Se ela é verdadeira, então qual das seguintes sentenças NÃO pode ser verdadeira?

- a) Ouve-se um barulho quando uma pedra é jogada na água.
- b) Nenhuma pedra foi jogada na água, mas ouviu-se um barulho.
- ▶ c) Não se ouve nenhum barulho quando uma pedra é jogada na água.
- d) Nenhuma pedra foi jogada na água, e não se ouviu qualquer barulho.
- e) Ouviu-se um barulho na água, mas nenhuma pedra foi jogada.

24 - Em certa escola, no ano de 2017, nenhum dos estudantes cursando o terceiro ano ficou em recuperação. Com base nessa premissa, qual das seguintes afirmações é verdadeira?

- ▶ a) Se um estudante ficou em recuperação, ele não cursou o terceiro ano em 2017.
- b) Se um estudante não cursou o terceiro ano em 2017, ele não ficou em recuperação.
- c) Se um estudante não ficou em recuperação, então ele cursou o terceiro ano em 2017.
- d) Se um estudante ficou em recuperação, então ele cursou o terceiro ano em 2017.
- e) Se um estudante não cursou o terceiro ano em 2017, ele ficou em recuperação.

25- Com base nas premissas do argumento:

Se Eduardo dorme cedo, então não se atrasa para ir à escola.
 Se Eduardo come pizza à noite, então se atrasa para ir à escola.
 Se Eduardo dorme tarde, então fica de mau humor.
 Eduardo ficou de bom humor.

Pode-se concluir que Eduardo:

- a) Dormiu tarde.
- b) Atrasou-se para ir à escola.
- c) Comeu pizza à noite.
- d) Não foi à escola.
- ▶ e) Não comeu pizza à noite.

INFORMÁTICA

26 - Assinale a alternativa válida para se deslogar (logoff) em um computador com Sistema operacional Windows 10, versão português Brasil, pelo menu Iniciar (acesso pelo botão com logomarca Windows no canto inferior esquerdo).

- a) logoff
- b) desligar→logoff
- ▶ c) lado esquerdo do menu Iniciar→ícone Contas→Sair.
- d) lado esquerdo do menu Iniciar→ícone Contas→Logout
- e) lado esquerdo do menu Iniciar→ícone Ligar/Desligar→Logoff

27 - Programa que torna inacessíveis os dados armazenados em um equipamento, geralmente usando criptografia, e que exige pagamento de resgate para restabelecer o acesso ao usuário é um *malware* do tipo:

- a) cavalo de troia.
- b) RAT.
- c) sequestro digital.
- ▶ d) ransomware.
- e) vírus.

28 - A tabela abaixo é parte de uma de uma planilha Excel 2007, versão Português Brasil, cujos dados (fictícios) representam a quantidade de produtos vendidos em um determinado período, sendo que a coluna D contém a média aritmética das colunas B e C.

	A	B	C	D
1	Produto	Loja 1	Loja 2	Média
2	Computador Quad Core 4GB HD 1TB com placa de vídeo e saída HDMI Áudio HD 5.1	100	102	101

Assinale a alternativa que apresenta o comando para que a conteúdo da célula A2 seja exibido em várias linhas, como o mostrado na tabela.

- a) início→Células→Formatar→Autoajuste da altura da linha
- b) início→Células→Formatar→Autoajuste da Altura da Coluna
- c) início→alinhamento→Ajustar para Caber
- ▶ d) início→alinhamento→Quebrar Texto Automaticamente
- e) início→Parágrafo→Justificar

29 - Considerando o MS Word 2013 (versão português Brasil), assinale a alternativa que possibilita a inserção de conteúdo de um documento Word existente em um novo documento ou em documento diferente.

- ▶ a) Inserir→Texto→objeto→Texto do Arquivo
- b) Inserir→Páginas→Arquivo
- c) Inserir→Links→Indicador
- d) Layout da Página→Quebras→Seção→Arquivo
- e) Layout da Página→Mesclar documentos

