

CÂMARA MUNICIPAL DE INDAIATUBA

ESTADO DE SÃO PAULO

Concurso Público

002. PROVA OBJETIVA

Auxiliar Administrativo / Recepcionista

- ◆ Você recebeu sua folha de respostas e este caderno contendo 50 questões objetivas.
- ◆ Confira seus dados impressos na capa deste caderno e na folha de respostas.
- ◆ Quando for permitido abrir o caderno, verifique se está completo ou se apresenta imperfeições. Caso haja algum problema, informe ao fiscal da sala.
- ◆ Leia cuidadosamente todas as questões e escolha a resposta que você considera correta.
- ◆ Marque, na folha de respostas, com caneta esferográfica de tinta azul ou preta, a letra correspondente à alternativa que você escolheu.
- ◆ A duração da prova é de 3 horas, já incluído o tempo para o preenchimento da folha de respostas.
- ◆ Só será permitida a saída definitiva da sala e do prédio após transcorridos 75% do tempo de duração da prova.
- ◆ Deverão permanecer em cada uma das salas de prova os 3 últimos candidatos, até que o último deles entregue sua prova, assinando termo respectivo.
- ◆ Ao sair, você entregará ao fiscal a folha de respostas e este caderno, podendo levar apenas o rascunho de gabarito, localizado em sua carteira, para futura conferência.
- ◆ Até que você saia do prédio, todas as proibições e orientações continuam válidas.

AGUARDE A ORDEM DO FISCAL PARA ABRIR ESTE CADERNO DE QUESTÕES.

Nome do candidato _____

RG _____

Inscrição _____

Prédio _____

Sala _____

Carteira _____

CONHECIMENTOS GERAIS

LÍNGUA PORTUGUESA

Leia o texto para responder às questões de números **01** a **12**.

A última crônica

A caminho de casa, entro num botequim da Gávea para tomar um café junto ao balcão. Na realidade, estou adiando o momento de escrever.

A perspectiva me assusta. Gostaria de estar inspirado, de coroar com êxito mais um ano nesta busca do pitoresco no cotidiano de cada um. Eu pretendia apenas recolher da vida diária algo de seu disperso conteúdo humano, fruto da convivência, que a faz mais digna de ser vivida. Nesta perseguição do acidental, quer num flagrante de esquina, quer nas palavras de uma criança ou num acidente doméstico, torno-me simples espectador. Sem mais nada para contar, curvo a cabeça e tomo meu café, enquanto o verso de um poeta se repete na lembrança: “assim eu queria o meu último poema”. Não sou poeta e estou sem assunto. Lanço então um último olhar fora de mim, onde vivem os assuntos que merecem uma crônica.

Ao fundo do botequim, um casal acaba de sentar-se numa das últimas mesas de mármore ao longo da parede de espelhos. A compostura da humildade, na contenção de gestos e palavras, deixa-se acrescentar pela presença de uma menininha de seus três anos, laço na cabeça, toda arrumadinha no vestido pobre, que se instalou também à mesa. Três seres esquivos que compõem em torno à mesa a instituição tradicional da família, célula da sociedade. Vejo, porém, que se preparam para algo mais que matar a fome.

Passo a observá-los. O pai, depois de contar o dinheiro que discretamente retirou do bolso, aborda o garçom e aponta no balcão um pedaço de bolo sob a redoma. Este ouve, concentrado, o pedido do homem e depois se afasta para atendê-lo. A meu lado o garçom encaminha a ordem do freguês. O homem atrás do balcão apanha a porção do bolo com a mão, larga-o no pratinho – um bolo simples, amarelo-escuro, apenas uma pequena fatia triangular.

A menininha olha a garrafa de refrigerante e o pratinho que o garçom deixou à sua frente. Vejo que os três, pai, mãe e filha, obedecem em torno à mesa a um discreto ritual. A mãe remexe na bolsa de plástico preto e brilhante, retira qualquer coisa. O pai se mune de uma caixa de fósforos, e espera. A filha aguarda também, atenta como um animalzinho. Ninguém mais os observa além de mim.

São três velinhas brancas que a mãe espeta caprichosamente na fatia do bolo. E enquanto ela serve o refrigerante, o pai risca o fósforo e acende as velas. A menininha sopra com força, apagando as chamas. Imediatamente põe-se a bater palmas, muito compenetrada, cantando num balbucio, a que os pais se juntam, discretos: “parabéns pra você, parabéns pra você...”. A menininha agarra finalmente o bolo com as duas mãos sôfregas e põe-se a comê-lo. A mulher está olhando para ela com ternura – ajeita-lhe a fitinha no cabelo, limpa o farelo de bolo que lhe cai ao colo. O pai corre os olhos pelo botequim, satisfeito, como a se convencer intimamente do sucesso da celebração. Dá comigo de súbito, a observá-lo, nossos olhos se encontram, ele se perturba, constrangido – vacila, ameaça abaixar a cabeça, mas acaba sustentando o olhar e enfim se abre num sorriso.

Assim eu queria minha última crônica: que fosse pura como esse sorriso.

(Fernando Sabino. <http://contobrasileiro.com.br>. Adaptado)

01. De acordo com as informações textuais, o autor entra num botequim com a principal intenção de

- (A) ir ao encontro de suas lembranças íntimas em busca de um tema para seu novo texto.
- (B) se isolar em um lugar que lhe facilite escrever um poema do cotidiano, já que ele é um poeta.
- (C) aguardar que algum acontecimento do dia a dia lhe dê inspiração para a produção de uma crônica.
- (D) saborear um café na companhia de amigos e escrever uma crônica pitoresca do cotidiano.
- (E) encontrar um poeta amigo que o auxilie a olhar para fora de si e encontrar assunto para sua crônica.

02. A frase do cronista, no início do segundo parágrafo, – A perspectiva me assusta. – refere-se

- (A) à ansiedade que ele sente todos os dias ao sair de casa para tomar café.
- (B) à possibilidade de ele não conseguir inspiração para escrever uma crônica.
- (C) aos fatos da vida diária vivenciados pelo autor, que são considerados assustadores.
- (D) aos assuntos nem sempre agradáveis que o inspiram para a produção de poemas.
- (E) ao receio de se tornar mais um espectador de algum triste flagrante de esquina.

03. Pela leitura do texto, depreende-se que, a partir do acontecimento todo, vivenciado pelo cronista, o fato principal, que mais o impressionou e o levou a escrever a crônica, foi

- (A) a refeição simples de uma pequena família pobre, num botequim.
- (B) a satisfação da menininha ao comer o bolo de que ela mais gostava.
- (C) o capricho com que a mãe veste a filha e ajeita a fita no cabelo.
- (D) a dificuldade financeira da família para pagar a refeição festiva.
- (E) a pureza do sorriso do pai diante do sucesso da comemoração.

04. A frase redigida de acordo com a norma-padrão da língua portuguesa e, ao mesmo tempo, fiel às ideias do texto está na alternativa:
- (A) Sentam-se a mesa do botequim para saciar a fome numa refeição festiva uma família de três seres.
 - (B) O garçom pega a fatia de bolo, a coloca cuidadosamente num pratinho e lhe leva até a menininha.
 - (C) A menininha começa à comer alegremente, assim que o garçom ponha o prato à sua frente.
 - (D) O modesto ritual da família à mesa é observado apenas pelo cronista, por ninguém mais.
 - (E) Apesar de a menininha ter ensaiado antes, ela sopra com força e apagam às três velinhas.
05. Nota-se, no texto, certa atenção do garçom em relação à família, o que se comprova pela seguinte passagem:
- (A) Ao fundo do botequim um casal acaba de sentar-se, numa das últimas mesas de mármore... (3º parágrafo)
 - (B) O pai, depois de contar o dinheiro que discretamente retirou do bolso, aborda o garçom... (4º parágrafo)
 - (C) Este ouve, concentrado, o pedido do homem e depois se afasta para atendê-lo. (4º parágrafo)
 - (D) O homem atrás do balcão apanha a porção do bolo com a mão, larga-o no pratinho... (4º parágrafo)
 - (E) O pai (...) aborda o garçom (...) e aponta no balcão um pedaço de bolo sob a redoma. (4º parágrafo)
06. Em conformidade com a norma-padrão da língua portuguesa, assinale a alternativa correta quanto à ocorrência ou não da crase.
- (A) **À** compostura da humildade, acrescente-se **a** presença da menininha pobre.
 - (B) A menininha lança o olhar **a** fatia de bolo enquanto a família obedece **à** um ritual.
 - (C) O pai pôs-se **à** contar o dinheiro discretamente **à** fim de verificar se era o suficiente.
 - (D) O pai pediu ao garçom a fatia de bolo e ficou **a** espera para dar início **a** comemoração.
 - (E) **A** luz das velinhas, ela canta “parabéns pra você” e se junta **à** eles, discretamente.
07. Assinale a alternativa que indica, corretamente, entre parênteses, a circunstância presente na expressão destacada no trecho do texto.
- (A) O pai, depois de contar o dinheiro que **discretamente** retirou do bolso... (causa)
 - (B) **A meu lado** o garçom encaminha a ordem do freguês. (tempo)
 - (C) ... a menininha sopra **com força**, apagando as chamas. (afirmação)
 - (D) São três velinhas brancas que a mãe espeta **caprichosamente** na fatia de bolo. (modo)
 - (E) Imediatamente põe-se a bater palmas, **muito** compenetrada. (certeza)
08. Quanto à indicação, entre parênteses, do sentido estabelecido pelo termo em destaque nas frases do texto, assinale a alternativa correta.
- (A) ... entro num botequim **para** tomar um café junto ao balcão. (explicação)
 - (B) A filha aguarda também, atenta **como** um animalzinho. (causa)
 - (C) E **enquanto** ela serve o refrigerante, o pai risca o fósforo e acende as velas. (conformidade)
 - (D) **Como** num gesto ensaiado, a menininha repousa o queixo no mármore e sopra... (conclusão)
 - (E) ... vacila, ameaça baixar a cabeça, **mas** acaba sustentando o olhar... (oposição)
09. Leia as frases a seguir:
- A compostura da humildade, na **contenção** de gestos e palavras... (3º parágrafo)
 - A menininha agarra finalmente o bolo com as duas mãos **sôfregas** e põe-se a comê-lo. (6º parágrafo)
 - Dá comigo de súbito, a observá-lo, nossos olhos se encontram, ele se perturba, **constrangido**... (6º parágrafo)
- De acordo com o contexto, os termos destacados podem ser substituídos, sem alteração de sentido do texto, respectivamente, por:
- (A) consistência; aflitas; abalado.
 - (B) moderação; apressadas; acanhado.
 - (C) demonstração; morosas; envergonhado.
 - (D) repressão; pausadas; arrojado.
 - (E) refreamento; impacientes; destemido.

10. Leia as frases do texto:

- Lanço **um último olhar** fora de mim, onde vivem os assuntos que merecem **uma crônica**.
- O pai, depois de contar **o dinheiro** que discretamente retirou do bolso, aborda **o garçom**...

Os pronomes que substituem, correta e respectivamente, as expressões destacadas e estão adequadamente colocados na frase encontram-se em:

- (A) Lanço-o ... que a merecem ... contá-lo ... aborda-o.
- (B) Lanço-lhe ... que a merecem ... contar-lo ... aborda-o.
- (C) Lanço-lhe ... que merecem-a ... contá-lo ... aborda-lhe.
- (D) Lanço-o ... que merecem-na ... contar-lhe ... aborda-lhe.
- (E) Lanço-o ... que a merecem ... contá-lo ... abordá-lo.

11. A frase cuja forma verbal destacada expressa um desejo está na alternativa:

- (A) Na realidade **estou adiando** o momento de escrever. (1º parágrafo)
- (B) **Gostaria** de estar inspirado, de coroar com êxito... (2º parágrafo)
- (C) Sem mais nada para contar, **curvo** a cabeça... (2º parágrafo)
- (D) A filha **aguarda** também, atenta como um animalzinho. (5º parágrafo)
- (E) ... mas acaba **sustentando** o olhar e enfim se abre num sorriso. (6º parágrafo)

12. Assinale a alternativa cuja frase relacionada ao texto apresenta a correta pontuação, de acordo com a norma-padrão da língua portuguesa.

- (A) Nas palavras de uma criança pode estar, a inspiração para um escritor, escrever sua crônica.
- (B) A menininha que parecia um animalzinho, aguarda que seu pai, acenda as velinhas.
- (C) Ela sopra com força as velinhas, e apaga as chamas repousando, o queixo no mármore.
- (D) A família, célula da sociedade, é a base para uma boa formação do ser humano.
- (E) Três velinhas brancas, são espetadas na fatia triangular do bolo, amarelo-escuro.

Leia o texto a seguir para responder às questões de números 13 e 14.

Mesmo com solavancos, a cada década o Brasil melhora um pouco nos principais termômetros que medem o patamar de desenvolvimento. Mas em um indicador específico o país patina de modo tão surpreendente e vergonhoso que ganhou destaque em um recente relatório do Fundo de População da ONU: a alta ocorrência de gravidez na adolescência. A cada cinco mulheres que _____ no Brasil, uma não é adulta. A gravidez nessa etapa da vida custa caro ao país – em decorrência _____ fato de grande parte dessas mães _____ fora da escola e do mercado de trabalho e de os bebês nascerem privados _____ estímulos certos.

(Monica Weinberg, *Veja*, 15.11.2017. Adaptado)

13. Em conformidade com a norma-padrão da língua portuguesa, assinale a alternativa que preenche, correta e respectivamente, as lacunas do texto.

- (A) engravidam ... do ... estar ... de
- (B) engravida ... o ... estarem ... com
- (C) engravidam ... o ... estarem ... de
- (D) engravida ... do ... estar ... sob
- (E) engravidam ... o ... estar ... aos

14. Nas passagens – (I) **Mesmo com solavancos**, a cada década o Brasil melhora um pouco... e (II) Mas em um indicador específico o país patina de modo tão surpreendente e vergonhoso **que ganhou destaque em um recente relatório**... –, os trechos destacados imprimem, nos contextos, relações de sentido de

- (A) (I) causa; (II) consequência.
- (B) (I) concessão; (II) condição.
- (C) (I) modo; (II) causa.
- (D) (I) condição; (II) modo.
- (E) (I) concessão; (II) consequência.

15. Leia a tirinha.

Frank & Ernest



(Frank & Ernest, Bob Thaves. *O Estado de S. Paulo*, 22.12.2017)

O humor, na tirinha, é construído a partir

- (A) da constatação de que o carteiro exerce mais de uma atividade profissional, simultaneamente.
- (B) da incoerência evidente entre as falas das personagens diante da situação corriqueira retratada.
- (C) dos sentidos próprio e figurado que podem ser atribuídos à frase “Ele sempre torce para não chover”.
- (D) do comentário preconceituoso de uma das personagens acerca da atitude injustificável do carteiro.
- (E) do sentido depreciativo subentendido nas palavras de uma das personagens, à vista da pergunta ingênua da outra.

16. Comprei dois copos de suco por R\$ 2,80, cada um, e um sanduíche por R\$ 13,50. Paguei com uma cédula de R\$ 20,00. O troco que devo receber por essa compra é
- (A) R\$ 1,20.
(B) R\$ 1,10.
(C) R\$ 1,00.
(D) R\$ 0,90.
(E) R\$ 0,80.
17. Clarice planeja fazer uma viagem em 3 dias. No 2º dia, ela planeja percorrer a metade da distância percorrida no 1º dia. No 3º dia, ela planeja percorrer a metade da distância percorrida no 2º dia. Sabendo que a distância total a ser percorrida é de 924 km, conclui-se que Clarice planeja viajar no 2º dia a distância, em quilômetros, igual a
- (A) 256.
(B) 264.
(C) 274.
(D) 288.
(E) 294.
18. A tabela a seguir mostra o número de funcionários que faltaram ao trabalho nos cinco dias de uma semana em determinada empresa.

DIAS DA SEMANA	Número de Funcionários Faltantes
2ª feira	13
3ª feira	9
4ª feira	6
5ª feira	18
6ª feira	23

A média diária do número de funcionários que faltaram ao trabalho na 2ª e 6ª feiras, desta semana, supera a média diária do número de funcionários que faltaram na 3ª, 4ª e 5ª feiras, da mesma semana, em

- (A) 7.
(B) 8.
(C) 9.
(D) 10.
(E) 11.

19. É sabido que 5 operários transportaram 4 m^3 de areia em exatas duas horas de trabalho. A quantidade de areia, em m^3 , que outros 13 operários, cada um com a mesma capacidade de cada um dos 5 operários anteriores, transportarão a mais que os operários anteriores, no mesmo tempo de serviço, é igual a
- (A) 8,2.
(B) 7,1.
(C) 6,4.
(D) 5,8.
(E) 5,3.
20. Para a festa de aniversário de seu filho, Marina comprou 117 balinhas de coco, 144 de caramelo e 180 de chocolate. Marina separou essas balas em muitos saquinhos. Todos os saquinhos tinham o mesmo número de balas, tinham sempre balas de um mesmo sabor e tinham também o maior número de balas possível. Dessa maneira, Marina conseguiu um número de saquinhos de balas igual a
- (A) 147.
(B) 132.
(C) 84.
(D) 49.
(E) 33.
21. Francisco fez um orçamento de suas despesas pessoais mensais. Todo mês, ele destina, de seus rendimentos, $\frac{3}{8}$ para gastos com moradia, $\frac{2}{9}$ para gastos com alimentação e $\frac{3}{10}$ para gastos com transporte. Sabendo que após essas despesas ainda lhe sobram R\$ 1.110,00, é correto calcular que o gasto a mais com moradia em relação aos gastos com alimentação é, em reais, igual a
- (A) 2.480.
(B) 2.240.
(C) 2.150.
(D) 1.860.
(E) 1.650.

22. Uma TV teve um aumento de 13%. Um ano depois, teve outro aumento de 13%. Considerando o valor original da TV, o preço atual foi aumentado em
- (A) 24,2%.
 - (B) 25,9%.
 - (C) 27,69%.
 - (D) 30,12%.
 - (E) 31,44%.
23. Dois restaurantes disputam a preferência do público para o mesmo almoço individual, pelo preço de R\$ 50,00, e não importando a quantidade que as pessoas comam. No restaurante A, para quem almoçar 4 dias na semana, o 5º almoço será cortesia da casa, sem qualquer cobrança. O restaurante B oferece 20% de desconto em relação ao que o cliente pagou no dia anterior. Em 5 dias de refeições nesses dois restaurantes, o cliente que fizer suas refeições no restaurante mais caro pagará a mais uma quantia igual a
- (A) R\$ 31,92.
 - (B) R\$ 32,45.
 - (C) R\$ 32,98.
 - (D) R\$ 33,08.
 - (E) R\$ 33,56.
24. Hoje, a razão entre a minha idade e a idade de meu filho é 4. Daqui a 12 anos essa razão será igual a $\frac{5}{2}$. Terei o dobro da idade dele daqui a
- (A) 15 anos.
 - (B) 18 anos.
 - (C) 21 anos.
 - (D) 24 anos.
 - (E) 27 anos.

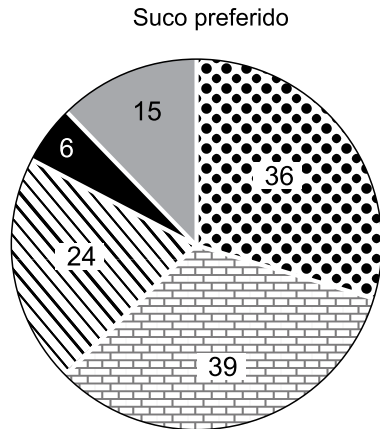
25. Uma prova de atletismo foi realizada em duas etapas. A classificação se dará pela ordem crescente da somatória dos tempos. Segue a tabela com os tempos dos atletas em cada uma das etapas:

NÚMERO DO ATLETA	ETAPA 1	ETAPA 2
12	3min e 58s	2min e 52s
23	3min e 42s	3min e 22s
34	3min e 56s	3min e 19s
45	4min e 13s	2min e 44s
56	3min e 39s	3min e 29s

O atleta que obteve a segunda colocação foi o atleta de número

- (A) 56.
(B) 45.
(C) 34.
(D) 23.
(E) 12.
26. O pátio para recreação dos alunos de uma escola é retangular e sua área é de 1400 m^2 . Durante o período de férias, uma de suas dimensões foi aumentada em 15% e a outra foi aumentada em 5%. Com essas alterações, a área para recreação aumentou em um número de m^2 igual a
- (A) 270,0.
(B) 278,4.
(C) 284,5.
(D) 288,3.
(E) 290,5.
27. Juliana, uma ciclista, percorreu, no seu penúltimo treinamento, 1 quilômetro a cada 90 segundos. Ela fez isso durante 12 minutos. No seu último treinamento, Juliana acelerou e percorreu 1 quilômetro a cada 75 segundos. Ela fez isso também durante 12 minutos. A distância a mais, em metros, que Juliana percorreu no último treinamento, em relação ao penúltimo, é igual a
- (A) 2200.
(B) 1850.
(C) 1600.
(D) 1420.
(E) 1390.

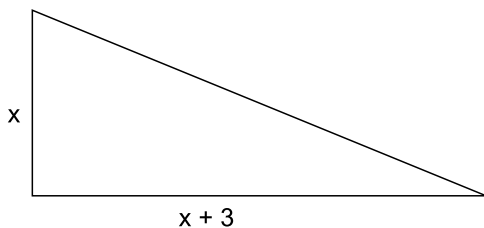
28. Foi realizada uma enquete entre crianças para verificar a preferência em relação a sucos de frutas. O gráfico a seguir mostra o resultado dessas escolhas em número de votos de cada suco.



Uva
 Laranja
 Abacaxi
 Limão
 Manga

No total, a abertura correspondente aos três setores circulares que representam os sucos menos votados supera a abertura do setor circular que representa o suco mais votado em

- (A) 15° .
 (B) 18° .
 (C) 22° .
 (D) 24° .
 (E) 27° .
29. Uma sala tem o formato de um triângulo retângulo. A diferença entre as medidas dos catetos é de 3 metros. A área dessa sala é 35 m^2 .



Se cada cateto for aumentado em 2 metros, mantendo-se o formato de triângulo retângulo, a nova sala terá sua área aumentada em

- (A) 4 m^2 .
 (B) 12 m^2 .
 (C) 15 m^2 .
 (D) 18 m^2 .
 (E) 19 m^2 .

30. Em um atelier, 15 artesãos, trabalhando 6 horas por dia, durante 8 dias, pintam 240 caixas de lembranças. Com a mesma capacidade de trabalho que os artesãos anteriores, outros 12 artesãos, trabalhando 10 horas por dia, durante 12 dias, pintarão um total das mesmas caixas de lembranças igual a

- (A) 240.
 (B) 360.
 (C) 480.
 (D) 540.
 (E) 600.

R A S C U N H O

LEGISLAÇÃO

- 31.** Determinado Vereador da Câmara Municipal de Indaiatuba, durante o seu mandato, mudou-se de cidade e fixou residência no município vizinho. Nessa hipótese, segundo dispõe a Lei Orgânica de Indaiatuba, esse Parlamentar
- (A) deverá receber pena de advertência e terá que voltar a residir em Indaiatuba.
 - (B) ficará sujeito à perda do mandato.
 - (C) terá cassados os seus direitos políticos.
 - (D) terá direito a auxílio-moradia.
 - (E) poderá receber ajuda de custo para reembolso das despesas com combustível.
- 32.** A Lei Orgânica de Indaiatuba estabelece, quanto aos cargos da Mesa da Câmara Municipal, que
- (A) o mandato da Mesa da Câmara será de dois anos, sendo proibida a reeleição para o mesmo cargo.
 - (B) na constituição da Mesa, é obrigatória a presença de parlamentares de todos os partidos e dos blocos parlamentares que participam da Câmara.
 - (C) os cargos da Mesa serão sempre em número par, cabendo ao Presidente decidir sobre a sua composição, as competências, as atribuições e a forma de substituição de cada cargo.
 - (D) nenhum componente da Mesa poderá ser destituído por motivo de faltas, mas apenas em caso de ineficiência no desempenho de suas atribuições.
 - (E) a eleição para a renovação da Mesa, dentro da legislatura, realizar-se-á sempre na última sessão ordinária de cada ano, no Plenário da Câmara Municipal de Indaiatuba.
- 33.** Segundo o disposto na Lei Orgânica de Indaiatuba, na hipótese de uma comissão parlamentar de inquérito (CPI), criada, regularmente, nos exatos termos da Lei, chegar à conclusão de que houve responsabilidade civil ou criminal de um infrator, a CPI, se for o caso, deve encaminhar essa conclusão ao
- (A) Presidente da Câmara.
 - (B) Prefeito.
 - (C) juiz da Comarca.
 - (D) Tribunal de Justiça.
 - (E) Ministério Público.
- 34.** O plebiscito, o referendo e a iniciativa popular de leis, segundo a Lei Orgânica de Indaiatuba, são expressões
- (A) do Poder Legislativo Municipal.
 - (B) dos Poderes Públicos do Município.
 - (C) da soberania popular.
 - (D) da autonomia do Governo.
 - (E) da democracia indireta.
- 35.** Conforme dispõe a Lei Orgânica de Indaiatuba, a instituição que representa o Município, judicial e extrajudicialmente, cabendo-lhe, ainda, nos termos da lei, as atividades de consultoria e assessoramento do Poder Executivo, é
- (A) o Conselho Municipal.
 - (B) o Secretário Municipal da Casa Civil.
 - (C) o chefe de Gabinete do Prefeito.
 - (D) a Procuradoria-Geral do Município.
 - (E) a Consultoria-Chefe da Prefeitura.
- 36.** O Regimento Interno da Câmara Municipal de Indaiatuba estabelece que haverá comissões permanentes com o objetivo de estudar os assuntos submetidos ao seu exame e sobre eles exarar parecer. Nesse sentido, os assuntos referentes ao aspecto constitucional e legal, e aos aspectos gramatical e lógico, devem ser submetidos ao parecer
- (A) da Comissão de Constituição e Justiça, no primeiro assunto, e da Comissão de Redação, no segundo.
 - (B) da Comissão de Constituição e Legislação, no primeiro assunto, e da Comissão de Redação e Gramática, no segundo.
 - (C) da Comissão de Constituição e Legislação, em ambos os assuntos.
 - (D) da Comissão de Constituição e Justiça, no primeiro assunto, e da Comissão de Redação Final, no segundo.
 - (E) da Comissão de Justiça e Redação, em ambos os assuntos.
- 37.** A respeito das sessões extraordinárias da Câmara Municipal de Indaiatuba, o seu Regimento Interno dispõe que
- (A) serão convocadas pelo Secretário-Geral da Mesa da Câmara.
 - (B) não podem ser convocadas fora de sessão.
 - (C) poderão ser realizadas em qualquer hora e dia, inclusive nos domingos e feriados.
 - (D) não podem ser convocadas durante o período de recesso parlamentar.
 - (E) deverão ser realizadas em uma única sessão.

38. Nos moldes do Regimento Interno da Câmara Municipal de Indaiatuba, se receber uma proposição legislativa que seja antirregimental, ilegal ou inconstitucional, a Presidência

- (A) deve encaminhar a proposição ao Plenário para análise e votação.
- (B) deixará de receber a proposição, após ouvido o Departamento Jurídico.
- (C) mandará arquivar a proposição.
- (D) emitirá seu parecer e encaminhará a proposição às Comissões competentes.
- (E) devolverá ao seu autor para proceder à necessária regularização.

39. Na hipótese de um Vereador pretender separar do texto um dispositivo ou uma emenda a ele apresentada, para possibilitar a sua apreciação isolada pelo Plenário, o Regimento Interno dispõe que o Vereador poderá apresentar

- (A) um Destaque.
- (B) uma Moção.
- (C) um Pedido de Vista.
- (D) uma Subemenda.
- (E) uma Preferência.

40. A respeito dos Serviços Administrativos da Câmara, o seu Regimento Interno reza que todos os serviços da Câmara que integram a Secretaria serão criados, modificados ou extintos por

- (A) Resolução.
- (B) Decreto-Legislativo.
- (C) Moção Legislativa.
- (D) Portaria.
- (E) Despacho.


41. Usando o Microsoft Windows 7, em sua configuração padrão, um usuário criou a seguinte estrutura de pastas:

Nome	Data de modificação	Tipo
Arquivos	27/01/2018 22:48	Pasta de arquivos
Documentos	27/01/2018 22:48	Pasta de arquivos
Projetos	27/01/2018 22:48	Pasta de arquivos

Cada uma das pastas contém 5 arquivos. Ao selecionar a pasta Projetos, pressionar CTRL+X e, depois, abrir a pasta Documentos e pressionar CTRL+V, a pasta Projetos

- (A) é criada vazia dentro da pasta Documentos.
- (B) e todos os seus arquivos são movidos para dentro da pasta Documentos.
- (C) é enviada para a Lixeira com todos os seus arquivos.
- (D) é enviada para a Lixeira, mas todos os seus arquivos são movidos para dentro da pasta Documentos.
- (E) passa a se chamar Documentos.

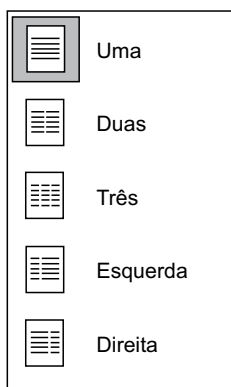
42. No Microsoft Windows 7, em sua configuração original, a(s) tecla(s) de atalho que minimiza(m) todas as janelas abertas, exibindo assim a Área de Trabalho, é(são):

- (A) CTRL + Z
- (B) SHIFT + seta para baixo
- (C) CTRL + ESC
- (D) tecla do logotipo do Windows  + M
- (E) ESC

43. Assinale a alternativa que apresenta o texto formatado com alinhamento justificado, no Microsoft Word 2010, em sua configuração padrão.

- (A) Enfim, chegou a hora da encomendação e da partida. Sancha quis despedir-se do marido, e o desespero daquele lance consternou a todos. Muitos homens choravam também, as mulheres todas. Só Capitu, amparando a viúva, parecia vencer-se a si mesma. Consolava a outra, queria arrancá-la dali. A confusão era geral. No meio dela, Capitu olhou alguns instantes para o cadáver tão fixa, tão apaixonadamente fixa, que não admira lhe saltassem algumas lágrimas poucas e caladas...”
- (B) Enfim, chegou a hora da encomendação e da partida. Sancha quis despedir-se do marido, e o desespero daquele lance consternou a todos. Muitos homens choravam também, as mulheres todas. Só Capitu, amparando a viúva, parecia vencer-se a si mesma. Consolava a outra, queria arrancá-la dali. A confusão era geral. No meio dela, Capitu olhou alguns instantes para o cadáver tão fixa, tão apaixonadamente fixa, que não admira lhe saltassem algumas lágrimas poucas e caladas...”
- (C) • Enfim, chegou a hora da encomendação e da partida. Sancha quis despedir-se do marido, e o desespero daquele lance consternou a todos. Muitos homens choravam também, as mulheres todas. Só Capitu, amparando a viúva, parecia vencer-se a si mesma. Consolava a outra, queria arrancá-la dali. A confusão era geral. No meio dela, Capitu olhou alguns instantes para o cadáver tão fixa, tão apaixonadamente fixa, que não admira lhe saltassem algumas lágrimas poucas e caladas...”
- (D) Enfim, chegou a hora da encomendação e da partida. Sancha quis despedir-se do marido, e o desespero daquele lance consternou a todos. Muitos homens choravam também, as mulheres todas. Só Capitu, amparando a viúva, parecia vencer-se a si mesma. Consolava a outra, queria arrancá-la dali. A confusão era geral. No meio dela, Capitu olhou alguns instantes para o cadáver tão fixa, tão apaixonadamente fixa, que não admira lhe saltassem algumas lágrimas poucas e caladas...”
- (E) Enfim, chegou a hora da encomendação e da partida. Sancha quis despedir-se do marido, e o desespero daquele lance consternou a todos. Muitos homens choravam também, as mulheres todas. Só Capitu, amparando a viúva, parecia vencer-se a si mesma. Consolava a outra, queria arrancá-la dali. A confusão era geral. No meio dela, Capitu olhou alguns instantes para o cadáver tão fixa, tão apaixonadamente fixa, que não admira lhe saltassem algumas lágrimas poucas e caladas...”

44. A imagem a seguir, do Microsoft Word 2010, em sua configuração original, acessada no grupo Configurar Página, da guia Layout da Página, refere-se ao recurso



- (A) Tabela.
- (B) Alinhamento.
- (C) Colunas.
- (D) Margens.
- (E) Quebra de página.

45. Tem-se a seguinte planilha, editada no Microsoft Excel 2010, em sua configuração padrão:

	A	B	C	D
1	Item	Valor	Valor acumulado	
2	1	10	10	
3	2	20	30	
4	3	30		
5	4	40		
6				

Considerando que a célula C3 tem a fórmula =B3+C2, assinale a alternativa que apresenta o conteúdo correto nas células C4 e C5, respectivamente, ao se selecionar a célula C3, pressionar CTRL+C e depois selecionar as células C4 e C5 ao mesmo tempo, e pressionar CTRL+V.

- (A) 40 e 70.
- (B) 40 e 50.
- (C) 60 e 100.
- (D) 70 e 140.
- (E) 70 e 150.

46. Tem-se a seguinte planilha, criada no Microsoft Excel 2010, em sua configuração padrão:

	A	B	C
1	Nome	Despesa	
2	João	10	
3	Paula	20	
4	Mariana	30	
5	Ricardo	40	
6	Rafael	50	
7	Natália	60	
8	Adriana	70	
9		280	
10			

Considerando que a célula B9 contém a fórmula =SOMA(B2:B8), ao se ocultarem as linhas 4 e 5, assinale a alternativa que indica o resultado correto que é apresentado na célula B9.

(A)

	A	B
1	Nome	Despesa
2	João	10
3	Paula	20
6	Rafael	50
7	Natália	60
8	Adriana	70
9		210

(B)

	A	B
1	Nome	Despesa
2	João	10
3	Paula	20
6	Rafael	50
7	Natália	60
8	Adriana	70
9		#ERRO

(C)

	A	B
1	Nome	Despesa
2	João	10
3	Paula	20
6	Rafael	50
7	Natália	60
8	Adriana	70
9		70

(D)

	A	B
1	Nome	Despesa
2	João	10
3	Paula	20
6	Rafael	50
7	Natália	60
8	Adriana	70
9		0

(E)

	A	B
1	Nome	Despesa
2	João	10
3	Paula	20
6	Rafael	50
7	Natália	60
8	Adriana	70
9		280


47. Assinale a alternativa que apresenta corretamente quantas vezes a tecla ENTER precisa ser pressionada, no Microsoft PowerPoint 2010, em sua configuração padrão, para que, a partir do primeiro slide sendo apresentado no modo de exibição, seja exibido o slide número 6.



- (A) 1
(B) 2
(C) 3
(D) 4
(E) 5

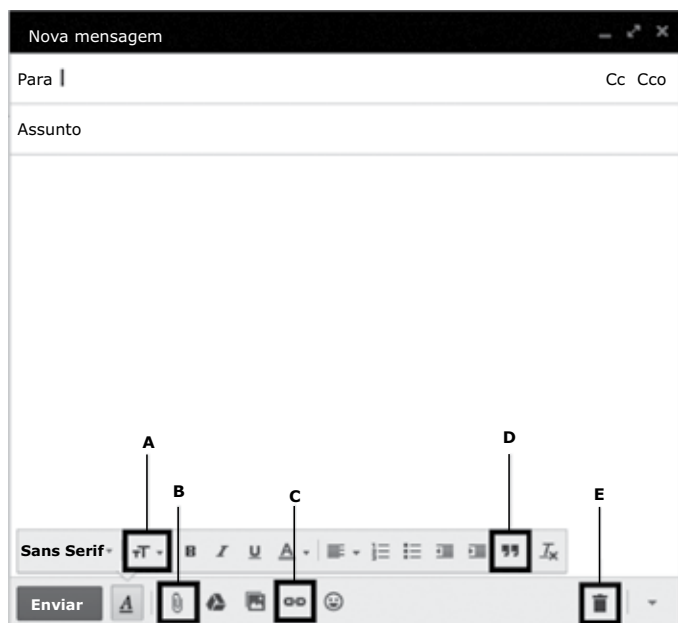
48. Durante uma apresentação com 10 slides, no Microsoft PowerPoint 2010, em sua configuração original, e com o slide 9 sendo exibido, o usuário pressionou a tecla ESC. Assinale a alternativa que apresenta o resultado correto da operação.

- (A) Foi exibido o slide 8.
(B) A apresentação retornou para o slide 1.
(C) A apresentação foi finalizada.
(D) Uma tela em branco foi exibida.
(E) A apresentação foi para o último slide.

49. Usando o navegador Google Chrome versão 63.0, um usuário abriu uma nova aba de navegação clicando no ícone  no canto superior direito e selecionando a opção Nova janela anônima. Essa nova janela

- (A) não solicitará login e senha em nenhum web site.
(B) será gravada no computador para que seu conteúdo possa ser acessado offline.
(C) permite que o usuário acesse web sites em geral, exceto serviços de web mail.
(D) permite que o usuário acesse web sites em geral, exceto sites de compras online.
(E) não mantém registro de histórico de navegação no Google Chrome.

50. Considere a seguinte tela de preparação de mensagens de correio eletrônico do serviço de Webmail Gmail, em sua configuração padrão.



O recurso que permite anexar arquivos ao e-mail é

- (A) A.
- (B) B.
- (C) C.
- (D) D.
- (E) E.

