



PREFEITURA MUNICIPAL DE JUAZEIRO DO NORTE – CE

CONCURSO PÚBLICO – EDITAL 001/2019

ASSISTENTE SOCIAL SAD

NOME DO CANDIDATO: _____

RG: _____ ÓRGÃO EXPEDIDOR: _____

Nº DE INSCRIÇÃO

--	--	--	--	--	--	--	--	--	--

ASSINATURA: _____

LEIA COM ATENÇÃO E SIGA RIGOROSAMENTE ESTAS INSTRUÇÕES:

1. Este caderno contém 60 (sessenta) questões de múltipla escolha, numeradas de 1 (um) a 60 (sessenta).
2. Cada uma das questões apresenta um enunciado seguido de 5 (cinco) alternativas, das quais somente uma deve ser assinalada.
3. Examine se a prova está completa com a sequência numérica das questões, se há falhas ou imperfeições gráficas que causem dúvidas. Qualquer reclamação deverá ser feita durante os 20 minutos iniciais. Após esse tempo, qualquer reclamação será desconsiderada.
4. Depois de decorridas 2 (duas) horas do início da prova, será distribuído o cartão-resposta, o qual será o único documento válido para a correção. Ao recebê-lo, verifique se seu nome e seu número de inscrição estão corretos. Reclame imediatamente se houver discrepância.
5. A folha de respostas não pode ser dobrada, amassada, rasurada ou manchada. Exceto escrever uma frase com 5 (cinco) palavras no local pré-determinado, nada deve ser escrito ou registrado fora dos locais destinados às respostas. Tenha muita atenção ao marcar sua folha de respostas, pois não haverá substituição por erro do candidato. Marque sua resposta pintando completamente o espaço correspondente à alternativa de sua opção.

Ex.: A B C D E
6. A leitora de marcas não registrará as respostas em que houver falta de nitidez, uso de corretivo, marcação a lápis ou marcação de mais de uma letra. Não serão computadas questões não assinaladas.
7. Durante a prova, é proibido o intercâmbio e o empréstimo de material de qualquer natureza entre os candidatos. A tentativa de fraude, a indisciplina e o desrespeito às autoridades encarregadas dos trabalhos são faltas que implicarão a desclassificação do candidato.
8. Qualquer forma de comunicação entre candidatos implicará a eliminação de ambos do certame.
9. Não será permitido ao candidato, durante a realização das provas, portar armas, aparelhos eletrônicos de qualquer natureza, relógios, bolsas, livros, jornais e impressos em geral; bonés, chapéus, lenço de cabelo, bandanas etc.
10. É vedado o uso de telefone celular ou de qualquer outro meio de comunicação. O candidato que for flagrado portando aparelho celular ou qualquer outro meio de comunicação, durante o período de realização da prova, e/ou o aparelho celular tocar será sumariamente eliminado do certame.
11. Em caso de dúvida, durante a prova, levante o braço para solicitar atendimento da fiscalização. Jamais pergunte em voz alta.
12. Ao terminar a resolução da prova, entregue-a ao fiscal de sala juntamente com **a folha de respostas**. Não se esqueça de **assinar a folha de frequência**.
13. O candidato que permanecer na sala de provas, por mais de 3h30min, poderá levar consigo o caderno de provas, fornecido pela **ORGANIZADORA**.
14. As provas terão duração de 4 (quatro) horas com início às 08h e término às 12h. O candidato só poderá ausentar-se da sala depois de decorridas duas horas do início das provas.
15. Os **Gabaritos Preliminares das Provas Objetivas** serão divulgados 72 (setenta e duas) horas após a realização das mesmas.

RASCUNHO

CONHECIMENTOS GERAIS

Leia o texto para responder às questões 1 a 10.

Soneto

Aquela triste e leda madrugada,
cheia toda de mágoa e piedade,
enquanto houver no mundo saudade,
quero que seja sempre celebrada.

Ela só, quando amena e marchetada
saía, dando ao mundo claridade,
viu apartar-se duma outra vontade,
que nunca poderá ser apartada.

Ela só viu as lágrimas em fio,
que duns e doutros olhos derivadas,
se acrescentaram em grande largo rio.

Ela viu as palavras magoadas
que puderam tornar o fogo frio,
e dar descanso às almas condenadas.

Luís Vaz de Camões.

Com base no texto e em seus conhecimentos, responda às questões a seguir.

1. O soneto trata de uma dor. É a dor de um(a)

- a) ausência de viagem.
- b) desencontro fortuito.
- c) prejuízo financeiro.
- d) separação amorosa.
- e) conversa interrompida.

2. A dor de que fala o soneto está descrita nos versos

- a) 1/2.
- b) 3/4.
- c) 5/6.
- d) 7/8.
- e) 12/13.

3. O sentido de fogo no texto é o de um(a)

- a) fogueira muito grande.
- b) brasa fumegante.
- c) simples elemento da natureza.
- d) grande paixão amorosa.
- e) imensa dor

4. No primeiro verso, a figura nele existente é chamada

- a) catacrese.
- b) eufemismo.
- c) antítese.
- d) hipérbole.
- e) metonímia.

5. Quando o autor fala da madrugada, percebe-se aí que há uma

- a) ironia.
- b) alusão.
- c) simpatia.
- d) personificação.
- e) revolta.

6. A repetição do pronome ela no início das três últimas estrofes constitui uma

- a) anáfora.
- b) onomatopéia.
- c) metonímia.
- d) elipse.
- e) hipérbato.

7. A expressão [...] às almas condenadas exerce a função sintática de

- a) adjunto adnominal.
- b) adjunto adverbial.
- c) complemento nominal.

- d) objeto direto.
- e) objeto indireto.

8. Ela, nas três últimas estrofes, é sujeito e refere-se à

- a) claridade.
- b) vontade.
- c) madrugada.
- d) saudade.
- e) piedade.

9. No primeiro quarteto, é CORRETO afirmar que existe(m)

- a) dois períodos simples.
- b) um objeto direto oracional.
- c) um pronome relativo.
- d) uma oração coordenada adversativa.
- e) objeto indireto.

10. Está CORRETA a análise sintática de um dos trechos extraídos do soneto

- a) ... enquanto houver no mundo saudade, – oração coordenada adversativa.
- b) ... quero que seja sempre lembrada. – oração principal.
- c) ... que puderam tornar o fogo frio – oração subordinada adjetiva.
- d) ... as palavras magoadas – sujeito simples.
- e) .. que nunca poderá ser apartada – oração subordinada substantiva

11. Há vocábulos da Língua Portuguesa que podem ser escritos com ou sem acento gráfico sem mudança de sentido. Assinale a alternativa em que não pode ocorrer esta duplicidade.

- a) Boêmia / boemia.
- b) Ômega / omega.
- c) Rúbrica / rubrica.
- d) Hieróglifo / hieroglifo.
- e) Ortoépia / ortoepia.

12. Só em uma alternativa, todos os vocábulos estão acentuados corretamente. Assinale-a.

- a) Feiúra / epopéia / saúde.
- b) Projétil / ínterim / vôo.
- c) Tórax / álcool / mártir.
- d) Cárie / júnior / gratuito.
- e) Nóbél / íbero / fortuíto.

13. Não há antonímia em

- a) Declive / aclave.
- b) Medroso / intemerato.
- c) Inópia / abundância.
- d) Soberba / humildade.
- e) Ratificar / vetar.

14. Está CORRETA a classificação morfológica dos vocábulos retirados do texto.

- a) ... enquanto (v. 3) – advérbio de dúvida.
- b) ... que (v. 4) – pronome relativo.
- c) ... quando (v. 5) – conjunção temporal.
- d) ... que (v. 8) – conjunção integrante.
- e) ... só (v. 9) – pronome demonstrativo.

15. Está INCORRETA a afirmação sobre verbo.

- a) Haver e ir são verbos regulares; reaver e precaver-se, anômalos.
- b) Os tempos compostos são formados com os verbos ter e haver.
- c) Existem dois tipos de voz passiva: a analítica e a sintética.
- d) Voz passiva e passividade não devem ser confundidas.
- e) As vozes verbais são: ativa, passiva e reflexiva.

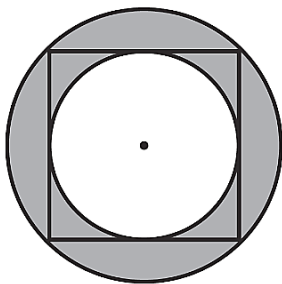
16. Está INCORRETA a conjugação verbal em

- Certos motoristas só freiam em cima do obstáculo.
- O juiz medeia as discussões.
- Os manifestantes incendiam os ônibus.
- Nós receamos viajar de avião.
- Minha irmã nunca se maquia.

17. Fiz um teste com meu carro para saber se o marcador de combustível estava informando uma leitura correta. Quando o marcador indicava $\frac{1}{4}$ (um quarto), eu fui ao posto de combustível e completei o tanque inserindo 40 litros de gasolina. O manual do veículo dizia que o tanque é de 50 litros, então pude concluir que

- o marcador mostra o volume correto.
- está indicando menos combustível do que deveria mostrar.
- está indicando o dobro de combustível do que deveria mostrar.
- está indicando a metade de combustível do que deveria mostrar.
- está indicando mais combustível do que deveria mostrar.

18. Na figura a seguir, o quadrado tem lado igual a 4cm.



Qual é o valor da área destacada em cinza?

- $2\pi \text{ cm}^2$.
- 4 cm^2 .
- $4\pi \text{ cm}^2$.
- $8\pi \text{ cm}^2$.
- 8 cm^2 .

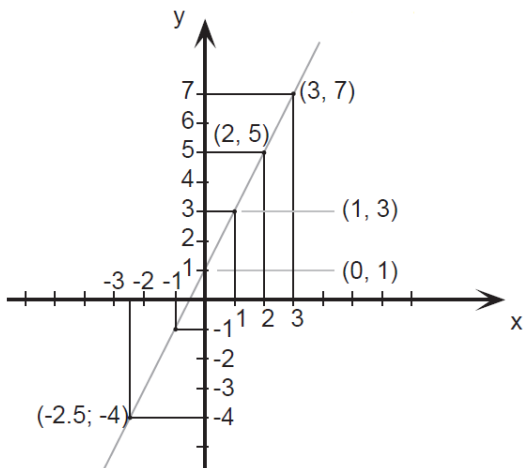
19. O valor de uma bola que eu quero comprar é representado pelo produto das raízes da equação

$$x^2 - 9x + 20 = 0$$

Logo o valor da bola é

- 10.
- 20.
- 30.
- 40.
- 50.

20. Esse é o gráfico representa alguns pontos e um segmento traçado da função $f(x) = 2x + 1$. Julgue as afirmações a seguir.



Assinale a alternativa CORRETA.

A: $f(x)$ é uma função crescente.

B: $f(x)$ é uma função par.

C: $f(0) = 0$.

- A – verdadeira / B – falsa / C – verdadeira.
- A – verdadeira / B – falsa / C – falsa.
- A – falsa / B – falsa / C – falsa.
- A – verdadeira / B – verdadeira / C – falsa.
- A – verdadeira / B – verdadeira / C – verdadeira.

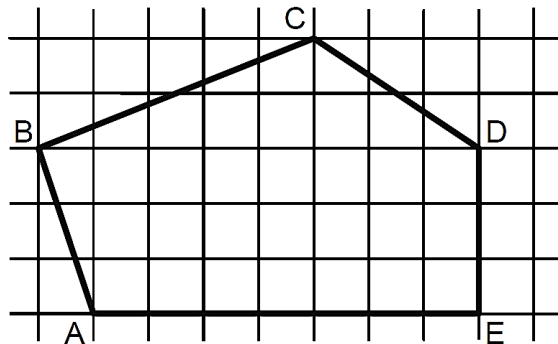
21. Seja $A = \left(1 + \frac{r}{n}\right)^n$. Se o valor de $r = 2$ e $n = 4$, essa expressão vale

- 4.
- 4,5.
- 2,25.
- 9.
- 1,5.

22. Uma indústria farmacêutica desenvolveu um novo remédio líquido o qual irá vender em frascos com capacidade de 16 mililitros cada. Para embalar 800 litros desse novo remédio, o número mínimo de frascos necessários é

- 50.000.
- 15.000.
- 500.000.
- 5.000.
- 100.000.

23. Sabendo que a área de cada quadrado formado pelas linhas finas é igual a 2m^2 , qual é a área do polígono ABCDE destacado pelas linhas grossas?



- 60m^2 .
- 32m^2 .
- 56m^2 .
- 51m^2 .
- 61m^2 .

24. Um clube com 180 sócios está elegendo o novo presidente por meio de votação. São apenas dois candidatos: candidato A e Candidato B. No momento, o candidato A possui $\frac{1}{4}$ dos votos e o candidato B $\frac{2}{5}$. Se todos os votos restantes forem para o candidato A, e se nenhum sócio deixar de votar, então ele será eleito com uma quantidade de votos a mais que o candidato B igual a

- 36.
- 12.
- 50.
- 77.
- 72.

25. Sabe-se que $1.000 \text{ litros} = 1 \text{ m}^3$. Então qual é o volume de água de uma caixa d'água de base retangular de $0,5\text{m}$ por $1,2\text{m}$ e altura de 2m ?

- 1500 litros.
- 1200 litros.
- 2400 litros.
- 1000 litros.
- 1400 litros.

26. Três plantações de cana-de-açúcar são pulverizadas por 3 aviões diferentes em horários, também, diferentes. O primeiro avião pulveriza de 4 em 4 horas, o segundo, de 5 em 5 horas e o terceiro de 7 em 7 horas. Todos decolaram no mesmo horário. Quantas horas depois eles decolarão juntos pela 3ª vez?

- 280 horas.
- 140 horas.
- 420 horas.
- 70 horas.
- 200 horas.

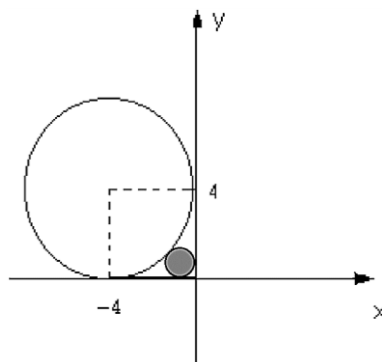
27. Quatro funcionários de uma empresa são capazes de atender, em média, 35 pessoas por hora. Diante disso, espera-se que sete funcionários, com a mesma capacidade operacional dos primeiros, sejam capazes de atender, por hora, uma média de

- 18.
- 36.
- 12.
- 20.
- 42.

28. Em uma eleição, à qual concorriam três candidatos, votaram 1.500 eleitores. O candidato A obteve 376 votos, o B, 645 votos e o C 299 votos. A porcentagem de votos brancos ou nulos foi de

- 12%.
- 10%.
- 15%.
- 18%.
- 22%.

29. Qual expressão representa a área do círculo, destacado em cinza, da figura a seguir? Obs: O círculo destacado tangencia os eixos e a circunferência maior.



- $\pi(2(\sqrt{2}))^2$.
- $\pi(4(\sqrt{2}-1))^2$.
- $\pi(2(\sqrt{2}-1))^{1/2}$.
- $\pi(2(\sqrt{2}-2))^2$.
- $\pi(2(\sqrt{2}-1))^2$.

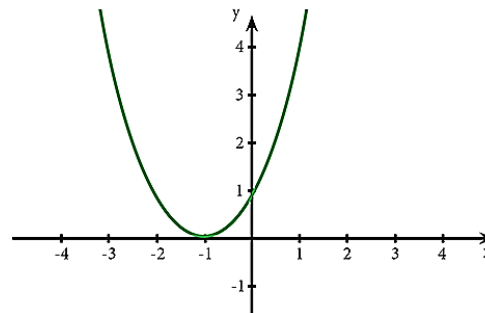
30. Reduzindo a expressão numérica $\frac{25}{\sqrt{3}} - \frac{5}{2\sqrt{3}} + \frac{10}{4\sqrt{3}}$ obtemos o valor.

- $\frac{5}{\sqrt{3}}$.
- $\frac{25}{3}$.
- $\frac{100}{\sqrt{3}}$.
- $\frac{20}{\sqrt{3}}$.
- $\frac{90}{\sqrt{3}}$.

31. Saíram, de Fortaleza para Juazeiro do Norte, três ônibus, simultaneamente transportando 138 passageiros. Sabe-se que no primeiro ônibus viajaram 9 passageiros a mais do que no segundo e, neste, 3 passageiros a menos que no terceiro. Nessas condições, é correto afirmar que o número de passageiros transportados em um dos ônibus é

- 45.
- 40.
- 38.
- 30.
- 35.

32. Para o gráfico de uma equação de segundo grau a seguir, assinale a afirmação verdadeira relativo ao seu valor de delta Δ .



- $\Delta =$ indeterminado.
- $\Delta = 1$.
- $\Delta < 0$.
- $\Delta = 0$.
- $\Delta > 0$.

33. A produção, conservação e transmissão da cultura popular é o objetivo principal dos Mestres da Cultura no Ceará. Em Juazeiro do Norte encontram-se entre alguns de seus representantes e suas respectivas atividades:

- Mestre Pedro Bandeira representou Juazeiro em 2017 com as atividades de cantoria, repente e atividade de cordel.
- Mestre Tico no ano de 2015 tornou-se Mestre da Cultura com reisado.
- Mestre Geraldo Ramos foi considerado Mestre da Cultura com a atividade artesanato de relojoaria de torre, coluna e sinos de igreja.
- Mestre Maurício Flandeiro destacou-se em 2010 na arte de trabalhar com flandres.

Marque a opção que apresenta as afirmativas CORRETAS.

- I – II – III – IV.
- II – III – IV.
- I – II.
- I – III – IV.
- I – II – IV.

34. A Secretaria da Cultura do Estado do Ceará (Secult) Com o Edital do Tesouros Vivos da Cultura 2018, contemplou 11 (onze) novos Mestres e Mestras da Cultura. Entre eles são de Juazeiro do Norte

- Francisco Gildamir de Sousa Chagas, Edite Dias de Oliveira Silva e José Maria Pereira dos Santos.
- Adrião Sisnando de Araújo, Antônio Ferreira Evangelista e Expedito Antonio do Nascimento.
- Maria Josefa da Conceição, Raimunda Rodrigues Teixeira e João Pedro de Carvalho Neto.
- Francisco Alves de Freitas, Aécio Rodrigues de Oliveira e Antônio Ferreira Evangelista.
- Edite Dias de Oliveira Silva, Adrião Sisnando de Araújo e João Pedro de Carvalho Neto.

35. Sobre a emancipação política de Juazeiro do Norte, analise as afirmativas a seguir.

- I. Uma das causas que contribuiu para a emancipação de Juazeiro do Norte da condição de distrito do Crato foi a popularidade de Padre Cícero e o grande contingente de viajantes que o religioso atraía. Tal fato se intensificou após o chamado “Milagre” de Juazeiro que acirrou ainda mais a rivalidade com o Crato que temia perder sua hegemonia no vale do Cariri.
- II. Apesar da forte influência religiosa, Padre Cícero Romão Batista não teve uma forte atuação nos movimentos de emancipação de Juazeiro, temendo criar rugas com os oligarcas do Crato com os quais tinha uma boa relação.
- III. Após a emancipação de Juazeiro em 1911, Padre Cícero tornou-se intendente de Juazeiro, manobra que buscava apaziguar os conflitos entre coronéis do Crato e de Juazeiro.

Marque a opção que indica a(s) afirmativa(s) CORRETA(S).

- a) I.
- b) II.
- c) I – II – III.
- d) I – II.
- e) I – III.

36. As Cidades de Quixadá e Juazeiro do Norte estão respectivamente localizadas a que posição cartográfica da cidade de Fortaleza?

- a) Sul / sul.
- b) Leste / norte.
- c) Sudeste / sul.
- d) Norte / sudeste.
- e) Sul / sudeste.

37. Leia o texto a seguir.

“Penso que, se formos realistas, somos capazes de chegar a um acordo sobre a primeira etapa dessas negociações, o tratado sobre o Brexit, dentro de seis a oito semanas”, disse Barnier numa conferência na Eslovênia. “O Reino Unido decidiu sair em março do próximo ano”, 29 de março, referiu. “Tendo em conta o processo de ratificação da Câmara dos Comuns por um lado, do Parlamento Europeu e do Conselho por outro, devemos chegar a um acordo antes do princípio de novembro. Penso que é possível”, acrescentou. O objetivo inicial das negociações era chegar a um acordo antes da Cimeira europeia de 18 de outubro em Bruxelas, ou seja, dentro de menos de seis semanas. A principal questão por resolver nas negociações é a da fronteira entre a província britânica da Irlanda do Norte e a República da Irlanda, membro da UE. Observadores admitem que, na Cimeira prevista para 20 de setembro em Salzburgo, na Áustria, os líderes europeus anunciem uma Cimeira extraordinária sobre o Brexit para novembro.

(Extraído de <https://24.sapo.pt/actualidade/artigos/uniao-europeia-considera-realista-acordo-para-o-brexit-dentro-de-seis-a-oito-semanas>)

Segundo o texto, podemos depreender que os(a)

- a) blocos econômicos não possuem nenhum tipo de conflito político.
- b) União Europeia apenas se preocupa com ideais da Inglaterra e Alemanha.
- c) conflitos espaciais e econômicos continuam, mesmo na implantação de blocos econômicos.
- d) saída do Reino Unido exclusivamente deve-se à xenofobia, característica de países mais desenvolvidos.
- e) pressão dos EUA fez com que o Reino Unido saísse da União Europeia pela falta de competitividade econômica.

38. Sobre a estimativa da população em 2018 que foi divulgada pelo Instituto Brasileiro de Geografia e Estatística (IBGE), Fortaleza destacou-se como a 6ª Região Metropolitana mais populosa do Brasil, com 4.074.730 milhões de habitantes. A líder da lista é São Paulo com 21.571.281 milhões. Fortaleza tem a maior Região Metropolitana do Nordeste à frente de Recife (PE) e Salvador (BA).

Segundo o texto, a Cidade de Fortaleza é uma das maiores cidades, em população, do Brasil. Neste quesito, quais fatores demográficos podem ser associados?

- a) Proximidade do litoral, favorecendo o maior aproveitamento da cidade devido aos ventos e à pluviometria.
- b) A forte migração do século XX, resultante principalmente da rápida urbanização e do êxodo rural.
- c) Pela industrialização e a urbanização rápidas que favorecera maior número de empregos na RMF para populações que possuíam exclusivamente ensinos mais avançados.
- d) Pela RMF ser uma das metrópoles mais avançadas do Planeta, sendo, assim, atrator de vários migrantes de vários países.
- e) Pelas políticas públicas que obrigavam vários interioranos a morarem em Fortaleza.

39. Leia as afirmativas a seguir.

- I. A Ética constitui o momento objetivo da vivência e da experiência dos valores. Consiste, assim, no conjunto de valores que são criados por determinada sociedade.

NESSE SENTIDO:

- II. A moral expressaria o momento subjetivo de um comportamento ético; moral seria a capacidade do indivíduo de formular suas próprias opiniões e pautas de comportamento (com base nos valores éticos estabelecidos) e optar por aquele que considerar mais correto e justo.

Marque a opção que apresenta a afirmativa CORRETA.

- a) A afirmativa I é correta e a afirmativa II é incorreta.
- b) A afirmativa I é incorreta e a afirmativa II é correta.
- c) Ambas as afirmativas I e II estão incorretas.
- d) As afirmativas I e II estão corretas e entre elas há uma relação de complementariedade.
- e) As afirmativas I e II estão corretas, mas a II afirmativa não estabelece nenhuma relação com a I afirmativa.

40. São características da Ética e da Moral.

- I. A Ética, em sua dimensão teórica, não é uma prescrição de princípios definidos abstratamente. Seu conteúdo é a prática ético-moral dos homens.
- II. A Ética é a referência valorativa que estabelece os parâmetros das relações dos indivíduos com a sociedade.
- III. A reflexão ética é construída, historicamente, no âmbito da Filosofia, tendo por objeto a moral.
- IV. A moral tem sua gênese na capacidade ética de criar valores que servem de referência à conduta dos indivíduos em sua convivência social.
- V. Todo ato moral supõe uma relação moral com o outro, com os grupos ou com a comunidade.

Marque a opção que apresenta as afirmativas CORRETAS.

- a) I – II – III.
- b) II – III – IV.
- c) I – II – III – V.
- d) I – III – IV.
- e) I – II – III – IV – V.

CONHECIMENTOS ESPECÍFICOS

41. A Lei de Regulamentação da Profissão – Lei 8.662/93 – dispõe sobre a profissão de Assistente Social e dá outras providências. Analise as afirmativas a seguir acerca daquelas que constituem atribuições privativas do Assistente Social e marque (V) para as VERDADEIRAS e (F) para as FALSAS.

- () Coordenar, elaborar, executar, supervisionar e avaliar estudos, pesquisas, planos, programas e projetos na área de Serviço Social.
- () Planejar, organizar e administrar Serviços Sociais e de Unidade de Serviço Social.
- () Realizar estudos socioeconômicos com os usuários para fins de benefícios e serviços sociais junto a órgãos da administração pública direta e indireta, empresas privadas e outras entidades.

() Assumir, no magistério de Serviço Social tanto a nível de graduação como de pós-graduação, disciplinas e funções que exijam conhecimentos próprios e adquiridos em curso de formação regular.

Marque a opção que apresenta a sequência CORRETA.

- a) V – V – F – F.
- b) V – F – V – V.
- c) V – F – F – V.
- d) V – V – V – V.
- e) V – V – V – F.

42. A Lei Orgânica da Assistência Social – Lei 8.742/93 – dispõe sobre a Organização da Assistência Social e dá outras providências. É objetivo da assistência social , a

- a) proteção social, que visa à perpetuação da vida, à prevenção de danos e à redução da incidência de riscos.
- b) habilitação e reabilitação das pessoas com deficiência e a promoção de sua integração à vida comunitária.
- c) defesa de direitos que visa analisar territorialmente a capacidade protetiva das famílias e nela a ocorrência de vulnerabilidades, de ameaças, de vitimizações e de danos.
- d) vigilância socioassistencial que visa garantir o pleno acesso aos direitos no conjunto das provisões socioassistenciais.
- e) garantia de 1 (um) salário-mínimo de benefício mensal a qualquer indivíduo que comprove não possuir meios de prover a própria manutenção ou de tê-la provida por sua família.

43. O Código de Ética Profissional preceitua os deveres do/a assistentes social. Assinale a assertiva INCORRETA.

- a) Desempenhar suas atividades profissionais com eficiência e responsabilidade, observando a legislação em vigor.
- b) Utilizar seu número de registro no Conselho Regional no exercício da profissão.
- c) Abster-se, no exercício da profissão, de práticas que caracterizem a censura, o cerceamento da liberdade, o policiamento dos comportamentos, denunciando sua ocorrência aos órgãos competentes.
- d) Participar de programas de socorro à população em situação de calamidade pública, no atendimento e defesa de seus interesses e necessidades.
- e) Pronunciar-se em matéria de sua especialidade, sobretudo quando se tratar de assuntos de interesse da população.

44. O projeto da modernização conservadora, implementado pelo Estado pós-64, põe novas demandas à profissão, consolidando a necessidade de sua renovação; abre um espaço à explicitação de diferentes projetos profissionais deslegitimando a homogeneidade do Serviço Social tradicional. Ainda que limitado em seu potencial político, o ethos de ruptura desenvolve-se no interior da academia, donde o aparecimento, nos anos 70, de elaborações teóricas, orientadas pelo marxismo, apontam para um debate teórico-metodológico significativo. Destaca-se a primeira expressão teórica dessa vertente, fruto deste peculiar projeto de ruptura no interior da autocracia burguesa que é o

- a) II Congresso Brasileiro de Serviço Social.
- b) Seminário do Sumaré.
- c) Manual de Desenvolvimento de Comunidade.
- d) Seminário do Alto da Boa Vista.
- e) Método BH.

45. Leia a afirmativa a seguir.

A presença do conservadorismo moral, no contexto de origem do Serviço Social, é evidenciada: na formação profissional, no projeto social do (a) _____ e na cultura brasileira, através das ideias _____.

Marque a opção que preenche corretamente as respectivas lacunas.

- a) Igreja Católica / marxistas.
- b) classe burguesa / funcionalistas.
- c) Estado / socialistas.
- d) Igreja Católica / positivistas.
- e) Estado / neotomistas.

46. Leia a afirmativa a seguir.

O Estado moderno, longe de representar o bem comum, expressou, no decurso da história, o campo de lutas advindo das contradições da sociedade, com claro predomínio dos interesses da burguesia que o prescreveu como regulador contratual da sociedade industrial. Contudo, foi apenas no século XX, na Grã-Bretanha, com _____ que o princípio fundamental do chamado Estado de Bem-Estar teve afirmação com a seguinte conotação: de proteção social básica; com um Estado como protetor das necessidades coletivas.

Marque a opção que preenche corretamente a lacuna.

- a) Aneurin Bevan.
- b) Clement Attlee.
- c) John Milton.
- d) William Beveridge.
- e) Angus Deaton.

47. Numere a coluna B pela coluna A, identificando os eventos que configuram as mudanças no mundo da produção, as tecnologias e a nova condição do trabalho e de sua reprodução.

COLUNA A

- I. Acumulação flexível.
- II. Ohnismo/ Toyotismo.
- III. Just in e Kanban.
- IV. Reestruturação produtiva.
- V. Globalização.

COLUNA B

- () Asseguram o controle de qualidade e o estoque.
- () Flexibilidade dos processos de trabalho, dos mercados de trabalho, dos produtos e padrões de consumo.
- () É chamada produção flexível, baseada em tecnologias capital-intensivas e poupadoras de mão de obra.
- () Processo de mundialização da economia, nova configuração do capitalismo mundial.
- () Revolução tecnológica e organizacional na produção.

Marque a opção que apresenta a sequência CORRETA.

- a) II – I – IV – V – III.
- b) III – I – II – V – IV.
- c) IV – II – I – III – V.
- d) II – III – IV – V – I.
- e) III – IV – II – I – V.

48. O mundo do trabalho viveu situação fortemente crítica, transformando o próprio processo produtivo e repercutindo nas relações de trabalho. De um lado, o operário passa a operar máquinas informatizadas, de outro há a intensificação levada ao limite das formas de exploração do trabalho, presentes e em expansão no novo proletariado, no subproletariado industrial e de serviços. Quais expressões representaram a lógica do capital nessa nova configuração do mundo do trabalho?

- a) Avanço tecnológico; acumulação flexível; ampliação dos direitos sociais.
- b) Homogeneização; simplificação das relações trabalhistas; sindicalismo.
- c) Desregulamentação; flexibilização; terceirização.
- d) Polivalência; trabalhadores médios; pleno emprego.
- e) Informatização; intensificação; estabilidade profissional.

49. O Código de Ética Profissional preceitua competências do Conselho Federal de Serviço Social. Assinale a assertiva INCORRETA.

- a) Funcionar como órgão julgador de primeira instância.
- b) Funcionar como Tribunal Superior de Ética Profissional.
- c) Introduzir alteração neste Código, através de uma ampla participação da categoria, num processo desenvolvido em ação conjunta com os Conselhos Regionais.
- d) Firmar jurisprudência na observância deste Código e nos casos omissos.
- e) Zelar pela observância dos princípios e das diretrizes deste Código, fiscalizando as ações dos Conselhos Regionais e a prática exercida pelos profissionais, pelas instituições e organizações na área do Serviço Social.

50. De acordo com a Lei 8.212/91 que dispõe sobre a organização da Seguridade Social, e institui Plano de Custeio, e dá outras providências, a Previdência Social tem por fim assegurar aos seus beneficiários meios indispensáveis de manutenção. Entre os eventos e indivíduos cobertos pela Previdência Social, é CORRETO afirmar que se enquadra conforme o Art 3º da referida Lei,

- a) o desemprego voluntário.
- b) a doença não incapacitante.
- c) a pessoa com deficiência que comprove não possuir meios de prover a própria manutenção.
- d) o idoso que comprove não possuir meios de prover a própria manutenção ou de tê-la provida por sua família.
- e) os encargos de família.

51. Considerando a Lei nº 8.842/94 que fixa a Política Nacional do Idoso, assinale a afirmativa INCORRETA.

- a) A Política Nacional do Idoso tem por objetivo assegurar os direitos sociais do idoso, criando condições para promover sua autonomia, integração e participação efetiva na sociedade.
- b) Considera-se idoso, para os efeitos desta Lei, a pessoa maior de sessenta anos de idade.
- c) As diferenças econômicas, sociais, regionais e, particularmente, as contradições entre o meio rural e o urbano do Brasil não deverão ser observadas pelos poderes públicos e pela sociedade em geral, na aplicação desta Lei.
- d) A família, a sociedade e o Estado têm o dever de assegurar ao idoso todos os direitos da cidadania, garantindo sua participação na comunidade, defendendo sua dignidade, bem-estar e o direito à vida.
- e) O processo de envelhecimento diz respeito à sociedade em geral, devendo ser objeto de conhecimento e informação para todos.

52. O Estatuto do Idoso, Lei 10.741/2003, estabelece no Art. 17 que ao idoso que esteja no domínio de suas faculdades mentais é assegurado o direito de optar pelo tratamento de saúde que lhe for reputado mais favorável. Entretanto, não estando o idoso em condições de proceder à opção, esta será feita por terceiros. Numere a coluna B pela coluna A, identificando os respectivos responsáveis conforme cada situação.

COLUNA A

- I. Curador.
- II. Familiares.
- III. Médico.

COLUNA B

- () Quando ocorrer iminente risco de vida e não houver tempo hábil para consulta a curador ou a familiar.
- () Quando não houver curador ou familiar conhecido.
- () Quando o idoso for interditado.
- () Quando o idoso não tiver curador ou este não puder ser contactado em tempo hábil.
- () Deverá comunicar o fato ao Ministério Público.

Marque a opção que apresenta a sequência CORRETA.

- a) III – III – I – III – III.
- b) III – III – I – II – III.
- c) III – II – II – III – II.
- d) III – III – II – III – II.
- e) III – III – I – II – II.

53. Em relação à assistência à saúde prevista no Estatuto da Criança e do Adolescente, Lei nº 8069/90, analise as afirmativas a seguir e marque (V) para as VERDADEIRAS e (F) para as FALSAS.

() As entidades de atendimento são responsáveis pela manutenção das próprias unidades, assim como pelo planejamento e pela execução de programas de proteção e socioeducativos destinados a crianças e adolescentes.

() As entidades governamentais e não governamentais deverão proceder à inscrição de seus programas, especificando os regimes de atendimento, na forma definida neste artigo, no Conselho Tutelar, o qual manterá registro das inscrições e de suas alterações, do que fará comunicação ao Conselho Municipal dos Direitos da Criança e do Adolescente e à autoridade judiciária.

() A política de atendimento dos direitos da criança e do adolescente se fará através de um conjunto articulado de ações governamentais e não governamentais, da União, dos Estados, do Distrito Federal e dos Municípios.

() A função de membro do Conselho Nacional e dos Conselhos Estaduais e Municipais dos direitos da criança e do adolescente é considerada de interesse público relevante e será remunerada.

Marque a opção que apresenta a sequência CORRETA.

- a) V – F – V – F.
- b) V – V – V – V.
- c) V – V – F – V.
- d) F – V – F – V.
- e) V – V – F – F.

54. Por meio da Lei nº 13.146 de 6 de julho de 2015, é instituída a Lei Brasileira de Inclusão da Pessoa com Deficiência. De acordo com a referida Lei, a deficiência não afeta a plena capacidade civil da pessoa, inclusive para

- a) conservar sua fertilidade, sendo permitida a esterilização compulsória.
- b) exercer o direito de decidir sobre o número de filhos, desde que apresente condições financeiras para tal.
- c) exercer o direito à família e à convivência familiar e comunitária.
- d) ter acesso a informações adequadas sobre reprodução e planejamento familiar, mediante constituição do casamento ou união estável.
- e) exercer o direito à guarda, à tutela, à curatela e à adoção, como adotante ou adotando, em prioridade às demais pessoas.

55. De acordo com a Lei nº 13.146 de 6 de julho de 2015, Lei Brasileira de Inclusão da Pessoa com Deficiência, é INCORRETO afirmar que

- a) toda pessoa com deficiência tem direito à igualdade de oportunidades com as demais pessoas e não sofrerá nenhuma espécie de discriminação.
- b) é assegurada atenção integral à saúde da pessoa com deficiência em todos os níveis de complexidade, por intermédio do SUS, garantido acesso universal e igualitário.
- c) a pessoa com deficiência será protegida de toda forma de negligência, discriminação, exploração, violência, tortura, crueldade, opressão e tratamento desumano ou degradante.
- d) a pessoa com deficiência está obrigada à fruição de benefícios decorrentes de ação afirmativa.
- e) a avaliação da deficiência, quando necessária, será biopsicossocial, realizada por equipe multiprofissional e interdisciplinar.

56. Sobre o que estabelece a Lei Orgânica da Assistência Social – Lei 8.742/93, sobre a Proteção Social Básica e sobre a Proteção Social Especial, é INCORRETO afirmar que

- a) as proteções sociais, básica e especial, serão ofertadas precipuamente no Centro de Referência de Assistência Social (Cras) e no Centro de Referência Especializado de Assistência Social (Creas), respectivamente, e pelas entidades sem fins lucrativos de assistência social.
- b) o Cras é a unidade pública municipal, de base territorial, localizada em áreas com maiores índices de vulnerabilidade e risco social, destinada à articulação dos serviços socioassistenciais no seu território de abrangência e à prestação de serviços, programas e projetos socioassistenciais de proteção social básica às famílias.
- c) o Creas é a unidade pública de abrangência e gestão municipal, estadual ou regional, destinada à prestação de serviços a indivíduos e famílias que se encontram em situação de risco pessoal ou social, por violação de direitos ou contingência, que demandam intervenções especializadas da proteção social especial.
- d) as proteções sociais básica e especial serão ofertadas pela rede socioassistencial, de forma integrada, diretamente pelos entes públicos e/ou pelas entidades e organizações de assistência social vinculadas ao Suas, respeitadas as especificidades de cada ação.
- e) fica instituído o Serviço de Proteção e Atendimento Integral à Família (Paif), que integra a proteção social especial e consiste na oferta de ações e serviços socioassistenciais de prestação continuada, nos Cras, por meio do trabalho social com famílias em situação de vulnerabilidade social, com o objetivo de prevenir o rompimento dos vínculos familiares e a violência no âmbito de suas relações, garantindo o direito à convivência familiar e comunitária.

57. De acordo com a Constituição Federal, assinale a alternativa INCORRETA sobre a composição do SUS.

- a) Ministério da Saúde – MS.
- b) Conselho Nacional do Meio Ambiente – CONAMA.
- c) Secretaria Estadual de Saúde – SES.
- d) Fiocruz, Funasa, Anvisa, ANS são órgãos que integram a estrutura do MS.
- e) Secretaria Municipal de Saúde – SMS.

58. Sobre o Sistema Único de Saúde (SUS), assinale a alternativa CORRETA.

- a) Os princípios organizativos do SUS são definidos pela integralidade, equidade e universalidade.
- b) Hierarquização e Resolutividade são parte dos princípios doutrinários.
- c) A Lei 8.080/1990 dispõe sobre a participação popular da comunidade na gestão do SUS.
- d) O controle social se dá por meio da vigilância epidemiológica.
- e) Os princípios doutrinários do SUS são definidos pela integralidade, equidade e universalidade.

59. O SUS não é uma estrutura que atua isolada na promoção dos direitos básicos de cidadania. Insere-se no contexto das políticas públicas de seguridade social que abrangem, além da saúde, a previdência e a assistência social.

Nesse sentido, o capítulo da saúde na Constituição Federal de 1988 afirma que a assistência à saúde deve abranger atividades curativas e, prioritariamente, atividades preventivas.

Em relação às diretrizes do SUS, a afirmação anterior refere-se à

- a) hierarquização das ações de saúde.
- b) universalidade de acesso aos serviços de saúde.
- c) regionalização da assistência.
- d) integralidade da assistência.
- e) igualdade da assistência.

60. Sobre o Sistema Único de Saúde (SUS), analise as afirmativas a seguir.

- I. O SUS abrange desde simples atendimento até o transplante de órgãos.
- II. O SUS garante acesso integral, universal e gratuito para toda a população do País.
- III. A gestão das ações e dos serviços de saúde deve ser solidária e participativa entre os três entes da Federação.
- IV. O SUS prioriza os trabalhadores vinculados à Previdência Social.

Marque a opção que apresenta as afirmativas CORRETAS.

- a) I – II – III – IV.
- b) I – II – IV.
- c) I – III – IV.
- d) II – IV.
- e) I – II – III.