

**PREFEITURA MUNICIPAL DE BARRETOS**  
ESTADO DE SÃO PAULO

CONCURSO PÚBLICO

**006. PROVA OBJETIVA**

**AGENTE ADMINISTRATIVO**

- ◆ Você recebeu sua folha de respostas e este caderno contendo 50 questões objetivas.
- ◆ Confira seus dados impressos na capa deste caderno e na folha de respostas.
- ◆ Quando for permitido abrir o caderno, verifique se está completo ou se apresenta imperfeições. Caso haja algum problema, informe ao fiscal da sala.
- ◆ Leia cuidadosamente todas as questões e escolha a resposta que você considera correta.
- ◆ Marque, na folha de respostas, com caneta de tinta preta, a letra correspondente à alternativa que você escolheu.
- ◆ A duração da prova é de 3 horas, já incluído o tempo para o preenchimento da folha de respostas.
- ◆ Só será permitida a saída definitiva da sala e do prédio após transcorridos 75% do tempo de duração da prova.
- ◆ Ao sair, você entregará ao fiscal a folha de respostas e este caderno, podendo levar apenas o rascunho de gabarito, localizado em sua carteira, para futura conferência.
- ◆ Até que você saia do prédio, todas as proibições e orientações continuam válidas.

**AGUARDE A ORDEM DO FISCAL PARA ABRIR ESTE CADERNO DE QUESTÕES.**

Nome do candidato \_\_\_\_\_

RG \_\_\_\_\_

Inscrição \_\_\_\_\_

Prédio \_\_\_\_\_

Sala \_\_\_\_\_

Carteira \_\_\_\_\_



Considere a tira para responder às questões de números 01 e 02.



(Charles M. Schulz. Minduim. *Estadão*. <http://cultura.estadao.com.br>)

01. Em sentido figurado, manter-se **escondido embaixo da cama** pode representar, tanto da parte do garoto quanto da parte do pai, um ato de

- (A) submissão e filantropia.
- (B) autoritarismo e pretensão.
- (C) extroversão e prepotência.
- (D) recolhimento e rebeldia.
- (E) disciplina e conformismo.

02. A expressão **de vez em quando**, no segundo quadrinho, equivale a

- (A) precocemente.
- (B) ininterruptamente.
- (C) impreterivelmente.
- (D) repentinamente.
- (E) ocasionalmente.

Leia o texto para responder às questões de números 03 a 08.

Foi no domingo passado, andando pela feira-livre aqui da Lapa e dando uma olhada nas bancas, que percebi que muitas daquelas frutas maravilhosas ali expostas simplesmente não existiam no meu tempo de menino.

O *kiwi*, por exemplo. Quando usava calças curtas, *kiwi* era aquele bichinho da Nova Zelândia, um dos poucos verbetes da letra K, na enciclopédia que ficava na estante da minha casa. Não havia tomate cereja! Vivíamos sem ele. Como não havia a lichia.

A gente não encontrava goiaba na feira, como não encontrava jabuticaba, nem carambola. Goiaba era só no pé e com bicho, não existia goiaba sem bicho. Jabuticaba, só em Sabará, e carambola, só na chácara de Dona Catarina, em Cataguases.

Laranja era a pera, a Bahia e a lima. Hoje tem até laranja Bahia importada da Espanha, sem contar o *grapefruit*, primo de primeira da laranja.

Aos poucos, novas frutas vão invadindo o mercado: uxi, xixá, tapiá, sapucaia, monguba, marolo...

Quem manteve a linha e não inventou moda foi a banana, que continua a mesma de sempre. A prata, a nanica, a maçã, a banana-da-terra e a ouro. E todas – dizem – ainda a preço de banana.

(Alberto Villas. A revolução das frutas. *CartaCapital*. [www.cartacapital.com.br](http://www.cartacapital.com.br). 01.08.2014. Adaptado)

03. A ida à feira levou o autor a

- (A) lamentar o aumento do preço das frutas.
- (B) lembrar-se de detalhes de sua infância.
- (C) criticar a qualidade das frutas vendidas.
- (D) questionar a utilidade dos mercados.
- (E) fazer conjecturas sobre hábitos futuros.

04. Uma das frutas que não eram comercializadas na feira, embora fosse conhecida pelo autor, em seu tempo de menino, é

- (A) o *kiwi*.
- (B) a lichia.
- (C) a jabuticaba.
- (D) a laranja Bahia.
- (E) o *grapefruit*.

05. A expressão destacada em “Aos poucos, novas frutas **vão invadindo** o mercado...” dá ênfase ao modo como as novas frutas

- (A) conseguem se impor de imediato ao público por serem novidade.
- (B) chegaram em um momento específico do passado.
- (C) sobrepõem-se sem resistência às frutas mais tradicionais.
- (D) ocupam o espaço de forma intensa e progressiva.
- (E) têm tido pouca aceitação do público consumidor.

06. Considere o trecho:

E todas – **dizem** – ainda a preço de banana.

Com a forma verbal em destaque nessa passagem ao final do texto, o autor dá a entender que

- (A) confia nos feirantes quando dizem que abaixaram o preço da banana.
- (B) foi informado de que o preço da banana varia conforme a época do ano.
- (C) detém a convicção de que o preço da banana irá permanecer estável.
- (D) não se interessa por comprar bananas e, desse modo, ignora seu preço.
- (E) não necessariamente acredita que o preço da banana continue baixo.

07. O trecho “Não havia tomate cereja! Vivíamos sem ele.” está reescrito de forma a apresentar a primeira afirmação como causa da segunda em:

- (A) Como não havia tomate cereja, vivíamos sem ele.
- (B) Não havia tomate cereja; contudo, vivíamos sem ele.
- (C) Mesmo não havendo tomate cereja, vivíamos sem ele.
- (D) Não havia tomate cereja e, no entanto, vivíamos sem ele.
- (E) Embora não houvesse tomate cereja, vivíamos sem ele.

08. Considere o trecho:

Aos poucos, novas frutas vão invadindo o mercado: uxi, xixá, tapiá, sapucaia, monguba, marolo...

Nessa passagem, o sinal de dois-pontos é usado para introduzir uma

- (A) síntese.
- (B) explicação.
- (C) justificativa.
- (D) emenda.
- (E) exemplificação.

09. Assinale a alternativa em que a concordância nominal está de acordo com a norma-padrão.

- (A) Dizem que uma caixa de morangos tem menas vitaminas do que uma laranja lima.
- (B) Mesmo em época de safra de lichia, essa fruta custa caro. Ela é caríssima, na verdade.
- (C) Por trazer benefícios à saúde, a banana é recomendado pelos médicos.
- (D) *Kíwi* e abacaxi: os nutricionistas consideram que os dois são benéfico para a saúde.
- (E) Já paguei ao feirante pelas frutas que consumi: agora estou quites com ele.

10. Assinale a alternativa em que a preposição destacada obedece ao princípio de regência da norma-padrão.

- (A) Carambola e laranja são as frutas **a** que mais aprecio.
- (B) Dona Catarina, **de** quem ganhei muita carambola, vivia em Cataguases.
- (C) Em geral, discordo **com** quem gosta de frutas azedas. Elas não me apetezem.
- (D) Hoje são comuns nas feiras frutas **em** que não dispúnhamos antigamente.
- (E) Até hoje prefiro comprar frutas na feira, de vendedores **por** quem confio.

Leia o texto para responder às questões de números 11 a 14.

A vida de Virginia Woolf (1882-1941), que sempre se orgulhou de ser autodidata, pode ser resumida através de uma das suas obras: *A Viagem (The Voyage Out)*. Escrito 26 anos antes de ela morrer, foi seu primeiro romance, mas pode ser definido como o livro sobre a sua vida. Nele, a reconhecida autora britânica reflete sobre suas preocupações – as pessoais e as do momento social que lhe coube viver no começo do século XX –, suas paixões e suas insônias. E tudo isso com um estilo literário em constante experimentação, procurando sempre a identidade própria de personagens com grande sensibilidade e nostalgia.

Desde seu início na literatura, Virginia Woolf sempre quis ampliar suas perspectivas de estilo para além da narração comum, com fios condutores guiados pelo processo mental do ser humano: pensamentos, consciência, visões, desejos e até odores. Perspectivas narrativas definitivamente incomuns, que incluíam estados de sono e prosa de livre associação. Sua técnica narrativa do monólogo interior e seu estilo poético se destacam como as contribuições mais importantes para o romance moderno.

Com nove romances publicados e mais de 30 livros de outros gêneros, Virginia Woolf é considerada por muitos a autora que mais revolucionou a narrativa no século XX e que mais defendeu os direitos das mulheres por meio de seus textos.

(Alberto López. Virginia Woolf, a escritora premonitória inesgotável. *El País*. <https://brasil.elpais.com>. 25.01.2018. Adaptado)

11. De acordo com o texto, uma palavra que caracteriza a escrita de Virginia Wolf é
- (A) alienação.
  - (B) concisão.
  - (C) originalidade.
  - (D) impessoalidade.
  - (E) convencionalismo.
12. Uma frase coerente com o que se afirma no primeiro parágrafo e escrita em conformidade com a norma-padrão da língua é:
- (A) Ainda que tenha sido escrito 26 anos antes de Virginia Wolf morrer, *A viagem* pode ser definido como o livro sobre a sua vida.
  - (B) *A viagem* pode ser definido como o livro sobre a vida de Virginia Wolf, na medida que foi escrito 26 anos antes da morte da autora.
  - (C) O livro *A viagem* fora escrito 26 anos antes que Virginia Wolf morreu, por isso pode ser definido como o livro sobre a sua vida.
  - (D) Tendo em vista ser escrito 26 anos antes de Virginia Wolf morrer, *A viagem* possa ser definido como o livro sobre a sua vida.
  - (E) *A viagem* pode ser definido como o livro sobre a vida de Virginia Wolf, o que se justifica por ter sido escrita 26 anos antes da morte da autora.
13. Está escrito em conformidade com a concordância da norma-padrão este livre comentário sobre o texto:
- (A) As personagens de Virginia Woolf dispõe de grande sensibilidade e densidade.
  - (B) As inquietações que couberam a ela registrar em seu livro tem origem autobiográfica.
  - (C) A escritora sempre buscou meios para que suas perspectivas de estilo se ampliasse.
  - (D) Trata-se de obras densas, que enfocam a natureza humana em sua complexidade.
  - (E) A narrativa no século XX foi revolucionado pelos escritos de Virginia Woolf.
14. Considerando-se o emprego do acento indicativo de crase, um substituto correto para a expressão destacada no trecho do texto está entre colchetes em:
- (A) A vida de Virginia Woolf ... pode ser resumida **através** de uma das suas obras... [à partir]
  - (B) ... foi seu primeiro romance, mas pode ser definido como o livro **sobre a** sua vida.... [à respeito da]
  - (C) ... a reconhecida autora britânica **reflete** sobre suas preocupações... [dedica-se à reflexão]
  - (D) Perspectivas narrativas definitivamente incomuns, **que** incluíam estados de sono... [às quais]
  - (E) ... a autora que ... mais **defendeu** os direitos das mulheres por meio de seus textos. [se voltou à defender]
15. Assinale a alternativa em que a colocação de ambos os pronomes destacados nas expressões está de acordo com a norma-padrão.
- (A) Nem sempre **nos** damos conta da importância de preservarmos-**nos** da exposição pública.
  - (B) Ainda encontram-**se** pessoas dispostas a fazer amigos fora das redes sociais, atitude que traria-**lhes** mais privacidade.
  - (C) **Nos** propomos ajudar em tudo e concentraremos-**nos** nas causas mais urgentes e humanitárias.
  - (D) Viam-**se** pessoas revoltadas, que não tinham conformado-**se** com a perda de suas casas durante o incêndio.
  - (E) Esforçam-**se** para que as mensagens do celular não distraiam-**nos** durante o expediente.

16. Em uma loja trabalham 15 funcionários, sendo  $\frac{2}{5}$  deles no período da manhã,  $\frac{2}{3}$  dos restantes no período da tarde e os demais no período da noite. Sabendo que cada funcionário trabalha em um só período, então, em relação ao número total de funcionários, aqueles que trabalham no período da noite representam

(A)  $\frac{2}{3}$

(B)  $\frac{3}{5}$

(C)  $\frac{2}{5}$

(D)  $\frac{1}{3}$

(E)  $\frac{1}{5}$

17. Em um tanque há 3 torneiras, A, B e C, todas com defeito e que pingam sem parar. A torneira A pinga a cada 20 segundos, a torneira B pinga a cada 35 segundos e a torneira C pinga a cada 15 segundos. Sabendo que as 3 torneiras pingaram juntas às 8 horas e 54 minutos, e que permaneceram assim o dia todo, sem que alguém tivesse mexido nelas, então, o próximo horário em que as 3 torneiras voltarão a pingar juntas será às

(A) 8 horas e 58 minutos.

(B) 9 horas e 01 minuto.

(C) 9 horas e 06 minutos.

(D) 9 horas e 12 minutos.

(E) 9 horas e 15 minutos.

18. Em um estacionamento onde há 85 lâmpadas, a razão entre o número de lâmpadas acesas e o número de lâmpadas apagadas é  $\frac{5}{12}$ . Se 10 lâmpadas apagadas forem

acesas, a razão entre o número de lâmpadas acesas e o número de lâmpadas apagadas passará a ser

(A)  $\frac{7}{10}$

(B)  $\frac{3}{5}$

(C)  $\frac{1}{2}$

(D)  $\frac{2}{5}$

(E)  $\frac{3}{10}$

19. Uma confeitaria comprou uma caixa de maçãs e constatou que 4% delas estavam estragadas. Entre as demais, 25% estavam verdes, e as 108 maçãs restantes foram utilizadas no preparo de doces. O número total de maçãs que havia inicialmente na caixa era

(A) 110.

(B) 120.

(C) 130.

(D) 140.

(E) 150.

20. Uma pessoa comprou 180 g de determinado tipo de queijo e pagou R\$ 4,50. A quantia máxima que se pode comprar desse queijo com R\$ 10,75 é

(A) 500 g.

(B) 480 g.

(C) 450 g.

(D) 430 g.

(E) 410 g.

21. Para a realização de um determinado serviço, um electricista comprou um rolo de fio e cortou vários pedaços de tipos: A, B e C. A tabela mostra o número de pedaços de cada tipo e seu respectivo comprimento unitário.

Tipos	Nº de pedaços	Comprimento de 1 pedaço
A	5	?
B	8	75 cm
C	3	1,2 m

Considerando-se o número total de pedaços cortados, na média, o comprimento de um pedaço era 85 cm. O comprimento de um pedaço do tipo A era

- (A) 78 cm.  
 (B) 80 cm.  
 (C) 83 cm.  
 (D) 86 cm.  
 (E) 90 cm.
22. Um capital de R\$ 1.350,00 foi aplicado a juros simples, com taxa trimestral de 2,4%. Para se obterem juros de R\$ 64,80, o tempo de duração dessa aplicação deverá ser de
- (A) 4 meses.  
 (B) 5 meses.  
 (C) 6 meses.  
 (D) 7 meses.  
 (E) 8 meses.
23. Em uma planilha há 192 espaços a serem preenchidos, distribuídos em linhas e colunas. A figura mostra um pedaço dessa planilha.

	Coluna 1	Coluna 2	Coluna 3	...
Linha 1				...
Linha 2				...
Linha 3				...
⋮	⋮	⋮	⋮	

Sabendo-se que o número de linhas é o triplo do número de colunas, então, o número de linhas de uma coluna é

- (A) 15.  
 (B) 18.  
 (C) 21.  
 (D) 24.  
 (E) 27.



24. Duas telefonistas, Bia e Carol, atenderam, no período da manhã, 125 ligações. Sabendo-se que o número de ligações atendidas por Bia correspondeu a  $\frac{2}{3}$  do número de

ligações atendidas por Carol, então, a diferença entre o número de ligações atendidas por essas duas telefonistas foi

- (A) 35.
- (B) 30.
- (C) 25.
- (D) 20.
- (E) 15.

25. A tabela apresenta a duração de cada uma das 4 ligações feitas por uma pessoa no celular.

Ligação	Duração
1ª	1 minuto e 20 segundos
2ª	1 minuto e 45 segundos
3ª	50 segundos
4ª	45 segundos

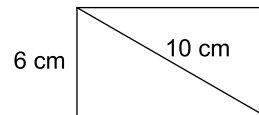
Considerando-se o tempo total de duração das 4 ligações, na média, cada ligação durou

- (A) 1 minuto e 10 segundos.
- (B) 1 minuto e 25 segundos.
- (C) 1 minuto e 48 segundos.
- (D) 1 minuto e 52 segundos.
- (E) 2 minutos.

26. Uma mesa tem um tampo retangular cuja medida da largura é 30 cm menor do que a medida do comprimento. Sabendo-se que o perímetro desse tampo é 420 cm, então, a medida da largura é

- (A) 80 cm.
- (B) 90 cm.
- (C) 100 cm.
- (D) 110 cm.
- (E) 120 cm.

27. A tela de um celular tem o formato de um retângulo, com 6 cm de lado e 10 cm de diagonal, conforme mostra a figura.



(figura fora de escala)

A área dessa tela é

- (A) 60 cm<sup>2</sup>.
- (B) 56 cm<sup>2</sup>.
- (C) 54 cm<sup>2</sup>.
- (D) 50 cm<sup>2</sup>.
- (E) 48 cm<sup>2</sup>.

## R A S C U N H O

## ATUALIDADES

28. Com a posse suspensa pela Justiça, a deputada federal Cristiane Brasil (PTB-RJ) afirmou nesta quinta-feira, 25 de janeiro, que está “chateada” com o imbróglio jurídico em torno de sua nomeação.

(*Estadão*, 25 jan. 18. Disponível em: <<https://goo.gl/mzK29A>>. Adaptado)

O presidente Michel Temer havia nomeado a deputada para o Ministério

- (A) da Fazenda.
  - (B) do Trabalho.
  - (C) da Saúde.
  - (D) da Educação.
  - (E) da Cultura.
29. Após três anos de discussões, mudanças e milhares de colaborações, o Ministério da Educação homologou nesta quarta-feira (13 de dezembro) a chamada Base Nacional Comum Curricular.

(*Folha de São Paulo*, 20 dez. 18. Disponível em: <<https://goo.gl/EBxwvA>>. Adaptado)

A Base Nacional Comum Curricular determina

- (A) um currículo unificado a ser abordado nas primeiras etapas da escolarização, em especial com as crianças de até dez anos.
- (B) os conteúdos específicos a serem ministrados nos diferentes cursos de Ensino Superior, a depender da carreira escolhida.
- (C) os direitos de aprendizagem dos alunos da educação básica, prevendo também espaço para aspectos regionais do conteúdo.
- (D) a fusão entre o ensino técnico e o regular, de forma a habilitar todo os alunos para o exercício de uma profissão a partir dos 18 anos.
- (E) a forma de ingresso no Ensino Superior por meio do acompanhamento do desempenho do aluno, substituindo a prova do ENEM.

30. A União Europeia assegurou ao presidente Mahmoud Abbas que apoia seu plano de ter Jerusalém Oriental como capital de um Estado palestino. Em um encontro em Bruxelas com ministros das Relações Exteriores da União Europeia, Abbas repetiu seu pedido para ter Jerusalém Oriental como capital e pediu para governos da UE reconhecerem um Estado palestino imediatamente.

(*O Globo*, 22 jan. 18. Disponível em: <<https://goo.gl/9f4rRK>>. Adaptado)

Tal gesto da União Europeia pode ser compreendido como uma

- (A) forma de concordância com a proposta da Palestina de tornar-se o único Estado nacional na região, esvaziando o reconhecimento de Israel.
  - (B) maneira de criticar indiretamente a política externa de Israel, relacionada à construção de colônias e assentamentos israelenses no Líbano e na Síria.
  - (C) pressão política no sentido de impedir a efetivação da proposta de transformar Jerusalém em capital binacional, compartilhada por Israel e Palestina.
  - (D) rejeição do bloco europeu à decisão do presidente dos Estados Unidos de reconhecer Jerusalém como capital de Israel.
  - (E) ação diplomática que visa transformar a União Europeia em interlocutora privilegiada do processo de paz entre israelenses e palestinos.
31. O congresso aprovou a controversa reforma da previdência na manhã desta terça-feira (19 de dezembro) apesar dos violentos protestos no país desde quinta-feira (14 de dezembro) e de uma greve nos transportes. Os deputados passaram a madrugada tentando votar o projeto. Em novembro, o Senado já havia aprovado o projeto, que é crucial para os esforços do governo para reduzir o *deficit* fiscal e atrair investimentos.

(*G1*, 19 dez. 17. Disponível em: <<https://goo.gl/7GVgrx>>. Adaptado)

A notícia aborda a aprovação da reforma da previdência

- (A) na Bolívia.
- (B) no Brasil.
- (C) no Paraguai.
- (D) no Uruguai.
- (E) na Argentina.

**32.** Muitas pessoas estão matando os animais. Só em janeiro, foram 90 primatas mortos no estado do Rio. Nessa segunda-feira (22 de janeiro), 18 macacos foram encontrados mortos no Rio por envenenamento e agressões. Os especialistas do laboratório de veterinária do município relatam que nunca tinham visto nada assim: animais indefesos morrendo violentamente.

(G1, 23 jan. 18. Disponível em: <<https://goo.gl/pzy8oQ>>. Adaptado)

Acerca da matança de macacos, é correto afirmar que

- (A) contribui para a redução de casos da febre amarela, pois são os principais transmissores da doença.
- (B) está equivocada, pois os primatas são vítimas da febre amarela, e não transmissores da doença.
- (C) não tem relação com a febre amarela, pois a doença atinge apenas humanos e mamíferos domesticados.
- (D) ainda que constitua crime ambiental, está sendo tolerada pelas autoridades com o objetivo de combater a febre amarela.
- (E) parte de um pressuposto correto, que é o combate à febre amarela, mas pode levar algumas espécies à extinção.

**33.** O Banco Central sugeriu que a Caixa Econômica Federal afaste os seus atuais vice-presidentes após investigações do próprio banco e do Ministério Público Federal apontarem irregularidades envolvendo executivos da instituição.

(Folha de São Paulo, 16 jan. 18. Disponível em: <<https://goo.gl/pEXPVd>>. Adaptado)

Os vice-presidentes foram acusados de

- (A) participar de esquemas de corrupção para liberar investimentos a grandes empresas.
- (B) utilizar a instituição financeira para lavar dinheiro oriundo de atividades ilícitas.
- (C) procurar brechas institucionais para não recolher impostos e burlar a legislação fiscal.
- (D) receber salários acima do teto constitucional e acumular benefícios financeiros indevidos.
- (E) manipular loterias e fraudar resultados dos jogos de azar organizados pelo banco.

**34.** Na quarta (24 de janeiro), o casal foi acusado formalmente de 12 processos de tortura, cárcere privado e de colocar a vida de crianças em risco. O casal mantém os 13 filhos – em idades que iam de 2 a 29 anos – prisioneiros na própria casa. As investigações apontam que as crianças estavam em um processo de encarceramento, desnutrição e tortura havia mais de 13 anos.

(Folha de São Paulo, 27 jan. 18. Disponível em: <<https://goo.gl/hHqDo7>>. Adaptado)

O caso referido na notícia ocorreu

- (A) na Índia.
- (B) na Rússia.
- (C) nos EUA.
- (D) na Inglaterra.
- (E) na África do Sul.

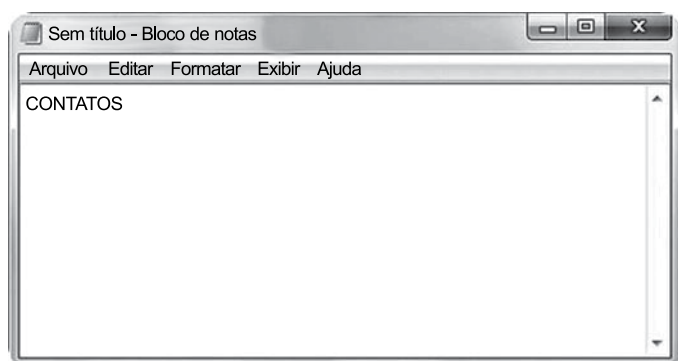
**35.** A Coreia do Norte anunciou nesta terça-feira (9 de janeiro) que enviará uma delegação para disputar a Olimpíada de Inverno na Coreia do Sul, em fevereiro. As decisões foram tomadas após a primeira reunião entre representantes dos dois países em mais de dois anos.

(Folha de São Paulo, 9 jan. 18. Disponível em: <<https://goo.gl/oGgG6F>>. Adaptado)

No diálogo entre os dois países, a Coreia do Norte solicitou formalmente à Coreia do Sul que não se discutisse

- (A) o programa nuclear norte-coreano.
- (B) o conflito norte-coreano com a China.
- (C) a política econômica norte-coreana.
- (D) a situação social norte-coreana.
- (E) a realização de eleições livres na Coreia do Norte.

36. No Microsoft Windows 7, em sua configuração padrão, um usuário tem o seguinte conteúdo editado no Bloco de Notas.



O usuário selecionou a palavra CONTATOS e pressionou as teclas CTRL+C.

Posteriormente, selecionou um arquivo existente na biblioteca Documentos, chamado PENDENCIAS, pressionou F2, CTRL+V e, finalmente, ENTER.

Assinale a alternativa que indica o novo nome do arquivo PENDENCIAS.

- (A) Sem título
- (B) Bloco de notas
- (C) CONTATOS
- (D) Sem título - Bloco de notas
- (E) PENDENCIAS - cópia

37. Utilizando o Bloco de Notas, um usuário gravou um arquivo texto na Área de Trabalho do Microsoft Windows 7, em sua configuração padrão, e, na sequência, fechou o aplicativo.

Assinale a alternativa que indica a ação correta para ver o ícone do arquivo e poder acessá-lo, posteriormente, considerando que 5 diferentes programas estão abertos simultaneamente.

- (A) Minimizar todas as janelas.
- (B) Acessar a Lixeira do Windows.
- (C) Maximizar todas as janelas.
- (D) Alternar as janelas usando CTRL+ESC até exibir o arquivo texto.
- (E) Acessá-lo a partir de seu atalho fixado na Barra de Tarefas.

38. Considere a planilha a seguir, criada no Microsoft Excel 2010, em sua configuração original.

	A	B	C	D	E
1	Mês	Abreviação Mês	Inicial Mês	Quantidade de dias	Número mês
2	Outubro	Out	O	31	10
3	Abril	Abr	A	30	4
4	Novembro	Nov	N	30	11
5	Dezembro	Dez	D	31	12
6	Fevereiro	Fev	F	28	2
7	Mai	Mai	M	31	5
8	Setembro	Set	S	30	9
9	Junho	Jun	J	30	6
10	Março	Mar	M	31	3
11	Janeiro	Jan	J	31	1
12	Agosto	Ago	A	31	8
13	Julho	Jul	J	31	7

Assinale a alternativa que indica a coluna que deve ser utilizada para que seja feita uma classificação crescente dos meses, a fim de que a coluna A exiba na ordem Janeiro, Fevereiro, Março, Abril, Maio, Junho, Julho, Agosto, Setembro, Outubro, Novembro e Dezembro, considerando que a primeira linha será usada como cabeçalho na classificação.

- (A) Coluna A.
- (B) Coluna B.
- (C) Coluna C.
- (D) Coluna D.
- (E) Coluna E.

39. No Microsoft Excel 2010, em sua configuração padrão, tem-se a seguinte planilha:

	A	B	C	D
1	Dolar	3		
2	Euro	4		
3				
4	Item	Valor moeda estrangeira	Valor em Reais	
5	Calçado	90	270	
6	Camiseta	50		
7				

Considerando que a célula C5 contém a fórmula =B5\*B1, assinale a alternativa que indica o conteúdo que será exibido na célula C6, ao se selecionar a célula C5, pressionar CTRL+C, ir para a célula C6 e pressionar CTRL+V.

- (A) 0
- (B) 150
- (C) 200
- (D) 270
- (E) 360

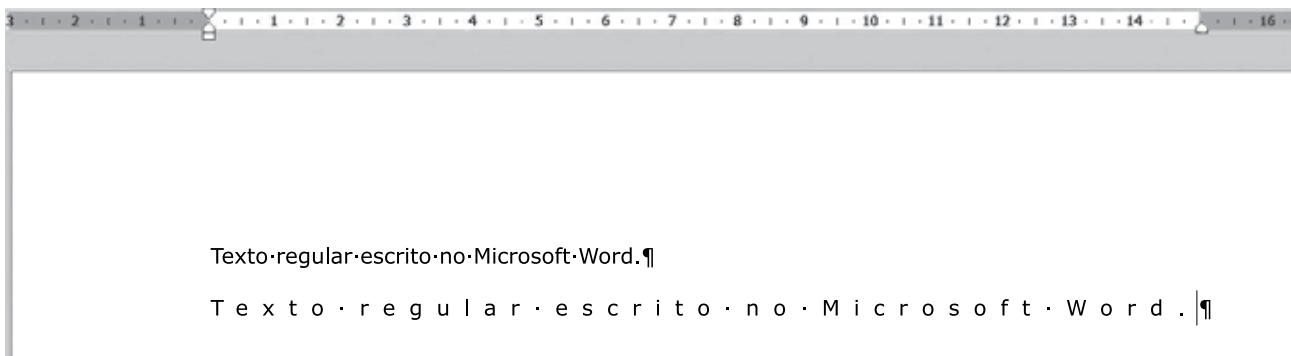
40. Considerando a tabela a seguir, criada no Microsoft Word 2010, em sua configuração original, na qual o cursor está na primeira letra da célula com o conteúdo Augusto.

Nome	Idade	Sexo
Augusto	20	M
Cecília	27	F
Caroline	38	F

Assinale a alternativa que indica a tecla e a quantidade de vezes que precisa ser pressionada, respectivamente, para que o cursor se posicione na célula com o conteúdo Caroline.

- (A) ENTER, 2 vezes.
- (B) TAB, 2 vezes.
- (C) Seta para a direita, 6 vezes.
- (D) Seta para baixo, 2 vezes.
- (E) TAB, 8 vezes.

41. No Microsoft Word 2010, em sua configuração original, um usuário redigiu o seguinte conteúdo.



Assinale a alternativa que indica a formatação que foi aplicada na segunda linha.

- (A) Recuo à esquerda aumentado.
- (B) Espaçamento entre caracteres expandido.
- (C) Um espaço em branco entre cada caractere.
- (D) Dois espaços em branco entre cada caractere.
- (E) Marcador simbólico à direita.

42. Considere uma apresentação criada no Microsoft PowerPoint 2010, em sua configuração original, com 5 slides, sendo que o usuário deixou o slide 3 oculto propositalmente, com informações mais detalhadas do assunto abordado na apresentação. A intenção do usuário era exibir esse slide apenas em caso de necessidade, se seu público fizesse questionamentos. Assim, no modo de apresentação e com o slide 2 em exibição, assinale a alternativa que indica o que o usuário pode fazer para exibir o slide 3.

- (A) Pressionar ESC para encerrar a apresentação, posicionar no slide 3 e pressionar SHIFT+F5.
- (B) Pressionar ENTER.
- (C) Pressionar SHIFT+ENTER.
- (D) Pressionar ESC para encerrar a apresentação, posicionar no slide 3 e pressionar F5.
- (E) Pressionar TAB.

43. Gustavo preparou uma mensagem de correio eletrônico no Microsoft Outlook 2010, em sua configuração padrão, com as seguintes características:

Para: Aline, Livia, Alexandre.  
Cc: Joana, José  
Cco: Edmundo

Alexandre, ao receber a mensagem, clicou em Responder a todos. Assinale a alternativa que indica quantos destinatários aparecem automaticamente em sua mensagem.

- (A) 1, apenas o remetente original, Gustavo.
- (B) 3, sendo Gustavo, Aline e Livia.
- (C) 4, sendo Aline, Livia, Joana e José.
- (D) 5, sendo Gustavo, Aline, Livia, Joana e José.
- (E) 6, sendo Gustavo, Aline, Livia, Joana, José e Edmundo.

44. Princípio que não pode ser radicado em qualquer dispositivo constitucional específico. É, porém, da essência do próprio Direito, notadamente de um Estado Democrático de Direito, de tal sorte que faz parte do sistema constitucional como um todo.

O enunciado se refere ao princípio da

- (A) legalidade.
- (B) impessoalidade.
- (C) publicidade.
- (D) segurança jurídica.
- (E) eficiência.

45. O Agente Administrativo pode, no que concerne à classificação de servidores públicos, ser considerado um

- (A) servidor público com regime jurídico estatutário.
- (B) empregado público com regime jurídico contratual.
- (C) agente político com regime jurídico estatutário.
- (D) servidor público com regime jurídico contratual.
- (E) empregado público com regime jurídico estatutário.

46. Declaração do Estado (ou de quem lhe faça as vezes – como, por exemplo, um concessionário de serviços públicos), no exercício de prerrogativas públicas, manifestada mediante providências jurídicas complementares da lei a título de lhe dar cumprimento, e sujeitas a controle de legitimidade por órgão jurisdicional.

É correto afirmar que o enunciado se refere ao conceito de

- (A) poder hierárquico.
- (B) decisão judicial.
- (C) ato administrativo.
- (D) discricionariedade.
- (E) ativismo judicial.

47. Poder que tem por objetivo ordenar, controlar e corrigir as atividades administrativas, no âmbito interno da Administração Pública.

É correto afirmar que o enunciado se refere ao poder

- (A) disciplinar.
- (B) vinculado.
- (C) de polícia.
- (D) hierárquico.
- (E) discricionário.

- 48.** É correto afirmar que o ato administrativo será considerado válido quando
- (A) emanado do Poder Executivo e em conformidade com as normas legais.
  - (B) esgotar todas as fases necessárias à sua produção.
  - (C) analisado pelo Poder Judiciário, assim for considerado.
  - (D) considerado disponível para a produção de seus efeitos próprios.
  - (E) expedido em absoluta conformidade com as exigências do sistema normativo.
- 49.** Consiste na possibilidade que certos atos administrativos ensejam de imediata e direta execução pela própria Administração, independentemente de ordem judicial.
- É correto afirmar que o enunciado se refere ao seguinte atributo do ato administrativo:
- (A) presunção de legitimidade.
  - (B) autoexecutoriedade.
  - (C) presunção de veracidade.
  - (D) imperatividade.
  - (E) independência de administração.
- 50.** As autarquias integram a Administração Indireta e são consideradas pessoas jurídicas de Direito
- (A) Público de capacidade exclusivamente administrativa que integram a Administração Indireta.
  - (B) Privado de capacidade exclusivamente administrativa que integram a Administração Indireta.
  - (C) Privado de capacidade exclusivamente administrativa que integram a Administração Direta.
  - (D) Público de capacidade exclusivamente administrativa que integram a Administração Direta.
  - (E) Público de capacidade exclusivamente administrativa que podem integrar tanto a Administração Indireta como a Direta.

