



# Prefeitura Municipal de Parnamirim

Concurso Público - Edital nº 01/2019

## Administrador

### Leia estas instruções:

- 1 Confira se os dados contidos na parte inferior desta capa estão corretos e, em seguida, assine no espaço reservado.
- 2 Este Caderno contém **35 questões** de múltipla escolha, assim distribuídas: **01 a 10** ▶ Língua Portuguesa; **11 a 35** ▶ Conhecimentos Específicos.
- 3 Se o Caderno estiver incompleto ou apresentar imperfeição gráfica que impeça a leitura, solicite imediatamente ao Fiscal que o substitua.
- 4 Cada questão apresenta quatro opções de resposta, das quais apenas uma é correta.
- 5 Interpretar as questões faz parte da avaliação; portanto, não peça esclarecimentos aos fiscais.
- 6 Use caneta esferográfica confeccionada em material transparente, preferencialmente de tinta na cor preta.
- 7 Utilize qualquer espaço em branco deste Caderno para rascunhos e não destaque nenhuma folha.
- 8 Os rascunhos e as marcações que você fizer neste Caderno não serão considerados para efeito de avaliação.
- 9 Você dispõe de, no máximo, **três horas** para responder às questões de múltipla escolha e preencher a Folha de Respostas.
- 10 O preenchimento da Folha de Respostas é de sua inteira responsabilidade.
- 11 Antes de se retirar definitivamente da sala, **devolva** ao Fiscal a **Folha de Respostas** e **este Caderno**.

Assinatura do Candidato: \_\_\_\_\_





As questões de 1 a 10 desta prova são baseadas no texto abaixo.

### CIBERCONDRIA e ansiedade

A INTERNET REVOLUCIONOU OS MODELOS DE COMUNICAÇÃO, PERMITINDO NOVAS FORMAS DE ENTRETENIMENTO, E O ACESSO À SAÚDE FOI REFORMULADO PARA NOVOS PADRÕES

Por Igor Lins Lemos

- 1º Atualmente, é difícil imaginar a extinção das redes sociais da nossa prática diária de comunicação, modelo praticamente impossível de ser retrocedido. A *world wide web* remodelou também os antigos padrões de relacionamento, seja através das redes sociais, dos fóruns ou dos programas de interação em tempo real. Não apenas essas modificações foram provocadas pelo avanço da cibercultura, o acesso à saúde também foi reformulado para novos padrões. Atualmente, é possível, por exemplo, verificar resultados de exames de sangue no endereço eletrônico do laboratório, acessar endereços eletrônicos sobre saúde mental e planos de saúde sem sair de casa. Facilidades estas que são consideradas de uso contínuo para as próximas décadas, ou seja, cada vez mais os recursos tecnológicos serão utilizados para esses e outros fins. A era da cibernética é real.
- 2º Apesar dos diversos benefícios da *internet* para a saúde humana, outra manifestação psicopatológica (vinculada ao campo eletrônico) vem sendo discutida, além do transtorno do jogo pela *internet* e das dependências de *internet*, de sexo virtual e de celular: a cibercondria. O nome é um neologismo formado a partir dos termos *ciber* e *hipocondria*. A hipocondria refere-se, de forma sucinta, a uma busca constante de reassuramentos por informações sobre possíveis adoecimentos orgânicos, dúvidas essas que raramente cessam quando o sujeito encontra a possível resposta às suas indagações. E como pensar nesse fenômeno com a proliferação das buscas em relação à saúde na *internet*?
- 3º A procura de informações sobre sintomas e doenças na *internet* é comum e, muitas vezes, serve a propósitos úteis. De acordo com Aiken e Kirwan (2012), a *internet* é um valioso recurso na busca de informações médicas e continuará sendo por muitos anos. Porém, a *web* possui, em paralelo, um poder potencial de aumentar a ansiedade dos sujeitos sem treinamento médico, no momento em que estejam buscando diagnósticos em *websites*. Dessa forma, contemporaneamente, pessoas que são excessivamente angustiadas ou muito preocupadas com a sua saúde realizam pesquisas constantes na *internet*. Porém, apenas se tornam mais ansiosas ou amedrontadas. Pense por um momento e, em sua reflexão, responda a si se nunca fez uma busca na *internet* após receber seu exame de sangue ou surgir uma mancha em alguma região do seu corpo. Esse tipo de comportamento é bem frequente, mas apenas uma minoria apresenta uma manifestação patológica (cibercondríaca) desse funcionamento.
- 4º Fergus (2013) realizou um estudo com 512 participantes nos Estados Unidos; a média de idade foi de 33,4 anos, sendo 55,3% do sexo feminino. O objetivo do trabalho foi verificar o efeito da intolerância à incerteza na relação entre a frequência de buscas por informações médicas na *web* e a ansiedade com a saúde. Para essa pesquisa, foram aplicados os seguintes instrumentos: a *Intolerance of Uncertainty Scale - 12 Item Version (IUS-12)*, a *Short Health Anxiety Inventory (SHAI)* e a *Positive and Negative Affect Schedule (PANAS)*. Além disso, foram considerados outros dois pontos: a relação entre a ansiedade com a saúde como um resultado de buscas por informações médicas na *internet* e a frequência com que esse usuário busca por esse serviço.
- 5º De acordo com o autor, é comum que as pessoas encontrem e busquem esse tipo de informação na *internet*. Entretanto, são desconhecidos os motivos que levam uma parcela

da população a desenvolver a cibercondria. O estudo em questão, então, seria uma forma de preencher essa lacuna na literatura científica. A pesquisa demonstrou que, quanto maior o nível de intolerância à incerteza, maior a chance de o indivíduo experimentar a cibercondria. Essa ansiedade pode se tornar ainda maior devido ao fato de a *internet* oferecer diversas informações para o mesmo problema, confundindo o usuário na identificação do seu problema sintomatológico. Além disso, nem todos os usuários são habilidosos em encontrar endereços eletrônicos confiáveis.

- 6º Dessa forma, cogite, por um momento, se tantas informações disponíveis na *internet* são fontes de relaxamento após a sua visita ao endereço eletrônico ou se esse ato gera ainda mais ansiedade. É comum, por exemplo, pacientes chegarem ao consultório de Psicologia com diagnósticos já estabelecidos por buscas que fizeram na *internet*. Resultado: muitas vezes, a informação é incorreta ou mal interpretada. Nunca deixe o profissional da saúde em segundo plano, priorize-o na busca por informações sobre o seu corpo.

*Referências:*

AIKEN, M.; KIRWAN, G. *Prognoses for diagnoses: medical search online and "cyberchondria"*. **BMC Proceedings**, v. 6, 2012.

FERGUS, T. A. *Cyberchondria and intolerance of uncertainty: examining when individuals experience health anxiety in response to internet searches for medical information*. **Cyberpsychology, Behavior and Social Networking**, v. 16, n. 10, 2013.

---

LEMOS, Igor Lins. Cibercondria e ansiedade. **Psique**. São Paulo, Editora Escala, nº 144, fev. 2018. [Adaptado].

01. Em sua centralidade, o texto objetiva

- A) criticar as pessoas sem treinamento médico que procuram informações sobre sua saúde em páginas da *internet* e em redes sociais.
- B) explicar os possíveis impactos da cibercultura no desenvolvimento de transtornos psicológicos em pessoas sem treinamento médico.
- C) sustentar ponto de vista segundo o qual é necessário moderar o uso de redes sociais.
- D) apresentar informações científicas sobre saúde mental e novos transtornos sociais.

02. Em sua relação com o texto, o título

- A) contradiz informação presente no 1º parágrafo.
- B) revela, em parte, a temática discutida.
- C) contradiz informação presente no 2º parágrafo.
- D) revela, totalmente, a temática discutida.

03. As ideias do texto progridem da seguinte forma:

- A) 1º e 2º parágrafos introduzem o tema; 3º e 4º parágrafos esclarecem a discussão; 5º e 6º parágrafos avaliam a temática.
- B) 1º e 2º parágrafos introduzem o tema; 3º, 4º e 5º parágrafos esclarecem a discussão; 6º parágrafo avalia a temática.
- C) 1º parágrafo introduz o tema; 2º, 3º, 4º e 5º parágrafos esclarecem a discussão; 6º parágrafo avalia a temática.
- D) 1º parágrafo introduz o tema; 2º, 3º e 4º parágrafos esclarecem a discussão; 5º e 6º parágrafos avaliam a temática.

04. O texto compõe-se predominantemente por

- A) argumentação, mas há traços de explicação no 2º parágrafo.
- B) explicação, mas há traços de injunção no 6º parágrafo.
- C) descrição, mas há traços de argumentação no 4º parágrafo.
- D) injunção, mas há traços de descrição no 3º parágrafo.

05. A linguagem empregada no texto tende à
- A) denotação e está adequada ao gênero discursivo, que é artigo de divulgação científica.
  - B) denotação e não condiz com o gênero discursivo, que é artigo informativo.
  - C) conotação e está adequada ao gênero discursivo, que é artigo de opinião.
  - D) conotação e não condiz com o gênero discursivo, que é artigo científico.

Para responder às questões 06, 07, 08, 09 e 10, considere o excerto transcrito abaixo.

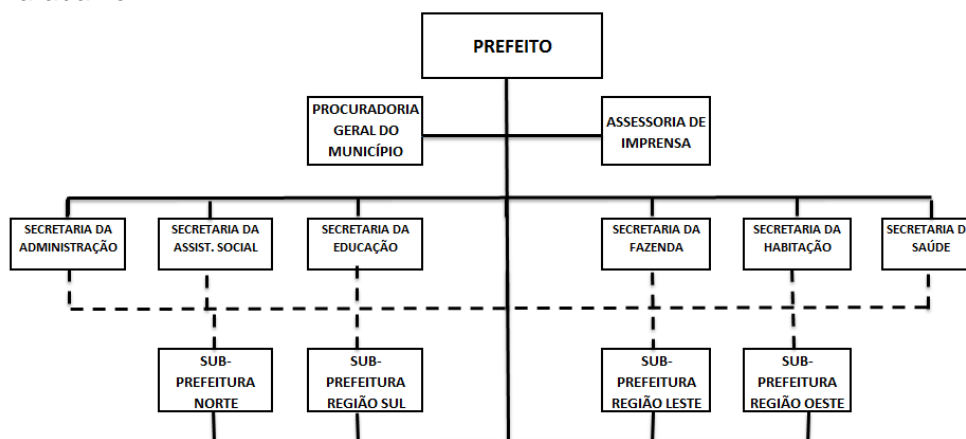
A procura de informações sobre sintomas e doenças na *internet* é comum e, muitas vezes, serve a propósitos úteis. **De acordo com**[1] Aiken e Kirwan (2012), a *internet* é um valioso recurso na busca de informações médicas e continuará sendo por muitos anos. Porém, a *web* possui, em paralelo, um poder potencial de aumentar a ansiedade dos sujeitos sem treinamento médico, no momento em **que**[2] estejam buscando diagnósticos em *websites*. Dessa forma, contemporaneamente, pessoas que **são**[3] excessivamente angustiadas ou muito preocupadas com a sua saúde realizam pesquisas constantes na *internet*. Porém, apenas se tornam mais ansiosas ou amedrontadas. Pense por um momento e, em sua reflexão, responda a si se nunca fez uma busca na *internet* após receber seu exame de sangue ou surgir uma mancha em alguma região do seu corpo. Esse tipo de comportamento é bem frequente, mas apenas uma minoria apresenta uma manifestação patológica (cibercondríaca) desse funcionamento.

06. Sobre o uso da pontuação, afirma-se **corretamente**:
- A) os parênteses isolam uma informação redundante.
  - B) o primeiro ponto deveria ser substituído por uma vírgula.
  - C) as duas primeiras vírgulas marcam uma intercalação.
  - D) a última vírgula é intercambiável por dois-pontos.
07. No trecho, entrecruzam-se
- A) duas vozes, sendo uma sob forma de modalização em discurso segundo.
  - B) duas vozes, sendo uma sob forma de discurso indireto livre.
  - C) três vozes, sendo uma sob forma de discurso direto.
  - D) três vozes, sendo uma sob forma de ilha textual.
08. No contexto em que surge, o elemento linguístico [1] estabelece uma relação de
- A) consequência, podendo ser substituído, sem alteração de sentido, por “Em consequência de”.
  - B) conclusão, podendo ser substituído, sem alteração de sentido, por “Em consonância com”.
  - C) conformidade, podendo ser substituído, sem alteração de sentido, por “Para”.
  - D) concessão, podendo ser substituído, sem alteração de sentido, por “Mesmo”.
09. O elemento linguístico [2] funciona como
- A) pronome, responsável por retomar uma informação.
  - B) pronome, responsável por antecipar uma informação.
  - C) conjunção, responsável por introduzir um adjunto adnominal.
  - D) conjunção, responsável por introduzir um complemento nominal.
10. Do ponto de vista sintático, a forma verbal [3]
- A) tem como objeto direto a sequência linguística “pesquisas constantes na *internet*”.
  - B) tem como sujeito o elemento linguístico “pessoas”.
  - C) tem como objeto direto a sequência linguística “angustiadas ou muito preocupadas”.
  - D) tem como sujeito o elemento linguístico “que”.



11. Teorias Administrativas vêm sendo elaboradas e desenvolvidas por várias escolas, com pensamentos e enfoques diferentes, funcionando como guias de pensamento sobre o curso de ação de uma instituição diante de uma determinada situação. Uma dessas escolas é a que defende a teoria da contingência que
- A) destaca princípios como necessidade de manter a estabilidade e o quadro de pessoal, encorajamento à iniciativa e promoção do espírito de equipe.
  - B) trata da aplicação de métodos científicos com o objetivo de aumentar a produtividade dos servidores por meio do aumento da eficiência no nível operacional.
  - C) adota a preocupação com a tecnologia, ao lado do ambiente externo, para definir uma abordagem mais ampla a respeito do desenho organizacional.
  - D) enfatiza a divisão do trabalho, a hierarquia de autoridade e a regulamentação, assegurando uniformidade e eliminando decisões arbitrárias.
12. Empreendedorismo é um tema muito recente na área de administração pública, pois sua origem esteve vinculada à identificação de pessoas ousadas que procuravam realizar seus intentos por meio da montagem de seu próprio negócio. Na esfera da organização pública, há pessoas que realizam atividade técnica, empreendedora, gerencial e de controle. Nesse caso, o empreendedor
- A) concebe a ideia de um novo projeto.
  - B) planeja todos os passos para realizar um novo projeto.
  - C) acompanha o novo projeto em todas as suas fases.
  - D) avalia os resultados alcançados com o novo projeto.
13. Ao longo da história, a administração tem lidado com as pessoas de forma diferenciada. Na perspectiva contemporânea, as pessoas
- A) são fatores de produção que devem ser bem treinados. A ênfase deve ser nas regras e controles para monitorar a produtividade.
  - B) são recursos organizacionais que devem ser administrados. A ênfase deve ser nos objetivos organizacionais para dirigir as pessoas.
  - C) são seres proativos e inteligentes que devem ser impulsionados. A ênfase deve ser na liberdade e no comprometimento.
  - D) são elementos da estrutura organizacional que devem ser capacitados. A ênfase deve ser na padronização e na definição de metas.
14. O gestor público deve promover a governança pública por intermédio de práticas relativas à equidade, dimensão que se refere
- A) ao zelo pela viabilidade econômico-financeira, reduzindo as externalidades negativas de seus negócios e de suas operações e aumentando as positivas.
  - B) à disponibilização, para as partes interessadas, das informações tangíveis e intangíveis que norteiam a ação gerencial e que são relativas à preservação e à otimização do valor da organização.
  - C) à prestação de contas da atuação dos agentes de governança, de modo claro, conciso, compreensível e tempestivo, assumindo integralmente as consequências de seus atos e de suas omissões.
  - D) ao tratamento justo e isonômico dos *stakeholders*, levando em consideração seus direitos, deveres, necessidades, interesses e expectativas.
15. O Índice de Governança Municipal, criado pelo Conselho Federal de Administração em 2017, se propõe a avaliar a governança pública nos municípios brasileiros em três dimensões. A partir desse índice, a avaliação da dimensão “qualidade da gestão” considera as práticas de administração adotadas pelos municípios em relação

- A) à vulnerabilidade da população, à educação e ao índice das dimensões de renda.  
 B) ao atendimento médico, ao *déficit* habitacional e à mortalidade infantil.  
 C) ao índice de gestão fiscal, aos gastos *per capita* e ao índice de transparência.  
 D) à terceirização de serviços básicos, à articulação institucional e à informatização.
16. A prefeitura municipal de Agridoce implantou o plano de cargos e salários para os seus servidores, com o objetivo de permitir que a organização tenha critérios para a movimentação horizontal (méritos) e vertical (promoções) do pessoal. Esse instrumento de gestão de pessoas visa atender a uma das necessidades do indivíduo proposta por Maslow, denominada de
- A) segurança.                      B) autorrealização.                      C) estima.                      D) social.
17. A gestão de pessoas é uma área interdisciplinar e complexa que envolve aspectos internos e ambientais da organização. Considerando esse caráter multivariado, a gestão de pessoas é tratada como um processo formado por subsistemas e atividades. O subsistema de aplicação, por exemplo, envolve atividades como:
- A) remuneração de pessoas, benefícios sociais e qualidade de vida.  
 B) recrutamento de pessoas e seleção de pessoas.  
 C) treinamento de pessoas e desenvolvimento organizacional.  
 D) integração das pessoas, descrição e análise de cargos e avaliação do desempenho.
18. O diretor de pessoal da Prefeitura de Agridoce está implantando a auditoria na área de recursos humanos com o objetivo avaliar os indicadores nessa área. Um desses indicadores trata da eficácia dos treinamentos e considera, em sua medição,
- A) o nível de satisfação do servidor com o curso realizado.  
 B) o valor do investimento destinado ao treinamento de pessoal.  
 C) a melhoria das habilidades adquiridas pelo servidor, constatada após a capacitação.  
 D) a melhoria da qualidade de vida do servidor, constatada após o treinamento.
19. Analise a estrutura organizacional da Prefeitura Municipal de Agridoce que está apresentada na figura abaixo.



Considere as afirmativas a seguir que se referem a essa estrutura organizacional.

I	As secretarias municipais têm autoridade funcional sobre as subprefeituras.
II	A assessoria de imprensa publica na imprensa e nas redes sociais somente notícias relacionadas ao prefeito, pois está a ele subordinada.
III	As subprefeituras estão subordinadas hierarquicamente ao prefeito.
IV	A Procuradoria Geral do Município tem autoridade linear sobre as secretarias e as subprefeituras, pois está acima dessas unidades no organograma.

Considerando o organograma sob análise, estão corretas as afirmativas

- A) III e IV.                      B) I e III.                      C) I e II.                      D) II e IV.



20. A moderna gestão de projetos é realizada por meio de fases bem definidas. Segundo o Guia PMBOK (2013), a declaração do escopo visa
- organizar as atividades a serem executadas, aplicando a divisibilidade do todo e transformando-o em partes menores para coordenar melhor cada uma delas.
  - descrever com clareza o produto ou o serviço que será feito por uma organização pública, como, por exemplo, a construção de uma ponte ou de uma passarela.
  - elaborar os diagramas de dependência entre as atividades, de forma a permitir o cálculo do término de cada uma das etapas do projeto.
  - identificar o caminho crítico do projeto, aplicando o critério de sequenciamento de atividades e determinando as folgas de tempo.
21. A Secretaria de Saúde do município de Agridoce está realizando um estudo para identificar quais itens enviados aos postos de saúde têm mais impacto no volume de recursos relacionados a esse consumo. Para tanto, fez um levantamento do valor do estoque dos itens numa determinada data, apresentados na tabela abaixo.

Nº	Código do item	Valor do estoque do item em R\$ 1.000,00	% do item	Valor do estoque acumulado	% acumulada
1	16	269	21,9	269	21,9
2	23	239	19,4	508	41,3
3	14	238	19,3	746	60,7
4	6	237	19,2	983	80,0
5	8	96	7,8	1.079	87,8
6	13	39	3,1	1.118	91,0
7	10	22	1,7	1.140	92,8
8	17	18	1,4	1.158	94,2
9	15	12	0,9	1.170	95,2
10	20	10	0,8	1.180	96,0
Outros		48	3,9	1.228	100,0

Com base nos dados dessa tabela, conforme a curva ABC de produtos, seus itens são classificados da seguinte forma:

- itens A: 16, 23 e 14; itens B: 8, 13, 10, 17, 15 e 20; itens C: demais itens.
  - itens A: 16, 23, 14 e 6; itens B: 8, 13, 10, 17 e 15; itens C: demais itens.
  - itens A: 16, 23 e 14; itens B: 6, 8, 13, 10 e 17; itens C: demais itens.
  - itens A: 16, 23, 14 e 6; itens B: 8, 13, 10 e 17; itens C: demais itens.
22. Uma das atividades realizadas na administração do patrimônio de uma organização pública é o inventário de materiais. No final do 3º ano de vigência do PPA, em um segundo mandato consecutivo do prefeito, a legislação prevê que deve ser realizado um inventário
- de transferência de responsabilidade.
  - anual.
  - de extinção ou transformação.
  - inicial.
23. Um shopping popular vai ser construído numa capital brasileira, e o financiamento da obra será feito pela Caixa Econômica Federal, com garantia de receitas e parcelas do Fundo de Participação do Município (FPM), do Imposto sobre Propriedade Territorial e Urbano (IPTU) e do Imposto sobre Serviços (ISS). A lei complementar publicada no Diário Oficial do Município informa que o valor do empréstimo será de R\$ 14,5 milhões, que servirão para terminar as obras do shopping. Por outro lado, o agente financiador determinou que o reembolso ocorrerá em 20 parcelas anuais postecipadas e de igual valor, com juros de 10% a.a. Utilizando um fator de PMT (Prestação) de 0,11746 e com base nas condições do empréstimo, analise as conclusões apresentadas abaixo.

I	O valor dos juros a serem pagos no final do primeiro ano correspondem à quantia de R\$ 1.450.000,00.
II	No primeiro ano, serão amortizados R\$ 253.170,00 do principal da dívida, gerando uma prestação de R\$ 1.703.170,00.
III	Em função do tipo de sistema de amortização adotado, o valor da amortização do principal no terceiro ano será menor do que R\$ 253.170,00.
IV	O valor do saldo devedor inicial da operação de crédito para a conclusão das obras do shopping será de R\$ 14.246.830,00.

Dentre as conclusões, estão corretas

- A) I e II.            B) I e III.            C) II e IV.            D) III e IV.**

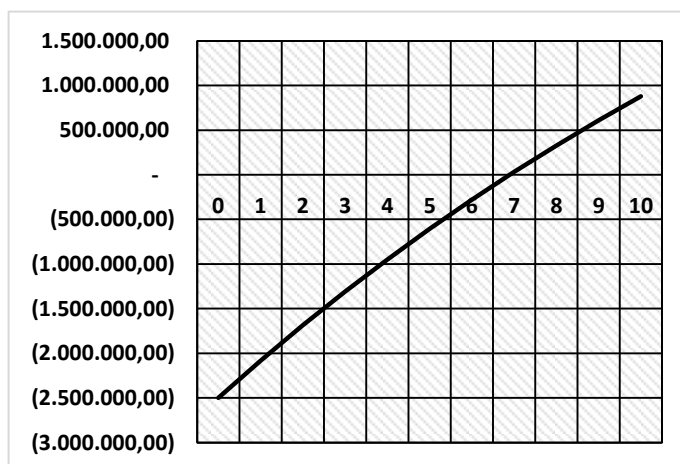
- 24.** De acordo com informação constante do Plano Plurianual (PPA), a Prefeitura Municipal de Parnamirim/RN incluiu, no PPA 2018/2021, um investimento de R\$ 2,5 milhões para aquisição de veículos para o programa 002 – Rotina, Integração e Modernização, sob a responsabilidade da Secretaria Municipal de Administração e Recursos Humanos, com o objetivo de ter a frota municipal própria e, conseqüentemente, reduzir os custos com a sua locação.

Supondo que o custo de locação anual corresponde a 15% do valor dos veículos novos e que o gasto de manutenção anual será 2,5% para veículos próprios, o analista financeiro da prefeitura elaborou a Tabela 1 e a Figura 1, reproduzidas a seguir, para subsidiar a decisão de investimento que será tomada, considerando uma taxa de desconto de 5% a.a.

Tabela 1  
Fluxo de Caixa da Aquisição de Veículos

Ano	Fluxo de Caixa	Valor Presente
0	(2.500.000,00)	(2.500.000,00)
1	437.500,00	416.666,67
2	437.500,00	396.825,40
3	437.500,00	377.928,95
4	437.500,00	359.932,33
5	437.500,00	342.792,70
6	437.500,00	326.469,24
7	437.500,00	310.923,08
8	437.500,00	296.117,22
9	437.500,00	282.016,40
10	437.500,00	268.587,05
Taxa de Desconto		5%

Figura 1  
Valor Presente Líquido



Com base nas informações disponíveis, o analista emitiu um parecer técnico com algumas constatações sobre o investimento e apresentou o parecer para decisão da prefeitura. Analise quatro das constatações do analista apresentadas abaixo.

I	O valor presente líquido do projeto passa a ser positivo a partir do sexto ano, quando a soma dos valores futuros das entradas supera o valor do investimento a ser realizado.
II	Aplicando a taxa de 5% a.a. para encontrar os valores presentes dos fluxos de caixa, obteve-se um valor presente líquido superior a 1/3 do valor do investimento planejado para a aquisição dos veículos novos.
III	A Secretaria Municipal de Administração e Recursos Humanos irá gerar uma economia com a aquisição dos veículos, uma vez que os gastos com o investimento serão menores do que o custo de locação dos veículos.
IV	O tempo de retorno do investimento do projeto é de 5,7 anos ( <i>payback</i> simples), e o <i>payback</i> descontado, que considera a variação do valor do dinheiro no tempo, é de 5 anos a uma taxa de juros de 5% a.a.

Das constatações, estão corretas

- A) II e IV.            B) I e IV.            C) I e III.            D) II e III.**




28. Os métodos de custeio desenvolvidos fora do Brasil adotam conceitos que devem ser de conhecimento dos administradores, para que sejam aplicados corretamente nas organizações. Analise as seguintes afirmativas sobre um desses métodos.

I	Os índices devem ser calculados de acordo com o efetivo dispêndio de insumos por parte dos postos operativos em funcionamento, sem agregar o valor da matéria-prima e das despesas com estrutura.
II	O cálculo do foto-índice é uma das etapas mais importantes, pois é nela que são determinados os custos horários dos postos operativos.
III	O foto-índice de base corresponde ao custo realizado para fabricar uma unidade do produto de base em um momento determinado, levando em consideração as despesas utilizadas na formação do foto-índice do posto operativo.

Essas afirmativas estão relacionadas ao método de custeio denominado

- A) Custeio Pleno.                      B) PMC.                      C) UEP.                      D) Custeio Direto.

29. A redação oficial deve obedecer a determinados critérios e formas definidas em instrumentos normativos ou orientativos, como o Manual de Redação da Presidência da República. De acordo com as recomendações desse manual, analise o documento a seguir, endereçado ao Departamento de Comunicação da Prefeitura de Uberaba.

  
UMA BOVA CIDADE

**SECRETARIA MUNICIPAL DE EDUCAÇÃO E CULTURA**      NONONONONONO  
Nº. 2020

REMETENTE  
**José Vandir de Oliveira** – Secretário M. de Educação e Cultura

DESTINATÁRIO  
**Juliana Fidélis** - Diretora do Departamento de Comunicação

DATA: 19/11/2011

ASSUNTO  
Solicita publicação.

**Senhora Diretora**

Solicitamos a Vossa Senhoria providenciar a publicação no site da Prefeitura, na página da Secretaria Municipal de Educação e Cultura, da Minuta de Decreto que dispõe sobre as regras de posicionamento dos servidores efetivos da Carreira dos Profissionais do Magistério da Educação Básica da Rede Municipal de Ensino que trata a Lei nº449, de 14 de outubro de 2011, e dá outras providências.

**Atenciosamente.**

**Ruy Martins Magalhães**  
Diretor do Departamento de Planejamento, Gestão e Finanças

**José Vandir de Oliveira**  
Secretário Municipal de Educação e Cultura

Disponível em: <http://www.uberaba.mg.br>. Acesso em: 10. jun. 2018.

Considerando a natureza do seu conteúdo e os seus interlocutores, o documento em destaque é chamado de

- A) exposição de motivos.
- B) portaria.
- C) mensagem.
- D) ofício.

30. O administrador da central de materiais de um hospital universitário está elaborando um documento para enviar aos gestores das demais unidades da organização, informando que os pedidos de materiais e medicamentos deverão ser enviados por meio de pedido eletrônico. Para tanto, de acordo com o Manual de Redação da Presidência da República, deverá utilizar o documento oficial denominado

- A) ofício circular.
- B) ofício.
- C) ofício conjunto.
- D) ofício conjunto circular.

31. No universo das tecnologias de gestão, tem se destacado o uso de ferramentas de apoio à decisão, inclusive nas organizações públicas. O Power BI é uma dessas ferramentas, permitindo uma ampla modelagem e análise em tempo real para dar suporte ao mecanismo de decisões e à análise de projetos de grupo, de divisões ou de organizações inteiras. Analise as seguintes afirmativas sobre essa ferramenta da Microsoft ®.

I	O Power BI tem três elementos: o Desktop, o serviço e o Mobile, todos projetados para permitir a criação, o compartilhamento e o consumo de análises de negócios.
II	No Power BI, o fluxo de trabalho comum começa no Power BI Desktop, em que um relatório é criado.
III	Os relatórios são publicados no serviço do Power BI e, depois, podem ser compartilhados para outros usuários que consomem as informações por meio do Power BI Mobile.
IV	Os blocos de construção básicos no Power BI são os seguintes: visualizações, conjuntos de dados, análises, painéis e blocos.

Das afirmativas, estão corretas

- A) I, II e III.
- B) II, III e IV.
- C) I e IV apenas.
- D) II e IV apenas.

32. O Excel é uma ferramenta muito utilizada para a elaboração de planilhas e para a análise de dados, apesar de possuir um nível de segurança de informações não tão elevado. Para auxiliar nos cálculos financeiros, existem funções previamente programadas com as quais é possível realizar análise de investimento. Uma dessas funções é a PMT, que calcula o reembolso de um empréstimo de acordo com pagamentos constantes e com uma taxa de juros constante. Analise as afirmativas a seguir relativas a alguns dos argumentos da sintaxe da função PMT.

I	<b>Taxa:</b> é um argumento obrigatório que se refere à taxa juros para o empréstimo.
II	<b>Nper:</b> é um argumento obrigatório que se refere ao número total de pagamentos pelo empréstimo.
III	<b>Vp:</b> é um argumento opcional que se refere à quantia total agora equivalente a uma série de pagamentos futuros, sendo conhecido também como principal.
IV	<b>Vf:</b> é um argumento opcional que se refere ao valor que se deseja obter depois do último pagamento.

Das afirmativas, estão corretas

- A) I, II e IV.
- B) II, III e IV.
- C) II e III apenas.
- D) I e IV apenas.

33. A Prefeitura Municipal de Parnamirim (RN) publicou a Lei Orçamentária Anual (LOA) para o ano de 2018, da qual foram extraídas informações referentes às suas receitas, explicitadas na Tabela 2 reproduzida a seguir.

**Tabela 2 – Previsão de Receitas para o Ano de 2018**

<b>Código</b>	<b>Especificação</b>	<b>Desdobramento</b>	<b>Fonte</b>	<b>Categoria</b>
1000.00.00	RECEITAS DO GRUPO 1			448.324.000
1100.00.00	RECEITA TRIBUTÁRIA		82.121.000	
1200.00.00	RECEITAS DE CONTRIBUIÇÕES		13.001.000	
1300.00.00	RECEITA PATRIMONIAL		1.250.000	
1600.00.00	RECEITA DE SERVIÇOS		100.000	
1700.00.00	TRANSFERÊNCIAS CORRENTES		337.917.000	
<hr/>				
<b>2000.00.00</b>	<b>RECEITAS DO GRUPO 2</b>			<b>57.647.200</b>
<b>2100.00.00</b>	<b>OPERAÇÕES DE CRÉDITO</b>		<b>15.000.000</b>	
2110.00.00	OPERAÇÕES DE CRÉDITO DE INTERNAS			
2114.04.01	OPERAÇÕES DE CRÉDITO - INTERNA P/PROGRAMAS DIVERSOS	15.000.000		
<b>2400.00.00</b>	<b>TRANSFERÊNCIA DO SUBGRUPO 2.4</b>		<b>42.647.200</b>	
2420.00.00	TRANSFERÊNCIAS INTERGOVERNAMENTAIS			
2421.33.01	TRANSFERÊNCIAS DO SUS - INVESTIMENTO	2.000.000		
2421.35.01	TRANSFERÊNCIAS DO FNDE - INVESTIMENTO	1.000.000		
2421.99.00	OUTRAS TRANSFERÊNCIAS DA UNIÃO	2.647.200		
2470.00.00	TRANSFERÊNCIAS DE CONVÊNIOS			
2471.03.00	TRANSFERÊNCIAS DE CONVÊNIOS DA UNIÃO PROGRAMA DE SANEAMENTO BÁSICO - PAC	30.000.000		
2471.99.00	OUTRAS TRANSF. DE CONVÊNIO DA UNIÃO	10.000.000		
	<b>SUBTOTAL</b>	<b>60.647.200</b>	<b>57.647.200</b>	<b>57.647.200</b>
9000.00.00	(-) DEDUÇÕES DA RECEITA CORRENTE	-37.251.200	-37.251.200	-37.251.200
	<b>TOTAL</b>	<b>468.720.000</b>	<b>468.720.000</b>	<b>468.720.000</b>

Disponível em: <http://www.parnamirim.rn.gov.br>. Acesso em: 10. jun. 2018.

Com base na previsão de receitas do município de Parnamirim (RN), para o ano de 2018, bem como na classificação e nas codificações legais das receitas públicas,

- A) o valor das deduções da receita corrente previstas para o município equivale a mais de 64% das receitas correntes.
- B) o valor total das receitas de capital previstas para o município equivale a menos de 13% das receitas totais.
- C) Mais de 95% das verbas do município são oriundas de receitas de capital.
- D) Menos de 95% das verbas do município são oriundas de receitas correntes.

34. Os funcionários de uma prefeitura são obrigados a seguir o estatuto dos servidores públicos, a exemplo daqueles que são vinculados à Prefeitura Municipal de Parnamirim (RN), que possui um estatuto próprio, previsto na Lei nº 140, de 25 de julho de 1969. De acordo com o art. 9º dessa lei, os cargos públicos serão providos por nomeação, promoção, transferência, reintegração, readmissão, reversão ou aproveitamento. Sobre essas formas de provimento, analise as afirmativas abaixo.

I	A nomeação será feita em caráter efetivo quando se tratar de cargo de carreira.
II	O funcionário pode ser transferido de uma carreira para outra de mesma denominação, ou de um cargo isolado para outro de natureza distinta.
III	A readmissão é o reingresso no serviço público, com ressarcimento das vantagens atinentes ao cargo.
IV	A reversão é o reingresso do aposentado no serviço público municipal, após verificação, em processo, de que não subsistem os motivos determinantes da aposentadoria.

Das afirmativas, estão corretas

- A) II e III, apenas.  
 B) I e IV apenas.  
 C) I, II e III.  
 D) II, III e IV.
35. A Lei Orçamentária Anual da Prefeitura Municipal de Parnamirim (RN) contém, em seus anexos, o seguinte orçamento das despesas para o ano de 2018, conforme a tabelas 3.

**Tabela 3 – Previsão de Despesas para o ano de 2018**

<b>SUBTOTAL DO GRUPO</b>	413.769.000,00
PESSOAL E ENCARGOS SOCIAIS	258.227.800,00
JUROS E ENCARGOS DA DÍVIDA	2.000,00
OUTRAS DESPESAS DO GRUPO	155.539.200,00
<b>SUBTOTAL DO GRUPO</b>	54.951.000,00
DÉFICIT DO ORÇAMENTO CORRENTE	2.696.200,00
INVESTIMENTOS	47.951.000,00
INVERSÕES FINANCEIRAS	-
AMORTIZAÇÃO DA DÍVIDA	7.000.000,00
RESERVA DE CONTINGÊNCIA	-
<b>TOTAL DAS DESPESAS</b>	468.720.000,00

Disponível em: <http://www.parnamirim.rn.gov.br>. Acesso em: 10. jun. 2018.

Com base na adequada classificação das despesas públicas, a prefeitura estima ter, no ano de 2018, um gasto proporcional em relação à despesa total de

- A) 44,91% em despesas de capital.  
 B) 88,28% em despesas correntes.  
 C) 33,18% em despesas de capital.  
 D) 11,72% em despesas correntes.