



**TRIBUNAL DE JUSTIÇA
PODER JUDICIÁRIO
ESTADO DE MATO GROSSO**

CONCURSO PÚBLICO

8. PROVA OBJETIVA

Língua Portuguesa, Matemática, Noções de Informática,
Conhecimentos Específicos e Redação

ANALISTA JUDICIÁRIO
LETRAS

INSTRUÇÕES

- ◆ VOCÊ RECEBEU SUA FOLHA DE RESPOSTAS, SEU CADERNO DE REDAÇÃO E ESTE CADERNO CONTENDO 70 QUESTÕES OBJETIVAS E UM TEMA DE REDAÇÃO QUE SERÁ DESENVOLVIDO EM CADERNO ESPECÍFICO.
- ◆ CONFIRA SEU NOME E NÚMERO DE INSCRIÇÃO NAS CAPAS DOS CADERNOS.
- ◆ LEIA CUIDADOSAMENTE AS QUESTÕES E ESCOLHA A RESPOSTA QUE VOCÊ CONSIDERA CORRETA.
- ◆ PARA CADA QUESTÃO HÁ APENAS UMA ALTERNATIVA CORRETA.
- ◆ MARQUE NA TIRA A ALTERNATIVA QUE JULGAR CERTA E TRANSCREVA-A PARA A FOLHA DE RESPOSTAS, COM CANETA DE TINTA AZUL OU PRETA.
- ◆ AS DUAS PROVAS, OBJETIVA E DE REDAÇÃO, DEVERÃO SER RESPONDIDAS NUM TEMPO TOTAL DE 5 HORAS.
- ◆ A SAÍDA DO PRÉDIO SÓ SERÁ PERMITIDA APÓS DECORRIDAS 2 HORAS DO INÍCIO DA PROVA.
- ◆ OS TRÊS ÚLTIMOS CANDIDATOS DA SALA DEVERÃO RETIRAR-SE DO LOCAL SIMULTANEAMENTE.
- ◆ AO SAIR, VOCÊ ENTREGARÁ AO FISCAL A FOLHA DE RESPOSTAS E O CADERNO DE REDAÇÃO. CASO SUA SAÍDA OCORRA NO DECURSO DOS ÚLTIMOS 30 MINUTOS QUE ANTECEDEM AO TÉRMINO DA PROVA, VOCÊ PODERÁ LEVAR ESTE CADERNO DE QUESTÕES.

AGUARDE A ORDEM DO FISCAL PARA ABRIR ESTE CADERNO DE QUESTÕES.

RESPOSTAS

01	<input type="checkbox"/>	36	<input type="checkbox"/>
02	<input type="checkbox"/>	37	<input type="checkbox"/>
03	<input type="checkbox"/>	38	<input type="checkbox"/>
04	<input type="checkbox"/>	39	<input type="checkbox"/>
05	<input type="checkbox"/>	40	<input type="checkbox"/>
06	<input type="checkbox"/>	41	<input type="checkbox"/>
07	<input type="checkbox"/>	42	<input type="checkbox"/>
08	<input type="checkbox"/>	43	<input type="checkbox"/>
09	<input type="checkbox"/>	44	<input type="checkbox"/>
10	<input type="checkbox"/>	45	<input type="checkbox"/>
11	<input type="checkbox"/>	46	<input type="checkbox"/>
12	<input type="checkbox"/>	47	<input type="checkbox"/>
13	<input type="checkbox"/>	48	<input type="checkbox"/>
14	<input type="checkbox"/>	49	<input type="checkbox"/>
15	<input type="checkbox"/>	50	<input type="checkbox"/>
16	<input type="checkbox"/>	51	<input type="checkbox"/>
17	<input type="checkbox"/>	52	<input type="checkbox"/>
18	<input type="checkbox"/>	53	<input type="checkbox"/>
19	<input type="checkbox"/>	54	<input type="checkbox"/>
20	<input type="checkbox"/>	55	<input type="checkbox"/>
21	<input type="checkbox"/>	56	<input type="checkbox"/>
22	<input type="checkbox"/>	57	<input type="checkbox"/>
23	<input type="checkbox"/>	58	<input type="checkbox"/>
24	<input type="checkbox"/>	59	<input type="checkbox"/>
25	<input type="checkbox"/>	60	<input type="checkbox"/>
26	<input type="checkbox"/>	61	<input type="checkbox"/>
27	<input type="checkbox"/>	62	<input type="checkbox"/>
28	<input type="checkbox"/>	63	<input type="checkbox"/>
29	<input type="checkbox"/>	64	<input type="checkbox"/>
30	<input type="checkbox"/>	65	<input type="checkbox"/>
31	<input type="checkbox"/>	66	<input type="checkbox"/>
32	<input type="checkbox"/>	67	<input type="checkbox"/>
33	<input type="checkbox"/>	68	<input type="checkbox"/>
34	<input type="checkbox"/>	69	<input type="checkbox"/>
35	<input type="checkbox"/>	70	<input type="checkbox"/>

LÍNGUA PORTUGUESA

Leia o texto para responder às questões de números **01** a **05**.

Província e metrópole

RIO DE JANEIRO - Um historiador nordestino continua criticando o Rio por dar destaque às comemorações do bicentenário da chegada da corte portuguesa ao Brasil. Segundo o mestre do nosso setentrão, que nesse particular é acompanhado por mestres de outros Estados, inclusive de São Paulo, a badalação sobre a vinda de fugitivos de Napoleão é apenas uma jogada de marketing, destinada a encobrir as mazelas de uma cidade que deveria estar preocupada em combater a violência urbana, que envergonha não apenas a cidade mas o país inteiro.

Acontece que a vinda da corte de dom João para o Brasil é um dos poucos episódios de nosso passado que merecem fazer parte da história universal. Foi uma derrota de Napoleão e um motivo a mais para seu ódio contra a Inglaterra, que culminaria na derrota final em Waterloo.

Embora modesta no cenário mundial, a monarquia portuguesa deu um exemplo às monarquias bem mais poderosas, que somente no Congresso de Viena voltaram a ocupar o trono do qual foram expulsas pelos exércitos franceses. Fugindo ou recuando, o fato é que dom João não foi derrotado por Napoleão. Os Braganças continuaram no trono, apesar do vendaval que varreu a Europa.

À margem do contexto internacional, o Brasil deixou de ser colônia e passou a ser metrópole, apesar da bagunçada transferência de tantos portugueses para cá. A Independência de 1822 não teria havido sem a chegada da corte de Lisboa ao Rio. E a cidade não tem culpa de ter sido sede de um império europeu.

Em muitos sentidos, o Brasil só começou a existir em 1808. Criticar o Rio por estar comemorando este bicentenário é a expressão de um provincianismo até certo ponto estúpido. O grito às margens plácidas do Ipiranga não é um fato paulista.

(Carlos Heitor Cony, *Folha de S.Paulo*, 13.03.2008)

01. De acordo com o autor, a vinda da corte portuguesa ao Brasil

- (A) foi um recuo estratégico que infligiu uma derrota a Napoleão.
- (B) representa um fato restrito à história da cidade do Rio de Janeiro.
- (C) impediu que as tropas napoleônicas ocupassem o território português.
- (D) fez com que Portugal se tornasse a monarquia mais poderosa da Europa.
- (E) não foi reconhecida pelo Congresso de Viena, diferente das demais monarquias.

02. Com o termo *provincianismo*, ao final do texto, o comportamento dos intelectuais que vêm criticando o Rio é descrito como

- (A) tradicionalista e ilustrado.
- (B) retrógrado e sectário.
- (C) cauto e elitista.
- (D) proselitista e previdente.
- (E) progressista e insólito.

03. Observe as frases:

- Os Braganças continuaram no trono, apesar do vendaval que varreu a Europa.
- O grito às margens plácidas do Ipiranga não é um fato paulista.

Considerando as figuras de linguagem, é correto afirmar que o termo

- (A) *Braganças* serve de pleonasma para a família real portuguesa.
- (B) *trono* está empregado como prosopopéia para se referir a Portugal.
- (C) *vendaval* é usado como metáfora para Napoleão e seus exércitos.
- (D) *grito* alude, por meio de antítese, à proclamação da Independência.
- (E) *plácidas* constitui, ao mesmo tempo, elipse e eufemismo para se referir a rio.

Releia o primeiro parágrafo, transcrito a seguir, para responder às questões de números **04** e **05**.

Um *historiador* nordestino continua criticando o Rio por dar destaque às comemorações do bicentenário da chegada da corte portuguesa ao Brasil. Segundo o mestre do nosso setentrão, que nesse particular é acompanhado por mestres de outros Estados, inclusive de São Paulo, a badalação sobre a vinda de fugitivos de Napoleão é apenas uma jogada de marketing, destinada a encobrir as mazelas de uma cidade que *deveria* estar preocupada em combater a violência urbana, que *envergonha* não apenas a cidade mas o país inteiro.

04. Ao estabelecer a coesão no início do parágrafo, a preposição *por* introduz, com relação à oração anterior, uma idéia de

- (A) hipótese.
- (B) concessão.
- (C) conformidade.
- (D) causa.
- (E) oposição.

05. Assinale a alternativa correta.

- (A) A palavra *portuguesa*, em destaque no parágrafo, é um substantivo, funcionando de modo idêntico no trecho: ... apesar da bagunçada transferência de tantos *portugueses* para cá.
- (B) O pronome *esse*, em *nesse particular*, está empregado de maneira incorreta e deve ser substituído por *aquele*.
- (C) A forma verbal *deveria* é usada, no parágrafo, para indicar uma ação anterior a outra no passado e tem como sujeito a cidade de São Paulo.
- (D) As palavras *historiador*, *destaque* e *envergonha* são empregadas, no parágrafo, como substantivos e foram formadas pelo mesmo processo de derivação.
- (E) O termo *apenas*, em destaque no parágrafo, classifica-se como advérbio e pode ser substituído por *só* ou *somente*.

06. Observe a pontuação nas frases:

- I. Acontece que a vinda da corte portuguesa para o Brasil. É um dos poucos episódios de nosso passado, que merecem fazer parte da história universal. Foi uma derrota, de Napoleão e um motivo a mais para seu ódio contra a Inglaterra, que culminaria na derrota final em Waterloo.
- II. Acontece que, a vinda da corte portuguesa, para o Brasil, é um dos poucos episódios de nosso passado que merecem fazer parte da história universal. Foi uma derrota de Napoleão; e um motivo a mais para seu ódio (contra a Inglaterra) que culminaria, na derrota final em Waterloo.
- III. Acontece que a vinda da corte portuguesa para o Brasil é um dos poucos episódios de nosso passado que merecem fazer parte da história universal: foi uma derrota de Napoleão e um motivo a mais para seu ódio contra a Inglaterra – que culminaria na derrota final, em Waterloo.

Está correto o uso dos sinais gráficos de pontuação apenas em

- (A) I.
- (B) II.
- (C) III.
- (D) I e II.
- (E) II e III.

07. Observe as frases:

- Intelectuais paulistas têm criticado a *celebração da vinda da corte*.
- Alguns julgaram *válida a comemoração*.
- As outras monarquias européias somente reocuparam o *trono* no Congresso de Viena.

Considerando as regras de colocação pronominal e preservando a predicação dos verbos, as expressões destacadas estão substituídas por pronomes, correta e respectivamente, em:

- (A) a têm criticado, a julgaram, o reocuparam.
- (B) têm criticado-a, julgaram-na, reocuparam-no.
- (C) têm lhe criticado, a julgaram, reocuparam-lhe.
- (D) têm-na criticado, lhe julgaram, lhe reocuparam.
- (E) lhe têm criticado, julgaram-lhe, reocuparam-no.

08. Assinale a frase correta quanto ao uso da crase.

- (A) A discussão trata da transferência da corte portuguesa à esta cidade.
- (B) Alguns historiadores são avessos à qualquer comemoração do evento.
- (C) O Rio de Janeiro deveria dedicar-se ao combate à violência urbana.
- (D) A violência urbana deve ser motivo de vergonha à toda a nação brasileira.
- (E) Dom João VI recusou-se a ficar cara à cara com as tropas napoleônicas.

09. Assinale a frase em que não há ambigüidade sintática causada pela expressão em destaque, ou seja, em que a expressão destacada somente pode se referir a um substantivo.

- (A) Ao final da aula, o professor pediu ao aluno para *copiar* o texto.
- (B) *Conformado*, o homem decidiu entregar-se a seus inimigos.
- (C) Quando a guerra terminou, meu pai retornou a seu país *arrasado*.
- (D) Todos comentavam sobre o presidente e os ministros *acusados* de corrupção.
- (E) Serão premiados os filhos dos funcionários que *estiverem vestindo* nossa camiseta.

10. Assinale a frase em que a expressão em destaque está grafada/empregada corretamente.

- (A) A matéria *há cerca* da clonagem de órgãos humanos foi alvo de diversas críticas.
- (B) O artigo do cientista apresentou uma *rezenha* das teorias mais recentes sobre o cérebro humano.
- (C) O documento *contêm* informações sigilosas a respeito de diversas transações da Bolsa de Valores.
- (D) A empresa *subsídia* diversas Organizações Não Governamentais no interior do Estado do Mato Grosso.
- (E) Segundo os especialistas, não há *por que* se preocupar com o aquecimento global a curto prazo.

MATEMÁTICA

11. De um rolo de papel com 1 metro de largura, foram recortados 50 pedaços quadrados, cada um com 20 cm de lado. Considerando-se que não houve nenhum desperdício, pode-se afirmar que o comprimento do papel gasto foi

- (A) 5 m.
- (B) 4,5 m.
- (C) 3 m.
- (D) 2 m.
- (E) 1,5 m.

12. Trabalhando 8 horas por dia, 6 diagramadores paginaram $\frac{3}{5}$ de um livro em 6 dias. Para terminar a paginação desse livro, trabalhando com dois diagramadores a menos e reduzindo-se o tempo de trabalho diário em 2 horas e mantidas as proporções, serão necessários mais

- (A) 6 dias.
- (B) 7 dias.
- (C) 8 dias.
- (D) 9 dias.
- (E) 10 dias.

13. Em uma pesquisa de opinião feita com os frequentadores de um centro médico, constatou-se que 60% dos entrevistados faziam tratamento alopático, 35% faziam tratamento homeopático, e 15% utilizavam ambos simultaneamente. Pode-se concluir, então, que a porcentagem que indica os entrevistados que não utilizam nenhum desses tratamentos é

- (A) 40%.
- (B) 35%.
- (C) 30%.
- (D) 25%.
- (E) 20%.

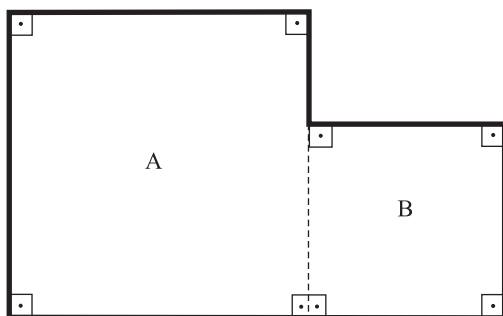
14. A água contida em um reservatório ocupava $\frac{2}{3}$ da sua capacidade total. Foram retirados 750 litros de água desse reservatório, e a quantidade de água restante nele passou a ocupar $\frac{1}{4}$ da sua capacidade total. Considere, então, as afirmações seguintes:

- I. Após a retirada, restaram exatamente 400 litros de água no reservatório.
- II. A capacidade total desse reservatório é de 1 800 litros.
- III. A quantidade de água retirada corresponde a 60% da quantidade de água inicial.
- IV. 750 litros correspondem a $\frac{5}{12}$ da capacidade total desse reservatório.
- V. Esse reservatório continha, inicialmente, 1 200 litros de água.

Dessas, estão corretas apenas as afirmações

- (A) II, IV e V.
- (B) II e III.
- (C) I, IV e V.
- (D) I, II e IV.
- (E) III, IV e V.

15. Um terreno foi dividido pelo proprietário, para efeito de construção, em duas partes, A e B, sendo ambas quadradas, como mostra a figura.



Sabendo-se que a área total dessas duas partes é de 468 m^2 e que a razão entre as áreas das partes A e B, nessa ordem, é de 9 para 4, pode-se afirmar que o perímetro desse terreno, que aparece em **negrito** na figura, é igual a

- (A) 108 m.
- (B) 100 m.
- (C) 98 m.
- (D) 96 m.
- (E) 84 m.

16. Três torneiras, com vazões iguais e constantes, enchem totalmente uma caixa d'água em 45 minutos. Para acelerar esse processo, duas novas torneiras, iguais às primeiras, foram instaladas. Assim, o tempo gasto para encher essa caixa d'água foi reduzido em

- (A) 18 min.
- (B) 20 min.
- (C) 22 min.
- (D) 25 min.
- (E) 28 min.

17. Um certo capital foi aplicado durante 8 meses, e rendeu de juros, no final da aplicação, uma quantia igual à décima parte do capital aplicado. A taxa mensal de juro simples dessa aplicação foi igual a

- (A) 1,50%.
- (B) 1,25%.
- (C) 1,15%.
- (D) 1,05%.
- (E) 0,95%.

18. Uma pessoa dispunha de apenas 5 dias para ler e analisar um processo volumoso. No 1.º dia, ela leu 25% do total de páginas desse processo e, no 2.º dia, leu apenas 60% do número de páginas que havia lido no dia anterior, sem repetir as que já havia lido. Sabendo-se que faltam 264 páginas para serem lidas nos três dias restantes, é correto afirmar que

- (A) esse processo tem um total de 450 páginas.
- (B) nos dois primeiros dias, ela leu 45% das páginas desse processo.
- (C) nos três dias restantes, ela precisará ler 60% do total de páginas desse processo.
- (D) nos dois primeiros dias, ela leu um total de 186 páginas.
- (E) no segundo dia, ela leu 76 páginas.

19. A primeira fase de um concurso é constituída por três provas, A, B e C, cujos pesos são, respectivamente, 5, 3 e 2. A classificação para a fase seguinte é dada pela média aritmética ponderada dos pontos obtidos nas três provas, sendo que para ser classificado, o candidato precisa ter, no mínimo, média igual a 20 pontos. Suponha que um candidato tenha obtido 16 pontos na prova A e 28 pontos na prova B. Dessa maneira, o número mínimo de pontos que ele necessitará obter na prova C, para ser classificado para a fase seguinte, é

- (A) 16.
- (B) 18.
- (C) 20.
- (D) 26.
- (E) 36.

20. Uma pessoa fez um empréstimo de R\$ 20.000,00 por 3 anos, no regime de juros compostos, a uma taxa de 10% ao ano, com pagamento no final do empréstimo. O valor total dos juros pagos por esse empréstimo foi

- (A) R\$ 2.662,00.
- (B) R\$ 3.640,00.
- (C) R\$ 4.620,00.
- (D) R\$ 5.260,00.
- (E) R\$ 6.620,00.

NOÇÕES DE INFORMÁTICA

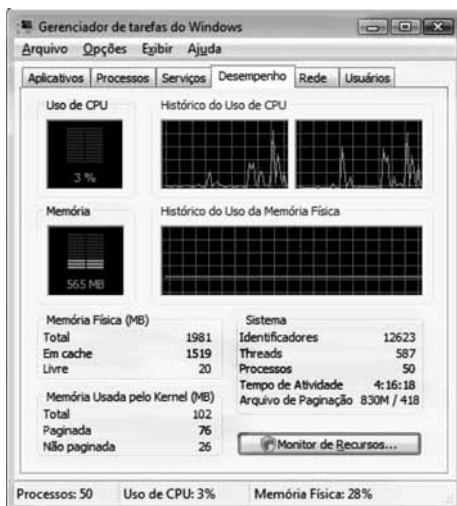
21. A figura apresenta um teclado padrão de computador.



Baseando-se nesse teclado, assinale a alternativa que identifica a tecla que, quando pressionada, captura uma imagem da tela inteira e a copia para a área de transferência na memória do computador.

- (A) psc
- (B) slk
- (C) bksp
- (D) nlk
- (E) ctrl

22. Conforme exposto no Gerenciador de tarefas do Windows, indique a alternativa que contém o tamanho da memória RAM instalada no computador.



- (A) 565 MBytes ou 565 000 Bytes.
- (B) 830 MBytes ou 0,830 GBytes.
- (C) 1 519 MBytes ou 1,5 GBytes.
- (D) 1 519 Bytes ou 1,5 MBytes.
- (E) 1 981 MBytes ou 2 GBytes.

23. Assinale a alternativa que preenche, correta e respectivamente, as lacunas da afirmação sobre gerenciamento de memória no Windows Vista.

A memória _____ combina a RAM do computador com espaço temporário no disco rígido. Quando a RAM fica insuficiente, a memória virtual move os dados da RAM para um espaço chamado arquivo de _____. Isso libera a RAM para concluir seu trabalho.

- (A) ROM ... documentos
- (B) secundária ... memória
- (C) virtual ... paginação
- (D) cache ... armazenamento
- (E) kernel ... gerenciamento

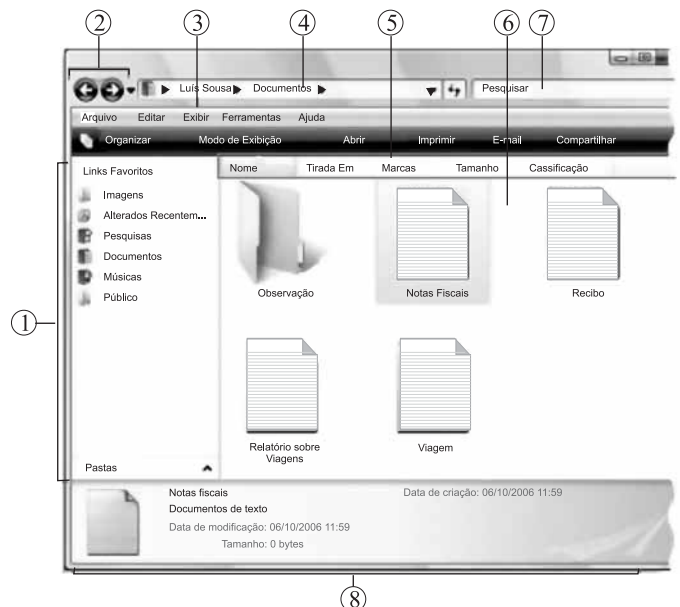
24. A janela apresentada na figura é exibida pelo Windows Vista, em sua configuração original, quando as teclas Alt e Tab são pressionadas simultaneamente (alternador de tarefas).



Da esquerda para a direita, identifique todos os elementos apresentados na janela (exceto o Bloco de notas que já foi identificado).

- (A) Internet Explorer, Paint, WordPad, Excel e Barra de tarefas.
- (B) Internet Explorer, Paint, Word, Excel e Desktop.
- (C) Windows Explorer, CorelDraw, Word, Excel e Meu computador.
- (D) Windows Explorer, Paint, Word, Excel e Desktop.
- (E) Outlook, Paint, WordPad, Excel e Barra de tarefas.

25. A seguir é apresentada a pasta Documentos de um computador com Windows Vista.



Baseando-se na figura, numere corretamente os círculos, associando cada parte da tela com sua respectiva descrição.

- Barra de ferramentas
- Botões Avançar e Voltar
- Painel de navegação
- Lista de arquivos
- Painel de detalhes
- Barra de endereços
- A caixa Pesquisar
- Cabeçalhos

Assinale a alternativa que contém, corretamente, os números dos círculos, seguindo a ordem de cima para baixo.

- (A) 3, 2, 1, 6, 8, 4, 7, 5.
- (B) 1, 2, 3, 4, 5, 6, 7, 8.
- (C) 4, 2, 1, 8, 3, 6, 7, 5.
- (D) 8, 7, 6, 5, 4, 3, 2, 1.
- (E) 3, 2, 1, 7, 4, 6, 8, 5.

26. No Word XP, em sua configuração original, a opção para alterar a orientação (retrato ou paisagem) no documento que está sendo editado, encontra-se na guia
- (A) Formato, da opção Visualizar impressão do menu Arquivo.
 (B) Orientação, da opção Imprimir do menu Arquivo.
 (C) Papel, da opção Imprimir do menu Arquivo.
 (D) Margens, da opção Configurar página do menu Arquivo.
 (E) Layout, da opção Configurar página do menu Arquivo.

27. Verifique na figura I que existe um AutoFiltro aplicado na coluna D de uma planilha Excel XP, em sua configuração original:

	D
1	
2	Unidade Solicitante
3	Business e Corporate
4	Personale Business
5	Produtos CI
6	Finanças e Business
7	Central Ativos Retail
8	Business e Fiscal
9	Personal
10	Business
11	Corporate
	Detalhes


Figura I



Figura II

Assinale a alternativa que contém apenas as linhas que serão visualizadas, caso ocorra a personalização do AutoFiltro, conforme exposto na figura II.

- (A) 3, 4, 6, 8 e 10.
 (B) 3, 8 e 10.
 (C) 3 e 8.
 (D) 4 e 6.
 (E) 8 e 10.
28. Observe a fórmula aplicada na célula H1 de uma planilha do Excel XP, a partir da sua configuração original:
- $$=SE(H2>=15;MOD(3;2);(SE(E(H2>8;H2<=10); H2*10\%; MÉDIA(H2^2;H2/1))))$$
- Indique a alternativa que traz os resultados que serão apresentados na célula H1, quando os seguintes valores forem inseridos na célula H2, respectivamente.
- I. 2.
 II. 8.
 III. 9.
 IV. 15.
- (A) I. 1 ... II. 0,8 ... III. 45 ... IV. 1,5.
 (B) I. 4 ... II. 8 ... III. 0,9 ... IV. 1.
 (C) I. 3 ... II. 36 ... III. 0,9 ... IV. 1.
 (D) I. 2 ... II. 64 ... III. 81 ... IV. 6.
 (E) I. 0,2 ... II. 1 ... III. 9 ... IV. 15.

29. Indique a alternativa que contém a guia da janela Opções da Internet (encontrada no botão  Ferramentas do Internet Explorer 7) que permite ativar o Bloqueador de Pop-ups.
- (A) Avançadas.
 (B) Conteúdo.
 (C) Geral.
 (D) Programas.
 (E) Privacidade.

30. A figura apresenta as opções de inserção de anexo em uma mensagem do Outlook XP que está sendo escrita.



Ao escolher a opção Item, será possível anexar

- (A) um documento do Word gravado no C:.
 (B) uma apresentação do PowerPoint encontrada em Itens Recentes.
 (C) uma planilha do Excel existente na pasta Documentos.
 (D) uma outra mensagem existente na Caixa de Entrada.
 (E) um formulário que é um dos itens do banco de dados Access.

CONHECIMENTOS ESPECÍFICOS

NOÇÕES DE DIREITO CONSTITUCIONAL

31. Conforme a Constituição Federal, é correto afirmar que
- (A) o preso não tem direito à identificação dos responsáveis por sua prisão.
 (B) em nenhuma hipótese, o brasileiro nato ou naturalizado poderá ser extraditado.
 (C) aos litigantes e aos acusados em geral serão assegurados o contraditório e ampla defesa, exceto no processo administrativo em que há supremacia do interesse da Administração.
 (D) a ação popular será intentada pelo Ministério Público para anular ato lesivo ao patrimônio público ou ao meio ambiente.
 (E) ninguém será levado à prisão ou nela mantido, quando a lei admitir a liberdade provisória, com ou sem fiança.

32. Assinale a alternativa que contém espécies normativas que podem ser elaboradas diretamente pelo Chefe do Poder Executivo Federal.

- (A) Medidas provisórias e leis delegadas.
- (B) Leis complementares e leis ordinárias.
- (C) Leis provisórias e leis executivas.
- (D) Decretos executivos e decretos legislativos.
- (E) Resoluções e emendas à Constituição.

NOÇÕES DE DIREITO ADMINISTRATIVO

33. É um atributo do ato administrativo:

- (A) a forma.
- (B) a competência.
- (C) a inexigibilidade.
- (D) a auto-executoriedade.
- (E) a eficiência.

34. É uma causa que pode excluir ou atenuar a responsabilidade civil objetiva do Estado:

- (A) a vontade do agente público.
- (B) a culpa da vítima.
- (C) ausência de culpa da Administração.
- (D) a omissão da Administração.
- (E) a ausência de dano.

NOÇÕES DE DIREITO CIVIL

35. Analise as afirmações a seguir:

- I. Não se destinando à vigência temporária, a lei terá vigor até que outra a modifique ou revogue.
- II. A lei revogada se restaura por ter a lei revogadora perdido a vigência, de forma expressa ou tácita.
- III. Salvo disposição contrária, a lei começa a vigorar em todo o país 40 (quarenta) dias depois de oficialmente publicada.
- IV. As correções a texto de lei já em vigor consideram-se lei nova.
- V. A lei nova, que estabeleça disposições gerais ou especiais a par das já existentes, não revoga nem modifica a lei anterior.

Está correto o que se afirma apenas em

- (A) I e V.
- (B) III e IV.
- (C) II e V.
- (D) I, IV e V.
- (E) III, II e IV.

36. Assinale a alternativa correta.

- (A) Também comete ato ilícito o titular de um direito que, ao exercê-lo, excede os limites impostos pelos bons costumes.
- (B) A deterioração ou destruição de coisa alheia, a fim de remover perigo iminente, mesmo não sendo necessário, é um ato lícito.
- (C) O incapaz não responde pelos prejuízos que causar, se as pessoas por ele responsáveis não dispuserem de meios.
- (D) Os pais respondem pelos danos causados pelos filhos que estão sob sua guarda, na modalidade subjetiva da responsabilidade.
- (E) O dono, ou detentor, do animal ressarcirá o dano por este causado, não podendo provar culpa da vítima ou força maior.

NOÇÕES DE DIREITO PROCESSUAL CIVIL

37. Assinale a alternativa correta.

- (A) Sendo o juiz o destinatário da prova, somente a ele cumpre aferir sobre a necessidade ou não de sua realização.
- (B) A exceção de suspeição pode ser argüida por quem não é parte no processo, não sendo essa restrita ao interessado.
- (C) O juiz apreciará com liberdade a prova, decidindo com independência, assim com o poder de conhecer as questões não suscitadas.
- (D) O juiz deve tentar conciliar as partes, limitando-se a fazê-lo até o momento anterior à produção probatória.
- (E) O juiz não se exime de julgar, mas deve aplicar a analogia quando expressamente determinada em lei.

38. No que diz respeito à concessão da tutela antecipada, indique a alternativa correta.

- (A) Não será concedida se ficar caracterizado o abuso de direito da defesa ou manifesto propósito protelatório do réu.
- (B) A decisão que a conceder não poderá ser revogada ou modificada, a não ser por recurso fundamentado.
- (C) Somente pode ser concedida em causas envolvendo direitos patrimoniais, exigindo sua fundamentação.
- (D) Não poderá ser concedida se um ou mais dos pedidos cumulados, ou parcela deles, for incontroverso.
- (E) O réu poderá pleiteá-la em ação dúplice, reconvenção, ação declaratória incidental ou denunciação da lide.

NOÇÕES DE DIREITO PENAL

39. Se o fato criminoso for cometido em estrita obediência a ordem, não manifestamente ilegal, de superior hierárquico,
- (A) somente é punido o autor do fato criminoso.
 - (B) somente é punido o autor da ordem.
 - (C) são punidos o autor do fato criminoso e o autor da ordem.
 - (D) o autor da ação é punido com a pena do crime tentado, e o autor da ordem é punido com a pena do crime consumado.
 - (E) o autor da ação é punido com a mesma pena do autor da ordem diminuída de 1 a 2/3.
40. Fazer justiça pelas próprias mãos para satisfazer pretensão, embora legítima, salvo quando a lei o permite. Trata-se de
- (A) desacato.
 - (B) desobediência.
 - (C) coação no curso do processo.
 - (D) favorecimento real.
 - (E) exercício arbitrário das próprias razões.

NOÇÕES DE DIREITO PROCESSUAL PENAL

41. Nos casos de ação penal pública condicionada, a representação do ofendido
- (A) será irretratável depois de oferecida a denúncia.
 - (B) será irretratável em qualquer que seja o momento processual.
 - (C) é retratável em qualquer fase do processo.
 - (D) é retratável até a sentença.
 - (E) é retratável em qualquer fase do processo, desde que seja feita por procurador com poderes especiais.
42. Na hipótese do processo e do julgamento dos crimes de responsabilidade dos funcionários públicos, o juiz rejeitará a denúncia quando
- I. estiver seguro da inexistência do crime;
 - II. estiver certo da improcedência da ação penal;
 - III. tiver dúvidas quanto a autoria do crime.
- Pode-se afirmar que
- (A) I e II estão corretos.
 - (B) I e III estão corretos.
 - (C) II e III estão corretos.
 - (D) I, II e III estão corretos.
 - (E) I, II e III estão incorretos.

REGIMENTO INTERNO DO PODER JUDICIÁRIO DO ESTADO DE MATO GROSSO

43. De acordo com o Regimento Interno do Tribunal de Justiça do Estado de Mato Grosso, (1) conhecer e julgar as representações a respeito de faltas funcionais ou abuso de poder praticados por servidores e auxiliares da Justiça, na forma da lei; e (2) designar as Comarcas onde o Juiz Substituto exercerá suas funções, é da competência
- (A) do Presidente do Tribunal de Justiça.
 - (B) da Corregedoria-Geral de Justiça.
 - (C) da Vice-Presidência do Tribunal de Justiça.
 - (D) das Câmaras Reunidas.
 - (E) do Conselho da Magistratura.
44. Considerar-se-á deserto o recurso
- (A) não preparado no prazo legal.
 - (B) não respondido pela parte contrária.
 - (C) julgado improvido pelo Tribunal de Justiça.
 - (D) não conhecido preliminarmente pelo relator.
 - (E) desconhecido pelo relator por falta de amparo legal.

CÓDIGO DE ORGANIZAÇÃO JUDICIÁRIA (COJE)

45. A correição extraordinária a ser feita em decorrência de irregularidade praticada por Juiz de Paz compete
- (A) ao Corregedor Geral da Justiça.
 - (B) ao Presidente do Tribunal.
 - (C) ao Juiz de Direito da Comarca, se Vara Única.
 - (D) aos Corregedores Auxiliares.
 - (E) ao Conselho da Magistratura.
46. Não é um órgão do Poder Judiciário do Estado de Mato Grosso:
- (A) a Corregedoria Geral da Justiça.
 - (B) a Justiça de Paz.
 - (C) a Procuradoria Geral de Justiça.
 - (D) os Juizados Especiais.
 - (E) os Conselhos de Justiça Militar Estadual.

47. De acordo com o disposto nas Normas da Corregedoria sobre a interceptação telefônica,
- (A) o processo judicial não precisa obedecer ao segredo de justiça.
 - (B) excepcionalmente, o juiz poderá admitir que o pedido seja formulado via *fac-simile*.
 - (C) o pedido não poderá ser decidido pelo juiz plantonista, devendo ser encaminhado ao juiz criminal competente.
 - (D) a decisão do pedido dependerá de prévia manifestação do Ministério Público.
 - (E) deve a decisão judicial ser proferida no prazo máximo de 72 (setenta e duas) horas.
48. Na Primeira Instância, as petições iniciais serão protocolizadas na ordem cronológica de sua apresentação, com exceção, entre outras,
- (A) do *habeas data*.
 - (B) da ação popular.
 - (C) das ações ajuizadas pelo Ministério Público.
 - (D) das ações ajuizadas pela Defensoria Pública.
 - (E) da ação cautelar.

LEI COMPLEMENTAR N.º 004/1990

49. Nos termos do que dispõe, expressamente, a Lei Complementar n.º 004/90, não se constitui num requisito básico para o ingresso no serviço público:
- (A) a nacionalidade brasileira.
 - (B) o gozo dos direitos políticos.
 - (C) a quitação com as obrigações militares e eleitorais.
 - (D) boa conduta moral.
 - (E) boa saúde física e mental.
50. O servidor que cometer ofensa física, em serviço, a servidor ou a particular, salvo em legítima defesa própria ou de outrem, ficará sujeito à pena de
- (A) demissão.
 - (B) suspensão.
 - (C) repreensão.
 - (D) aposentadoria compulsória.
 - (E) advertência por até sessenta dias.

Leia o texto para responder às questões de números 51 a 56.

O físico José Goldemberg falou ao jornal “Valor Econômico” sobre quatro mitos que rondam combustíveis renováveis, todos negativos, e que acabam por contaminar o álcool de cana. Ei-los: biocombustíveis causam desmatamento; estão provocando fome no mundo; seu efeito sobre a emissão de gases do efeito estufa é nulo; seriam viáveis apenas em nichos, como o brasileiro.

A primeira afirmação, segundo Goldemberg, não é válida nem para os Estados Unidos nem para o Brasil, os dois maiores produtores. Nos Estados Unidos, a matéria-prima do álcool é milho, cujo cultivo avança sobre áreas de soja, e não sobre terras virgens (artigo raro por lá).

Aqui, as lavouras de cana ocupam superfície comparável à do Rio Grande do Norte, mas isso corresponde a meros 2% dos 2,9 milhões de km² utilizados pelo setor agropecuário. E o aumento da área canavieira, inegável, costuma ocorrer pela conversão de pastagens. Para o físico, a cana não contribui nem mesmo de modo indireto para desmatar a Amazônia, pois o espaço ocupado por pastos está até diminuindo – é a produtividade da pecuária que aumenta.

O segundo equívoco Goldemberg descarta com outro dado objetivo: a agricultura de todos os países juntos se espalha por 12 milhões de km² do planeta, mas só 100 mil km² são destinados a biocombustíveis nos EUA e no Brasil. Ou seja, os “críticos perderam completamente o senso de proporção”.

O terceiro mito, do suposto balanço energético desfavorável dos biocombustíveis, é rebatido pelo entrevistado com uma condenação ao álcool de milho. Este produz apenas 1,5 unidade de energia renovável para cada unidade de energia fóssil (petróleo empregado para produzir fertilizantes ou diesel para máquinas, por exemplo). O álcool de cana, por seu turno, rende oito. Vale dizer, o etanol brasileiro é cinco vezes mais eficiente para substituir combustíveis que agravam o aquecimento global.

Por fim, Goldemberg derruba a quarta mistificação, assinalando que apenas 25% da cana mundial está plantada no Brasil. Há canaviais em vários outros países tropicais, como os da América Central e da África, para citar duas regiões com grande potencial de expansão.

(Folha de S.Paulo, 28.04.2008. Adaptado)

51. A argumentação do texto tem como base principal de sua construção
- (A) a descrição da realidade brasileira, bastante diferente da dos Estados Unidos.
 - (B) o aumento da atividade canavieira em detrimento da produção de alimentos.
 - (C) a utilização do chamado “lugar de quantidade” para fundamentação de fatos.
 - (D) um ensaio sobre a produtividade dos combustíveis fósseis.
 - (E) a defesa de uma tradição ainda vigente nos países do terceiro mundo.

52. Na primeira frase do texto – *O físico José Goldemberg falou ao jornal “Valor Econômico” sobre quatro mitos que rondam combustíveis renováveis, todos negativos, e que acabam por contaminar o álcool de cana.* – destaca-se o
- (A) uso de linguagem conotativa explorando a função poética da linguagem.
 - (B) emprego do ritmo como recurso sonoro vinculado à expressão oral.
 - (C) uso de clichês comuns à linguagem científica, especialmente a da Física.
 - (D) esquecimento de outros mitos importantes sobre os combustíveis fósseis.
 - (E) intuito de tratar o assunto de maneira preconceituosa e parcial.
53. A frase – *seu efeito sobre a emissão de gases do efeito estufa é nulo* – (primeiro parágrafo) significa que
- (A) o uso de biocombustíveis mascara apenas o efeito estufa.
 - (B) os gases responsáveis pelo efeito estufa são nulos.
 - (C) o CO₂ é o principal gás capaz de diminuir o efeito estufa.
 - (D) há evidência de que o efeito estufa possa aumentar.
 - (E) o uso de biocombustíveis não diminui o efeito estufa.
54. O emprego da palavra *físico* (terceiro parágrafo) e *entrevistado* (quinto parágrafo) tem a função de
- (A) julgamento.
 - (B) imprecisão.
 - (C) revisão de nomes.
 - (D) coesão textual.
 - (E) conotação.
55. Em termos argumentativos, a comparação da área de plantio de cana com a área do Rio Grande do Norte (terceiro parágrafo) corresponde ao emprego de um recurso de
- (A) revelação.
 - (B) imposição.
 - (C) reserva.
 - (D) verificação.
 - (E) ilustração.
56. Pode-se classificar esse texto como
- (A) objetivo.
 - (B) neutro.
 - (C) pessimista.
 - (D) faccioso.
 - (E) emocional.
57. No trecho – *O segundo equívoco Goldemberg descarta com outro dado objetivo* – há o emprego da figura denominada
- (A) paronomásia.
 - (B) anáfora.
 - (C) inversão.
 - (D) apóstrofe.
 - (E) sinestesia.
- Leia o texto para responder às questões de números 58 a 61.
- Desde que nasce a ciência – com a experimentação, em inícios da modernidade –, ela mantém uma relação difícil com a ética. No século 16, os bons costumes vêm com horror a prática da anatomia, que, no entanto, será a condição básica para se desenvolver a medicina (e também a pintura: Da Vinci não seria o mesmo se não tivesse examinado cadáveres, para desenhar o corpo humano). Nos princípios do século 20, Freud causa escândalo quando afirma a sexualidade infantil. Esses exemplos bastam: a medicina do corpo e da psique surgem causando um horror moral. Daí, a pergunta: quando criticamos um avanço científico em nome da ética, não corremos o risco de ser tão preconceituosos, em face do novo, quantos foram os que condenaram Da Vinci pela anatomia, Freud pela sexualidade infantil?
- (Renato Janine Ribeiro. *Pesquisa Fapesp*, n.º 73 – Suplemento Especial. Adaptado)
58. De acordo com o texto,
- (A) a ética deve predominar acima da inovação.
 - (B) o uso do bom senso defende a ética.
 - (C) a ciência pode ser ética ou aética.
 - (D) costuma haver conflito entre o novo e o ético.
 - (E) avanços científicos surgem em nome da ética.
59. No texto, destaca-se como recurso básico a argumentação por
- (A) incompatibilidade.
 - (B) exemplo.
 - (C) definição.
 - (D) regra de justiça.
 - (E) retorsão.
60. No trecho – *A medicina do corpo e da psique surgem causando um horror moral* – as referências do sujeito são, respectivamente,
- (A) a ciência e a religião.
 - (B) a ética e a ciência.
 - (C) a pintura e a arte.
 - (D) a anatomia e a psicanálise.
 - (E) o uso e o costume.

61. No trecho – *tão preconceituosos, em face do novo, quantos foram os que condenaram Da Vinci pela anatomia, Freud pela sexualidade infantil?* – tem-se o uso de
- (A) silepse.
(B) elipse.
(C) antítese.
(D) assonância.
(E) pleonasma.
62. Assinale a alternativa em que o texto é incoerente por violar a metarregra de progressão.
- (A) Nós não temos censura. O que temos é uma limitação do que os jornais podem publicar. (Louis Net, ex-vice-ministro da Informação da África do Sul)
- (B) Por que os judeus e árabes não podem se reunir e discutir a questão como bons cristãos? (Arthur Balfour, estadista britânico, primeiro-ministro e ministro do Exterior)
- (C) Acho que os senhores pensam que, em nossa diretoria, metade dos diretores trabalha e a outra metade nada faz. Na verdade, cavalheiros, acontece justamente o contrário. (*Diretor de empresa, defendendo membros do seu “staff”*)
- (D) Um homem não pode estar em dois lugares ao mesmo tempo, a menos que ele seja uma ave. (*Sir Boy Roche, deputado representante de Tralee no Parlamento Britânico*)
- (E) Chegou a hora de tirar a camisa e arregaçar as mangas. (ouvido num debate político)
63. Assinale a alternativa que apresenta a falácia da conclusão não-decorrente.
- (A) Não devemos aumentar a imigração no país. Nossas belas cidades não devem ser penalizadas, recebendo hordas de pessoas maltrapilhas, que têm crenças estranhas e transmitem doenças como a tuberculose e até mesmo, dizem, a gripe aviária.
- (B) O uxoricídio, em que o homem mata sua indefesa esposa, é crime hediondo; portanto, o réu deve ser condenado à pena máxima.
- (C) Deve ser um excelente negócio para um aposentado conseguir um empréstimo consignado, pois pessoas públicas consagradas como Nicete Bruno e Paulo Goulart, respeitados artistas da Globo, recomendaram a operação.
- (D) É claro que não há vida em outros planetas. Afinal, até agora ninguém conseguiu provar que os ETs existem.
- (E) É um perigo concreto o Brasil votar contra os Estados Unidos na ONU. Afinal de contas, a maior parte das nossas exportações vai para lá. Lembremo-nos de que, apenas no início deste ano, foi abolido o imposto sobre o aço brasileiro.
64. Leia o texto e assinale a alternativa que melhor descreve o seu caráter.
- Guga era uma promessa de o Brasil ter, durante muitos anos, uma posição de destaque no ranking do tênis mundial, mas essa promessa não foi realizada. Somente mentirosos não mantêm suas promessas. Portanto, Guga deve ser mais um mentiroso desses que aparecem quase sempre na mídia do país.
- (A) Sofisma.
(B) Silogismo.
(C) Ausência de conclusão.
(D) Tautologia.
(E) Generalização falsa.
65. Leia a quadra inicial da letra do compositor Lamartine Babo:
- O teu cabelo não nega mulata
Porque és mulata na cor
Mas como a cor não pega mulata
Mulata eu quero o teu amor
- Pode-se afirmar, a respeito do seu conteúdo, que
- (A) o tratamento mais adequado para a música seria *seu e não teu*.
(B) seu teor é incompatível com a visão sócio-político-cultural de hoje.
(C) é um poema clássico transformado em letra de música.
(D) envolve uma visão universal da mulher brasileira.
(E) desenvolve, por metonímia, um tema carnavalesco impessoal.
- Leia o poema de Cecília Meireles para responder às questões de números 66 e 67.
- Canção Mínima*
- No Mistério do Sem-Fim,
equilibra-se um planeta.
E, no planeta, um jardim,
e, no jardim, um canteiro;
no canteiro, uma violeta,
e, sobre ela, o dia inteiro,
entre o planeta e o Sem-Fim,
a asa de uma borboleta.
- (Obra Poética, p. 163)
66. Esse poema foi inteiramente construído por meio de
- (A) citações.
(B) argumentos.
(C) inovações léxicas.
(D) adjetivos.
(E) elipses.

67. Pela leitura do texto, entende-se que
- (A) o dia inteiro equilibra-se sobre o planeta.
 - (B) a asa de uma borboleta equilibra-se sobre o dia inteiro.
 - (C) a asa de uma borboleta equilibra-se sobre uma violeta.
 - (D) o dia inteiro equilibra-se entre o planeta e o Sem-Fim.
 - (E) a asa de uma borboleta equilibra-se sob o planeta e o Sem-Fim.
68. Segundo o Manual de Redação da Presidência da República, o vocativo utilizado para a correspondência enviada a um senador é
- (A) Senhor Senador.
 - (B) Excelentíssimo Senhor Senador.
 - (C) Digníssimo Senador.
 - (D) Ilustríssimo Senhor Senador.
 - (E) Digníssimo Senhor Senador.
69. Assinale a alternativa que contém a forma correta de tratamento dado, em fala direta, ao Deputado Ibsen Pinheiro.
- (A) Vossa Excelência receberá vosso crachá, após o almoço de hoje.
 - (B) Sei que Vossa Excelência está ansiosa para visualizar vossos votos.
 - (C) Sua Excelência já recebeu a listagem dos seus convidados?
 - (D) Vossa Excelência estava, outro dia, preocupado com seu pronunciamento.
 - (E) Vossa Senhoria fará hoje o vosso primeiro discurso da semana.
70. A impessoalidade requerida na redação de atos normativos pode ser entendida como
- (A) tom particular apenas de quem redige.
 - (B) uso parcimonioso de epítetos.
 - (C) ausência de pronomes de tratamento.
 - (D) visão heterogênea dos órgãos públicos.
 - (E) ausência de impressões individuais.

REDAÇÃO

Leia os textos a seguir:

TEXTO 1

Art. 231. São reconhecidos aos índios sua organização social, costumes, línguas, crenças e tradições, e os direitos originários sobre as terras que tradicionalmente ocupam, competindo à União demarcá-las, proteger e fazer respeitar todos os seus bens.

(Constituição da República Federativa do Brasil, 1988)

TEXTO 2

Mayutá, índio de quase dois anos de idade, deveria estar morto por conta da tradição de sua etnia kamaiurá. Na lei de sua tribo, gêmeos devem ser mortos ao nascer porque são sinônimo de maldição. Paltu Kamaiurá, 37, enviou seu pai, pajé, às pressas para a casa da família de sua mulher, Yakuiap, ao saber que ela havia dado à luz a gêmeos. Mas um deles já tinha sido morto pela família da mãe.

Paltu enfrentou discriminação da tribo, para a qual a criança amaldiçoaria a aldeia. Relutou, porém, em sair do parque do Xingu (MT), onde vive sua etnia e outras 13, muitas das quais praticam o infanticídio.

No ano passado, ele soube do trabalho da ONG Atini, que combate a prática, por meio de sua irmã Kamiru, que desenterrou o menino Amalé, condenado a morrer por ser filho de mãe solteira.* Kamiru teve contato com a entidade em Brasília, ao buscar tratamento médico para o filho adotivo.

Paltu pediu ajuda à ONG para conscientizar os índios de sua aldeia. A entidade foi criada há cerca de dois anos pelos lingüistas Márcia e Edson Suzuki, que em 2001 adotaram Hakani, 12. Devido à desnutrição em decorrência de hipotireoidismo congênito, que seus pais acreditavam ser uma maldição, Hakani, da etnia suruarrá, deveria morrer. Foi salva pelo irmão.

Ainda praticado por cerca de 20 etnias entre as mais de 200 do país, esse princípio tribal leva à morte não apenas gêmeos, mas também filhos de mães solteiras, crianças com problema mental ou físico, ou doença não identificada pela tribo.

O antropólogo Bruce Albert, da CCPY (Comissão Pró-Yanomami), diz que, para os yanomamis, “só as crianças às quais se podia dar a chance de crescer com saúde eram criadas”.

O missionário Saulo Ferreira Feitosa, secretário-adjunto do Cimi (Comissão Indigenista Missionária), vê no debate conflito entre a ética universal e a moral de uma comunidade. “Ninguém é a favor do infanticídio. Agora, enquanto prática cultural e moralmente aceita, não pode ser combatida de maneira intervencionista.”

(Folha de S.Paulo, 06.04.2008. Adaptado)

* Os filhos de mãe solteira são enterrados vivos.

TEXTO 3

A Fundação Nacional do Índio (Funai) é o cartório do genocídio indígena no Brasil. Os brasileiros indígenas, vivendo na idade da pedra lascada em reservas artificiais, têm expectativa média de apenas 29 anos. A mortalidade infantil chega a 65%. De cada cinco índios que nascem, três morrem antes de completar cinco anos de idade.

A denúncia é do advogado Antônio Ribas Paiva, presidente da União Nacionalista Democrática (UND) – uma ONG especializada em projetos e estudos sobre a realidade brasileira.

Ribas raciocina que, como genocídio é crime hediondo, os dirigentes da Funai mereciam condenação exemplar. O advogado indaga: “Onde estará o Ministério Público Federal para exigir da Justiça uma punição aos responsáveis por este verdadeiro crime contra a minoria indígena? Cadê o MP? Ele não pode se omitir neste caso”.

(José Serrão. Em: <http://alertatotal.blogspot.com/> – Adaptado)

PROPOSTA DE REDAÇÃO

Escreva uma dissertação em prosa, com trinta linhas no máximo, obedecendo às normas da língua padrão do português do Brasil, desenvolvendo o seguinte tema:

CULTURA DOS POVOS INDÍGENAS: RESPEITAR INTEGRALMENTE OU IMPOR LIMITES?

