

CONCURSO PÚBLICO

Cargo 5

Economista

TIPO A

INSTRUÇÕES

Confira seus dados pessoais na sua folha de respostas. Verifique também se o nome do cargo e o tipo de prova impressos neste caderno correspondem aos indicados na sua folha de respostas. Em seguida, verifique se este caderno contém **quarenta** questões, corretamente ordenadas de **1 a 40**. As provas objetivas são constituídas de questões com quatro opções (A, B, C e D) e **uma única resposta correta**.

Em caso de divergência de dados e/ou de defeito no caderno de provas, solicite providências ao fiscal de sala mais próximo.

Transcreva as respostas das questões para a sua folha de respostas, que é o **único documento válido** para a correção das provas e cujo preenchimento é de sua exclusiva responsabilidade. Serão consideradas marcações indevidas as que estiverem em desacordo com o estabelecido no edital de abertura ou na folha de respostas, tais como marcação rasurada ou emendada, ou campo de marcação não-preenchido integralmente. Em hipótese alguma haverá

substituição da folha de respostas por erro de preenchimento por parte do candidato.

Para a marcação na folha de respostas, utilize somente caneta esferográfica de tinta **preta**. Não é permitida a marcação na folha de respostas por outra pessoa, ressalvados os casos de atendimento especial previamente deferidos.

É vedado amassar, molhar, dobrar, rasgar ou, de qualquer modo, danificar a sua folha de respostas, sob pena de arcar com os prejuízos decorrentes da impossibilidade de realização da leitura óptica.

A duração das provas é de **três horas e trinta minutos**. Você deverá permanecer obrigatoriamente em sala por, no mínimo, uma hora após o início das provas e poderá levar este caderno somente no decurso dos últimos quinze minutos anteriores ao horário determinado para o seu término.

A desobediência a qualquer uma das determinações constantes nos editais do concurso, no presente caderno ou na folha de respostas implicará a anulação das suas provas.

CRONOGRAMA

ETAPA	DATA
Divulgação do gabarito oficial preliminar das provas objetivas, no endereço eletrônico www.movens.org.br , a partir das 17 horas	15/1/2008
Prazo para entrega de recursos contra o gabarito oficial preliminar das provas objetivas	16 e 17/1/2008
Data provável para divulgação do resultado final das provas objetivas e convocação para entrega dos documentos necessários à comprovação de idade e de tempo de serviço estadual para fins de desempate	12/2/2008
Período provável de entrega dos documentos referidos acima	13 e 14/2/2008



Utilize este espaço para rascunho



CONHECIMENTOS BÁSICOS

Leia o texto a seguir para responder às questões de 1 a 7.

1 Pesquisadores afirmam que existem, no total, mais de 10 bilhões de bactérias no corpo humano, divididas em mais de 200 espécies diferentes. A grande maioria vive no interior do organismo, em que a temperatura é mais ou menos estável e o alimento é abundante. Elas preferem os lugares em que é fácil encontrar comida: dentes, garganta e aparelho digestivo. Mas poucas bactérias habitam os locais em que há líquido correndo, como os canais por que passam as lágrimas ou a urina. Elas não resistem à força da correnteza e acabam sendo arrastadas.

10 Embora o número de bactérias que habitam o corpo humano seja alto, todas elas, se reunidas, encheriam um recipiente pouco maior que uma garrafa pequena de refrigerante. E esse volume, comparado com o do nosso corpo, não significa muito. Quando estamos doentes, o volume de bactérias aumenta por causa das que invadem o organismo para provocar a doença. Mas não pense que o corpo está tomado por elas! Embora as bactérias sejam muitas, quase não conseguimos perceber a presença delas.

Leonardo Cosendery. *Ciência Hoje das Crianças*. Internet: <http://cienciahoje.uol.com.br>. Acesso em 24/11/2007 (com adaptações).

QUESTÃO 1

Com base nas idéias do texto, assinale a opção correta.

- (A) O texto apresenta como idéia central a relação harmoniosa entre ser humano e microrganismos.
- (B) É necessário que o sangue humano seja frio para manter a vida dos microrganismos.
- (C) Como estão presentes em grande número no organismo humano, as bactérias, se reunidas, ocupariam muito espaço.
- (D) Infere-se do texto que os microrganismos vivem no nosso corpo por falta de espaço fora dele.

QUESTÃO 2

A respeito dos sentidos expressos no texto e das idéias desenvolvidas pelo autor, assinale a opção correta.

- (A) O caráter científico do texto impede que o leitor possa compreendê-lo bem.
- (B) O autor sugere que, para conter as bactérias, é preciso colocá-las em uma garrafa pequena de refrigerante.
- (C) O texto permite concluir que nosso corpo tem volume bem maior que o ocupado pelas bactérias.
- (D) O corpo humano está tomado pelas bactérias, que o transformam em uma espécie de condomínio.

QUESTÃO 3

Quanto aos aspectos gramaticais e sentidos do texto, assinale a opção INCORRETA.

- (A) Na linha 1, a expressão entre vírgulas "no total" pode ser deslocada para antes do verbo "existem" sem acarretar erro gramatical.
- (B) A expressão "no corpo humano" (linha 2) poderia ser substituída por **em nosso corpo** sem provocar alteração dos sentidos do texto.
- (C) Os sentidos do texto não se alterariam se houvesse a supressão de "mais ou menos" (linhas 4 e 5).
- (D) A colocação de vírgula antes do conectivo "e" (linha 5) não provocaria erro de pontuação.

QUESTÃO 4

Julgue os itens a seguir no que se refere aos aspectos gramaticais do texto.

- I – O emprego de acento indicativo de crase em "Elas não resistem à força da correnteza" (linhas 9 e 10) é facultativo.
- II – Nas linhas 6 e 7, os vocábulos "dentes, garganta e aparelho digestivo" exercem função sintática de adjunto adverbial de lugar.
- III – Na linha 8, a expressão "em que" poderia ser substituída por **nos quais** sem acarretar erro gramatical.
- IV – O conectivo "Mas" (linha 7) pode ser substituído por **No entanto**, preservando-se a correção gramatical do trecho.

A quantidade de itens certos é igual a

- (A) 1.
- (B) 2.
- (C) 3.
- (D) 4.

QUESTÃO 5

Com referência aos aspectos gramaticais do texto, assinale a opção INCORRETA.

- (A) O emprego da forma verbal "arrastadas" (linha 10) deve-se à necessidade de concordância com "bactérias" (linha 7).
- (B) Na linha 11, não acarretaria prejuízo sintático a substituição de "Embora" por **Não obstante**.
- (C) Na linha 9, o sujeito de "passam" é composto.
- (D) O elemento "se" (linha 12) tem valor causal no período e não poderia ser substituído por forma equivalente nem suprimido.

QUESTÃO 6

Em relação à correção gramatical do texto, assinale a opção correta.

- (A) A palavra abundante (linha 5) tem valor adverbial.
- (B) A forma verbal "encheriam" (linha 12) poderia dar lugar à sua forma subjuntiva **enchessem**, sem prejuízo ao período em que está inserida.
- (C) Na linha 14, a inserção da palavra **volume** entre "o" e "do" manteria a correção gramatical.
- (D) Na linha 17, a alteração de "para provocar a doença" pela forma **para provocá-la** manteria a correção do período.

QUESTÃO 7

No que concerne às estruturas lingüísticas do texto, assinale a opção correta.

- (A) A supressão do vocábulo "grande" (linha 3) do texto causaria erro gramatical.
- (B) Os vocábulos "lugares" (linha 6) e "locais" (linha 8) apresentam significação equivalente no texto.
- (C) A forma "por que" (linha 8) poderia ser corretamente substituída pela expressão **pelas quais**.
- (D) A última linha do texto pode ser assim reescrita sem produzir qualquer alteração: **Mesmo sendo muitas bactérias, nunca conseguimos perceber a sua presença**.

QUESTÃO 8

Assinale a opção correta quanto ao emprego da pontuação.

- (A) Mas, não são só as bactérias, que habitam nosso organismo, há vários outros organismos bem maiores que elas.
- (B) Sabia que, o nosso cabelo é cheio de fungos, e as dobras da nossa pele de mofo...
- (C) Há, ainda, aqueles, moradores nem sempre benéficos, que não são costumeiros em nosso organismo. Mas que, aparecem de vez em quando, em busca de alimento e abrigo.
- (D) Esses moradores indesejados, entre os quais estão o piolho, a sarna e os vermes, podem ser evitados tomando-se cuidados simples com a higiene pessoal.

(Opções adaptadas de **Ciência Hoje das Crianças**, 22/11/2000.)

Leia o texto a seguir para responder às questões 9 e 10.

1 A Fundação Hemopa sempre primou pela qualidade e segurança de seus produtos e serviços de sangue, ou seja, a qualidade do produto final (sangue e hemocomponentes), com o rígido cumprimento das normas e dos procedimentos.

10 Em face das rápidas mudanças ocorridas a partir da década de 1990, a Fundação Hemopa antecipou-se em encontrar um novo modelo de administração, com implantação da Gestão pela Qualidade Total, que é uma forma gerencial ágil, eficiente e voltada para resultados crescentes e com o foco no cidadão e na sociedade.

15 Assim, a instituição aprimorou seu sistema de gestão, utilizando métodos e ferramentas gerenciais, por meio de um processo de melhoria contínua, educação e treinamento do pessoal técnico e administrativo.

Qualidade total: uma marca do Hemopa.

Internet: <http://www.hemopa.pa.gov.br>. Acesso em 24/11/2007 (com adaptações).

QUESTÃO 9

No que se refere às idéias do texto, assinale a opção correta.

- (A) O texto descreve criticamente a atuação da Fundação Hemopa frente ao governo brasileiro.
- (B) Segundo o texto, a atuação da Fundação Hemopa está voltada para a qualidade total do produto final e tem como escopo o cidadão e a sociedade.
- (C) O novo modelo de administração foi adotado pela Fundação Hemopa em 1990, tendo em vista os problemas observados.
- (D) O aprimoramento da instituição teve como finalidade instruir o cidadão e a sociedade em geral em relação ao trabalho da Fundação.

QUESTÃO 10

Assinale a opção correta quanto aos usos das palavras e das estruturas linguísticas no texto.

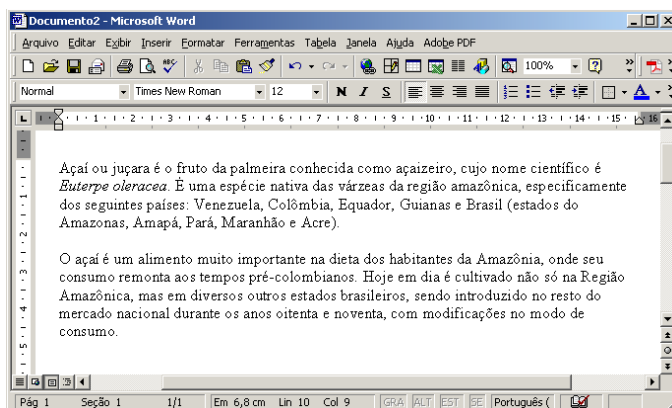
- (A) Na linha 2, o pronome "seus" tem como referente "Fundação Hemopa".
- (B) A expressão "Em face das" (linha 6) pode ser corretamente substituída por **À face de**.
- (C) Os vocábulos "rígido", "rápidas", "década", "ágil" e "contínua", do texto, seguem a mesma regra de acentuação gráfica.
- (D) A forma "voltada" (linha 10) encontra-se no singular para concordar com "implantação" (linha 9).

QUESTÃO 11


Considere que João esteja navegando na rede mundial de computadores utilizando o Internet Explorer e precisa acessar o seguinte endereço eletrônico de um jornal: <http://www.jornal.com.br>. Assinale a opção que apresenta um procedimento **INCORRETO** para que ele possa acessar a página desse jornal na internet.

- (A) Clicar no menu *Iniciar*, depois clicar em *Executar* e inserir no campo *Abrir*: **www.jornal.com.br**.
- (B) Digitar **www.jornal.com.br** na barra de endereços do Internet Explorer e teclar Enter.
- (C) Entrar no Windows Explorer e, no campo *Endereço*, digitar **www.jornal.com.br** e teclar Enter.
- (D) Acessar o menu *Ferramentas*, clicar na opção *Nova página* e no campo *Abrir* digitar **http://www.jornal.com.br**.

Considere a figura abaixo, que apresenta uma janela do aplicativo Microsoft Word, para responder às questões 12 e 13.



QUESTÃO 12

A figura apresenta dois parágrafos; considere que o ponto de inserção de texto (cursor) esteja no fim do segundo parágrafo. Assinale a opção que apresenta a ação executada após clicar-se no botão .

- (A) O segundo parágrafo ficará justificado.
- (B) A linha onde o ponto de inserção se encontra ficará justificada.
- (C) O segundo parágrafo ficará centralizado.
- (D) Todo o texto ficará justificado.

QUESTÃO 13

Caso o usuário clique no botão  dessa janela, será exibido(a)

- (A) a página de pesquisa na internet.
- (B) o modo *Visualizar impressão*.
- (C) a janela do Windows Explorer.
- (D) a tela para pesquisar arquivos no computador.

QUESTÃO 14

O recurso *Função* é uma rotina que efetua um ou mais cálculos, retornando um valor ao final de sua execução. O Excel possui várias funções, agrupadas em categorias, para facilitar os trabalhos em inúmeros casos. Acerca desse recurso, julgue os itens abaixo como Verdadeiros (V) ou Falsos (F) e, em seguida, assinale a opção correta.

- I – A única maneira de se abrir a tela do recurso *Função* é: selecionar a célula na qual vai ser inserida uma função, clicar no menu *Inserir* e selecionar o comando *Função*.
- II – Ao abrir-se a tela de *Colar Função*, a categoria da função que aparece marcada é a categoria *Mais recentemente usada*.
- III – Ao selecionar-se a função *MÉDIA*, clicando-se em *OK* aparecerá uma caixa na qual pode-se identificar quais são os argumentos da função, ou seja, o intervalo de células que será usado para calcular a média, e uma breve descrição da função.
- IV – A função *SE* retorna a subtração entre argumentos de duas células selecionadas.
- V – A função *SOMA* retorna a SOMA de todos os números da tabela.

A seqüência correta é



- (A) V, V, V, F, F.
- (B) F, V, V, V, F.
- (C) V, F, V, F, F.
- (D) F, V, V, F, F.

QUESTÃO 15

Considere a figura abaixo que apresenta uma área de trabalho de um computador que utiliza o Windows XP Profissional, ligado a uma rede local (LAN), conectada à internet.



A respeito da figura apresentada, julgue os itens abaixo e, em seguida, assinale a opção correta.

- I – Para efetuar o desligamento correto do computador, o usuário deverá clicar sobre *Menu Iniciar* e, em seguida, em *Desligar Computador*.
- II – Para acessar a internet, o usuário deverá clicar sobre o ícone .
- III – Atualmente, os sistemas operacionais e os aplicativos estão cada vez mais complexos e sofisticados, exigindo-se, para o seu funcionamento adequado, hardware com capacidade cada vez maior em termos de velocidade de processamento e espaço em disco. Com o uso, o disco rígido fica fragmentado, tornando o acesso de leitura cada vez mais lento. Para reorganizar arquivos e espaços não-utilizados no disco rígido, seria suficiente o usuário realizar as seguintes ações: Dar um duplo clique sobre o ícone ; selecionar o item *Desfragmentar disco rígido*; clicar em *OK*.

Assinale a opção correta.

- (A) Está certo apenas o item III.
- (B) Está certo apenas o item II.
- (C) Está certo apenas o item I.
- (D) Todos os itens estão certos.

QUESTÃO 16

Acerca da Seguridade Social, de acordo com a Constituição Federal, julgue os itens abaixo como Verdadeiros (V) ou Falsos (F) e, em seguida, assinale a opção correta.

- I – A Seguridade Social é a área de atuação do Poder Público que abrange a saúde, a assistência social e a previdência social.
- II – Podem ser vários os órgãos e pessoas que se ocupam da seguridade social.
- III– A equidade da participação no custeio exige atenção às peculiaridades de cada categoria de contribuintes de modo que estes sejam chamados a participar do custeio da seguridade conforme a sua capacidade contributiva.
- IV– A Seguridade Social compreende ações também de iniciativa da sociedade.

A seqüência correta é

- (A) V, F, V, F.
- (B) F, F, V, V.
- (C) V, V, V, V.
- (D) F, V, V, V.

QUESTÃO 17

A Resolução RDC n.º 153/2004 determina o regulamento técnico para os procedimentos hemoterápicos, incluindo a coleta, o processamento, a testagem, o armazenamento, o transporte, o controle de qualidade e o uso humano de sangue e seus componentes, obtidos do sangue venoso, do cordão umbilical, da placenta e da medula óssea. De acordo com esta resolução, julgue os itens abaixo como Verdadeiros (V) ou Falsos (F) e, em seguida, assinale a opção correta.

- I – A transfusão de sangue e componentes deve ser utilizada criteriosamente, pois é um procedimento que não está isento de riscos.
- II – A doação de sangue deve ser voluntária, anônima, altruísta e não remunerada, direta ou indiretamente.
- III– A responsabilidade técnica e administrativa pelos serviços de hemoterapia deve ficar a cargo de um médico especialista em hemoterapia e/ou hematologia, ou ser qualificado por órgão competente.

A seqüência correta é

- (A) V, V, V.
- (B) V, F, V.
- (C) F, V, F.
- (D) F, F, F.

QUESTÃO 18

De acordo com os critérios que visam à proteção do doador, estabelecidos pela Resolução RDC n.º 153/2004, assinale a opção correta.

- (A) O doador de sangue deve ter idade de, no mínimo, 16 anos completos e, no máximo, 65 anos 11 meses e 29 dias.
- (B) Para o sexo masculino, a frequência máxima admitida é de 12 doações anuais.
- (C) Todos os doadores devem ser interrogados sobre situações ou comportamento de risco acrescido para a infecção pelo HIV.
- (D) Pessoas que tenham recebido transfusões de sangue, componentes sanguíneos ou hemoderivados nos últimos 12 meses que antecedem à doação podem ser candidatas à doação e aceitas sem restrições.

QUESTÃO 19

De acordo com o Regime Jurídico Único dos Servidores Públicos Civis do Estado do Pará (RJU) – Lei n.º 5.810/1994 –, julgue os itens abaixo e, em seguida, assinale a opção correta.

- I – Considera-se como de efetivo exercício, para todos os fins, o afastamento decorrente de férias, de serviços obrigatórios por lei e de licença-maternidade.
- II – Será concedida licença à servidora gestante por 120 dias.
- III– A licença-paternidade concedida ao servidor é de 10 dias.
- IV– O servidor tem direito à licença por motivo de doença em pessoa da família.

Estão certos os itens

- (A) I, II, III e IV.
- (B) I, II e III, apenas.
- (C) II e III, apenas.
- (D) II, III e IV, apenas.

QUESTÃO 20

De acordo com a Lei n.º 8.080/1990, está(ão) incluída(s) no campo de atuação do Sistema Único de Saúde (SUS):

- I – ações de vigilância sanitária, de saúde do trabalhador, de assistência terapêutica integral.
- II – avaliação do impacto que as tecnologias provocam à saúde.
- III– a ordenação da formação de recursos humanos na área de saúde.
- IV– a formulação da política e na execução de ações de saneamento básico.

A quantidade de itens certos é igual a

- (A) 1.
- (B) 2.
- (C) 3.
- (D) 4.

CONHECIMENTOS ESPECÍFICOS

QUESTÃO 21

Em economia, existem obstáculos, chamados vazamentos, que, em princípio, impedem que toda a renda ganha pelos indivíduos retorne às empresas sob a forma de compra de bens e serviços. Assinale a opção que apresenta esses obstáculos.

- (A) A poupança, as exportações e as importações.
- (B) Os investimentos, os gastos do governo e as exportações.
- (C) A poupança, os impostos e as importações.
- (D) Os impostos, as exportações e os investimentos.

QUESTÃO 22

Em relação aos regimes de concorrência em que se encontram os vendedores e os compradores de bens e serviços, julgue os itens abaixo como Verdadeiros (V) ou Falsos (F) e, em seguida, assinale a opção correta.

- I – Concorrência perfeita caracteriza-se pela restrita entrada e saída de empresas do mercado.
- II – Monopólio caracteriza-se pela existência de um só vendedor para um grande número de compradores.
- III – Oligopólio caracteriza-se pela existência de um pequeno número de vendedores para um comprador.
- IV – Concorrência monopolista caracteriza-se pela existência de um mercado em que todos os produtores oferecem um produto idêntico.
- V – Monopsônio caracteriza-se pela existência de grande número de vendedores para um comprador.

A seqüência correta é

- (A) V, F, F, V, F.
- (B) F, V, F, F, V.
- (C) F, F, V, V, F.
- (D) V, F, V, F, F.

QUESTÃO 23

A demanda de um produto qualquer depende de algumas variáveis. Acerca desse assunto, julgue os itens a seguir, identificando essas variáveis e, em seguida, assinale a opção correta.

- I – O nível de tecnologia empregada.
- II – A renda dos consumidores.
- III – O preço dos insumos utilizados na produção.
- IV – Os hábitos ou gostos dos consumidores.
- V – O período de tempo em que a procura do bem é definida.

Estão certos apenas os itens

- (A) II, IV, V.
- (B) I, III, V.
- (C) II, III.
- (D) IV, V.

QUESTÃO 24

De acordo com a lei da demanda, a curva de demanda torna-se descendente da esquerda para direita, *ceteris paribus*. Em relação a esse assunto, assinale a opção correta.

- (A) Quanto maior o preço do produto a ser vendido, maior será a quantidade demandada.
- (B) Quanto menor o preço do produto a ser vendido, menor será a quantidade demandada.
- (C) A quantidade demandada independe do preço do produto a ser vendido.
- (D) A quantidade demandada de um produto varia inversamente ao comportamento do seu preço.

QUESTÃO 25

A estrutura da balança comercial é composta pelas

- (A) importações e exportações de serviços.
- (B) importações de serviços e mercadorias.
- (C) exportações e importações de mercadorias.
- (D) exportações de serviços.

QUESTÃO 26

Em relação à estrutura do Balanço de Pagamentos, julgue os itens abaixo como Verdadeiros (V) ou Falsos (F) e, em seguida, assinale a opção correta.

- I – A Balança Comercial, a Balança de Serviços e as Transferências Unilaterais compõem o Balanço de Transações Correntes.
- II – A Balança de Serviços é composta de transportes, seguros, fretes, entre outras.
- III – Erros e Omissões fazem parte do Balanço de Capitais Autônomos.
- IV – As Transferências Unilaterais referem-se ao movimento de donativos do País com o exterior.
- V – O Balanço de Capitais Autônomo faz parte da estrutura do Balanço de Pagamentos.

A seqüência correta é

- (A) V, V, F, V, V.
- (B) F, F, V, F, F.
- (C) F, V, F, V, V.
- (D) F, F, F, V, V.

QUESTÃO 27

Acerca dos instrumentos de planejamento da Administração Pública, relacione a primeira coluna à segunda e, em seguida, assinale a opção correta.

- I – Compreende metas e prioridades da Administração Pública Federal para as despesas de capital para o exercício financeiro subsequente.
- II – Dispõe sobre o orçamento da seguridade social, abrangendo todas as entidades e os órgãos a ela vinculados, da administração direta ou indireta, bem como os fundos e fundações instituídos e mantidos pelo Poder Público.
- III – Estabelece diretrizes, objetivos e metas da Administração Pública Federal para as despesas de capital e outras delas decorrentes e para as relativas aos programas de duração continuada.

- () Lei do Plano Plurianual (PPA)
- () Lei de Diretrizes Orçamentárias (LDO)
- () Lei Orçamentária Anual (LOA)

A seqüência correta é

- (A) I, II, III.
- (B) III, II, I.
- (C) II, III, I.
- (D) III, I, II.

QUESTÃO 28

A Constituição Federal de 1988 autoriza a abertura de apenas um crédito adicional no próprio texto da Lei Orçamentária Anual. Esse crédito é denominado

- (A) Adicional Suplementar e Extraordinário.
- (B) Adicional Especial e Extraordinário.
- (C) Especial.
- (D) Suplementar.

QUESTÃO 29

Em relação aos projetos de lei relativos ao Plano Plurianual, às Diretrizes Orçamentárias, ao Orçamento Anual e aos créditos adicionais, julgue os itens abaixo como Verdadeiros (V) ou Falsos (F) e, em seguida, assinale a opção correta.

- I – Somente a Câmara dos Deputados examina e emite parecer sobre as contas apresentadas anualmente pelo Presidente da República.
- II – As emendas ao projeto de lei do Orçamento Anual ou aos projetos que o modifiquem, somente podem ser aprovadas caso sejam compatíveis com o Plano Plurianual e com a Lei de Diretrizes Orçamentárias.
- III – Os projetos de lei do Plano Plurianual, das Diretrizes Orçamentárias e do Orçamento Anual são de iniciativa exclusiva do Presidente da República.
- IV – Os recursos que, em decorrência de veto, emenda ou rejeição do projeto de lei orçamentária anual, ficarem sem despesas correspondentes poderão ser utilizados, conforme o caso, mediante créditos especiais e suplementares, com prévia e específica autorização legislativa.

A seqüência correta é

- (A) V, F, F, F.
- (B) F, V, F, V.
- (C) V, V, F, V.
- (D) F, V, F, F.

QUESTÃO 30

Os bens públicos são aqueles cujo consumo/uso é

- (A) indivisível e não-exclusivo.
- (B) exclusivo.
- (C) divisível.
- (D) divisível e exclusivo.

QUESTÃO 31

Acerca das funções do Estado, relacione a primeira coluna à segunda e, em seguida, assinale a opção correta.

- I – Tem como objetivo ajustar o nível de inflação e de emprego e estabilizar a moeda, mediante instrumentos de política fiscal, monetária e cambial.
- II – Destina-se ao fornecimento de bens públicos que não seriam ofertados pelo mercado ou seriam ofertados em condições ineficientes; cria mecanismos e instrumentos para que os bens privados sejam disponibilizados no mercado pelos produtores, corrigindo imperfeições no sistema alocativo como presença de oligopólios e monopólios.
- III – Tem como objetivo tornar a sociedade mais homogênea em termos de fluxos de renda e estoque de riqueza, por meio de ferramentas de tributação e canais de transferências financeiras, subsídios às famílias e subvenções a determinados setores industriais.

- () Função Alocativa.
- () Função Distributiva.
- () Função Estabilizadora.

A seqüência correta é

- (A) I, II, III.
- (B) I, III, II.
- (C) II, III, I.
- (D) III, II, I.

QUESTÃO 32

Com base na Constituição Federal de 1988, assinale a opção que apresenta a classificação das espécies tributárias.

- (A) Impostos, taxas e contribuições de melhoria.
- (B) Imposto de importação, imposto de exportação, contribuição social e pedágio.
- (C) Imposto de produtos industrializados e imposto de renda e proventos de qualquer natureza.
- (D) Impostos, taxas, contribuição de melhoria, contribuição social, empréstimos compulsórios e pedágio.

QUESTÃO 33

Em relação às características que envolvem o orçamento-programa, julgue os itens abaixo e, em seguida, assinale a opção correta.

- I – A alocação de recursos visa à consecução de objetivos e metas.
- II – O orçamento é o elo entre o planejamento e as funções executivas da organização.
- III – A alocação de recursos visa à aquisição de meios.
- IV – O principal critério de classificação é o funcional programático.
- V – A estrutura do orçamento dá ênfase aos aspectos contábeis da gestão.

Estão certos apenas os itens

- (A) I, II e IV.
- (B) III e V.
- (C) I, II e V.
- (D) III e IV.

QUESTÃO 34

Assinale a opção que apresenta a classificação da despesa orçamentária, segundo a natureza.

- (A) Categoria econômica, grupos, modalidades de aplicação e elementos.
- (B) Unidade orçamentária, órgão e modalidade de aplicação.
- (C) Função, subfunção e unidade orçamentária.
- (D) Órgão, função e categoria econômica.

QUESTÃO 35

No que se refere ao orçamento na Constituição Federal de 1988, assinale a opção INCORRETA.

- (A) O orçamento fiscal e o orçamento de investimento, compatibilizados com o Plano Plurianual, terão, entre outras, a função de reduzir desigualdades interregionais, segundo o critério populacional.
- (B) Cabe a lei complementar dispor sobre o exercício financeiro, a vigência, os prazos, a elaboração e a organização do Plano Plurianual, da Lei de Diretrizes Orçamentárias e da Lei Orçamentária Anual.
- (C) O Presidente da República poderá enviar mensagem ao Congresso Nacional para propor modificação nos projetos que se referem ao orçamento, mesmo já iniciada a votação da parte cuja alteração é proposta na Comissão Mista.
- (D) Os planos e os programas nacionais, regionais e setoriais previstos na Constituição serão elaborados em consonância com o Plano Plurianual e apreciados pelo Congresso Nacional.

QUESTÃO 36

Com relação às vedações do artigo 167 da Constituição Federal de 1988, assinale a opção INCORRETA.

- (A) O início de programas ou os projetos não-incluídos na Lei de Diretrizes Orçamentárias são vedados.
- (B) É vedada a instituição de fundos de qualquer natureza, sem prévia autorização legislativa.
- (C) É vedada a realização de operações de créditos que excedam o montante das despesas de capital, ressalvadas as autorizadas mediante créditos suplementares ou especiais com finalidade precisa, aprovados pelo Poder Legislativo por maioria absoluta.
- (D) A abertura de crédito extraordinário será admitida para atender a despesas imprevisíveis e urgentes, como as decorrentes de guerra, comoção interna ou calamidade pública, sendo vedado outro motivo para a sua abertura.

QUESTÃO 37

Considerando que Paulo tenha em sua carteira R\$ 800,00 e saiba que, com essa quantia, poderá comprar 12 relógios, quantos relógios iguais Paulo poderá comprar com a quantia de R\$ 600,00?

- (A) 5.
- (B) 6.
- (C) 7.
- (D) 9.

QUESTÃO 38

Mário comprou uma mercadoria por R\$ 150,00. Por quanto Mário deverá vendê-la para lucrar 60%?

- (A) R\$ 285,00.
- (B) R\$ 375,00.
- (C) R\$ 385,00.
- (D) R\$ 425,00.

QUESTÃO 39

Ao se aplicar a importância de R\$ 500.000,00 pelo prazo de 5 meses, à taxa de 20% ao mês, o valor dos juros simples a receber equivalerá a

- (A) R\$ 300.000,00.
- (B) R\$ 350.000,00.
- (C) R\$ 400.000,00.
- (D) R\$ 500.000,00.

QUESTÃO 40

Assinale a opção que apresenta o valor correto dos juros simples produzidos por R\$ 150.000,00, em 5 anos, à taxa de 90% ao ano.

- (A) R\$ 550.000,00.
- (B) R\$ 575.000,00.
- (C) R\$ 650.000,00.
- (D) R\$ 675.000,00.

RASCUNHO