



Concurso Público

Edital nº 003/2017-PMC

Prefeitura Municipal de Cáceres - MT



Médio/Médio Técnico

Cargo:

ASSISTENTE ADMINISTRATIVO

Caderno de Prova

Nome do Candidato

Número de Inscrição

							-	
--	--	--	--	--	--	--	---	--



INSTRUÇÕES

LEIA COM ATENÇÃO

1. Este Caderno de Prova, com páginas numeradas de 1 a 15, é constituído de **40 (quarenta)** questões objetivas, cada uma com **4 (quatro)** alternativas, assim distribuídas:

01 a 10 – Língua Portuguesa

11 a 15 – Informática Básica

16 a 20 – Legislação Básica

21 a 40 – Conhecimentos Específicos

2. Caso o Caderno de Prova esteja incompleto ou tenha qualquer defeito de impressão, solicite ao fiscal que o substitua.
3. **Sobre a Marcação do Cartão de Respostas**

As respostas deverão ser transcritas com caneta esferográfica de tinta azul ou preta não porosa, fabricada em material transparente, para o Cartão de Respostas, que será o único documento válido para correção. O Cartão de Respostas não será substituído por erro ou dano do candidato.

- 3.1. Para cada questão existe apenas uma alternativa que a responde acertadamente. Para a marcação da alternativa escolhida no **CARTÃO DE RESPOSTAS**, pinte **completamente** o círculo correspondente.

*Exemplo: Suponha que para determinada questão a alternativa **C** seja a escolhida.*

N.º da Questão
<input type="radio"/> A
<input type="radio"/> B
<input checked="" type="radio"/> C
<input type="radio"/> D

- 3.2. Marque apenas uma alternativa para cada questão.
- 3.3. Será invalidada a questão em que houver mais de uma marcação, marcação rasurada ou emendada, ou não houver marcação.
- 3.4. Não rasure nem amasse o **CARTÃO DE RESPOSTAS**.
4. Todos os espaços em branco, neste caderno, podem ser utilizados para rascunho.
5. A duração da prova é **4 (quatro)** horas, já incluído o tempo destinado ao preenchimento do **CARTÃO DE RESPOSTAS**.
6. Somente após decorridas **2 horas e 30 minutos** do início da prova, o candidato, depois de entregar seu Caderno de Prova e seu Cartão de Respostas, poderá retirar-se da sala de prova. O candidato que insistir em sair da sala de prova antes desse tempo deverá assinar **Termo de Ocorrência** declarando sua desistência do concurso.
7. Será permitida a saída de candidatos levando o Caderno de Prova somente **na última meia hora** de prova.
8. Na página **15** deste Caderno de Prova, encontra-se a **Folha de Anotação do Candidato**, a qual poderá ser utilizada para a transcrição das respostas das questões objetivas. Essa folha poderá ser levada pelo candidato para posterior conferência com o gabarito somente após decorridas **2 horas e 30 minutos** do início da prova.
9. Após o término da prova, o candidato deverá, obrigatoriamente, entregar ao fiscal o **CARTÃO DE RESPOSTAS** devidamente assinado e preenchido.

LÍNGUA PORTUGUESA

INSTRUÇÃO: Leia atentamente o texto e responda às questões de 01 a 05.

A bolha

1 Ninguém mais conversa no metrô. Ninguém mais paquera. Ninguém mais olha o vazio, o mapa das linhas, os anúncios, as luzes passando em sentido contrário, a própria imagem refletida nas janelas, quem entra, quem sai, quem veste o que, quem está bem, quem está feliz, quem chora, quem dorme, quem está por um fio, quem se dirige a uma manifestação de protesto, ou de apoio, quem defende o

5 que, gosta de qual banda, quem parte para um encontro secreto, ou acaba de ser beijada, por alguém que sempre quis, e que nunca tomou a iniciativa, quem acaba de se apaixonar, ou descobre que o amor acabou, quem espera gêmeos, está exultante e nem consegue mais dormir, quem acaba de conseguir um emprego, quem não desce em nenhuma estação, e quer apenas um ar-condicionado no talo no verão impiedoso, ou fugir da chuva, ou dar um tempo, viver sem sentir a vida, percorrer túneis

10 subterrâneos de uma grande metrópole, em que, apesar da multidão, se sente sozinho.

Ninguém troca ideias, opiniões divergentes, ninguém debate, é convencido de algo, muda de opinião. A bolha que nos cerca nos protege. É como um escudo contra o que nos agride. A cidade nos agride. O ódio nos agride. Todos nela nos agridem. Suas vozes incomodam.

15 Preferimos a música preferida da lista previamente selecionada que sai dos meus fones de ouvido conectados por um cabo ao meu universo pessoal, em que sou Deus, em que decido o que ler e ouvir, o que ver e curtir, o que assistir e ignorar, graças à opção “bloqueio”, à opção “excluir”, à opção “apagar perfil”, “colocar em modo avião”, “não receber notificações”.

Há uns anos, não pegava celular no metrô. Os passageiros conversavam, paqueravam, miravam o vazio, redescobriam estações no mapa das linhas, checavam os cabelos na imagem refletida, quem

20 entrava, saía, vestia o que, (...) quem estava bem, feliz, chorava, dormia, quem, pelo perfume, banho tomado, roupa bonita, estava a caminho de um encontro secreto, fora beijada, por alguém surpreendente, inexplicável, paixão que nasceu do fundo da alma, quem descobriu que não ama mais, descobriu que estava grávida e não consegue mais dormir, tensa, quem acabou de perder um emprego, a estação, o sentido de viver, porque se sente sozinho, apesar da multidão nas estações.

25 Trocavam-se ideias, opiniões, debatia-se, mudavam as convicções de alguém, apresentavam outros pontos de vista, experiências e erros da história que se repetem. A bolha é nosso mundo agora. E o que tem de tão urgente nos celulares, que não era na década anterior? O que é inadiável? A bolha em si, e nela que se quer estar: protegido e isolado. O mundo é muito louco, tem muito louco por aí. E boa parte, quando chega à sua estação, continua nela, caminha olhando ou falando para seu universo

30 pessoal. Haverá um dia em que as pessoas voltarão a interagir? O mundo corre perigo. (...)

Marcelo Rubens Paiva

(Adaptado a partir de: <http://cultura.estadao.com.br/>. Acesso em abril de 2017.)

QUESTÃO 01

A partir do título e no decorrer do texto, a palavra *bolha* aparece diversas vezes. Nesse contexto, bolha é entendida como

- (A) antítese à divisão social do trabalho.
- (B) sinestesia de cores e sentidos, típica das bolhas de sabão.
- (C) metáfora do isolamento e segurança.
- (D) hipérbole da modernidade e da tecnologia.

QUESTÃO 02

O autor do texto faz uma reflexão a partir de situações vividas na atualidade. Com base nas ideias defendidas pelo autor, pode-se concluir:

- (A) Os metrô superlotados e a pressa das grandes cidades não criam situações para que as pessoas se conheçam e possam se comunicar, gerando ódio e sentimento de solidão.
- (B) As cidades grandes isolam os cidadãos dada a distância entre o trabalho e a moradia, tornando muito difícil a comunicação e criação de amizades.
- (C) A modernidade, representada pelo metrô, e a tecnologia, representada pelo celular, impedem a comunicação humana, criando barreiras e bolhas, as quais protegem e isolam.
- (D) As cidades e o ritmo de trabalho produzem isolamentos entre os cidadãos, contribuindo para a desigualdade social.

QUESTÃO 03

As expressões grifadas em *Ninguém mais olha o vazio* (linha 1) e *quem está por um fio* (linha 4) trazem, respectivamente, implícito sentido de

- (A) perder-se em pensamento; não ver sentido na vida.
- (B) contemplar um muro; estar com dificuldades econômicas.
- (C) dormir de olhos abertos; andar em linha reta.
- (D) descansar; estar muito doente.

QUESTÃO 04

Em relação aos recursos linguísticos do segundo parágrafo do texto, analise as afirmativas.

- I - O autor utiliza períodos curtos, com ausência de períodos compostos, para enfatizar o sentido produzido por cada oração.
- II - As escolhas lexicais do autor constroem um cenário de apatia e solidão das pessoas no metrô, visto que não há mais conversas, diálogos.
- III - Em *A bolha que nos cerca nos protege*, há um exemplo de oração adjetiva, introduzida por pronomes relativos.
- IV - A ausência de recursos coesivos ligando as sentenças do parágrafo aproxima o texto do registro oral.

Está correto o que se afirma em

- (A) I, II e III, apenas.
- (B) I, II e IV, apenas.
- (C) III e IV, apenas.
- (D) I, II, III e IV.

QUESTÃO 05

*Há uns anos, não **pegava** celular no metrô*, o sentido do verbo pegar, nesse contexto, é o mesmo em

- (A) Ele pegou a moto e saiu.
- (B) O rádio não pega a FM fora da cidade.
- (C) Combinaram de pegar uma praia no feriado.
- (D) Carlos pegou 10 anos de cadeia.

QUESTÃO 06

A coluna da esquerda apresenta processos de formação de palavras e a da direita, exemplo de cada um. Numere a coluna da direita de acordo com a da esquerda.

- | | |
|------------------|---------------------|
| 1 - Prefixação | () Ajoelhar |
| 2 - Abreviação | () Redescobriram |
| 3 - Composição | () Metrô |
| 4 - Parassíntese | () Ar-condicionado |

Assinale a sequência correta.

- (A) 1, 2, 3, 4
(B) 4, 1, 2, 3
(C) 4, 2, 3, 1
(D) 1, 3, 4, 2

INSTRUÇÃO: Leia atentamente o texto e responda às questões de 07 a 09.

Ande como alguém feliz para ser feliz, afirma estudo

- 1 Uma pesquisa publicada em uma revista internacional sobre Comportamento e Psiquiatria afirma que para se sentir feliz, basta caminhar como uma pessoa alegre. Durante o experimento, uma série de pessoas foi testada para saber se estufar o peito e balançar os braços realmente traz mais felicidade do que passos pesados e olhares cabisbaixos.
- 5 No estudo, o grupo teve de caminhar durante 15 minutos em uma esteira enquanto alguns fatores eram analisados. Os participantes foram acompanhados por câmeras com sensores de movimento. Na frente da esteira, uma tela mostrava as ações de um medidor – que pendia à esquerda quando caminhavam “deprimidos” e à direita quando “felizes”.
- 10 À medida que os minutos iam passando, a equipe de pesquisadores pedia para que as pessoas tentassem jogar o medidor para a esquerda ou para a direita. Só que antes de começarem o teste físico, os convidados tiveram que ler uma lista de palavras positivas e negativas.
- Depois da caminhada, os participantes tiveram que escrever as palavras que lembravam. O resultado mostrou que quem caminhava de maneira mais triste (seguindo a lógica de outro estudo) conseguiu lembrar mais palavras tristes; e aqueles que andaram felizes se lembraram de mais
- 15 palavras positivas.
- Para os pesquisadores, essa lógica está alinhada a de outros trabalhos publicados sobre o tema. Segundo tais pesquisas, andar como um líder pode aumentar as chances de se tornar um; e segurar uma caneta com os lábios pode aumentar a vontade de sorrir. Então não custa nada andar mais “animado” por aí. Vai que contagia.

(Adaptado a partir de <http://revistagalileu.globo.com/>. Acesso em abril de 2017.)

QUESTÃO 07

Sobre o texto, marque V para as afirmativas verdadeiras e F para as falsas.

- () A função da linguagem predominante no texto é a referencial.
() As aspas, no texto, foram utilizadas para marcar o uso de neologismos.
() O recurso coesivo *À medida que* (linha 9) apresenta valor semântico de proporção.
() *Uma série de pessoas, o grupo, os participantes* são utilizados como recursos coesivos para a não repetição de termos.
() A expressão *vai que contagia* é um exemplo de linguagem informal e tem o sentido de conformidade.

Assinale a sequência correta.

- (A) F, V, F, F, V
(B) V, F, F, V, F
(C) F, F, V, V, V
(D) V, F, V, V, F

QUESTÃO 08

Sobre o texto, é correto afirmar:

- (A) A postura física colabora para que os sujeitos se sintam mais felizes.
- (B) Fazer atividades físicas é um dos fatores que aumenta a felicidade.
- (C) Caminhar junto a pessoas felizes faz com que os outros também se sintam felizes.
- (D) Assistir à televisão enquanto se faz esteira aumenta a sensação de felicidade.

QUESTÃO 09

A regra de concordância presente no trecho *uma série de pessoas foi testada* é a mesma em

- (A) Mais de um colega se ofenderam na assembleia de ontem.
- (B) Cerca de mil pessoas se inscreveram para a prova.
- (C) A maioria dos professores aprovou a ideia.
- (D) 60% dos entrevistados não aprovam a mudança.

QUESTÃO 10

Leia a tira.



São verbos que expressam ordens ou pedidos, típicos do modo imperativo, nessa tira:

- (A) Mandar, apagar, amassar.
- (B) Dar, apagar e amassar.
- (C) Folgar, mandar, jogar.
- (D) Apagar, amassar, jogar.

INFORMÁTICA BÁSICA

QUESTÃO 11

Considere a planilha do Microsoft Excel 2010 (idioma português) abaixo.

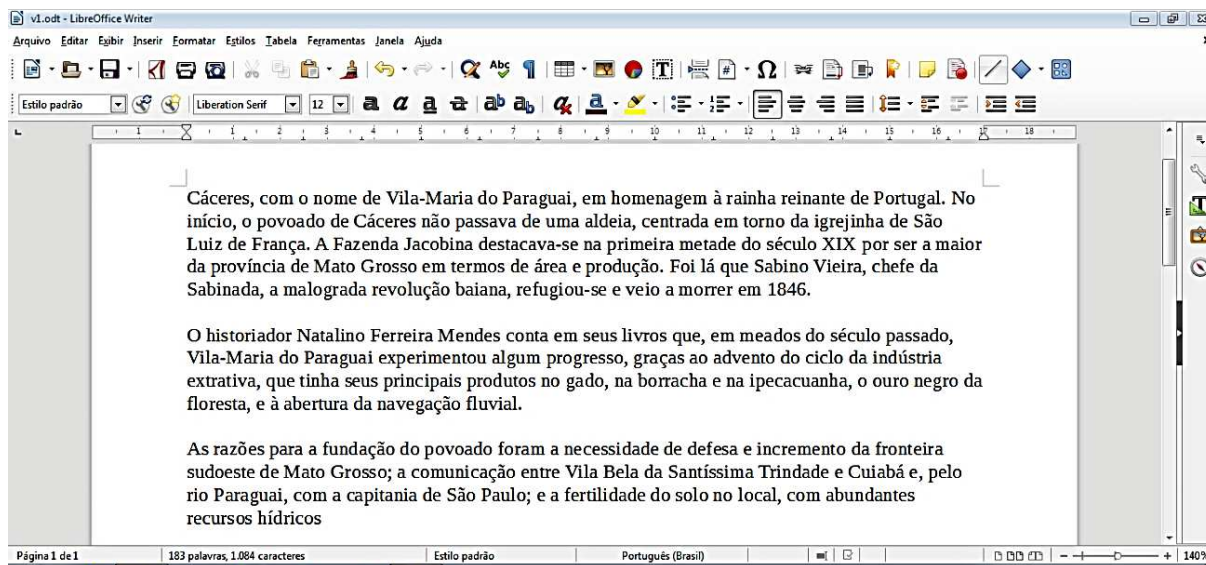
	A	B	C	D	E
1	12	5	8		20
2	10	4	1		
3					

De acordo com a planilha, o valor exibido na célula E1 pode ser a fórmula

- (A) =A1+B1+C1-A2-B2-C2
- (B) =SOMA(A1:C1)-MÉDIA(A2:C2)
- (C) =MÉDIA(A2:C2)+SOMA(A1:C1)
- (D) =A2+B2+C2-A1-B1-C1

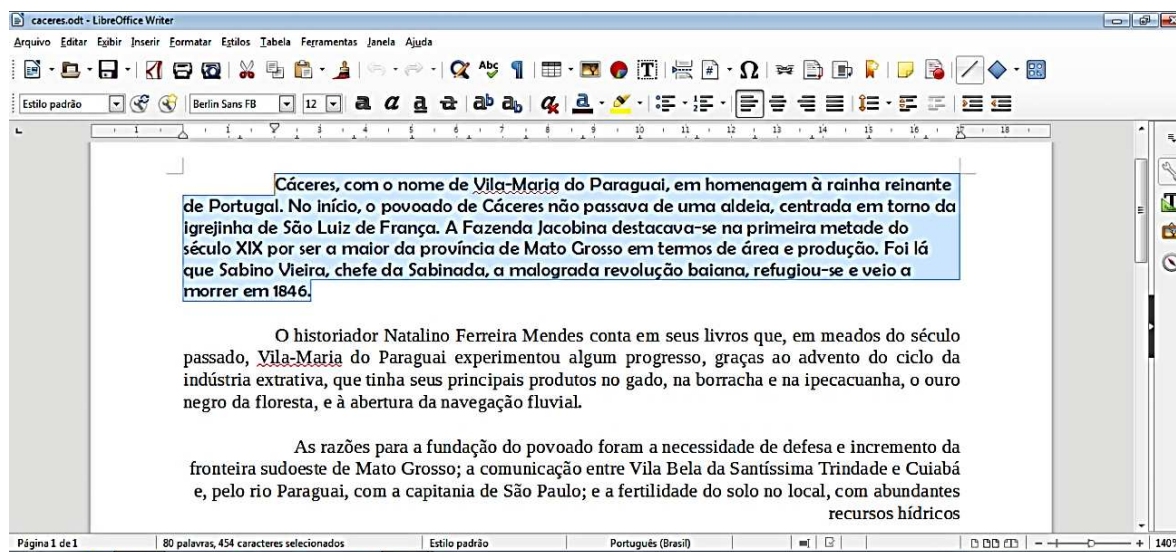
QUESTÃO 12

Considere a figura abaixo (Fig.1) que mostra um texto sendo editado no LibreOffice Writer, versão 5.1.4, em sua configuração padrão.



(Fig.1)

Em nenhum momento durante a edição o usuário fechou o arquivo ou abriu um novo arquivo e, após ele fazer algumas alterações, o texto editado ficou como apresenta a figura a seguir (Fig.2), onde o primeiro parágrafo está selecionado.



(Fig.2)

A respeito das modificações realizadas neste texto (Fig.2), analise as afirmativas a seguir.

- I - No primeiro parágrafo, o usuário alterou a fonte do texto para que ela ficasse em negrito e deixou o parágrafo justificado.
- II - Uma das alterações realizadas pelo usuário foi a modificação do nome do arquivo que está sendo editado.
- III - O alinhamento do segundo parágrafo foi ajustado para justificado.
- IV - O estilo definido para o parágrafo selecionado é o **Estilo padrão**.

Está correto o que se afirma em

- (A) II, III e IV.
- (B) I, II e III.
- (C) I, III e IV.
- (D) I, II e IV.

QUESTÃO 13

NÃO é dispositivo de entrada nem de saída de um computador:

- (A) Monitor LCD
- (B) Unidade Lógica Aritmética
- (C) Impressora a Laser
- (D) Mouse Óptico

QUESTÃO 14

Considerando o site de busca Google, quais termos de pesquisa retornam todas as páginas do domínio **.mt.gov.br** que contenham a palavra **Cáceres** como qualquer parte de seus conteúdos?

- (A) @mt.gov.br –Cáceres
- (B) site:mt.gov.br –Cáceres
- (C) @mt.gov.br +Cáceres
- (D) site:mt.gov.br "Cáceres"

QUESTÃO 15

A respeito do Mozilla Firefox, versão 47.0.1, para que o usuário possa exibir a navegação em Tela Inteira, ele deverá pressionar

- (A) a tecla F11.
- (B) a tecla F12.
- (C) as teclas Alt + P.
- (D) as teclas Ctrl + O.

LEGISLAÇÃO BÁSICA

QUESTÃO 16

Para efeito da Lei Complementar nº 25/1997, o regime jurídico único é o conjunto de preceitos, direitos e deveres, proibições e responsabilidades dos servidores públicos, estabelecido com base

- (A) nos princípios constitucionais que regem as relações entre o Município e seus servidores.
- (B) na legislação federal sobre servidores públicos.
- (C) nas leis e tratados internacionais que regulam as relações entre o Poder Público e seus servidores.
- (D) nos princípios constitucionais e leis estaduais sobre servidores públicos municipais.

QUESTÃO 17

De acordo com as disposições da Lei Complementar nº 25/1997 acerca das formas de provimento derivado de cargos públicos, assinale a assertiva **INCORRETA**.

- (A) A reintegração é a reinvestidura no cargo do servidor estável, em caso de invalidação de sua demissão por decisão administrativa ou judicial.
- (B) O aproveitamento de servidor que se encontra em disponibilidade dependerá de prévia comprovação de sua capacidade física e mental, por junta médica oficial.
- (C) A readaptação acarretará aumento de vencimento ou remuneração do servidor.
- (D) Não poderá ocorrer reversão quando o aposentado tiver completado 60 (sessenta) anos de idade.

QUESTÃO 18

Quanto aos deveres e proibições previstos na Lei Complementar nº 25/1997, que dispõe sobre o Regime Jurídico dos Servidores Públicos do Município de Cáceres, marque V para as afirmativas verdadeiras e F para as falsas.

- () O servidor deve atender com presteza tanto aos pedidos de expedição de certidões para defesa de direitos pessoais quanto às requisições para a defesa da Fazenda Pública.
- () O servidor deve levar ao conhecimento dos demais servidores do órgão as irregularidades de que tiver ciência em razão do cargo.
- () É proibida a retirada, sem prévia anuência da autoridade competente, de qualquer documento ou objeto da repartição pública.
- () É permitido que o servidor atue, perante repartições públicas, como procurador de parente até o segundo grau em processo relacionado com o recebimento de benefício previdenciário ou assistencial.

Assinale a sequência correta.

- (A) F, V, F, V
- (B) V, F, V, V
- (C) V, F, V, F
- (D) F, F, V, F

QUESTÃO 19

Em consonância com a Lei Complementar nº 25/1997, que dispõe sobre o Regime Jurídico dos Servidores Públicos do Município de Cáceres, analise as assertivas acerca da acumulação de cargos públicos.

- I - A acumulação de cargos, ainda que lícita, fica condicionada à comprovação da compatibilidade de horários.
- II - A proibição de acumular estende-se a cargos, empregos e funções em autarquias, fundações públicas, empresas públicas e de economia mista, da União, dos Estados, do Distrito Federal e Municípios.
- III - O servidor poderá exercer mais de um cargo em comissão quando houver compatibilidade de horários.
- IV - A proibição de acumular proventos não se aplica aos aposentados, nos casos de exercício de mandato eletivo, cargo em comissão ou contrato para prestação de serviços técnicos especializados, de caráter temporário.

Estão corretas as assertivas

- (A) III e IV, apenas.
- (B) I, II e III, apenas.
- (C) II e III, apenas.
- (D) I, II e IV, apenas.

QUESTÃO 20

Nos termos da Lei Complementar nº 25/1997, que dispõe sobre o Regime Jurídico dos Servidores Públicos do Município de Cáceres, às faltas injustificadas ao serviço, por 60 (sessenta) dias intercalados, durante o período de 12 (doze) meses, conforme apurado em processo administrativo com observância do direito ao contraditório, será aplicada a seguinte penalidade:

- (A) Suspensão.
- (B) Advertência.
- (C) Demissão.
- (D) Transferência.

CONHECIMENTOS ESPECÍFICOS

INSTRUÇÃO: Leia a notícia para responder às questões de 21 a 25.

Cidades

Quinta-Feira, 30 de março de 2017.

Mais de 75% dos municípios mato-grossenses já aderiram ao Pró-família

Da Redação

A coordenação do programa Pró-família, lançado pela Secretaria de Estado de Trabalho e Assistência Social (Setas) no dia 16 de março, informa que 111 dos 141 municípios mato-grossenses já assinaram o termo de adesão ao programa, o que representa 75% dos municípios. O prazo para adesão se encerra no próximo dia 10 de abril.

Para chegar até a população que mais precisa é necessário que os municípios firmem parceria por meio de um Termo de Cooperação com a Setas. Os municípios são considerados parceiros da iniciativa do Governo do Estado ao assinar o Termo de Cooperação. A contrapartida da Prefeitura é a cessão dos Agentes Comunitários de Saúde (ACS) para atuar em campo.

O cronograma estabelece que o Pró-Família inicie o atendimento as famílias no mês de junho. Serão beneficiadas 35 mil famílias pobres, extremamente pobres, em risco ou vulnerabilidade social em Mato Grosso. [...]

O titular da Setas, Max Russi, destacou o papel dos chefes de Executivo Municipal no desenvolvimento do Programa Pró-Família. “Os prefeitos serão os grandes responsáveis em criar estratégias dentro de suas cidades. Como verificar o perfil de qualificação necessária para as pessoas assistidas pelo programa”, avaliou o titular da Setas. [...]

(Disponível em <http://www.folhamax.com.br>. Acesso em 02/04/2017.)

QUESTÃO 21

A partir da leitura da notícia, infere-se a necessidade de criação de estratégias para a implantação do programa. Sobre estratégia e sua implantação em uma instituição, marque V para as afirmativas verdadeiras e F para as falsas.

- () A estratégia é um conjunto de objetivos e de políticas principais capazes de guiar e orientar o comportamento da instituição a longo prazo.
- () A estratégia deve ser discutida, formulada, definida e decidida no nível operacional da instituição.
- () A execução da estratégia requer esforço isolado a fim de proporcionar efeito sistêmico.
- () A análise dos recursos disponíveis e as condições gerais internas e externas são imprescindíveis para estabelecer os planos de ação da estratégia.

Assinale a sequência correta.

- (A) F, V, F, V
- (B) V, F, V, F
- (C) F, V, V, F
- (D) V, F, F, V

QUESTÃO 22

_____ é a etapa do processo administrativo que possibilitará a mensuração e a avaliação de estratégia empreendida em uma instituição. Assinale a alternativa que preenche corretamente a lacuna.

- (A) Planejamento
- (B) Controle
- (C) Organização
- (D) Direção

QUESTÃO 23

Infere-se da leitura da notícia que a contrapartida do município para implementar o programa Pró-família é a cessão de Agentes Comunitários de Saúde (ACS). Em relação ao gráfico que pode permitir a realização de análise crítica para detectar falhas e oportunidade de melhorias na execução de serviços empreendidos pelos agentes, assinale a denominação correta.

- (A) Diagrama de Pareto
- (B) Histograma
- (C) Fluxograma
- (D) Organograma

QUESTÃO 24

Na hipótese de um Prefeito manifestar interesse em aderir ao programa, qual documento, de acordo com o Manual de Redação da Presidência da República, o servidor responsável deverá redigir para solicitar a adesão?

- (A) Parecer
- (B) Memorando
- (C) Ofício
- (D) Certidão

QUESTÃO 25

Sobre o uso de vocativo e fecho documental em comunicação de adesão ao programa Pró-família encaminhado pelo Prefeito ao Secretário de Estado de Trabalho e Assistência Social, assinale a afirmativa correta.

- (A) O vocativo é Senhor Secretário e o fecho documental é Respeitosamente, por tratar-se de autoridade hierarquicamente superior.
- (B) O vocativo é Ilustríssimo Secretário e o fecho documental é Respeitosamente, por tratar-se de autoridade hierarquicamente inferior.
- (C) O vocativo é Excelentíssimo Secretário e o fecho documental é Atenciosamente, por tratar-se de autoridade do mesmo nível hierárquico.
- (D) O vocativo é Prezado Senhor Secretário e o fecho documental é Atenciosamente, por tratar-se de autoridade hierarquicamente superior.

QUESTÃO 26

Sobre composição de mesa e o uso da palavra em cerimônia oficial, analise as afirmativas.





- I - A composição da mesa é chamada da menor autoridade para a maior.
- II - O primeiro a fazer o uso da palavra deve ser a maior autoridade presente no evento.
- III - A maior autoridade do evento é a primeira a ser chamada para ocupar seu lugar no dispositivo do evento.
- IV - O uso da palavra pela menor autoridade é dado primeiramente.

Estão corretas as afirmativas

- (A) I e II.
- (B) III e IV.
- (C) II e III.
- (D) I e IV.

QUESTÃO 27

Sobre o dispositivo do uso de bandeira em solenidade pública, assinale a alternativa correta.

- (A) 
Público
- (B) 
Público
- (C) 
Público
- (D) 
Público

QUESTÃO 28

A coluna da esquerda apresenta sistemas organizacionais e a da direita, características, métodos e processos administrativos de cada um. Numere a coluna da direita de acordo com a da esquerda.

- 1 - Sistema mecanista
- () Apropriado à instituição que opera em condições ambientais instáveis, em constantes transformações.
- () A hierarquia de comando decorre da suposição de que todo o conhecimento sobre a instituição e suas tarefas só se encontra na cúpula.
- 2 - Sistema orgânico
- () As operações são reguladas por instruções, regras e decisões emitidas pelos superiores.
- () Os trabalhos são flexíveis em termos de métodos, obrigações e poderes, pois devem ser continuamente redefinidos por interação com outras pessoas que participam da tarefa.

Marque a sequência correta.

- (A) 2, 1, 1, 2
- (B) 1, 2, 2, 1
- (C) 1, 1, 2, 2
- (D) 2, 2, 1, 1

QUESTÃO 29

Qual evento realiza-se para discutir a mobilidade urbana em um município, que se caracteriza pela reunião, menos técnica, de troca de informações e livre debate de ideias e argumentos e visa atrair participação numerosa?

- (A) Simpósio
- (B) Lançamento
- (C) Conferência
- (D) Fórum

QUESTÃO 30

Sobre características do modelo burocrático de organização, de acordo com Weber, assinale a afirmativa **INCORRETA**.

- (A) É uma organização ligada por normas e regulamentos estabelecidos previamente por escrito.
- (B) A estrutura organizacional é flexível, predominando a tomada de decisão descentralizada e com pouca divisão de trabalho.
- (C) O trabalho e o poder são divididos de modo sistemático, estabelecendo as atribuições de cada participante.
- (D) A distribuição das atividades é feita em termos de cargo e função e não de pessoas envolvidas.

QUESTÃO 31

A divisão do trabalho organizacional que ocorre por meio de agrupamento de atividades baseadas no princípio da homogeneidade e desencadeia o crescimento horizontal do organograma é chamada de

- (A) Amplitude de controle.
- (B) Coalizão.
- (C) Departamentalização.
- (D) Cadeia escalar.

QUESTÃO 32


A estrutura organizacional compreende a disposição das diversas unidades que compõem uma instituição. Em relação à estrutura linear, marque V para as afirmativas verdadeiras e F para as falsas.

- () A representação gráfica em forma de pirâmide demonstra o princípio da centralização de autoridade.
- () O princípio da unidade de comando concede ao superior autoridade única e exclusiva sobre seus subordinados.
- () A comunicação entre as pessoas ou unidades organizacionais é efetuada diretamente entre os níveis e áreas da organização.
- () O processo decisório é delegado aos cargos especializados detentores do conhecimento necessário para melhor implementação de decisões.

Assinale a sequência correta.

- (A) F, V, F, V
- (B) V, F, V, F
- (C) F, F, V, V
- (D) V, V, F, F

INSTRUÇÃO: Leia a tira para responder às questões 33 e 34.



(Disponível em <https://glaucciocoutinho.wordpress.com>. Acesso em 12/04/2017.)

QUESTÃO 33

Depreende-se da leitura da tira uma das barreiras para o desenvolvimento do trabalho no ambiente profissional, a dificuldade no processo de comunicação. Na tira, qual foi a atitude da personagem feminina que interferiu no êxito da comunicação?

- (A) A simplicidade, devido ao reduzido número de palavras para solicitar algo.
- (B) A concisão, pois recorreu à simplicidade para fazer a solicitação.
- (C) A assertividade, usando excessivamente palavras sem relevância para efetuar a solicitação.
- (D) A prolixidade, uma vez que utilizou excesso de palavras para realizar a solicitação.

QUESTÃO 34

Sobre a linguagem utilizada pelos personagens no último quadrinho, assinale a afirmativa **INCORRETA**.

- (A) Apresenta atitude descabida para assegurar o tratamento com urbanidade requerido no ambiente profissional.
- (B) Denota postura inadequada para propiciar polidez exigida no ambiente de trabalho.
- (C) Demonstra reciprocidade no tratamento cordial requisitado para o âmbito profissional.
- (D) Indica tratamento insolente que dificulta a comunicação respeitosa imprescindível para o contexto profissional.

QUESTÃO 35

No processo de comunicação, qual é o elemento que possibilita ao emissor conhecer o resultado da informação/mensagem transmitida?

- (A) Ruído
- (B) Retroação
- (C) Dispersão
- (D) Persuasão

INSTRUÇÃO: Leia a sentença abaixo para responder às questões 36 e 37.

Garantir a efetividade das Políticas Públicas, através do desenvolvimento sustentável, visando ao bem-estar social dos munícipes.

(Disponível em <https://sic.tce.mt.gov.br>. Acesso em 30/03/2017.)

QUESTÃO 36

Em uma instituição, em qual instrumento gerencial é definida e registrada a sentença apresentada?

- (A) Plano de negócio municipal
- (B) Plano operacional do município
- (C) Plano estratégico do município
- (D) Plano tático municipal

QUESTÃO 37

Em um ambiente organizacional, a sentença define

- (A) Missão organizacional.
- (B) Cultura organizacional.
- (C) Estrutura organizacional.
- (D) Visão organizacional.

QUESTÃO 38

No desenvolvimento das atividades administrativas, os documentos exercem relevantes funções seja para auxiliar nas tomadas de decisões ou para realizar comprovações legais. Sobre o instrumento de trabalho Código de classificação de documentos de arquivo, assinale a afirmativa correta.

- (A) Constituído por conjunto de símbolos composto por letras e cores oriundos de uma tabela de equivalência para classificar documentos que serão eliminados.
- (B) Instrumento resultante da avaliação documental, aprovado por autoridade competente, que define a destinação de cada série documental.
- (C) Usado para efetuar a classificação e transferência dos documentos dos arquivos correntes para guarda permanente.
- (D) Utilizado para classificar todo e qualquer documento produzido ou recebido por determinado órgão, no exercício de suas atividades e funções.

QUESTÃO 39

Sobre tipos de arquivamento de documentos, analise as afirmativas.

- I - O tipo de arquivamento horizontal é o mais indicado para ser usado no arquivo corrente.
- II - O tipo de arquivamento vertical possibilita rápida consulta documental.
- III - O tipo de arquivamento horizontal é amplamente usado para plantas, mapas e desenhos.
- IV - O tipo de arquivamento vertical dispõe os documentos uns sobre os outros e usa-se no arquivo permanente.

Estão corretas as afirmativas

- (A) I e IV, apenas.
- (B) II e III, apenas.
- (C) II, III e IV, apenas.
- (D) I, II e III, apenas.

QUESTÃO 40

Sobre a função do layout da organização para o desenvolvimento do trabalho, assinale a afirmativa **INCORRETA**.

- (A) Obstruir os fluxos dos processos de trabalho desenvolvidos no ambiente organizacional.
- (B) Efetuar o arranjo dos diversos postos de trabalho nos espaços existentes na organização.
- (C) Otimizar as condições de trabalho dos profissionais nas diversas unidades organizacionais.
- (D) Integrar as pessoas ao ambiente de trabalho, segundo a natureza da atividade desempenhada.



Concurso Público

Edital nº 003/2017-PMC

Prefeitura Municipal de Cáceres - MT



Folha de Anotação do Candidato

Nível de Escolaridade: Médio/Médio Técnico

Cargo: Assistente Administrativo

01	02	03	04	05	06	07	08	09	10

11	12	13	14	15	16	17	18	19	20

21	22	23	24	25	26	27	28	29	30

31	32	33	34	35	36	37	38	39	40

Esta folha é destinada para uso EXCLUSIVO do candidato.



Secretaria de Articulação e Relações Institucionais
Gerência de Exames e Concursos