

CONHECIMENTOS ESPECÍFICOS

Acerca do modelo macroeconômico IS/LM, julgue os itens a seguir.

- 71 Se a LM for horizontal devido a fixação da taxa de juros por parte da autoridade monetária, então a economia estará na situação de armadilha da liquidez.
- 72 O aumento da expectativa de inflação futura contribui para a expansão presente da economia.
- 73 A elevação da propensão marginal a consumir proporciona uma variação positiva no tamanho do multiplicador keynesiano.
- 74 No modelo keynesiano, uma expansão da quantidade de moeda por intermédio de uma política monetária expansionista gera como resultado a redução do salário real de equilíbrio.
- 75 Alterações na sensibilidade dos juros em relação à taxa de juros afetam a inclinação da curva IS.
- 76 Uma redução do consumo autônomo, ou seja, da parte do consumo que não depende da renda, altera a inclinação da curva IS.

Tendo em vista as interações entre câmbio, moeda, balanço de pagamentos e política econômica, julgue os itens que se seguem.

- 77 No modelo IS/LM, fixar a quantidade de moeda é preferível como regra de política econômica em relação à regra de fixar a taxa de juros, quando os choques ocorrem majoritariamente sobre a curva IS.
- 78 Uma política de corte de gastos sempre produz maior impacto no produto que uma política de expansão dos tributos.
- 79 A aquisição por investidor estrangeiro de ações de empresa estatal é registrada como crédito na conta de serviços do balanço de pagamentos.
- 80 Em uma economia aberta com regime de câmbio fixo e plena mobilidade de capitais, a política monetária é passiva.
- 81 Em uma economia aberta com regime de câmbio flutuante, expansões monetárias não afetam o produto de equilíbrio.
- 82 Do ponto de vista econômico, é eficiente a política econômica com câmbio fixo, regime de metas de inflação e plena mobilidade de capitais.

A respeito da teoria clássica da demanda e de conceitos gerais de economia, julgue os itens subsecutivos.

- 83 A soma das demandas individuais dos consumidores é diferente da demanda agregada da economia.
- 84 Se a curva de Engel é positivamente inclinada, então o bem em análise é inferior.
- 85 A função demanda walrasiana do consumidor é homogênea de grau zero em relação aos preços.
- 86 O custo mínimo de produção é mínimo quando o custo marginal se iguala ao custo médio.
- 87 Se a elasticidade-preço da demanda for negativa, então os bens serão substitutos.

Com referência à teoria microeconômica da produção e às respectivas estruturas de mercado, julgue os itens subsequentes.

- 88 No monopólio perfeitamente discriminador de preço, o ótimo de Pareto não pode ser alcançado.
- 89 No duopólio de Bertrand, o preço pago pelas firmas é igual ao custo marginal.
- 90 A produtividade marginal é obtida a partir da divisão do produto total pelo fator variável trabalho.
- 91 Na concorrência monopolística, o preço é igual à receita marginal.
- 92 O equilíbrio de longo prazo da concorrência monopolística é ineficiente no sentido de Pareto.

Em relação às funções de custo de produção, julgue os próximos itens.

- 93 Se a produtividade marginal é decrescente, a adição de uma unidade de produção reduz o lucro.
- 94 Diz-se que uma firma possui produção constante quando uma determinada combinação de seus fatores de produção proporciona dois níveis distintos de produção.
- 95 A empresa maximiza o seu lucro quando o produto marginal se iguala ao preço do produto.

Os Jogos Olímpicos transformaram o Rio de Janeiro, avalia o jornalista suíço Jean-Jacques Fontaine, que lançou recentemente o livro **Rio de Janeiro e os Jogos Olímpicos, uma cidade reinventada**. Para o jornalista suíço, foram os Jogos que permitiram investimentos importantes na mobilidade urbana, na segurança, na saúde e na educação.

Entre os projetos alavancados incluem-se a construção de quatro corredores de BRT e a expansão do metrô, embora tais projetos existissem desde a década de 60 do século XX; o crescimento das unidades de polícia pacificadora (UPPs), apesar de agora a política de segurança estar em declínio; e a ampla reforma urbana na região portuária, que, no entanto, ainda não conseguiu decolar a maior parte dos investimentos imobiliários previstos no Porto Maravilha.

Valor Econômico, 26/7/16. Internet: <<http://www.valor.com.br>> (com adaptações).

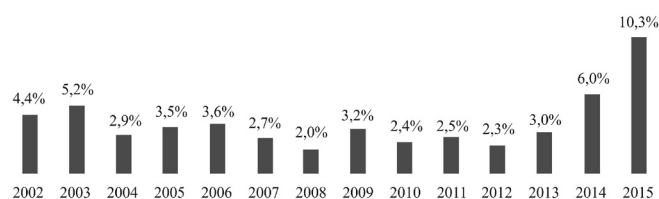
Considerando as informações apresentadas, julgue os itens a seguir, acerca das funções econômicas do Estado e de suas formas de atuação.

- 96 Ao delegar à iniciativa privada, por concessão, a operação dos BRT (*bus rapid transit*), a prefeitura da cidade do Rio de Janeiro transferiu a titularidade da obrigação da prestação do serviço de transporte de passageiros para a concessionária, tendo passado a atuar como poder regulador.
- 97 As necessidades públicas, de que são exemplos a mobilidade urbana e a educação, são interesses gerais da coletividade satisfeitos por meio de serviços públicos, cuja prestação é de responsabilidade do Estado.
- 98 Por meio da implantação de UPPs em comunidades carentes dominadas pelo crime organizado, o Estado atuou no âmbito de sua função alocativa, garantindo a oferta do bem público segurança.

Com relação às políticas econômicas e aos seus instrumentos, julgue os itens subsequentes.

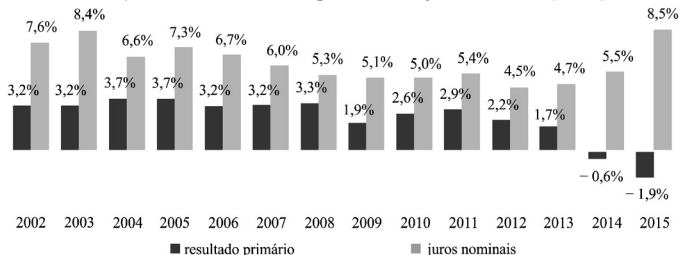
- 99 A elevação da alíquota do imposto sobre produtos industrializados (IPI) para os automóveis que não contassem com pelo menos 65% de insumos fabricados no Brasil, iniciada no ano de 2012, representou espécie de barreira comercial.
- 100 O SIMPLES Nacional, por oferecer regime de tributação favorecido para as empresas nele enquadradas, caracteriza política fiscal expansionista com base no aumento do gasto público.

necessidade de financiamento do setor público (%PIB)



Fonte: BCB. Elaboração: STN (com adaptações).

evolução recente do resultado primário e de juros nominais (%PIB)



Fonte: BCB. Elaboração: STN (com adaptações).

Os gráficos precedentes apresentam, como percentual do produto interno bruto (PIB), a evolução das necessidades de financiamento do setor público (NFSP), do resultado primário e da despesa com juros, conforme apuração do Banco Central do Brasil. A partir dessas informações e dos conceitos de contabilidade fiscal, julgue os itens seguintes.

- 101 Quanto maior for a taxa de juros incidente sobre a dívida pública, maiores serão os superávits primários para estabilizar a dívida como proporção do PIB.
- 102 Os resultados primários, deficitários em 2014 e 2015, foram impactados pelo aumento da despesa com os juros incidentes sobre a dívida pública, que se elevaram por força de uma política monetária contracionista.
- 103 A evolução das NFSP mostra como o efeito combinado dos juros nominais e do resultado primário foram relevantes para explicar o aumento da dívida líquida do setor público verificado em 2015.
- 104 As dívidas dos estados e dos municípios não são consideradas no cálculo da dívida bruta do governo geral (DBGG), razão pela qual o indicador não é adequado para comparar a dívida do Brasil com a de outros países, por subestimá-la.

No que se refere ao financiamento do déficit público no Brasil a partir da década de 80 do século passado e de sua relação com a inflação e o crescimento econômico, julgue os próximos itens.

- 105 No Brasil, a inflação elevada da década de 80 do século passado ampliou as necessidades operacionais de financiamento do setor público, uma vez que as receitas tributárias eram estabelecidas em termos nominais e as despesas possuíam sofisticada estrutura de indexação.
- 106 As receitas de senhoriagem, entre meados da década de 80 e da de 90 do século passado, contribuíram para o financiamento do déficit público, permitindo, em determinados períodos, a redução da dívida líquida como proporção do PIB.

A propósito das políticas econômicas adotadas pelos últimos governos e do comportamento recente da economia brasileira, julgue os itens que se seguem.

- 107 O primeiro mandato do ex-presidente Luiz Inácio Lula da Silva caracterizou-se pela forte elevação das despesas do governo, principalmente com pessoal e programas sociais, o que reverteu a tendência de queda do endividamento público que vinha se consolidando desde a implantação do Plano Real, em 1994.
- 108 A política de desonerações tributárias, como estratégia de estímulo à economia em resposta aos efeitos da crise financeira internacional de 2008, marcou o primeiro mandato da ex-presidenta Dilma Rousseff, tendo impactado negativamente os resultados primários, principalmente com o arrefecimento do crescimento econômico.

Industrializar aceleradamente o país; transferir do exterior para nosso território as bases do desenvolvimento autônomo; fazer da indústria manufatureira o centro dinâmico das atividades econômicas nacionais — isso resumiria o meu propósito, a minha opção.

Juscelino Kubitschek, citado em G. Mayrink. **Juscelino.** In: **Grandes Líderes.** Nova Cultural (com adaptações).

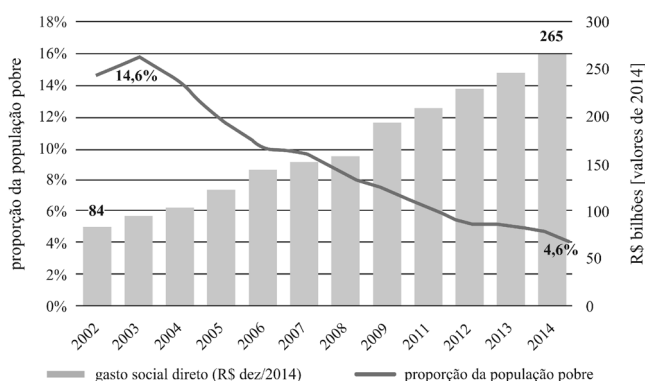
O trecho apresentado sintetiza o plano de desenvolvimento econômico do ex-presidente Juscelino Kubitschek (JK), que governou o Brasil entre 1956 e 1961. Com relação às mudanças estruturais da economia brasileira no período, julgue os itens seguintes.

- 109 O programa de metas de JK, que marcou o início do período chamado Milagre Econômico, contemplava investimentos nas áreas de energia, transporte, indústrias de base, alimentação e educação, tendo a inflação como seu principal mecanismo de financiamento.
- 110 Ao longo do governo JK, o setor agropecuário perdeu espaço para o setor industrial, em decorrência de fatores como a intensificação do processo de substituição de importações.

Com relação aos indicadores sociais brasileiros, julgue os itens subsequentes.

111 Sabendo-se que o gráfico a seguir apresenta a evolução do gasto social com transferências diretas de renda e da proporção da população pobre com renda familiar mensal inferior a R\$ 154,00, é correto afirmar que a correlação inversa entre a proporção da população pobre e o volume de gasto social direto indica que programas como o Bolsa Família contribuem para a redução da desigualdade de renda.

gasto social com transferências diretas de renda e redução da pobreza – 2002 a 2014



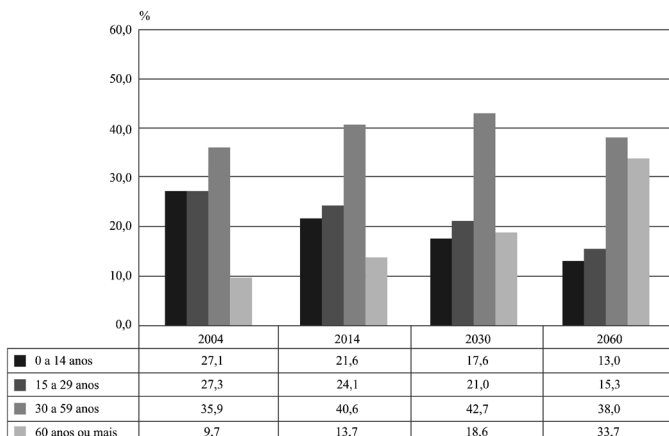
Fonte: IBGE – PNAD e SIAFI/SIDOR. Elaboração: STN (com adaptações).

112 O aumento na proporção de jovens de dezoito a vinte e quatro anos de idade que frequenta o ensino superior, verificado no período entre 2004 e 2014, conforme dados do IBGE, é explicado tanto pela melhora das condições de renda, que permitiu a postergação da sua entrada no mercado de trabalho, como pelo aumento do financiamento estudantil reembolsável e não reembolsável e das políticas de reservas de vagas.

No que se refere às características e aos resultados dos planos de estabilização da economia brasileira a partir da década de 80 do século XX, julgue os itens a seguir.

113 Diferentemente dos planos econômicos que o antecederam, o Plano Real conferiu menor importância à indexação no processo inflacionário brasileiro, tendo sido bem sucedido por se pautar em um rigoroso plano de ajuste fiscal, que culminou com a edição da Lei de Responsabilidade Fiscal.

114 O Plano Cruzado pautou-se no diagnóstico de que a principal causa da inflação eram as cláusulas de indexação presentes na economia brasileira e resultou na adoção do congelamento de preços como parte da solução para o processo inflacionário.



Fonte: IBGE, pesquisa nacional por amostra de domicílios 2004-2014 e projeção da população do Brasil por idade para o período 2030-2060 – revisão 2013.

O gráfico precedente mostra a distribuição e a projeção da população residente no Brasil, por grupos de idade. Com base nessas informações, julgue os próximos itens.

115 O maior crescimento da população em idade ativa em relação ao da população economicamente ativa é benéfico ao país no caso de a postergação da entrada dos jovens no mercado de trabalho decorrer de um aumento do investimento das famílias em formação e qualificação.

116 Em comparação com 2014, as despesas com educação tendem a ter maior participação no gasto social do governo central em 2060.

117 Os números projetados indicam que o estabelecimento de uma idade mínima para a aposentadoria pode contribuir para manter a razão de dependência em 2060 próxima daquela verificada em 2014 e, por consequência, permitir a redução do déficit previdenciário.

No que se refere às relações comerciais e financeiras do Brasil com o resto do mundo, julgue os seguintes itens.

118 O resultado final superavitário do balanço internacional de pagamentos indica ingressos líquidos de recursos, com aumento dos estoques de ativos externos do país.

119 A ocorrência de déficits sistemáticos na balança comercial de um país corresponde à utilização por este país de poupança do resto do mundo.

120 A recente valorização do real frente ao dólar, com a melhora da percepção de risco do país, é benéfica para a indústria local, já que encarece as importações e torna mais competitivos os produtos brasileiros no exterior.