



UNIVERSIDADE FEDERAL DE ALAGOAS  
Pró-reitoria de Gestão de Pessoas e do Trabalho

## CONCURSO PÚBLICO PARA TÉCNICO-ADMINISTRATIVO EM EDUCAÇÃO

PROVA TIPO

1


Cargo (Nível Médio – NM):

### 11. TÉCNICO EM HERBÁRIO

Provas de Português, Raciocínio Lógico,  
Noções de Administração Pública e Conhecimentos Específicos

#### CADERNO DE QUESTÕES

#### INSTRUÇÕES GERAIS

1. Este **Caderno de Questões** somente deverá ser aberto quando for autorizado pelo Fiscal.
2. Antes de iniciar a prova, confira se o tipo da prova do **Caderno de Questões** é o mesmo da etiqueta da banca e da **Folha de Respostas** de questões objetivas.
3. Ao ser autorizado o início da prova, verifique se a numeração das questões e a paginação estão corretas. Verifique também se contém **60 (sessenta)** questões objetivas com 5 (cinco) alternativas cada. Caso contrário, comunique imediatamente ao Fiscal.
4. O tempo disponível para esta prova é de **4 horas**. Faça-a com tranquilidade, mas **controle seu tempo**. Esse **tempo** inclui a marcação da **Folha de Respostas** de questões objetivas.
5. Você somente poderá sair em definitivo do Local de Prova depois de decorridas **2 horas e 30 minutos** do início da aplicação.
6. Na **Folha de Respostas** de questões objetivas, confira seu nome, número do seu documento de identificação, tipo de prova e cargo escolhido.
7. Em hipótese alguma lhe será concedida outra **Folha de Respostas** de questões objetivas.
8. Preencha a **Folha de Respostas** de questões objetivas utilizando caneta esferográfica de tinta azul ou preta. Na **Folha de Respostas** de questões objetivas, preencha completamente o círculo correspondente à alternativa escolhida, conforme modelo:  

9. Será atribuído o valor ZERO à questão que contenha na **Folha de Respostas** de questões objetivas: dupla marcação, marcação rasurada, emendada ou com "X", não preenchida totalmente ou que não tenha sido transcrita.
10. A correção da prova objetiva será efetuada de forma eletrônica, considerando-se apenas o conteúdo da **Folha de Respostas** de questões objetivas.
11. Caso a Comissão julgue uma questão como sendo nula, os pontos serão atribuídos a todos os candidatos.
12. Não será permitida qualquer espécie de consulta.
13. Ao terminar a prova, **devolva** ao **Fiscal** de Sala este **Caderno de Questões**, juntamente com a **Folha de Respostas** de questões objetivas, e **assine a Lista de Presença**.
14. Na sala que apresentar apenas 1 (um) Fiscal, os 3 (três) últimos candidatos somente poderão ausentar-se da sala juntos, após a **assinatura** da **Lista de Encerramento** de provas.
15. **Assine** neste Caderno de Questões e **coloque** o número do seu documento de identificação (RG, CNH etc.).

Boa Prova!

Nº do doc. de identificação (RG, CNH etc.):

Assinatura do(a) candidato(a):

2016  
Universidade  
Federal de Alagoas  
(Edital nº 31/2016)



## PORTUGUÊS

### QUESTÃO 01



Disponível em: <<http://docplayer.com.br/>>. Acesso em: 14 jun. 2016.

Quantos conectivos conjuncionais existem no texto da gravura?

- A) 1
- B) 2
- C) 3
- D) 4
- E) 5

### QUESTÃO 02



Disponível em: <<http://monografias.brasilecola.uol.com.br/educacao/a-leitura-na-sala-aula-uma-proposta-trabalho-com-genero-tira.htm>>. Acesso em: 08 jul. 2016.

Ao observar a tirinha, é possível perceber que o verbo **rolar** adquiriu uma multiplicidade de sentidos. Essa multiplicidade de sentidos que uma mesma palavra pode apresentar, em diferentes contextos de uso, chama-se

- A) sinonímia.
- B) paronímia.
- C) polissemia.
- D) homonímia.
- E) ambiguidade.

### QUESTÃO 03

Quando começamos a recusar conscientemente o lixo da mídia, das opiniões e dos eventos, melhoramos nossa qualidade de vida de modo duradouro. Quem corre atrás de qualquer nova tendência ou moda leva uma vida muito cara, cansativa e uniforme. A coragem para ser diferente, por sua vez, economiza dinheiro e traz um sopro de autarquia – coisa que é cada vez mais um luxo neste nosso tempo sintonizado identicamente, homogeneizado.

SCHONBURG, Alexander. *Rico sem dinheiro*. São Paulo: Editora Gente, 2007, p. 133 (fragmento).

Assinale a alternativa correta em relação ao texto.

- A) A expressão “sopro de autarquia” pode também significar “prenúncio de austeridade”.
- B) O termo “homogeneizado”, no final do texto, quer dizer que o nosso tempo é abundante de pluralidades.
- C) A expressão “sintonizado identicamente” está associada por sinonímia à “a coragem para ser diferente”.
- D) O trecho “uma vida muito cara” pode ser substituído, sem mudanças de sentido, por “uma vida dispendiosa”.
- E) O trecho “começamos a recusar” pode ser substituído, sem mudanças de sentido, por “começamos a protelar”.

### QUESTÃO 04

#### Texto I

Pesquisa inédita realizada pela CNDL e SPC Brasil buscou avaliar o perfil dos brasileiros adimplentes e inadimplentes, sendo considerados como: a) adimplentes: aqueles que pagam regularmente suas compras e dificilmente têm seu nome negativado nos sistemas de proteção ao crédito. b) inadimplentes: aqueles que não pagam regularmente suas compras e, possivelmente, têm seu nome negativado nos sistemas de proteção ao crédito.

[...]

Disponível em: <[www.spcbrasil.org.br/](http://www.spcbrasil.org.br/)>. Acesso em: 12 jun. 2016.

#### Texto II

[...]


Pare de acumular dívidas. Corte os cartões de crédito e jogue os cheques fora, para não soltar uma borracha. Não peça mais cartões ou financiamentos. Fique longe de empréstimos consignados. Se não pode comprar algo hoje, também não pode amanhã [...].

Disponível em: <<http://pt.wikihow.com/>>. Acesso em: 12 jun. 2016.

Considerando a linguagem desses dois fragmentos textuais, verifica-se que

- A) a função da linguagem, no texto I, centra-se no referente e, no texto II, centra-se no receptor.
- B) a linguagem utilizada no texto I é informal, enquanto, no texto II, predomina a linguagem formal.
- C) a função da linguagem, centrada no código, está presente tanto no texto I, quanto no texto II.
- D) a linguagem utilizada no texto I é conotativa, enquanto, no texto II, predomina a linguagem denotativa.
- E) a função da linguagem, no texto I, centra-se no referente e, no texto II, centra-se no relato de informações reais.

### QUESTÃO 05



Disponível em: <[http://www2.uol.com.br/niquel/tiras\\_mes/2013/05/13.gif](http://www2.uol.com.br/niquel/tiras_mes/2013/05/13.gif)>. Acesso em: 14 jun. 2016.

Assinale a alternativa correta, considerando a tira.

- A) As mensagens que representam a linguagem verbal, na tira, relatam um fato atemporal e universal.
- B) O objetivo comunicativo dessa tira é, especialmente, envolver e/ou indicar o movimento de certas imagens no espaço.
- C) No fluxo da narrativa, os personagens da tira foram decompostos em segmentos, notadamente através da linguagem não verbal.
- D) A constituição da tira apresenta um sistema narrativo composto por dois códigos que atuam em constante interação: o visual e o verbal.
- E) Partindo da premissa de que a expressão fisionômica diz tudo, percebe-se que prevalece, na tira, a linguagem não verbal. Isso é justificado pelas mudanças expressivas dos personagens.

### QUESTÃO 06

O homem pode ser desculpado por sentir algum orgulho por ter subido, ainda que não por seus próprios esforços, ao topo da escala orgânica; e o fato de ter subido assim, em vez de ter sido primitivamente colocado lá, pode dar-lhe esperanças de ter um destino ainda mais alto em um futuro distante.

DARWIN, Charles. A descendência do homem (fragmento).  
Disponível em: <[http://bezerrademenezescruzalta.blogspot.com.br/2013\\_02\\_01archive.html](http://bezerrademenezescruzalta.blogspot.com.br/2013_02_01archive.html)>.  
Acesso em: 08 jul. 2016.

As mudanças observáveis no comportamento dos seres, acerca da evolução dos seres humanos, segundo a posição defendida pelo autor do fragmento textual, podem ser interpretadas como

- A) apenas uma ação de caráter social.
- B) desenvolvimento de aspectos culturais.
- C) consequência de um ato apenas social, não biológico.
- D) um ato consistente no desenvolvimento de capacidades cognitivas.
- E) consequência de um processo natural, biológico, não sendo um ato de vontade.

### QUESTÃO 07

Existe uma discussão mais que centenária, desnecessária e quase idiota na literatura brasileira: Capitu traiu Bentinho? Bentinho, que, depois de velho, ficou conhecido como Dom Casmurro. Invenção do Machado de Assis, considerado pelos acadêmicos um dos melhores escritores da língua portuguesa. [...]

PRATA, Mário. *Mário Prata entrevista uns brasileiros*. 1ª ed. Rio de Janeiro: Record, 2015 (fragmento).

No período: “Existe uma discussão mais que centenária, desnecessária e quase idiota na literatura brasileira...”, substituindo-se a forma verbal “Existe” por uma locução e “uma discussão” por “discussões”, obtém-se:

- A) Deve haver discussões mais que centenárias, desnecessárias e quase idiotas na literatura brasileira...
- B) Deve haver discussões mais que centenária, desnecessária e quase idiota na literatura brasileira...
- C) Devem haver discussões mais que centenárias, desnecessárias e quase idiotas na literatura brasileira...
- D) Deve existir discussões mais que centenárias, desnecessárias e quase idiotas na literatura brasileira...
- E) Devem existir discussões mais que centenária, desnecessária e quase idiota na literatura brasileira...

### QUESTÃO 08

De todas as situações de trânsito, os cruzamentos são as mais delicadas, pois testam sua habilidade de motorista até os limites, incluindo todas as condições simultaneamente. A área de cruzamento geralmente apresenta uma visibilidade reduzida; muitas vezes o condutor só consegue ver as pessoas e os veículos que cruzam a via quando já está muito perto deles.

A presença de equipamentos como “orelhões”, postes, lixeiras, bancas de jornal barracas de camelô e, até mesmo, cavaletes com propagandas, junto às esquinas, reduzem ainda mais a percepção dos movimentos de pessoas e veículos.

Ao se aproximar de um cruzamento, independentemente de existir algum tipo de sinalização, o condutor deve redobrar a atenção e reduzir a velocidade do veículo [...].

RICCI, Jairo Luis. *Manual da primeira habilitação*. Campo Grande: Trasntec (fragmento).

Dadas as afirmativas relativas ao texto,

- I. O texto objetiva especificamente informar sobre as condições adversas das estradas brasileiras.
- II. As ideias textuais foram organizadas com emprego de elementos coesivos entre os parágrafos.
- III. A oração: “... *incluindo todas as condições simultaneamente*” (1º parágrafo), apresenta-se reduzida. Para desenvolvê-la, é necessário o emprego de um pronome relativo.
- IV. A expressão “*até mesmo*”, (2º parágrafo), funciona como operador argumentativo, um introdutor de pressuposto. Parte-se de um pressuposto: o que vai ser demonstrado é o óbvio.

verifica-se que estão corretas apenas

- A) I, III e IV.
- B) III e IV.
- C) II e IV.
- D) II e III.
- E) I e II.

QUESTÃO 09



Disponível em: <<http://portancredo.blogspot.com.br/>>. Acesso em: 30 maio 2016.

Dadas as afirmativas a respeito da tira,

- I. O recurso linguístico utilizado pelo personagem é o discurso direto.
- II. As falas do personagem exemplificam o uso da linguagem em função predominantemente fática, uma vez que o elemento da comunicação centralizado é o canal.
- III. O vocábulo **que** em: “*Não é justo **que** uma mulher trabalhe...*” introduz uma oração subordinada substantiva subjetiva.
- IV. Em se tratando de noção temporal, o pronome **isso** em: “*Por que não faz **isso** à noite?...*”, de 2ª pessoa do discurso, indica tempo presente ou momento pontual.

verifica-se que estão corretas

- A) I e II, apenas.
- B) I e III, apenas.
- C) II e IV, apenas.
- D) III e IV, apenas.
- E) I, II, III e IV.

QUESTÃO 10

[...] “Nosso propósito nesta vida, portanto,” escreveu Santo Agostinho, ele próprio um pouco iogue, “é recuperar a saúde do olho do coração através do qual se pode ver Deus”.

**Assim como todas as grandes ideias filosóficas, essa é simples de entender**, mas praticamente impossível de absorver. Tudo bem – então somos todos um, e a divindade habita todos nós igualmente. Sem problemas. Entendido. Mas, agora, tente viver de acordo com isso. Tente pôr essa compreensão em prática 24 horas por dia. Não é tão fácil. E é por isso que, na Índia, parte-se do princípio de que você precisa de um instrutor para o seu ioga [...].

GILBERT, Elizabeth. *Comer, rezar e amar*. Tradução Fernanda Abreu. – Rio de Janeiro: Objetiva, 2008.

Dadas as afirmativas acerca do uso dos mecanismos linguísticos,

- I. A respeito da oração destacada no trecho, é linguisticamente adequado afirmar que ela expressa uma circunstância de comparação.
- II. No contexto: “*Nosso propósito nesta vida, portanto,* escreveu Santo Agostinho, **ele** próprio um pouco iogue,...”, o pronome sublinhado se refere a toda frase anterior, porque se trata de uma referência anafórica.
- III. Em: “*...**essa** é simples de entender, mas praticamente impossível de absorver...*”, o pronome demonstrativo em destaque é um mecanismo de coesão gramatical anafórico, uma vez que faz alusão à ideia mencionada no parágrafo anterior.

verifica-se que está(ão) correta(s) apenas

- A) I.
- B) II.
- C) III.
- D) I e II.
- E) I e III.

QUESTÃO 11

Se conhecêssemos a verdade, vê-la-íamos; tudo o mais é sistema e arredores. Basta-nos, se pensarmos, a incompreensibilidade do universo; querer compreendê-lo é ser menos que homens, porque ser homem é saber que não se compreende.

PESSOA, Fernando. *O livro do desassossego*. São Paulo: Companhia das Letras, 2011, p. 117.

Assinale a alternativa correta em relação aos aspectos formais da língua padrão culta.

- A) O termo “vê-la-íamos” é traduzido por “vimos a verdade”.
- B) O termo “Basta-nos” pode ser substituído por “Nos basta”.
- C) A expressão “não se compreende” pode ser substituída por “não compreende-se”.
- D) O ponto e vírgula utilizado após a expressão “vê-la-íamos” pode ser substituído por um ponto, sem causar mudança de sentido ao texto.
- E) O trecho “ser homem é saber que não se compreende” pode ser reescrito da seguinte forma: “ser homem é saber, que não se compreende”.

QUESTÃO 12

Em praias de **indiferença**

**Navega** o meu coração.

**Venho** desde a **adolescência**

Na mesma **navegação**.

[...]

MEIRELES, Cecília. *Constância do deserto*. Obra Poética. Rio de Janeiro: Nova Aguilar, 1995. p. 336.

Assinale a alternativa correta em relação aos vocábulos destacados nos versos do poema.

- A) Tanto **adolescência**, quanto **navegação**, são núcleos de indicadores circunstanciais.
- B) Tanto o sujeito de **navega**, como o sujeito de **venho**, encontra-se elíptico.
- C) Os dois verbos, que aparecem nos versos, apresentam-se como transitivos.
- D) O sujeito de **navega** encontra-se explícito no primeiro verso do poema.
- E) O vocábulo **indiferença** é núcleo de um adjunto adverbial.

QUESTÃO 13

[...] e este livro e o meu estilo são como os ébrios, guinam à direita e à esquerda, andam e param, resmungam, urram, gargalham, ameaçam o céu, escorregam e caem.

ASSIS, Machado de. *Memórias póstumas de Brás Cubas*. São Paulo: Martin Claret, 2010, p. 78.

No trecho, está em evidência a função

- A) metalinguística.
- B) referencial.
- C) apelativa.
- D) emotiva.
- E) fática.

QUESTÃO 14

papo de criança

-Tia, gostei muito da aula de hoje sobre o Japão - disse Je.

- Que bom, querida. E o que foi que você mais gostou?

- De você fantasiada de chinesa.



(Je, 6 anos)

Disponível em: <<http://www.vilamulher.com.br/familia/filhos/dialogos-de-criancas-viram-series-ilustradas-e-divertidas-m0315-700181.html>>. Acesso em: 17 jun. 2016.

Assinale a alternativa correta quanto à justificativa do emprego das vírgulas presentes no diálogo.

- A) As vírgulas isolam apostos.
- B) As vírgulas separam vocativos.
- C) As vírgulas indicam antecipação de termos.
- D) As vírgulas intercalam sujeitos da ação verbal.
- E) As vírgulas separam termos repetidos, de mesma função sintática.

QUESTÃO 15

**A química do amor**

Embora seja agradável pensar que seguimos o coração, a verdade é que a ciência tem explicações menos poéticas para as demandas românticas. Saiba como ela explica as questões amorosas, resultado de mecanismos puramente fisiológicos, que envolvem hormônios e receptores cerebrais. E por que nada disso vai importar quando você estiver apaixonado.

“Os homens devem saber que do cérebro, e só do cérebro, derivam prazer, alegria, riso e divertimento, assim como tristeza, pena, dor e medo”.

A frase foi dita por Hipócrates (460-377 a.C.) há milhares de anos, mas continua certa. Significa que aquele amor envolto em corações flutuantes, que foi incessantemente idealizado por escritores, poetas e cineastas não é bem do jeito que eles pintam. Esqueça o cupido, a sorte ou mesmo a união sublime e inexplicável de almas. “Nada é tão ao acaso, nem tão romântico”, diz Carmita Abdo, psiquiatra coordenadora do Projeto Sexualidade (ProSex) do Instituto de Psiquiatria do Hospital das Clínicas de São Paulo.

O amor nada mais é do que o resultado de uma complexa cadeia de reações químicas do cérebro, e existe com o intuito único de propagar a nossa espécie. Em outras palavras, amamos porque somos o resultado de um processo evolutivo bem sucedido: ao entrarmos em uma relação estável, as chances de criarmos com sucesso nossos descendentes são muito maiores.[...]

Disponível em: <<http://veja.abril.com.br/ciencia/a-quimica-do-amor/>>. Acesso em: 12 jun. 2016.

Com base nas ideias principais do texto, é correto afirmar que ele é predominantemente

- A) injuntivo.
- B) narrativo.
- C) descritivo.
- D) dialoal-conversacional.
- E) dissertativo-argumentativo.

## RACIOCÍNIO LÓGICO

### QUESTÃO 16

Um levantamento sobre a matrícula dos ingressos do curso de Doutorado em Física da Matéria Condensada no segundo semestre de 2016 constatou que não havia alunos matriculados nas disciplinas DF004 e DF005, 8 alunos estavam matriculados nas disciplinas DF001, DF002 e DF003, 13 alunos estavam matriculados nas disciplinas DF001 e DF002, 10 estavam matriculados em DF001 e DF003, 12 nas disciplinas DF002 e DF003 e não havia aluno matriculado em uma única disciplina.

Se a oferta de disciplinas para os alunos estava restrita àquelas citadas no texto, quantos alunos estavam matriculados em apenas duas disciplinas?

- A) 8
- B) 11
- C) 19
- D) 35
- E) 43

### QUESTÃO 17

#### Divisibilidade por 11

[...]

Um número é divisível por 11, caso a soma dos algarismos de ordem par subtraídos da soma dos algarismos de ordem ímpar, resultar em um número divisível por 11. Caso o resultado seja igual a 0, pode-se afirmar também que é divisível por 11.

Disponível em: <<http://escolakids.uol.com.br/divisibilidade-por-11.htm>>. Acesso em: 14 maio 2016.

Quantos números de cinco algarismos são múltiplos de 11 e terminam na centena 111?

- A) 4
- B) 7
- C) 8
- D) 9
- E) 10

### QUESTÃO 18

Dadas as afirmativas acerca das medidas de tendência central de uma série de dados não agrupados,

- I. Se elevarmos ao quadrado os dados da série, a média da série será elevada ao quadrado.
- II. Se duplicarmos os dados da série, a mediana da série será duplicada.
- III. Se dividirmos por dois os dados de uma série de moda única, a moda da série será dividida por dois.

verifica-se que está(ão) correta(s)

- A) I, apenas.
- B) III, apenas.
- C) I e II, apenas.
- D) II e III, apenas.
- E) I, II e III.

### QUESTÃO 19

Sandra e Laís, gêmeas idênticas, foram lotadas na mesma seção da instituição para a qual se submeteram a concurso público. No dia em que assumiram suas funções, foram informadas de que no sábado seguinte (aniversário das gêmeas, com comemoração de há muito definida) haveria um plantão de atendimento ao público, do qual participariam quatro funcionárias escolhidas através de sorteio. Se com a chegada das irmãs o setor passou a contar com dez funcionárias, qual a probabilidade de que Sandra e Laís não sejam escaladas para o plantão e possam, tranquilamente, comemorar seus natalícios?

- A)  $\frac{1}{2}$
- B)  $\frac{1}{3}$
- C)  $\frac{1}{5}$
- D)  $\frac{2}{15}$
- E)  $\frac{8}{15}$

**QUESTÃO 20**

**Padrões Internacionais de Tamanhos de Papel**

**Padrões para tamanhos de papel, como o ISO A4, são largamente utilizados em todo o mundo, hoje em dia. Este texto explica introdutoriamente o sistema de tamanho ISO 216.**

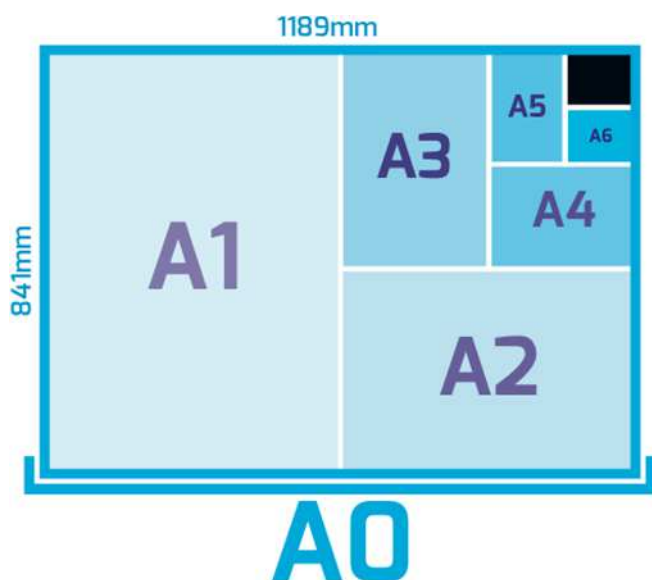
[...]

O ISO 216 define a série A de tamanhos de papel, baseando-se nestes princípios simples:

- a altura dividida pela largura de todos os formatos representa a raiz quadrada de dois (1.4142).
- o formato A0 tem uma área de um metro quadrado.
- o formato A1 é o A0 cortado em dois pedaços iguais. Em outras palavras, a altura de um papel A1 representa a largura de um A0; e a largura de um A1 representa a metade da altura de um A0.
- Todos os formatos menores da série A são definidos do mesmo modo. Se você cortar uma folha de papel de formato An por seu lado menor em dois pedaços iguais, obtém duas folhas do formato A(n+1), com tamanhos aproximados para milímetros.

Disponível em:

<<http://www.autodraw.com.br/andrewanderbastos/documents/Padr%C3%B5esInternacionaisdeTamanhosdePapelatuizado.pdf>>. Acesso em: 13 jun. 2016 (adaptado).



Disponível em: <<http://www.primfi.com.br/guia-de-impressao/formatos-de-papel/>>. Acesso em: 13 jun. 2016.


Considerando que, como mostra a figura, as dimensões do papel A0 em mm são 841 x 1189, temos que as dimensões do papel A10 em mm são

- A) 0,82 x 1,16.
- B) 1,64 x 2,32.
- C) 13 x 18.
- D) 26 x 37.
- E) 52 x 74.

**QUESTÃO 21**

**Aritmética do relógio**

Você sabia que é possível desenvolver uma aritmética observando um relógio de parede? Primeiro, vamos observar um relógio com o ponteiro das horas sobre o número 12.



Qual é a posição do ponteiro depois de 3 horas? Evidentemente, sobre o número 3. Assim, enquanto na aritmética usual, faríamos  $12 + 3 = 15$ , na aritmética do relógio temos  $12 + 3 = 3$ . Para outro exemplo, imagine o ponteiro sobre o número 10. Qual é a posição do ponteiro após 6 horas? Resposta: sobre o número 4 e, portanto, na aritmética do relógio,  $10 + 6 = 4$ .

Disponível em: <<http://marathoncode.blogspot.com.br/2012/03/aritmetica-do-relogio.html>>. Acesso em: 07 jun. 2016 (adaptado).

Infer-se do texto que a aritmética do relógio define uma operação no conjunto  $A = \{1, 2, 3, \dots, 12\}$  que associa a cada par  $(a, b)$  de elementos de A um elemento de A, denotado por  $a + b$ , dado por  $a + b = \text{Resto}(a + b, 12)$ , resto da divisão de  $a + b$  (na aritmética usual) por 12. Dadas as igualdades relativas à aritmética do relógio,

- I.  $6 + 8 = 2$ .
- II.  $9 + 9 = 6$ .
- III.  $11 + 10 = 8$ .

verifica-se que está(ão) correta(s)

- A) I, apenas.
- B) III, apenas.
- C) I e II, apenas.
- D) II e III, apenas.
- E) I, II e III.

### QUESTÃO 22

Considerando que as seqüências

1. (0, 3, 8, 15, 24, ...),
2. (4, 9, 25, 49, 121, ...),
3. (1213, 1312, 1231, 1321, 2131, 3121, 2123, 2321, 2132, 2312, 1232, 3212, 3132, ...)

são formadas a partir de uma lei de formação específica, dadas as afirmativas,

- I. O sétimo elemento da seqüência 1 é 48.
- II. O sexto elemento da seqüência 2 é 169.
- III. O décimo quarto elemento da seqüência 3 é 3231.

verifica-se que está(ão) correta(s)

- A) I, apenas.
- B) III, apenas.
- C) I e II, apenas.
- D) II e III, apenas.
- E) I, II e III.

### QUESTÃO 23

Dadas as proposições,

- I. Se 870 é múltiplo de 4, então 169 é quadrado perfeito.
- II. 870 é múltiplo de 4 e 169 é quadrado perfeito.
- III. 870 é múltiplo de 4 ou 169 é quadrado perfeito.
- IV. 870 é múltiplo de 4 se e somente se 169 é quadrado perfeito.

verifica-se que, à luz da lógica proposicional, têm valores lógicos verdadeiros

- A) I e III, apenas.
- B) I e IV, apenas.
- C) II e III, apenas.
- D) II e IV, apenas.
- E) I, II, III e IV.

### QUESTÃO 24

A tabela apresenta as alíquotas para cálculo do Imposto sobre as Rendas das Pessoas Físicas (IRPF), em vigor desde abril de 2015.

Base de cálculo (R\$)	Alíquota (%)
Até 1.903,98	-
De 1.903,99 até 2.826,65	7,5
De 2.826,66 até 3.751,05	15,0
De 3.751,06 até 4.664,68	22,5
Acima de 4.664,68	27,5

Disponível em: <<http://idg.receita.fazenda.gov.br/acesso-rapido/tributos/irpf-imposto-de-renda-pessoa-fisica>>. Acesso em: 16 jun. 2016 (adaptado).

Observe que, de acordo com a tabela, o cálculo do IRPF é escalonado, no sentido de que sobre a parcela da base de cálculo até R\$ 1.903,98 não incide imposto, sobre a parcela situada entre R\$ 1.903,99 e R\$ 2.826,65 incide uma alíquota de 7,5%, e assim sucessivamente. Que valor de imposto de renda incide sobre uma base de cálculo de R\$ 3.000,00?

- A) R\$ 26,00
- B) R\$ 69,20
- C) R\$ 95,20
- D) R\$ 285,90
- E) R\$ 450,00

### QUESTÃO 25

Suponha que as proposições sejam verdadeiras.

- p: Todo conselheiro do Conselho de Curadores faz parte da comunidade universitária (estudante, professor ou técnico administrativo) ou é indicado pelo Conselho Regional de Contabilidade.
- q: Todos os conselheiros que não são indicados pelo Conselho Regional de Contabilidade e são contabilistas são favoráveis à aprovação das contas do Reitor.
- r: O Contabilista Sérgio não recebeu nenhuma indicação do Conselho Regional de Contabilidade.

Dadas as afirmativas,

- I. Se o Contabilista Sérgio é conselheiro do Conselho de Curadores, então ele é professor.
- II. Se o Contabilista Sérgio é conselheiro do Conselho de Curadores, então ele não é técnico administrativo da universidade.
- III. Se o Contabilista Sérgio é conselheiro do Conselho de Curadores, então ele votará favoravelmente à aprovação das contas do Reitor.

verifica-se que é(são) inferência(s) correta(s) a partir das proposições p, q e r

- A) I, apenas.
- B) III, apenas.
- C) I e II, apenas.
- D) II e III, apenas.
- E) I, II e III.



## NOÇÕES DE ADMINISTRAÇÃO PÚBLICA

### QUESTÃO 26

[...] Os processos sociais já não mais fluem conectados linearmente, sob a lógica de uma comunicação hierarquizada, transmitida em forma de pirâmide, da cúspide à base, o que se afeiçoava e servia de conveniente modelo a uma disposição estamentária das sociedades, mas distintamente, todos esses processos se interconexionam, organizados em redes [...].

MOREIRANETO, Diogo de Figueiredo. Quatro paradigmas do direito administrativo pós-moderno: legitimidade, finalidade, eficiência, resultados. Belo Horizonte: Forum, 2008, p. 53.

A figura da pirâmide, aplicada à Administração Pública, está ligada ao modelo denominado como

- A) Governança Corporativa.
- B) Administração Gerencial.
- C) Administração Burocrática.
- D) Nova Administração Pública.
- E) Administração Público-Privada.

### QUESTÃO 27

No direito administrativo brasileiro, o desvio de finalidade ocorre quando

- A) o agente público retira, sem prévia anuência da autoridade competente, qualquer documento ou objeto da repartição.
- B) o agente político pratica o ato fora do âmbito de sua competência com o objetivo de favorecer ou de prejudicar alguém.
- C) a autoridade, de forma culposa ou dolosa, utiliza pessoal ou recursos materiais da repartição em serviços ou atividades particulares.
- D) a autoridade, embora competente para praticar o ato, vai além do permitido e exorbita no uso de suas faculdades administrativas.
- E) a autoridade, embora atuando nos limites de sua competência, pratica o ato por motivos ou com fins diversos daqueles objetivados pela lei ou exigidos pelo interesse público.

### QUESTÃO 28

A Lei nº 8.429/92 dispõe sobre as sanções aplicáveis aos agentes públicos nos casos de enriquecimento ilícito no exercício de mandato, cargo, emprego ou função na administração pública direta, indireta ou fundacional. Considerando o que dispõe esta lei, afirmar que um agente público praticou uma das condutas enquadradas nessa lei como improbidade administrativa significa dizer que ele praticou

- A) ilícito civil.
- B) crime comum.
- C) contravenção penal.
- D) crime contra a ordem tributária.
- E) crime contra a Administração Pública.

### QUESTÃO 29

Considere a seguinte situação: Paulo da Silva, servidor federal, foi surpreendido com a notícia de que a Administração Federal, com vista ao princípio da publicidade, pretende divulgar em seu site na internet o valor dos correspondentes vencimentos e vantagens pecuniárias dos seus servidores. Nesse contexto e diante dos princípios que regem a Administração Pública, é correto afirmar:

- A) a publicação será legítima apenas se, em vez dos nomes dos servidores, constar somente a matrícula e a lotação.
- B) a publicação será legítima apenas se a remuneração dos servidores estiver desacompanhada dos respectivos nomes.
- C) a divulgação pela Administração de nomes dos seus servidores e do valor dos correspondentes vencimentos e vantagens pecuniárias é legítima.
- D) embora a divulgação seja legítima, a Administração Pública tem o dever de suprimir totalmente as informações de qualquer servidor que se sinta prejudicado.
- E) a situação revela conflito entre intimidade e publicidade, de modo que a Administração não pode publicar os nomes dos seus servidores e o valor dos correspondentes vencimentos.

### QUESTÃO 30

Assinale a alternativa que apresenta as diferenças entre serviço público e poder de polícia.

- A) O primeiro é prestado sob regime de direito público, enquanto o segundo, sob regime de direito privado.
- B) O primeiro é atividade típica da Administração Pública, ao passo que o segundo configura-se como atividade atípica.
- C) O primeiro é executado apenas pela administração direta, enquanto que o segundo não pode ser executado por entidades autárquicas.
- D) O primeiro é indelegável aos particulares, ao passo que o segundo pode ser delegado a particulares por meio de contrato administrativo precedido de licitação.
- E) O primeiro é um oferecimento de comodidade material diretamente ao administrado, enquanto que o segundo é uma limitação administrativa ao uso da liberdade e da propriedade.

### QUESTÃO 31

A respeito das semelhanças e diferenças entre as Empresas Públicas e as Sociedades de Economia Mista, assinale a alternativa correta.

- A) As Empresas Públicas e as Sociedades de Economia Mista têm em comum o fato de serem fundações públicas.
- B) As Empresas Públicas e as Sociedades de Economia Mista têm em comum o fato de serem autarquias públicas.
- C) A principal diferença entre as Empresas Públicas e as Sociedades de Economia Mista é a composição do capital, que é, no primeiro caso, exclusivamente público.
- D) As Empresas Públicas distinguem-se das Sociedades de Economia Mista, porque somente as primeiras são pessoas jurídicas autônomas com direitos e obrigações próprias.
- E) As Empresas Públicas distinguem-se das Sociedades de Economia Mista, porque as primeiras são órgãos da administração direta, ao passo que as segundas são da administração indireta.

### QUESTÃO 32

De acordo com a Lei nº 8.429/92, independentemente das sanções penais, civis e administrativas previstas na legislação específica, o responsável pelo ato de improbidade administrativa que importa enriquecimento ilícito, fica sujeito às seguintes penalidades, que podem ser aplicadas isolada ou cumulativamente, de acordo com a gravidade do fato:

- A) ressarcimento integral do dano, se houver, perda da função pública, suspensão dos direitos políticos de oito a dez anos, pagamento de multa civil de até duas vezes o valor do dano e proibição de contratar com o Poder Público ou receber benefícios ou incentivos fiscais ou creditícios, direta ou indiretamente, ainda que por intermédio de pessoa jurídica da qual seja sócio majoritário, pelo prazo de três anos.
- B) ressarcimento integral do dano, se houver, perda da função pública, suspensão dos direitos políticos de três a cinco anos, pagamento de multa civil de até cem vezes o valor da remuneração percebida pelo agente e proibição de contratar com o Poder Público ou receber benefícios ou incentivos fiscais ou creditícios, direta ou indiretamente, ainda que por intermédio de pessoa jurídica da qual seja sócio majoritário, pelo prazo de três anos.
- C) perda dos bens ou valores acrescidos ilicitamente ao patrimônio, ressarcimento integral do dano, quando houver, perda da função pública, suspensão dos direitos políticos de oito a dez anos, pagamento de multa civil de até cinco vezes o valor do acréscimo patrimonial e proibição de contratar com o Poder Público ou receber benefícios ou incentivos fiscais ou creditícios, direta ou indiretamente, ainda que por intermédio de pessoa jurídica da qual seja sócio majoritário, pelo prazo de cinco anos.
- D) perda dos bens ou valores acrescidos ilicitamente ao patrimônio, ressarcimento integral do dano, quando houver, perda da função pública, suspensão dos direitos políticos de oito a dez anos, pagamento de multa civil de até três vezes o valor do acréscimo patrimonial e proibição de contratar com o Poder Público ou receber benefícios ou incentivos fiscais ou creditícios, direta ou indiretamente, ainda que por intermédio de pessoa jurídica da qual seja sócio majoritário, pelo prazo de dez anos.
- E) ressarcimento integral do dano, perda dos bens ou valores acrescidos ilicitamente ao patrimônio, se concorrer esta circunstância, perda da função pública, suspensão dos direitos políticos de cinco a oito anos, pagamento de multa civil de até duas vezes o valor do dano e proibição de contratar com o Poder Público ou receber benefícios ou incentivos fiscais ou creditícios, direta ou indiretamente, ainda que por intermédio de pessoa jurídica da qual seja sócio majoritário, pelo prazo de cinco anos.

### QUESTÃO 33

#### Ministério da Defesa negocia criação de duas novas estatais

O Ministério da Defesa negocia com a Casa Civil e com a área econômica a criação de duas novas empresas públicas que ficarão sob a alçada do Comando da Aeronáutica. Uma é a Empresa de Projetos Aeroespaciais do Brasil S.A. (Alada), voltada para projetos e novas tecnologias do setor, inclusive satélites e radares. A outra, ainda sem nome, irá operacionalizar parte das atividades de controle do espaço aéreo.

Um dos objetivos das novas empresas é criar condições legais para que os recursos obtidos com as tarifas aeroportuárias entrem diretamente nos cofres da Aeronáutica, sem passar antes pelo Tesouro Nacional.

Segundo o ministro da Defesa, Raul Jungmann, a criação das duas empresas públicas é "parte de um eixo muito mais amplo para trabalhar fontes alternativas e novos modelos de financiamento". Ele lembra que é preciso "criatividade" para enfrentar dois fatores: o país convive com uma grave crise fiscal e não há recursos para investimento, mas a Aeronáutica opera com alta tecnologia, que tem uma dinâmica muito rápida e risco contínuo de obsolescência. [...]

Disponível em: <<http://epocanegocios.globo.com/Brasil/noticia/2016/06/ministerio-da-defesa-negocia-criacao-de-duas-novas-estatais.html>>. Acesso em: 19 jun. 2016.

Considerando o texto, os conceitos e o regime jurídico da Administração Pública, assinale a alternativa correta a respeito da criação de empresas estatais.

- A) As novas Empresas Públicas, uma vez criadas, serão órgãos autônomos e passarão a compor a Administração Indireta.
- B) A criação de novas Empresas Públicas representa uma forma de descentralização da Administração Pública, mediante criação de novas pessoas jurídicas.
- C) A criação de duas novas Empresas Públicas, a que se refere o texto, é forma de centralização da Administração Pública, mediante a criação de órgãos independentes.
- D) A criação de empresas estatais é uma forma de desconcentração da Administração Pública voltada à implantação de um modelo gerencial no poder público.
- E) A criação das duas estatais, a que se refere o texto, pode ser descrita como criação de dois novos órgãos públicos, que farão parte do Ministério da Defesa, pessoa jurídica de direito público.

### QUESTÃO 34

A aplicação de penalidade de advertência ao servidor refere-se ao exercício de quais poderes administrativos?

- A) Hierárquico e disciplinar.
- B) De autotutela e de polícia.
- C) De Polícia e discricionário.
- D) Disciplinar e de autotutela.
- E) De avocação e discricionário.

### QUESTÃO 35

Segundo a Lei nº 8.112/90, perde o direito à pensão por morte

- A) o filho menor aprovado em estágio ou programa de qualificação profissional oficialmente estabelecido por universidades ou institutos federais de educação, com percepção de remuneração com recursos do Tesouro da União em valor não inferior a 01 (um) salário mínimo nacional, enquanto vigente o contrato de estágio do programa de qualificação.
- B) o cônjuge divorciado ou separado judicialmente ou de fato, se contrair novas núpcias ou se passar a perceber pensão alimentícia estabelecida judicialmente, e o filho menor, irmão ou enteado inválido que passar a viver às expensas de outro servidor da administração pública federal ou vier a ser considerado apto para o trabalho mediante laudo emitido por perícia médica oficial.
- C) o filho maior até vinte e quatro anos que, na condição de estudante, for aprovado em estágio ou programa de qualificação profissional oficialmente estabelecido por universidades ou institutos federais de educação, com percepção de remuneração com recursos do Tesouro da União em valor não inferior a 01 (um) salário mínimo nacional, enquanto vigente o contrato de estágio do programa de qualificação.
- D) após o trânsito em julgado, o beneficiário condenado pela prática de crime de que tenha dolosamente resultado a morte do servidor; e o cônjuge, o companheiro ou a companheira se comprovada, a qualquer tempo, simulação ou fraude no casamento ou na união estável, ou a formalização desses com o fim exclusivo de constituir benefício previdenciário, apuradas em processo judicial no qual será assegurado o direito ao contraditório e à ampla defesa.
- E) após o trânsito em julgado, o beneficiário condenado pela prática de crime de que tenha culposa ou dolosamente resultado a morte do servidor; o cônjuge, o companheiro ou a companheira se comprovada, a qualquer tempo, simulação ou fraude no casamento ou na união estável, ou a formalização desses com o fim exclusivo de constituir benefício previdenciário, apuradas em processo judicial, no qual será assegurado o direito ao contraditório e à ampla defesa; e o curatelado ou tutelado, depois de cessada a curatela ou tutela.

## CONHECIMENTOS ESPECÍFICOS

### QUESTÃO 36

A Sistemática Vegetal tem por finalidade estudar as diversidades das plantas, através da organização em grupo, com base em suas características morfológicas, relações evolutivas e suas afinidades.

A Sistemática Vegetal consiste na

- I. classificação de um táxon;
- II. nomenclatura de um táxon;
- III. identificação de um taxon.

Dos itens, verifica-se que está(ão) correto(s)

- A) I, II e III.
- B) II e III, apenas.
- C) I e II, apenas.
- D) III, apenas.
- E) I, apenas.

### QUESTÃO 37

O termo Herbário, originário do Latim, tem seu significado descrito em qual das alternativas?

- A) Coleção estática de espécimes de plantas que são montadas em cartolinas e armazenadas em armários.
- B) Coleção dinâmica de espécimes de fungos ou de plantas, de modo geral desidratados ou preservados em meio líquido.
- C) Coleção de plantas herbáceas destinada a servir como documentação da diversidade vegetal de uma determinada região.
- D) Coleção dinâmica de ervas que são utilizadas pela população em geral ou por comunidades tradicionais para fins medicinais.
- E) Coleção dinâmica de espécimes de “musgos”, “antóceros”, “hepáticas”, entre outros, representantes de vegetais sempre avasculares.

### QUESTÃO 38

Dadas as afirmativas sobre as coleções botânicas preservadas,

- I. Exibem características morfológicas de uma espécie.
- II. Auxiliam os estudos sobre a preservação de uma determinada área.
- III. São indispensáveis para a formação do taxonomista.
- IV. Possuem dados sobre uma espécie em um determinado tempo e espaço geográfico.

conclui-se que estão corretas

- A) I, apenas.
- B) I e III, apenas.
- C) II e IV, apenas.
- D) II, III e IV, apenas.
- E) I, II, III e IV.

### QUESTÃO 39

Qual a recomendação para a manutenção das coleções de um Herbário em perfeito estado de conservação?

- A) Fumigação periódica, com produtos químicos.
- B) Controle de pragas, exclusivamente, com o uso de naftalina.
- C) Climatização do ambiente com a umidade em torno dos 80%.
- D) Envio periódico de amostras para uma empresa especializada no controle de pragas.
- E) Lavagem regular do chão e armários para eliminação das partículas em suspensão.

### QUESTÃO 40

Recomenda-se, quando da coleta de material botânico, que sejam coletados mais de um ramo de um mesmo indivíduo, no caso de espécies que apresentam hábito arbustivo, arbóreo ou afim. Como são denominados esses ramos extras coletados, após montados?

- A) Isótipos.
- B) Neótipos.
- C) Holótipos.
- D) Duplicatas.
- E) Ramos acessórios.

### QUESTÃO 41

A identificação de um espécime é feita através da

- I. observação dos caracteres vegetativos e reprodutivos;
- II. utilização de referências bibliográficas especializadas;
- III. comparação com espécimes conhecidos depositados em herbário.

Dos itens, verifica-se que está(ão) correto(s)

- A) I, II e III.
- B) II e III, apenas.
- C) I e III, apenas.
- D) I e II, apenas.
- E) II, apenas.

### QUESTÃO 42

A coleta de algumas plantas requer procedimentos diferenciados. Dadas as afirmativas,

- I. Nos cactos colunares, recomenda-se fazer secção longitudinal com a retirada do parênquima e secção transversal preservando as costelas intactas.
- II. Nas bromélias, a coleta restringe-se à folha de tamanho maior e à inflorescência.
- III. Nas orquídeas, apenas as flores devem ser coletadas e preservadas em meio líquido, utilizando-se álcool 70% e glicerina.

verifica-se que está(ão) correta(s) apenas

- A) II e III.
- B) I e III.
- C) III.
- D) II.
- E) I.

### QUESTÃO 43

Atualmente as coleções botânicas estão passando por um intenso processo de informatização, sendo de fundamental importância o conhecimento sobre os itens presentes em uma etiqueta de coleta. Na etiqueta apresentada, verifica-se que



- A) A. Lins, L. Tostes, R. Vilhena-Potiguara e L.C. Lobato são os coletores do espécime.
- B) a identificação da amostra foi feita em 28 de outubro de 2005.
- C) (Arruda) Schott são os coletores do espécime.
- D) A. Lins é o autor do nome do espécime.
- E) A. Lins é único coletor do espécime.

### QUESTÃO 44

Para a coleta padrão dos espécimes de fanerógamos arbóreos e arbustivos

- A) deverá ser feita a retirada de cinco duplicatas em plantas diferentes.
- B) somente é necessária a retirada de um ramo independentemente do hábito da planta.
- C) deverá ser feita, se possível, a coleta de cinco duplicatas de uma mesma planta.
- D) somente é necessária a retirada de um ramo, em caso de fanerógamos arbóreos.
- E) somente é necessária a retirada de um ramo, em caso de fanerógamos arbustivos.

### QUESTÃO 45

Um herbário pode possuir várias coleções, dentre elas, as que permitem os estudos de frutos, de pólen e de madeira, denominadas, respectivamente,

- A) carpoteca, hermatoteca e xiloteca.
- B) carpoteca, palinoteca e xiloteca.
- C) espermatoteca, palinoteca e xiloteca.
- D) exsicatas, carpoteca e palinoteca.
- E) exsicatas, espermatoteca e carpoteca.

### QUESTÃO 46

As exsicatas de plantas vasculares obedecem às seguintes padronizações:

- I. folha de montagem de cartolina branca, na qual é fixado o espécime, a etiqueta na parte inferior direita e um pequeno envelope na parte superior esquerda;
- II. capa branca de papel 40kg que protege a exsicata e contém o nome do gênero no canto inferior direito e sobre ela uma capa de papel madeira com o nome da espécie;
- III. a capa branca de papel 40kg que protege a exsicata e contém o nome da espécie e sobre ela uma capa de papel madeira com o nome do gênero.

Dos itens, verifica-se que estão corretos apenas

- A) I.
- B) II.
- C) I e II.
- D) I e III.
- E) II e III.

### QUESTÃO 47

São denominados órgãos vegetativos, em uma Angiosperma, aqueles não diretamente relacionados à reprodução sexuada. Assinale a alternativa correta.

- A) Folhas são sempre órgãos indeterminados e, por possuírem meristema, crescem indefinidamente.
- B) O caule nunca realiza o processo fotossintético, sendo essa função desempenhada, exclusivamente, pelas folhas.
- C) Por ser o órgão responsável pelo crescimento em altura das plantas, o caule nunca assume uma posição subterrânea.
- D) Raiz é um órgão subterrâneo, cuja principal função é a fixação do organismo ao solo e está sempre dividida em nó e entrenó.
- E) Caule e raiz apresentam crescimento indeterminado e podem ser diferenciados, principalmente, pela presença de gemas no primeiro.

### QUESTÃO 48

A secagem dos espécimes deve começar o mais cedo possível, após a coleta, em estufa elétrica ou aquecida por lâmpadas. Assinale a alternativa correta sobre o processo de desidratação.

- A) Para alguns fungos, utiliza-se estufa de lâmpadas a 60°C.
- B) Deve-se impedir a circulação de ar entre os espécimes prensados.
- C) O tempo de desidratação de um espécime depende de sua natureza e do tipo da estufa.
- D) Todos os espécimes devem ser levados à estufa, independentemente do grupo ao qual pertença.
- E) O tempo máximo de desidratação não deve ultrapassar 8 horas, independentemente do grupo ao qual pertença.

### QUESTÃO 49

Os caracteres morfológicos são importantes na identificação dos diversos grupos de plantas. Para elaboração de chaves dicotômicas especializadas em fanerógamos, faz-se necessário conhecimento sobre a raiz, caule, folhas, flores e frutos.

Dadas as afirmativas com base nesses caracteres morfológicos,

- I. Haustórios e pneumatóforos são adaptações de raízes.
- II. Cladódios estão incluídos na classificação dos caules aéreos erguidos.
- III. As folhas apresentam consistência coriácea e crassa, somente.
- IV. As pétalas, sépalas e brácteas são adaptações de folhas.

verifica-se que está(ão) corretas

- A) I, II, III e IV.
- B) I, II e IV, apenas.
- C) III e IV, apenas.
- D) I e III, apenas.
- E) II, apenas.

### QUESTÃO 50

Nas coletas de material botânico para preparação de coleções, recomenda-se o recolhimento

- I. da fronde inteira, e, se possível, com rizoma nas Samambaias;
- II. apenas das folhas micrófilas nas Licófitas;
- III. dos gametófitos com esporófitos nas Briófitas;
- IV. das macroalgas marinhas bentônicas nos recifes de corais.

Dos itens, verifica-se que estão corretos, apenas

- A) I e III.
- B) I e IV.
- C) II e III.
- D) II e IV.
- E) I, III e IV.

### QUESTÃO 51

Algumas famílias de Angiospermas, tais como Iridaceae, Xyridaceae, entre outras, apresentam flores com pétalas extremamente delicadas que caem à medida que são manuseadas. Nesses casos, é recomendado que

- A) as flores sejam descartadas e substituídas por uma foto que melhor ilustrará suas características.
- B) as flores sejam descartadas para que não prejudiquem a boa montagem das demais partes do espécime.
- C) as flores tenham suas pétalas bem coladas no momento da montagem, evitando-se assim, sua queda.
- D) as flores sejam armazenadas em um envelope, preferencialmente de papel manteiga, antes da montagem do espécime.
- E) espécimes dessas famílias não devem ser montados, mas apenas preservados em meio líquido, por exemplo, em uma solução de álcool a 70%.

### QUESTÃO 52

Um rapaz desenhou no tronco de uma árvore um coração. Alguns anos depois ele voltou ao local e encontrou a mesma árvore, agora dois metros mais alta. Procurou pelo desenho que havia feito e verificou que ele se encontrava



- A) praticamente a mesma altura que estava anos atrás e mais largo do que comprido.
- B) praticamente na mesma altura que estava anos atrás e, proporcionalmente, mais comprido do que largo.
- C) a uma altura de aproximadamente dois metros a mais do que quando ele fez o desenho.
- D) a uma altura de cerca de um metro a mais e com o dobro do tamanho que tinha anos atrás.
- E) a uma altura de aproximadamente dois metros a mais e com o dobro do comprimento que tinha anos atrás.

### QUESTÃO 53

No processo de informatização de coleções de um Herbário, utilizam-se planilhas com alguns campos padrão. Qual o correto preenchimento desses campos?

- A) Não é fundamental colocar na planilha a determinação mais recente do espécime, mas sim a primeira determinação que foi feita para aquele material.
- B) O campo "Determinador" deve ser preenchido com o nome completo do autor do nome da espécie e não apenas pela abreviação, por exemplo Lineu, no lugar de L.
- C) Quando há mais de um coletor para aquela coleção é necessário que haja um número de coleta para cada um dos coletores, ou seja, para o principal e para os adicionais.
- D) Informações sobre o espécime em si, bem como informações sobre a localidade onde foi feita a coleta, como o estado, o município, entre outras, devem ser colocadas no campo de "Descrição da planta".
- E) O código a ser colocado na coluna "Código da instituição de origem" é o do Herbário que está sendo informatizado, mesmo que o material que você tenha em mãos seja originalmente de outro Herbário.

### QUESTÃO 54

A Botânica Sistemática é o ramo da Ciência que estuda a diversidade das plantas por meio da sua organização em grupos, com base em suas relações evolutivas. Essa área do conhecimento está passando por uma das suas épocas mais produtivas, em termos de geração de novos conhecimentos. Assinale a alternativa correta sobre as Angiospermas.

- A) Atualmente, são divididas em Monocotiledôneas e Dicotiledôneas.
- B) Dependem, exclusivamente, de algum agente polinizador biótico para se reproduzirem.
- C) Apresentam apenas reprodução sexuada, por meio dos gametas produzidos nas suas flores.
- D) Constituem um grupo monofilético e coeso, com várias autapomorfias morfológicas e moleculares.
- E) Foram descobertas no Século XVIII, por Carl Linnaeus, na sua importante obra *Systema Naturae*, publicada em 1735.

### QUESTÃO 55

Os espécimes coletados recebem uma numeração vinculada

- A) ao local de coleta, obedecendo à sequência crescente da numeração do caderno de campo.
- B) ao nome do coletor, obedecendo à numeração crescente e sequencial do caderno de campo.
- C) ao nome do coletor, com numeração diferente para duplicatas de um mesmo espécime.
- D) a cada grupo de plantas, seguindo a sequência crescente do caderno de campo.
- E) ao hábito da planta, seguindo a sequência crescente do caderno de campo.

### QUESTÃO 56

A herborização é uma sequência de procedimentos de preparação da exsicata. Durante a herborização,

- I. a amostra deve ser colocada entre folhas de jornais dobradas, com as devidas informações;
- II. quando a amostra ultrapassar o tamanho do jornal, dobra-se a planta ainda verde, em forma de N ou V;
- III. os espécimes de briófitas, após a coleta, são acondicionados em sacos de papel madeira e levados à estufa a 60°C para desidratação.

Dos itens, verifica-se que estão corretos apenas

- A) I.
- B) II.
- C) I e II.
- D) I e III.
- E) II e III.


### QUESTÃO 57

Atualmente, a maioria dos Herbários do Brasil e do mundo organizam sua coleção de Espermatófitas, de acordo com a

- A) ordem de coleta do material.
- B) proposta de classificação de famílias de Cronquist, 1980.
- C) ordem alfabética de gêneros a que pertencem os materiais.
- D) ordem alfabética da família a que pertencem os espécimes.
- E) ordem alfabética dos principais clados do APG ("The Angiosperm Phylogeny Group").

**QUESTÃO 58**

Baseado na etiqueta abaixo e nos campos apresentados para informatização desse material, qual das tabelas apresenta seus campos corretamente preenchidos?

 <p><b>UNIVERSIDADE FEDERAL DE ALAGOAS</b> <b>HERBÁRIO PROF. HONÓRIO MONTEIRO/MUFAL</b></p>	
<b>MACEIÓ/ALAGOAS</b>	<b>BRASIL</b>
<p><i>Ludwigia cf. erecta</i> (L.) H. Hara <b>ONAGRACEAE</b>  <b>Det. W.T.C.C. Santos 05/08/2014</b></p>	
<p>Brasil, Alagoas, União dos Palmares, Estrada para Serra da Barriga. 68°54'78"W, 81°49'28"S. 200m alt.</p>	
<p>Subarbusto ca. de 1,5 m de altura; flores tetrâmeras; anteras brancas; caule e hipanto vináceos.</p>	
<p><b>Col:</b> Araújo, C.B.L. 84  <b>Data:</b> 31.07.2013 <span style="float: right;">MUFAL 005342</span></p>	

**A)**

Acrônimo	Coletor	Data de Coleta	Município	Localidade	Latitude	Longitude	Altitude
MUFAL	Araújo, C.B.L	31/07/2013	União dos Palmares	Serra da Barriga	68°54'78"W	81°49'28"S	200m

**B)**

Acrônimo	Coletor	Data de Coleta	Município	Localidade	Latitude	Longitude	Altitude
MUFAL	Araújo, C.B.L	31/07/2013	União dos Palmares	Estrada para a Serra da Barriga	81°49'28"S	68°54'78"W	200m

**C)**

Acrônimo	Coletor	Data de Coleta	Município	Localidade	Latitude	Longitude	Altitude
UFAL	H. Hara	05/08/2014	Maceió	União dos Palmares	81°49'28"S	68°54'78"W	200m

**D)**

Acrônimo	Coletor	Data de Coleta	Município	Localidade	Latitude	Longitude	Altitude
UFAL	W.T.C.C. Santos	31/07/2013	União dos Palmares	Estrada para a Serra da Barriga	68°54'78"W	81°49'28"S	200m

**E)**

Acrônimo	Coletor	Data de Coleta	Município	Localidade	Latitude	Longitude	Altitude
UFAL	W.T.C.C. Santos	05/08/2014	Maceió	União dos Palmares	81°49'28"S	68°54'78"W	200m

### QUESTÃO 59

A preparação de uma coleção botânica seca obedece a uma série de procedimentos, que se inicia com a coleta e prossegue na seguinte ordem:

- A) prensagem, montagem, desidratação e identificação.
- B) prensagem, desidratação, montagem e identificação.
- C) desidratação, identificação, prensagem e montagem.
- D) montagem, prensagem, desidratação e identificação.
- E) identificação, desidratação, montagem e prensagem.

### QUESTÃO 60

O Herbário é uma instituição dinâmica, que pode receber, doar e emprestar coleções, a fim de, principalmente, enriquecer o acervo e atualizar as identificações. Sobre a dinâmica de um Herbário, pode-se afirmar:

- A) o intercâmbio entre coleções envolve doações ou permutas de duplicatas e processa-se de herbário para herbário.
- B) não é necessário que se estipule um prazo para devolução das coleções emprestadas, já que o material irá para outro herbário.
- C) não é permitida a remessa de material para herbários do exterior, tendo em vista que o Ministério da Agricultura não autoriza tal procedimento.
- D) na ausência do curador, qualquer pessoa que trabalhe no herbário pode decidir sobre o empréstimo do material solicitado, dinamizando assim, a rotina do trabalho.
- E) a guia de remessa do material de empréstimo deve apresentar apenas os dados da instituição de origem e a do destino do material, bem como os nomes dos seus respectivos curadores.