

CONCURSO PÚBLICO - 01/2016



INSTITUTO
LEGATUS



011 - DIGITADOR

LEIA ATENTAMENTE AS INSTRUÇÕES SEGUINTE

Informações ao candidato:

- Para a realização desta prova, você está recebendo este CADERNO DE QUESTÕES. No momento oportuno, lhe será entregue a sua FOLHA DE RESPOSTAS personalizada.
- Verifique se este CADERNO DE QUESTÕES corresponde à sua opção de cargo e possui 40 (quarenta) questões, numeradas de 01 a 40. Do contrário, solicite outro ao FISCAL, imediatamente. Não serão aceitas reclamações posteriores.
- Para cada questão existe apenas uma resposta correta, que deverá ser assinalada na FOLHA DE RESPOSTAS, com caneta esferográfica de tinta azul ou preta. Mais de uma resposta assinalada implica na anulação da questão.
- Você terá 04 (quatro) horas para responder a todas às questões e preencher a FOLHA DE RESPOSTAS.
- Nenhum candidato poderá sair da sala antes de decorridos 60 (sessenta) minutos do início da prova, ressalvados os casos de emergência médica.
- O PORTE de quaisquer fontes de consulta, aparelhos de comunicação - inclusive telefone celular - e/ou de registro de dados, no recinto da prova, a qualquer momento, caracteriza TENTATIVA DE FRAUDE, procedendo-se à retirada imediata do candidato e a sua ELIMINAÇÃO SUMÁRIA do concurso. Será igualmente excluído o candidato surpreendido em comunicação com outros candidatos.
- Ao concluir a prova, o candidato terá que devolver a FOLHA DE RESPOSTAS devidamente ASSINADA, bem como este CADERNO DE QUESTÕES. A não devolução de qualquer um deles implicará na eliminação do candidato.
- Os 03 (três) últimos candidatos a concluírem a prova deverão sair juntos e assinar em local apropriado na ATA DA PROVA. Não deixe de também assinar a LISTA DE FREQUÊNCIA.
- Este CADERNO DE QUESTÕES e o GABARITO OFICIAL serão divulgados em até 02 (dois) dias úteis após a aplicação desta prova, no endereço eletrônico www.institutolegatus.com.br, conforme Edital do Concurso.

PREFEITURA MUNICIPAL DE PASSAGEM FRANCA DO PIAUÍ
Concurso Público – 01/2016

01	02	03	04	05	06	07	08	09	10	11	12	13	14	15	16	17	18	19	20

21	22	23	24	25	26	27	28	29	30	31	32	33	34	35	36	37	38	39	40



www.institutolegatus.com.br

LÍNGUA PORTUGUESA

Leia o texto para responder às questões de 01 a 10:

Para criar filhos mais saudáveis e felizes

Na tentativa de serem “bons pais”, muitos erram apesar das boas intenções: investem em uma rotina cheia de

RONSTIK/SHUTTERSTOCK



compromissos escolares e extracurriculares para a criança, envolvem-se nas dificuldades dos filhos a ponto de querer resolvê-las ou, ainda, deixam de cuidar de si com a justificativa de que é preciso cuidar do outro. Especialistas apontam atitudes que podem prejudicar o desenvolvimento de habilidades necessárias para uma vida adulta mais feliz e autônoma

1. Permitir momentos de ócio e tédio.

Escola, esporte, cursos extracurriculares. Muitas crianças têm agendas dignas de adultos muito atarefados, com poucas horas livres ao longo do dia. Até mesmo nos fins de semana e férias, que não raro são pré-programados com passeios e viagens. Efeito da nossa cultura, que não vê com bons olhos “não ter o que fazer”. No entanto, estudos sugerem que seguir rotina cheia de compromissos desde cedo pode prejudicar a criança. Um deles, publicado na *Frontiers of Psychology* em 2014, relaciona a quantidade de atividades estruturadas, como aulas de futebol ou dança, no dia a dia de crianças de 6 anos ao menor desenvolvimento de uma “função executiva autodirigida”. Basicamente, esse processo mental ajuda os pequenos a regular emoções e definir e atingir metas por conta própria, além de ser associado a maior estabilidade emocional e profissional na vida adulta. O que os pais podem fazer então? “Deixe que seus filhos caiam na monotonia e descubram algo para fazer por conta própria”, sugere o psicólogo Michael Ungar, codiretor do Centro de Pesquisa de Resiliência da Universidade Dalhousie, em Nova Escócia. “O tédio num contexto hiperestimulado pode permitir exercer a criatividade e desenvolver a iniciativa, a persistência e a sensação de que podem influenciar o mundo”, explica.

2. Deixar que resolvam problemas.

Não são poucos os pais excessivamente protetores, que se envolvem nas dificuldades cotidianas dos filhos além da conta. A superproteção não favorece o desenvolvimento de habilidades que serão necessárias na vida adulta, como autonomia e resiliência. Pesquisas no campo da autodeterminação relacionam a

superproteção a níveis mais elevados de ansiedade e depressão, notas mais baixas na escola e menor satisfação com a vida quando adultos. “Pouco comprometimento dos pais não é positivo. Mas o envolvimento em demasia também não”, afirma a psicóloga do desenvolvimento Holly H. Schiffrin, professora associada da Universidade de Mary Washington, na Virgínia. “Percebo esse comportamento em sala de aula. Há pais que me procuram para ajustar o horário de aula dos filhos ou ligam para conversar sobre as notas deles. Costumo responder que os próprios alunos podem marcar uma reunião comigo para discutir o assunto”, diz.

3. “Colocar a máscara de oxigênio primeiro”.

A instrução dada antes das viagens de avião é uma boa metáfora da parentalidade – é preciso cuidar de si mesmo para poder cuidar bem de outra pessoa. Mães com diagnóstico de depressão, por exemplo, são mais propensas a ignorar ou a exagerar comportamentos inadequados dos filhos, segundo um estudo longitudinal de dois anos publicado na *Psychological Science*. Pesquisadores da Universidade Estadual da Pensilvânia constataram que adultos com TDAH também se tornam pais atenciosos depois de receber tratamento para o distúrbio. Todas as outras atividades cotidianas relacionadas com a saúde também importam. Um estudo de 2015 sobre os dados nacionais de saúde do Reino Unido sugere que o modo de vida dos pais pode ser tão decisivo como a genética na “transmissão” da obesidade. Outra evidência: crianças que participaram de uma pesquisa de 2014 da Escola de Economia e Ciências Políticas de Londres e com pais biológicos com excesso de peso tinham probabilidade 27% maior do que outras de apresentar sobrepeso. Filhos adotados também demonstraram susceptibilidade similar, de 21%. Seguindo essa linha de raciocínio, adotar uma dieta mais saudável e colocar atividades físicas na rotina vai além do autocuidado: é um gesto de amor por aqueles que dependem de nós. Um bom motivo para começar, não?

Esta matéria foi publicada originalmente na edição de abril de Mente e Cérebro, disponível na Loja Segmento: <http://bit.ly/1WusOOZ>. Coletada no site: http://www2.uol.com.br/vivermente/noticias/para_criar_filhos_mais_saudaveis_e_felizes.html - acesso 28 de abril de 2016

QUESTÃO 01

Conforme o que se depreende a partir da leitura mais apurada do texto que os pais

- (A) Ainda que bem intencionados, tomam algumas atitudes que podem impedir que seus filhos desenvolvam habilidades necessárias para uma vida adulta mais autônoma e plena.
- (B) Atropelam a rotina dos seus filhos, numa tentativa de protegê-los das possíveis frustrações da vida.
- (C) Não percebem que a melhor forma de se criar filhos saudáveis e mais autônomos, preparados para enfrentar os desafios propostos é deixá-los terem momentos de liberdade e ócio.
- (D) São levados pelas demandas sociais estereotipadas e pôr isso tornam os filhos dependentes deles próprios.
- (E) Criam seus filhos não de acordo com suas próprias convicções, mas se deixam guiar por modelos de família de outros países e enchem seus filhos de atividades extras.

QUESTÃO 02

A sugestão do psicólogo Michael Ungar, codiretor do Centro de Pesquisa de Resiliência da Universidade Dalhousie, para os pais pode ser entendida como

- (A) Um alerta para que os pais deixem os filhos tomarem a direção da própria vida, sem a ajuda deles, assim eles adquirem resiliência.
- (B) Um sinal de que os pais não devem superestimular os seus filhos a desenvolverem tarefas em excesso.
- (C) Informação aos pais que enchem a rotina dos filhos com atividades excessivas que, imersos no estresse, os filhos sempre encontram uma saída para as suas limitações.
- (D) Um conselho para que os pais deixem os seus filhos vivenciarem momentos de monotonia para que possam descobrir algo para fazer por conta própria.
- (E) Uma notificação para que os pais percebam a melhor maneira de os filhos resolverem os problemas que vivem no dia a dia.

QUESTÃO 03

Em: Filhos adotados também demonstraram **susceptibilidade** similar, de 21%.”, a palavra destacada equivale, quanto ao sentido, à ideia de

- (A) Intencionalidade.
- (B) Surto.
- (C) Predisposição.
- (D) Contestação.
- (E) Regularidade.

QUESTÃO 04

Em: “Colocar a máscara de oxigênio primeiro” as aspas são utilizadas para

- (A) Tornar o enunciado mais compreensível.
- (B) Marcar um enunciado proferido em discurso indireto.
- (C) Identificar e destacar uma citação de um outro contexto.
- (D) Contrapor-se ao discurso de outro agente social.
- (E) Ressaltar a importância do enunciado para a aceitação dos pais.

QUESTÃO 05

Analise o excerto e, em seguida, julgue os itens, para responder à questão

“Deixe que seus filhos caiam na monotonia e descubram algo para fazer por conta própria”

- I. O verbo *deixar* foi flexionado no modo imperativo, na 3ª pessoa do singular.
- II. *Caiam* e *descubram* estão flexionados no mesmo modo, ou seja, no imperativo afirmativo na 3ª pessoa do plural.
- III. O verbo *fazer* está no infinitivo impessoal.

Está (ão) correto (s).

- (A) Item I, apenas.
- (B) I e II.
- (C) I e III.
- (D) II e III.
- (E) Todos estão corretos.

QUESTÃO 06

Assinale a alternativa em que o vocábulo e/ou expressões marcados estejam corretamente analisadas do ponto de vista da Morfologia da Língua portuguesa.

- (A) Seguindo essa linha de raciocínio, adotar **uma** dieta mais saudável e colocar atividades físicas na rotina vai além do autocuidado: é um gesto de amor por aqueles que dependem de nós. **Numeral**.
- (B) Na tentativa de serem “bons pais”, **muitos** erram apesar das boas intenções [...] **Pronome indefinido**.
- (C) No entanto, estudos sugerem que seguir rotina cheia de compromissos **desde** cedo pode prejudicar a criança. **Advérbio de tempo**.
- (D) **No entanto**, estudos sugerem que seguir rotina cheia de compromissos desde cedo pode prejudicar a criança. **Conjunção coordenativa conclusiva**.
- (E) A superproteção não favorece o desenvolvimento de habilidades que serão necessárias na vida **adulta** [...] **Substantivo concreto**.

QUESTÃO 07

Analise: **Até mesmo** nos fins de semana e férias, que não raro são pré-programados com passeios e viagens. O operador argumentativo marcado, apresenta a relação semântica de:

- (A) Quantidade.
- (B) Modo.
- (C) Tempo.
- (D) **Inclusão.**
- (E) Qualidade.

QUESTÃO 08

Analise: “Especialistas apontam atitudes **que** podem prejudicar o desenvolvimento de habilidades necessárias para uma vida adulta mais feliz e autônoma.”

Aponte a alternativa cujo item marcado apresenta a mesma função sintática e morfológica do termo marcado no período acima.

- (A) “Deixe **que** seus filhos caiam na monotonia e descubram algo para fazer por conta própria”
- (B) **Efeito da nossa cultura, que não vê com bons olhos “não ter o que fazer”.**
- (C) Costumo responder **que** os próprios alunos podem marcar uma reunião comigo para discutir o assunto”, diz.
- (D) “O tédio num contexto hiperestimulado pode permitir exercer a criatividade e desenvolver a iniciativa, a persistência e a sensação de **que** podem influenciar o mundo”, explica.
- (E) Deixar **que** resolvam problemas.

Analise:

Seguindo essa linha de raciocínio, adotar uma dieta mais saudável e colocar atividades físicas na rotina vai além do **autocuidado**[...]

QUESTÃO 09

A palavra marcada está grafada, adequadamente, de acordo com o Acordo ortográfico vigente nos países que adotam a Língua portuguesa. Também estão grafados, adequadamente, no que respeita ao uso do hífen, os dois pares de vocábulos que se encontram selecionados na alternativa

- (A) Antiidade e hipo-alérgico
- (B) Ressocializar e contra-senso
- (C) Super-filosófico e super-herói
- (D) Superresistente e hiperativo
- (E) **Micro-organismo e semirreta**

QUESTÃO 10

Todas as orações marcadas nas alternativas apresentam a mesma classificação, EXCETO:

- (A) Não são poucos os pais excessivamente protetores, que se envolvem nas dificuldades cotidianas dos filhos além da conta.
- (B) Há pais que me procuram para ajustar o horário de aula dos filhos ou ligam para conversar sobre as notas deles.
- (C) **Um estudo de 2015 sobre os dados nacionais de saúde do Reino Unido sugere que o modo de vida dos pais pode ser tão decisivo como a genética na “transmissão” da obesidade.**
- (D) Outra evidência: crianças que participaram de uma pesquisa de 2014 da Escola de Economia e Ciências Políticas de Londres e com pais biológicos com excesso de peso tinham probabilidade 27% maior do que outras de apresentar sobrepeso.
- (E) [...] é um gesto de amor por aqueles que dependem de nós.

NOÇÕES DE INFORMÁTICA

QUESTÃO 11

A representação gráfica de um arquivo, pasta ou programa no Windows é conhecida como:

- (A) aplicativo
- (B) ícone
- (C) interface
- (D) atalho
- (E) link

QUESTÃO 12

Acerca dos conceitos básicos de informática, julgue os itens abaixo em verdadeiro (V) ou falso (F):

() A Área de Transferência do Windows é uma área de armazenamento temporário de informações que o usuário copiou ou moveu de algum lugar.

() Quando se utiliza o comando “Recortar” em um arquivo, o Windows remove o arquivo do local de origem e o mantém no local de destino.

() A tecla DELETE não funciona para remover (excluir) arquivos para a Lixeira; sua função é apenas apagar caracteres de texto.

A sequência correta, de cima para baixo, é:

- (A) V V V
- (B) V V F
- (C) V F V
- (D) F V F
- (E) F F V

QUESTÃO 13

“Cabeçalho” e “Rodapé”, recursos disponíveis no Microsoft Word, podem ser adicionados das seguintes formas:

- I. Em todo o documento de texto.
- II. Em todas as páginas, exceto na primeira.
- III. De forma diferente em páginas pares ou ímpares.

Está(ão) correto(s):

- (A) Apenas I.
- (B) Apenas II.
- (C) I e II.
- (D) II e III.
- (E) I, II e III.

QUESTÃO 14

Associe corretamente os conceitos abaixo sobre noções de Internet com suas respectivas definições e assinale a alternativa que apresenta a associação correta:

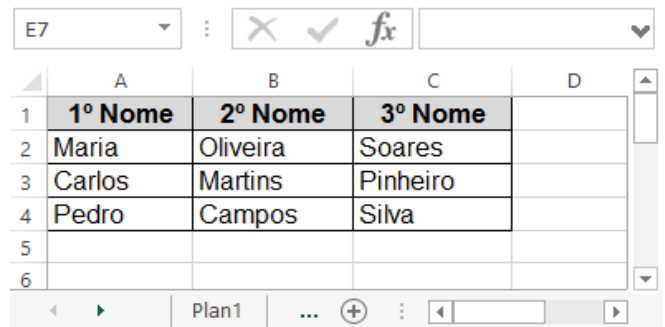
1. Navegador
2. HTTP
3. Intranet
4. URL

- a. É o endereço de um recurso disponível em uma rede.
- b. É o nome do protocolo utilizado para comunicação na web.
- c. É uma rede corporativa que utiliza um sistema de comunicação baseado em tecnologias da Internet.
- d. É uma ferramenta que comunica-se com servidores web, os quais enviam e recebem as solicitações feitas pelos usuários.

- (A) 1b - 2c - 3a - 4d
- (B) 1c - 2a - 3d - 4b
- (C) 1d - 2a - 3c - 4b
- (D) 1c - 2d - 3b - 4a
- (E) 1d - 2b - 3c - 4a

QUESTÃO 15

A imagem abaixo foi extraída de uma planilha do Microsoft Excel:



	A	B	C	D
1	1º Nome	2º Nome	3º Nome	
2	Maria	Oliveira	Soares	
3	Carlos	Martins	Pinheiro	
4	Pedro	Campos	Silva	
5				
6				

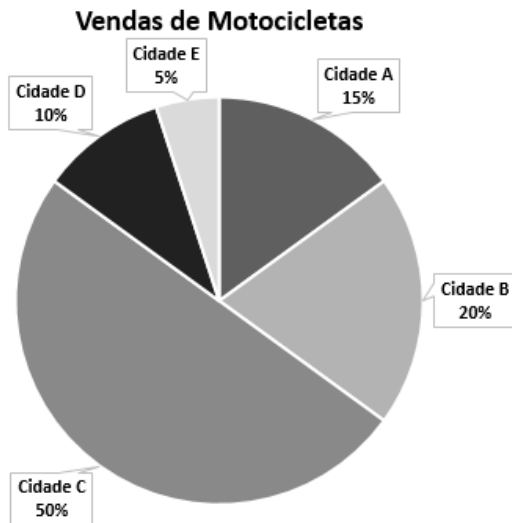
O resultado da aplicação da fórmula =A2&B3&C4 será:

- (A) #REF!
- (B) #VALOR!
- (C) Maria
- (D) MMS
- (E) MariaMartinsSilva

RACIOCÍNIO LÓGICO-MATEMÁTICO

QUESTÃO 16

A imagem abaixo apresenta o gráfico de vendas de motocicletas de uma determinada empresa:



Considerando que foram vendidas 120 motocicletas nas 5 cidades representadas no gráfico, pode-se afirmar que:

- I. Foram vendidas 18 motocicletas na Cidade A.
- II. O total de motocicletas vendidas nas Cidades B e C foi 70.
- III. Nas Cidades D e E foram vendidas menos de 10 motocicletas em cada uma.

- (A) Somente o item I está correto.
 (B) Somente o item II está correto.
 (C) Somente o item III está correto.
 (D) Os itens I e II estão corretos.
 (E) Os itens II e III estão corretos.

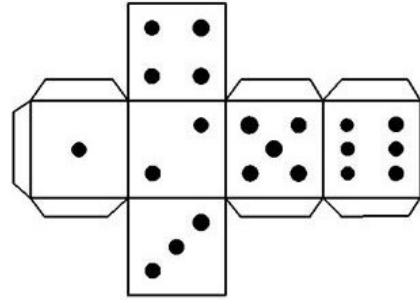
QUESTÃO 17

A diferença entre dois números x e y é 16. A razão entre x e y é 3. Pode-se afirmar que o menor desses números é:

- (A) 6
 (B) 8
 (C) 10
 (D) 12
 (E) 14

QUESTÃO 18

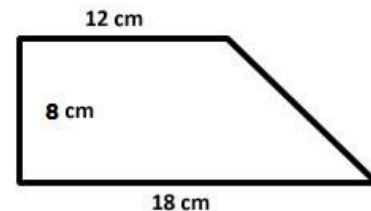
Ao montar o dado abaixo, o número que ficará na face oposta à face que contém o número 2 será o:



- (A) 1
 (B) 3
 (C) 4
 (D) 5
 (E) 6

QUESTÃO 19

Pode-se afirmar que a área e o perímetro do trapézio abaixo são, respectivamente:



- (A) 96 cm^2 e 46 cm
 (B) 120 cm^2 e 38 cm
 (C) 120 cm^2 e 48 cm
 (D) 144 cm^2 e 38 cm
 (E) 144 cm^2 e 42 cm

QUESTÃO 20

Uma gráfica imprime 400 panfletos em 60 min com apenas 1 impressora. Com o aumento da demanda, o proprietário da gráfica comprou mais 2 impressoras idênticas. O tempo necessário para imprimir os mesmos 400 panfletos, após a aquisição das impressoras, será:

- (A) 5 min
 (B) 10 min
 (C) 15 min
 (D) 20 min
 (E) 30 min

**CONHECIMENTOS GERAIS E
ESPECÍFICOS**

QUESTÃO 21

Um sistema de arquivos é a estrutura usada pelo computador para organizar dados em um disco rígido. São exemplos de sistemas de arquivos do sistema operacional Windows:

1. NTFS
2. FAT32
3. Ext3
4. ReiserFS

- (A) 1 e 2
(B) 3 e 4
(C) 1, 2 e 3
(D) 2, 3 e 4
(E) 1, 3 e 4


QUESTÃO 22

O recurso de inicialização múltipla permite manter mais de uma versão do Windows em um único computador em partições separadas. Para que isso seja possível é preciso que exista mais um disco (ou partição de disco) disponível com espaço suficiente para receber a outra versão do sistema operacional Windows. Esse recurso também é conhecido como:

- (A) *file system*
(B) *disk partition*
(C) *dual boot*
(D) *boot record*
(E) *dual system*

QUESTÃO 23

Peek é um recurso disponível a partir do Windows 7. A imagem abaixo mostra a localização do recurso no Windows:



Uma das funções do Peek é:

- (A) Bloquear a barra de tarefas.
(B) Mostrar aplicativos da *Windows Store*.
(C) Armazenar programas abertos recentemente.
(D) **Exibir temporariamente a área de trabalho.**
(E) Ocultar automaticamente a barra de tarefas.

QUESTÃO 24

É possível finalizar um programa ou processo que parou de responder no Windows através de qual ferramenta?

- (A) Inicialização de Sistema.
(B) Gerenciador de Disco.
(C) Área de Trabalho.
(D) Barra de Tarefas.
(E) **Gerenciador de Tarefas.**

QUESTÃO 25

Julgue os itens abaixo em verdadeiro (V) ou falso (F). São ações que podem ser realizadas no Gerenciador de Dispositivos do Windows:

- () Exibir e atualizar os *drivers* de dispositivos instalados no computador.
() Armazenar credenciais, como nomes de usuários e senhas.
() Verificar se o hardware está funcionando corretamente.
() Modificar as configurações de hardware.

A sequência correta, de cima para baixo, é:

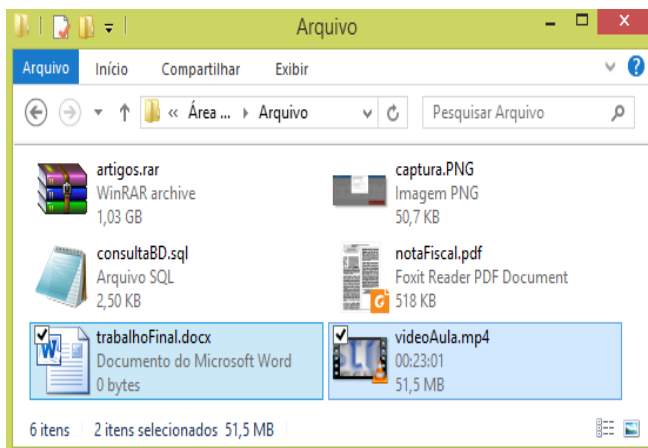
- (A) V V V F
(B) **V F V V**
(C) V F V F
(D) F V F V
(E) F F F V

QUESTÃO 26

Um arquivo é uma coleção de dados gravados com um nome lógico chamado “nomedoarquivo” (*filename*). Toda informação que o computador armazena está na forma de arquivos. Uma das formas mais corretas de identificar os diferentes tipos de arquivos em um computador é através:

- (A) do seu tamanho.
- (B) do seu ícone.
- (C) da sua extensão.
- (D) do seu autor.
- (E) do seu nome.

Use a imagem abaixo, extraída do Windows, para responder as questões 27 e 28:



QUESTÃO 27

Assinale a alternativa que apresenta o nome do item que mais ocupa espaço em disco:

- (A) artigos.rar
- (B) consultaBD.sql
- (C) captura.png
- (D) notaFiscal.pdf
- (E) videoAula.mp4

QUESTÃO 28

Ao pressionar a tecla DELETE, na configuração padrão do Windows, será exibida a mensagem de confirmação para mover quantos itens para a Lixeira?

- (A) 1
- (B) 2
- (C) 4
- (D) 5
- (E) 6

QUESTÃO 29

O protocolo padrão responsável pelo envio de mensagens de e-mail através da Internet é o:

- (A) **HTTP** (*Hypertext Transfer Protocol*, “Protocolo de Transferência de Hipertexto”).
- (B) **FTP** (*File Transfer Protocol*, “Protocolo de Transferência de Arquivos”).
- (C) **POP3** (*Post Office Protocol*, “Protocolo dos Correios”).
- (D) **SMTP** (*Simple Mail Transfer Protocol*, “Protocolo de Transferência de Correio Simples”).
- (E) **IMAP** (*Internet Message Access Protocol*, “Protocolo de Acesso a Mensagem da Internet”).

QUESTÃO 30

Um dos recursos presentes nos navegadores atuais são os *cookies*. Acerca do assunto, julgue os itens abaixo em verdadeiro (V) ou falso (F):

- () São pequenos arquivos de textos que os sites colocam no disco rígido do computador do usuário.
- () Permitem guardar preferências e nomes de usuário.
- () Impedem que outras pessoas sejam capazes de ver as informações de histórico de navegação de um usuário.

A sequência correta, de cima para baixo, é:

- (A) V V V
- (B) V V F
- (C) V F V
- (D) F V F
- (E) F F V

QUESTÃO 31

“No Microsoft PowerPoint, um slide _____ é o slide principal em uma hierarquia de slides que armazena informações sobre o tema e os layouts de slide de uma apresentação, incluindo o plano de fundo, a cor, as fontes, os efeitos, os tamanhos dos espaços reservados e o posicionamento.”. A alternativa que preenche corretamente a lacuna em branco é:

- (A) raiz
- (B) pai
- (C) base
- (D) origem
- (E) mestre

QUESTÃO 32

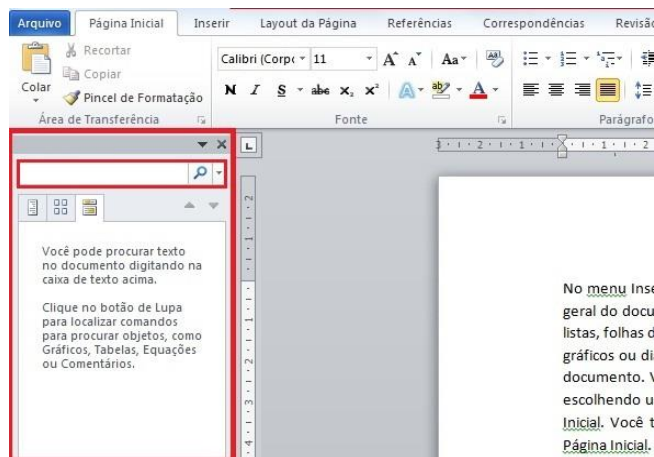
Um dos recursos presentes no Microsoft PowerPoint permite focalizar pontos importantes, controlar o fluxo de informações e aumentar o interesse do espectador na sua apresentação. Esse recurso, apresentado na imagem abaixo, é conhecido como:



- (A) slide
- (B) seção
- (C) animação
- (D) layout
- (E) design

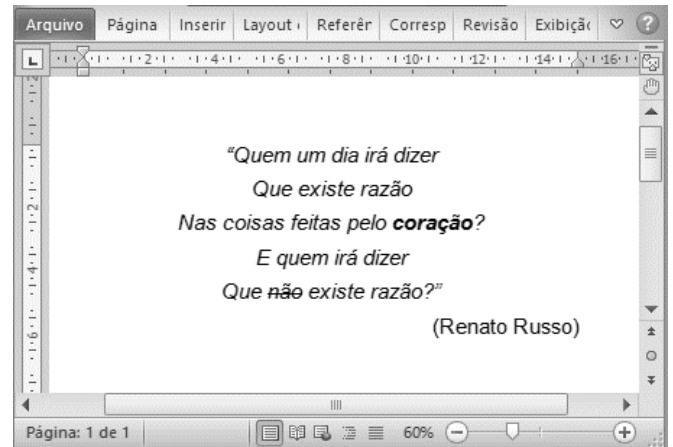
QUESTÃO 33

Um dos recursos presentes no Microsoft Word, a partir da versão 2007, permite que o usuário visualize todos os títulos e páginas do documento em um formato claro e integrado, além de localizar e reestruturar blocos de conteúdo arrastando títulos e encontrar todas as instâncias de palavras, frases ou itens específicos, como figuras e tabelas, sem precisar navegar pelos resultados da pesquisa. Esse recurso, destacado na imagem abaixo, é conhecido como:



- (A) Painel de Navegação
- (B) Painel de Tópicos
- (C) Painel de Seleção
- (D) Painel de Referências
- (E) Painel de Formatação

Use a imagem abaixo, extraída do Microsoft Word, para responder as questões 34 e 35:



QUESTÃO 34

Qual dos recursos abaixo é possível afirmar que foi utilizado na formatação do texto, a partir da análise da imagem?

- (A) Borda de página.
- (B) Nota de rodapé.
- (C) Marca d'água.
- (D) Texto itálico.
- (E) Parágrafo alinhado à esquerda.

QUESTÃO 35

A combinação de teclas que permite selecionar todo o texto do documento é:

- (A) CTRL + A
- (B) CTRL + B
- (C) CTRL + T
- (D) SHIFT + A
- (E) SHIFT + T

A imagem abaixo, extraída do Microsoft Excel, apresenta o valor total das vendas de três vendedores (Carlos, Pedro e João) durante os meses de Janeiro, Fevereiro e Março. Use a imagem para responder as questões 36 e 37:

	A	B	C	D	E
1		JAN	FEV	MAR	
2	Carlos	R\$ 550,00	R\$ 400,00	R\$ 340,00	
3	Pedro	R\$ 420,00	R\$ 100,00	R\$ 630,00	
4	João	R\$ 130,00	R\$ 250,00	R\$ 380,00	
5					
6					

QUESTÃO 36

O resultado da aplicação da fórmula = MÁXIMO(B2:D4) será:

- (A) R\$ 130,00
- (B) R\$ 250,00
- (C) R\$ 380,00
- (D) R\$ 550,00
- (E) R\$ 630,00

QUESTÃO 37

A fórmula correta a aplicar para calcular a média de vendas no mês de março é:

- (A) =MÉDIA(D2;D4)
- (B) =MÉDIA(D2:D4)
- (C) =MÉDIA(D2:D4/3)
- (D) =MÉDIA(D2-D4)
- (E) =MÉDIA((D2*D4))/3

QUESTÃO 38

Em uma planilha do Microsoft Excel, o conteúdo da célula A1 é "INSTITUTO LEGATUS". O resultado da aplicação da fórmula =DIREITA(A1;7) será:

- (A) #NOME?
- (B) #VALOR!
- (C) INSTITU
- (D) LEGATUS
- (E) INSTITUTO LEGATUS

QUESTÃO 39

De acordo com a última pesquisa realizada pelo Instituto Brasileiro de Geografia e Estatística (IBGE) em 2014, as principais culturas produzidas na área de lavoura permanente, no município de Passagem Franca do Piauí, foram:

- (A) Banana e Castanha de Caju.
- (B) Coco-da-baía e Goiaba.
- (C) Manga e Laranja.
- (D) Limão e Maracujá.
- (E) Abacate e Mamão.

QUESTÃO 40

Julgue os itens abaixo em verdadeiro (V) ou falso (F), acerca do município de Passagem Franca do Piauí:

- () O rio Parnaíba e o rio Berlingas constituem importantes recursos hídricos do município.
- () O município pertence ao Território de Desenvolvimento denominado Entre Rios.
- () A principal rodovia federal de acesso ao município é a BR-316.

A sequência correta, de cima para baixo, é:

- (A) V V V
- (B) V F V
- (C) F V V
- (D) F V F
- (E) F F V