

# IPSMI

INSTITUTO DE PREVIDÊNCIA DOS SERVIDORES MUNICIPAIS DE ITAQUAQUECETUBA  
ESTADO DE SÃO PAULO

CONCURSO PÚBLICO

## 003. PROVA OBJETIVA

AGENTE ADMINISTRATIVO

- ◆ Você recebeu sua folha de respostas e este caderno contendo 50 questões objetivas.
- ◆ Confira seus dados impressos na capa deste caderno e na folha de respostas.
- ◆ Quando for permitido abrir o caderno, verifique se está completo ou se apresenta imperfeições. Caso haja algum problema, informe ao fiscal da sala.
- ◆ Leia cuidadosamente todas as questões e escolha a resposta que você considera correta.
- ◆ Marque, na folha de respostas, com caneta de tinta azul ou preta, a letra correspondente à alternativa que você escolheu.
- ◆ A duração da prova é de 3 horas, já incluído o tempo para o preenchimento da folha de respostas.
- ◆ Só será permitida a saída definitiva da sala e do prédio após transcorridos 75% do tempo de duração da prova.
- ◆ Ao sair, você entregará ao fiscal a folha de respostas e este caderno, podendo levar apenas o rascunho de gabarito, localizado em sua carteira, para futura conferência.
- ◆ Até que você saia do prédio, todas as proibições e orientações continuam válidas.

AGUARDE A ORDEM DO FISCAL PARA ABRIR ESTE CADERNO DE QUESTÕES.

Nome do candidato

Prédio

Sala

Carteira

Inscrição

## CONHECIMENTOS GERAIS

### LÍNGUA PORTUGUESA

Leia o texto a seguir para responder às questões de números 01 a 06.

A velhice, de acordo com o pensamento de alguns, é uma fase de recolhimento, anulação e privações. Pode ser uma longa espera para o inevitável, um tempo de sossego e meditação forçada. Felizmente, nem todos pensam assim. Desde a antiguidade, sábios e espirituosos pensam até o contrário.

Se observarmos a vida dos idosos atualmente, podemos facilmente perceber que o que pensam os sábios está mais próximo da realidade dos fatos de hoje. Com o aumento da qualidade e da expectativa de vida das populações e com as mudanças de mentalidade em relação ao modo de viver, a velhice agora pode ser sinônimo de vida ativa, saudável e feliz, em toda a sua plenitude. O idoso pode então ser visto como alguém que, depois de uma parcela do tempo de vida empregada ao trabalho e à dedicação à família, desfruta uma etapa de lazer, interação social, aprendizagem despreocupada, busca de conhecimento interior e felicidade despreendida.

É claro e evidente que todos esses benefícios só poderão ser conquistados se a velhice for acompanhada, necessariamente, de boa saúde e lucidez. E o segredo de uma velhice saudável, todos nós sabemos, é baseado em uma regra simples, de três recomendações: alimentação equilibrada, prática de atividades físicas compatíveis e períodos de repouso restauradores.

Prolongar essa etapa importante da vida tem uma receita mais simples ainda: atividade e felicidade. E, para manter a lucidez, devemos ocupar a mente com atividades nobres.

A vida moderna e o apoio institucional e social ao idoso transformaram a velhice em um período possível de vida ativa, em que podemos manter o nosso corpo fortalecido e saudável e continuar desfrutando os melhores prazeres da vida. Esses benefícios juntos nos permitem manter afastada a trágica ideia da morte próxima.

(Maria Terezinha Santellano.

Disponível em: <http://www.portalterceiridade.org.br>. Adaptado)

01. De acordo com informações do primeiro e segundo parágrafos, a autora

- (A) defende a velhice como um momento de clausura e de introspecção.
- (B) acredita que a velhice é um período que deve ser dedicado à espera da morte.
- (C) apoia a ideia de que a velhice pode ser uma fase de vida ativa.
- (D) explica por que os sábios enxergam a velhice como um tempo de apatia.
- (E) conclui que a velhice é tempo de dedicação ao trabalho e à família.

02. Segundo informações do texto,

- (A) apesar de toda modernidade e desenvolvimento, viver bem é incompatível com a velhice.
- (B) a expectativa de vida aumentou, mas isso não interferiu no modo de viver das pessoas idosas.
- (C) o prolongamento da vida depende do trabalho exercido pela pessoa enquanto jovem.
- (D) saúde e lucidez são condições essenciais para que a velhice seja um período prazeroso.
- (E) nada é capaz de distanciar o idoso da preocupação com a morte próxima.

03. No trecho do quinto parágrafo – A vida moderna e o apoio institucional e social ao idoso **transformaram** a velhice... –, o termo destacado expressa uma ação

- (A) presente habitual.
- (B) futura hipotética.
- (C) futura pontual.
- (D) passada durativa.
- (E) passada pontual.

04. Assinale a alternativa em que o termo destacado explicita o posicionamento da autora.

- (A) ... nos permitem manter **afastada** a trágica ideia da morte próxima. (5º parágrafo)
- (B) ... **alimentação** equilibrada, prática de atividades físicas compatíveis... (3º parágrafo)
- (C) O idoso pode então ser visto como **alguém**... (2º parágrafo)
- (D) Pode ser uma longa espera para o **inevitável**... (1º parágrafo)
- (E) **Felizmente**, nem todos pensam assim. (1º parágrafo)

05. No trecho do segundo parágrafo, – Se observarmos a vida dos idosos **atualmente**... –, o termo destacado indica uma circunstância de tempo, assim como o termo destacado em:

- (A) ... podemos **facilmente** perceber que o que pensam os sábios... (2º parágrafo)
- (B) ... a velhice **agora** pode ser sinônimo de vida ativa... (2º parágrafo)
- (C) ... se a velhice for acompanhada, **necessariamente**, de boa saúde e lucidez. (3º parágrafo)
- (D) ... esses benefícios **só** poderão ser conquistados se a velhice... (3º parágrafo)
- (E) ... essa etapa importante da vida possui uma receita **mais** simples ainda... (4º parágrafo)

Leia a charge para responder às questões de números 06 e 07.



(Ziraldo. *Ensaio sobre a Velhice*.

Disponível em: <http://rede.novaescolaclub.org.br>. Acesso em 28.01.2016)

06. O primeiro texto desta prova e a charge de Ziraldo dialogam ao conceberem a velhice como uma fase

- (A) dedicada à espera da morte próxima.
- (B) insuportável por causa da falta de saúde.
- (C) marcada pelas preocupações com a família.
- (D) em que é possível viver momentos felizes.
- (E) marcada, principalmente, por desafios e conquistas.

07. Considerando a charge – texto verbal e imagem – é correto afirmar que, em relação às descobertas que estão fazendo na velhice, as personagens se mostram

- (A) surpresas e otimistas.
- (B) desanimadas e resignadas.
- (C) conformadas e receosas.
- (D) apáticas e pensativas.
- (E) subversivas e inconformadas.

Leia o trecho a seguir para responder às questões de números 08 e 09.

#### Cuidado

O sedentarismo está entre os principais fatores de risco que ameaçam \_\_\_\_ saúde. No entanto, é preciso ter cuidado ao começar \_\_\_\_ praticar atividades físicas. “Exercícios sem orientação profissional ou visando resultado a qualquer custo, normalmente, levam \_\_\_\_ sobrecarga de peso e podem provocar lesões nos ombros, nos joelhos e na lombar”, diz Helder Montenegro, diretor do Instituto de Tratamento da Coluna Vertebral.

(Especialista aconselha quem quer deixar o sedentarismo. [www.estadao.com.br](http://www.estadao.com.br), 08.01.16. Adaptado)

08. Assinale a alternativa que preenche, correta e respectivamente, as lacunas do texto.

- (A) a ...a ... à
- (B) à ...à ... à
- (C) a ...à ... a
- (D) à ...à ... a
- (E) à ...a ... à

09. Assinale a alternativa que reescreve o trecho destacado do texto, de acordo com a norma-padrão da língua portuguesa, mantendo seu sentido original.

- (A) O sedentarismo é uma das principais causas de risco à saúde, assim é preciso cautela ao começar a prática de exercícios.
- (B) O sedentarismo é uma das principais causas de risco à saúde, contudo é preciso cautela ao começar a prática de exercícios.
- (C) Conforme o sedentarismo seja uma das principais causas de risco à saúde, é preciso cautela ao começar a prática de exercícios.
- (D) O sedentarismo é uma das principais causas de risco à saúde, para isso é preciso cautela ao começar a prática de exercícios.
- (E) Se o sedentarismo fosse uma das principais causas de risco à saúde, seria preciso cautela ao começar a prática de exercícios.

Leia o texto a seguir para responder às questões de números 10 a 15.

Fiz um regime árduo durante um ano e perdi 23 quilos. Sem operação. Descobri o sabor de salmão ao vapor. Peixe grelhado sem aquela deliciosa crosta de farinha. Feijoada, eliminei. Acarajé, nem pensar. Enfim, boa parte das delícias da culinária nacional saiu de meu cardápio. Francesa também. Americana? Nem por decreto, embora tenha delírios pensando num *cheeseburger*. Coxinhas, empadinhas e pastéis, só em momentos especiais.

Pois é. Fiz o regime com dedicação absoluta. Pulei do número 58/60 para o 52 e, glorioso, refiz meu guarda-roupa. Meu rosto emagrece fácil. Alguns homens emagrecem e ficam com cara de buldogue. Eu não. Fico mais próximo de uma imagem tradicional do Drácula, magro, de rosto comprido e olhos ávidos. Não por sangue, mas por qualquer pacotinho de batatas fritas. Existe algo melhor que batatas fritas?

Se emagreço primeiro o rosto, engordo a barriga. A barriga masculina é teimosa. Todos sofrem disso. Barriguinha de tanque, só para jovens. Ou para os que comparecem à academia como beatas na igreja. A barriga não só teima, mas é perigosa. A partir de 100 centímetros, induz à chamada síndrome metabólica. Ou seja, à diabetes, problemas cardíacos, gordura no fígado. Um rol de doenças. Em todo o meu processo de emagrecimento, a barriga permaneceu, ai de mim! Não semelhante à de um Buda, como antes. Mas ficou.

Quando o regime foi considerado vitorioso, aos poucos voltei aos carboidratos. A uma delícia aqui, outra ali. Adivinhem o que cresceu primeiro? Ela, a barriga. Para todo homem é assim. Barriga das boas aproveita a primeira oportunidade para se expandir. Fui comprar um paletó, adivinhem? O 54 serve apertadinho. O 56 cai melhor, mas folga nos ombros. O cinto que comprei, em comemoração, não fecha mais. Voltei aos antigos.

Não há parte do corpo mais teimosa para o homem que a barriga. Posso fazer esteira duas horas. Basta comer um *cheeseburger*, e a barriga vence! É insistente. Tanto que muita gente já diz que a barriguinha em um homem é charmosa. Criou-se um padrão estético a favor de barrigudo! É uma luta inglória. Um homem depois dos 30 passa a vida lutando contra a barriga. Mais dia, menos dia, a vitória sempre será dela.

(Walcyr Carrasco. *Barriga teimosa*.

Disponível em: <http://epoca.globo.com>. Adaptado)

10. De acordo com o primeiro parágrafo do texto, é correto afirmar que o autor

- (A) optou pela culinária francesa em vez da americana, já que esta é mais gordurosa, enquanto aquela é mais leve.
- (B) preferiu se alimentar apenas de *cheeseburger*, coxinhas, empadinhas e pastéis, deixando as comidas mais leves para os momentos especiais.
- (C) deixou de comer feijoada, acarajé e outras comidas típicas brasileiras e internacionais para conseguir emagrecer sem precisar se submeter a uma cirurgia.
- (D) deixou de consumir comidas típicas americanas sem dificuldades, pois, além de não serem saudáveis, não agradam seu paladar.
- (E) preferiu o sabor de peixe grelhado sem crosta de farinha ao de salmão ao vapor, durante sua dieta.

11. Considere os seguintes trechos:

Pulei do número 58/60 para o 52 e, **glorioso**, refiz meu guarda-roupa.

... magro, de rosto comprido e olhos **ávidos**. Não por sangue...

Os termos destacados podem ser, no contexto em que estão empregados, correta e respectivamente, substituídos por

- (A) ansioso e célebres.
- (B) concentrado e sedentos.
- (C) honrado e negros.
- (D) perplexo e desejosos.
- (E) vitorioso e ansiosos.

12. Assinale a alternativa que apresenta um trecho do texto empregado em sentido próprio.

- (A) Se emagreço primeiro o rosto, engordo a barriga.
- (B) A barriga masculina é teimosa.
- (C) Barriguinha de tanque, só para jovens.
- (D) Barriga das boas aproveita a primeira oportunidade para se expandir.
- (E) Basta comer um *cheeseburger* e a barriga vence!

13. Assinale a alternativa que reescreve o trecho do terceiro parágrafo do texto de acordo com a norma-padrão de pontuação da língua portuguesa.

- (A) A gordura abdominal, em excesso é perigosa, pois leva à síndrome metabólica, isto é: aumenta as chances de desenvolver diabetes, problemas cardíacos, e gordura no fígado entre outras doenças.
- (B) A gordura abdominal em excesso é perigosa, pois, leva à síndrome metabólica isto é, aumenta as chances de desenvolver, diabetes, problemas cardíacos e gordura no fígado, entre outras doenças.
- (C) A gordura abdominal, em excesso, é perigosa, pois leva à síndrome metabólica isto é: aumenta as chances de desenvolver, diabetes, problemas cardíacos, e gordura no fígado entre outras doenças.
- (D) A gordura abdominal em excesso é perigosa, pois leva à síndrome metabólica, isto é, aumenta as chances de desenvolver diabetes, problemas cardíacos e gordura no fígado, entre outras doenças.
- (E) A gordura abdominal em excesso, é perigosa, pois leva à síndrome metabólica, isto é, aumenta as chances de desenvolver diabetes, problemas cardíacos, e gordura no fígado, entre outras doenças.

14. No trecho do terceiro parágrafo do texto – Todos sofrem **disso**. –, o termo destacado refere-se ao fato de os homens

- (A) não resistirem a um pacotinho de batatas fritas.
- (B) ficarem com cara de buldogue ao emagrecerem.
- (C) terem dificuldade para perder a barriga.
- (D) frequentarem a academia em busca da barriga de tanquinho.
- (E) ao emagrecerem, ficarem com rostos compridos.

15. É correto afirmar que o autor defende a ideia de que

- (A) após os 30, é praticamente impossível conseguir perder peso sem cirurgia ou sem frequentar a academia assiduamente.
- (B) apesar de já ser considerada atraente por muita gente, a chamada “barriguinha” pode ser considerada um risco à saúde.
- (C) homens com mais de 30 anos dificilmente eliminam a barriga, a não ser que passem a fazer uma dieta balanceada.
- (D) não basta submeter-se a uma cirurgia, é preciso aderir a uma dieta balanceada para conseguir eliminar a barriga.
- (E) para eliminar as calorias de um *cheeseburger* e ter um corpo charmoso, basta fazer esteira por duas horas diárias.

16. Uma indústria recebeu um pedido para produzir 2400 embalagens. No primeiro dia, produziu  $\frac{3}{16}$  do número total de embalagens do pedido e, no segundo dia, produziu 100 embalagens a mais do que no dia anterior. Em relação ao número total de embalagens desse pedido, a fração que representa as embalagens que ainda não foram produzidas é
- (A)  $\frac{11}{12}$
- (B)  $\frac{7}{12}$
- (C)  $\frac{5}{12}$
- (D)  $\frac{11}{48}$
- (E)  $\frac{13}{48}$
17. Uma pessoa colocou dois relógios, A e B, para despertarem simultaneamente às 7 horas. Depois do toque de despertar, o relógio A emite um sinal sonoro a cada 8 minutos e o relógio B emite um sinal sonoro a cada 10 minutos. Após as 7 horas, a primeira vez que os dois relógios irão emitir simultaneamente um sinal sonoro será às
- (A) 7 horas e 18 minutos.
- (B) 7 horas e 36 minutos.
- (C) 7 horas e 40 minutos.
- (D) 7 horas e 48 minutos.
- (E) 8 horas e 10 minutos.
18. Em uma papelaria, há uma caixa com 80 lápis pretos e 55 lápis vermelhos. Para facilitar as vendas, foram feitos pacotinhos, todos com o mesmo número de lápis e na maior quantidade possível, de modo que cada pacotinho contenha lápis de uma só cor. Sabendo que não restou nenhum lápis na caixa e que cada pacotinho de lápis preto custa R\$ 5,00 e cada pacotinho de lápis vermelho custa R\$ 6,00, então o valor a ser arrecadado com a venda de todos os pacotinhos será
- (A) R\$ 146,00.
- (B) R\$ 148,00.
- (C) R\$ 150,00.
- (D) R\$ 152,00.
- (E) R\$ 154,00.

19. No arquivo de um escritório, a razão entre o número de gavetas vazias e o número de gavetas contendo documentos era  $\frac{3}{7}$ . Após duas gavetas vazias serem ocupadas com documentos, a razão entre o número de gavetas vazias e o número de gavetas contendo documentos passou a ser  $\frac{1}{3}$ . O número total de gavetas vazias que restou no arquivo foi
- (A) 15.  
(B) 13.  
(C) 10.  
(D) 8.  
(E) 5.
20. Uma empresa destinou uma verba para ser utilizada pelo setor administrativo. Desse valor, 60% foi utilizado na compra de móveis e 45% do valor restante foi utilizado na compra de materiais diversos, restando ainda R\$ 770,00. O valor total da verba destinada ao setor administrativo foi
- (A) R\$ 4.600,00.  
(B) R\$ 4.200,00.  
(C) R\$ 4.000,00.  
(D) R\$ 3.800,00.  
(E) R\$ 3.500,00.
21. Para organizar o estoque de uma fábrica, 8 funcionários, todos trabalhando com a mesma produtividade, demoram 10 dias, trabalhando 6 horas por dia. O número de funcionários, com a mesma produtividade dos demais, que precisam ser contratados a mais para que esse estoque fique organizado em 6 dias, com todos eles trabalhando 8 horas por dia, é
- (A) 5.  
(B) 4.  
(C) 3.  
(D) 2.  
(E) 1.

22. A tabela a seguir mostra os sabores de sorvetes do tipo picolé comprados por uma pessoa, a quantidade comprada e o respectivo preço unitário.

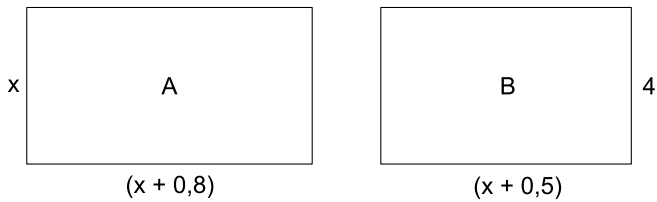
SABOR	QUANTIDADE	PREÇO UNITÁRIO
Frutas	8	R\$ 2,30
Chocolate	5	R\$ 3,20
iogurte	3	x

Considerando-se o número total de picolés comprados, na média, cada picolé saiu por R\$ 3,05. O preço unitário do picolé de iogurte é

- (A) R\$ 4,90.  
(B) R\$ 4,80.  
(C) R\$ 4,50.  
(D) R\$ 4,30.  
(E) R\$ 4,10.
23. Um capital de R\$ 2.000,00 foi colocado em uma aplicação A, a juros simples, com taxa de 0,70% ao mês. Se esse mesmo capital fosse aplicado a juro simples, com taxa de 0,75% ao mês, por 2 meses a mais do que o tempo da aplicação A, renderia R\$ 37,00 a mais de juros do que o juros da aplicação A. O número de meses da aplicação A foi
- (A) 7.  
(B) 6.  
(C) 5.  
(D) 4.  
(E) 3.
24. Uma pessoa possui determinada quantia em dinheiro para comprar um produto. Se ela comprar 400 g desse produto sobrarão R\$ 4,00, mas para comprar 700 g ficarão faltando R\$ 2,00. O número de gramas desse produto que essa pessoa poderá comprar utilizando o total de dinheiro que possui é
- (A) 450.  
(B) 500.  
(C) 550.  
(D) 600.  
(E) 650.

25. Em uma padaria, o preço de dois doces é igual ao preço de três cafés. Sabendo que o preço de um salgado é R\$ 0,50 menor que o preço de um doce e R\$ 1,00 mais caro que o preço de um café, então o preço de um salgado, mais um doce e um café, juntos, é
- (A) R\$ 10,50.  
 (B) R\$ 11,00.  
 (C) R\$ 11,50.  
 (D) R\$ 12,00.  
 (E) R\$ 12,50.

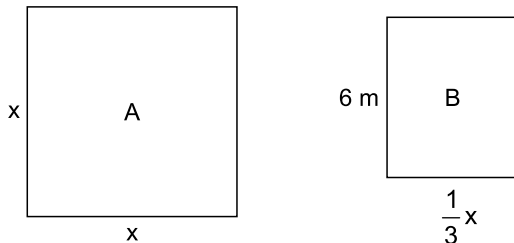
26. Duas salas, A e B, ambas retangulares, têm dimensões, em metros, conforme mostram as figuras.



figuras fora de escala

Sabendo que as duas salas têm o mesmo perímetro, o perímetro da sala A, em metros, é

- (A) 8,2.  
 (B) 10,4.  
 (C) 12,6.  
 (D) 14,8.  
 (E) 16,4.
27. A área, em  $m^2$ , de um terreno quadrado A é quatro vezes maior que a área, em  $m^2$ , de um terreno retangular B, que possui 6 m de largura e comprimento igual a  $\frac{1}{3}$  da medida do lado do terreno A, conforme mostram as figuras.



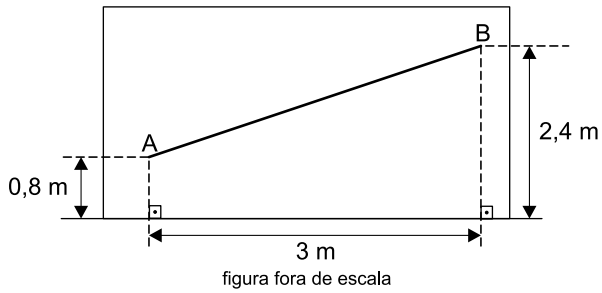
figuras fora de escala

A diferença entre as áreas dos terrenos A e B, em  $m^2$ , é

- (A) 48.  
 (B) 36.  
 (C) 24.  
 (D) 20.  
 (E) 16.

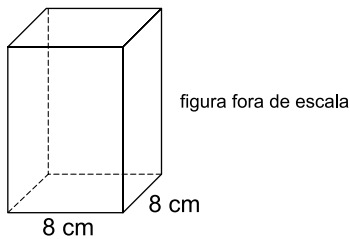


28. A figura mostra um friso decorativo colocado em uma parede, ligando os pontos A e B.



O comprimento desse friso, em metros, é

- (A) 4,0.  
 (B) 3,8.  
 (C) 3,6.  
 (D) 3,4.  
 (E) 3,2.
29. Para encher completamente um recipiente, na forma de um prisma reto de base quadrada com 8 cm de aresta, que estava completamente vazio, conforme mostra a figura, foram necessárias 12 xícaras cheias de água, cada uma delas contendo  $80 \text{ cm}^3$ .



A altura desse recipiente, em centímetros, é

- (A) 16.  
 (B) 15.  
 (C) 14.  
 (D) 13.  
 (E) 12.
30. Determinado tipo de detergente é vendido em galões e, para utilizá-lo, é necessário fazer uma mistura com a seguinte proporção: 250 mL de detergente para 950 mL de água. Para preparar 6 litros dessa mistura (detergente + água), a quantia necessária de detergente, em litros, é
- (A) 2,25.  
 (B) 2,00.  
 (C) 1,75.  
 (D) 1,50.  
 (E) 1,25.

## ATUALIDADES

**31.** A Arábia Saudita executou neste sábado (2 de janeiro) 47 acusados de pertencer a facções terroristas e de planejar ataques contra o país. Entre os mortos, está o proeminente clérigo xiita dissidente Nimr Baqir al Nimr. Nimr, 56, foi sentenciado à morte por desobedecer as autoridades, instigar a violência sectária e ajudar células terroristas. O clérigo, muito crítico da dinastia sunita Al Saud, liderou em fevereiro de 2011 protestos oposicionistas na parte leste do país, onde está concentrada a minoria xiita saudita.

(Folha de S. Paulo, 2 jan.16.  
Disponível em: <<http://goo.gl/IJ7PgX>> Adaptado)

Um dos desdobramentos da execução do clérigo xiita pela Arábia Saudita foi

- (A) a transformação da Arábia Saudita em alvo do terrorismo praticado pelo Estado Islâmico.
- (B) o rompimento das relações diplomáticas entre a Arábia Saudita e o Irã.
- (C) a aproximação da Arábia Saudita com os EUA, devido às afinidades geopolíticas.
- (D) a conciliação entre o governo sírio, crítico da religião xiita, e os sauditas.
- (E) a explosão de um conflito direto entre os sauditas, sunitas, e os iraquianos, xiitas.

**32.** No dia 1º de fevereiro, os cidadãos do país iniciarão a escolha dos candidatos que vão disputar a presidência em novembro. Dois dos principais personagens da disputa, um de cada partido, vêm de fora do perfil tradicional dos políticos: o polêmico bilionário que lidera a corrida de um lado, e o senador “socialista” que cresce nas pesquisas de outro. Na prática, os dois extremos mobilizam a nação.

(O Globo, 24 jan.16. Disponível em: <<http://goo.gl/czwelu>> Adaptado)

A reportagem trata do cenário eleitoral

- (A) na Alemanha.
- (B) na França.
- (C) na Venezuela.
- (D) nos EUA.
- (E) na Argentina.

**33.** Parlamento espanhol é constituído com impasse sobre novo governo

(G1, 13 jan.16. Disponível em: <<http://goo.gl/p3oLRD>> Adaptado)

O impasse se deve ao fato de que

- (A) nenhum partido obteve maioria absoluta, o que exige a formação de uma coalizão para a eleição do novo presidente do governo espanhol.
- (B) as assembleias regionais de diferentes regiões, incluindo a Andaluzia e o País Basco, são controladas por partidos separatistas.
- (C) os partidos majoritários no Congresso defendem a saída da Espanha da Zona do Euro, o que não é aceito pelos outros países do bloco.
- (D) há uma forte polarização entre grupos políticos favoráveis e contrários à entrada de imigrantes refugiados de origem síria.
- (E) o partido que conquistou a maior parte dos votos no Congresso é favorável à abolição da monarquia no país, o que contraria a Constituição.

**34.** A Organização Mundial de Saúde (OMS) anunciou nesta quinta-feira (28 de janeiro) a criação de um Comitê de Emergência para tratar da questão. Durante sessão em Genebra, a diretora-geral da OMS afirmou que a situação no mundo mudou drasticamente e que a doença, após ser detectada no ano passado, se espalha de “forma explosiva”. “O nível de alarme é extremamente alto”, disse ela.

(Época, 28 jan.16. Disponível em: <<http://goo.gl/6vGUJb>> Adaptado)

O texto se refere

- (A) ao ebola.
- (B) ao HIV.
- (C) ao vírus zika.
- (D) à dengue.
- (E) à cólera.

35. Preso na operação que investiga desvio de dinheiro público destinado a merendas escolares, o ex-presidente da Coaf (Cooperativa Orgânica Agrícola Familiar) Cássio Izique Chebabi fechou acordo de delação premiada com o Ministério Público de São Paulo. Segundo a polícia, a cooperativa pagava propina a funcionários de prefeituras e chefes políticos em troca de contratos de fornecimento de merenda escolar. O superfaturamento chegava a 30% dos contratos, e atingiu ao menos 22 municípios paulistas.

(Folha de S.Paulo, 26 jan.16.  
Disponível em: <<http://goo.gl/8kjYO9>> Adaptado)

O nome da operação a que se refere o trecho é

- (A) Catilinárias.
- (B) Vidas Secas.
- (C) Alba Branca.
- (D) Zelotes.
- (E) Lava Jato.

36. A juíza da 35ª Vara Criminal do Rio de Janeiro condenou, pelo menos, oito policiais militares no julgamento do caso do ajudante de pedreiro Amarildo de Souza. Amarildo desapareceu no dia 14 de julho de 2013, após ser levado por PMs para a sede da UPP (Unidade de Polícia Pacificadora), localizada no Alto da Rocinha, comunidade da zona sul do Rio de Janeiro. Os PMs suspeitavam que o ajudante de pedreiro sabia onde os traficantes locais escondiam armas e drogas.

(UOL, 31 jan.16. Disponível em: <<http://goo.gl/DtWSSs>> Adaptado)

Os policiais foram condenados por

- (A) homicídio doloso triplamente qualificado.
- (B) homicídio com motivo fútil e meio cruel.
- (C) formação de quadrilha e homicídio culposo.
- (D) tortura seguida de morte e ocultação de cadáver.
- (E) assassinato de incapaz com motivo torpe.

37. *Ministério Público denuncia Neymar*

Não é só na Espanha que Neymar está passando por momentos complicados fora do campo. O craque do Barcelona também está sendo investigado no Brasil. O camisa 10 da seleção brasileira foi denunciado pelo Ministério Público Federal. A Justiça ainda irá analisar o pedido para saber se o jogador vai virar réu.

(iG, 29 jan.16. Disponível em: <<http://goo.gl/dVqVUU>> Adaptado)

O jogador foi denunciado

- (A) pelos crimes de sonegação fiscal e falsidade ideológica, relacionados ao dinheiro recebido pelas empresas do atacante durante as negociações que o levaram para atuar na Espanha.
- (B) pelo crime de evasão de divisas, por ter remetido ilegalmente dinheiro ao exterior, hoje abrigado em paraísos fiscais em que não existe cobrança de Imposto de Renda.
- (C) pelo crime de lavagem de dinheiro, por ter utilizado a sua empresa ligada à publicidade para lavar os recursos obtidos ilegalmente com o pagamento dos direitos de imagem no Santos.
- (D) pelo crime de ocultação de patrimônio, por não ter declarado algumas propriedades à Receita Federal com o objetivo de não pagar impostos sobre o valor de transferência dos bens.
- (E) pelo crime financeiro de operação de câmbio não autorizada, devido à transferência ilegal de recursos do Brasil para a Espanha depois que o jogador foi contratado pelo Barcelona.

38. O Parlamento do país aprovou a polêmica medida que confisca bens, joias e dinheiro de imigrantes que buscam asilo. A nova lei prevê que todo valor acima de 1.450 dólares seja entregue para as autoridades do país e que joias e bens que tenham valor superior a esse também sejam confiscados. O Alto Comissariado da ONU para Refugiados (Acnur) chegou a chamar a medida de “afronta aos direitos” dos refugiados. Outras entidades compararam a medida com o que os nazistas faziam com os judeus durante a Segunda Guerra Mundial.

(Terra, 26 jan.16. Disponível em: <<http://goo.gl/VuRiyR>> Adaptado)

O trecho se refere

- (A) ao Líbano.
- (B) a Portugal.
- (C) ao México.
- (D) aos EUA.
- (E) à Dinamarca.

39. Cientistas da Nasa e da Noaa (a agência americana de oceanos e atmosfera) divulgaram nesta quarta-feira (20 de janeiro) que 2015 foi o ano mais quente já registrado na história, segundo dados coletados no mundo todo. O recorde anterior durou pouco: pertencia a 2014. 2015 foi 0,16 °C mais quente que o ano anterior, o que implica em mais um recorde – nunca antes o recorde global de temperatura havia sido quebrado por uma margem tão grande. Dez dos doze meses de 2015 quebraram o recorde histórico de temperatura.

(*Super Interessante*, 20 jan.16.  
Disponível em: <<http://goo.gl/LTRKX9>> Adaptado)

Além do aquecimento global causado pela emissão de gases de efeito estufa, contribuiu para o ano quente

- (A) a redução drástica das massas de ar polar no interior dos grandes continentes, como América e Europa.
- (B) a ocorrência do fenômeno natural El Niño, que causa um aquecimento atípico no Oceano Pacífico.
- (C) a maior incidência de massas de ar quente se deslocando em direção às regiões mais frias do planeta.
- (D) a variação nas correntes marítimas, que formaram grandes ilhas de calor nos oceanos por onde costumam circular.
- (E) a maior incidência de chuvas em algumas regiões, o que favorece o aquecimento devido à evaporação de água quente.

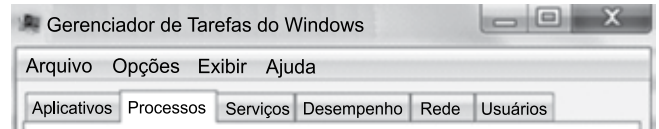
40. No dia 5 de novembro do ano passado, o rompimento da Barragem de Fundão derramou 32 milhões de metros cúbicos de lama de rejeitos de mineração no Rio Doce. O episódio causou a morte de 17 pessoas, destruiu municípios e continua causando impactos ambientais graves no rio e no oceano.

(*R7*, 19 jan.16. Disponível em: <<http://migre.me/sRe2p>> Adaptado)

Um dos desdobramentos do rompimento da barragem foi

- (A) a determinação de pagamento de multa e fechamento da empresa como mecanismo de responsabilização pelo acidente ocorrido.
- (B) o bloqueio de todas as transações financeiras no Brasil envolvendo as empresas Samarco, Vale e BHP como garantia de reparação.
- (C) a paralisação das atividades da Vale, diante da necessidade de contribuir intensamente com as regiões e pessoas afetadas.
- (D) a expulsão do Brasil da empresa estrangeira BHP, parceira da Samarco, devido à sua responsabilidade no acidente ocorrido.
- (E) a imposição de depósito de R\$ 2 bilhões da empresa por conta de uma ação movida pela União e pelos dois estados atingidos.

41. Dentre as guias da janela Gerenciador de Tarefas do MS-Windows 7, em sua configuração original, exibida parcialmente na figura, assinale a alternativa que contém aquela em que é possível finalizar o programa, neste caso o MS-Word, que por algum motivo congelou, impossibilitando assim a edição de um documento em uso pelo usuário.



- (A) Aplicativos.
- (B) Serviços.
- (C) Desempenho.
- (D) Rede.
- (E) Usuários.

42. Sabendo-se que o computador tem o MS-Windows 7 instalado, em sua configuração original, mas não possui o Microsoft Office e nem o OpenOffice, assinale a alternativa que contém o gerenciador de arquivos, editor de imagens, gerador e editor básico de textos e o menu em que estes programas se encontram, respectivamente.

- (A) Internet Explorer, PhotoShop, Bloco de Notas, Acessórios.
- (B) Internet Explorer, CorelDraw!, Word, Programas Padrão.
- (C) Windows Explorer, PaintBrush, Word, Painel de Controle.
- (D) Windows Explorer, Paint, Writer, Programas Padrão.
- (E) Windows Explorer, Paint, WordPad, Acessórios.

Considere a tabela a seguir e sua respectiva legenda, construídas no MS-Word 2010, na sua instalação padrão, para responder às questões de números 43 e 44.

Tabela 1 – Se eles falassem assim...

Algumas frases simples e memoráveis vertidas para a complicada língua do mundo dos negócios	
Frase original	Versão
<p>“Se você não é número 1 ou 2, conserte, feche ou venda.”</p> <p><i>JACK WELCH, ex-presidente da GE</i></p>	<p>“A organização deve se posicionar entre os líderes da indústria, a menos que haja mudanças imprevistas no ambiente competitivo. Nesse caso, a liderança tomará as medidas que considerar apropriadas.”</p>

43. Observando as opções do grupo Legendas, guia Referências, exibido a seguir, assinale a alternativa que contém o botão a ser pressionado para que um índice de tabelas contendo a linha “Tabela 1 – Se eles falassem assim...” seja criado automaticamente no documento.



- (A)
- (B)
- (C)
- (D)
- (E)

44. Assinale a alternativa com a ação, encontrada na guia Layout de Ferramentas de Tabela, aplicada pelo usuário em toda linha da frase de JACK WELCH de modo a transformá-la conforme exibido a seguir.

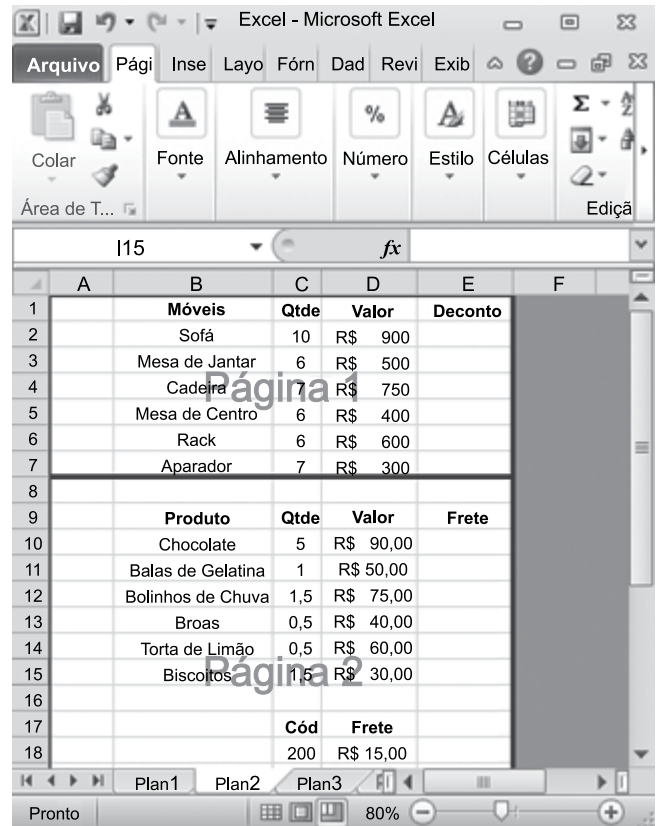
“Se você não é número 1 ou 2, conserte, feche ou venda.”

*JACK WELCH, ex-presidente da GE*

“A organização deve se posicionar entre os líderes da indústria, a menos que haja mudanças imprevistas no ambiente competitivo. Nesse caso, a liderança tomará as medidas que considerar apropriadas.”

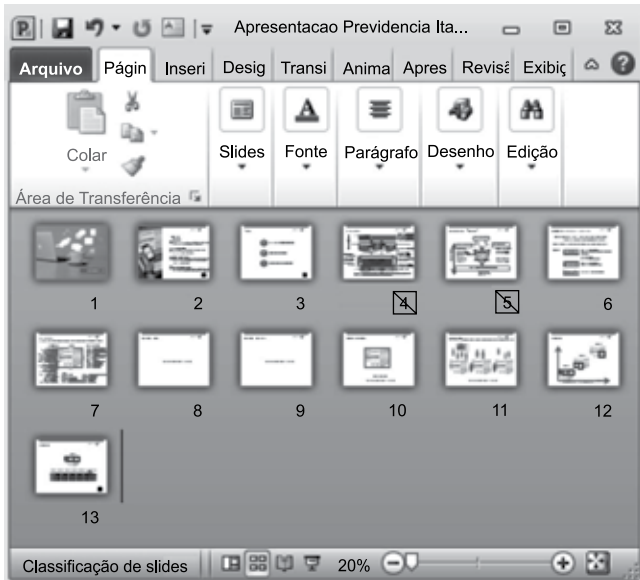
- (A)
- (B)
- (C)
- (D)
- (E)

45. Analise a planilha do MS-Excel 2010, na sua configuração padrão, exibida parcialmente na figura, e assinale a alternativa que contém o modo de exibição escolhido pelo usuário.





- (A) Layout da Página.
- (B) Normal.
- (C) Visualização de Quebra de Página.
- (D) Tela Inteira.
- (E) Layout de Leitura.

46. Considere a apresentação feita no MS-PowerPoint 2010, na sua configuração padrão, apresentada na figura.



O usuário executou a apresentação da seguinte forma:

- I. Slide 1
- II. Slide 2
- III. Slide 3 e clicou no botão de ação , preservada sua ação definida originalmente
- IV. Slide ? e clicou no botão de ação , preservada sua ação definida originalmente

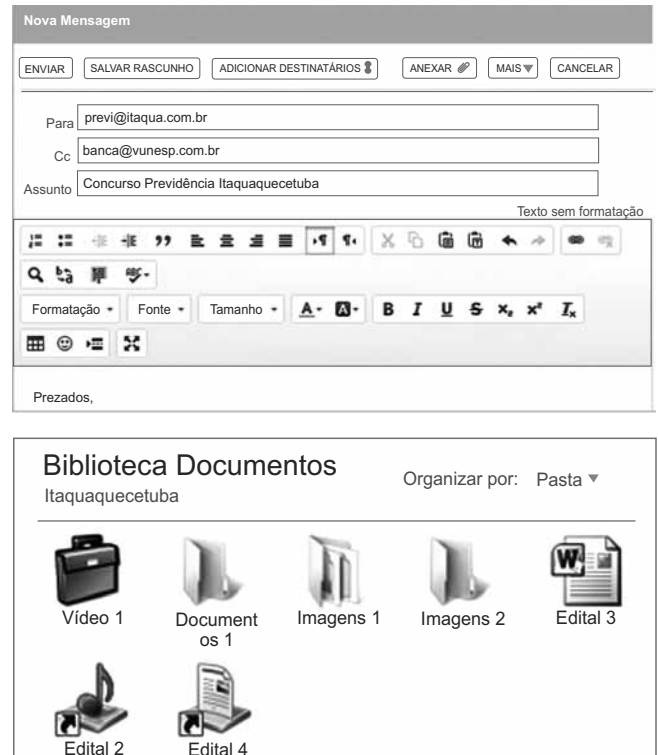
Assinale a alternativa que contém o número do slide indicado por ? e o que foi exibido após o passo IV, respectivamente.

- (A) Slide 4 e slide 3.
- (B) Slide 4 e slide 1.
- (C) Slide 6 e slide 3.
- (D) Slide 6 e slide 1.
- (E) Slide 13 e slide 1.

47. As transições de slides do MS-PowerPoint 2010, na sua configuração padrão, são os efeitos de animação que ocorrem no modo

- (A) Normal.
- (B) Classificação de Slides.
- (C) de Leitura.
- (D) Apresentação de Slides.
- (E) Slide Mestre.

48. O usuário está redigindo uma mensagem de correio eletrônico utilizando um webmail, e pretende anexar um objeto encontrado na pasta Itaquaquetuba, conforme exibido nas figuras a seguir:



Assinale a alternativa que contém o nome do objeto que pode ser anexado pelo usuário.

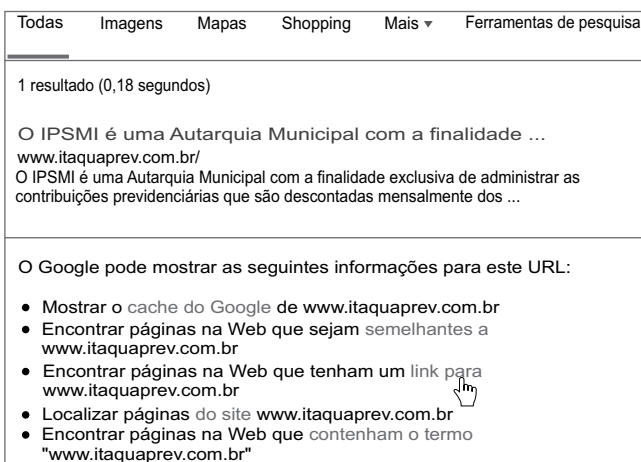
- (A) Documentos 1.
- (B) Edital 3.
- (C) Edital 2.
- (D) Video 1.
- (E) Imagens 1.


49. Observe o e-mail criado automaticamente no MS-Outlook 2010 pelo Internet Explorer 11, na sua configuração padrão, enquanto o usuário visitava a página da Fundação Vunesp.



Para criar o e-mail apresentado parcialmente na figura, no Internet Explorer, o usuário acessou o menu Arquivo, opção Enviar e clicou em

- (A) Importar e exportar...
  - (B) Anexo por Email...
  - (C) Link por Email...
  - (D) URL por Email...
  - (E) Página por Email...
50. Observe o resultado de uma busca efetuada pelo usuário no Google:



Ao clicar no item indicado por , o Google efetuará uma nova busca utilizando o comando

- (A) link:laGm9qMpXW4J:www.itaquaprev.com.br/
- (B) related:laGm9qMpXW4J:www.itaquaprev.com.br/
- (C) title:laGm9qMpXW4J:www.itaquaprev.com.br
- (D) page:laGm9qMpXW4J:www.itaquaprev.com.br
- (E) hiperlink:laGm9qMpXW4J:www.itaquaprev.com.br

