

NOME DO CANDIDATO

ASSINATURA DO CANDIDATO

RG DO CANDIDATO

**LEIA COM ATENÇÃO AS INSTRUÇÕES ABAIXO****INSTRUÇÕES GERAIS**

- I. Nesta prova, você encontrará 07 (sete) páginas numeradas sequencialmente, contendo 50 (cinquenta) questões correspondentes às seguintes disciplinas: Língua Portuguesa (10 questões), Raciocínio Lógico e Matemático (05 questões), Legislação Aplicada à EBSE RH (05 questões), Legislação Aplicada ao SUS (05 questões) e Conhecimentos Específicos (25 questões).
- II. Verifique se seu nome e número de inscrição estão corretos no cartão de respostas. Se houver erro, notifique o fiscal.
- III. Assine e preencha o cartão de respostas nos locais indicados, com caneta azul ou preta.
- IV. Verifique se a impressão, a paginação e a numeração das questões estão corretas. Caso observe qualquer erro, notifique o fiscal.
- V. Você dispõe de 4 (quatro) horas para fazer esta prova. Reserve os 20 (vinte) minutos finais para marcar o cartão de respostas.
- VI. O candidato só poderá retirar-se do setor de prova 2 (duas) horas após seu início.
- VII. O candidato não poderá levar o caderno de questões. O caderno de questões será publicado no site do ibfc, no prazo recursal contra gabarito.
- VIII. Marque o cartão de respostas cobrindo fortemente o espaço correspondente à letra a ser assinalada, conforme o exemplo no próprio cartão de respostas.
- IX. A leitora óptica não registrará as respostas em que houver falta de nitidez e/ou marcação de mais de uma alternativa.
- X. O cartão de respostas não pode ser dobrado, amassado, rasurado ou manchado. Exceto sua assinatura, nada deve ser escrito ou registrado fora dos locais destinados às respostas.
- XI. Ao terminar a prova, entregue ao fiscal o cartão de respostas e este caderno. As observações ou marcações registradas no caderno não serão levadas em consideração.
- XII. É terminantemente proibido o uso de telefone celular, pager ou similares.

**Boa Prova!**.....  
DESTAQUE AQUI

Nome:

Assinatura do Candidato:

Inscrição:

1	2	3	4	5	6	7	8	9	10	11	12	13	14	15	16	17	18	19	20	21	22	23	24	25
<input type="checkbox"/>	<input type="checkbox"/>	<input type="checkbox"/>	<input type="checkbox"/>	<input type="checkbox"/>	<input type="checkbox"/>	<input type="checkbox"/>	<input type="checkbox"/>	<input type="checkbox"/>	<input type="checkbox"/>	<input type="checkbox"/>	<input type="checkbox"/>	<input type="checkbox"/>	<input type="checkbox"/>	<input type="checkbox"/>	<input type="checkbox"/>	<input type="checkbox"/>	<input type="checkbox"/>	<input type="checkbox"/>	<input type="checkbox"/>	<input type="checkbox"/>	<input type="checkbox"/>	<input type="checkbox"/>	<input type="checkbox"/>	<input type="checkbox"/>
26	27	28	29	30	31	32	33	34	35	36	37	38	39	40	41	42	43	44	45	46	47	48	49	50
<input type="checkbox"/>	<input type="checkbox"/>	<input type="checkbox"/>	<input type="checkbox"/>	<input type="checkbox"/>	<input type="checkbox"/>	<input type="checkbox"/>	<input type="checkbox"/>	<input type="checkbox"/>	<input type="checkbox"/>	<input type="checkbox"/>	<input type="checkbox"/>	<input type="checkbox"/>	<input type="checkbox"/>	<input type="checkbox"/>	<input type="checkbox"/>	<input type="checkbox"/>	<input type="checkbox"/>	<input type="checkbox"/>	<input type="checkbox"/>	<input type="checkbox"/>	<input type="checkbox"/>	<input type="checkbox"/>	<input type="checkbox"/>	<input type="checkbox"/>

# RASCUNHO

## Texto

## Crise de Identidade

Foi na semana passada. No Leblon. Como todo mundo sabe — será que ainda sabe? —, o Leblon não é a minha praia. Sou copacabanense. Pra mim, o Leblon fica alémfrenteiras. Sou sempre um visitante em suas ruas. Olho para o bairro com olhos de turista, admirado com suas madames que almoçam fora, com os que se divertem na Rua Dias Ferreira e, principalmente, com a crença da quase totalidade de seus moradores de que o pão e o presunto foram inventados no Talho Capixaba. Nunca estou no Leblon por acaso. Dessa vez, estava indo ao dentista. Mas mudei de assunto e estou perdendo o fio da meada. Como estava dizendo, foi na semana passada. No Leblon. Ia ao dentista. Mal pisei na calçada do quarteirão a que me dirigia quando, na outra esquina, uma senhora me acenou. Bonita, cabelos brancos, esguia, bem vestida, ela veio se aproximando. Abriu um sorriso. Me conquistou. Já bem perto, abriu os braços. Parecia uma fã. Correspondi, dei-lhe um abraço e ela gritou entusiasmada: “Artur da Távola!”

Passei 23 anos ininterruptos escrevendo uma coluna que, em alguns momentos, era publicada três vezes por semana. Faz oito meses que parei. E já estão me confundindo com Artur da Távola? Não que essa confusão não seja envaidecedora. Sempre fui fã dos textos do Távola. Mas ele já não está entre nós há oito anos! Prefiro não ter o talento do mestre, mas continuar vivo. Vivo, pelo menos, eu posso continuar tentando alcançar o seu estilo.

Será que colunista afastado é colunista morto? Será que oito meses fora do jornal é tempo bastante para deixar de habitar a lista de colunistas que o leitor tem na cabeça? Outro dia mesmo, dessa vez em Copacabana, em meio a compras num mercado de produtos hortifrutigranjeiros, outra velhinha se aproximou. Disse que me lia sempre (ela não se deu conta de que eu não estava escrevendo), que se identificava com as minhas histórias, e que minha coluna era a primeira coisa que buscava no jornal às sextas-feiras. Bem que eu tentei dizer que nunca escrevi às sextas, mas ela me interrompeu e acrescentou que gostava sobretudo quando eu falava do Botafogo. Ela gostava mesmo de outro Arthur, o Dapieve. Deixei-a na ilusão de que tinha se encontrado com o ídolo. Pra que discutir com madame? E, depois, pensa bem, é muita ingenuidade da leitora imaginar que o Dapieve estaria fazendo compras num mercado de produtos hortifrutigranjeiros.

Talvez não tenha sido a minha ausência o motivo do esquecimento do leitor. Nesses 23 anos, por mais assíduo que tenha sido nas páginas do jornal, sempre fui confundido com o Zuenir, o Verissimo, o Arnaldo... só não me lembro de terem me confundido com a Cora. E olha que eu também já tive os meus gatos. Talvez a culpa seja minha e eu nunca tenha conseguido criar, nos meus textos, uma personalidade que levasse o leitor a me identificar nas ruas.

Deve acontecer algo assim com a minha voz também. De vez em quando, pego um táxi e, logo após dizer ao motorista meu destino, ele me responde com alegria: “O senhor é o Cony, não é? Ouço o senhor todo dia na CBN”. Eu confirmo e vou em frente. Ainda não desisti do plano de andar com uns livros do Cony na mochila para dar edições autografadas aos motoristas da cidade. Só não decidi ainda se eu mesmo autografo ou peço pro Cony autografar.

As vezes, desconfio que tenha transferido essa crise de identidade para os que me cercam. É muito comum encontrar algum admirador que me conhece da televisão. “Não deixo de ver o senhor no programa da Andréa Beltrão.” Ou “o senhor não está mais no programa da Maria Padilha?” Adianta eu dizer que o programa é da Maria Beltrão?

Isso tudo é pra dizer que, antes que me esqueçam definitivamente, retomo esta coluna, agora só aos domingos, na esperança de um dia o leitor me identificar, saber que eu sou eu. É fácil. Não falo de gatos, não torço pelo Botafogo, não vejo a confusão em Ipanema da minha janela, não analiso a conjuntura política, nunca escrevi um livro de mistério. Sou o outro, aquele outro, aquele que fala de amenidades, pega no pé do prefeito, vê novelas... lembra? Aquele que organiza a eleição da Mala do Ano, já fez o concurso do Zum de Besouro e teve uma ou duas brigas com o Caetano. Ainda não lembrou? Então esquece tudo isso. Eu prefiro ser identificado

como aquele que tem muita honra em estar em página próxima aos textos do Zuenir, do Verissimo, do Nelson Motta, do Cacá, da Cora, do Dapieve, dos Arnaldos, do Agualusa... São muitos colunistas talentosos. Sou só mais um. Aquele com menos talento, o que todo mundo confunde com os outros, mas que não cabe em si de satisfação em ter a oportunidade de voltar a se encontrar semanalmente com o leitor. Crônica é diálogo. Não basta eu escrever. Tem que ter você aí do outro lado para ler. É um prazer reencontrá-lo.

Ou ninguém leu e eu estou falando sozinho?

(Artur Xexéo)

**1) A leitura da crônica revela que as colocações feitas por Artur Xexéo traduzem o objetivo central de:**

- Criticar os moradores do Leblon
- Confrontar defeitos e virtudes de dois bairros cariocas.
- Refletir sobre seu desconhecimento pelo público
- Homenagear grandes autores
- Informar que voltará a escrever mensalmente.

**2) Com base no texto, a crise de identidade a que o título faz menção justifica-se:**

- Pelo autor estar confuso com seus valores e convicções depois de tanto tempo escrevendo para o mesmo público.
- Devido ao autor estar sem assunto para escrever depois de tanto tempo.
- Devido à crônica falar sobre vários autores, destacando a grandiosidade dos mesmos frente a sua pequenez.
- Devido ao autor crer que sua existência enquanto pessoa está atrelada ao seu reconhecimento nas ruas.
- Pelo fato de o autor ser confundido, constantemente, com outros escritores.

**3) “Copacabanense” (1º§) é um adjetivo criado pelo autor. De acordo com o texto, é possível inferir que ele é um indicador de:**

- Seu estado emocional
- Seu local de moradia
- Suas convicções políticas
- Sua profissão
- Suas pretensões culturais

**4) Assinale a opção que apresenta, corretamente, a classificação sintática dos termos em destaque na frase “Bonita, cabelos brancos, esguia, bem vestida, ela veio se aproximando” (1º§):**

- Predicativo do Sujeito.
- Adjunto adnominal.
- Sujeito.
- Predicativo do objeto.
- Aposto.

**Considere o segundo parágrafo do texto, transcrito a seguir, para responder às questões de 5 a 7**

*“Passei 23 anos ininterruptos escrevendo uma coluna que, em alguns momentos, era publicada três vezes por semana. Faz oito meses que parei. E já estão me confundindo com Artur da Távola? Não que essa confusão não seja envaidecedora. Sempre fui fã dos textos do Távola. Mas ele já não está entre nós há oito anos! Prefiro não ter o talento do mestre, mas continuar vivo. Vivo, pelo menos, eu posso continuar tentando alcançar o seu estilo.”*

- 5) A pontuação, além de um recurso gramatical sujeito a regras, pode contribuir, significativamente, para a expressividade do texto, sugerindo, inclusive, efeitos de sentido. Sendo assim, levando em consideração o contexto em que aparece, assinale a opção que MELHOR expressa a ideia sugerida pela interrogação em “E já estão me confundindo com Artur da Távola?”:
- Possibilidade
  - Medo
  - Piedade
  - Ressentimento
  - Raiva
- 6) Assinale a opção cuja concordância verbal seja equivalente a que aparece em “Faz oito meses que parei”:
- Ao longo da vida, fazemos muitas coisas de que nos arrependemos.
  - Todos haviam chegado cedo.
  - Havia pessoas demais na festa.
  - Todos se fizeram presentes na festa.
  - A mãe faz tudo o que ela quer.
- 7) Atentando-se às regras de regência verbal e preocupando-se em manter o sentido original, a reescritura da frase “Prefiro não ter o talento do mestre, mas continuar vivo.” estaria correta apenas em:
- Prefiro não ter o talento do mestre do que continuar vivo.
  - Prefiro não ter o talento do mestre a continuar vivo.
  - Prefiro continuar vivo a ter o talento do mestre.
  - Prefiro continuar vivo do que ter o talento do mestre.
  - Prefiro ter o talento do mestre do que continuar vivo.
- 8) Um texto bem construído é marcado pelas relações entre as palavras, as frases e os parágrafos que o constituem, estabelecendo nexos coesivos. Assim, ao mesmo tempo em que um texto progride, há a constante retomada de elementos já mencionados. Nesse sentido, no último parágrafo, ao dizer “Isso tudo é pra dizer que, antes que me esqueçam definitivamente, retomo esta coluna, agora só aos domingos (...)”, o pronome em destaque tem seu referente corretamente indicado em:
- O Programa da Maria Beltrão, cuja apresentadora também é confundida.
  - Todos os casos de não-identificação do colunista.
  - Os textos de Artur da Távola, os quais admira.
  - O engano ocorrido no táxi, no qual foi confundido com Cony.
  - Sua antiga coluna, publicada por 23 anos.
- 9) No quarto parágrafo, Artur Xexéo faz uma reflexão acerca dos motivos que teriam causado a dificuldade de seu reconhecimento frente a autores. Sobre isso, assinale a única alternativa que, segundo ele, pode ser o motivo determinante:
- Oito meses de afastamento fizeram com que os leitores o esquecessem.
  - Ele e outros autores têm o mesmo estilo de escrita.
  - Ele não escreve bem como os outros, que são superiores tanto em qualidade quanto em quantidade de publicações.
  - Há entre ele e os demais autores semelhanças físicas e de hábitos, como pegar táxi e frequentar hortifrutigranjeiros..
  - O autor não foi capaz de marcar os textos com seu estilo, por meio do qual ele seria identificado nas ruas.

- 10) Observando o padrão culto da língua, assinale a alternativa cujo fragmento transcrito do texto represente um emprego **INCORRETO** de colocação pronominal:
- “Me conquistou.” (1º§)
  - “E já estão me confundindo com Artur da Távola?” (2º§)
  - “Disse que me lia sempre (...)” (3º§)
  - “(…)sempre fui confundido com o Zuenir, o Veríssimo, o Arnaldo... só não me lembro (...)” (4º§)
  - “(…)nunca escrevi às sextas, mas ela me interrompeu (...)” (4º§)

### RACIOCÍNIO LÓGICO E MATEMÁTICO

- 11) João comprou um produto e pagou R\$ 216,00 já incluso 20% de acréscimo sobre o valor real do produto. Nessas condições  $\frac{2}{3}$  do valor real do produto equivale a:
- R\$ 115,20
  - R\$ 120,00
  - R\$ 60,00
  - R\$ 144,00
  - R\$ 172,80
- 12) Numa academia foi feita uma pesquisa sobre as modalidades que os 120 frequentadores utilizam e o resultado foi o seguinte: 85 fazem natação, 70 fazem musculação e 65 fazem ginástica, 42 fazem natação e musculação, 38 fazem natação e ginástica e 18 fazem as três modalidades. Se todos os frequentadores fazem pelo menos uma modalidade, então o total de frequentadores que fazem musculação e ginástica, é:
- 45
  - 30
  - 20
  - 28
  - 38
- 13) A frase “Se a ave voa, então o sapo pula” é equivalente a frase:
- A ave não voa ou o sapo pula.
  - O sapo não pula ou a ave voa.
  - Se o sapo pula, então a ave não voa.
  - O sapo pula se, e somente se, a ave voa.
  - A ave não voa e o sapo não pula.
- 14) Se o valor lógico de uma proposição p é verdade e o valor lógico de uma proposição q é falso, então é correto afirmar que o valor lógico de:
- p conjunção q é verdade.
  - p disjunção q é falso.
  - p condicional q é falso.
  - p bicondicional q é verdade.
  - q condicional p é falso.
- 15) Um argumento válido para: “Se João estudou, então Paulo foi aprovado no concurso. Se Paulo foi aprovado no concurso, então Ana não é dentista”, é:
- Se João estudou, então Ana é dentista.
  - Se João não estudou, então Ana não é dentista.
  - Se João não estudou, então Ana é dentista.
  - Se João estudou, então Ana não é dentista.
  - Se João não estudou, então Paulo não foi aprovado no concurso.

**16) Considere as disposições do regimento interno da EBSEERH (Empresa Brasileira de Serviços Hospitalares) e assinale a alternativa correta.**

- a) A EBSEERH tem por finalidade a prestação de serviços gratuitos de atenção médico-hospitalar, ambulatorial e de apoio diagnóstico e terapêutico à comunidade, bem como a prestação, às instituições públicas federais de ensino ou instituições congêneres, de serviços de apoio ao ensino, à pesquisa e à extensão, ao ensino-aprendizagem e à formação de pessoas no campo da saúde pública, observada, nos termos da Constituição Federal, a autonomia universitária.
- b) A EBSEERH tem por finalidade a prestação de serviços pagos de atenção médico-hospitalar, ambulatorial e de apoio diagnóstico e terapêutico à comunidade, bem como a prestação, às instituições públicas federais de ensino ou instituições congêneres, de serviços de apoio ao ensino, à pesquisa e à extensão, ao ensino-aprendizagem e à formação de pessoas no campo da saúde pública, observada, nos termos da Constituição Federal, a autonomia universitária.
- c) A EBSEERH tem por finalidade a prestação de serviços pagos de atenção médico-hospitalar, ambulatorial e de apoio diagnóstico e terapêutico à comunidade, bem como a prestação, às instituições públicas federais de ensino ou instituições congêneres, de serviços de apoio ao ensino, à pesquisa e à extensão, ao ensino-aprendizagem e à formação de pessoas no campo da administração pública, observada, nos termos da Constituição Federal, a autonomia universitária.
- d) A EBSEERH tem por finalidade a prestação de serviços conveniados de atenção médico-hospitalar, ambulatorial e de apoio diagnóstico e terapêutico à comunidade, bem como a prestação, às instituições públicas federais de ensino ou instituições congêneres, de serviços de apoio ao ensino, à pesquisa e à extensão, ao ensino-aprendizagem e à formação de pessoas no campo da saúde pública, sendo inaplicável a autonomia universitária.
- e) A EBSEERH tem por finalidade a prestação de serviços gratuitos de atenção médico-hospitalar, ambulatorial e de apoio diagnóstico e terapêutico à comunidade, bem como a prestação, às instituições públicas federais de ensino ou instituições congêneres, de serviços de apoio ao ensino, à pesquisa e à extensão, ao ensino-aprendizagem e à formação de pessoas no campo da saúde pública, sendo inaplicável a autonomia universitária.

**17) Assinale a alternativa correta sobre as finalidades da EBSEERH (Empresa Brasileira de Serviços Hospitalares) segundo seu regimento interno.**

- a) Criar, juntamente com as universidades, condições de apoio para o aperfeiçoamento do ensino e da produção de conhecimento, exclusivamente em pesquisas básicas ou clínicas, nos hospitais universitários federais, assim como em unidades descentralizadas da Ebserh.
- b) Criar, juntamente com as universidades, condições de apoio para o aperfeiçoamento do ensino e da produção de conhecimento, exclusivamente em pesquisas clínicas ou tecnológicas, nos hospitais universitários federais, assim como em unidades descentralizadas da Ebserh.
- c) Criar, juntamente com as universidades, condições de apoio para o aperfeiçoamento do ensino e da produção de conhecimento em pesquisas básicas, clínicas, tecnológicas ou aplicadas, nos hospitais universitários federais, assim como em unidades descentralizadas da Ebserh.
- d) Criar, juntamente com as universidades, condições de apoio para o aperfeiçoamento do ensino e da produção de conhecimento, exclusivamente em pesquisas clínicas, nos hospitais universitários federais, assim como em unidades descentralizadas da Ebserh.
- e) Criar, juntamente com as universidades, condições de apoio para o aperfeiçoamento do ensino e da produção de conhecimento, exclusivamente em pesquisas clínicas ou aplicadas, nos hospitais universitários federais, assim como em unidades descentralizadas da Ebserh.

**18) Considere as disposições do regimento interno da EBSEERH (Empresa Brasileira de Serviços Hospitalares) e assinale a alternativa correta sobre o Conselho de Administração.**

- a) O Conselho de Administração reunir-se-á, ordinariamente, a cada dois meses e, extraordinariamente, sempre que for convocado pelo Presidente, a seu critério, ou por solicitação de, pelo menos, quatro de seus membros e somente deliberará com a presença da maioria absoluta de seus membros.
- b) O Conselho de Administração reunir-se-á, ordinariamente, a cada quinzena e, extraordinariamente, sempre que for convocado pelo Presidente, a seu critério, ou por solicitação de, pelo menos, três de seus membros e somente deliberará com a presença da maioria absoluta de seus membros.
- c) O Conselho de Administração reunir-se-á, ordinariamente, a cada mês e, extraordinariamente, sempre que for convocado pelo Presidente, a seu critério, ou por solicitação de, pelo menos, cinco de seus membros e somente deliberará com a presença de qualquer número de seus membros.
- d) O Conselho de Administração reunir-se-á, ordinariamente, a cada mês e, extraordinariamente, sempre que for convocado pelo Presidente, a seu critério, ou por solicitação de, pelo menos, três de seus membros e somente deliberará com a presença de qualquer número de seus membros.
- e) O Conselho de Administração reunir-se-á, ordinariamente, a cada mês e, extraordinariamente, sempre que for convocado pelo Presidente, a seu critério, ou por solicitação de, pelo menos, quatro de seus membros e somente deliberará com a presença da maioria absoluta de seus membros.

**19) Considere as disposições do regimento interno da EBSEERH (Empresa Brasileira de Serviços Hospitalares) e assinale a alternativa correta.**

- a) A execução das atividades da Ebserh, por intermédio de suas filiais e unidades descentralizadas, dar-se-á por meio da celebração de contrato específico para esse fim, nos termos da Lei de Registros Públicos.
- b) A execução das atividades da Ebserh, por intermédio de suas filiais e unidades descentralizadas, dar-se-á por meio da celebração de contrato específico para esse fim, nos termos da Lei nº 12.550/2011.
- c) A execução das atividades da Ebserh, por intermédio de suas filiais e unidades descentralizadas, dar-se-á por meio de criação de lei específica para esse fim, nos termos da Lei de Licitações.
- d) A execução das atividades da Ebserh, por intermédio de suas filiais e unidades descentralizadas, dar-se-á por meio de criação de lei específica para esse fim, nos termos da Lei de Registros Públicos.
- e) A execução das atividades da Ebserh, por intermédio de suas filiais e unidades descentralizadas, dar-se-á por meio de acordos informais, nos termos da Lei de Registros Públicos.

20) Considere as disposições da Lei Federal nº 12.550, de 15/12/2011, que trata da EBSEH (Empresa Brasileira de Serviços Hospitalares) e assinale a alternativa correta sobre a integralização do capital social.

- a) A integralização do capital social será realizada com recursos oriundos de dotações consignadas no orçamento da União e dos Estados, bem como pela incorporação de qualquer espécie de bens e direitos suscetíveis de avaliação em dinheiro.
- b) A integralização do capital social será realizada com recursos oriundos de dotações consignadas no orçamento da União, dos Estados e dos Municípios, bem como pela incorporação de qualquer espécie de bens e direitos suscetíveis de avaliação em dinheiro.
- c) A integralização do capital social será realizada com recursos oriundos de dotações consignadas no orçamento da União e dos Estados, vedada a incorporação de qualquer espécie de bens e direitos, ainda que suscetíveis de avaliação em dinheiro.
- d) A integralização do capital social será realizada com recursos oriundos de dotações consignadas no orçamento da União, dos Estados e dos Municípios, vedada a incorporação de qualquer espécie de bens e direitos, ainda que suscetíveis de avaliação em dinheiro.
- e) A integralização do capital social será realizada com recursos oriundos de dotações consignadas no orçamento da União, bem como pela incorporação de qualquer espécie de bens e direitos suscetíveis de avaliação em dinheiro.

#### LEGISLAÇÃO APLICADA AO SUS

21) Considerando o histórico da construção do Sistema Único de Saúde-SUS, assim como o papel das Conferências Nacionais de Saúde, analise as sentenças abaixo, classificando-as como V(verdadeira) ou F (falsa). A seguir, assinale a alternativa que contém a sequência correta, de cima para baixo:

- ( ) A 8ª Conferência Nacional de Saúde aprovou as diretrizes para a criação do Sistema Único de Saúde (SUS).
  - ( ) a 9ª Conferência Nacional de Saúde teve como principal demanda a descentralização da saúde, que seria obtida com a municipalização dos serviços.
  - ( ) A 8ª Conferência Nacional de Saúde resultou, quase que de imediato, na implantação do Sistema Unificado e Descentralizado de Saúde (SUDS) e na incorporação do INAMPS ao Ministério da Saúde, ambos no período que antecedeu à Constituição da República Federativa de 1988.
- a) V,V,V.
  - b) F,F,V.
  - c) F,F,F.
  - d) V,F,V
  - e) V,V,F.

22) Atualmente, o sistema de informação em saúde que objetiva e permite obter informações sobre cadastros de famílias, condições de moradia e saneamento, situação de saúde, produção e composição das equipes de saúde é o:

- a) O SIAB (Sistema de Informação da Atenção Básica).
- b) O SIPACS (Sistema de Informação do Programa de Agentes Comunitários de Saúde).
- c) O SIA SUS (Sistema de Informações Ambulatoriais do SUS).
- d) O MONITOR ESF (Sistema de Monitoramento de Indicadores da Estratégia da Saúde da Família).
- e) O DATASUS (Departamento de Informática do Sistema Único de Saúde).

23) Nos Conselhos de Saúde as vagas que devem ser ocupadas por entidades e movimentos representativos de usuários, correspondem em relação ao total de conselheiros a percentual de:

- a) 25%.
- b) 33,3%.
- c) 50%.
- d) 20%.
- e) 75%.

24) Sobre a hierarquização e acesso ao SUS, assinale a alternativa **incorreta**.

- a) Mediante justificativa técnica e de acordo com o pactuado nas Comissões Intergestores, os entes federativos poderão criar novas Portas de Entrada às ações e serviços de saúde, considerando as características da Região de Saúde.
- b) São Portas de Entrada às ações e aos serviços de saúde nas Redes de Atenção à Saúde os serviços de atenção primária, de urgência e emergência e de atenção psicossocial apenas.
- c) Os serviços de atenção hospitalar e os ambulatoriais especializados, entre outros de maior complexidade e densidade tecnológica, serão referenciados pelas Portas de Entrada.
- d) O acesso universal e igualitário às ações e aos serviços de saúde será ordenado pela atenção primária e deve ser fundado na avaliação da gravidade do risco individual e coletivo e no critério cronológico, observadas as especificidades previstas para pessoas com proteção especial, conforme legislação vigente.
- e) A população indígena contará com regramentos diferenciados de acesso, compatíveis com suas especificidades.

25) O gestor estadual de saúde propõe priorizar investimentos em municípios de médio porte, com reduzida capacidade instalada para atendimento de pacientes com insuficiência coronariana aguda. Pode-se dizer que essa proposta:

- a) Desrespeita o princípio da universalidade, do SUS.
- b) Desrespeita o princípio da participação da comunidade na gestão do SUS.
- c) Desrespeita o princípio utilização da epidemiologia para o estabelecimento de prioridades.
- d) É coerente com o princípio da equidade, do SUS.
- e) Contraria o princípio da organização dos serviços públicos de modo a evitar duplicidade de meios para fins idênticos.

#### CONHECIMENTOS ESPECÍFICOS

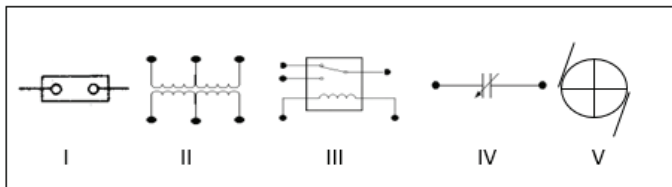
26) São características de um amplificador diferencial:

- I. O circuito fornece o ganho da tensão para sinais diferenciais nas entradas.
- II. O circuito atenua sinais que interferem em modo-comum.
- III. O circuito fornece as entradas invertida e não-invertida necessárias para os amplificadores operacionais.

Das afirmações apresentadas, estão corretas.

- a) I, II e III.
- b) Apenas I e III.
- c) Apenas I e II.
- d) Apenas II e III.
- e) Apenas a I.

- 27) O relé eletromecânico, como o próprio nome diz, é um dispositivo formado por uma parte elétrica e outra mecânica. Assinale a alternativa que representa o relé eletromecânico.



- a) Figura II.  
b) Figura IV.  
c) Figura I.  
d) Figura III.  
e) Figura V.

- 28) A escolha pelo hospital do sistema de aterramento depende do tamanho da instalação e da norma IEC, e podem ser resumidos como se segue:

- I. Nas unidades de saúde de grande porte, o sistema TN-S é geralmente utilizado, uma vez que as instalações estão equipadas com a sua própria subestação transformadora.  
II. Em hospitais de pequeno porte, o sistema TT é o mais utilizado.  
III. Em todos os hospitais, ambientes de pacientes em locais do Grupo A utilizam o sistema de TI-CT médica.

Das afirmações apresentadas, estão corretas.

- a) Apenas II e III.  
b) Apenas a I.  
c) Apenas I e II.  
d) Apenas I e III.  
e) I, II e III.

- 29) Um forno para assepsia de instrumentos funciona em regime normal, com uma resistência térmica de 2.880 watts, operando numa tensão de 220 Vac. Com base nesses dados, a resistência equivalente do forno vale o expresso na alternativa:

- a) 0,86  $\Omega$ .  
b) 13,92  $\Omega$ .  
c) 28,80  $\Omega$ .  
d) 7,26  $\Omega$ .  
e) 16,80  $\Omega$ .

- 30) Equipamento que emite feixes de luz que passam através do sangue no dedo ou do lóbulo da orelha para mensurar seu oxigênio. Os feixes de luz são lidos para calcular a porcentagem do transporte de oxigênio. Este método também proporciona a leitura da sua frequência cardíaca (pulso). Este equipamento recebe o nome descrito na alternativa:

- a) Autorefrator.  
b) Oxímetro.  
c) Capnometic.  
d) Otoscópio.  
e) Nebulizador.

- 31) O sinal eletromiográfico (EMG), ou eletromiograma é o somatório algébrico de todos os sinais detectados sob a área de alcance dos eletrodos, podendo ser afetado por:

- I. Propriedades musculares.  
II. Propriedades anatômicas.  
III. Propriedades fisiológicas.  
IV. Controle do sistema nervoso periférico.  
V. Instrumentação utilizada para a aquisição.

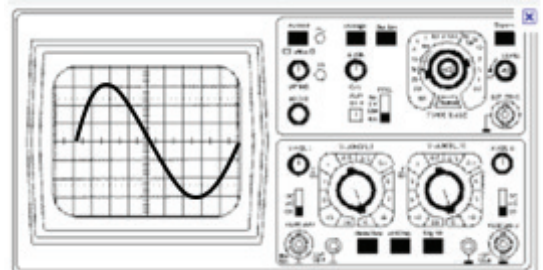
Das afirmações apresentadas, estão corretas.

- a) Apenas II, IV e V.  
b) I, II, III, IV e V.  
c) Apenas I, II, III e IV.  
d) Apenas II, III e V.  
e) Apenas I, III e V.

- 32) É um equipamento no qual a proteção contra choque elétrico não se fundamenta apenas na isolação básica, incorpora precaução de segurança adicional, que consiste em um recurso de conexão do equipamento ao condutor de aterramento, para proteção pertencente à fixação fixa da instalação, de modo a impossibilitar que as partes metálicas acessíveis possam ficar sob tensão, na ocorrência de uma falha da isolação básica. A este equipamento, atribui-se a classificação indicada na alternativa:

- a) Equipamento de Classe I.  
b) Equipamento de Classe III.  
c) Equipamento de Classe IV.  
d) Equipamento de Classe II.  
e) Equipamento de Classe V.

- 33) O equipamento apresentado a seguir está configurado para 5 V/divisão. A onda apresentada é senoidal, e o valor rms do sinal vale o descrito na alternativa:



- a) 14,4 V.  
b) 12,8 V.  
c) 19,6 V.  
d) 21,2 V.  
e) 30,0 V.

- 34) Segundo legislação específica, a cor na área de segurança que representa riscos de agentes biológicos é a descrita na alternativa:

- a) Vermelho.  
b) Preto.  
c) Marrom.  
d) Amarela.  
e) Azul.

- 35) Segundo o que se encontra no mercado literário e normas pertinentes, a estimativa de consumo diário de água quente em hospitais e casas de saúde, por leito, é a descrita na alternativa:

- a) 50 litros de água/dia.  
b) 350 litros de água/dia.  
c) 500 litros de água/dia.  
d) 125 litros de água/dia.  
e) 400 litros de água/dia.

36) Segundo o que se encontra no mercado literário e normas pertinentes, a estimativa de consumo diário de água fria em hospitais e casas de saúde, por leito, é a descrita na alternativa:

- a) 100 litros de água/dia.
- b) 500 litros de água/dia.
- c) 750 litros de água/dia.
- d) 1000 litros de água/dia.
- e) 250 litros de água/dia.

37) Segundo a lei que instituiu as normas para licitações e contratos na administração pública, as compras, sempre que possível deverão obedecer:

- I. Atender ao princípio da padronização, que imponha compatibilidade de especificações técnicas e de desempenho, observadas, quando for o caso, as condições de manutenção, assistência técnica e garantia oferecidas.
- II. Ser processadas através de sistema de registro de preços.
- III. Submeter-se às condições de aquisição e pagamento semelhantes às do setor privado.
- IV. Ser concentrada em parcela única para aproveitar as peculiaridades do mercado, visando economicidade.

**Das afirmações apresentadas.**

- a) Apenas I, II e III estão corretas.
- b) Apenas II, III e IV estão corretas.
- c) Apenas II e III estão corretas.
- d) Apenas I, III e IV estão corretas.
- e) I, II, III e IV estão corretas.

38) Licitação é o procedimento administrativo mediante o qual a Administração Pública seleciona a proposta mais vantajosa para o contrato de seu interesse. Visa a propiciar iguais oportunidades aos que desejam contratar com o Poder Público, dentro dos padrões previamente estabelecidos pela Administração, e atua como fator de eficiência e moralidade nos negócios administrativos. Com base no texto, assinale a alternativa correta em relação ao que se afirma a seguir.

- I. Objeto da licitação, “é a obra, o serviço, a compra, a alienação, a concessão, a permissão e a locação que, afinal, será contratada com o particular”.
- II. O objeto deve ser descrito de forma a traduzir a real necessidade do Poder Público, com todas as características indispensáveis, afastando-se, evidentemente, as características irrelevantes e desnecessárias, que têm o condão de restringir a competição.
- III. Ao definir de forma correta um objeto a ser licitado, não somente a Administração beneficia-se dos resultados ao final, quando de sua entrega, porém, principalmente o licitante, pois lhe possibilitará sua perfeita compreensão e quantificação das propostas para a contratação almejada.
- IV. Como regra, toda e qualquer licitação exige que a Administração estabeleça, de modo preciso e satisfatório, as condições da disputa. Mais precisamente, a Administração tem de licitar aquilo que contratará – o que significa saber como é produzido o objeto a ser licitado.

**Das afirmações apresentadas, estão corretas:**

- a) Apenas I, II e IV.
- b) Apenas I, II e III.
- c) Apenas II e III.
- d) Apenas I, III e IV.
- e) I, II, III e IV.

39) Os princípios básicos que regem as licitações públicas estão elencados a seguir, exceto pelo que se lê na alternativa:

- a) Isonomia.
- b) Publicidade.
- c) Improbidade administrativa.
- d) Impessoalidade.
- e) Julgamento objetivo.

40) O documento ANVISA que dispõe sobre o regulamento técnico para o planejamento, programação, elaboração e avaliação de projetos físicos de estabelecimentos assistências de saúde é o descrito na alternativa:

- a) NBR 5410.
- b) NR 17.
- c) ANS 2006.
- d) RDC no 50.
- e) ANVISA 1799/2001.

41) Numa instalação hospitalar as cores das canalizações para levar óxido nitroso medicinal e oxigênio medicinal são as respectivamente descritas na alternativa:

- a) Verde e cinza claro.
- b) Amarelo segurança e verde.
- c) Azul e cinza escuro.
- d) Azul-marinho e verde.
- e) Cinza claro e amarelo.

42) Num ambiente hospitalar a cor que apresenta o efeito temperatura “frio ou neutro” e a disposição psíquica “Muito Tranquilizante” é a descrita na alternativa:

- a) Violeta.
- b) Amarelo.
- c) Laranja.
- d) Marrom.
- e) Verde.

As questões 43 a 45, são da área temática “Gerenciamento de Projetos”. Considere a tabela a seguir para responde-las.

Processo	Dependência	Dias corridos
A	NÃO TEM	10
B	NÃO TEM	16
C	A	17
D	A	15
E	B	19
F	B	15
G	C, D	9
H	E, F	14

43) A Última Data de Término (UDT), que a data limite para o término do processo A que iniciou na Última Data de início (UDI), sob pena de atrasar o término do projeto é a descrita na alternativa.

- a) 26 dias.
- b) 16 dias.
- c) 23 dias.
- d) 10 dias.
- e) 27 dias.



44) A primeira Data de Início (PDI) da atividade H, considerando que os processos antecedentes foram realizados dentro do esperado se encontra descrita na alternativa:

- a) 16 dias.
- b) 35 dias.
- c) 27 dias.
- d) 49 dias.
- e) 14 dias.

45) O caminho crítico do projeto (CPM) é o descrito na alternativa:

(X = atividade fantasma)

- a) B-E-H.
- b) A-C-G.
- c) A-D-G.
- d) A-C-X-G.
- e) B-F-H.

46) A seguir são descritos tipos de capacitores, exceto pelo que se lê na alternativa:

- a) Capacitores de Vanádio.
- b) Capacitores de Mica.
- c) Capacitores Cerâmicos.
- d) Capacitores Eletrolíticos.
- e) Capacitores de Poliéster.

47) Analise as afirmativas abaixo e assinale a alternativa correta.

- I. Um indutor é um dispositivo elétrico ativo que armazena energia na forma de campo magnético.
- II. Um indutor com núcleo de material ferromagnético aumenta a indutância concentrando as linhas de força de campo elétrico que fluem pelo interior das espiras.
- III. Os indutores ou bobinas apresentam núcleos (espaço interno entre as extremidades das espiras), que podem ser: ar; ferrite; ferro laminado.
- IV. O tamanho dos indutores é proporcional a sua indutância e quanto maior o número de espiras de um indutor, maior é a sua indutância em henrys.

- a) Apenas I, III e IV.
- b) Apenas II, III e IV.
- c) Apenas I e IV.
- d) Apenas III e IV.
- e) Apenas I, II e III.

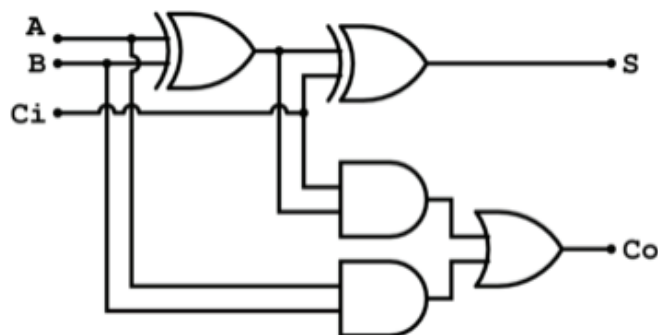
48) O resistor que varia sua resistência à passagem da corrente elétrica de acordo com a incidência de luz sobre ele recebe o nome descrito na alternativa:

- a) NTC.
- b) PTC.
- c) LDR.
- d) TERMISTOR.
- e) VDR.

49) A família de dispositivos semicondutores multicamadas, que operam em regime de chaveamento, tendo em comum uma estrutura de no mínimo quatro camadas semicondutoras numa sequência P-N-P-N (três junções semicondutoras), apresentando um comportamento funcional, recebe o nome descrito na alternativa:

- a) Diac de via dupla.
- b) Tiristor.
- c) Diodo reverso com dupla camada.
- d) Transistor Shocttly.
- e) Transistor Tetrapolar.

50) Com base em seus conhecimentos em Sistemas Digitais, assinale a alternativa que descreve o circuito digital da figura a seguir.



- a) Somador completo.
- b) Multiplicador.
- c) Diferenciador.
- d) Subtrator binário.
- e) Replicador binário.

