

CONCURSO PÚBLICO - 01/2015



INSTITUTO
LEGATUS



007 - ASSISTENTE ADMINISTRATIVO

LEIA ATENTAMENTE AS INSTRUÇÕES SEGUINTES

Informações ao candidato:

- Para a realização desta prova, você está recebendo este CADERNO DE QUESTÕES. No momento oportuno, lhe será entregue a sua FOLHA DE RESPOSTAS personalizada.
- Verifique se este CADERNO DE QUESTÕES corresponde à sua opção de cargo e possui 40 (quarenta) questões, numeradas de 01 a 40. Do contrário, solicite outro ao FISCAL, imediatamente. Não serão aceitas reclamações posteriores.
- Para cada questão existe apenas uma resposta correta, que deverá ser assinalada na FOLHA DE RESPOSTAS, com caneta esferográfica de tinta azul ou preta. Mais de uma resposta assinalada implica na anulação da questão.
- Você terá 04 (quatro) horas para responder a todas às questões e preencher a FOLHA DE RESPOSTAS.
- Nenhum candidato poderá sair da sala antes de decorridos 60 (sessenta) minutos do início da prova, ressalvados os casos de emergência médica.
- O PORTE de quaisquer fontes de consulta, aparelhos de comunicação - inclusive telefone celular - e/ou de registro de dados, no recinto da prova, a qualquer momento, caracteriza TENTATIVA DE FRAUDE, procedendo-se à retirada imediata do candidato e a sua ELIMINAÇÃO SUMÁRIA do concurso. Será igualmente excluído o candidato surpreendido em comunicação com outros candidatos.
- Ao concluir a prova, o candidato terá que devolver a FOLHA DE RESPOSTAS devidamente ASSINADA, bem como este CADERNO DE QUESTÕES. A não devolução de qualquer um deles implicará na eliminação do candidato.
- Os 03 (três) últimos candidatos a concluírem a prova deverão sair juntos e assinar em local apropriado na ATA DA PROVA. Não deixe de também assinar a LISTA DE FREQUÊNCIA.
- Este CADERNO DE QUESTÕES e o GABARITO OFICIAL serão divulgados em até 02 (dois) dias úteis após a aplicação desta prova, no endereço eletrônico www.institutolegatus.com.br, conforme Edital do Concurso.

PREFEITURA MUNICIPAL DE ANGICAL DO PIAUÍ
Concurso Público – 01/2015

01	02	03	04	05	06	07	08	09	10	11	12	13	14	15	16	17	18	19	20

21	22	23	24	25	26	27	28	29	30	31	32	33	34	35	36	37	38	39	40



www.institutolegatus.com.br

LÍNGUA PORTUGUESA

Leia os textos com atenção para responder as questões a eles referentes

Texto 1 - Que país é este?

Imagine um país onde as pessoas só se preocupam com as aparências e escolhem suas profissões não por vocação ou pelo desejo de ser úteis à coletividade, mas apenas pelas vantagens pessoais e “pelo brilho do uniforme”.

Imagine que lá os bacharéis em Direito, Medicina e Engenharia têm direito à prisão especial, mesmo que cometam os crimes mais repugnantes. E ninguém reclama, porque o povo tem um respeito quase religioso pelos nobres bacharéis.

Trata-se de um país essencialmente agrícola; mas, paradoxalmente, não há de fato agricultura, porque tudo ali está baseado em latifúndio, monocultura e trabalho quase escravo.

Lá, a pobreza no campo é geral. A população vive oprimida por chefões políticos inúteis e por latifundiários que preferem viver nas cidades a trabalhar nas fazendas para produzir riquezas que possam ser compartilhadas com os trabalhadores.

Ainda que aquele país tenha uma população numerosa e miserável, os políticos incentivam a imigração em massa, em vez de investirem na população local e dividirem a riqueza do país com quem já vive nele.

Grande parte dos fazendeiros vive à custa do café, que é a maior riqueza daquele país, mas também sua maior pobreza. Isso porque o preço do café é artificialmente controlado pelo governo, que desembolsa fortunas do dinheiro público para que o negócio das oligarquias se mantenha sempre lucrativo.

Os habitantes de lá sonham em viver fora do país, de modo que, como Robson Crusóé, a maioria se concentra no litoral, à espera de um navio que os carregue para terras melhores.

Os poderosos de lá, imaginem! Querem mais ser admirados nos países estrangeiros do que dentro do próprio país. E desprezam grande parte da população, até por preconceito de cor.

Naquele país ninguém vota em quem quer, mas em quem os poderosos mandam. E – coisa assombrosa – até os votos mortos votam.

(Hélio Seixas Guimarães. In: Os Bruzungangas. Lima Barreto. São Paulo: FTD, 2013)

QUESTÃO 01

De acordo com a crítica expressa no texto, as pessoas deveriam escolher suas profissões:

- (A) pelas vantagens pessoais que a profissão oferece .
- (B) por vocação ou pelo desejo de ser úteis à coletividade.
- (C) pelo brilho do uniforme e o status que determinadas profissões garantem.
- (D) entre as áreas de Direito, Medicina e Engenharia, que garantem status.
- (E) Pela vantagem que a agricultura apresenta em nosso país.

QUESTÃO 02

No trecho “Trata-se de um país essencialmente agrícola; mas, paradoxalmente, não há de fato agricultura”, o emprego da palavra “paradoxalmente” justifica-se porque:

- (A) o autor apresenta um país que não tem como base econômica a indústria, portanto deveria ter como base a agricultura, no entanto o que existe nesse lugar são propriedades rurais não cultivadas e/ou onde se pratica alguma cultura sem grandes investimentos.
- (B) de acordo com o texto, os representantes de Bruzundanga concentram grande parte de suas riquezas na busca de maior acesso a mercados para as exportações agrícolas e agroindustriais.
- (C) o autor quis empregar uma linguagem mais rebuscada no texto, fazendo uso de uma figura de linguagem que reflete o comportamento da população de Bruzundanga.
- (D) segundo o texto, os líderes políticos de Bruzundanga querem mais ser admirados nos países estrangeiros do que dentro do próprio país. E desprezam grande parte da população, até por preconceito de cor.
- (E) A maioria dos habitantes de lá sonham em viver fora do país, de modo que a maioria se concentra no litoral, à espera de um navio que os carregue para terras melhores.

Analise o excerto abaixo, retirado da música “Que país é este?”, de Renato Russo, cantor do grupo Legião Urbana, grupo musical brasileiro da década de 80, para responder à questão 3.

Texto 2 – Que país é este?

*Nas favelas, no senado
Sujeira pra todo lado
Ninguém respeita a constituição
Mas todos acreditam no futuro da nação*

[...]

*No Amazonas, no Araguaia, na Baixada fluminense
No Mato Grosso, Minas Gerais e no Nordeste tudo em paz
Na morte eu descanso mas o sangue anda solto
Manchando os papéis, documentos fiéis
Ao descanso do patrão*

[...]

*Terceiro Mundo se for
Piada no exterior
Mas o Brasil vai ficar rico*

[...]

Link: <http://www.vagalume.com.br/legiao-urbana/que-pais-e-esse.html#ixzz3v9i2CUd2>

QUESTÃO 03

Com a leitura global dos dois textos e analisando-se as relações intertextuais, pode-se afirmar que a interrogação tem efeito de:

- (A) Uma pergunta retórica aos cidadãos, a fim de que alguém responda o que os autores não conseguem responder.
- (B) Uma exclamação exprimindo dúvida acerca de que lugar o enunciador se encontra no momento da enunciação.
- (C) Uma pergunta políticos inúteis e por latifundiários que preferem viver nas cidades, a fim de que eles respondam o que fazem com as riquezas do país.
- (D) Uma exclamação exprimindo o descontentamento de ambos os enunciadores com o país em que vivem e as injustiças sociais que vislumbram.**
- (E) Uma pergunta que será respondida ao longo dos textos com o nome dos países, Bruzundangas e Brasil.

QUESTÃO 04

Segundo o autor do Texto 1, a população de Bruzundanga vive oprimida por chefões políticos inúteis e por latifundiários que preferem viver nas cidades a trabalhar nas fazendas. Assinale a alternativa que ratifica essa opressão que os bruzundangas sofrem.

- (A) Trata-se de um país essencialmente agrícola; mas, paradoxalmente, não há de fato agricultura, porque tudo ali está baseado em latifúndio, monocultura e trabalho quase escravo.
- (B) Grande parte dos fazendeiros vive à custa do café, que é a maior riqueza daquele país, mas também sua maior pobreza.
- (C) Os habitantes de lá sonham em viver fora do país, de modo que, como Robson Crusóé, a maioria se concentra no litoral, à espera de um navio que os carregue para terras melhores.
- (D) Os poderosos de lá, imaginem! Querem mais ser admirados nos países estrangeiros do que dentro do próprio país.
- (E) Naquele país ninguém vota em quem quer, mas em quem os poderosos mandam.**

QUESTÃO 05

“Ainda que aquele país tenha uma população numerosa e miserável, os políticos incentivam a imigração em massa”

No trecho acima, a oração em destaque é:

- (A) Coordenada adversativa e exprime a contrariedade entre a população numerosa e o incentivo à imigração.
- (B) Coordenada explicativa e exprime a justificativa de os políticos incentivarem a imigração em massa, mesmo a população sendo numerosa e miserável.
- (C) Subordinada adverbial causal e apresenta a justificativa de os políticos incentivarem a imigração em massa, mesmo a população sendo numerosa e miserável.
- (D) Subordinada adverbial concessiva e a partir dela pressupõe-se que o fato de a população ser numerosa e miserável deveria impedir o incentivo à imigração, mas não impede.**
- (E) Subordinada adverbial condicional e indica a condição para que os políticos incentivem a imigração em massa, mesmo que a população seja numerosa e miserável.

QUESTÃO 06

“Os habitantes de lá sonham em viver fora do país, **de modo que**, como Robson Crusoé, a maioria se concentra no litoral”.

A locução conjuntiva nesse trecho estabelece entre as orações a ideia de:

- (A) conclusão.
- (B) retificação.
- (C) consequência.
- (D) modo.
- (E) causa.

QUESTÃO 07

As palavras podem alterar sua classificação morfológica e sintática dependendo do contexto em que estão inseridas. No trecho, “Imagine um país onde as pessoas só se preocupam com as aparências”, a palavra **onde**, morfossintaticamente, é:

- (A) Conjunção subordinativa e sujeito
- (B) Pronome relativo e sujeito
- (C) Conjunção subordinativa e adjunto adverbial
- (D) Advérbio de lugar e adjunto adverbial
- (E) Pronome relativo e adjunto adverbial

QUESTÃO 08

Analise o emprego das vírgulas nos trechos abaixo para responder ao que se pede:

- 1) E ninguém reclama, que o povo tem um respeito quase religioso pelos nobres bacharéis.
- 2) Grande parte dos fazendeiros vive à custa do café, que é a maior riqueza daquele país, mas também sua maior pobreza.
- 3) Lá, a pobreza no campo é geral.
- 4) (...) tudo ali está baseado em latifúndio, monocultura e trabalho quase escravo.
- 5) O preço do café é artificialmente controlado pelo governo, que desembolsa fortunas do dinheiro público, que o negócio das oligarquias se mantenha sempre lucrativo.

Nos trechos acima ocorrem cinco casos de emprego de vírgulas, devidamente numerados. Os números que indicam casos em que a vírgula foi empregada em função de idênticos motivos são

- (A) 1 e 2.
- (B) 1 e 3.
- (C) 2 e 3.
- (D) 2 e 5.
- (E) 4 e 5.

QUESTÃO 09

Analise o excerto, julgue os itens como verdadeiro (V) ou falso (F) e marque a alternativa que contém a resposta adequada, de cima para baixo, respectivamente

“Imagine que lá os **bacharéis** em Direito, Medicina e Engenharia **têm** direito à prisão especial, mesmo que cometam os crimes mais repugnantes. E **ninguém** reclama, porque o povo tem um respeito quase religioso pelos nobres **bacharéis**.”

() Na palavra bacharéis a acentuação se justifica porque é uma palavra oxítona terminada em ditongo.

() A palavra “**têm**” está acentuada, porque mantém concordância com **bacharéis**, portanto a forma verbal está na terceira pessoa do plural.

() As palavras “**têm**” e “**ninguém**” são acentuadas pelo mesmo motivo, ambas terminam em “**em**”.

() Se substituirmos, nesse excerto, o verbo **ter** sublinhado, por **manter**, obteremos a forma verbal mantém, para que haja adequação à norma culta da língua.

- (A) FVVV
- (B) VVVV
- (C) VFFF
- (D) VVVF
- (E) FVFF

QUESTÃO 10

- I. Imagine que lá os bacharéis em Direito, Medicina e Engenharia têm direito **à** prisão especial.
- II. Grande parte dos fazendeiros vive **à** custa do café, que é a maior riqueza daquele país.
- III. Os habitantes de lá sonham em viver fora do país, de modo que, como Robson Crusoé, a maioria se concentra no litoral, **à** espera de um navio que os carregue para terras melhores.

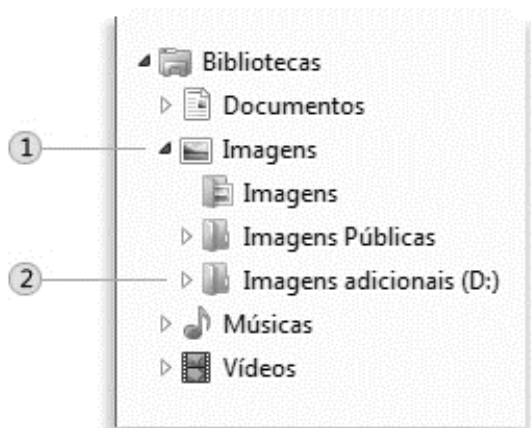
Nesse segmento do texto há três ocorrências do acento grave indicativo da crase; sobre esse emprego pode-se afirmar com correção que

- (A) na segunda e na terceira ocorrências a justificativa para o uso do acento indicador da crase é a mesma.
- (B) somente na segunda ocorrência há a junção da preposição a com o artigo definido feminino singular a.
- (C) na segunda ocorrência ocorre a junção da preposição a com um pronome demonstrativo a.
- (D) na terceira ocorrência, o acento indicador da crase é devido à presença de uma locução prepositiva formada com uma palavra feminina.
- (E) na primeira ocorrência, o emprego do acento grave é devido à necessidade de se desfazer uma ambigüidade.

NOÇÕES DE INFORMÁTICA

QUESTÃO 11

A figura abaixo foi extraída de um computador com sistema operacional Windows 7. Julgue os itens abaixo em verdadeiro (V) ou falso (F):



() Na figura, 1 representa uma biblioteca. Uma biblioteca é o local onde o usuário pode gerenciar documentos, músicas, imagens e outros arquivos.

() Na figura, 2 representa um arquivo de imagem localizado no diretório D: do Windows.

() Uma pasta é um contêiner de arquivos, ou seja, todo arquivo é armazenado em uma pasta ou uma subpasta (uma pasta dentro de outra).

() A diferença de uma biblioteca para uma pasta é que uma biblioteca pode reunir os arquivos que estão armazenados em diversos locais no computador.

A sequência correta, de cima para baixo, é:

- (A) V V F F
- (B) V F V V**
- (C) V F F V
- (D) F V F V
- (E) F V V F

QUESTÃO 12

Analise os itens abaixo sobre noções de Internet:

- I. São exemplos de ferramentas de navegação na internet: Mozilla Firefox e Internet Explorer.
- II. Um dos sites de busca mais utilizados atualmente é o Google Chrome.
- III. O correio eletrônico é o nome de um serviço que permite trocar mensagens através de sistemas de comunicação eletrônicos, enquanto o termo e-mail refere-se a mensagem em si que é enviada e recebida por usuários.

Está(ão) correto(s):

- (A) Apenas I.**
- (B) Apenas III.
- (C) I e II.
- (D) II e III.
- (E) I, II e III.

QUESTÃO 13

A imagem abaixo ilustra uma planilha feita no Microsoft Excel por uma secretária de uma escola municipal. O objetivo da planilha era controlar a quantidade de alunos interessados em participar de aulas extras nas disciplinas citadas.

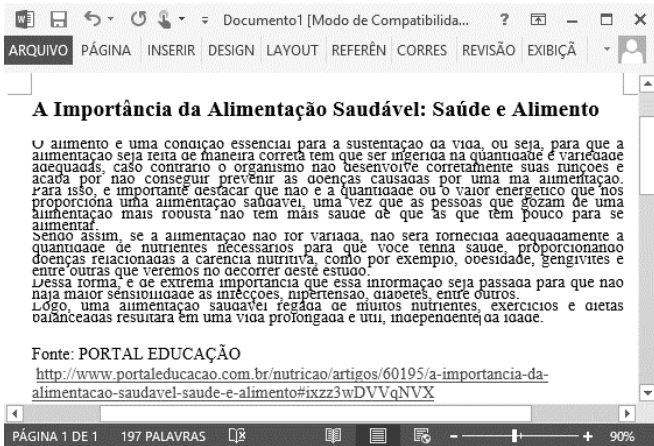
	A	B	C	D
1	DISCIPLINA	MENINAS	MENINOS	
2	Matemática	4	10	
3	Física	3	3	
4	Química	8	0	
5	Português	6	2	
6				

Equivocadamente, a secretária aplicou a fórmula =SOMA(B2;B5;C2:C5) com o objetivo de obter o total de alunos (meninos e meninas) interessados nas aulas extras. Porém, o resultado obtido com a fórmula aplicada foi:

- (A) 0
- (B) 22
- (C) 25**
- (D) 31
- (E) #REF!

QUESTÃO 14

A imagem abaixo foi extraída de um documento editado no Microsoft Word:



É possível verificar que o texto está ilegível devido ao pouco distanciamento vertical entre as linhas do texto. A melhor forma de resolver esse problema e melhorar a legibilidade do texto é:

- (A) Mudar a direção do texto.
- (B) Diminuir o recuo do parágrafo.
- (C) Alterar a orientação da página.
- (D) Inserir uma quebra no documento.
- (E) Aumentar o espaçamento do texto.**

QUESTÃO 15

Computação em nuvem, ou *cloud computing*, é uma tecnologia que permite acesso remoto a programas (softwares), arquivos (documentos, músicas, jogos, fotos, vídeos) e serviços por meio da internet, sem que os mesmos estejam instalados em computadores ou dispositivos específicos. Um serviço bastante difundido atualmente que utiliza essa tecnologia e tem a finalidade de armazenar e compartilhar arquivos entre os usuários é o:

- (A) Linux.
- (B) Foursquare.
- (C) Twitter.
- (D) Dropbox.**
- (E) Instagram.

RACIOCÍNIO LÓGICO-MATEMÁTICO

QUESTÃO 16

João pretende fazer uma liquidação em sua loja e irá colocar todos os seus produtos em liquidação com desconto de 30%. Maria, cliente da loja, deseja comprar uma máquina de lavar que custava inicialmente R\$ 520,00. Qual o valor da máquina de lavar após aplicar o desconto?

- (A) R\$ 156,00
- (B) R\$ 364,00**
- (C) R\$ 420,00
- (D) R\$ 454,00
- (E) R\$ 490,00

QUESTÃO 17

Marcos e Antônio são médicos e atendem 24 pacientes em 6 horas. Mantidas as proporções, se um novo sócio entrar para a equipe de médicos, eles atenderão 24 pacientes em quantas horas?

- (A) 2h
- (B) 3h
- (C) 4h**
- (D) 5h
- (E) 6h

QUESTÃO 18

Ao tentar pagar a fatura de seu cartão, José percebeu que teria que pagar 12% de juros sobre o valor da fatura, devido a mesma estar atrasada. O valor total da fatura com juros é de R\$ 918,40. Se José tivesse pago a fatura sem atraso, o valor seria:

- (A) R\$ 820,00
- (B) R\$ 808,19
- (C) R\$ 785,20
- (D) R\$ 800,00
- (E) R\$ 900,00

QUESTÃO 19

Em uma pesquisa realizada com 80 pessoas sobre qual supermercado preferem ir fazer compras, verificou-se que 28 pessoas preferem ir ao Sacolão, 41 pessoas preferem ir ao Feira Fácil e 10 pessoas costumam frequentar os dois. Pode-se afirmar que a quantidade de pessoas que não faz compras em nenhum dos dois supermercados é:

- (A) 11
- (B) 15
- (C) 18
- (D) 21
- (E) 24

QUESTÃO 20

A sequência 1, 4, 16, 64, ..., obedece a uma regra lógica. Qual o próximo número dessa sequência?

- (A) 86
- (B) 94
- (C) 126
- (D) 204
- (E) 256

**CONHECIMENTOS GERAIS E
ESPECÍFICOS**

Analise o texto abaixo para responder as questões de 21 a 24.

Brasília-DF, 1º de outubro de 2015.

A Sua Excelência o Senhor
Dr. Nelson Barbosa
Digníssimo Ministro de Estado do Planejamento,
Orçamento e Gestão
Brasília-DF

Senhor Ministro,

Tenho a satisfação de encaminhar a Vossa Senhoria, em anexo, a proposta orçamentária deste Ministério do Desenvolvimento, Indústria e Comércio Exterior para o ano de 2016, com vistas à apreciação desse Ministério e o posterior envio ao Congresso Nacional.

Respeitosamente,

Armando Monteiro
Ministro de Estado do Desenvolvimento,
Indústria e Comércio

QUESTÃO 21

Analise os itens seguintes, segundo o Manual de Redação da Presidência da República:

- I. O uso do termo “doutor (Dr)” antes do nome da autoridade a que se destina um expediente é recomendado como forma de tratamento que denota respeitabilidade.
- II. O pronome de tratamento “Vossa Senhoria” é permitido nas comunicações destinadas aos Ministros de Estado.
- III. Nas comunicações oficiais, deve-se evitar o uso de formas como “tenho a satisfação”, “tenho o prazer” ou “tenho a honra”, sendo preferido empregar a forma direta.

Está(ão) correto(s):

- (A) Apenas I
(B) Apenas I e II
(C) Apenas II
(D) **Apenas III**
(E) I, II e III.

QUESTÃO 22

Sobre as formas de diagramação que um documento oficial deve obedecer, analise os itens abaixo:

- I. é obrigatória constar a partir da segunda página o número da página;
- II. o campo destinado à margem lateral esquerda terá, no mínimo, 3,0 cm de largura; enquanto o campo destinado à margem lateral direita terá 1,5 cm.
- III. deve ser utilizada fonte do tipo Arial de corpo 12 no texto em geral, 11 nas citações, e 10 nas notas de rodapé;

Está(ão) correto(s):

- (A) Apenas I
(B) **Apenas I e II**
(C) Apenas II
(D) Apenas III
(E) I, II e III.

QUESTÃO 23

Em se tratando de comunicação oficial entre Ministros de Estado, o tipo de expediente mais adequado é o(a):

- (A) Ofício
(B) Memorando
(C) **Aviso**
(D) Exposição de Motivos
(E) Mensagem

QUESTÃO 24

Analise os itens seguintes.

- I. Em comunicações oficiais, está abolido o uso do tratamento digníssimo (DD). A dignidade é pressuposto para que se ocupe qualquer cargo público, sendo desnecessária sua repetida evocação.
- II. No cabeçalho do expediente, devem constar tipo e número do expediente, seguido da sigla do órgão que o expede.
- III. O fecho das comunicações oficiais possui, além da finalidade óbvia de arrematar o texto, a de saudar o destinatário. No expediente transcrito, além do termo “respeitosamente”, se poderia empregar o termo “atenciosamente”.

Está(ão) correto(s):

- (A) Apenas I
(B) **Apenas I e II**
(C) Apenas II
(D) Apenas III
(E) I, II e III.

QUESTÃO 25

No que concerne às noções básicas de arquivologia, analise os itens seguintes.

- I. Todos têm direito a receber dos órgãos públicos, sem ressalvas, informações de seu interesse particular ou de interesse coletivo ou geral, contidas em documentos de arquivos, que serão prestadas no prazo da lei, sob pena de responsabilidade.
- II. Os arquivos públicos são os conjuntos de documentos produzidos e recebidos, no exercício de suas atividades, por órgãos públicos de âmbito federal, estadual, do Distrito Federal e municipal em decorrência de suas funções administrativas, legislativas e judiciárias.
- III. Os documentos de valor permanente são inalienáveis, embora não sejam imprescritíveis.

Está(ão) correto(s):

- (A) Apenas I
(B) **Apenas I e II**
(C) Apenas II
(D) Apenas III
(E) I, II e III.

QUESTÃO 26

No que diz respeito à classificação dos arquivos, analise as alternativas abaixo e assinale aquela INCORRETA.

- (A) Consideram-se documentos correntes aqueles em curso ou que, mesmo sem movimentação, constituam objeto de consultas frequentes.
(B) Consideram-se permanentes os conjuntos de documentos de valor histórico, probatório e informativo que devem ser definitivamente preservados.
(C) Um arquivo pode ser classificado de acordo com a entidade criadora em público, institucional, comercial ou pessoal.
(D) **Um arquivo pode ser classificado de acordo com a extensão da atenção, podendo ser especial ou especializado.**
(E) Nenhuma das alternativas anteriores.

TEXTO PARA AS QUESTÕES 27 E 28.

A Prefeitura Municipal de Angical tem os seguintes dados de administração de materiais:

MATERIAL	RESMAS DE PAPEL
Estoque reserva	10 unidades
Consumo médio do material	10 unidades por dia
Tempo de espera médio, em dias, para reposição do material	7 dias
Lote de compra	200 unidades

QUESTÃO 27

O estoque mínimo a ser mantido, em unidades, para o material especificado é:

- (A) 210.
(B) 140.
(C) **80.**
(D) 70.
(E) 60.

QUESTÃO 28

O estoque máximo ideal a ser mantido, em unidades, para o material especificado é:

- (A) 900.
(B) 700.
(C) **280.**
(D) 270.
(E) 170.

QUESTÃO 29

A organização da Assistência Social no Brasil tem as seguintes diretrizes, baseadas na Constituição Federal de 1988 e na LOAS, EXCETO:

- (A) Descentralização político-administrativa, cabendo a coordenação e as normas gerais à esfera federal e a coordenação e execução dos respectivos programas às esferas estadual e municipal, bem como a entidades beneficentes e de assistência social;
(B) Participação da população, por meio de organizações representativas, na formulação das políticas e no controle das ações em todos os níveis;
(C) Primazia da responsabilidade do Estado na condução da Política de Assistência Social em cada esfera de governo;
(D) Centralidade na família para concepção e implementação dos benefícios, serviços, programas e projetos;
(E) **Supremacia do atendimento às exigências de rentabilidade econômica sobre as necessidades sociais.**

QUESTÃO 30

A assistência social tem dentre seus objetivos a proteção social, que visa à garantia da vida, à redução de danos e à prevenção da incidência de riscos. Pode-se destacar como objetivos, EXCETO:

- (A) a proteção à família, à maternidade, à infância, à adolescência e à velhice;
- (B) o amparo às crianças e aos adolescentes carentes;
- (C) a promoção da integração ao mercado de trabalho;
- (D) a habilitação e reabilitação das pessoas com deficiência e a promoção de sua integração à vida comunitária;
- (E) a garantia de 2 (dois) salários-mínimos de benefício mensal à pessoa com deficiência e ao idoso que comprovem não possuir meios de prover a própria manutenção ou de tê-la provida por sua família.

QUESTÃO 31

A política de assistência social oferece um conjunto de serviços para garantir que o cidadão não fique desamparado quando ocorram situações inesperadas, nas quais a sua capacidade de acessar direitos sociais fica comprometida. Dentre os serviços, pode-se destacar o Serviço de Proteção e Atendimento Integral à Família (PAIF). Sobre o PAIF, assinale a alternativa INCORRETA;

- (A) é oferecido em todos os Centros de Referência da Assistência Social (CRAS);
- (B) tem como objetivo apoiar as famílias, prevenindo a ruptura de laços, promovendo o acesso a direitos e contribuindo para a melhoria da qualidade de vida;
- (C) O serviço deve ser ofertado, obrigatoriamente, no CRAS – Centro de Referência da Assistência Social;
- (D) Somente podem participar do PAIF os beneficiários que atendem os critérios de participação de programas de transferência de renda e benefícios assistenciais;
- (E) O serviço também apoia ações comunitárias, por meio de palestras, campanhas e eventos, ajudando a comunidade na construção de soluções para o enfrentamento de problemas comuns.

QUESTÃO 32

O Cadastro Único para Programas Sociais do Governo Federal (Cadastro Único) é um instrumento que identifica e caracteriza as famílias de baixa renda, permitindo que o governo conheça melhor a realidade socioeconômica dessa população. Dentre os documentos abaixo, qual é obrigatório para o cadastramento no cadastro único?

- (A) Título de Eleitor.
- (B) Comprovante de endereço.
- (C) Comprovante de matrícula escolar das crianças e jovens até 17 anos.
- (D) Carteira de Trabalho.
- (E) Carteira de Identidade.

QUESTÃO 33

O Programa Bolsa Família é um programa que contribui para o combate à pobreza e à desigualdade no Brasil. O Programa atende às famílias que vivem em situação de pobreza e de extrema pobreza. Atualmente, somente podem fazer do programa:

- (A) famílias com renda por pessoa de até R\$ 60 mensais ou famílias com renda por pessoa entre R\$ 60,01 e R\$ 120 mensais, desde que tenham, em sua composição, crianças ou adolescentes de 0 a 17 anos.
- (B) famílias com renda por pessoa de até R\$ 70 mensais ou famílias com renda por pessoa entre R\$ 70,01 e R\$ 140 mensais, desde que tenham, em sua composição, crianças ou adolescentes de 0 a 17 anos.
- (C) famílias com renda por pessoa de até R\$ 77 mensais ou famílias com renda por pessoa entre R\$ 77,01 e R\$ 154 mensais, desde que tenham, em sua composição, crianças ou adolescentes de 0 a 17 anos.
- (D) famílias com renda por pessoa de até R\$ 100 mensais ou famílias com renda por pessoa entre R\$ 100,01 e R\$ 200 mensais, desde que tenham, em sua composição, crianças ou adolescentes de 0 a 17 anos;
- (E) famílias com renda total, de todas as pessoas, de até meio salário mínimo.

QUESTÃO 34

Analise a imagem abaixo extraída de uma planilha elaborada no Microsoft Excel 2013:

	A	B	C
1	ALUNO	MÉDIA FINAL	SITUAÇÃO
2	Luana	6,0	Reprovado
3	Patrícia	9,5	Aprovado
4	Gustavo	7,3	Aprovado
5	André	6,9	Reprovado
6	Felipe	8,4	Aprovado
7	Cecília	7,0	Aprovado

É correto afirmar que a fórmula aplicada para definir a situação do aluno Felipe como "Aprovado" foi:

- (A) =SE(B6 >= 7;"Aprovado";"Reprovado")
 (B) =SE(B > 7;"Aprovado";"Reprovado")
 (C) =SE(B6 > 7;"Reprovado";"Aprovado")
 (D) =SE("Aprovado"; B6 > 7; "Reprovado")
 (E) =SE("Reprovado"; B6 >= 7; "Aprovado")


QUESTÃO 35

Um recurso importante na informática pode ser compreendido como uma área de armazenamento onde dados ou processos frequentemente utilizados são guardados para um acesso futuro mais rápido, poupando tempo e uso desnecessário do hardware. Em um navegador, ele salva a estrutura básica das páginas que o usuário está habituado a visitar, poupando o tempo de download delas em exibições futuras. O texto se refere ao recurso conhecido como:

- (A) HTTP
 (B) Proxy
 (C) Cache
 (D) Browser
 (E) WWW

QUESTÃO 36

Sobre os recursos para edição de textos no Microsoft Word 2013, versão em português, julgue os itens abaixo em verdadeiro (V) ou falso (F):

- () Para salvar rapidamente um documento é preciso combinar as teclas CTRL + S.
 () O botão  serve para alterar o tamanho da fonte do texto.
 () A combinação das teclas CTRL + T serve para selecionar todo o texto do documento.

A sequência correta, de cima para baixo, é:

- (A) V V V
 (B) V F V
 (C) V F F
 (D) F V V
 (E) F F V

QUESTÃO 37

Sobre os recursos e as opções disponíveis no pacote Microsoft Office, analise os itens a seguir:

- I. O pincel de formatação do Microsoft Word serve para limpar toda a formatação da seleção, deixando o texto sem formatação.
- II. As apresentações criadas nas versões mais recentes do Microsoft Power Point possuem a extensão .xlsx.
- III. Em uma planilha no Microsoft Excel, as colunas são representadas por letras e as linhas por números.

Está(ão) correto(s):

- (A) Apenas I.
 (B) Apenas II.
 (C) Apenas III.
 (D) I e II.
 (E) I e III.

QUESTÃO 38

Sobre os conceitos básicos de Internet, uma URL (*Uniform Resource Locator*) é:

- (A) o histórico de um navegador.
 (B) a identificação de um site seguro.
 (C) uma ferramenta para download de arquivos.
 (D) o endereço de um site na Web.
 (E) um recurso para conectar-se na Internet.

QUESTÃO 39

O município de Angical do Piauí limita-se territorialmente com os seguintes municípios, EXCETO:

- (A) Palmeirais.
 (B) Jardim do Mulato.
 (C) Santo Antônio dos Milagres.
 (D) Regeneração.
 (E) São Gonçalo do Piauí.

QUESTÃO 40

Julgue os itens abaixo em verdadeiro (V) ou falso (F) a respeito do município de Angical do Piauí:

() Segundo o último censo demográfico do IBGE (Instituto Brasileiro de Geografia e Estatística), a população total do município é superior a 6.000 habitantes.

() O gentílico de quem nasce no município é Angicalense.

() O município pertence à Microrregião do Médio Parnaíba Piauiense.

(A) V V V

(B) V F V

(C) F F V

(D) F V F

(E) F V V