

## ATENDENTE DE UNIDADE DE SAÚDE

Escreva seu nome e número de inscrição de forma legível nos locais indicados:

Nome do(a) Candidato(a)

Nº de inscrição

Este caderno de questões está assim constituído:

DISCIPLINAS	Nº QUESTÕES
Língua Portuguesa	10
Matemática	10
Raciocínio Lógico	10
Informática	05
Legislação	10
Conhecimentos Específicos	15
<b>Total de questões</b>	<b>60</b>

### INSTRUÇÕES:

- Confira devidamente o material (CARTÃO DE RESPOSTAS e CADERNO DE QUESTÕES); se houver falha, solicite a substituição ao fiscal.
- Após conferir seus dados no cartão de respostas (NOME, Nº da INSCRIÇÃO e CARGO), assine no local indicado.
- O CARTÃO DE RESPOSTAS é o único documento de correção, devendo ser preenchido com bastante atenção, à caneta esferográfica, azul ou preta, ponta grossa, marcando uma única alternativa em cada questão.
- Verifique no cartão de respostas as instruções para preenchimento. Não rasure, não amasse nem dobre o CARTÃO DE RESPOSTAS; evite usar borracha. É vedada a substituição do CARTÃO DE RESPOSTAS decorrente de erro cometido por candidato.
- Se o CARTÃO DE RESPOSTAS contiver maior número de alternativas e/ou de questões, preencha apenas as correspondentes à sua prova; as demais ficam em branco.
- Durante a realização da prova, não é permitida a comunicação entre candidatos nem a utilização de máquina calculadora e/ou similares, livros, anotações, réguas de cálculo, impressos ou qualquer outro material de consulta.
- O tempo de duração da prova objetiva será de **até 3 horas**. O candidato somente poderá levar consigo seu caderno de provas após uma hora contada do efetivo início das provas. Ao candidato que sair antes de uma hora contada do efetivo início das provas, será permitido copiar seu cartão de respostas, para conferência com o gabarito oficial.
- Ao final dos trabalhos, **DEVOLVA** ao Fiscal da sala o CARTÃO DE RESPOSTAS devidamente preenchido e assinado.
- Os três últimos candidatos de cada sala de prova deverão permanecer no recinto, a fim de acompanhar os fiscais até a coordenação para o lacre dos envelopes, quando, então, poderão retirar-se do local, simultaneamente, após concluído.
- Direitos autorais reservados à Objetiva Concursos Ltda. Proibida a reprodução, ainda que parcial, sem autorização prévia.

✂..... (dobre e destaque esta parte para copiar suas respostas) .....

01	<input type="checkbox"/>	02	<input type="checkbox"/>	03	<input type="checkbox"/>	04	<input type="checkbox"/>	05	<input type="checkbox"/>	06	<input type="checkbox"/>	07	<input type="checkbox"/>	08	<input type="checkbox"/>	09	<input type="checkbox"/>	10	<input type="checkbox"/>
11	<input type="checkbox"/>	12	<input type="checkbox"/>	13	<input type="checkbox"/>	14	<input type="checkbox"/>	15	<input type="checkbox"/>	16	<input type="checkbox"/>	17	<input type="checkbox"/>	18	<input type="checkbox"/>	19	<input type="checkbox"/>	20	<input type="checkbox"/>
21	<input type="checkbox"/>	22	<input type="checkbox"/>	23	<input type="checkbox"/>	24	<input type="checkbox"/>	25	<input type="checkbox"/>	26	<input type="checkbox"/>	27	<input type="checkbox"/>	28	<input type="checkbox"/>	29	<input type="checkbox"/>	30	<input type="checkbox"/>
31	<input type="checkbox"/>	32	<input type="checkbox"/>	33	<input type="checkbox"/>	34	<input type="checkbox"/>	35	<input type="checkbox"/>	36	<input type="checkbox"/>	37	<input type="checkbox"/>	38	<input type="checkbox"/>	39	<input type="checkbox"/>	40	<input type="checkbox"/>
41	<input type="checkbox"/>	42	<input type="checkbox"/>	43	<input type="checkbox"/>	44	<input type="checkbox"/>	45	<input type="checkbox"/>	46	<input type="checkbox"/>	47	<input type="checkbox"/>	48	<input type="checkbox"/>	49	<input type="checkbox"/>	50	<input type="checkbox"/>
51	<input type="checkbox"/>	52	<input type="checkbox"/>	53	<input type="checkbox"/>	54	<input type="checkbox"/>	55	<input type="checkbox"/>	56	<input type="checkbox"/>	57	<input type="checkbox"/>	58	<input type="checkbox"/>	59	<input type="checkbox"/>	60	<input type="checkbox"/>

## LÍNGUA PORTUGUESA

A gata que mudou a vida de uma pequena autista

Na Inglaterra, a menina de nome Iris Grace Halmshaw, 5 anos, vivia em um lindo jardim, entre flores coloridas, árvores, luz do sol, tintas e pincéis. Adorava contemplar a natureza ao lado da gatinha Thula, sua melhor amiga. Vestindo sua capa (um tecido adaptado por sua mãe), a menina pintava por horas a fio. Tinha um dom especial: tão novinha, passou a criar lindas paisagens, elogiadíssimas por amantes das artes.

Contudo, em seu universo lúdico e único, Iris é portadora de autismo, diagnóstico que recebeu em 2011, aos 2 anos. O transtorno é uma desordem neurológica incurável, que pode prejudicar a capacidade de interagir com o mundo.

Educada em casa, Iris Grace começou a pintar em 2013, incentivada por seus pais, que inventaram sessões de arte para estimular a concentração e a fala, tentando seguir o currículo nacional de educação no Reino Unido. A ideia era proporcionar uma atividade que distraísse a filha e a ajudasse a tentar se comunicar, uma das ferramentas da chamada arteterapia. O que aconteceu pouco depois foi surpreendente. Pinturas extraordinárias para uma criança (e até um adulto comum) tomaram forma. Era o olhar da menina autista para os habitantes de seu mundo encantado, repleto de natureza e música clássica – Iris se acalma ouvindo música, desde quando era um bebê, conhece todos os instrumentos de uma orquestra e adora o violino, em especial (ela já tem um).

Em fevereiro de 2014, um novo personagem passou a fazer parte da vida de Iris – e a mudá-la para sempre, aliviando seu isolamento. Thula, com pouco mais de 2 anos de idade, é uma gatinha inteligente e gentil. “Thula baixou a ansiedade de Iris e a mantém calma. Ao mesmo tempo, a encoraja a ser mais sociável”, contou a mãe da menina. Depois da chegada da gatinha, a menina passou a pronunciar pequenas frases como: “Sente-se, gata!”. Havia meses que a família procurava por um animal terapêutico. Tentou, em vão, cavalos, cachorros (Iris odiava ser lambida e a hiperatividade do cão a deixava muito nervosa) e até mesmo gatos, mas percebeu que ainda não tinha encontrado o companheiro certo até a pequena conhecer Thula.

<http://planetasustentavel.abril.com.br/noticia/...> - adaptado

1) De acordo com o texto, analisar a sentença abaixo:

*A menina Iris Grace sofre de autismo desde os 2 anos de idade, condição neurológica que a impede de andar. Por esse motivo, dedica as suas atividades à pintura de quadros (1ª parte). Iris pinta por iniciativa de seus pais, que viram nessa atividade a possibilidade de melhoria da condição neurológica da filha. Dessa forma, inscreveram-na em um curso de arteterapia, que desenvolve capacidades cognitivas nas crianças com autismo, por meio da pintura (2ª parte).*

A sentença está:

- a) Totalmente correta.
- b) Correta somente em sua 1ª parte.
- c) Correta somente em sua 2ª parte.
- d) Totalmente incorreta.

2) Segundo o texto, analisar os itens abaixo:

- I - Iris só consegue pintar ouvindo música clássica.
- II - A menina possui um violino, instrumento o qual já aprendeu a tocar.
- III - A chegada da gatinha Thula fez muito bem a Iris, que, inclusive, já chega a pronunciar frases de comando à bichana. Além disso, Thula a mantém calma, coisa que a menina não conseguiu em experiência com cães.

- a) Somente o item I.
- b) Somente o item II.
- c) Somente o item III.
- d) Somente os itens I e II.

3) Em “Contudo, em seu universo lúdico e único, Iris é portadora de autismo...”, a conjunção sublinhada NÃO pode ser substituída, por alterar o sentido, por:

- a) Entretanto.
- b) Porém.
- c) Portanto.
- d) Todavia.

4) Em relação à formação dos adjetivos superlativos, preencher as lacunas abaixo CORRETAMENTE:

O superlativo absoluto do adjetivo “fiel” é \_\_\_\_\_.  
O adjetivo “doce” apresenta \_\_\_\_\_ como superlativo absoluto.

- a) fidelíssimo - docíssimo
- b) fidelíssimo - dulcíssimo
- c) fielíssimo - dulcíssimo
- d) fielíssimo - docíssimo

---

**MATEMÁTICA**

---

5) Assinalar a alternativa em que o sublinhado exerce função de adjunto adverbial:

- a) A caneta com que escrevo não está boa.
- b) A cidade a que te diriges tem bom clima.
- c) Este é o escritor por que foi escrito o livro.
- d) A pessoa a que entreguei o livro deixou-o no táxi.

---

6) Em relação aos homônimos e parônimos, assinalar a alternativa em que o termo sublinhado está CORRETO no contexto dado:

- a) O jovem advogado acendeu rapidamente em sua carreira profissional.
- b) Os traficantes foram dilatados à justiça por membro de quadrilha rival.
- c) O perito apreçou irrisoriamente o imóvel.
- d) A nova proposta colige frontalmente com o entendimento havido.

---

7) Assinalar a alternativa que apresenta ambas as palavras formadas pelo processo denominado derivação sufixal:

- a) Papelaria - recebimento.
- b) Motorista - desigual.
- c) Paraquedista - antever.
- d) Refazer - realizável.

---

8) Quanto à regência dos termos sublinhados, assinalar a alternativa INCORRETA:

- a) O sobrinho formou-se em Direito.
- b) Ele lembrou da festa de aniversário.
- c) O rapaz desconfia de seus companheiros.
- d) A moça descende de austríacos.

---

9) Assinalar a alternativa em que o pronome “se” exerce função sintática de objeto indireto:

- a) Eles se gostam.
- b) Eles se cumprimentaram.
- c) Precisa-se de empregados.
- d) Ela se arroga essa liberdade.

---

10) Quanto às circunstâncias expressas pelos advérbios e pelas locuções adverbiais, numerar a 2ª coluna de acordo com a 1ª e, após, assinalar a alternativa que apresenta a sequência CORRETA:

- (1) Causa.
- (2) Condição.
- (3) Modo.
- (4) Intensidade.

- ( ) Morrer de fome.
- ( ) Não sairá sem licença.
- ( ) Saiu às pressas.
- ( ) Andou mais depressa.

- a) 1 - 2 - 3 - 4.
- b) 1 - 3 - 2 - 4.
- c) 2 - 3 - 4 - 1.
- d) 4 - 2 - 1 - 3.

11) Dado o sistema linear abaixo, assinalar a alternativa que apresenta o resultado da operação  $x + 3y$ :

$$\begin{cases} x + 3y = 17 \\ 2x - y = -1 \end{cases}$$

- a) 19
- b) 18
- c) 17
- d) 20

---

12) A professora Débora foi ao banco solicitar um empréstimo de R\$ 20.000,00 para finalizar uma obra que estava fazendo em sua casa. Sabendo-se que o banco cobra uma taxa de juros compostos de 3% ao mês sobre o valor emprestado e que o montante que ela pagará para o banco será de R\$ 48.544,00, assinalar a alternativa que apresenta em quanto tempo Débora parcelou esse empréstimo:

(Usar:  $\log 2,4272 = 0,384$  e  $\log 1,03 = 0,0128$ )

- a) Dois anos e meio.
- b) Dois anos.
- c) Um ano e meio.
- d) Três anos.

---

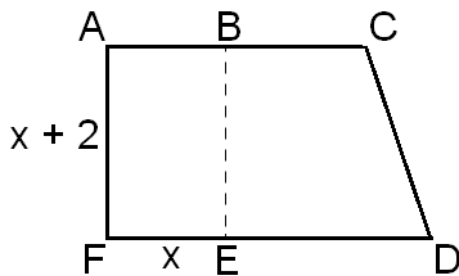
13) Para encher uma cisterna de 1.000 litros com apenas uma torneira ligada são necessárias 2 horas. Utilizando-se quatro torneiras iguais à mencionada anteriormente para encher uma cisterna de 5.000 litros, quanto tempo será necessário?

- a) Duas horas e vinte e cinco minutos.
- b) Duas horas e trinta minutos.
- c) Duas horas e quarenta minutos.
- d) Duas horas e quarenta e cinco minutos.

14) Daniel era bailarino e agora é professor de matemática. Se a razão entre a profissão de bailarino e de professor, respectivamente, é de 2 para 3 e a soma do salário das duas profissões é R\$ 7.500,00, assinalar a alternativa que apresenta o salário de professor de matemática que justifique a troca de profissões de Daniel:

- a) R\$ 2.500,00
- b) R\$ 3.000,00
- c) R\$ 3.500,00
- d) R\$ 4.500,00

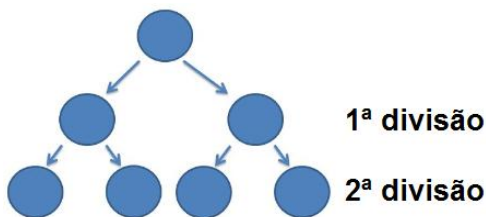
15) O retângulo ABEF de lados  $x$  e  $x + 2$  tem um perímetro de 32m e o trapézio BCDE tem o dobro da área desse retângulo, como mostra a figura abaixo:



Com base nas informações acima, assinalar a alternativa que apresenta a área do trapézio BCDE:

- a)  $114m^2$
- b)  $120m^2$
- c)  $126m^2$
- d)  $132m^2$

16) A figura abaixo exemplifica como ocorre a divisão de uma célula. Se esse processo se repetir até a 12ª divisão, o número de células formadas na 12ª divisão será igual a:



- a) 2.024
- b) 3.028
- c) 4.096
- d) 5.012

17) Considerando-se as funções  $f(x) = x^2 - 6x + 11$  e  $g(x) = -x^2 + 6x - 5$ , é CORRETO afirmar que a interseção de seus gráficos ocorre nos pontos com abscissas:

- a) -1 e 1.
- b) 0 e 2.
- c) 1 e 3.
- d) 2 e 4.

18) Lançando-se dois dados idênticos e não viciados, é CORRETO afirmar que a probabilidade de que os lados que caírem voltados para cima somem 6 é:

- a)  $\frac{5}{36}$
- b)  $\frac{1}{6}$
- c)  $\frac{5}{18}$
- d)  $\frac{7}{36}$

19) Márcia vai escolher a roupa para ir a um desfile de moda. Sabendo-se que ela possui 34 blusas e 12 saias, é CORRETO afirmar que o número de maneiras diferentes que Márcia pode se vestir para esse desfile é:

- a) 512
- b) 408
- c) 142
- d) 46

20) Dado o quadro salarial de uma empresa fictícia X, analisar os itens abaixo:

Cargo	Nº de Funcionários	Salário
Atendente Júnior	12	R\$ 1.350,00
Atendente Sênior	5	R\$ 1.900,00
Gerente	2	R\$ 2.100,00

I - A média salarial é de R\$ 1.576,00.

II - A moda salarial é de R\$ 1.350,00.

III - A média salarial entre os Atendentes Júnior e Sênior é de R\$ 1.522,50.

Está(ão) CORRETO(S):

- a) Somente o item I.
- b) Somente o item II.
- c) Somente os itens I e III.
- d) Somente os itens II e III.

### RACIOCÍNIO LÓGICO

21) Em determinado Município, as funcionárias Camila, Daniela e Elena trabalham como enfermeira, contadora e professora, não necessariamente nessa ordem, e trabalham em turnos diferentes, de modo que uma trabalha no turno da manhã, outra à tarde e outra à noite. Sabe-se que:

- Camila não é contadora e trabalha no turno da noite.
- Daniela é enfermeira.
- A contadora trabalha no turno da tarde.

Com base nessas informações, é CORRETO afirmar que:

- a) Daniela é enfermeira e trabalha no turno da noite.
- b) Camila é professora e trabalha no turno da tarde.
- c) Camila é enfermeira e trabalha no turno da manhã.
- d) Elena é contadora e trabalha no turno da tarde.

**22)** Sabe-se que 925 é o primeiro número da sequência lógica abaixo. Com base nisso, assinalar a alternativa que apresenta o valor de x:

919	923	927	931	935	939	943	947	951		
916								949		
913		922	926	930	934	938		947		
910		919				936		945		
907		916		925		934		943		
904		913		922	927	932		941		
901		910						939		
898		907	912	917	922	927	932	937		
895								X		
892	897	902	907	912	917	922	927	932	937	942

- a) 947
- b) 944
- c) 939
- d) 941

**23)** Qual dos números abaixo não pertence à série numérica?

27, 81, 147, 243

- a) 243
- b) 147
- c) 81
- d) 27

**24)** Assinalar a alternativa que apresenta a próxima palavra da sequência lógica abaixo:

CARROÇA - COMPASSADO - COOPERATIVISMO -  
CAATINGA - ?

- a) CONCURSO
- b) CEGUEIRA
- c) COMPREENSÃO
- d) CACHIMBO

**25)** Sabendo-se que os funcionários de determinada empresa trabalham de segunda a sexta-feira e que em certo mês nessa empresa foram contratados 13 funcionários, marcar C para as afirmativas Certas, E para as Erradas e, após, assinalar a alternativa que apresenta a sequência CORRETA:

- ( ) Como dia primeiro foi quinta-feira, nenhum funcionário começou a trabalhar no dia 11 nem no dia 25 desse mesmo mês.
- ( ) No mínimo 3 funcionários foram contratados no mesmo dia da semana.

- a) C - C.
- b) E - E.
- c) C - E.
- d) E - C.

**26)** Um número de 1 a 15 foi retirado de uma urna perante uma plateia. Duas pessoas falaram características do número, como:

- I - O número é divisível por 3.
- II - O número é múltiplo de 2.

Sabendo-se que ambos falaram a verdade, é CORRETO afirmar que o total de números que pode ter sido mostrado às duas pessoas é:

- a) 2
- b) 3
- c) 4
- d) 5

**RASCUNHO**

27) Considerando-se o quadro abaixo, assinalar a alternativa que representa o valor de x:

Candidatos	2
Concurso	0
Objetiva	1
Alcateia	3
Macaparanense	4
Cadastro	2
Reprovado	x

- a) 0
- b) 1
- c) 2
- d) 3

28) Em determinado aeroporto, a cada 10 minutos decolam três aviões e pousa um. Com base nisso, após meia hora, é CORRETO afirmar que nesse aeroporto:

- a) Decolaram 6 aviões e pousaram 4.
- b) Decolaram 12 aviões e pousaram 6.
- c) Decolaram 4 aviões e pousaram 5.
- d) Decolaram 9 aviões e pousaram 3.

29) Analisar a sequência lógica abaixo:

⌘ 7 ʍ 3 ⌘ 7 ʍ 3 ⌘ 7 ʍ 3

Seguindo-se o mesmo critério de formação, assinalar a alternativa que apresenta a 81º e 107º figura, respectivamente, dessa sequência:

- a) ⌘ ʍ
- b) 7 3
- c) ʍ ⌘
- d) 3 7

30) Um relógio digital marca 09:57:55. Com base nessa informação, assinalar a alternativa que apresenta o número mínimo de segundos necessário para que todos os algarismos do relógio se alterem:

- a) 85
- b) 100
- c) 125
- d) 131


## INFORMÁTICA

Atenção! Para responder às questões de Informática, a menos que seja explicitamente informado o contrário, considerar que os programas mencionados encontram-se na versão Português-BR e, em sua configuração padrão de instalação, possuem licença de uso, o mouse está configurado para destros, um clique ou duplo clique correspondem ao botão esquerdo do mouse e teclar corresponde à operação de pressionar uma tecla e, rapidamente, liberá-la, acionando-a apenas uma vez. Dessa forma, as teclas de atalho, os menus, os submenus, as barras, os ícones e os demais itens que compõem os programas abordados nesta prova encontram-se na configuração padrão, conforme exposto anteriormente.

31) Assinalar a alternativa que preenche a lacuna abaixo CORRETAMENTE:

*Para conectar o computador à Internet, o usuário precisa de um \_\_\_\_\_, dispositivo que envia e recebe informações do computador por linha telefônica ou cabo de alta velocidade.*

- a) fax
- b) scanner
- c) modem
- d) monitor

32) Considerando-se o Excel 2007, se a célula com o número 12 for selecionada e logo após for apertado o botão , o resultado obtido será:

- a) 0,12%
- b) 120%
- c) 1,2%
- d) 1200%

33) Sobre selecionar slides no PowerPoint 2007, marcar C para as afirmativas Certas, E para as Erradas e, após, assinalar a alternativa que apresenta a sequência CORRETA:

- ( ) Para selecionar um único slide, clica-se nele.
- ( ) Para selecionar vários slides em sequência, clica-se no primeiro slide, pressiona-se a tecla Shift e clica-se no último slide que se deseja selecionar.
- ( ) Para selecionar vários slides não sequenciais, pressiona-se a tecla Ctrl e clica-se em cada slide que se deseja selecionar.

- a) C - C - C.
- b) C - E - C.
- c) E - C - E.
- d) E - E - E.

**34)** No Mozilla Firefox é possível adicionar todas as abas aos favoritos por meio do seguinte atalho de teclado:

- a) Ctrl+D
- b) Ctrl+B
- c) Ctrl+Shift+D
- d) Ctrl+Shift+B

**35)** Em relação aos modos de exibição em que podem ser exibidos os planos de fundo em um documento no Word 2007, marcar C para as afirmativas Certas, E para as Erradas e, após, assinalar a alternativa que apresenta a sequência CORRETA:

- ( ) Rascunho.
  - ( ) Layout da Web.
  - ( ) Estrutura de Tópicos.
- a) C - C - C.
  - b) E - C - E.
  - c) C - E - C.
  - d) E - E - E.

### LEGISLAÇÃO

Atenção! Em todas as questões de legislação desta prova, serão consideradas as leis e suas alterações até a data do início das inscrições deste concurso.

**36)** De acordo com a Constituição Federal, são direitos dos trabalhadores urbanos e rurais, além de outros que visem à melhoria de sua condição social:

- I - Seguro-desemprego, em caso de desemprego voluntário.
- II - Fundo de garantia do tempo de serviço.
- III - Garantia de salário, nunca inferior ao mínimo, para os que percebem remuneração variável.

Está(ão) CORRETO(S):

- a) Somente o item I.
- b) Somente os itens I e II.
- c) Somente os itens II e III.
- d) Todos os itens.

**37)** Em conformidade com a Constituição Federal, considerando-se o capítulo que dispõe sobre os direitos políticos, marcar C para as afirmativas Certas, E para as Erradas e, após, assinalar a alternativa que apresenta a sequência CORRETA:

- ( ) A soberania popular será exercida pelo sufrágio universal e pelo voto indireto e secreto.
  - ( ) O alistamento eleitoral e o voto são obrigatórios para os maiores de 18 anos e facultativo para os analfabetos, os maiores de 16 e menores de 18 anos e para os maiores de 70 anos.
  - ( ) Não podem alistar-se como eleitores os estrangeiros e, durante o período do serviço militar obrigatório, os conscritos.
- a) C - C - E.
  - b) E - C - C.
  - c) C - E - E.
  - d) E - C - E.

**38)** Com base na Constituição Federal e considerando-se o que está disposto no capítulo sobre os Municípios, analisar a sentença abaixo:

*A fiscalização do Município será exercida pelo Poder Legislativo Municipal, mediante controle externo, e pelos sistemas de controle interno do Poder Executivo Municipal, na forma da lei (1ª parte). O controle externo da Câmara Municipal será exercido com o auxílio dos Tribunais de Contas dos Estados ou do Município ou dos Conselhos ou Tribunais de Contas dos Municípios, onde houver (2ª parte).*

A sentença está:

- a) Totalmente correta.
- b) Correta somente em sua 1ª parte.
- c) Correta somente em sua 2ª parte.
- d) Totalmente incorreta.

**39)** Segundo a Lei Orgânica do Município, a Comissão Representativa funciona nos períodos de recesso da Câmara Municipal e tem as seguintes atribuições, entre outras:

- I - Zelar pelas prerrogativas do Poder Judiciário.
- II - Velar pela observância das leis.
- III - Convocar sessões extraordinárias.

Está(ão) CORRETO(S):

- a) Somente o item I.
- b) Somente os itens I e II.
- c) Somente os itens II e III.
- d) Todos os itens.



**40)** De acordo com a Lei Orgânica do Município, são de iniciativa privativa do Prefeito os projetos de Lei e as emendas à Lei Orgânica que disponham sobre:

- I - Criação, alteração ou extinção de cargos, função ou emprego do Poder Executivo e Autarquias do Município.
- II - Criação de novas vantagens de qualquer espécie, aos servidores públicos do Poder Executivo.
- III - Organização administrativa dos servidores do Município.
- IV - Plano plurianual, diretrizes orçamentárias e orçamento anual.

Estão CORRETOS:

- a) Somente os itens I e III.
- b) Somente os itens I, II e IV.
- c) Somente os itens II, III e IV.
- d) Todos os itens.

**41)** Em conformidade com a Lei Orgânica do Município, o servidor público só perderá o cargo:

- I - Em virtude de sentença judicial que não for transitada em julgado.
- II - Mediante processo administrativo em que lhe seja assegurada ampla defesa.
- III - Mediante procedimento de avaliação periódica de desempenho, na forma de lei complementar, assegurada ampla defesa.

Está(ão) CORRETO(S):

- a) Somente o item II.
- b) Somente os itens I e III.
- c) Somente os itens II e III.
- d) Todos os itens.

**42)** Segundo o Regime Jurídico dos Servidores Públicos do Município, a nomeação far-se-á:

- I - Em comissão quando se tratar de cargo de provimento efetivo.
- II - Em caráter efetivo para cargos de confiança vagos.

- a) Os itens I e II estão corretos.
- b) Somente o item I está correto.
- c) Somente o item II está correto.
- d) Os itens I e II estão incorretos.

**43)** De acordo com o Regime Jurídico dos Servidores Públicos do Município, sobre o que dispõe a Seção IV sobre a posse e o exercício, marcar C para as afirmativas Certas, E para as Erradas e, após, assinalar a alternativa que apresenta a sequência CORRETA:

- ( ) Posse é a aceitação expressa das atribuições, deveres e responsabilidades inerentes ao cargo público, com o compromisso de bem servir, formalizada pela assinatura do respectivo termo, no qual deverão constar atribuições, deveres, responsabilidades e direitos inerentes ao cargo ocupado, que não poderão ser alterados unilateralmente, por qualquer das partes, ressalvados os atos de ofício previstos em Lei.
- ( ) A posse em cargo público dependerá de prévia inspeção médica oficial. Só poderá ser empossado aquele que for julgado apto física e mentalmente para o exercício do cargo.
- ( ) Exercício é o efetivo desempenho das atribuições do cargo público ou da Função de Confiança. É de cinco dias o prazo para o Servidor empossado em Cargo público entrar em exercício, contados da data da posse.

- a) E - C - E.
- b) C - C - C.
- c) C - E - E.
- d) E - C - C.

**44)** De acordo com o Regime Jurídico dos Servidores Públicos do Município, a investidura do servidor estável no cargo anteriormente ocupado, quando invalidada a sua demissão por decisão judicial, com ressarcimento de todas as vantagens determinadas na sentença, dá-se o nome de:

- a) Reversão.
- b) Recondição.
- c) Reintegração.
- d) Readaptação.

**45)** Considerando-se o que dispõe o Regime Jurídico dos Servidores Públicos do Município em seu capítulo sobre a substituição, analisar a sentença abaixo:

*Os servidores investidos em função gratificada ou cargo em comissão terão substitutos indicados. No caso de omissão, serão estes previamente designados pelo dirigente máximo do órgão ou entidade e serão denominados, além do título do cargo, "interinos" (1ª parte). O substituto assumirá automática e cumulativamente, sem prejuízo do cargo que ocupa, o exercício de função gratificada ou cargo em comissão nos afastamentos, impedimentos legais ou regulamentares do titular e na vacância do cargo, hipóteses em que deverá optar pela remuneração de um deles durante o respectivo período. O substituto fará jus à retribuição pelo exercício de função gratificada ou cargo em comissão nos casos de afastamentos ou impedimentos legais do titular, paga na proporção dos dias de efetiva substituição que excedam sete dias (2ª parte).*

A sentença está:

- a) Totalmente correta.
- b) Correta somente em sua 1ª parte.
- c) Correta somente em sua 2ª parte.
- d) Totalmente incorreta.

## CONHECIMENTOS ESPECÍFICOS

**46)** Em conformidade com a Constituição Federal, as ações e serviços públicos de saúde integram uma rede regionalizada e hierarquizada e constituem um sistema único, organizado de acordo com as seguintes diretrizes:

- I - Descentralização, com direção única em cada esfera de governo.
- II - Atendimento integral, com prioridade para as atividades preventivas, sem prejuízo dos serviços assistenciais.
- III - Participação da comunidade.

Estão CORRETOS:

- a) Somente os itens I e II.
- b) Somente os itens I e III.
- c) Somente os itens II e III.
- d) Todos os itens.

**47)** Em conformidade com o Decreto nº 7.508/11, o Contrato Organizativo de Ação Pública de Saúde observará as seguintes diretrizes básicas para fins de garantia da gestão participativa:

- I - Estabelecimento de estratégias que incorporem a avaliação do usuário das ações e dos serviços, como ferramenta de sua melhoria.
- II - Apuração permanente das necessidades e dos interesses do usuário.
- III - Publicidade dos direitos e deveres do usuário na saúde em todas as unidades de saúde do SUS, inclusive nas unidades privadas que dele participem de forma complementar.

Estão CORRETOS:

- a) Somente os itens II e III.
- b) Somente os itens I e II.
- c) Somente os itens I e III.
- d) Todos os itens.

**48)** Em conformidade com a Lei nº 8.080/90 - SUS, assinalar a alternativa que preenche a lacuna abaixo CORRETAMENTE:

*A saúde é um direito fundamental do ser humano, devendo o Estado prover as condições \_\_\_\_\_ ao seu pleno exercício.*

- a) indispensáveis
- b) indesejáveis
- c) desnecessárias
- d) facultativas

**49)** Em relação ao acondicionamento dos resíduos em serviços de saúde, analisar os itens abaixo:

- I - Consiste no ato de embalar os resíduos segregados, em sacos ou recipientes que permitam vazamentos e não resistam às ações de punctura e ruptura.
- II - A capacidade dos recipientes de acondicionamento deve ser compatível com a geração diária de cada tipo de resíduo.

- a) Os itens I e II estão corretos.
- b) Somente o item I está correto.
- c) Somente o item II está correto.
- d) Os itens I e II estão incorretos.

**50)** Assinalar a alternativa CORRETA:

- a) Os resíduos líquidos devem ser acondicionados em recipientes constituídos de material compatível com o líquido armazenado, resistentes, rígidos e estanques, com tampa rosqueada e vedante.
- b) Os sacos devem estar contidos em recipientes de material lavável, resistente à punctura, à ruptura e ao vazamento, com tampa provida de sistema de abertura com necessidade de contato manual.
- c) Os recipientes de acondicionamento existentes nas salas de cirurgia e nas salas de parto necessitam de tampa para vedação.
- d) Todas as alternativas acima estão corretas.

**51)** Em relação às técnicas de limpeza hospitalar, no que se refere à varredura, marcar C para as afirmativas Certas, E para as Erradas e, após, assinalar a alternativa que apresenta a sequência CORRETA:

- ( ) Varredura úmida tem o objetivo de remover o pó e possíveis detritos soltos no chão, fazendo uso de pano úmido e rodo e com o auxílio da pá. Jamais levando o resíduo até a porta de entrada.
- ( ) A varredura seca com vassoura é permitida, por não levantar poeira e bactérias depositadas no piso.

- a) C - C.
- b) C - E.
- c) E - C.
- d) E - E.

**52)** Em relação à desinfecção, analisar a sentença abaixo:

*Tem a finalidade de destruir os microrganismos do ambiente hospitalar, utilizando solução desinfetante (1ª parte). É utilizada após a limpeza de uma superfície que teve contato com sangue, por exemplo (2ª parte).*

A sentença está:

- a) Totalmente incorreta.
- b) Correta somente em sua 1ª parte.
- c) Correta somente em sua 2ª parte.
- d) Totalmente correta.

**53)** Considerando-se a cor das lixeiras e os resíduos que devem ser descartados para a coleta seletiva de lixo, numerar a 2ª coluna de acordo com a 1ª e, após, assinalar a alternativa que apresenta a sequência CORRETA:

- (1) Marrom.
- (2) Preta.
- (3) Vermelha.

- ( ) Madeira.
- ( ) Lixo orgânico.
- ( ) Plástico.

- a) 2 - 1 - 3.
- b) 3 - 2 - 1.
- c) 2 - 3 - 1.
- d) 1 - 2 - 3.

**54)** Resíduos ambulatoriais e de serviços de saúde devem ser descartados nas lixeiras de cor:

- a) Amarela.
- b) Verde.
- c) Branca.
- d) Azul.

**55)** Em relação ao atendimento ao público, são considerados problemas no atendimento telefônico:

- I - Passar o cliente de um ramal para outro dentro da empresa fazendo com que raramente consiga falar com a pessoa certa para resolver seus problemas.
- II - Deixar o telefone tocar por cinco ou seis vezes antes de atender.
- III - Ouvir com atenção o que a pessoa diz.

Está(ão) CORRETO(S):

- a) Somente o item III.
- b) Somente os itens I e II.
- c) Somente os itens II e III.
- d) Todos os itens.

**56)** São características de um bom atendimento, EXCETO:

- a) Ser gentil e paciente.
- b) Ter um tom de voz alto ao responder às dúvidas dos clientes.
- c) Ser comunicativo e estar ciente de que presta serviços.
- d) Procurar atender às questões e expectativas do cliente.

**57)** Os instrumentos mais eficazes para a prevenção dos acidentes são, EXCETO:

- a) Objetos bem afiados.
- b) Inspeção de segurança.
- c) Processos educativos para o trabalhador.
- d) Análises dos acidentes.

**58)** Segundo MEDEIROS, assinalar a alternativa que preenche as lacunas abaixo CORRETAMENTE:

A \_\_\_\_\_ dos arquivos proporciona vantagens, mas existem desvantagens que naturalmente devem ser consideradas antes de ser tomada uma decisão sobre o assunto. Uma das \_\_\_\_\_ é a necessidade de mais espaço para incluir todos os arquivos, além de mesas e cadeiras para as diversas consultas.

- a) centralização - vantagens
- b) descentralização - desvantagens
- c) descentralização - vantagens
- d) centralização - desvantagens

**59)** Para arrumar os materiais de uma forma mais racional, deve-se estar sempre atento a alguns cuidados. Em relação aos cuidados para a arrumação do estoque, marcar C para as afirmativas Certas, E para as Erradas e, após, assinalar a alternativa que apresenta a sequência CORRETA:

- ( ) Manter os materiais estocados em perfeita condição de uso.
  - ( ) Arrumar nas prateleiras os materiais mais antigos na frente dos adquiridos recentemente.
  - ( ) Não misturar materiais de diferentes tipos.
- a) C - E - E.
  - b) E - C - C.
  - c) C - C - C.
  - d) E - C - E.

**60)** Em relação aos Equipamentos de Proteção Individual (EPI's), marcar C para as afirmativas Certas, E para as Erradas e, após, assinalar a alternativa que apresenta a sequência CORRETA:

- ( ) São dispositivos de proteção de uso opcional que o empregador distribui aos seus trabalhadores com custo, de acordo com os riscos aos quais estão expostos.
  - ( ) Devem ser usados quando não é possível controlar um risco através dos Equipamentos de Proteção Coletiva (EPC's).
  - ( ) São utilizados, por exemplo, para a proteção da cabeça, dos olhos, da audição, das vias respiratórias, do tronco e dos membros superiores e inferiores.
- a) C - C - C.
  - b) E - C - C.
  - c) C - C - E.
  - d) E - E - E.