



# MUNICÍPIO DE CRAÍBAS - AL

## CONCURSO PÚBLICO

PROVA TIPO

1

Cargo (Nível Médio – NM):

Código: 17

### 17. AUXILIAR ADMINISTRATIVO

#### Provas de Português, Raciocínio Lógico e Conhecimentos Específicos

#### CADERNO DE QUESTÕES

#### INSTRUÇÕES GERAIS

1. Este **Caderno de Questões** somente deverá ser aberto quando for autorizado pelo Fiscal.
2. Antes de iniciar a prova, confira se o tipo da prova do **Caderno de Questões** é o mesmo da etiqueta da banca e da **Folha de Respostas** de questões objetivas.
3. Ao ser autorizado o início da prova, verifique se a numeração das questões e a paginação estão corretas. Verifique também se contém **40 (quarenta)** questões objetivas com 5 (cinco) alternativas cada. Caso contrário, comunique imediatamente ao Fiscal.
4. O tempo disponível para esta prova é de **3 horas**. Faça-a com tranquilidade, mas **controle seu tempo**. Esse **tempo** inclui a marcação da **Folha de Respostas** de questões objetivas.
5. Você somente poderá sair em definitivo do Local de Prova depois de decorridas **2 horas** do início da aplicação.
6. Na **Folha de Respostas** de questões objetivas, confira seu nome, número do seu documento de identificação, tipo de prova e cargo escolhido.
7. Em hipótese alguma lhe será concedida outra **Folha de Respostas** de questões objetivas.
8. Preencha a **Folha de Respostas** de questões objetivas utilizando caneta esferográfica de tinta azul ou preta. Na **Folha de Respostas** de questões objetivas, preencha completamente o círculo correspondente à alternativa escolhida, conforme modelo:  

9. Será atribuído o valor ZERO à questão que contenha na **Folha de Respostas** de questões objetivas: dupla marcação, marcação rasurada, emendada ou com "X", não preenchida totalmente ou que não tenha sido transcrita.
10. A correção da prova objetiva será efetuada de forma eletrônica, considerando-se apenas o conteúdo da **Folha de Respostas** de questões objetivas.
11. Caso a Comissão julgue uma questão como sendo nula, os pontos serão atribuídos a todos os candidatos.
12. Não será permitida qualquer espécie de consulta.
13. Ao terminar a prova, **devolva** ao **Fiscal** de Sala este **Caderno de Questões**, juntamente com a **Folha de Respostas** de questões objetivas, e **assine a Lista de Presença**.
14. Na sala que apresentar apenas 1 (um) Fiscal, os 3 (três) últimos candidatos somente poderão ausentar-se da sala juntos, após a **assinatura** da **Ata de Encerramento** de provas.
15. **Assine** neste Caderno de Questões e **coloque** o número do seu documento de identificação (RG, CNH etc.).

Boa Prova!

N. do doc. de identificação (RG, CNH etc.):

Assinatura do(a) candidato(a):

2015  
MUNICÍPIO  
DE CRAÍBAS





## PORTUGUÊS

### QUESTÃO 01

Assinale a alternativa em que todas as palavras estão grafadas de acordo com a ortografia oficial.

- A) ancioso, sargento, engraxate, embriaguez.
- B) caranguejo, pretensão, cafajeste, receioso.
- C) obsceno, privilégio, procissão, beneficente.
- D) mortadela, discussão, consciência, exceção.
- E) freguesia, supertição, excursão, hombridade.

### QUESTÃO 02

Estava à porta, parado na soleira, um homem que ele não conheceu logo, e mal pode reconhecer daí a pouco. Vaz Nunes pediu-lhe o favor de entrar; ele obedeceu, cumprimentou-o, estendeu-lhe a mão, e sentou-se na cadeira ao pé da mesa. Não trazia o acanhado natural a um pedinte; ao contrário, parecia que não vinha ali senão para dar ao tabelião alguma coisa preciosíssima e rara.

ASSIS, Machado de. *Contos: uma antologia*. São Paulo: Cia da Letras, p. 39.

Assinale a palavra ou expressão que, no texto, exerce a função de sujeito.

- A) A mão.
- B) Soleira.
- C) Um pedinte.
- D) Um homem.
- E) Alguma coisa preciosíssima.

### QUESTÃO 03

Ok, definitivamente é um clichê dizer que o tempo voa. Mas veja que daqui há pouco já estaremos nos preparando para as festas de fim de ano. Essa sensação de passagem rápida dos dias parece mais intensa no segundo semestre, ainda mais quando o calendário nos brinda com tantos feriados. Em setembro, outubro e novembro, por exemplo, teremos três deles. Período de movimento alto nos aeroportos, o que nos deixa muito felizes e animados, porque sabemos que a nossa empresa vai fazer a diferença na decisão de milhares de pessoas que viajarão nessa época.

Revista GOL, set. 2015, p. 12 (Adaptado).

Considerando a tipologia textual, assinale a alternativa correta.

- A) Trata-se de um texto de caráter cômico; por isso, presta-se a espetáculos teatrais.
- B) Trata-se de um fragmento de tese que procura abordar a questão da passagem do tempo.
- C) É um texto publicitário, cujo argumento básico é a informação de dias feriados e períodos festivos.
- D) É um texto de caráter informativo/publicitário, cuja intenção é ressaltar uma prestação de serviços.
- E) É um texto jornalístico, no qual se observa uma preocupação com a forma e com a norma culta da língua.

### QUESTÃO 04

Não se compreende se o que acaba do dia é conosco que finda em mágoa inútil, ou se o que somos é falso entre penumbras.

PESSOA, Fernando. *Livro do Desassossego*. São Paulo: Companhia das Letras, 2011, p. 211.

Os dois termos sublinhados são, respectivamente,

- A) conjunção, pronome apassivador.
- B) pronome apassivador, conjunção.
- C) pronome apassivador, pronome apassivador.
- D) conjunção, índice de indeterminação do sujeito.
- E) índice de indeterminação do sujeito, pronome apassivador.

### QUESTÃO 05

No Brasil colônia, os testamentos possuíam importante papel na organização social. Além de servirem como instrumentos para a transmissão do legado, funcionavam como testemunhos de fé. Corriqueiramente eram usados para expressar desejos e orientar sobre os procedimentos a serem adotados nos rituais fúnebres.

História da Biblioteca Nacional, n. 107, ago. 2014, p. 87.

Qual a função da linguagem evidenciada no texto?

- A) Fática.
- B) Poética.
- C) Emotiva.
- D) Denotativa.
- E) Metalinguística.

### QUESTÃO 06

As escolas não estão conseguindo educar a emoção. Elas estão gerando jovens insensíveis, hipersensíveis ou alienados. Precisamos formar jovens que tenham uma emoção rica, protegida e integrada.

CURY, Augusto. *Pais brilhantes, professores fascinantes*. Rio de Janeiro: Sextante, 2003, p. 67.

Para a compreensão geral das informações do texto, as palavras “insensíveis”, “hipersensíveis” e “alienados”

- A) estabelecem uma relação antonímica.
- B) estabelecem uma relação sinonímica.
- C) constituem o conceito da palavra “escolas”.
- D) mostram a forma ideal das emoções dos jovens.
- E) informam que os jovens são completamente iguais em suas emoções.

### QUESTÃO 07

Durante alguns dias me impus o dever íntimo de pensar continuamente nas pedras, sabendo que as esquecer só podia ser temporário e que redescobrir meu tormento seria intolerável.

BORGES, Jorge Luis. *Nove ensaios dantescos*. São Paulo: Cia das Letras, 2011, p. 83.

Considerando a norma padrão da língua portuguesa,

- A) no trecho “sabendo que as esquecer”, o pronome pessoal é um objeto indireto.
- B) o “que” em “sabendo que esquecer-las” é um pronome relativo.
- C) o pronome “me” em “me impus” é um objeto indireto.
- D) o termo “o dever íntimo” é predicativo do sujeito.
- E) o termo “meu tormento” é sujeito simples.

### QUESTÃO 08

#### Feiura

Quando \_\_\_ cegonha chegou \_\_\_ casa dos meus vizinhos para entregar \_\_\_ encomenda, o garoto era tão feio que eles ficaram com \_\_\_ cegonha e devolveram o menino.

Nunes, Max. *O pescoço da girafa*. São Paulo: Companhia das letras, 1997. p. 31.

Considerando o emprego do acento grave, assinale a alternativa que preenche corretamente os espaços.

- A) a – à – a – a.
- B) a – a – à – à.
- C) a – à – a – à.
- D) à – a – à – à.
- E) à – à – a – a.

### QUESTÃO 09

É muito usual, dentro do senso comum, semos desencorajados a acreditar em inovações, em conceitos que sejam diferentes daqueles passados de geração para geração e que mantêm as grandes massas dentro de seu quadrado e num lugar aparentemente seguro, também estagnado. Nesse lugar acostuma-se com tudo: ônibus cheio, trem lotado, marmita fria, horas no engarrafamento, cartas de cobranças do SPC, medo de perder o emprego, medo do futuro e toda sorte de medo que assombra o senso comum.

SILVA, Flávio Augusto da. *Geração de valor*. Rio de Janeiro: Sextante, 2014, p. 58.

Considerando o texto, assinale a alternativa correta.

- A) O estilo cronístico do texto desconsidera termos oriundos do coloquialismo linguístico.
- B) No fragmento “as massas dentro de seu quadrado” há exemplo de linguagem denotativa.
- C) O termo “senso comum” pode ser definido pela expressão “passados de geração para geração”.
- D) O fragmento “É muito usual” pode ser substituído, sem prejuízo ao sentido, por “É incomum”.
- E) Em “toda sorte de medo”, a palavra “sorte” preserva o sentido original de sorte como antônimo de azar.

### QUESTÃO 10

Não será a coragem, a disciplina, o medo, o desespero existencial que farão a história das mentalidades de nossa era, mas o sentimento de que merecemos mais do que temos. Uma chaga.

PONDÉ, Luiz Felipe. *A era do ressentimento*. São Paulo: Leya, 2014, p. 41.

Em resumo, o argumento do autor se baseia na ideia de que

- A) há uma intenção de simplicidade.
- B) existem valores além das questões materiais.
- C) há uma valorização do supérfluo nas mentalidades.
- D) o desespero existencial constrói as mentalidades de hoje.
- E) a coragem, a disciplina e o medo marcam as mentalidades contemporâneas.

### QUESTÃO 11

“A vida é meio estranha: conheço muita gente que tem tudo para ser feliz, e adora sofrer.”

Renato Russo

Com base nas regras de concordância nominal, assinale a alternativa que apresenta o mesmo sentido do termo “meio” no enunciado acima.

- A) É meio-dia e meio.
- B) A aula está no meio.
- C) A mesa encontra-se no meio da sala.
- D) Aquela menina vive meio insegura por causa da violência.
- E) Todos devem ter um meio de vida para garantir, ao menos, o sustento próprio.

### QUESTÃO 12

#### Chove chuva

Chove chuva, chove sem parar...

Hoje eu vou fazer uma prece

Pra Deus, nosso senhor,

Pra chuva parar de molhar o meu divino amor

Que é muito lindo, é mais que o infinito

É puro e é belo, inocente como a flor.

[...]

Disponível em: <<http://letras.mus.br/biquini-cavadao/44611/#radio:biquini-cavadao>>.

Acesso em: 18 set. 2015.

No verso: “Pra Deus, nosso senhor, ...” a expressão destacada exerce a função sintática de

- A) sujeito.
- B) aposto.
- C) vocativo.
- D) predicativo.
- E) adjunto adnominal.

### QUESTÃO 13

Relacione cada enunciado com a numeração correspondente à voz do verbo.

1. Ativa	( ) O cozinheiro feriu-se.
2. Passiva analítica	( ) Os clientes do banco serão atendidos pelo gerente.
3. Passiva sintética	( ) Os gregos inventaram a política.
4. Reflexiva	( ) Vendem-se limões.

Qual a sequência correta, de cima para baixo?

- A) 1 – 2 – 4 – 3.
- B) 1 – 4 – 3 – 2.
- C) 3 – 4 – 2 – 1.
- D) 4 – 2 – 1 – 3.
- E) 4 – 3 – 1 – 2.

### QUESTÃO 14

A solução do conflito entre israelenses e palestinos poderia ser um ponto de estabilidade para um Oriente Médio afundado em crises. Esses dois povos estão cercados por problemas. Os vizinhos egípcios continuam sem saber o que é uma democracia, renovaram a ditadura militar e deixaram o terrorismo crescer em seu território. Os sírios, ao norte, entraram no terceiro ano de guerra civil com mais de 150.000 mortos.

Veja, 9 abr. 2014, p. 76.

Segundo o texto,

- A) a estabilidade poderia ser consequência da solução do conflito entre israelenses e palestinos.
- B) democracia e ditadura são fenômenos que se harmonizam por afinidades.
- C) o conflito entre israelenses e palestinos é resultado das crises na região.
- D) estabilidade vai de encontro à possibilidade de paz na região.
- E) o momento de ditadura militar repugna o terrorismo.

### QUESTÃO 15

Uma empresa é formada por processos, estrutura, métodos e procedimentos. E também produtos, clientes e mercados. E, ainda, sentimentos e emoções. O intercâmbio sinérgico desses elementos constitui a empresa-plena.

TRANJAN, Roberto Adami. *A empresa de corpo mente & alma*. São Paulo: Palavra Acesa, 2014, p. 82.

Segundo o texto, o conceito de empresa-plena

- A) desconsidera as relações entre processos e pessoas.
- B) estrutura-se nos sentimentos e emoções.
- C) é alheio aos constituintes empresariais.
- D) vai além dos intercâmbios sinérgicos.
- E) evidencia o intercâmbio sinérgico.

## RACIOCÍNIO LÓGICO

### QUESTÃO 16

Dados os conjuntos  $A = \{1, 2, 4, 5\}$ ,  $B = \{0, 3, 7, 8\}$  e  $C = \{10\}$ , o conjunto  $(A - B) \cup C$  é igual a

- A)  $\{5, 7, 9, 11\}$ .
- B)  $\{1, 2, 4, 5, 10\}$ .
- C)  $\{0, 3, 7, 8, 10\}$ .
- D)  $\{1, -1, -3, -3, 10\}$ .
- E)  $\{0, 1, 2, 3, 4, 5, 7, 8, 10\}$ .

### QUESTÃO 17

O professor de uma determinada escola deseja propor uma gincana sobre ideias para reutilização de material reciclável. Para evitar injustiças, ele precisa criar equipes de mesmo tamanho e oferecer a mesma quantidade de material para cada uma. Sabendo que a turma tem 48 alunos e que o professor tem disponível 132 garrafas pet, 12 tesouras, 72 embalagens de ovos e 24 folhas de papel colorido, qual o número máximo de equipes que podem ser criadas de forma que o professor utilize todo o material disponível e inclua todos seus alunos?

- A) 2
- B) 4
- C) 6
- D) 7
- E) 12

### QUESTÃO 18

Assinale a alternativa que contém uma afirmação que pode ser inferida das seguintes proposições.

- Nenhum ser vivo é capaz de viver eternamente.
- Os atletas são seres humanos.
- Roberta é uma atleta.
- Os humanos são seres vivos.

- A) Roberta não é atleta.
- B) Nenhum atleta é humano.
- C) Todos os humanos são atletas.
- D) Roberta não é capaz de viver eternamente.
- E) Alguns seres vivos são capazes de viver eternamente.

### QUESTÃO 19

Se Bete concluir o relatório antes do prazo, receberá um aumento. Caso Bete receba um aumento, comprará uma máquina fotográfica melhor. Bete terá fotos melhores se obtiver uma máquina fotográfica melhor. Nesse contexto, é correto inferir que

- A) Bete terá fotos melhores.
- B) Bete não terá um aumento.
- C) se Bete não concluir o relatório antes do prazo, não receberá um aumento.
- D) se Bete comprar uma máquina fotográfica melhor, é porque recebeu um aumento.
- E) se Bete concluir o relatório antes do prazo, obterá uma máquina fotográfica melhor.

### QUESTÃO 20

Um reservatório no formato perfeito de um cubo possui capacidade para armazenar, quando completamente cheio, 64 litros de água potável. Outro reservatório, também no formato de um cubo perfeito, mas com a metade da altura, teria capacidade para armazenar até

- A) 8 litros de água potável.
- B) 12 litros de água potável.
- C) 16 litros de água potável.
- D) 24 litros de água potável.
- E) 32 litros de água potável.

### QUESTÃO 21

Se a numeração dos imóveis das ruas somente admitisse números primos, obedecendo rigorosamente a ordem crescente dos números e sem pular nenhum número,

- A) em todas as ruas com mais de 6 casas, haveria o imóvel de número 41.
- B) em ruas com mais de 500 casas, haveria um imóvel de número 143.
- C) em avenidas com mais de 100 imóveis, haveria imóveis de números 43, 83 e 101.
- D) e se todas as ruas possuem pelo menos um imóvel, haveria sempre um imóvel de número 1, pois 1 é primo.
- E) assim como hoje, existiriam imóveis numerados com números ímpares e números pares, na mesma proporção.

### QUESTÃO 22

Um artista decidiu construir em sua cidade uma réplica da estátua "Cristo Redentor" que tem 30 m de altura, mãos com cerca de 3,2 m de comprimento, sendo a distância entre os extremos dos dedos das duas mãos igual a 28 m. Se a réplica deve ter 3 m e as proporções devem ser mantidas, essas duas últimas medidas da réplica serão, respectivamente, iguais a

- A) 1,06 m e 9,33 m.
- B) 32 cm e 2,8 m.
- C) 10,6 cm e 93,3 cm.
- D) 3,2 m e 28 cm.
- E) 3,2 cm e 2,8 m.

### QUESTÃO 23

Em um posto de saúde de uma determinada localidade, são diagnosticados três vezes mais casos de febre Zika do que casos de dengue. Se no mês de agosto de 2015 o posto atendeu 1000 pacientes, sendo 400 pacientes com patologias diversas e os demais com casos de Zika e dengue, os números de casos de febre Zika e dengue atendidos no posto naquele mês foram, respectivamente, iguais a

- A) 150 e 450.
- B) 250 e 750.
- C) 450 e 150.
- D) 480 e 120.
- E) 750 e 250.

### QUESTÃO 24

Quatro pacotes de alimentos (arroz, feijão, farinha e milho) devem ser empilhados de modo que um pacote não fique por baixo de outro mais pesado. Se o peso dos pacotes de arroz e feijão juntos é de 13 kg, o peso dos pacotes de feijão, milho e farinha juntos é de 22 kg, o peso dos pacotes de feijão e farinha juntos é de 17 kg e o peso do pacote de milho é a metade do peso do pacote de feijão, em qual ordem os pacotes devem ser empilhados?

- A) Arroz, milho, farinha e feijão.
- B) Farinha, milho, arroz e feijão.
- C) Feijão, farinha, milho e arroz.
- D) Feijão, arroz, farinha e milho.
- E) Milho, farinha, arroz e feijão.



### QUESTÃO 25

**Em qual loteria eu tenho mais chances de ganhar?**

Alguns estudiosos matemáticos fazem cálculos para demonstrar a probabilidade de ser premiado em cada uma das loterias.

Em suas contas descobriram que a loteria mais fácil de ganhar é a Lotofácil apostando 15 dezenas.

Em um jogo da Lotofácil apostando 15 dezenas as chances de ganhar é de 1 em 3.268.760. Parece difícil, né?

Agora imagine na Mega Sena, que você apostando em 6 dezenas terá 1 chance em 50.063.860, ou seja, a Mega Sena é 15 vezes mais difícil de ganhar do que a Lotofácil.

Confira a probabilidade de ser premiado nas outras loterias:

A Lotomania é a segunda loteria mais fácil de se ganhar, ela é apenas 3 vezes mais difícil que a Lotofácil, apostando as 50 dezenas a chance de ganhar é de 1 em 11.372.635;

Na Dupla Sena, apostando com 6 dezenas, a chance é de 1 em 15.890.700, sendo assim, 5 vezes mais difícil que a Lotofácil;

A Quina também é mais difícil de ganhar do que a Lotofácil, aqui, apostando com 5 dezenas, suas chances de ganhar são de 1 em 24.040.016.

Esses dados são em relação a cartelas marcadas com a quantidade mínima de números. [...]

Disponível em: <<https://www.loteriaonline.com.br/noticias/em-qual-loteria-eu-tenho-mais-chances-de-ganhar:44>>. Acesso em: 17 set. 2015.

Do texto, é correto concluir que

- A) na Mega Sena, jogar 2 bilhetes de 6 dezenas com números diferentes aumenta as chances de ganho em relação a uma única aposta usando um único bilhete com 8 dezenas.
- B) ganhar na Quina usando 5 dezenas é 7 vezes mais difícil do que ganhar na Lotofácil usando 15 dezenas.
- C) ganhar na Lotomania é mais fácil do que na Mega Sena, pois o apostador utiliza 50 dezenas.
- D) acertar na Dupla Sena utilizando 6 dezenas é mais difícil do que acertar na Quina usando 5 dezenas.
- E) a Lotofácil é a mais fácil de ganhar devido a sua baixa procura pelos apostadores.

## CONHECIMENTOS ESPECÍFICOS

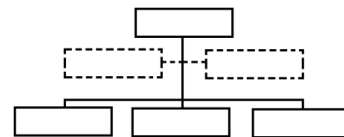
### QUESTÃO 26

As compras municipais são de grande importância para que o setor público ofereça os seus serviços e, conseqüentemente, possa atender com eficiência as demandas sociais. Essas compras, porém, ocorrem com a submissão do executivo municipal a regras específicas definidas em Lei Geral, e, possivelmente, em Leis Complementares. Quanto a essa temática, é correto afirmar que a submissão da Administração Pública às Leis representa o princípio da

- A) eficiência.
- B) legalidade.
- C) moralidade.
- D) publicidade.
- E) impessoalidade.

### QUESTÃO 27

Alberto, recentemente contratado por uma Prefeitura Municipal, resolveu conhecer a estrutura da Procuradoria Geral do Município. Para isso, ele consultou o organograma representado na figura e encontrou a seguinte hierarquia:



- A) uma administração superior, duas administrações executivas e três assessorias.
- B) uma administração superior, duas assessorias e três administrações executivas.
- C) uma administração executiva, duas assessorias e três administrações superiores.
- D) uma administração executiva, duas administrações superiores e três assessorias.
- E) uma assessoria, duas administrações superiores e três administrações executivas.

### QUESTÃO 28

A figura abaixo representa uma comunicação possível em um órgão público. Considerando o conteúdo do texto e desconsiderando as margens e espaços, identifique que modalidade de correspondência foi utilizada.

Em 12 de agosto de 2015.

Ao: Sr. Chefe de Serviço de manutenção predial  
Assunto: Conserto hidráulico

1. Solicito o conserto de vazamento de água existente na torneira da copa deste setor.

Atenciosamente,

João José  
Chefe do Serviço de Atendimento

**Fonte: o autor**

- A) Aviso.
- B) Ofício.
- C) Mensagem.
- D) Memorando.
- E) Correio eletrônico.

### QUESTÃO 29

Uma Unidade de Pronto Atendimento (UPA), construída por um Município, foi organizada estruturalmente por departamentos: setor de cardiologia, setor de oftalmologia e setor de odontologia. Assim, é correto afirmar que o critério em que se baseou o desenho da estrutura organizacional departamentalizada foi por

- A) função.
- B) cliente.
- C) território.
- D) processo.
- E) produto ou serviço.

### QUESTÃO 30

Observe o texto abaixo, comumente encontrado na comunicação entre dois órgãos públicos.

Ilustre Promotor,

1. Com meus sinceros cumprimentos, venho através desta, responder o ofício nº ....., referente ao procedimento nº ....., onde solicita desta Câmara Municipal, cópias dos documentos 'X', 'Y' e 'Z'. Informo que o município ainda não possui os documentos 'X' e 'Y', seguindo em anexo a lei Z.

2. Sem mais para o momento, certo de que foram dirimidas todas as dúvidas requeridas no referido ofício, nos colocamos à inteira disposição dessa promotoria no que for necessário.

Atenciosamente,

Vereador Beltrano de Tal  
Presidente da Câmara Municipal

Em relação ao que recomenda o *Manual de Redação Oficial da Presidência da República*,

- I. O vocativo empregado no texto converge com a recomendação da referida norma.
- II. A norma permite o uso da expressão "em anexo".
- III. O fecho da comunicação está correto.

verifica-se que está(ão) correta(s)

- A) I, apenas.
- B) III, apenas.
- C) I e II, apenas.
- D) II e III, apenas.
- E) I, II e III.

### QUESTÃO 31

Uma Secretaria de Finanças Municipal de uma cidade de pequeno porte chega a ter até 30.000 (trinta mil) cadastros de imóveis para o recolhimento do Imposto Predial Territorial Urbano (IPTU). Qual o método de arquivamento mais adequado para o IPTU gerado por esses cadastros?

- A) Variadex.
- B) Numérico.
- C) Alfabético.
- D) Geográfico.
- E) Ideográfico.

### QUESTÃO 32

Para caracterizar as questões éticas e morais no serviço público, é comum estabelecer um conjunto de regras que devem ser respeitadas pelos servidores públicos. Tais regras balizam a ação do agente público. O poder público da União já estabeleceu essas regras para os servidores públicos federais. Os outros poderes também vêm constituindo as suas, sendo a sua semelhança muito próxima nas esferas federal, estadual e municipal. Nesse sentido, dadas as afirmativas quanto às regras estabelecidas para os servidores públicos federais,

- I. A vida privada de um servidor público não interfere na sua vida funcional.
- II. A omissão de publicidade de ato administrativo qualquer, desde que não declarado sigiloso, compromete a ética do servidor que a praticou.
- III. O servidor público que deixa demandante de serviço, de competência do seu setor, à espera de solução e que caracterize atrasos ou longas filas, atenta contra a ética.

verifica-se que está(ão) correta(s)

- A) I, apenas.
- B) II, apenas.
- C) I e III, apenas.
- D) II e III, apenas.
- E) I, II e III.

### QUESTÃO 33

"[...] até bem pouco, não havia uma lei geral sobre processo ou procedimento administrativo, nem na órbita da União, nem nas dos Estados ou Municípios. Existiam apenas normas esparsas concernentes a um ou outro procedimento [...]".

Referência: MELLO, C. A. B. de *Curso de Direito Administrativo*, São Paulo: Malheiros, 2012.

O procedimento ou processo administrativo corresponde a um(a)

- I. sucessão de atos administrativos com finalidades específicas para que se possa atingir uma finalidade comum;
- II. manifesto jurídico do Estado, no exercício de prerrogativas públicas, para dar cumprimento à Lei, estando sujeita ao controle de legitimidade;
- III. ato administrativo único formado pela conjunção de vontades de vários órgãos públicos com a mesma finalidade.

Dos itens acima, verifica-se que está(ão) correto(s)

- A) I, apenas.
- B) III, apenas.
- C) I e II, apenas.
- D) II e III, apenas.
- E) I, II e III.



### QUESTÃO 34

A tramitação de documentos em órgãos públicos municipais é uma rotina, seja enviando ou recebendo documentos entre setores da própria prefeitura ou entre ela e o meio externo. O protocolo será primordial nessas operações, pois "possibilitará o controle do fluxo documental no órgão/instituição viabilizando a sua recuperação e o acesso a informação" (OLIVEIRA, 2015: 15). O processo de protocolar documentos atende a algumas etapas, sendo uma delas a identificação e análise anterior do documento para atendimento a um plano. A referida etapa é denominada

- A) autuação.
- B) distribuição.
- C) classificação.
- D) recebimento.
- E) movimentação.

### QUESTÃO 35

A diretoria de uma empresa X delegou para cinco de seus gestores a tarefa de executar o planejamento das necessidades de treinamentos e capacitação para os funcionários da organização. Em reunião, os gestores decidiram que a tarefa seria dividida conforme as habilidades individuais e que cada gerente executará sua parcela da atividade em horários vagos para não prejudicar as atividades normais da empresa. Após uma semana, voltaram a se reunir para consolidar a tarefa e apresentá-la à diretoria. Nesse cenário, quanto ao trabalho em equipe, é correto afirmar:

- A) se os funcionários tivessem sido consultados, seria um trabalho em equipe.
- B) seria um trabalho em equipe se fosse entregue no mesmo dia da primeira reunião.
- C) é um trabalho em equipe, porque os gerentes se reunirão novamente para consolidar.
- D) não representa trabalho em equipe, porque foi executado de forma fracionada pelos gerentes.
- E) é trabalho em equipe, porque a soma das habilidades individuais se transformará em um trabalho feito por todos.

### QUESTÃO 36

A demanda crescente de serviços públicos pela sociedade impõe aos Municípios uma responsabilidade ainda maior em sua eficiência. A gestão pública eficiente é feita por meio de muitas dimensões, entre elas a boa gestão de materiais. Quando se fala na gestão de materiais, pode-se dizer que ela abrange nas prefeituras:

- I. as compras realizadas via processo de licitação;
- II. os descartes de produtos inservíveis;
- III. a entrega de material didático para escolas municipais.

Dos itens acima, verifica-se que está(ão) correto(s)

- A) I, apenas.
- B) II, apenas.
- C) I e III, apenas.
- D) II e III, apenas.
- E) I, II e III.

### QUESTÃO 37

Abaixo, são apresentados dois organogramas organizacionais hipotéticos.

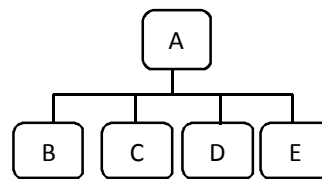


Figura 1

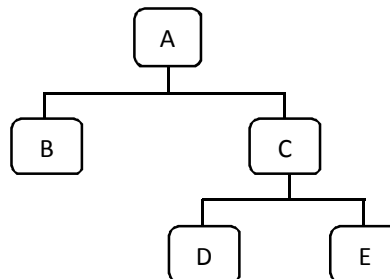


Figura 2

Dadas as afirmativas sobre as Figuras 1 e 2,

- I. A Figura 1 apresenta uma estrutura organizacional dita larga em relação à Figura 2, enquanto a Figura 2 apresenta uma estrutura organizacional dita alta em relação à Figura 1.
- II. A Figura 1 apresenta uma estrutura organizacional dita centralizada, enquanto a Figura 2 apresenta uma estrutura organizacional dita descentralizada.
- III. As Figuras 1 e 2 apresentam formas de organogramas lineares.

verifica-se que está(ão) correta(s)

- A) I, apenas.
- B) II, apenas.
- C) I e III, apenas.
- D) II e III, apenas.
- E) I, II e III.

### QUESTÃO 38

A expressão da ética profissional, em especial da ética esperada nos atos praticados pelos servidores no serviço público, sejam eles das esferas federal, estadual, do distrito federal ou municipal, é traduzida em forma de manuais. O mais conhecido deles é denominado de Código de Ética e/ou Condutas. Dados os elementos comuns na estrutura desses manuais, quando preparados para a atuação do servidor público,

- I. Regras Deontológicas.
- II. Deveres do Servidor Público.
- III. Vedações ao Servidor Público.
- IV. Comissões de Ética.

verifica-se que estão corretos

- A) I e II, apenas.
- B) I e IV, apenas.
- C) II e III, apenas.
- D) III e IV, apenas.
- E) I, II, III e IV.

### QUESTÃO 39

A prorrogação de prazos nos contratos administrativos é permitida sob determinadas condições. Para isso, é necessário que as demais cláusulas e o equilíbrio econômico-financeiro sejam mantidos. Dadas as condições que permitem a prorrogação de prazo,

- I. A Administração Pública altere especificações do projeto.
- II. Pela ocorrência de fato excepcional e imprevisível, alheio à vontade das partes e que afete as condições de execução.
- III. Diminuição ou interrupção do ritmo dos trabalhos por ordem da Administração Pública.

verifica-se que está(ão) correta(s)

- A) I, II e III.
- B) II e III, apenas.
- C) I e II, apenas.
- D) III, apenas.
- E) I, apenas.

### QUESTÃO 40

As teclas de atalho são muito úteis para agilizar a execução de um trabalho no computador. Elas permitem que o operador do sistema operacional acesse algumas ferramentas ou realize tarefas mais rapidamente com um único comando. Caso haja necessidade de utilizar um atalho para realizar a pesquisa de uma pasta de trabalho ou um arquivo específico no Windows 8, deve-se pressionar, ao mesmo tempo, as teclas:

- A) logotipo do Windows + C.
- B) logotipo do Windows + F.
- C) logotipo do Windows + H.
- D) logotipo do Windows + I.
- E) logotipo do Windows + K.