

INSTRUÇÕES

LEIA COM ATENÇÃO

1. Este Caderno de Prova, com páginas numeradas de 1 a 15, é constituído de **40 (quarenta)** questões objetivas, cada uma com **4 (quatro)** alternativas, assim distribuídas:

01 a 15 – Língua Portuguesa

16 a 30 – Matemática

31 a 35 – Legislação Básica

36 a 40 – Conhecimentos Gerais

2. Caso o Caderno de Prova esteja incompleto ou tenha qualquer defeito de impressão, solicite ao fiscal que o substitua.

3. **Sobre a Marcação do Cartão de Respostas**

As respostas deverão ser transcritas com caneta esferográfica de tinta azul ou preta não porosa, fabricada em material transparente, para o Cartão de Respostas, que será o único documento válido para correção.

- 3.1. Para cada questão existe apenas uma alternativa que a responde acertadamente. Para a marcação da alternativa escolhida no **CARTÃO DE RESPOSTAS**, pinte **completamente** o círculo correspondente.

*Exemplo: Suponha que para determinada questão a alternativa **C** seja a escolhida.*

N.º da Questão
<input type="radio"/> A
<input type="radio"/> B
<input checked="" type="radio"/> C
<input type="radio"/> D

- 3.2. Marque apenas uma alternativa para cada questão.
 - 3.3. Será invalidada a questão em que houver mais de uma marcação, marcação rasurada ou emendada, ou não houver marcação.
 - 3.4. Não rasure nem amasse o **CARTÃO DE RESPOSTAS**.
4. Todos os espaços em branco, neste caderno, podem ser utilizados para rascunho.
 5. A duração da prova é **4 (quatro)** horas, já incluído o tempo destinado ao preenchimento do **CARTÃO DE RESPOSTAS**.
 6. Somente após decorridas **2 horas e 30 minutos** do início da prova, o candidato, depois de entregar seu Caderno de Prova e seu Cartão de Respostas, poderá retirar-se da sala de prova. O candidato que insistir em sair da sala de prova antes desse tempo deverá assinar **Termo de Ocorrência** declarando sua desistência do concurso.
 7. Será permitida a saída de candidatos levando o Caderno de Prova somente **na última meia hora** de prova.
 8. Na página **15** deste Caderno de Prova, encontra-se a **Folha de Anotação do Candidato**, a qual poderá ser utilizada para a transcrição das respostas das questões objetivas. Essa folha poderá ser levada pelo candidato para posterior conferência com o gabarito somente após decorridas **2 horas e 30 minutos** do início da prova.
 9. Após o término da prova, o candidato deverá, obrigatoriamente, entregar ao fiscal o **CARTÃO DE RESPOSTAS** devidamente assinado e preenchido.

LÍNGUA PORTUGUESA

INSTRUÇÃO: Leia a crônica e responda às questões de 01 a 07.

Repolhos iguais

Lya Luft

1 Sempre me impressiona o impulso geral de igualar a todos: ser diferente, sobretudo ser original, é defeito. Parece perigoso. E, se formos diferentes, quem sabe aqui e ali uma medicaçãozinha ajuda.

Alguém é mais triste? Remédio nele. Deprimido? Remédio nele (ainda que tenha acabado de perder uma pessoa amada, um emprego, a saúde). Mais gordinho? Dieta nele. Mais alto? Remédio na
5 adolescência para parar de crescer. Mais relaxado na escola? Esse é normal. Mais estudioso, estudioso demais? A gente se preocupa, vai virar *nerd* (se for menina, vai demorar a conseguir marido).

Não podemos, mas queremos tornar tudo homogêneo: meninas usam o mesmo cabelo, a mesma roupa, os mesmos trejeitos; meninos, aquele boné virado. Igualdade antes de tudo, quando a graça, o poder, a força estão na diversidade. Narizes iguais, bocas iguais, sobrelanceias iguais, posturas iguais.

[...]

10 Vamos igualar tudo, como lavouras de repolhos, se possível... iguais. E assim, com tudo o que pode ser controlado com remédios, nos tornamos uma geração medicada.

[...]

Remédios para pressão alta, para dormir, para acordar, para equilibrar as emoções, para emagrecer, para ter músculos, para ter um desempenho sexual fantástico, para ter a ilusão de estar com 30 anos quando se tem 70. [...] Faz alguns anos reina entre nós o diagnóstico de déficit de atenção

15 para um número assustador de crianças.

Não sou psiquiatra, mas a esta altura de minha vida criei e acompanhei e vi muitas crianças mais agitadas, ou distraídas, mas nem por isso precisadas de medicação a torto e a direito. [...] Tal fúria de igualitarismo esconde uma ideologia tola e falsa.

Se déssemos a 100 pessoas a mesma quantidade de dinheiro e as mesmas oportunidades, em
20 dois anos todas teriam destino diferente: algumas multiplicariam o dinheiro; outras o esbanjariam; outras o guardariam; outras ainda o dedicariam ao bem (ou ao mal) alheio.

[...]

Correrias, compromissos, ansiedade por estar na crista da onda, por participar e ser o primeiro, por não ficar para trás, por não ser ignorado, por cumprir os horários, as prescrições, os comandos, tudo o que tantas pressões sociais e culturais ordenam, realmente estão nos tornando eternos
25 angustiados e permanentes aflitos.

Mudar de vida é difícil. Em lugar de correr mais, parar para pensar, roubar alguns minutos para olhar, contemplar, meditar, também é difícil, pois é fugir do padrão. Então seguimos em frente, nervosos com nossos filhos mais nervosos. Haja psicólogo, psiquiatra e medicamento para sermos todos uns repolhos iguais.

(Disponível em: <http://veja.abril.com.br/blog/ricardo-setti/tema-livre/lya-luft-repolhos-iguais/10/05/2014>. Acesso em 23/06/2015.)

QUESTÃO 01

Como o cotidiano é o seu objeto, o gênero crônica aborda diferentes temas, como política, costumes, relações pessoais, comportamentos e outros, com a intencionalidade de levar o leitor à emoção, à reflexão ou ao riso, por exemplo. Nesta crônica, a autora tem como principal intenção levar à reflexão sobre

[A] o uso indevido de medicamentos.

[B] a diversidade de padrões determinados pela sociedade.

[C] a criação de modelos padronizados pela sociedade.

[D] o gasto excessivo com medicamentos desnecessários.

QUESTÃO 02

A respeito das ideias defendidas pela autora, assinale a afirmativa correta.

- [A] O comportamento das pessoas independe do contexto social e cultural em que elas vivem.
- [B] Todos os remédios são usados apenas para controlar padrões socialmente definidos.
- [C] Somente o comportamento é submetido à ideologia do igualitarismo.
- [D] A ideologia do igualitarismo desconsidera a diversidade social.

QUESTÃO 03

Marque a palavra que, no desenvolvimento do texto, **NÃO** recupera a ideia sugerida na expressão *repolhos iguais*, usada no título.

- [A] Homogêneo
- [B] Igualitarismo
- [C] Padrão
- [D] Diversidade

QUESTÃO 04

Analise as afirmativas abaixo referentes à linguagem e à construção dos sentidos do texto.

- I - No gênero crônica, é comum o uso de uma linguagem informal, como se pode comprovar nos trechos *E, se formos diferentes, quem sabe aqui e ali uma medicaçãozinha ajuda; [...] mas nem por isso precisadas de medicação a torto e a direito.*
- II - A autora recorre a palavras no sentido conotativo, como se pode conferir no trecho [...] *ansiedade por estar na crista da onda [...]*.
- III - A crônica foi produzida na terceira pessoa, uma vez que a autora se distancia da situação abordada.
- IV - No fragmento [...] *algumas **multiplicariam** o dinheiro; outras o **esbanjariam**; outras o **guardariam**; outras ainda o **dedicariam** ao bem (ou ao mal) alheio.*, as formas verbais destacadas fazem referência a futuro hipotético.

Está correto o que se afirma em

- [A] I, II e IV, apenas.
- [B] II e IV, apenas.
- [C] I, II e III, apenas.
- [D] III e IV, apenas.

QUESTÃO 05

Em *Não podemos, mas queremos tornar tudo homogêneo* (linha 7), ocorreria alteração de sentido se o conectivo destacado fosse substituído por

- [A] entretanto.
- [B] portanto.
- [C] contudo.
- [D] no entanto.

QUESTÃO 06

Na frase *Tal fúria de igualitarismo esconde uma ideologia tola e falsa*. (linhas 17 e 18), o adjetivo **tola** tem o sentido de

- [A] pequena.
- [B] incapaz.
- [C] simplória.
- [D] triste.

QUESTÃO 07

Sobre a função da pontuação empregada no texto em análise, marque V para as afirmativas verdadeiras e F para as falsas.

- () No segundo parágrafo, a autora usa frases interrogativas, para questionar o uso abusivo de medicamentos.
- () Os dois pontos, usados no terceiro parágrafo, têm a função de introduzir um esclarecimento a respeito da contradição antes mencionada.
- () No trecho *Em lugar de correr mais, parar para pensar, roubar alguns minutos para olhar, contemplar, meditar [...]*, as vírgulas são usadas para separar sequências enumerativas.
- () Em [...] *outras ainda o dedicariam ao bem (ou ao mal) alheio*, os parênteses têm como função intercalar um comentário essencial para entendimento desse trecho.

Assinale a sequência correta.

- [A] V, F, V, F
- [B] V, V, V, F
- [C] F, F, V, V
- [D] F, V, F, V

INSTRUÇÃO: Leia a propaganda a seguir e responda às questões de 08 a 10.



(Disponível em: <https://www.behance.net/gallery/22692553/ONG-Transito-Amigo>. Acesso em 24/06/2015.)

QUESTÃO 08

A respeito desta peça publicitária, é correto afirmar:

- [A] Na construção de sentido, a linguagem verbal independe da linguagem não verbal.
- [B] O público alvo da propaganda são exclusivamente pedestres que desconhecem as leis do trânsito.
- [C] O boletim de emergência médica remete à causa da infração de que trata a propaganda.
- [D] Trata-se de uma campanha que visa conscientizar sobre a necessidade da educação para um trânsito seguro.

QUESTÃO 09

Considere a frase do texto.

PARA SEU BOLETIM NÃO VIR COM NOTAS VERMELHAS, ATRAVESSE NA FAIXA.

Ao reescrever essa frase, mantendo a norma culta da língua, qual alteração ficaria adequada?

- [A] Para que seu boletim não venha com notas vermelhas, atravesse na faixa.
- [B] Para seu boletim não vim com notas vermelhas, atravessa na faixa.
- [C] Para que teu boletim não vem com notas vermelhas, atravesse na faixa.
- [D] Para teu boletim não vier com notas vermelhas, atravessa na faixa.

QUESTÃO 10

A respeito da relação linguagem e construção de sentido, analise as afirmativas a seguir.

- I - Como se trata de uma propaganda institucional, todas as palavras estão empregadas no sentido denotativo.
- II - Já que a propaganda visa ao convencimento do leitor, a forma verbal *atravesse* é empregada para expressar uma ordem.
- III - O pronome possessivo *seu* e o pronome oblíquo *te*, referentes ao interlocutor *você*, estão empregados conforme a gramática da norma culta da língua.
- IV - Em *Se você ainda não aprendeu, a vida te ensina*, os elementos destacados expressam condicionalidade e tempo, respectivamente.

Está correto o que se afirma em

- [A] II e IV.
- [B] I e II.
- [C] I e III.
- [D] III e IV.

INSTRUÇÃO: Leia o texto a seguir e responda às questões de 11 a 14.

Viver em cidades grandes faz bem à saúde?

Viver em áreas populosas está vinculado ao aumento do estresse social, uma vez que o ambiente torna-se menos controlável pelo indivíduo. As disparidades sociais também se tornam muito mais evidentes nas cidades e podem levar a mais estresse.

Porém, nem tudo são más notícias. Infraestrutura, transporte, condições socioeconômicas, nutrição e serviços de saúde são melhores em cidades do que em áreas rurais.

Estudos desenvolvidos nos EUA mostraram que pessoas com mais de 65 anos têm melhor qualidade de vida nas cidades do que no campo. Os pesquisadores acreditam que isso ocorre porque idosos, em áreas rurais, têm menos conexões sociais do que na cidade.

(Disponível em <http://www1.folha.uol.com.br/colunas/clauidiobnarnades/2015/01/1576527-viver-em-grandes-cidades-faz-bem-a-saude.shtml>. Acesso em 25/06/2015.)

QUESTÃO 11

Conclui-se da leitura desse texto que

- [A] pessoas com mais de 65 anos preferem viver na cidade a viver no campo.
- [B] nas áreas populosas, as desigualdades sociais ampliam a possibilidade do estresse.
- [C] no campo, as pessoas idosas estão mais sujeitas ao estresse social.
- [D] a qualidade de vida na cidade está relacionada ao acesso a serviços públicos de qualidade.

QUESTÃO 12

Sobre a articulação das ideias no texto, marque a afirmativa **INCORRETA**.

- [A] No primeiro parágrafo, o fato de *o ambiente torna-se menos controlável pelo indivíduo* é apresentado como causa do aumento do estresse social nas áreas mais populosas.
- [B] O segundo parágrafo apresenta uma ideia contrária ao que o autor afirma no primeiro parágrafo.
- [C] No terceiro parágrafo, o autor apresenta um novo argumento em defesa da tese.
- [D] No segundo parágrafo, o autor usa sequência enumerativa para comprovar o argumento apresentado nesse mesmo parágrafo.

QUESTÃO 13

No fragmento *em ambiente torna-se menos controlável pelo indivíduo*, o advérbio destacado expressa circunstância de

- [A] tempo.
- [B] afirmação.
- [C] negação.
- [D] intensidade.

QUESTÃO 14

Analise as afirmativas a seguir referentes à concordância verbal e nominal no texto.

- I - No primeiro parágrafo, a forma verbal **podem** está na terceira pessoa do plural porque concorda com o vocábulo **idades**.
- II - No primeiro parágrafo, o adjetivo **evidentes** concorda em número com o substantivo **disparidades**.
- III - No terceiro parágrafo, a forma verbal **têm**, empregada na terceira pessoa do plural, concorda com a expressão **peçoas com mais de 65 anos**.
- IV - No segundo parágrafo, o adjetivo **melhores** está no plural para concordar apenas com o substantivo **serviços**, também usado no plural.

Está correto o que se afirma em

- [A] III e IV.
- [B] II e III.
- [C] I e II.
- [D] I e IV.

QUESTÃO 15

Leia o fragmento a seguir.

Viver nos grandes centros está cada vez mais complicado e a convivência urbana é mais ameaçadora do que acolhedora. O cidadão, trabalhador ou em busca de trabalho, é um misto de herói e sobrevivente.

(Disponível em <http://www1.folha.uol.com.br/colunas/adrianagomes/2015/06/1645106-automotivacao.shtml>. Acesso em 24/06/2015.)

A respeito desse fragmento, marque a afirmativa correta.

- [A] Os adjetivos *ameaçadora* e *acolhedora* apresentam sentidos opostos.
- [B] As palavras *trabalhador* e *trabalho* pertencem à classe dos substantivos.
- [C] Em *O cidadão, trabalhador ou em busca de trabalho, é um misto de herói*, o vocábulo **um** expressa ideia de número.
- [D] A mudança do trecho *O cidadão, trabalhador ou em busca de trabalho* para *O cidadão, trabalhador e em busca de trabalho* mantém o sentido do texto.

MATEMÁTICA

QUESTÃO 16

Uma pessoa ganhou um vidro de perfume no formato de um cilindro circular reto com altura e diâmetro da base medindo 6 cm cada um. Admitindo que o volume do líquido preencha totalmente o vidro de perfume, e que após duas semanas de uso, a altura atingida pelo líquido presente no frasco é igual a 4,0 cm, qual é a quantidade de perfume restante no vidro?

- [A] 10,8 mL
- [B] 1,08 mL
- [C] 108 mL
- [D] 0,108 mL

Dados: Considere $\pi = 3$.

$$1 \text{ dm}^3 = 1 \text{ L}$$

QUESTÃO 17

Um pequeno produtor colheu em um determinado dia 10 cachos de banana da variedade nanica. O preço de venda praticado por esse agricultor é R\$ 1,50 o quilo de banana *in natura* e R\$ 10,00 o quilo de banana desidratada. Admita que uma banana nanica ao ser desidratada perca $\frac{3}{4}$ de seu peso, que um cacho desse tipo de banana pese 30 kg e que, para cada cacho colhido, o agricultor antes de vender irá desidratar 10 kg e manter o restante *in natura*. Nessas condições, qual o valor que o agricultor receberá pela venda de toda a colheita?

- [A] R\$ 600,00
- [B] R\$ 550,00
- [C] R\$ 800,00
- [D] R\$ 650,00

QUESTÃO 18

Considere o número **b679a** em que **a** é o algarismo da unidade e **b**, o algarismo da dezena de milhar. Sabendo-se que **b679a** é divisível por 15, um dos possíveis valores que **b** pode assumir é:

- [A] 5
- [B] 4
- [C] 1
- [D] 7

Espaço para rascunho

QUESTÃO 19

Certo revestimento retangular de parede é armazenado em caixas com 12 peças cada uma. Admitindo que cada peça de revestimento meça 50 cm x 34 cm, é correto afirmar que a quantidade mínima de caixas necessárias para revestir uma parede retangular de 3 m de altura e 3 m de largura é:

- [A] 6
- [B] 4
- [C] 7
- [D] 5

QUESTÃO 20

Considere os números: $x = a123$, $y = 2a997$ e $z = a985$. Sabendo-se que $x + y + z = 46.105$, é correto afirmar que o algarismo a é um número múltiplo de:

- [A] 5
- [B] 4
- [C] 7
- [D] 6

QUESTÃO 21

A tabela abaixo apresenta o consumo de energia elétrica, em kWh, de uma determinada residência no período de agosto a dezembro de 2014.

Ano	Ago	Set	Out	Nov	Dez
2014	440	549	704	657	650

A partir dessas informações, para se reduzir o consumo de energia elétrica registrado no período de agosto/2014 a dezembro/2014 em 2%, é necessário que o consumo no período de agosto/2015 a dezembro/2015 sofra uma redução de

- [A] 50 kWh.
- [B] 30 kWh.
- [C] 60 kWh.
- [D] 40 kWh.

Espaço para rascunho

QUESTÃO 22

Analise a figura abaixo.



(Adaptado de <http://planetasustentavel.abril.com.br/imagem/qual-o-tipo-e-mais-economico-Pop1.jpg>. Acesso em 08/07/2015.)

A respeito da figura e admitindo que uma lâmpada seja utilizada por 1000 horas durante um ano e que o preço do kWh é R\$ 0,50, o custo da energia elétrica utilizada pelas lâmpadas incandescente comum, LED e fluorescente compacta no final de um ano é, respectivamente, igual a

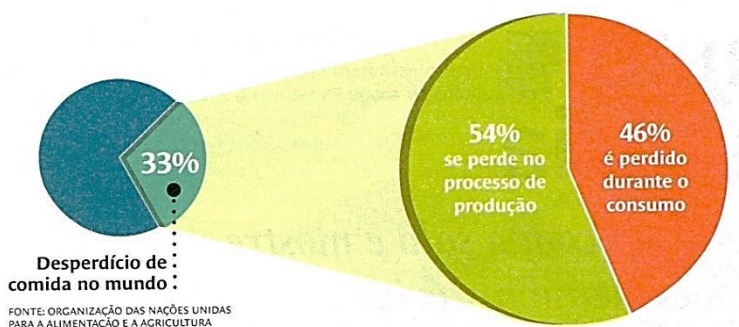
- [A] R\$ 3,00; R\$ 4,00; R\$ 5,50
- [B] R\$ 300,00; R\$ 75,00; R\$ 45,00
- [C] R\$ 30,00; R\$ 4,50; R\$ 7,50
- [D] R\$ 45,00; R\$ 30,00; R\$ 75,00

Dado: 1kW = 1.000 W

Espaço para rascunho

QUESTÃO 23

A figura abaixo apresenta o percentual de desperdício de comida no mundo em relação à comida produzida.



(Revista Nova Escola, junho/julho/2015.)

Qual o percentual de comida que se perde no processo de produção em comparação a toda comida produzida?

- [A] 17,82%
- [B] 15,18%
- [C] 16,72%
- [D] 18,20%

QUESTÃO 24

Duas panelas vazias, A e B, pesam respectivamente 325 gramas e 487 gramas. Pretende-se distribuir 1 kg de carne entre A e B de tal forma que ambas fiquem, após a distribuição, com o mesmo peso. A partir dessas informações, é correto afirmar que a quantidade de carne colocada em A é:

- [A] 419 g
- [B] 162 g
- [C] 372 g
- [D] 581 g

QUESTÃO 25

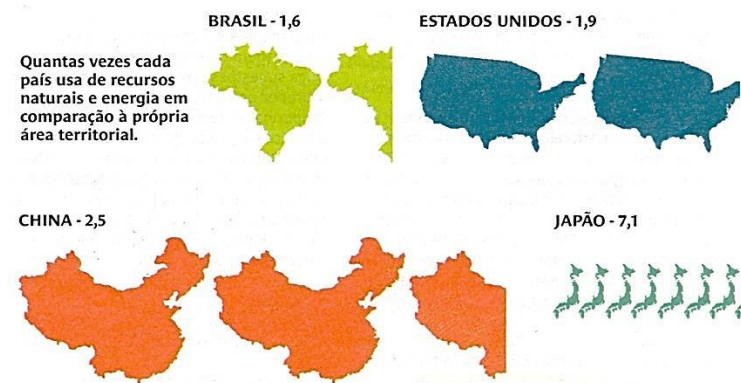
Admita que o custo de produção de uma fábrica para produzir certo produto seja R\$ 2,00 a unidade mais um valor fixo de R\$ 300,00. Se cada unidade x desse produto é vendida a R\$ 2,50, a fábrica somente terá lucro se:

- [A] $x < 600$
- [B] $x > 600$
- [C] $400 \leq x < 600$
- [D] $350 \leq x \leq 550$

Espaço para rascunho

QUESTÃO 26

Analise as informações contidas na figura e na tabela abaixo.



FONTE: WWF BRASIL

(Revista Nova Escola, junho/julho/2015.)

País	Área Territorial Aproximada (em milhões de km ²)
Brasil	8,5
E U A	7,8 (sem o Alasca e o Havai)
China	9,5
Japão	0,37

A partir dos dados, analise as afirmativas.

- I - A área utilizada pela China excede a área utilizada pelo Japão em mais de 25 milhões de km².
- II - A área utilizada pelo Brasil excede a área utilizada pelos EUA em mais de 1,2 milhões de km².
- III - A área utilizada pelo Brasil excede em cinco vezes a área utilizada pelo Japão.

Está correto o que se afirma em

- [A] I, II e III.
- [B] III, apenas.
- [C] II e III, apenas
- [D] I e II, apenas.

QUESTÃO 27

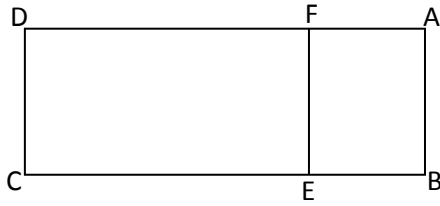
Um grupo de cinco motoristas (3 homens e 2 mulheres) se apresentou ao sindicato da categoria para formar uma chapa que irá concorrer às eleições para a escolha da próxima diretoria. Sabendo-se que a diretoria desse sindicato é composta pelo presidente, vice-presidente, secretário e tesoureiro e que o presidente deve ser uma mulher, de quantas maneiras possíveis pode ser formada a chapa?

- [A] 48
- [B] 24
- [C] 12
- [D] 36

Espaço para rascunho

QUESTÃO 28

Em um terreno de forma retangular ABCD, será construído um jardim retangular ABEF, como ilustra a figura abaixo.



Sabendo-se que $AB = \frac{3}{5} AD$ e que $AF = \frac{2}{5} AB$, é correto afirmar que o percentual ocupado pela área do jardim em relação à área do terreno é:

- [A] 28%
- [B] 32%
- [C] 24%
- [D] 18%

QUESTÃO 29

Segundo dados da revista Veja, de junho/2015, a taxa de juros do cheque especial chegou a 226% ao ano. Admitindo-se que essa taxa seja de juros simples, um saldo negativo de R\$ 1.500,00 se transformaria, ao final de 2 anos, em uma dívida de:

- [A] R\$ 6.780,00
- [B] R\$ 7.820,00
- [C] R\$ 5.280,00
- [D] R\$ 8.280,00

QUESTÃO 30

Um grupo com mais de 10 crianças foi levado ao parque durante um passeio. Do total dessas crianças, um sexto ao quadrado brincava no escorregador e as cinco crianças que sobraram jogavam bola. A quantidade de crianças que foram ao passeio é um número

- [A] primo.
- [B] múltiplo de 15.
- [C] divisível por 11.
- [D] múltiplo de 7.

Espaço para rascunho

LEGISLAÇÃO BÁSICA

QUESTÃO 31

De acordo com a Lei Orgânica Municipal de Cáceres-MT, **NÃO** é condição de elegibilidade para o mandato de Vereador:

- [A] Idade mínima de 21 anos.
- [B] Nacionalidade brasileira.
- [C] Filiação partidária.
- [D] Domicílio eleitoral na circunscrição.

QUESTÃO 32

O Poder Legislativo Municipal é exercido pela Câmara Municipal. Conforme a Lei Orgânica Municipal de Cáceres-MT, o mandato do Vereador é de

- [A] três anos.
- [B] cinco anos.
- [C] quatro anos.
- [D] seis anos.

QUESTÃO 33

Os vereadores eleitos no Município de Cáceres-MT, de acordo com a Lei Orgânica Municipal da cidade, tomarão posse em Sessão Solene da Câmara Municipal no ano subsequente ao da eleição no

- [A] segundo dia de fevereiro.
- [B] primeiro de março.
- [C] cinco de janeiro.
- [D] primeiro dia de janeiro.

QUESTÃO 34

Conforme dispõe a Lei Orgânica Municipal de Cáceres-MT, **NÃO** é competência privativa da Câmara Municipal:

- [A] Elaborar o Regimento Interno.
- [B] Autorizar as despesas da Câmara Municipal.
- [C] Dar posse ao Prefeito e Vice-Prefeito quando eleitos.
- [D] Autorizar a mudança de sede do Município.

QUESTÃO 35

Dispõe a Lei Orgânica Municipal de Cáceres-MT que as Sessões Legislativas da Câmara Municipal só poderão ser abertas com a presença de, no mínimo:

- [A] um terço dos Membros da Câmara.
- [B] um quarto dos Membros da Câmara.
- [C] um quinto dos Membros da Câmara.
- [D] um sexto dos Membros da Câmara.

CONHECIMENTOS GERAIS

QUESTÃO 36

Quando chegou em Cuiabá, em 1751, D. Antonio Rolim de Moura mandou fundar uma aldeia para os índios, depois chamada Missão de Santana. O padre Estevão de Castro escolheu como local para essa missão:

- [A] A Vila Maria do Paraguai (atual Cáceres).
- [B] O Arraial de Santo Antonio do Rio Abaixo (atual Santo Antônio de Leverger).
- [C] O Sítio da Chapada (atual Chapada dos Guimarães).
- [D] O Arraial do Rosário (atual Rosário Oeste).

QUESTÃO 37

Observe atentamente a imagem abaixo.



Este monumento possui inscrições em latim nos quatro lados e foi trazido para o Oeste das terras portuguesas em 1754, após a assinatura do Tratado de Madri (1750). Por qual nome é conhecido?

- [A] Obelisco do Guaporé
- [B] Menir do Paraguai
- [C] Marco do Juru
- [D] Pedra Fundamental de Vila Maria

QUESTÃO 38

O território brasileiro apresenta importante disponibilidade hídrica, seja pelas águas superficiais, ou subterrâneas. Em relação às águas superficiais, possui vários rios que contribuem para a formação de bacias hidrográficas que extrapolam seus próprios limites. O rio Paraguai, cuja principal nascente se encontra no estado de Mato Grosso, é um rio que contribui para a bacia hidrográfica do

- [A] Amazonas.
- [B] Uruguai.
- [C] Tocantins.
- [D] Prata.

QUESTÃO 39

O turismo é uma atividade econômica expressiva em áreas naturais. Neste sentido, os segmentos turísticos podem variar de acordo com o público-alvo para aquela área, como ecoturismo, turismo de eventos, turismo de negócios, turismo religioso, turismo de pesca, turismo da melhor idade, turismo LGBT, entre outros. O município de Cáceres, Pantanal Mato-grossense, é destaque na prática do turismo _____ com a realização de um importante festival.

Assinale a alternativa que preenche corretamente a lacuna.

- [A] de pesca
- [B] de aventura
- [C] ecoturismo
- [D] espeleológico

QUESTÃO 40

O território Mato-grossense apresenta biodiversidade expressiva devido à existência de três biomas:

- [A] Amazônia, Pantanal e Manguês.
- [B] Cerrado, Mata Atlântica e Pantanal.
- [C] Cerrado, Pampas e Amazônia.
- [D] Amazônia, Cerrado e Pantanal.



Universidade Federal de Mato Grosso
Secretaria de Articulação e Relações Institucionais
Gerência de Exames e Concursos

Concurso Público da
Câmara Municipal de Cáceres

Edital nº 01/2015

Nome: _____

Cargos de Nível Fundamental: Mensageiro e Telefonista

FOLHA DE ANOTAÇÃO DO CANDIDATO

Questão	Alternativa
01	
02	
03	
04	
05	
06	
07	
08	
09	
10	
11	
12	
13	
14	
15	
16	
17	
18	
19	
20	

Questão	Alternativa
21	
22	
23	
24	
25	
26	
27	
28	
29	
30	
31	
32	
33	
34	
35	
36	
37	
38	
39	
40	

Esta folha é destinada para uso EXCLUSIVO do candidato.