



PREFEITURA DE
SAQUAREMA
CADA VEZ MELHOR

CONCURSO PÚBLICO

Assistente Administrativo

Data: 19/07/2015 - Tarde
Duração: 3 horas

Leia atentamente as instruções abaixo.

01- Você recebeu do fiscal o seguinte material:

a) Este **Caderno**, com 40 (quarenta) questões da Prova Objetiva, sem repetição ou falha, conforme distribuição abaixo:

Português	Conhecimentos Gerais	Matemática	Infomática
01 a 10	11 a 20	21 a 30	31 a 40

b) Um **Cartão de Respostas** destinado às respostas das questões objetivas formuladas nas provas.

02- Verifique se este material está em ordem e se o seu nome e número de inscrição conferem com os que aparecem no **Cartão de Respostas**. Caso contrário, notifique **imediatamente** o fiscal.

03- Após a conferência, o candidato deverá assinar no espaço próprio do **Cartão de Respostas**, com caneta esferográfica de tinta na cor **azul** ou **preta**.

04- No **Cartão de Respostas**, a marcação da alternativa correta deve ser feita cobrindo a letra e preenchendo todo o espaço interno do quadrado, com caneta esferográfica de tinta na cor **azul** ou **preta**, de forma contínua e densa.

Exemplo:

A	B	<input checked="" type="checkbox"/>	D	E
---	---	-------------------------------------	---	---

05- Para cada uma das questões objetivas, são apresentadas 5 (cinco) alternativas classificadas com as letras (A, B, C, D e E), mas só uma responde adequadamente à questão proposta. Você só deve assinalar **uma alternativa**. A marcação em mais de uma alternativa anula a questão, mesmo que uma das respostas esteja correta.

06- **Será eliminado** do Concurso Público o candidato que:

- Utilizar ou consultar cadernos, livros, notas de estudo, calculadoras, telefones celulares, pagers, walkmans, réguas, esquadros, transferidores, compassos, MP3, Ipod, Ipad e quaisquer outros recursos analógicos.
- Ausentar-se da sala, a qualquer tempo, portando o **Cartão de Respostas**.

Observações: Por motivo de segurança, o candidato só poderá retirar-se da sala após 1 (uma) hora a partir do início da prova.

O candidato que optar por se retirar sem levar seu Caderno de Questões não poderá copiar sua marcação de respostas, em qualquer hipótese ou meio. O descumprimento dessa determinação será registrado em ata, acarretando a eliminação do candidato.

Somente decorrida 2 horas de prova, o candidato poderá retirar-se levando o seu Caderno de Questões.

07- Reserve os 30 (trinta) minutos finais para marcar seu **Cartão de Respostas**. Os rascunhos e as marcações assinaladas no **Caderno de Questões** não serão levados em conta.

PORTUGUÊS

É PRECISO AVANÇAR NOS ESPAÇOS DE PODER PARA CHEGAR À EQUIDADE DE GÊNERO

Em meio a muitas adversidades enfrentadas no dia a dia, as mulheres vêm conquistando alguns avanços no mercado de trabalho. A situação ainda está muito longe da ideal, mas um estudo mostra que seguimos em direção a um mercado de trabalho com maior igualdade de gênero.

Desemprego

A taxa de desemprego da mulher é sistematicamente maior que a dos homens, mas, recentemente, a diferença vem diminuindo, o que indica a criação de mais postos de trabalhos para elas. Mesmo assim, as mulheres ainda correspondem a mais da metade do número de desempregados.

Todo o movimento de elevação do número de postos de trabalho com carteira de trabalho assinada, no período recente, beneficiou também as mulheres. Contudo, quando ocupadas, elas encontram maior dificuldade de ascensão profissional, principalmente para chegar a cargos de chefia. E, em termos gerais, ganham menos do que os homens, apesar de possuir maior escolaridade.

Mais cara

Também não é admissível que continue a vigorar o pensamento que diz que a mão de obra feminina é mais cara porque a mulher engravida ou precisa cuidar dos filhos ou dos pais. É preciso intensificar ainda mais a discussão, já em pauta, sobre a necessidade de se compartilhar as responsabilidades familiares e, para isso, é preciso repensar os papéis socialmente atribuídos ao homem e à mulher. Enquanto o homem ocupado faz cerca de 9,8 horas semanais de serviços domésticos, a mulher ocupada faz 20,6 horas, segundo dados da Pesquisa Nacional por Amostra de Domicílios, do Instituto Brasileiro de Geografia e Estatística (Pnad/IBGE). Por que a maior parte do trabalho doméstico precisa ser feita pela mulher?

Para promover a igualdade de condições de inserção da mulher no mercado de trabalho, as políticas públicas precisam universalizar o direito de acesso às creches, à educação infantil, básica e média, em tempo integral, assim como assegurar serviços que possam amparar as famílias nos cuidados com os idosos.

Clemente Ganz Lúcio
Patrícia Lino Costa

(Extraído de: carosamigos.com.br)

01. A proposta já formulada no título, que será desenvolvida ao longo do texto, consiste em:

- A) extinção imediata da organização familiar atual
- B) restrição dos cargos de chefia às profissionais mulheres
- C) necessidade de inverter as relações hierárquicas na sociedade
- D) revisão das regras eleitorais para viabilizar a eleição de mulheres
- E) garantia da ascensão profissional da mulher aos postos de comando

02. Em relação ao modo de organização das ideias, o texto lido se caracteriza por:

- A) apresentar uma descrição neutra dos dados mais relevantes
- B) narrar insatisfações masculinas com a situação cotidiana de trabalho
- C) comparar a realidade brasileira com a vivida em outros países
- D) manifestar visão crítica sobre conquistas e dificuldades atuais
- E) contrapor os argumentos feministas sobre as condições de trabalho

03. Uma evidência da desigualdade de gênero, apontada pelo texto, reside no fato de:

- A) mulheres com mais escolaridade receberem salários menores do que os dos homens
- B) os homens terem mais facilidade de horário para levar seus filhos à creche
- C) as mulheres serem sumariamente demitidas quando realizam aborto
- D) os homens terem mais resistência em ajudar familiares mais velhos e com dificuldade
- E) as mulheres terem mais impedimentos para participar de reuniões fora de sua cidade

04. Entre as propostas de mudança apontadas pelo texto, a igualdade de condições da mulher depende de:

- A) aprovação da lei do salário mínimo único
- B) revisão do conceito de família na Constituição
- C) universalização do direito ao acesso às creches
- D) reformulação do papel dos filhos no estatuto do idoso
- E) implementação de novos itens na lei Maria da Penha

05. De acordo com o texto, a situação das mulheres atualmente:

- A) é idealizada, por elaboração das gerações anteriores
- B) está horrível, motivada por falta de união das mulheres
- C) permanece insustentável, assegurada pelas campanhas midiáticas
- D) possui conquistas, pautadas por necessidade de melhorias
- E) fica indiferente, reforçada pela ausência de lutas

06. O par de palavras que melhor caracteriza, na visão dos autores, os patamares atuais da condição feminina no mercado de trabalho é:

- A) situação/ ideal
- B) mercado/ gênero
- C) elevação/ ascensão
- D) chefia/ escolaridade
- E) adversidades/ avanço

07. No segundo parágrafo, o emprego de “recentemente” reforça a seguinte ideia:

- A) trata-se de alteração atual em tendência anterior
- B) observa-se permanência indesejável das injustiças
- C) percebe-se comparação com momentos históricos mais produtivos
- D) indica-se contradição entre as políticas públicas e sua implementação
- E) ressalta-se decréscimo das taxas em oposição aos esforços do governo

08. A visão de que a mão de obra feminina é mais cara, segundo os autores, representa:

- A) um fardo biológico imposto pela gravidez
- B) um problema gerado pelas leis trabalhistas
- C) uma demagogia eleitoreira com a ampliação da licença
- D) um preconceito gerador de sobrecarga para as mulheres
- E) uma atitude de submissão feminina a padrões gananciosos

09. “Todo o movimento de elevação do número de postos de trabalho com carteira de trabalho assinada, no período recente, beneficiou também as mulheres”. Essa frase contém o seguinte pressuposto:

- A) o trabalho informal permanece em condição de estagnação
- B) o aumento de postos de trabalho é conquista de homens e mulheres
- C) a carteira assinada é um direito ainda muito recente e pouco valorizado
- D) as mulheres só possuem direitos trabalhistas quando ocupam cargos
- E) os postos de trabalho finalmente saíram do movimento de decréscimo

10. No quinto parágrafo, os dados extraídos do IBGE sustentam a seguinte ideia:

- A) as mulheres gostam de fazer hora-extra de trabalho
- B) os homens se distraem muito com transmissões de futebol
- C) o instinto maternal é um alicerce inalterável de nossa sociedade
- D) o trabalho doméstico recai principalmente sobre as mulheres
- E) os pais impedem a ascensão profissional de suas filhas

CONHECIMENTOS GERAIS

11. Nos termos da Lei Orgânica do município de Saquarema, é condição essencial para a investidura no cargo de Secretário Municipal ou Diretor equivalente:

- A) ser brasileiro ou estrangeiro residente no país há mais de 15 anos
- B) ser maior de 18 (dezoito) anos de idade
- C) ter graduação superior ou ensino médio, além de curso de capacitação
- D) estar no exercício dos direitos políticos
- E) não ter sido eleito para mandato eletivo no Poder Legislativo Municipal

12. Das atribuições fixadas em lei, **não** é competência dos Secretários ou Diretores municipais:

- A) subscrever atos e regulamentos referentes aos seus órgãos
- B) expedir instruções para a boa execução das leis, decretos e regulamentos
- C) apresentar ao prefeito relatório anual dos serviços realizados por suas repartições
- D) comparecer à Câmara Municipal, sempre que por esta convocados, para a prestação de esclarecimentos oficiais
- E) apresentar, ao Poder Legislativo, os projetos de lei sobre estrutura de cargos, carreira e remuneração de servidores públicos municipais

13. Os crimes de responsabilidade do prefeito estão previstos em:

- A) lei estadual
- B) resolução do Senado
- C) lei federal
- D) regulamento da Polícia Federal
- E) lei municipal

14. É vedado ao prefeito municipal:

- A) assumir, por qualquer forma, compromissos financeiros para execução de programas ou projetos após o término do seu mandato, não previstos na legislação orçamentária
- B) representar o município em juízo e fora dele, sob pena de invasão de competência da Procuradoria do Município
- C) vetar, no todo ou em parte, os projetos de lei aprovados pela Câmara, tendo em vista a observância ao princípio da separação dos poderes
- D) decretar, nos termos da lei, a desapropriação por necessidade ou utilidade pública, ou por interesse social
- E) resolver sobre requerimentos, reclamações ou representações que lhe forem dirigidas

15. A fiscalização contábil, financeira e orçamentária do Município será exercida mediante controle externo, pela:

- A) Procuradoria Geral de Justiça
- B) Câmara Municipal
- C) Assembleia Legislativa
- D) Secretaria Municipal de Administração
- E) Subprefeitura

16. O Poder Executivo manterá sistema de controle interno a fim de:

- A) criar condições indispensáveis para assegurar ineficácia do controle externo e irregularidade à realização da receita e da despesa
- B) acompanhar as execuções de programas de trabalho e do orçamento
- C) julgar os resultados alcançados pelos administradores
- D) autorizar a execução dos contratos e empenhar as respectivas despesas
- E) assessorar juridicamente o prefeito e representar o município judicialmente

17. É lei complementar, dentre outras previstas na Lei Orgânica municipal:

- A) cada resolução dos secretários municipais
- B) a que autorizar o prefeito a se ausentar do Município por prazo de até 15 (quinze) dias
- C) a que autorizar a tomada de contas do prefeito, quando este não a prestar nos prazos legalmente estabelecidos
- D) a lei instituidora do regime jurídico dos servidores municipais
- E) a que estabelecer a escolha do presidente da Câmara Municipal

18. São municípios que, no Estado do Rio de Janeiro, integram a mesma região de governo do Município de Saquarema:

- A) Cabo Frio e Nova Friburgo
- B) Maricá e Silva Jardim
- C) Araruama e Arraial do Cabo
- D) Itaboraí e Rio Bonito
- E) São Pedro da Aldeia e Tanguá

19. **Não** é um município que integre a Região das Baixadas Litorâneas:

- A) Araruama
- B) Casimiro de Abreu
- C) Saquarema
- D) Armação de Búzios
- E) Macaé

20. Segundo dados extraídos do Anuário Estatístico 2013 da Fundação Ceperj, o município da Região das Baixadas Litorâneas com maior PIB *per capita* em 2010 foi o de:

- A) Casimiro de Abreu
- B) Carapebus
- C) Saquarema
- D) Rio das Ostras
- E) Armação de Búzios

MATEMÁTICA

21. Considere que o município de Saquarema possua uma extensão territorial de 360 km². Se esse município tivesse a forma de um retângulo com dimensões, em km, iguais a 12,5 e **x**, o valor de **x** seria igual a:

- A) 13,4
- B) 18,2
- C) 24,6
- D) 28,8
- E) 32,4

22. Admita que a distância de Saquarema à cidade do Rio de Janeiro seja de 100 km. Uma pessoa percorreu $\frac{5}{16}$ dessa distância de carro e o restante de ônibus. A distância total percorrida de ônibus, em km, foi igual a:

- A) 68,75
- B) 69,25
- C) 71,50
- D) 72,15
- E) 73,40

23. Uma questão de múltipla escolha de uma determinada prova é composta de 5 opções, em que apenas uma é correta. Se João marcar ao acaso uma das opções, a probabilidade de ele acertar a questão é equivalente a:

- A) 0,1
- B) 0,2
- C) 0,3
- D) 0,4
- E) 0,5

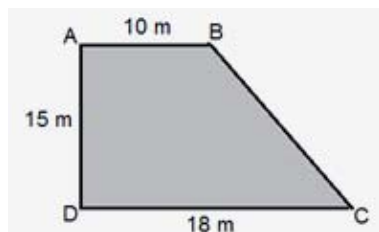
24. Admita que a distância, em metros, do centro de uma caixa cúbica até o ponto médio de uma de suas arestas seja $2\sqrt{2} m$. A medida, em m^3 , do volume dessa caixa é igual a:

- A) 2
- B) 4
- C) 8
- D) 16
- E) 64

25. Uma loja vende apenas dois tipos de cimento: A e B. Considere que o cimento do tipo A custa R\$ 3,20 o quilo, enquanto o do tipo B custa R\$ 2,40 o quilo. Certo dia, João comprou um quilo de cimento, sendo x gramas do cimento tipo A e y gramas do tipo B. Se o valor pago por esse quilo de cimento foi de R\$ 2,90, a diferença $(x - y)$ equivale a:

- A) 215
- B) 225
- C) 250
- D) 270
- E) 285

26. A figura a seguir representa um terreno com a forma de um trapézio retângulo.



A medida, em metros, do lado BC corresponde a:

- A) 16
- B) 17
- C) 18
- D) 19
- E) 20

27. Admita que João faça uso de dois medicamentos diferentes. Um deles deve ser usado de 10 em 10 horas, enquanto que o outro de 8 em 8 horas. João fez uso dos dois medicamentos juntos pela primeira vez numa determinada hora. A partir daí, a próxima vez que usará os dois juntos será exatamente após n horas. O valor de n é igual a:

- A) 10
- B) 18
- C) 36
- D) 40
- E) 80

28. Leia com atenção a notícia abaixo:

“No dia 16 de maio, foi realizado, em Sampaio Corrêa, o Show do Trabalhador. O evento começou às 19 horas e terminou às 22h.”

Suponha que Fátima tenha chegado ao show exatamente às 19h, e que tenha ido embora 20 minutos antes do seu término. Isso significa dizer que Fátima permaneceu no show um total de n minutos. O valor de n é igual a:

- A) 120
- B) 130
- C) 140
- D) 150
- E) 160

29. Uma agência de turismo usa a fórmula $C = \frac{65x}{2} + 245$ para determinar o custo C , em reais, de um passeio para grupos com x pessoas. Se um determinado grupo pagou um total de R\$ 1.805,00 por um passeio, a soma dos algarismos do número que representa a quantidade de pessoas desse grupo é igual a:

- A) 10
- B) 11
- C) 12
- D) 13
- E) 14

30. Observe a seguinte tabela. Ela mostra o número de pessoas que se hospedaram em uma pousada de Saquarema nos meses de janeiro e fevereiro de 2015.

Janeiro	Fevereiro	Março
360	300	x

Se $(360, 300, x)$ formam uma progressão geométrica, o valor de x corresponde a:

- A) 280
- B) 270
- C) 260
- D) 250
- E) 240

INFORMÁTICA

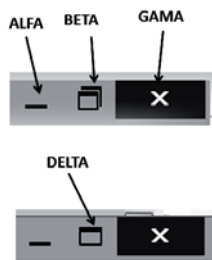
31. Atualmente, um dos dispositivos de armazenamento de dados é o *pendrive*, tendo em vista a facilidade de uso, o baixo custo e a considerável capacidade de armazenamento, na faixa de 8, 16 ou 32 GBytes. Esse dispositivo é integrado à configuração dos microcomputadores, versão *desktop* e *notebooks*, por meio de uma conexão conhecida pela seguinte sigla:

- A) PCI
- B) USB
- C) BNC
- D) ISA
- E) RCA

32. Entre os dispositivos utilizados na configuração dos microcomputadores, dois exemplos operam exclusivamente na entrada de dados para processamento, conhecidos por:

- A) scanner e laserjet
- B) laserjet e teclado
- C) teclado e mouse
- D) mouse e deskjet
- E) deskjet e scanner

33. A figura abaixo destaca botões existentes no canto superior direito do *gerenciador de pastas e arquivos* no *Windows 7 BR*, quando a janela é exibida na tela de um microcomputador.



Os botões **BETA** e **DELTA** possuem, respectivamente, os seguintes significados:

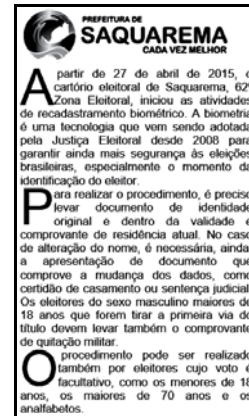
- A) minimizar e restaurar
- B) restaurar e minimizar
- C) minimizar e maximizar
- D) maximizar e restaurar
- E) restaurar e maximizar

34. No uso dos recursos do sistema operacional *Windows 8.1*, um atalho de teclado deve ser utilizado com a finalidade de abrir na tela do microcomputador a janela do ambiente gráfico conhecido como gerenciador de pastas e arquivos. Esse atalho de teclado corresponde a pressionar, em sequência, as teclas **logotipo do**






Windows e:

- A) F7
- B) F8
- C) C
- D) E
- E) W


35. Observe o texto abaixo, digitado no editor de textos *Word* do pacote *MSOffice 2013 BR*.



Ao texto foram aplicados um tipo de alinhamento por meio do acionamento de um ícone existente na Faixa de Opções e um recurso para destacar as letras A, P e O nos inícios dos três parágrafos. O ícone e o recurso são, respectivamente:

- A)  e Capitular
- B)  e Realçar
- C)  e Capitular
- D)  e Realçar
- E)  e Capitular

36. Observe a planilha abaixo, criada no *software Calc* do pacote *LibreOffice v.4.3.5.2*.

	A	B	C	D	E	F
1			PREFEITURA DE SAQUAREMA			
2			CADA VEZ MELHOR			
3						
4			Valor de		Valor	
5	#	Produto	Referência	Código	real	Soma
6						
7	1	MicroIntel i7	R\$ 200,00	10	R\$ 2.000,00	
8	2	HD 1 TB SATA		1,5	R\$ 300,00	
9	3	Pendrive Kingston 32GB		0,3	R\$ 60,00	
10	4	Impressora HP Wireless		3,5	R\$ 700,00	R\$ 3.060,00

Nessa planilha, foram realizados os procedimentos descritos a seguir.

- Em C7 foi inserido um valor de referência para a determinação do valor real, com base no código. Assim, os valores mostrados nas células de E7 a E10 representam a multiplicação do código referente ao produto pelo valor de referência, usando o conceito de referência absoluta
- Em F10 foi inserido um valor que representa a soma de todos os valores contidos nas células E7, E8, E9 e 10

As expressões inseridas em E9 e F10 foram, respectivamente:

- A) =&C&7*D9 e =SOMA(E7:E10)
- B) =&C&7*D9 e =SOMA(E7;E10)
- C) =#C#7*D9 e =SOMA(E7:E10)
- D) =\$C\$7*D9 e =SOMA(E7;E10)
- E) =\$C\$7*D9 e =SOMA(E7:E10)

37. Um funcionário de nível médio da Prefeitura de Saquarema criou uma apresentação de slides no software *Powerpoint* do pacote *MSOffice 2013 BR* e inseriu no primeiro slide a referência **SAQUAREMA**, utilizando um recurso que adiciona um efeito artístico por meio do uso de uma caixa de texto. Esse recurso é conhecido como:

- A) ClipArt
- B) FontArt
- C) DrawArt
- D) WordArt
- E) SmartArt

38. Ao utilizar o *browser Google Chrome* em um microcomputador com sistema operacional *Windows 8.1 BR*, um internauta acessa o site da Prefeitura Municipal de Saquarema e deseja imprimir a página visualizada. Para isso, executou um atalho de teclado que mostrou a janela abaixo, ou semelhante a esta, na tela.



Nessa janela, clicou no botão **Imprimir**. O atalho de teclado que mostrou a janela acima é:

- A) Ctrl + P
- B) Alt + P
- C) Shift + P
- D) Alt + I
- E) Ctrl + I

39. Mensagens de correio eletrônico recebidas da internet são armazenadas no software *Thunderbird Mozilla* em um recurso conhecido por Caixa de:

- A) Saída
- B) Entrada
- C) Mensagens
- D) Enviados
- E) Lidos

40. No que diz respeito à segurança de equipamentos, de sistemas, em redes e na internet, o termo *firewall* possui o seguinte significado:

- A) software de ataque às redes de computadores, empregado por *hackers* e *crackers*
- B) sistema alternativo de energia para proteção de equipamentos de informática na internet
- C) recurso empregado em redes de computadores que tem por objetivo evitar acessos não autorizados
- D) método empregado na execução de cópias de segurança para garantir a integridade da informação
- E) serviço virtual de computação em nuvem para armazenamento de pastas e arquivos