



**MUNICÍPIO DE XAXIM
CONCURSO PÚBLICO 01/2015**



**CADERNO DE PROVAS
CARGO: Contador**

INSTRUÇÕES AO CANDIDATO

1. Os telefones celulares e outros equipamentos eletrônicos deverão ser desligados antes do início da prova;
2. Você está recebendo um caderno de provas com 40 questões de múltipla escolha, com 4 alternativas de respostas cada, sendo que apenas 1 alternativa estará correta;
3. Para a realização da Prova Escrita, o candidato deverá utilizar apenas caneta esferográfica, de tinta azul ou preta;
4. Verifique se o caderno de provas está completo, sem falhas de impressão e se a quantidade de questões está de acordo com o informado acima. Confira também se sua prova corresponde ao cargo para o qual você se inscreveu. Caso haja qualquer divergência, comunique o fato ao fiscal imediatamente;
5. Além do caderno você está recebendo um cartão resposta, complete as informações e assine o cartão;
6. Você deverá transcrever as respostas das questões objetivas para o cartão resposta, que será o único documento válido para a correção das provas. O preenchimento do cartão resposta é de inteira responsabilidade do candidato. Este cartão **não** será substituído em caso de erro do candidato;
7. Durante a realização das provas é vedada a consulta a livros, revistas, folhetos ou anotações, bem como, o uso de máquinas de calcular, relógios e aparelhos celulares, ou ainda, qualquer equipamento elétrico ou eletrônico, sob pena de eliminação do candidato do concurso público;
8. No decurso da Prova o candidato somente poderá ausentar-se temporariamente da sala se acompanhado por um fiscal.
9. Você terá 3 horas para a realização da prova, incluindo o tempo para preenchimento do cartão-resposta.
10. O candidato somente poderá retirar-se definitivamente da sala de Prova após 60 minutos de seu início.
11. Os 3 últimos candidatos de cada sala somente poderão entregar as suas provas e retirar-se definitivamente do local simultaneamente, depois de haver rubricado o verso de todos os cartões resposta da sala, assinado a ata e rubricado o envelope lacrado, contendo todos os cartões resposta da sala.
12. Para o **PREENCHIMENTO DO CARTÃO RESPOSTA** marque somente uma alternativa preenchendo totalmente o círculo, evitando ultrapassar a linha que margeia a letra. Não faça um X ou qualquer outra marca.

OBS: Você pode destacar esta folha. Utilize o verso para fazer suas anotações.



**MUNICÍPIO DE XAXIM
CONCURSO PÚBLICO 01/2015**





MUNICÍPIO DE XAXIM
CONCURSO PUBLICO 01/2015



CONHECIMENTOS GERAIS

1. O primeiro prefeito eleito do município de Xaxim foi o senhor:
 - a) Adacir Araldi;
 - b) Luiz Lunardi;
 - c) Daci Teston;
 - d) Cezar Fonini;

2. Por unanimidade de votos, foi aprovada pela Comissão de Constituição e Justiça da Alesc – Assembleia Legislativa de Santa Catarina, a proposta dedicada ao reconhecimento do município de Xaxim como capital catarinense _____. O título atende a proposição do deputado Carlos Chiodini (PMDB), PL 228/2014, e também está na pauta da Comissão de Economia, Ciência, Tecnologia, Minas e Energia. A proposta inicial de conceder o título a Xaxim partiu do então vereador Ledinho Curtarelli (PMDB), hoje presidente do Sindicato dos Trabalhadores Rurais de Xaxim e Lajeado Grande que fez o pedido diretamente à Alesc e ao governador do estado. (disponível em <http://www.jornaldx.com.br/geral/ccj-da-alesec-aprova-titulo-de-capital-catarinense-do-xxxxxxx-a-xaxim> - acesso em 27/05/2015)
O nome que completa corretamente a lacuna é:
 - a) do milho;
 - b) da soja;
 - c) do leite;
 - d) do frango;

3. Para entender os aspectos mais significativos da história do município de Xaxim é preciso investigar um contexto mais amplo, que explica a colonização do Sul do país. Xaxim foi uma área de passagem de bandeirantes e tropeiros, pois era o caminho para São Paulo, Paraná e Rio Grande do Sul. Em 1928, chegou um imigrante do sul, o caboclo Francisco Franciliano da Silva, que encontrou na vila que aqui existia aproximadamente dez famílias e no Jacu, hoje Distrito de Diadema, outras tantas famílias. Entre elas, as do Veloso dos Santos, Mourão, Camargo e Topázio. Alguns tinham lotes militares, outros eram posseiros (disponível em <http://www.cidades.ibge.gov.br/>). Xaxim é elevado à categoria de município, desmembrando-se de Chapecó pela Lei Estadual número 133, de 30 de dezembro de:
 - a) 1938;
 - b) 1950;
 - c) 1953;
 - d) 1962;

4. A água é essencial à vida e todos os organismos vivos no planeta Terra dependem da água para sua sobrevivência. No Brasil o setor que mais consome água é:
 - a) Industrial;
 - b) Agropecuário;
 - c) Doméstico;
 - d) Hospitalar;

5. “Na capital brasileira (cidade do Rio de Janeiro) em 15 de novembro de 1889, o Marechal Deodoro da Fonseca liderou um golpe militar que derrubou a Monarquia sendo que no mesmo dia foi instaurado o governo provisório em que o Marechal Deodoro da Fonseca assumiu a presidência.” O relato histórico refere-se à:

- a) Independência do Brasil;
- b) Libertação dos escravos;
- c) Redemocratização no Brasil;
- d) Proclamação da República;

6. A participação política da mulher no Brasil é cada vez maior, porém, nas eleições de 2014 apenas uma mulher se elegeu governadora. Estamos falando de Suely Campos, que foi eleita para governar o estado de:

- a) Roraima;
- b) Mato Grosso do Sul;
- c) Amapá;
- d) Espírito Santo;

7. Observe a imagem abaixo:



A imagem faz referência ao atentado terrorista ocorrido no escritório do jornal satírico "**Charlie Hebdo**" em 7 de janeiro de 2015. O país onde ocorreu o atentado foi:

- a) Estados Unidos;
- b) Alemanha;
- c) França;
- d) Inglaterra;

8. O Brasil perde cerca de R\$ 8 bilhões por ano por deixar de reciclar os resíduos que poderiam ter outro fim, mas que são encaminhados aos aterros e lixões das cidades. Neste contexto, qual é a porcentagem de resíduos sólidos que são reciclados no Brasil?

- a) De 3 a 4%
- b) De 10 a 15%
- c) De 20 a 30%
- d) Aproximadamente 50%

9. A língua portuguesa é a língua oficial de Portugal e do Brasil. Além destes países o português também é a língua oficial em:

- a) Angola;
- b) Costa do Marfim;
- c) Guatemala;
- d) Suriname;

10. É um distúrbio genético e hereditário que afeta a coagulação do sangue. Os sintomas mais comuns são os sangramentos prolongados. Esses sangramentos podem ser externos, como quando ocorrem cortes na pele, ou internos, quando o sangramento ocorre dentro das articulações, dentro dos músculos ou em outras partes internas do corpo.

Estamos falando do(a):

- a) Diabetes;
- b) Colesterol;
- c) Hemofilia;
- d) Anemia;

LINGUA PORTUGUESA

11. Assinale a série que preenche corretamente as lacunas:

- I. o professor não devolveu as provas?
- II. O professor não devolveu as provas
- III. Não sei o de tantas notas baixas.
- IV. O professor não veio está participando do Conselho de Classe.

- a) Porque; porquê; por que; por quê.
- b) Por quê; por que; porque; por quê.
- c) Por que; por quê; porquê; porque.
- d) Porque; por quê; por que; porquê.

12. Observe a figura abaixo:



Com relação à ortografia dos cartazes, todas as alternativas estão corretas, EXCETO:

- a) Apenas o primeiro cartaz não possui erro ortográfico;
- b) Todos os cartazes estão grafados corretamente, exceto o primeiro;
- c) "Abaixo a burrice" é a forma aceitável para o primeiro cartaz;
- d) O primeiro cartaz possui erro ortográfico, já os demais estão escritos corretamente

13. Considere o texto abaixo e depois responda:

“Monet foi o **principal** pintor **impressionista**. Sua obra mais **importante** trata-se de uma paisagem **moderna**, pintada em estilo **moderno**, em **pequena** dimensão, sem nenhuma história para contar nem lição **moral** para comunicar. É uma **fiel** representação das impressões e sensações que os olhos experimentam.”

Com relação às palavras destacadas e seu contexto, é correto afirmar que:

- a) Todas são substantivos;
- b) Todas são adjetivos;
- c) Algumas são substantivos e outras são adjetivos;
- d) A maioria delas são adjetivos.

14. Considerando as palavras:

I – berinjela II – quizer III – mecher

Está(ão) corretamente grafada(s):

- a) Apenas a palavra nº I.
- b) Apenas a palavra nº II.
- c) Apenas a palavra nº III.
- d) Nenhuma das palavras.

15. Observe o diálogo abaixo:



Sobre a palavra **rapagão** que aparece no segundo quadradinho, é correto afirmar que:

- a) não deve ser usada como aumentativo de **rapaz**;
- b) se trata do aumentativo de **rapaz** e foi utilizado de forma correta;
- c) a única forma correta do aumentativo de **rapaz** é **rapazão**;
- d) foi inventada pela mãe do Maluquinho e, portanto, não existe.

16. Leia o recorte do texto de Guimarães Rosa abaixo:

“Havia uma aldeia em algum lugar, nem maior nem menor, com velhos e velhas que **velhavam**, homens e mulheres que esperavam, e meninos e meninas que nasciam e cresciam.”

Assinale a única afirmação correta:

- a) A palavra em destaque, “velhavam”, é um exemplo de neologismo.
b) A palavra em destaque, “velhavam”, está escrita de forma incorreta, o correto seria envelheciam.
c) A palavra em destaque, “velhavam”, pode ser substituída por envelheciam sem prejuízo ao texto.
d) Todas as afirmações são corretas;

17. Observe a imagem abaixo e depois responda :



De acordo com as regras ortográficas vigentes, é correto afirmar que:

- a) o acento agudo em pára (verbo) foi abolido;
b) o acento na palavra pára (verbo) continua valendo e é um acento diferencial;
c) a palavra pára (verbo) nunca foi acentuada;
d) a palavra pára (verbo) passou a ser acentuada, pois antes não era.

18. Assinale a alternativa que melhor preenche as lacunas:

- I. Ainda pouco, o professor falou sobre a prova.
II. O gaúcho gosta de andar cavalo.
III. Os alunos obedecem todas as regras.
IV. Voltou para casa já noitinha.

- a) a; à; há; a.
b) há; a; a; à.
c) há; à; à; à.
d) a; há; há; a.

19. Observe a tira de Hagar abaixo:



Na tira acima, a palavra GLÓRIA aparece três vezes e foi usada:



- a) sempre com o mesmo sentido de **honra, fama**.
- b) na primeira vez como sinônimo de **honra/fama** e depois como **substantivo próprio**;
- c) na primeira vez como **adjetivo** e depois como **substantivo próprio**;
- d) sempre como **substantivo próprio**;

20. Assinale a série que preenche corretamente as lacunas:

- I. Encontraram a criança na de brinquedos.
- II. A escalção do time saiu na de esportes do jornal.
- III. Os pais concordaram com a de livros à biblioteca.
- IV. A da câmara de vereadores durou duas horas.

- a) Sessão; seção; sessão; cessão.
- b) Seção; seção; cessão; sessão.
- c) Seção; sessão; cessão; sessão.
- d) Sessão; cessão; seção; sessão.

MATEMÁTICA E RACIOCÍNIO LÓGICO

21. O professor do 4º ano da Escola Municipal de Xaxim deixou para seus alunos duas atividades, uma de Matemática e outra de Ciências, como tarefa (dever) de casa. Na segunda-feira o professor verificou que 20 alunos haviam feito o dever de matemática, 15 alunos haviam feito o dever de Ciências, e apenas 11 alunos haviam feito os dois deveres (de Matemática e de Ciências). Verificou ainda que 2 alunos não haviam feito nenhum dos deveres. Neste contexto, quantos alunos estudam na turma do 4º ano?

- a) 48 alunos;
- b) 37 alunos;
- c) 32 alunos;
- d) 26 alunos;

22. O homem primitivo utilizava partes do corpo, como pé, polegada, cúbito, para efetuar medidas. Sabe-se que uma polegada tem aproximadamente 2,54cm, neste contexto, quantas polegadas, aproximadamente, teremos em 8 metros?

- a) 3 polegadas
- b) 31,5 polegadas;
- c) 315 polegadas;
- d) 425 polegadas;

23. O sistema de numeração romano foi utilizado por mais de 14 séculos, neste sistema, os números são representados pelas letras I, V, X, L, C, D e M, sendo que esses símbolos são chamados de algarismos romanos. Neste contexto, qual é o valor numérico do número romano abaixo?

CDLIX

- a) 459
- b) 560
- c) 659
- d) 760



MUNICÍPIO DE XAXIM
CONCURSO PÚBLICO 01/2015



24. A prefeitura municipal de Xaxim tem uma boa frota de caminhões para realizar as atividades do setor de infra-estrutura e urbanismo. Porém, sabe-se que $\frac{2}{3}$ de seus caminhões estão com algum problema mecânico, e que essa fração corresponde a 8 caminhões. Neste contexto, qual é o número total de caminhões da prefeitura municipal de Xaxim?

- a) 12 caminhões;
- b) 16 caminhões;
- c) 18 caminhões;
- d) 20 caminhões;

25. O oitavo ano da escola municipal de Xaxim resolveu realizar uma excursão para um parque. Sabe-se que o preço do ônibus será de R\$ 325,00, sendo que este valor será dividido igualmente entre os que forem à excursão. Sabe-se que 30 alunos haviam confirmado que iriam participar da excursão, porém, no dia da excursão, somente 23 alunos participaram. Neste contexto, de quanto aumentou o valor pago por cada aluno devido à desistência dos colegas?

- a) R\$ 2,50
- b) R\$ 3,30
- c) R\$ 5,25
- d) R\$ 6,35

26. Dona Maria é cozinheira da escola municipal de Xaxim e preparou suco de laranja para os alunos. Sabe-se que ela misturou 6 litros de água com 2 litros de suco. Neste contexto, a porcentagem de água na mistura é de:

- a) 25%
- b) 33%
- c) 66%
- d) 75%

27. Seu Pedro é jardineiro contratado pela prefeitura municipal de Xaxim, ele plantou flores em um canteiro retangular na praça central do município. Para evitar danos às flores cercou o canteiro com tela de arame. Sabe-se que gastou 24 metros de tela e que o comprimento do canteiro é o triplo da largura. Neste contexto, qual é a largura do canteiro plantado pelo seu Pedro?

- a) 3 metros;
- b) 6 metros;
- c) 9 metros;
- d) 12 metros;

28. Segundo a CBF (Confederação Brasileira de Futebol) as dimensões mínimas para um campo de futebol são de 73 metros de largura e 100 metros de comprimento. Pode-se afirmar que o perímetro deste campo de futebol é de:

- a) 346 m;
- b) 7300 m^2 ;
- c) 173 m;
- d) 173 m^2 ;





**MUNICÍPIO DE XAXIM
CONCURSO PÚBLICO 01/2015**

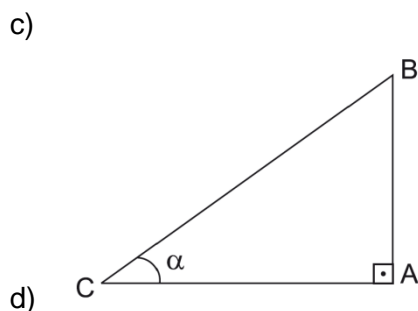
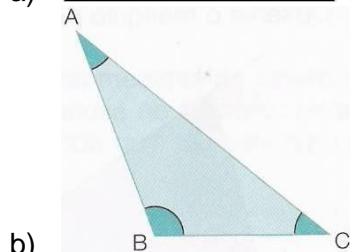
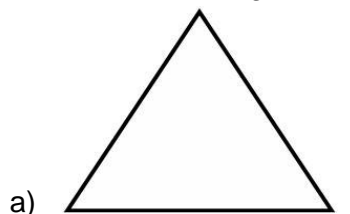


29. Marcos foi comprar uma bicicleta de 18 marchas, como a da figura ao lado. O vendedor lhe ofereceu 4 opções de pagamento. Assinale a opção em que a bicicleta será adquirida pelo maior valor.

- a) à vista: R\$ 293,00
- b) a prazo: 12 vezes de R\$ 29,90
- c) a prazo: entrada de R\$ 100,00 mais 10 vezes de R\$ 24,50
- d) a prazo: Três pagamentos de R\$ 99,00



30. Dentre os triângulos abaixo assinale aquele que representa um triângulo equilátero.



CONHECIMENTOS ESPECÍFICOS

31. Observado o disposto nas normas gerais de direito financeiro para elaboração e controle dos orçamentos e balanços da União, dos Estados, dos Municípios e do Distrito Federal, assinale a alternativa que não corresponda a receitas correntes.

- a) Receita tributária
- b) Receitas de capital
- c) Receita patrimonial
- d) Receita industrial



MUNICÍPIO DE XAXIM
CONCURSO PÚBLICO 01/2015



32. Tendo por base a Lei 4.320/1964, Lei das Finanças Públicas, assinale a alternativa incorreta.
- O exercício financeiro coincidirá com o ano civil;
 - Consideram-se Restos a Pagar as despesas empenhadas, mas não pagas até o dia 31 de dezembro distinguindo-se as processadas das não processadas;
 - São créditos adicionais, as autorizações de despesa não computadas ou insuficientemente dotadas na Lei de Orçamento;
 - Os créditos extraordinários serão abertos por decreto do Poder Legislativo.
33. Assinale a alternativa correta, no que se refere à execução orçamentária.
- O lançamento da receita é ato da repartição competente, que verifica a procedência do crédito fiscal e a pessoa que lhe é devedora e inscreve o débito desta;
 - Imediatamente após a promulgação da Lei de Orçamento e com base nos limites nela fixados, o Poder Legislativo aprovará um quadro de cotas trimestrais da despesa que cada unidade orçamentária fica autorizada a utilizar;
 - A aquisição de material, o fornecimento e a adjudicação de obras e serviços independem de regulamentação em lei, porém devem respeitar o princípio da concorrência;
 - Os pagamentos devidos pela Fazenda Pública, em virtude de sentença judiciária, far-se-ão na ordem de apresentação dos precatórios e à conta dos créditos respectivos, sendo permitida a designação de casos ou de pessoas nas dotações orçamentárias e nos créditos adicionais abertos para esse fim.
34. Observada as demonstrações contábeis relacionadas a contabilidade aplicada ao setor público assinale a alternativa incorreta:
- As demonstrações contábeis das entidades definidas no campo da contabilidade aplicada ao setor público são: balanço patrimonial, balanço orçamentário, balanço financeiro, demonstração das variações patrimoniais, demonstração dos fluxos de caixa, demonstração das mutações do patrimônio líquido, e notas explicativas;
 - A Demonstração das Variações Patrimoniais evidencia as variações verificadas no patrimônio e indica o resultado patrimonial do exercício;
 - A Demonstração dos Fluxos de Caixa deve ser elaborada pelo método direto ou indireto e evidenciar as movimentações havidas no caixa e seus equivalentes, nos seguintes fluxos: das operações, dos investimentos e dos financiamentos;
 - O fluxo de caixa dos investimentos inclui os recursos relacionados à aquisição e à alienação de ativo circulante, bem como recebimentos em dinheiro por liquidação de adiantamentos ou amortização de empréstimos concedidos e outras operações da mesma natureza.
35. Com base nos Direitos e Garantias Fundamentais, previsto na Constituição da República Federativa do Brasil assinale a alternativa correta.
- É livre a manifestação do pensamento e o anonimato;
 - É permitido juízo ou tribunal de exceção;
 - É assegurado a todos o acesso à informação e resguardado o sigilo da fonte, quando necessário ao exercício profissional;
 - Todos têm direito a receber dos órgãos públicos informações de seu interesse particular, ou de interesse coletivo ou geral, que serão prestadas no prazo da lei, sob pena de responsabilidade, sem qualquer ressalva em relação à informação.



**MUNICÍPIO DE XAXIM
CONCURSO PUBLICO 01/2015**



36. Analisando o disposto na **Lei nº 11.101, de 9 de fevereiro de 2005**, que regula a recuperação judicial, a extrajudicial e a falência do empresário e da sociedade empresária, assinale a alternativa correta.
- a) Se aplica inclusive as empresas públicas e sociedades de economia mista;
 - b) São exigíveis do devedor, na recuperação judicial ou na falência as obrigações a título gratuito;
 - c) Não se aplica instituição financeira pública ou privada, cooperativa de crédito, consórcio, entidade de previdência complementar, sociedade operadora de plano de assistência à saúde, sociedade seguradora, sociedade de capitalização e outras entidades legalmente equiparadas às anteriores;
 - d) São exigíveis do devedor, na recuperação judicial ou na falência, as despesas que os credores fizerem para tomar parte na recuperação judicial ou na falência, salvo as custas judiciais decorrentes de litígio com o devedor.
37. Com base no Código Civil, assinale a alternativa incorreta.
- a) No contrato de troca ou permuta, salvo disposição em contrário, cada um dos contratantes pagará por metade as despesas com o instrumento da troca;
 - b) Considera-se doação o contrato em que uma pessoa, por liberalidade, transfere do seu patrimônio bens ou vantagens para o de outra;
 - c) Na locação de coisas, uma das partes se obriga a ceder à outra, por tempo determinado ou não, o uso e gozo de coisa não fungível, mediante certa retribuição;
 - d) O comodato é o empréstimo gratuito de coisas fungível e perfaz-se com a tradição do objeto.
38. Observado o direito das coisas assinale a alternativa incorreta.
- a) Adquire-se a posse desde o momento em que se torna possível o exercício, em nome próprio, de qualquer dos poderes inerentes à propriedade;
 - b) A posse não se transmite aos herdeiros ou legatários do possuidor;
 - c) Considera-se possuidor todo aquele que tem de fato o exercício, pleno ou não, de algum dos poderes inerentes à propriedade;
 - d) É justa a posse que não for violenta, clandestina ou precária.
39. A Contabilidade Aplicada ao Setor Público é organizada na forma de sistema de informações, cujos subsistemas, conquanto possam oferecer produtos diferentes em razão da respectiva especificidade, convergem para o produto final, que é a informação sobre o patrimônio público. Com base nessas informações assinale a alternativa que não corresponda a um item da estrutura de subsistemas.
- a) Orçamentário
 - b) Financeiro
 - c) Custos
 - d) Compensação



**MUNICÍPIO DE XAXIM
CONCURSO PÚBLICO 01/2015**



40. Com base nas normas de Contabilidade Aplicada ao Setor Público, assinale a alternativa incorreta.

- a) Contabilidade Aplicada ao Setor Público é o ramo da ciência contábil que aplica, no processo gerador de informações, os Princípios de Contabilidade e as normas contábeis direcionados ao controle patrimonial de entidades do setor público;
- b) O campo de aplicação da Contabilidade Aplicada ao Setor Público abrange todas as entidades do setor público;
- c) O objeto da Contabilidade Aplicada ao Setor Público é o patrimônio público e privado;
- d) A função social da Contabilidade Aplicada ao Setor Público deve refletir, sistematicamente, o ciclo da administração pública para evidenciar informações necessárias à tomada de decisões, à prestação de contas e à instrumentalização do controle social.