

CONCURSO PÚBLICO
NÍVEL SUPERIOR
ANALISTA DE GESTÃO
ADMINISTRATIVA
ÁREA: DIAGRAMAÇÃO

TIPO
A

118

Provas Objetiva e Discursiva

INSTRUÇÕES

- Ao receber sua folha de respostas, marque, imediatamente, no campo indicado, o tipo de prova que você recebeu (tipo A), conforme modelo ao lado. Esta marcação é obrigatória e a sua ausência ou a marcação de mais de um campo implicará a anulação da sua prova.
- Verifique se este caderno contém 40 (quarenta) questões de múltipla escolha, com 5 (cinco) alternativas de resposta para cada uma, correspondentes à prova objetiva, e a prova discursiva, acompanhada de espaço para rascunho. Caso o caderno esteja incompleto ou tenha qualquer defeito, solicite ao chefe de sala que tome as providências cabíveis, pois não serão aceitas reclamações posteriores nesse sentido.
- No momento da identificação, verifique, na folha de respostas, se as informações relativas a você estão corretas. Caso haja algum dado a ser retificado, escreva apenas no(s) campo(s) a ser(em) corrigido(s), conforme instruções na folha de respostas.
- Quando autorizado pelo chefe de sala, no momento da identificação, escreva, no espaço apropriado de sua folha de respostas, com sua caligrafia usual, a seguinte frase:

TIPO DE PROVA

A B

“O prazer no trabalho aperfeiçoa a obra. ”

- Você dispõe de 3 (três) horas e 30 (trinta) minutos para fazer a prova objetiva e a prova discursiva. Na duração das provas, está incluído o tempo destinado à entrega do material, à identificação — que será feita no decorrer das provas — e ao preenchimento da folha de respostas e da folha de texto definitivo.
- Você deve deixar sobre a carteira apenas o documento de identidade e a caneta esferográfica de tinta preta ou azul, fabricada com material transparente.
- É proibido fazer anotação de informações relativas às suas respostas no comprovante de inscrição e(ou) em qualquer outro meio, que não os permitidos.
- Somente após decorrida 1 (uma) hora do início das provas, você poderá entregar sua folha de respostas e sua folha de texto definitivo e retirar-se da sala.
- Você só poderá levar este caderno de provas após 2 (duas) horas e 30 (trinta) minutos do início das provas.
- Os três últimos candidatos deverão permanecer na sala até que o último candidato conclua suas provas.
- Ao terminar as provas, chame o chefe de sala, devolva-lhe sua folha de respostas devidamente assinada e sua folha de texto definitivo e deixe o local de provas.
- A desobediência a qualquer uma das determinações constantes em edital, no presente caderno, na folha de respostas ou na folha de texto definitivo poderá implicar a anulação das suas provas.

PROVA APLICADA

Texto para responder às questões de 1 a 5.

1 Como as universidades podem se modernizar sem prejuízo de sua responsabilidade social?

Os países mais desenvolvidos pretendem transformar as suas universidades em universidades globais, que vão produzir conhecimento para o resto do mundo. Portanto, as universidades dos países periféricos vão funcionar em um sistema de franquia, o que significa a perda da autonomia para definir seus objetos de pesquisa e para realizar sua ciência — aquela que responda às necessidades específicas do país. A alternativa ao mercado é a adoção de uma política pública. A universidade moderna assenta-se, fundamentalmente, em uma prioridade de Estado e é esta que está em disputa.

16 Que impacto a existência das universidades globalizadas pode ter no processo da formação acadêmica e da cidadania?

Um impacto total, porque as universidades globais funcionam com base em princípios e relações muito diferentes dos que conhecemos hoje. Sua organização prevê que a relação face a face — o ensino presencial — seja cada vez menos significativa. Portanto, todo ensino, a prazo, será um ensino *on-line*. E a elas não interessa uma formação para além do que é exigido pela lógica do mercado. Entre professor e aluno, a relação é mercantil e entre instituição e aluno, de consumidor. A lógica das relações que se estabelecem nessas universidades é uma lógica de mercado, portanto tudo pode ser objeto de patenteamento: dos cursos aos sistemas de avaliação. Já é esse, hoje, o domínio da administração, nos modelos de MBA — *Business Administration*. É esse sistema que se quer expandir. As universidades têm um papel fundamental na reflexão sobre os problemas de cidadania nacional. Como isso será possível, se o ensino universitário passar a ser feito, na maioria dos países, a partir dos sistemas de franquia, em que o conhecimento é produzido no Norte, em poucas universidades globais, e, depois, é distribuído globalmente? Esse é um conhecimento que, naturalmente, se vincula à realidade desses países. São projetos nacionais, que não coincidem, certamente, com os projetos de outros países, onde será distribuído o conhecimento universitário, ou seja, a ideia de que a cidadania se assente na realidade das políticas nacionais vai desaparecer com esse modelo.

Boaventura de Sousa Santos. **A justiça social vai obrigar a que se comprometa com a justiça cognitiva** – Entrevista. In: **Diversa Cidadania**. Universidade Federal de Minas Gerais, ano 3, n.º 8, out./2005. Internet: <www.ufmg.br> (com adaptações).

QUESTÃO 1

Depreende-se do texto que

- (A) as universidades globais apresentam a vantagem de inserir na lógica de mercado os países que adotarem o sistema de franquia, o que lhes garantirá maior competitividade econômica.
- (B) os países que adotarem o sistema de franquia das universidades globais porão em risco o papel fundamental das universidades na reflexão sobre os problemas de cidadania nacional.
- (C) os países periféricos que aderirem ao sistema de franquia das universidades globais se desenvolverão mais na medida em que terão acesso ao conhecimento dos países mais desenvolvidos.
- (D) a importação de conhecimento por meio das universidades globais impedirá que os países periféricos desenvolvam pesquisa e produzam conhecimento científico.
- (E) a perda de autonomia das universidades dos países que aderirem ao sistema de franquia das universidades globais poderá ser compensada com a adoção de uma política pública de modernização universitária.

QUESTÃO 2

Em relação à pontuação no texto, assinale a alternativa correta.

- (A) A supressão da vírgula após o termo “globais” (linha 4), embora não cause prejuízo à correção gramatical, altera o sentido original do texto.
- (B) O travessão empregado à linha 9 tem a função de conferir destaque ao trecho seguinte, por isso poderia, sem prejuízo da correção gramatical, ser substituído por ponto, feitos os devidos ajustes de maiúscula e minúscula.
- (C) Por ser empregada para destacar o advérbio “fundamentalmente” (linha 12), a vírgula após a forma verbal “assenta-se” (linha 11) poderia ser suprimida sem prejuízo da correção gramatical do texto.
- (D) Na linha 22, o emprego de uma vírgula imediatamente após o termo “elas” garantiria a correção gramatical do texto, visto que a expressão “E a elas” tem função adverbial e está antecipada no período.
- (E) O período “Como isso será possível [...] globalmente?” (linhas de 32 a 36) poderia ser reescrito, com correção gramatical, da seguinte forma: **Pergunto-me como isso será possível [...] globalmente?**

QUESTÃO 3

Acerca dos mecanismos de coesão do texto, assinale a alternativa correta.

- (A) Na linha 7, “o”, em “o que significa”, resume a expressão “sistema de franquia”.
- (B) “seus” (linha 8) está empregado em referência a “universidades globais” (linha 4).
- (C) “aquela” (linha 9) retoma “franquia” (linha 7).
- (D) O segmento “dos cursos ao sistema de avaliação” (linhas 27 e 28) constitui a especificação de “tudo” (linha 27).
- (E) “isso” (linha 32) resume a ideia da expansão do sistema de mercado, expressa na linha 30.

QUESTÃO 4

No que se refere às ideias e a aspectos linguísticos do texto, assinale a alternativa correta.

- (A) A oração “Portanto, todo ensino, a prazo, será um ensino *on-line*” (linhas 21 e 22) expressa uma explicação acerca da organização das universidades globalizadas, mencionada no período anterior.
- (B) A substituição da forma verbal “é” (linha 26) por **são** manteria a correção gramatical do texto e garantiria o paralelismo com a forma verbal “se estabelecem” (linhas 25 e 26).
- (C) O segmento “que se estabelecem” (linhas 25 e 26) poderia ser substituído, com correção gramatical, sem afetar a coerência das ideias expressas no texto, por **estabelecidas**.
- (D) Estariam mantidos o sentido original e a correção gramatical do texto caso o período “É esse sistema que se quer expandir” (linha 30) fosse assim reescrito: **Esse sistema quer se expandir**.
- (E) A oração “onde será distribuído o conhecimento universitário” (linha 40) poderia ser reescrita sem prejuízo do sentido original do texto da seguinte forma: **cujo conhecimento universitário será distribuído**.

QUESTÃO 5

Considerando aspectos morfosintáticos e semânticos do texto, assinale a alternativa correta.

- (A) No trecho “para definir seus objetos de pesquisa e para realizar sua ciência” (linhas 8 e 9), as duas orações coordenadas por relação de adição expressam circunstância de finalidade em relação ao verbo da oração “o que significa” (linha 7).
- (B) Em “que se estabelecem” (linhas 25 e 26), o pronome “se” poderia ser deslocado, sem prejuízo da correção gramatical do texto, para a posição enclítica: **que estabelecem-se**.
- (C) A função do acento circunflexo em “têm” (linha 31) é gramatical: indica que a forma verbal está flexionada na 3.ª pessoa do plural, concordando, no texto, com o termo “As universidades” (linhas 30 e 31), sujeito da única oração do período.
- (D) A colocação do acento indicativo de crase em “à realidade desses países” (linhas 37 e 38) é facultativa, por isso sua supressão não afetaria a correção gramatical do texto.
- (E) A forma verbal “se assente” (linha 41) está conjugada no presente do indicativo, indicando fato real que ocorre no atual momento, em correlação com a forma “vai desaparecer” (linha 42), que também denota fato real no presente.

QUESTÃO 6

1 As mudanças ocorridas na organização da sociedade,
em escala planetária, não são conjunturais. Hoje, mais que
nunca, tudo está interligado. As mudanças dos últimos trinta
4 anos transformaram modos de vida, a maneira como se
estrutura a governança mundial e nacional, e o
desenvolvimento da comunicação virtual, cada vez mais
7 presente. Estamos, conscientemente ou não, construindo
uma nova civilização. Se ela vai ser melhor ou pior do que a
atual caberá a nós todos decidir.

Marco Antonio Rodrigues Dias. **Inovações na educação superior: tendências mundiais**. In: Paulo Speller, Fabiane Robl e Stela Maria Meneghel (orgs.). **Desafios e perspectivas da educação superior brasileira para a próxima década 2011-2020**. Brasília: UNESCO, CNE, MEC, 2012. 164 p. (com adaptações).

O fragmento de texto apresentado caracteriza-se como

- (A) narrativo, visto que o autor conta como ocorreram as mudanças na organização da sociedade nos últimos trinta anos.
- (B) descritivo, dado o seu objetivo de enumerar as características organizacionais da sociedade nos últimos trinta anos.
- (C) narrativo e descritivo, uma vez que são identificados, respectivamente, trechos em que há referência temporal e trechos enumerativos.
- (D) dissertativo organizado por contraste, em que se evidenciam as contradições da organização da sociedade nos últimos trinta anos.
- (E) dissertativo-argumentativo, no qual o autor expõe inicialmente seu ponto de vista acerca das mudanças na sociedade e o defende com argumentação e exemplificação.

QUESTÃO 7

Assinale a alternativa correta com relação à dinâmica da população goiana segundo o último censo demográfico nacional realizado pelo Instituto Brasileiro de Geografia e Estatística (IBGE) em 2010.

- (A) A população goiana era, à época, ligeiramente inferior a 6 milhões de habitantes.
- (B) Pessoas nascidas em unidades da Federação fora da região Centro-Oeste compõem a maioria da população goiana, o que torna o estado o maior receptor de migrantes no Brasil.
- (C) Goiás foi o estado brasileiro que mais perdeu população para o exterior, especialmente rumo à América do Norte, tendo a emigração de homens predominado sobre o êxodo de mulheres.
- (D) A densidade demográfica do estado de Goiás era, à época, igual a 17,65 hab/km², superior, portanto, à média nacional.
- (E) Verificou-se maior densidade demográfica nos seguintes municípios: Valparaíso de Goiás, Goiânia, Aparecida de Goiânia e Águas Lindas de Goiás.

QUESTÃO 8

No art. 159 da Constituição Federal está estabelecido que a União entregará:

“I - do produto da arrecadação dos impostos sobre renda e proventos de qualquer natureza e sobre produtos industrializados quarenta e oito por cento na seguinte forma:

- a) [...]
- b) [...]
- c) três por cento, para aplicação em programas de financiamento ao setor produtivo das Regiões Norte, Nordeste e Centro-Oeste, através de suas instituições financeiras de caráter regional, de acordo com os planos regionais de desenvolvimento, ficando assegurada ao semiárido do Nordeste a metade dos recursos destinados à região, na forma que a lei estabelecer; [...]

Essa determinação constitucional foi regulamentada pela Lei n.º 7.827/1989, que resultou na criação de importante mecanismo de incentivo ao desenvolvimento da região Centro-Oeste, denominado

- (A) Superintendência do Desenvolvimento do Centro-Oeste (Sudeco).
- (B) Fundo Constitucional de Financiamento do Centro-Oeste (FCO).
- (C) Banco Regional de Desenvolvimento do Centro-Oeste (BCO).
- (D) Agência de Fomento de Goiás.
- (E) Fundação de Amparo à Pesquisa do estado de Goiás (Fapeg).

QUESTÃO 9

A tecnologia da irrigação é uma grande aliada dos agricultores. Alternativas bem-sucedidas de irrigação tecnológica de baixo custo vêm atendendo a anseios econômicos dos produtores e a metas ambientais da sociedade. Números do IBGE mostram que o Brasil possui 4,4 milhões de hectares irrigados, mas seu potencial é de 30 milhões.

Internet: <<http://tribunadosudoeste.com.br>>. Acesso em 3/3/2015.

Em relação à temática abordada nesse fragmento de texto, assinale a alternativa correta.

- (A) Um dos grandes problemas ambientais da irrigação no estado de Goiás deve-se ao fato de a água ser sempre retirada de mananciais.
- (B) O consumo de água pela agropecuária brasileira, em comparação com outros ramos da economia, é significativamente baixo.
- (C) O Centro-Oeste, em razão de seu relevo, é uma das regiões com maiores dificuldades para a implantação da lavoura irrigada.
- (D) O município de Cristalina é um dos principais polos de lavoura irrigada do Brasil.
- (E) Apenas grãos, principalmente soja e milho, são produzidos em sistemas de irrigação.

QUESTÃO 10

Acerca do que dispõe a Constituição do estado de Goiás, assinale a alternativa correta.

- (A) Ressalvadas as exceções previstas nessa Constituição, é vedado a qualquer dos Poderes delegar atribuições, e quem for investido nas funções de um deles não poderá exercer as de outro.
- (B) A promoção da dignidade humana é um dos objetivos fundamentais do estado de Goiás.
- (C) Compete ao estado instituir, mediante lei ordinária, regiões metropolitanas, microrregiões e aglomerados urbanos, constituídos por agrupamentos de municípios limítrofes, para integrar a organização, o planejamento e a execução de funções públicas de interesse comum.
- (D) O estado de Goiás integra a República Federativa do Brasil, sendo-lhe assegurado o direito de secessão.
- (E) É de quinze dias a licença-paternidade concedida a servidor público do estado de Goiás ocupante de cargo efetivo.

QUESTÃO 11

Conforme o disposto na Constituição do estado de Goiás, assinale a alternativa correta.

- (A) Os valores do subsídio e da remuneração dos cargos e empregos públicos serão sigilosos, salvo decisão administrativa ou judicial devidamente fundamentada em sentido contrário.
- (B) O membro de Poder, o detentor de mandato eletivo e os secretários estaduais e municipais serão remunerados exclusivamente por tabela remuneratória previamente fixada, a qual contemplará explicitamente gratificações, adicionais, abonos, prêmios, verbas de representação ou outras eventuais espécies remuneratórias.
- (C) O estado de Goiás buscará a integração econômica, política, social e cultural com o Distrito Federal e com os estados integrantes do Centro-Oeste e da Amazônia.
- (D) O ensino será ministrado de modo a combater o pluralismo de ideias e de concepções pedagógicas e a extinguir a coexistência de instituições públicas e privadas de ensino.
- (E) O patrimônio cultural goiano é constituído exclusivamente de bens de natureza material e corpórea.

QUESTÃO 12

Assinale a alternativa em que é apresentada competência que **não** corresponde à competência estadual prevista na Constituição do estado de Goiás.

- (A) Elaborar planos estaduais e regionais de ordenação do território e de desenvolvimento econômico e social.
- (B) Contribuir para a defesa nacional.
- (C) Dispensar às microempresas e às empresas de pequeno porte tratamento jurídico diferenciado.
- (D) Autorizar a produção e o comércio de material bélico.
- (E) Manter a segurança e a ordem públicas.

QUESTÃO 13

São princípios que orientam a análise, o planejamento e a implementação, para determinado grupo, de informações que se pretenda proteger:

- (A) confidencialidade, integridade e disponibilidade.
- (B) lucro, integridade e disponibilidade.
- (C) confidencialidade, lucro e disponibilidade.
- (D) confidencialidade, integridade e lucro.
- (E) confidencialidade e lucro.

QUESTÃO 14

A arte de escrever mensagens de forma codificada, para impossibilitar a leitura de terceiros não autorizados, denomina-se

- (A) antivírus.
- (B) *firewall* pessoal.
- (C) *anti-spam*.
- (D) *firewall* impessoal.
- (E) criptografia.

QUESTÃO 15

Ao se utilizar a opção Refazer do editor de textos do BrOffice,

- (A) a última opção do comando será repetida.
- (B) a última opção do comando Desfazer será restaurada.
- (C) a última opção do comando Copiar será restaurada.
- (D) o texto selecionado para a área de transferência será copiado.
- (E) documentos do tipo somente leitura serão selecionados.

QUESTÃO 16

Com base na Lei n.º 10.460/1988 (Estatuto dos Funcionários Públicos Civis do estado de Goiás e de suas Autarquias), assinale a alternativa correta, no que se refere à perda de cargo de um funcionário estável, sem que tenha havido extinção ou descontinuidade do cargo.

- (A) Um funcionário estável perderá o cargo exclusivamente em virtude de sentença judicial transitada em julgado ou mediante processo administrativo em que lhe sejam assegurados a ampla defesa e o contraditório.
- (B) Um funcionário estável somente perderá o cargo em virtude de sentença judicial, transitada, ou não, em julgado.
- (C) Um funcionário estável perderá o cargo mediante denúncia devidamente fundamentada, assegurada a ampla defesa.
- (D) Um funcionário estável somente perderá o cargo mediante processo administrativo em que lhe seja, ao menos, assegurado o contraditório.
- (E) Um funcionário estável somente perderá o cargo mediante apuração de responsabilidades em denúncias apuradas em comissão parlamentar de inquérito.

QUESTÃO 17

De acordo com a Lei n.º 10.460/1988, o retorno à atividade do funcionário aposentado por invalidez, quando insubsistentes os motivos determinantes da aposentadoria, considerada sempre a existência de vaga, é denominado

- (A) readaptação.
- (B) aproveitamento.
- (C) admissão.
- (D) vacância.
- (E) reversão.

QUESTÃO 18

Todo analista de gestão administrativa analisa processos administrativos, emite pareceres sobre contratos e elabora minutas de documentos.

Considerando verdadeira a proposição acima apresentada, assinale a alternativa correta.

- (A) Se um indivíduo analisa processos administrativos, emite pareceres sobre contratos e elabora minutas de documentos, então ele é um analista de gestão administrativa.
- (B) O conjunto dos analistas de gestão administrativa contém o conjunto dos indivíduos que emitem pareceres sobre contratos.
- (C) Se um indivíduo analisa processos administrativos e emite pareceres sobre contratos, mas não elabora minutas de documentos, ele não é analista de gestão administrativa.
- (D) Se um indivíduo não é analista de gestão administrativa, então ele não elabora minutas de documentos nem emite pareceres sobre contratos.
- (E) Se um indivíduo não é analista de gestão administrativa, então ele não analisa processos administrativos.

QUESTÃO 19

Assinale a alternativa em que as proposições P e Q sejam as premissas de um argumento, a proposição C seja a conclusão e o argumento seja válido.

- (A) P: Alguns analistas de gestão administrativa são uruguaios.
Q: Todos os químicos são uruguaios.
C: Alguns analistas de gestão administrativa são químicos.
- (B) P: Todos os analistas de gestão administrativa falam inglês.
Q: Nenhum cearense é analista de gestão administrativa.
C: Ninguém que saiba inglês é cearense.
- (C) P: Se eu estudar junto com o grupo de estudos do meu condomínio, eu serei um analista de gestão administrativa.
Q: Eu não estudarei junto com o grupo de estudos do meu condomínio.
C: Eu não serei analista de gestão administrativa.
- (D) P: Se eu tivesse estudado junto com o grupo de estudos do meu condomínio, hoje eu seria um analista de gestão administrativa.
Q: Eu não sou analista de gestão administrativa.
C: Eu não estudei junto com o grupo de estudos do meu condomínio.
- (E) P: Se eu for aprovado nesse concurso, em breve serei uma pessoa rica.
Q: Eu não serei aprovado nesse concurso.
C: Jamais serei uma pessoa rica.

QUESTÃO 20

Dos 20 analistas de gestão administrativa da área de serviço social aprovados em determinado concurso, 8 são do sexo masculino e 12 são do sexo feminino. Todos esses profissionais deveriam passar por um treinamento na cidade de Goiânia, mas, devido à contenção de despesas, só serão escolhidos 4 deles, 2 de cada sexo. Após o treinamento, os profissionais escolhidos disseminarão as informações aos demais colegas, isto é, servirão de multiplicadores dessas informações.

Dado esse caso hipotético, a quantidade de maneiras distintas de se fazer a escolha dos 4 profissionais que farão o treinamento na cidade de Goiânia é igual a

- (A) 7.392.
- (B) 1.848.
- (C) 132.
- (D) 66.
- (E) 56.

RASCUNHO

QUESTÃO 21

Considerando que a maioria dos termos em uso na tipografia digital derivam do desenvolvimento das técnicas de impressão com tipos móveis, no que se refere aos termos usuais na tipografia, é correto afirmar que

- (A) uma fonte é o conjunto completo de todos os caracteres, com exceção dos números e sinais.
- (B) as letras minúsculas são chamadas de versais, capitais ou caixa baixa.
- (C) o contraste é a diferença de espessura existente entre as partes finas e grossas de um tipo em particular.
- (D) os versaletes são caracteres com a forma das letras maiúsculas e altura das letras minúsculas, existentes em todas as famílias de tipos.
- (E) o *Kerning* é o ajuste forçado dos espaços existentes entre todas as letras, de uma palavra ou de um conjunto de palavras.

QUESTÃO 22

No início da tipografia, os fundidores não se preocupavam muito com a uniformidade dos tipos, acarretando grandes dificuldades de ajustes de impressão. No século XVIII os franceses, Pierre Simon Fournier e François-Ambroise Didot empenharam-se na determinação de um sistema que permitisse medições padronizadas. Com relação às medidas tipográficas, assinale a alternativa correta.

- (A) O ponto do Sistema Didot corresponde a cerca de 1 milímetro.
- (B) Nos sistemas Fournier e Didot, adotou-se o cícero de 11 pontos como unidade tipográfica.
- (C) O ponto tipográfico Didot foi um sistema de medidas tipográficas adotado apenas no Brasil.
- (D) Após inúmeras tentativas, atualmente as medidas tipográficas foram equiparadas ao sistema métrico decimal.
- (E) O tipômetro é uma régua que permite a concordância existente entre uma extensão métrica e a mesma expressão em cíceros e pontos.

QUESTÃO 23

A importância do infográfico como forma de tratamento visual da informação ganhou diversas aplicações graças ao desenvolvimento das novas tecnologias da informação e comunicação. No que se refere aos infográficos na Web, assinale a alternativa correta.

- (A) Desde a sua origem apresentava uma estrutura visual dinâmica e permitia a interação com o leitor.
- (B) Os infográficos multimídias utilizam uma linguagem específica para Web e possibilitam ao usuário/leitor ouvir áudios e assistir vídeos que acrescentem informações ao todo.
- (C) A linguagem que compõe o infográfico na Web de nada se assemelha a linguagem do infográfico no meio impresso.
- (D) Apesar de sua dinamicidade, ainda não é possível utilizá-lo associado à educação a distância.
- (E) Os infográficos interativos para Web são desenvolvidos usando apenas HTML.

QUESTÃO 24

Ao se desenvolver um programa de identidade visual, preconiza-se que os elementos sejam organizados em um sistema planejado, coerente, uniforme e controlado. No que se refere aos seus diversos itens característicos, é correto afirmar que o(a)

- (A) símbolo é um sinal gráfico, geométrico ou não, que convencionalmente identifica a empresa.
- (B) nome é a forma gráfica única e padronizada para representar a empresa.
- (C) cor institucional é a definição de uma cor Pantone para a identificação visual da instituição.
- (D) logotipo é uma inicial inscrita de uma determinada forma.
- (E) monograma é um signo gráfico que, por sua relação de analogia, denota ou conota as atividades da empresa.

QUESTÃO 25

Uma identidade visual fácil de lembrar e de reconhecer viabiliza a consciência e o reconhecimento de marca. Considerando que a ciência da percepção investiga como as pessoas reconhecem e interpretam os estímulos sensoriais, assinale a alternativa correta.

- (A) O cérebro reconhece e memoriza primeiramente as cores.
- (B) A forma vem em segundo lugar, é reconhecida pelo cérebro após o reconhecimento das cores.
- (C) O cérebro reconhece e processa em menor tempo a linguagem, logo o conteúdo vem em primeiro lugar.
- (D) O cérebro reconhece e memoriza primeiramente a forma.
- (E) O cérebro reconhece a forma, a cor e o conteúdo simultaneamente.

QUESTÃO 26

Com relação à identificação, produção e aplicação das cores e suas características como linguagem de criação e expressão visual, assinale a alternativa correta.

- (A) No sistema aditivo, a cor é obtida mediante pigmentos opacos, como ocorre no uso de pintura ou nos processos de impressão.
- (B) No sistema subtrativo, o preto é a ausência total de luz, e o branco, a soma de todas as cores combinadas e projetadas pela luminosidade.
- (C) Quando as cores estão em sua essência básica e não podem ser obtidas pela mistura de outras, são denominadas cores primárias.
- (D) Cores neutras são as cores que, decompostas em radiações cromáticas restituem a luz branca.
- (E) Tom é o grau de intensidade, concentração, saturação ou pureza de uma cor.

QUESTÃO 27

Muita pesquisa foi realizada, para em 1931 se chegar a um modelo de cor, reconhecido internacionalmente, que fosse constante independentemente do dispositivo eletrônico. Nesse modelo, o espaço de domínio das cores inclui todas as cores visíveis, sejam elas definidas ou não pelos modelos RGB ou CMYK. Esse modelo de cor recebe o nome de

- (A) modelo HSL.
- (B) modelo CIE.
- (C) modelo Hexachrome.
- (D) modelo Pantone.
- (E) cores indexadas.

QUESTÃO 28


De forma a tornar a leitura mais fácil, os textos compostos tipograficamente são organizados em colunas e blocos de textos e alinhados para garantir qualidade estética e uma leitura mais clara e confortável. Com relação ao alinhamento vertical, é correto afirmar que o(a)

- (A) hifenização é um problema presente com frequência no alinhamento à esquerda.
- (B) alinhamento à direita é particularmente indicado para blocos de textos longos.
- (C) alinhamento centralizado tem como característica marcante sua dinamicidade e ousadia.
- (D) margem direita irregular, devido ao costume de ler da esquerda para a direita, nos força a pausar momentaneamente em busca do início de cada linha.
- (E) alinhamento justificado é o método mais comum de arranjar as linhas de tipos e caracteriza-se por todas as linhas de textos terem a mesma largura.

QUESTÃO 29

A seção áurea é uma proporção especial muito utilizada em trabalhos de diagramação. Com relação a esse tema, assinale a alternativa correta.

- (A) A seção áurea consiste em subdividir um retângulo estático, com frações racionais como $1/2$, $2/3$, $3/4$.
- (B) A seção áurea é uma relação assimétrica na grande maioria das vezes constante.
- (C) O traçado de diagonais interligando pontos do retângulo de proporção áurea determina pontos focais de equilíbrio ótico.
- (D) A seção áurea foi gradativamente substituída pelo sistema Modulor do arquiteto suíço Le Corbusier, que de nada se aproximava da seção áurea.
- (E) A seção áurea divide uma linha em duas partes de igual tamanho.

QUESTÃO 30

O modo de cores exclusivo do Photoshop é a forma como o programa define uma cor, baseando-se nos modelos padronizados de definição e reprodução de cores. Considerando a imagem, é correto afirmar que

- (A) 216 cores são reconhecidas pelos navegadores de internet, independentemente da plataforma (PC ou Mac).
- (B) 256 cores são reconhecidas pelos navegadores de internet, independentemente da plataforma (PC ou Mac).
- (C) 216 cores são reconhecidas pelos navegadores de internet, exclusivamente na plataforma PC.
- (D) 256 cores são reconhecidas pelos navegadores de internet, exclusivamente na plataforma Mac.
- (E) 216 cores são reconhecidas pelos navegadores de internet, exclusivamente na plataforma Mac.

QUESTÃO 31

O formato PDF (*portable document format*) reúne em um único arquivo digital todas as informações e elementos necessários para impressão remota. Com relação a esse formato, assinale a alternativa correta.

- (A) O formato PDF deu origem ao formato PostScript.
- (B) Os arquivos em PDF podem ser reproduzidos em qualquer impressora.
- (C) O PDF é um formato de arquivo de intercâmbio, nativo do aplicativo Corel Draw.
- (D) Os arquivos PDF possuem uma grande capacidade de compactação, reduzem um arquivo em até 50% do tamanho original.
- (E) Um arquivo PDF gerado na plataforma Windows não é compatível na plataforma Macintosh, e vice-versa.

QUESTÃO 32

Considerando que o Gimp é uma ferramenta de criação e edição de imagens de código aberto, criado para edição e manipulação de imagens, assinale a alternativa correta.

- (A) Originalmente, o Gimp foi desenvolvido para a plataforma Macintosh, porém atualmente também se encontra disponível para a plataforma Windows.
- (B) O Gimp é um programa gratuito de criação gráfica edição e manipulação de imagem 3D.
- (C) Por se tratar de um *software* para preparação de imagens para a Internet, suporta apenas arquivos no formato GIF e JPG.
- (D) Para transformar imagens sem preocupações de respeito pela relação proporcional original, utiliza-se a opção [Scale] do menu [Tools].
- (E) Apesar de ser coberto pela licença pública, o Gimp não permite que desenvolvedores da comunidade de *software* livre contribuam para o seu desenvolvimento.


QUESTÃO 33

Considerando a figura abaixo, que retrata os ícones da janela de ferramentas Camadas, do *software* livre Scribus, assinale a alternativa que apresenta a função dos respectivos ícones:



(1) (2) (3) (4) (5)

- (A) (1) tornar a camada visível, (2) imprimir camada, (3) bloquear ou desbloquear camadas, (4) texto contornar o quadro de imagem, (5) modo contorno
- (B) (1) tornar a camada visível, (2) salvar camada, (3) restrito a bloquear camadas, (4) texto contornar o quadro de imagem, (5) desenho livre
- (C) (1) visualizar apenas o texto, (2) imprimir camada, (3) bloquear ou desbloquear camadas, (4) texto alinhado a esquerda, (5) desenho livre
- (D) (1) visualizar apenas ilustrações, (2) imprimir camada, (3) restrito a bloquear camadas, (4) texto alinhado a esquerda, (5) modo contorno
- (E) (1) visualizar apenas ilustrações, (2) imprimir camada, (3) bloquear ou desbloquear camadas, (4) texto contornar o quadro de imagem, (5) modo contorno

QUESTÃO 34


Para confeccionar em *software* livre, uma ilustração conforme a figura acima, o programa recomendado é o

- (A) Gimp.
- (B) Inkscape.
- (C) Scribus.
- (D) Kompozer.
- (E) Corel Draw.

QUESTÃO 35

O tipo de serifa quadrada, muitas vezes chamados de serifa em bloco ou tipos egípcios, caracteriza-se na fonte

- (A) Univers.
- (B) Helvética.
- (C) Myriad.
- (D) Courier.
- (E) Frutiger.

QUESTÃO 36

Uma folha simples de papel tem dois lados, isto é, duas páginas. Dobrada *uma vez*, formará um folheto de quatro páginas. Dobrada novamente, terá oito páginas e assim por diante. Acerca de dobras e vincos que constituem um caderno e considerando a figura acima, assinale a alternativa correta.

- (A) 2, 4, 8, 16 e 32 páginas são as unidades-padrão para o trabalho de dobragem, porém apenas as unidades com 32 páginas constitui um caderno.
- (B) As imagens (2), (4) e (8) representam respectivamente: folheto 2 páginas, folheto dobras duplas e folheto 8 páginas antes de refilado.
- (C) Apenas as unidades superiores a 12 páginas necessitam ser refiladas para que as páginas 2, 3, 6 e 7 possam ser lidas.
- (D) As imagens (3), (5) e (7) representam respectivamente: folheto 3 páginas, dobra tipo sanfona e folheto 4 páginas antes de refilado.
- (E) As imagens (6) e (10) representam respectivamente: folheto 8 páginas depois de refilado e dobras paralelas.

QUESTÃO 37

A arquitetura de informação para Web é composta por quatro sistemas estruturados e interdependentes, utilizados para organizar as informações disponíveis nas páginas *web*. Com relação ao sistema de rotulação, que constitui um desses sistemas, é correto afirmar que

- (A) o sistema de rotulação agrupa e categoriza o conteúdo informacional.
- (B) esquemas de organização exatos e esquemas de organização ambíguos, são dois grandes grupos dos esquemas de rotulação.
- (C) o sistema de rotulação estabelece as formas de representação e apresentação da informação, definindo signos para cada elemento informativo.
- (D) o sistema de rotulação determina a maneira de mover-se pelo espaço informacional e hipertextual.
- (E) em *websites* os rótulos são representados exclusivamente por *links* textuais por meio do uso de palavras.

QUESTÃO 38

Os *softwares* mais indicados para animação vetorial 2D são

- (A) Flash, Blender e Maya.
- (B) Flash, Pencil e Maya.
- (C) Blender, Pencil e Synfig.
- (D) Flash, Pencil e Synfig.
- (E) Synfig, Blender e Maya.

QUESTÃO 39

Considerando que o crescimento da impressão digital é um reflexo natural do desenvolvimento das tecnologias de impressão, assinale a alternativa correta.

- (A) A impressão digital é altamente recomendada para trabalhos de alta tiragem.
- (B) Apesar dos avanços tecnológicos, os custos fixos da impressão digital ainda são elevados.
- (C) Embora as impressoras digitais sejam mais rápidas do que uma impressora *offset* de nível médio, a impressão digital apresenta prazos maiores para a produção.
- (D) Devido sua tecnologia, possibilita impressos com custo variável, ou seja, quanto maior a tiragem, menor o custo unitário.
- (E) A impressão digital, por meio da impressão de dados variáveis, é indicada para atender públicos segmentados e nichos específicos.

QUESTÃO 40

Considere as seguintes características:

- I Nos livros de capa dura, servem como apoio estrutural entre o corpo do livro e as capas.
- II Para que constitua uma boa transição entre o exterior e o interior do livro, deve estar integrado ao *design* total da obra, o que pode ser obtido mediante elementos como cor, qualidade do papel, ou efeitos artísticos, tais como textura.

A parte componente do livro a que essas características se referem é a

- (A) guarda.
- (B) orelha.
- (C) lombada.
- (D) capa.
- (E) sobrecapa.

PROVA DISCURSIVA

- Esta prova valerá, no máximo, 40 (quarenta) pontos. Você deverá produzir, a partir do tema proposto, um texto, com extensão máxima de 30 (trinta) linhas, primando pela clareza, precisão, consistência, concisão e adequação às normas do registro formal da língua portuguesa. Qualquer fragmento de texto que ultrapassar a extensão máxima de linhas disponibilizadas será desconsiderado.
- O texto deverá ser manuscrito, em letra legível, com caneta esferográfica de tinta **preta** ou **azul**, fabricada com material transparente.
- A **folha de texto definitivo** não poderá ser assinada, rubricada nem conter nenhuma palavra ou marca que identifique o candidato, sob pena de anulação do texto. Assim, a detecção de qualquer marca identificadora no espaço destinado à transcrição de texto definitivo acarretará a anulação do texto.
- A **folha de texto definitivo** será o único documento válido para avaliação da prova discursiva. A folha para rascunho neste caderno é de preenchimento facultativo e não servirá para avaliação.

A ecologia dos saberes é a extensão universitária ao contrário. É a universidade preparada para se abrir às práticas sociais, mesmo quando não informadas pelo conhecimento científico, que nunca é único. O conhecimento científico tem de saber dialogar com outros conhecimentos que estão presentes nas práticas sociais e, assim, trazê-los para dentro da universidade, o que significa, eventualmente, que os alunos da universidade terão contato com líderes comunitários, que, hoje, não são credenciados para ensinar na Academia, mas, provavelmente, podem trazer a ela sua experiência.

Boaventura de Sousa Santos. **A justiça social vai obrigar a que se comprometa com a justiça cognitiva** – Entrevista. In: **Diversa Cidadania**. Universidade Federal de Minas Gerais, ano 3, n.º 8, out./2005. Internet: <www.ufmg.br> (com adaptações).

Considerando que o fragmento de texto apresentado tem caráter unicamente motivador, redija um texto dissertativo acerca do tema proposto a seguir.

A defesa dos ideais republicanos e da democracia como garantia da cidadania

Ao elaborar seu texto, aborde, necessariamente, os seguintes aspectos:

- a) democracia e direitos humanos;
- b) respeito à diversidade; e
- c) papel da universidade na promoção da justiça social.

1	
5	
10	
15	
20	
25	
30	

RASCUNHO

PROVA APLICADA



PROVA APLICADA