

CONCURSO PÚBLICO - 01/2015



INSTITUTO
LEGATUS



034 - MOTORISTA D

LEIA ATENTAMENTE AS INSTRUÇÕES SEGUINTE

Informações ao candidato:

- Para a realização desta prova, você está recebendo este CADERNO DE QUESTÕES. No momento oportuno, lhe será entregue a sua FOLHA DE RESPOSTAS personalizada.
- Verifique se este CADERNO DE QUESTÕES corresponde à sua opção de cargo e possui 40 (quarenta) questões, numeradas de 01 a 40. Do contrário, solicite outro ao FISCAL, imediatamente. Não serão aceitas reclamações posteriores.
- Para cada questão existe apenas uma resposta correta, que deverá ser assinalada na FOLHA DE RESPOSTAS, com caneta esferográfica de tinta azul ou preta. Mais de uma resposta assinalada implica na anulação da questão.
- Você terá 04 (quatro) horas para responder a todas às questões e preencher a FOLHA DE RESPOSTAS.
- Nenhum candidato poderá sair da sala antes de decorridos 60 (sessenta) minutos do início da prova, ressalvados os casos de emergência médica.
- O PORTE de quaisquer fontes de consulta, aparelhos de comunicação - inclusive telefone celular - e/ou de registro de dados, no recinto da prova, a qualquer momento, caracteriza TENTATIVA DE FRAUDE, procedendo-se à retirada imediata do candidato e a sua ELIMINAÇÃO SUMÁRIA do concurso. Será igualmente excluído o candidato surpreendido em comunicação com outros candidatos.
- Ao concluir a prova, o candidato terá que devolver a FOLHA DE RESPOSTAS devidamente ASSINADA, bem como este CADERNO DE QUESTÕES. A não devolução de qualquer um deles implicará na eliminação do candidato.
- Os 03 (três) últimos candidatos a concluírem a prova deverão sair juntos e assinar em local apropriado na ATA DA PROVA. Não deixe de também assinar a LISTA DE FREQUÊNCIA.
- Este CADERNO DE QUESTÕES e o GABARITO OFICIAL serão divulgados em até 02 (dois) dias úteis após a aplicação desta prova, no endereço eletrônico www.institutolegatus.com.br, conforme Edital do Concurso.

PREFEITURA MUNICIPAL DE PAU D'ARCO DO PIAUÍ
Concurso Público – 01/2015

01	02	03	04	05	06	07	08	09	10	11	12	13	14	15	16	17	18	19	20

21	22	23	24	25	26	27	28	29	30	31	32	33	34	35	36	37	38	39	40



www.institutolegatus.com.br

LÍNGUA PORTUGUESA

Utilize os textos abaixo para responder às questões de 1 até 09.

TEXTO I - Somos gente

Decretaram que pessoas com mais de sessenta anos merecem alguns benefícios. Há mais tempo decretaram que negro era gente.

Há menos tempo que isso decretaram que mulher também era gente, pois podia votar.

Mas voltando aos com mais de sessenta: decretaram coisas que deveriam ser naturais numa sociedade razoável. Não as vejo como benefícios, mas como condições mínimas de dignidade e respeito. Benefício tem jeito de concessão, caridade.

Coisas como não lhes cobrarem mais pelo seguro saúde porque estão mais velhos, na idade em que possivelmente vão de verdade começar a precisar de médico, remédio, hospital, não deveriam ser impostas por decreto.

Decretaram também que depois dos sessenta as pessoas podem andar de graça no ônibus e pagar meia entrada no cinema. Perceberam, pois, que após os sessenta as pessoas ainda se locomovem e se divertem. Pensei que achassem que nessa altura a gente ficasse inexoravelmente meio inválido e... invalidado.

Que sociedade esquisita esta nossa, em que é preciso decretar que em qualquer idade a gente é gente.

Luft, Lya. Pensar é transgredir. São Paulo: Record, 2004, p.132

QUESTÃO 01

A autora do gênero textual em análise tem a intenção comunicativa de

- (A) Ressaltar que a sociedade contemporânea está mais atenta às mudanças em cada fase da vida e, assim, procura-se proteger mais as pessoas que têm maior fragilidade.
- (B) Realçar o posicionamento preconceituoso de algumas pessoas que discriminam camadas sociais diferentes da sua, para minimizar os problemas, adotam-se medidas burocráticas.
- (C) Protestar contra as tentativas de se proteger cada vez mais as pessoas mais diferenciadas, pois elas precisam de atenção e não de esmolas.
- (D) Defender que em toda a sociedade há necessidade de se prestar mais assistência a determinadas pessoas, mas não precisa ser por um decreto.
- (E) **Criticar a forma como a sociedade contemporânea vê alguns grupos sociais e por meio de tentativas burocráticas procurar fazer com que seus direitos sejam garantidos.**

QUESTÃO 02

É correto afirmar que o sentido geral do texto em análise nos remete à ideia de que:

- (A) **A criação de benefícios de qualquer natureza seria até desnecessária, será preciso, antes de tudo, respeito à dignidade do ser humano.**
- (B) O governo se equivoca quando cria projetos que auxiliam segmentos sociais como o idoso, o negro e a mulher, o mais correto é dar-lhes mais chances de crescimento e ascensão social.
- (C) Ao invés de procurarem soluções distintas para dar atenção às camadas sociais menos favorecidas, poder-se-iam dar cuidado e atenção.
- (D) Os decretos soam falsos quando se trata de medidas para beneficiar dignamente as pessoas.
- (E) Se houvesse chances de mais inserção social, principalmente em programas sociais, as pessoas poderiam viver mais dignamente.

QUESTÃO 03

Assinale a alternativa em que, para o termo marcado, foi corretamente justificada a acentuação gráfica, de acordo com a norma padrão da língua.

- (A) Decretaram que pessoas com mais de sessenta anos merecem alguns **benefícios**. Palavra paroxítona terminada em o seguido de s.
- (B) Há menos tempo que isso decretaram que mulher **também** era gente. Palavra oxítona terminada em m.
- (C) [...] decretaram coisas que deveriam ser naturais numa sociedade **razoável**. Palavra paroxítona terminada em el.
- (D) **Coisas como não lhes cobrarem mais pelo seguro saúde** porque estão mais velhos [...] – a letra **“ú”** é a segunda vogal tônica do hiato.
- (E) [...] as pessoas podem andar de graça no **ônibus** e pagar meia entrada no cinema. Palavra proparoxítona terminada em us.

Observe o excerto para responder às questões 4 e 5

Perceberam, pois, que após os sessenta as pessoas ainda se locomovem e se divertem. Pensei que achassem que nessa altura a gente ficasse **inexoravelmente** meio inválido e... **invalidado**.

QUESTÃO 04

Se substituirmos as palavras sublinhadas, **respectivamente**, por expressões e/ou vocábulos indicadores do seu sinônimo e do seu antônimo, a alternativa correta será

- (A) Impunemente e validado.
- (B) **Inevitavelmente e imprestável.**
- (C) Dificilmente e reservado.
- (D) Naturalmente e desvalorizado.
- (E) Inerentemente e desprestigiado.

QUESTÃO 05

Sobre a classificação morfológica dos vocábulos POIS, APÓS e AINDA, está respectiva e corretamente feita na sequência

- (A) Preposição, preposição e advérbio.
- (B) **Conjunção coordenativa, preposição e advérbio.**
- (C) Conjunção subordinativa, conjunção coordenativa e conjunção subordinativa.
- (D) Conjunção subordinativa, conjunção subordinativa, Conjunção coordenativa.
- (E) Conjunção coordenativa, preposição, preposição.

Analise o excerto a seguir para responder à questão 6:

Decretaram que pessoas com mais de sessenta anos merecem alguns benefícios. Há mais tempo decretaram que negro era gente.

QUESTÃO 06

Quanto à estrutura morfossintática desse excerto, julgue os itens assinalando (V) para as proposições verdadeiras e (F) para as falsas.

- () O verbo **decretar** está flexionado na terceira pessoa do pretérito perfeito do modo indicativo e não concorda com um termo específico nesse contexto.
- () O verbo **merecer**, no presente do indicativo, 3ª pessoa do plural, concorda com o termo nuclear da expressão anterior **pessoas**.
- () **Era** (verbo ser), nesse contexto, está no pretérito perfeito do modo indicativo, na terceira pessoa do singular e pode ser classificado como um verbo anômalo.

A sequência correta, de cima para baixo é:

- (A) F, V, V
- (B) V, F, V
- (C) V, V, V
- (D) **V, V, F**
- (E) F, V, F

QUESTÃO 07

Assinale o item em que foi empregada uma expressão que expõe o ponto de vista da articulista do texto e indica uma ironia.

- (A) Mas voltando aos com mais de sessenta: decretaram coisas que deveriam ser naturais numa sociedade razoável.
- (B) Não as vejo como benefícios, mas como condições mínimas de dignidade e respeito.
- (C) **Pensei que achassem que nessa altura a gente ficasse inexoravelmente meio inválido e... invalidado.**
- (D) Decretaram também que depois dos sessenta as pessoas podem andar de graça no ônibus e pagar meia entrada no cinema.
- (E) Benefício tem jeito de concessão, caridade.

QUESTÃO 08

Assinale a alternativa em estão corretamente analisados, do ponto de vista da morfologia e da flexão verbal ou nominal, os termos destacados.

- (A) Decretaram que pessoas com mais de sessenta anos merecem **alguns** benefícios. O pronome indefinido concorda com o substantivo **benefícios**.
- (B) Não **as** vejo como benefícios, mas como condições mínimas de dignidade e respeito. Artigo definido masculino plural, não mantém concordância com nenhum termo no contexto.
- (C) Não as vejo como benefícios, mas **como** condições mínimas de dignidade e respeito. Palavra invariável – conjunção subordinativa comparativa.
- (D) Decretaram também **que** depois dos sessenta as pessoas podem andar de graça no ônibus e pagar meia entrada no cinema. Pronome relativo invariável.
- (E) Pensei que achassem que nessa altura a gente ficasse inexoravelmente **meio** inválido [...] – adjetivo masculino, concorda com a expressão seguinte **inválido**.

Analise a tirinha abaixo para responder às duas questões seguintes.

TEXTO II



Tirinhas do Armandinho - disponível em <https://www.google.com.br/search?q=tirinhas+do+armandinho> acesso em 07 de março de 2015

QUESTÃO 09

Assinale a alternativa que faz uma correta análise sobre o sentido da tirinha e o tema abordado no texto I. Leve em consideração os contextos específicos.

- (A) Infere-se, a partir do emprego do último substantivo da tirinha, que, em sua prática, as pessoas agem mais pelo sentimento.
- (B) Há uma relação com o texto I, na medida em que são apresentadas possíveis causas da falta de respeito e de amor entre as pessoas.
- (C) De acordo imagem (linguagem não verbal) e a linguagem verbal (o que está escrito) há um diálogo de uma criança e uma pessoa mais experiente na vida.
- (D) Há a crítica implícita à falta de amor entre as pessoas, gerando incompreensões e tentativas de ações paliativas de proteção.
- (E) O sentido da tirinha (Texto II) desencadeia-se a partir de uma situação corriqueira, na qual se percebe que o mais importante na vida é valorizado mais pela criança.

QUESTÃO 10

Acerca dos recursos linguísticos empregados na tirinha, assinale a alternativa correta.

- (A) “óbvio” é um substantivo e indica uma certeza, algo que está certo de se realizar.
- (B) A expressão “à vida” complementa o sentido do adjetivo **essencial**.
- (C) O pronome demonstrativo **essa**, faz referência à resposta que Armandinho colocou na prova.
- (D) O sinal da crase no vocábulo “à” marca a combinação de duas classes gramaticais.
- (E) Na locução verbal **conseguiu errar**, o verbo auxiliar denota obrigação.

RACIOCÍNIO LÓGICO-MATEMÁTICO

QUESTÃO 11

Na bolsa de João há três notas de R\$ 100,00 e duas notas de R\$ 10,00. Se João retirar duas notas desta bolsa, que quantia ele pode obter?

- (A) R\$ 100,00
- (B) R\$ 10,00
- (C) R\$ 120,00
- (D) R\$ 300,00
- (E) R\$ 200,00

QUESTÃO 12

Com 4 metros de tecido, uma costureira consegue fazer duas calças. Quantas dessas calças ela conseguirá fazer com 12 metros desse tecido?

- (A) 9
- (B) 8
- (C) 7
- (D) 6
- (E) 5

QUESTÃO 13

Da casa de Maria até seu local de trabalho são 26 quarteirões de 100 m cada. Essa distância corresponde a:

- (A) 260 m
- (B) 2 km
- (C) 2 km e 600 m
- (D) 1600 m
- (E) mais de três quilômetros

QUESTÃO 14

Um caminhão de carga vazio pesa 5,8 toneladas. Nele foi colocada uma carga de 8500 quilogramas. Qual é o peso do caminhão e da carga juntos em quilogramas?

- (A) 14300 kg
- (B) 13300 kg
- (C) 12600 kg
- (D) 15300 kg
- (E) 15500 kg

QUESTÃO 15

Qual a diferença entre o maior número de três algarismos distintos e, o menor número de três algarismos, formados no sistema de numeração decimal?

- (A) 987
- (B) 887
- (C) 899
- (D) 788
- (E) 100

ATUALIDADES**QUESTÃO 16**

“Trata-se da maior investigação de corrupção e lavagem de dinheiro que o Brasil já teve. Estima-se que o volume de recursos desviados dos cofres da Petrobras, maior estatal do país, esteja na casa de bilhões de reais. Soma-se a isso a expressão econômica e política dos suspeitos de participar do esquema de corrupção que envolve a companhia.” O texto refere-se à operação denominada:

- (A) Operação Petrobrás
- (B) Operação Lava-Jato**
- (C) Operação Bomba de Gasolina
- (D) Operação O Petróleo é Nosso
- (E) Operação Caixa de Pandora

QUESTÃO 17

“A crise em um dos maiores sistemas de armazenamento de água do mundo, que registrou os níveis mais baixos de água desde 1930, e que atende aproximadamente R\$ 9,86 milhões de pessoas no Estado de São Paulo, foi objeto de grande repercussão na imprensa nacional e voltou a alertar a população de todo o país sobre a necessidade do uso racional dos recursos hídricos, inclusive com a realização de campanhas educativas e a oferta de incentivos financeiros em alguns locais para a economia da água.” O texto refere-se ao sistema de reservatórios d'água denominado:

- (A) Tietê
- (B) Alto Cotia
- (C) Paulista
- (D) Cantareira**
- (E) Osasco

QUESTÃO 18

“Os Parques Nacionais são unidades de conservação da natureza da categoria de proteção integral. No estado do Piauí existem, atualmente, quatro parques nacionais. Em janeiro de 2015 foi promulgada lei em que um desses parques nacionais teve sua área ampliada em cerca de 20 mil hectares. Localizado integralmente no bioma Cerrado e parcialmente na Amazônia Legal, em virtude de sua inserção em outros Estados da Federação, ocorrem no Parque, de acordo com o Instituto Chico Mendes de Conservação da Biodiversidade (ICMBio), espécies ameaçadas como a onça-pintada, o tatu-canastra e a onça-parda.” A unidade de conservação que teve seus limites alterados neste ano de 2015 foi o:

- (A) Parque Nacional da Serra da Capivara
- (B) Parque Nacional da Serra das Confusões
- (C) Parque Nacional das Nascentes do Rio Parnaíba**
- (D) Parque Nacional de Sete Cidades
- (E) Parque Nacional da Floresta Fóssil do Rio Poty

QUESTÃO 19

Com relação a fatos que repercutiram no noticiário estadual e nacional desde 2014, analise os itens abaixo em verdadeiro(V) ou falso(F).

- () A eleição presidencial de 2014 foi a mais acirrada para a escolha do Chefe do Executivo desde 1989, quando o país voltou a ter eleições diretas para presidente.
- () Dados divulgados no final de 2014 revelaram que após uma década de queda na miséria, o número de brasileiros em condição de extrema pobreza voltou a subir.
- () Com o crescimento do Produto Interno Bruto, que é a soma de todas as riquezas produzidas, a economia do Brasil se tornou a sexta maior do mundo, ultrapassando a França.

A sequência correta, de cima para baixo, é:

- (A) V-V-F**
- (B) V-F-F
- (C) V-V-V
- (D) F-V-F
- (E) F-F-V

QUESTÃO 20

No dia 10 de dezembro de 2014, Dia Internacional dos Direitos Humanos, depois de dois anos e sete meses de trabalho, a Comissão Nacional da Verdade (CNV) publicou seu relatório final sobre as violações de direitos humanos ocorridas no Brasil. Sobre a CNV é correto afirmar:

- (A) A conclusão mostrou a violação de direitos humanos em conflitos agrários no Norte do Brasil.
- (B) O seu trabalho esteve voltado para o período da ditadura militar brasileira (1964-1985).**
- (C) Embora tenha constatado violações aos direitos humanos, o relatório final da Comissão não recomendou a responsabilização de pessoas.
- (D) O relatório propõe medidas de combate ao trabalho escravo no Brasil.
- (E) O documento final propôs a anistia a agentes condenados depois do ano de 1989.

**CONHECIMENTOS GERAIS E
ESPECÍFICOS**

QUESTÃO 21

Considere a situação hipotética descrita no texto abaixo para responder às questões de 01 a 03.

“Na rodovia que liga a cidade de Pau D’Arco do Piauí a Altos, um motorista envolveu-se em um acidente com um motociclista, em um determinado trecho em que a velocidade máxima admitida era de 80 km/h. Era noite e a pista estava molhada.”

Ao realizar os primeiros socorros ao motociclista, assinale a alternativa que indica uma prática que NÃO deve ser adotada pelo motorista.

- (A) Segurar a cabeça da vítima, pressionando a região das orelhas, impedindo a movimentação da cabeça.
- (B) Compressão de ferimento, caso exista, diretamente sobre ele, com uma gaze ou pano limpo.
- (C) Retirar o capacete do motociclista, de forma a facilitar sua respiração.
- (D) Acionar serviço de socorro profissional, como o SAMU, para prestar resgate à vítima.
- (E) Adotar providências para evitar perigo ao trânsito local, inclusive sinalizando o local.

QUESTÃO 22

Ao prestar os primeiros socorros, o motorista deve observar uma sequência. Considerando a Cartilha de Noções de Primeiros Socorros no Trânsito editada pelo DENATRAN, enumere a sequência das afirmativas abaixo, em ordem de prioridade, e assinale a alternativa correta.

- () controlar a situação.
- () garantir a segurança.
- () pedir socorro.
- () verificar a situação das vítimas.
- () manter a calma.

- (A) 1 – 3 – 5 – 2 – 4
- (B) 2 – 5 – 3 – 1 – 4
- (C) 3 – 5 – 1 – 4 – 2
- (D) 4 – 2 – 3 – 5 – 1
- (E) 5 – 3 – 4 – 2 – 1

QUESTÃO 23

Qual distância o motorista deverá percorrer para iniciar a sinalização de acidente da via?

- (A) 40 passos longos.
- (B) 80 passos longos.
- (C) 120 passos longos.
- (D) 160 passos longos.
- (E) 240 passos longos.

QUESTÃO 24

A Direção Defensiva reduz a possibilidade de envolvimento em acidentes de trânsito, tratando-se de uma atitude de segurança e prevenção de acidentes. Considerando alguns conceitos e recomendações estabelecidos em manuais de direção defensiva, analise as alternativas abaixo e assinale aquela INCORRETA.

- (A) Distância de Reação é aquela que o veículo percorre desde a percepção do perigo até o momento em que pisa no freio.
- (B) Distância de Seguimento é aquela que o veículo percorre a partir do momento em que o sistema de freio é acionado até a parada total do veículo.
- (C) Distância de parada total é aquela que o veículo percorre desde a percepção do perigo até parar, ficando a uma distância segura do outro veículo, pedestre ou qualquer objeto na via.
- (D) É importante considerar a condição em que se encontra o veículo para evitar acidentes. Antes de assumir a direção, todo motorista defensivo deve cuidar da manutenção do carro e verificar se o mesmo encontra-se em condições de circulação.
- (E) Uma das principais causas de colisão entre veículos é motivada por motoristas que dirigem "colados" ao veículo da frente.

QUESTÃO 25

Qual dos componentes abaixo NÃO faz parte do sistema de freio de um veículo?

- (A) a válvula.
- (B) a pastilha.
- (C) o disco.
- (D) a lona.
- (E) o fluido.

QUESTÃO 26

As palhetas do limpador de para-brisas devem ser trocadas:

- (A) a cada vez que forem usadas.
- (B) somente nas revisões.
- (C) apenas a cada 100.000 km.
- (D) a cada 12 meses.
- (E) se estiverem ressecadas.

QUESTÃO 27

O sistema de suspensão de um veículo é importante para garantir a segurança de sua condução. Fazem parte do sistema de suspensão de um veículo:

- (A) correia dentada e ventoinha.
- (B) cilindro mestre e estabilizador.
- (C) mola e caixa de direção.
- (D) molas e amortecedores.**
- (E) amortecedores e válvulas.






QUESTÃO 28

Um motorista observou que seu carro emitia sons de estalos e cliques quando realizava curvas. Ele observou também que o veículo vibrava muito, à medida que acelerava, com um barulho de atrito metálico característico. A causa mais provável desses problemas é o desgaste do(a):

- (A) eixo dianteiro do carro
- (B) disco de freio
- (C) junta homocinética**
- (D) amortecedor
- (E) barra de direção

QUESTÃO 29

Saber interpretar as luzes no painel dos carros ajuda a agilizar o laudo do defeito e auxilia o motorista a tomar a decisão correta em casos de emergência. Relacione a coluna da imagem com os itens listados.

1- 	() Pisca-alerta
2- 	() Freio de mão
3- 	() Injeção eletrônica
4- 	() Termômetro
5- 	() Bateria

Qual é a sequência correta, de cima para baixo?

- (A) 3-4-5-2-1**
- (B) 4-3-1-2-5
- (C) 2-1-5-4-3
- (D) 4-2-3-5-1
- (E) 5-4-3-1-2

QUESTÃO 30



Além de receber punição administrativa, o motorista que conduzir veículo automotor com capacidade psicomotora alterada em razão da influência de álcool pode ser condenado à pena de detenção, pelo período de seis meses a três anos. Na realização do teste de bafômetro, a partir de qual resultado a concentração de álcool por litro de ar alveolar expirado é considerada crime?

- (A) 0,01 mg/L
- (B) 0,06 mg/L
- (C) 0,34 mg/L**
- (D) 0,40 mg/L
- (E) 0,42 mg/L

QUESTÃO 31

A sinalização vertical tem a finalidade de fornecer informações que permitam aos usuários das vias adotar comportamentos adequados, de modo a aumentar a segurança, ordenar os fluxos de tráfego e orientar os usuários da via. Ela pode ser indicativa, de advertência ou regulamentação, principalmente. Qual das alternativas apresenta uma placa que tem o objetivo de advertir?

- (A) 
- (B) 
- (C) 
- (D) 
- (E) 

QUESTÃO 32

A Carteira Nacional de Habilitação-CNH atesta a aptidão de um cidadão para conduzir veículos automotores terrestres. Uma pessoa que pretende conduzir trailers e veículos rebocando unidades com mais de 6.000 Kg deverá possuir uma CNH na categoria:

- (A) AB
(B) B
(C) C
(D) D
(E) E

QUESTÃO 33

A placa de sinalização em destaque adverte o condutor sobre:



- (A) Confluência de pista à esquerda
(B) Confluência de pista à direita
(C) Estreitamento de pista
(D) Via lateral à esquerda
(E) Fim da pista dupla

QUESTÃO 34

Depois de ter recebido algumas multas por dirigir veículo falando ao telefone celular, um motorista resolveu adquirir fones de ouvido para poder falar ao telefone celular enquanto dirigia. Segundo o Código Brasileiro de Trânsito, caso seja flagrado por agente de trânsito utilizando os fones de ouvido enquanto dirige, o motorista:

- (A) não será multado.
(B) será multado, por tratar-se de infração leve.
(C) será multado, por tratar-se de infração média.
(D) será multado, por tratar-se de infração grave.
(E) será apenas advertido.

QUESTÃO 35

O condutor de veículo destinado à condução de escolares deve satisfazer alguns requisitos, segundo o Código Brasileiro de Trânsito, em seu art. 138. Dentre as alternativas abaixo, qual NÃO contém um requisito para condutores de transporte escolar?

- (A) ter idade superior a vinte e um anos;
- (B) ser habilitado na categoria D;
- (C) ter sido submetido a teste de aptidão física;
- (D) não ter cometido nenhuma infração grave ou gravíssima, ou ser reincidente em infrações médias durante os doze últimos meses;
- (E) ser aprovado em curso especializado, nos termos da regulamentação do CONTRAN.

QUESTÃO 36

Dentre as infrações de trânsito abaixo, qual tem como penalidade o recolhimento do documento de habilitação do motorista e a remoção do veículo, segundo o Código Brasileiro de Trânsito?

- (A) Ter seu veículo imobilizado na via por falta de combustível.
- (B) Atirar do veículo ou abandonar na via objetos ou substâncias.
- (C) Dirigir sem atenção ou sem os cuidados indispensáveis à segurança.
- (D) Ultrapassar outro veículo pelo acostamento.
- (E) Disputar corrida.

QUESTÃO 37

Dentre as alternativas abaixo, qual NÃO apresenta uma infração de trânsito, conforme o Código Brasileiro de Trânsito?

- (A) Transitar com o veículo produzindo fumaça, gases ou partículas em níveis superiores aos fixados pelo CONTRAN.
- (B) Estacionar o veículo afastado trinta centímetros da guia da calçada (meio-fio).
- (C) Deixar o condutor ou passageiro de usar o cinto de segurança.
- (D) Deixar o condutor de prestar socorro à vítima de acidente de trânsito quando solicitado pela autoridade e seus agentes.
- (E) Portar no veículo placas de identificação em desacordo com as especificações e modelos estabelecidos pelo CONTRAN.

QUESTÃO 38

Segundo o IBGE, o gentílico de Pau D'Arco do Piauí é:

- (A) paudarquiense
- (B) paudarquiano
- (C) paudarcano
- (D) paudarquinense
- (E) paudarquianense

QUESTÃO 39

Pau D'Arco do Piauí foi elevado à categoria de município em 1997, tendo sido desmembrado do município de:

- (A) Beneditinos
- (B) Altos
- (C) Alto Longá
- (D) Demerval Lobão
- (E) Coivaras

QUESTÃO 40

Em 2010, o IBGE realizou o XII Censo Demográfico, que se constituiu no grande retrato em extensão e profundidade da população brasileira e das suas características socioeconômicas e, ao mesmo tempo, na base sobre a qual deverá se assentar todo o planejamento público e privado desta década. Sobre o resultado do Censo 2010 em Pau D'Arco do Piauí, analise os itens seguintes:

- I. Em 2010, Pau D'Arco do Piauí tinha pouco mais de 4.500 habitantes.
- II. A quantidade de habitantes na zona rural era, em 2010, maior que a quantidade de habitantes na zona urbana, em Pau D'Arco do Piauí.
- III. Em Pau D'Arco do Piauí, a quantidade de habitantes do sexo feminino era, em 2010, maior que o número de habitantes do sexo masculino.

Está(ão) correto(s):

- (A) Apenas I
- (B) Apenas I e II
- (C) Apenas II
- (D) Apenas II e III
- (E) Apenas III