



ARQUIVISTA

CÓDIGO: ARQ01

CADERNO: 1

LEIA COM ATENÇÃO AS INSTRUÇÕES

- 1 - A duração das provas será de 4 (quatro) horas, já incluído o tempo de preenchimento do Cartão de Respostas.
- 2 - O candidato que, na primeira hora de prova, se ausentar da sala e a ela não retornar, será eliminado.
- 3 - Os 3 (três) últimos candidatos a terminar a prova deverão permanecer na sala até que todos tenham finalizado suas provas e somente poderão sair juntos do recinto, após aposição em ata de suas respectivas assinaturas.
- 4 - O candidato **NÃO** poderá levar o seu **Caderno de Questões (Provas Objetivas)** e **NÃO** poderá copiar o gabarito (assinalamentos). A imagem do seu **Cartão de Respostas** será disponibilizada na página do concurso em <http://concursos.biorio.org.br> na data prevista no cronograma.

INSTRUÇÕES - PROVA OBJETIVA

- 1 - Confira atentamente se este Caderno de Questões (Provas), que contém **50 (cinquenta) questões objetivas**, está completo.
- 2 - Cada questão da Prova Objetiva conterà **5 (cinco) opções** e somente uma correta.
- 3 - Confira **se os seus dados pessoais**, o **cargo** escolhido, indicados no **cartão de respostas**, estão corretos. Se notar qualquer divergência, notifique imediatamente ao Fiscal de Sala ou ao Chefe de Local. Terminada a conferência, você deve assinar o **cartão de respostas** no espaço apropriado.
- 4 - Confira atentamente se o **cargo** e o **número do caderno** que estão no caderno de questões é o mesmo do que consta em seu **cartão de respostas** e na **etiqueta com seus dados colada na mesa/cadeira onde foi designado para sentar**. Se notar qualquer divergência, notifique imediatamente ao Fiscal de Sala ou ao Chefe de Local.
- 5 - Cuide de seu **cartão de respostas**. Ele não pode ser rasurado, amassado, dobrado nem manchado.
- 6 - Se você marcar mais de uma alternativa, sua resposta será considerada errada mesmo que uma das alternativas indicadas seja a correta.
- 7 - No decorrer da prova objetiva o fiscal de sala irá colher a sua digital no selo que está no seu cartão de respostas.

AGENDA

- **15/03/2015**, PROVAS OBJETIVAS/ RECEBIMENTO DE TÍTULOS.
- **16/03/2015**, Divulgação dos Exemplares dos Cadernos de Questões (Provas) das Provas Objetivas.
- **16/03/2015**, Divulgação dos Gabaritos Preliminares das Provas Objetivas.
- **18/03/2015**, Disponibilização das Imagens dos Cartões Respostas das Provas Objetivas.
- **19/03** e **20/03/2015**, Interposição de Recursos contra as questões das Provas Objetivas.
- **26/03/2015**, Divulgação dos Gabaritos Definitivos das Provas Objetivas.
- **26/03/2015**, Relação Final de Notas das Provas Objetivas.
- **26/03/2015**, Convocação para as Provas Práticas.
- **29/03/2015**, Divulgação das Notas da Avaliação de Títulos.
- **28/03** e/ou **29/03/2015**, Provas Práticas.
- **30/03/2015**, Divulgação das Notas Preliminares das Provas Práticas.
- **31/03** e **01/04/2015**, Interposição de Recursos as Notas Preliminares das Provas Práticas.
- **31/03** e **01/04/2015**, Interposição de Recursos as Notas Preliminares da Avaliação de Títulos.
- **03/04/2015**, Divulgação das Notas Finais das Provas Práticas.
- **03/04/2015**, Divulgação das Notas Finais da Avaliação de Títulos.
- **04/04/2015**, Resultado Final do Concurso.



INFORMAÇÕES:

- Tel: (21) 3525-2480 das 9 às 18h
- Internet: <http://concursos.biorio.org.br>
- E-mail: tresrios2015@biorio.org.br

LÍNGUA PORTUGUESA

TEXTO I

Uma charge publicada em janeiro de 2015 abordava o problema da redação nos exames do ENEM:



QUESTÃO 1

A afirmação INADEQUADA sobre os componentes linguísticos e visuais dessa charge é:

- (A) a pergunta do aluno pode ser considerada uma pergunta retórica, já que a resposta é dispensável, pois se encontra implícita na imagem.
- (B) a escrita da fala do aluno apresenta um erro de pontuação e um erro de ortografia.
- (C) elementos visuais do aluno, como os fones no ouvido, o celular na mão, o chiclete, o uso do boné ao contrário e o skate o distanciam da imagem do bom aluno.
- (D) a resposta do professor deve ser vista como irônica.
- (E) os problemas indicados pelo professor retratam a influência do “internetês” sobre a norma culta.

QUESTÃO 2

As formas indicadas como exemplo pelo corretor da redação – vc, tbm, mto – indicam uma característica da linguagem empregada pelo aluno que é:

- (A) a ausência de significados de muitas palavras.
- (B) a criação de palavras novas para a língua portuguesa.
- (C) emprego de formas abreviadas.
- (D) erros frequentes de grafia.
- (E) excesso de linguagem figurada.

QUESTÃO 3

Observe a charge abaixo:



Sobre as frases que aparecem na charge, a única afirmativa INADEQUADA é:

- (A) Na primeira fala está presente uma marca da linguagem coloquial, que é o emprego do verbo TER por HAVER.
- (B) A grafia de “senão” está equivocada, pois, nesse contexto, deveria estar grafado “se não”.
- (C) Na segunda fala há uma marca de oralidade, na forma reduzida “tá”.
- (D) Na segunda fala, o emprego de “gente” exemplifica uma marca de coloquialidade.
- (E) Na segunda fala, há um erro de concordância nominal em “uma dessas bala perdida”.

QUESTÃO 4

Uma manchete jornalística de janeiro de 2015 dizia o seguinte:

INFLAÇÃO PODE PASSAR DE 7%, INDICA PROJEÇÃO

A leitura inadequada da manchete é:

- (A) a manchete indica uma possibilidade e não uma certeza.
- (B) a frase apresenta-se em ordem sintática inversa.
- (C) a projeção aludida aponta para uma possível inflação superior a 7%.
- (D) a ordem sintática da frase prioriza informação mais importante.
- (E) a inflação indica uma projeção de aumento de preços.

QUESTÃO 5

No elevador de um prédio da Zona Sul carioca estava afixado o seguinte aviso:

Srs. Condôminos:

A partir de 23/01/2015, iniciaremos a reforma dos elevadores. Começaremos pelo elevador de serviço, prosseguindo com os sociais, subsequentemente. Contamos com a colaboração de todos.

Desde já, agradecemos a espera, visto que a peça principal estava sendo confeccionada. (O Síndico)

A única observação adequada sobre a correção gramatical do texto é:

- (A) após o termo “a partir de 23/01/2015” não deveria haver vírgula.
- (B) as formas de futuro “iniciaremos” e “começaremos” deveriam ser substituídas por “vamos iniciar” e “vamos começar”.
- (C) a forma verbal “contamos” deveria ser substituída por “conto”, já que é o síndico do prédio quem assina o texto.
- (D) o conector “visto que” deveria ser substituído por “pois”, já que se trata de uma explicação e não de uma causa.
- (E) após o termo “desde já” não deveria haver vírgula.

QUESTÃO 6

Em janeiro de 2015 houve um ataque terrorista à sede de um jornal humorístico francês, Charlie Hebdo, quando morreram alguns chargistas, além de administradores, funcionários e seguranças do jornal. Uma das incontáveis charges publicadas sobre o tema foi:



Sobre os elementos visuais da charge, a única afirmação inadequada é:

- (A) o fundo negro da charge remete à tristeza do momento.
- (B) a imagem do palhaço remete à finalidade humorística do jornal.
- (C) a caneta quebrada alude à tarefa interrompida pela violência.
- (D) a cara triste do palhaço protesta a favor da liberdade de expressão.
- (E) o sangue em que pisa o palhaço se refere às vítimas do atentado.

TEXTO II

O cartaz abaixo provocou uma série de problemas:



No cartaz estava escrito “Oferta imperdível. Chip Vivo. R\$ 1 com aparelho”. Ao ler, o professor Aurélio Damião, 38, considerou a proposta irrecusável.

Com R\$ 4 no bolso, ele entrou na loja localizada no cento de Guarabira, sertão da Paraíba e pediu chips -- com os quatro aparelhos celulares correspondentes. Ele havia registrado a oferta com uma foto antes de ir ao trabalho e decidiu fazer a compra no final do expediente.

“Passei na loja e pedi: me veja quatro aparelhos de R\$ 1 da promoção”, contou Damião.

O atendente da loja “explicou” o anúncio. Na verdade, disseram, o redator queria dizer que os chips da operadora em questão sairiam por R\$ 1 no caso da compra de qualquer celular adquirido pelo preço normal de tabela.

(UOL Educação, 27/01/2015)

QUESTÃO 7

O cartaz trazia um erro, que era o de:

- (A) cometer erros de ortografia.
- (B) omitir o preço do produto vendido.
- (C) provocar confusão de sentido.
- (D) prometer coisas impossíveis.
- (E) tentar enganar os clientes.

QUESTÃO 8

“Ele havia registrado a oferta com uma foto antes de ir ao trabalho e decidiu fazer a compra no final do expediente.”

Nesse segmento da notícia, infere-se uma característica do cliente, que é a de:

- (A) aproveitar-se de um erro alheio.
- (B) economizar gastos com supérfluos.
- (C) organizar-se financeiramente em termos domésticos.
- (D) condenar a publicidade preconceituosa.
- (E) acreditar na justiça brasileira.

QUESTÃO 9

Na frase “me veja quatro aparelhos de R\$ 1 da promoção”, o cliente constrói uma frase condenada pela norma culta cujo erro é o de:

- (A) emprego do verbo “ver” de forma incoerente.
- (B) uso de pronome oblíquo no início de frase.
- (C) construção de uma ambiguidade.
- (D) mau emprego da preposição “de” em “de R\$1”.
- (E) omissão de referência explícita à promoção.

QUESTÃO 10

No cartaz aparece o adjetivo “imperdível”, cujo significado é “que não se pode perder”. O adjetivo semelhante abaixo cujo significado é incorretamente indicado é:

- (A) problema insolúvel / que não se pode solucionar.
- (B) tinta indelével / que não se pode apagar.
- (C) cena indescritível / que não se pode descrever.
- (D) projeto factível / que pode ser executado.
- (E) letra ininteligível / que não revela inteligência.

RACIOCÍNIO LÓGICO**QUESTÃO 11**

Observe a sequência: 35, 37, 40, 44, 49,... O próximo termo é:

- (A) 53
- (B) 54
- (C) 55
- (D) 56
- (E) 57

QUESTÃO 12

Um anagrama de uma palavra é uma reordenação das letras dessa palavra. Assim, por exemplo, CAAS e SACA são anagramas de CASA. A palavra AMADA tem a seguinte quantidade de anagramas:

- (A) 20
- (B) 24
- (C) 28
- (D) 32
- (E) 36

QUESTÃO 13

Se não é verdade que, numa empresa, todos os economistas são casados, então é verdade que, nessa empresa:

- (A) pelo menos um casado não é economista.
- (B) pelo menos um economista não é casado.
- (C) nenhum economista é casado.
- (D) todos os economistas são solteiros.
- (E) nenhum solteiro é economista.

QUESTÃO 14

Uma empresa tem 25 funcionários e só contrata funcionários de segunda-feira a sexta-feira. Nesse caso, avalie se as afirmativas a seguir são falsas (F) ou verdadeiras (V):

- ✓ Pelo menos três funcionários fazem aniversário em um mesmo mês.
- ✓ Com certeza cinco funcionários foram contratados numa segunda-feira.
- ✓ Ao menos seis foram contratados no mesmo dia da semana.

As afirmativas são respectivamente:

- (A) F, F e F.
- (B) V, F e V.
- (C) V, V e V.
- (D) V, F e F.
- (E) F, V e V.

QUESTÃO 15

No quadro abaixo, nas três primeiras linhas o terceiro número foi obtido a partir dos dois primeiros usando-se uma mesma regra.

2	3	25
1	7	64
3	3	36
4	?	100

Se a mesma regra for usada também na quarta linha, então a interrogação será substituída pelo seguinte número:

- (A) 4
- (B) 5
- (C) 6
- (D) 7
- (E) 8

QUESTÃO 16

Uma urna contém cinco bolas numeradas 1, 2, 3, 4 e 5. Se duas diferentes bolas forem aleatoriamente escolhidas (ou seja, sorteadas sem olhar), a probabilidade de que a soma dos números sorteados seja maior do que 5 é igual a:

- (A) 40%
- (B) 44%
- (C) 50%
- (D) 56%
- (E) 60%

QUESTÃO 17

O código secreto de sms entre Paula e Marta é tal que cada letra vira outra usando certa regra. Nesse código, "BOA NOITE" escreve-se "CPB OPJUF". Se Paula quiser mandar um sms para Marta dizendo "ROLA BAR?", deve digitar:

- (A) SPMB CBS?
- (B) QPNB CPS?
- (C) SPNC DBS?
- (D) SPMC CBP?
- (E) QRMB CBS?

QUESTÃO 18

Se não é verdade que Edmilson gosta de praia e de piscina, então é verdade que Edmilson:

- (A) não gosta de praia nem de piscina.
- (B) gosta de praia mas não de piscina.
- (C) gosta de piscina mas não de praia.
- (D) nunca vai à praia nem à piscina.
- (E) pode gostar de praia mas não de piscina.

QUESTÃO 19

Marco, Jonas e Alfredo contaram histórias sobre suas últimas pescarias, mas só Marco falou a verdade. Assim:

- (A) se Alfredo mentiu, então Jonas falou uma verdade.
- (B) se Marco mentiu então Jonas falou uma verdade.
- (C) Alfredo mentiu e Jonas falou uma verdade.
- (D) Jonas falou a verdade e Marco mentiu.
- (E) ou Jonas falou uma verdade ou Marco mentiu.

QUESTÃO 20

Numa sequência de números naturais, cada termo a partir do terceiro é a soma de todos os anteriores (Ex: 1, 3, 4, 8, ...). Nesse caso, avalie se as afirmativas a seguir são falsas (F) ou verdadeiras (V):






- ✓ O décimo termo é o dobro do nono termo.
- ✓ O décimo terceiro termo é um número ímpar.
- ✓ O centésimo primeiro termo é um número par.

As afirmativas são respectivamente:

- (A) F, F e F.
- (B) F, V e V.
- (C) V, F e V.
- (D) V, V e V.
- (E) V, F e F.

NOÇÕES DE INFORMÁTICA**QUESTÃO 21**

Atualmente, USB é uma sigla para um tipo de conexão que constitui um padrão universal para integração de diversos dispositivos à configuração dos microcomputadores. Entre as alternativas abaixo, a que mostra uma figura que ilustra esse tipo de conector é:

- (A) 
- (B) 
- (C) 
- (D) 
- (E) 

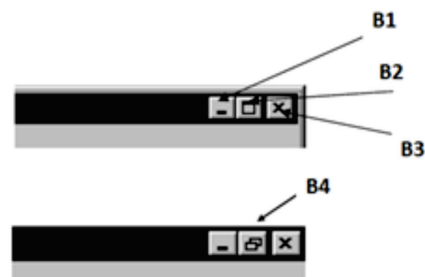
QUESTÃO 22

Dois exemplos de dispositivos que operam exclusivamente na entrada de dados são:

- (A) plotter e webcam.
- (B) webcam e pendrive.
- (C) pendrive e scanner.
- (D) scanner e teclado.
- (E) teclado e plotter.

QUESTÃO 23

A figura abaixo destaca botões existentes no canto superior direito do Windows Explorer no Windows XP BR, quando a janela é exibida na área de trabalho.



Os botões B2 e B4 possuem respectivamente os seguintes significados:

- (A) minimizar e restaurar.
- (B) maximizar e restaurar.
- (C) maximizar e minimizar .
- (D) maximizar e fechar.
- (E) minimizar e fechar.


QUESTÃO 24

O computador com sistema operacional Windows XP de um usuário está com diversos programas na modalidade multitarefa em concorrência. Um atalho de teclado permite alternar o acesso aos programas abertos por meio do uso de uma janela de diálogo. Esse atalho é:

- (A) Alt + Tab
- (B) Alt + End
- (C) Alt + Ins
- (D) Ctrl + End
- (E) Ctrl + Tab

QUESTÃO 25






A um texto digitado no Word 2010 BR, foi aplicado inicialmente o alinhamento à direita. Posteriormente, após o mesmo texto

ser selecionado, foi acionado o ícone , com a finalidade de aplicar outro tipo de alinhamento. Esse novo alinhamento é conhecido como:

- (A) distribuído.
- (B) estilizado.
- (C) centralizado.
- (D) otimizado.
- (E) justificado.


QUESTÃO 26

No Word 2010 BR, o acionamento de um determinado ícone tem por objetivo alterar a cor do texto. Esse ícone é:

- (A) 
- (B) 
- (C) 
- (D) 
- (E) 

QUESTÃO 27

A planilha abaixo foi criada no Excel 2010 BR:

	A	B	C	D	E	F	G
1	PREFEITURA DE						
2	Três Rios						
3	CIDADE EMPREENDEDORA						
4							
5							
6							
7							
8	EDUCAÇÃO - 2015						
9	#	Nome	Nota 1	Nota 2	Nota 3	Média	Situação
10	1	Claudia	4,7	4,8	5,3	4,9	INSUFICIENTE
11	2	Danton	4,3	5,4	5,5	5,1	SUFICIENTE
12	3	Genu	6,0	5,5	3,5	5,0	SUFICIENTE

- Em F10 foi inserida uma expressão para determinar a média aritmética entre as notas mostradas nas células C10, D10 e E10. Procedimento análogo foi adotado para determinar os valores mostrados nas células F11 e F12.
- Em G10 foi inserida uma expressão usando a função SE que mostra "SUFICIENTE" se a média em F10 é maior ou igual a 5 e "INSUFICIENTE", caso contrário. Procedimento semelhante foi adotado para as células G11 e G12.

Nessas condições, as expressões inseridas em F10 e G12 foram respectivamente:

- (A) =MÉDIA(C10:E10) e =SE(F12>=5;"INSUFICIENTE"; "SUFICIENTE")
- (B) =MÉDIA(C10;E10) e =SE(F12<=5;"SUFICIENTE"; "INSUFICIENTE")
- (C) =MÉDIA(C10:E10) e =SE(F12<=5;"SUFICIENTE"; "INSUFICIENTE")
- (D) =MÉDIA(C10;E10) e =SE(F12>=5;"INSUFICIENTE"; "SUFICIENTE")
- (E) =MÉDIA(C10:E10) e =SE(F12>=5;"SUFICIENTE"; "INSUFICIENTE")

QUESTÃO 28

Para salvar uma planilha no Excel 2010 BR, um usuário pode acionar um ícone ou, como alternativa, pode executar um atalho de teclado. O ícone e o atalho de teclado são respectivamente:

- (A) e Ctrl + S
- (B) e Ctrl + S
- (C) e Ctrl + B
- (D) e Ctrl + B
- (E) e Ctrl + B

QUESTÃO 29

Redes de computadores possibilitam a uma máquina conectada à internet baixar de sites especializados as atualizações de programas antivírus, como o Avast, por exemplo. No contexto da informática, essa atividade recebe a seguinte denominação:

- (A) download
- (B) downsize
- (C) upgrade
- (D) upload
- (E) upsize

QUESTÃO 30

Em softwares de correio eletrônico como o MSOffice Outlook, e nas infraestruturas de e-mail embutidas em sites na forma de WebMails, como o Gmail, as mensagens provenientes da internet são armazenadas num recurso conhecido como Caixa de:

- (A) Mensagens.
- (B) Enviados.
- (C) Entrada.
- (D) Saída.
- (E) Lidos.

CONHECIMENTOS ESPECÍFICOS**QUESTÃO 31**

A respeito dos arquivos, é correto afirmar que:

- (A) os documentos de arquivo são acumulados por pessoas físicas e pessoas jurídicas públicas ou privadas com intenções essencialmente administrativas.
- (B) os documentos de arquivo por questões de garantia da conclusão dos procedimentos a que atendem, podem ser reproduzidos em vários exemplares.
- (C) os documentos de arquivos são reunidos a priori com intenções históricas e culturais.
- (D) uma coleção de documentos históricos é também considerada arquivo.
- (E) os documentos de arquivo são reunidos por coleção de documentos históricos colecionados por várias pessoas.

QUESTÃO 32

NÃO corresponde a uma função arquivística:

- (A) produção.
- (B) eliminação.
- (C) classificação.
- (D) avaliação.
- (E) difusão.

QUESTÃO 33

Dentre os órgãos de documentação e as características de seus acervos, a única que pode ser atribuída somente aos museus é a:

- (A) organicidade.
- (B) unicidade.
- (C) tridimensionalidade.
- (D) interdisciplinaridade.
- (E) cumulatividade.

QUESTÃO 34

Após esgotar todo o seu valor jurídico-administrativo, os documentos de arquivo:

- (A) são transferidos ao arquivo intermediário.
- (B) devem ser eliminados.
- (C) são transferidos ao arquivo permanente.
- (D) podem ser recolhidos ao arquivo permanente.
- (E) permanecerão no arquivo intermediário.

QUESTÃO 35

As jaquetas são exemplo de gênero documental:

- (A) filmográfico.
- (B) informático.
- (C) cartográfico.
- (D) iconográfico.
- (E) micrográfico.

QUESTÃO 36

Caderno, rascunho, parecer, relatório de atividades, filme diazo e microfilmagem são respectivamente exemplos de:

- (A) forma, formato, tipo, espécie, suporte, gênero.
- (B) suporte, forma, espécie, tipo, gênero, técnica de reprodução.
- (C) suporte, estágio documental, tipo, espécie, suporte, gênero.
- (D) gênero, formato, tipo, espécie, suporte, forma.
- (E) formato, forma, espécie, tipo, suporte, técnica de reprodução.

QUESTÃO 37

Com relação aos documentos que possuem classificação de sigilo, podem ter seu prazo de restrição de acesso prorrogado os:

- (A) reservados, confidenciais, secretos e ultrassecretos.
- (B) confidenciais, secretos e ultrassecretos, somente.
- (C) secretos e ultrassecretos, somente.
- (D) ultrassecretos, somente.
- (E) reservados e confidenciais, somente.

QUESTÃO 38

A representação que assumem os documentos nos mais variados suportes é conhecida como:

- (A) espécie.
- (B) tipologia.
- (C) gênero.
- (D) forma.
- (E) formato.

QUESTÃO 39

Com relação à gestão de documentos, pode-se afirmar que:

- (A) atua em todas as fases do ciclo de vida documental por este ser a sua base teórica.
- (B) um de seus objetivos é a proteção aos documentos históricos para a organização e a sociedade por meio da avaliação.
- (C) implementa as atividades de arranjo e descrição de documentos para todo o ciclo de vida documental.
- (D) possibilita a implantação de sistemas de protocolo nos arquivos correntes, intermediário e permanente.
- (E) um de seus objetivos é a mudança de assuntos nos documentos.

QUESTÃO 40

As correspondências particulares recebidas pelo protocolo são:

- (A) distribuídas diretamente aos respectivos destinatários.
- (B) abertas, classificadas e encaminhadas para registro nos arquivos correntes, em seguida distribuídas.
- (C) abertas, registradas e distribuídas aos destinatários.
- (D) abertas e enviadas ao arquivo para classificação e posteriormente distribuídas aos destinatários.
- (E) abertas, lidas, classificadas, registradas e distribuídas aos destinatários.

QUESTÃO 41

Corresponde à primeira etapa da operação de arquivamento:

- (A) classificação.
- (B) análise.
- (C) arquivamento.
- (D) ordenação.
- (E) inspeção.

QUESTÃO 42

O método de arquivamento que adota uma ordem alfabética rigorosa de assuntos distribuídos de maneira hierarquizada é chamado:

- (A) variadex.
- (B) duplex.
- (C) unitermo.
- (D) enciclopédico.
- (E) dicionário.

QUESTÃO 43

Marque a alternativa correta a respeito das características e funções e finalidades da Tabela de Temporalidade e Destinação.

- (A) Sua criação compete ao arquivista da instituição.
- (B) É utilizada no processo de classificação dos documentos.
- (C) Esquematiza o ciclo de vida dos documentos e suas respectivas destinações.
- (D) Determina quais documentos devem ser digitalizados.
- (E) É utilizada para definir o trâmite dos documentos nas três fases do ciclo de vida documental.

QUESTÃO 44

No processo de eliminação de documentos públicos, a autoridade que aprova a lista dos documentos a serem eliminados é:

- (A) o Arquivo Nacional.
- (B) a instituição arquivística pública na esfera competente.
- (C) o CONARQ.
- (D) o SINAR.
- (E) a comissão permanente de avaliação de documentos.

QUESTÃO 45

Constituem os arquivos especiais:

- (A) microfichas, microfilmes, películas cinematográficas, cd, DVD, disquete.
- (B) mapas, plantas, perfis, pinturas, desenhos, partituras.
- (C) microfilmes, discos, filmes, disquetes, jornais.
- (D) microfilmes, clichês, discos, fitas, mapas, fotografias.
- (E) arquivos médicos, de engenharia, de jornais.

QUESTÃO 46

O processo de avaliação documental nas instituições públicas é de competência exclusiva da(o):

- (A) comissão de avaliação.
- (B) arquivista.
- (C) Arquivo Nacional.
- (D) CONARQ.
- (E) SINAR.

QUESTÃO 47

O arranjo nos arquivos permanentes é baseado nos seguintes princípios arquivísticos:

- (A) Respeito aos Fundos e Unicidade.
- (B) Proveniência e Ordem Original.
- (C) Respeito aos Fundos e Organicidade.
- (D) Organicidade e Cumulatividade.
- (E) Unicidade e Ordem Original.

QUESTÃO 48

Representa o produto resultante da atividade de descrição nos arquivos permanentes:

- (A) quadro de arranjo.
- (B) tabela de temporalidade.
- (C) instrumento de pesquisa.
- (D) relatório topográfico.
- (E) difusão cultural.

QUESTÃO 49

O aparelho utilizado para a medição simultânea dos níveis de temperatura e umidade é conhecido como:

- (A) anemômetro.
- (B) termoigrógrafo.
- (C) barômetro.
- (D) termoigrômetro.
- (E) termômetro especializado.

QUESTÃO 50

A respeito das tecnologias de reprodução e armazenamento de documentos, é correto afirmar que:

- (A) os originais dos documentos ainda em trânsito, microfilmados poderão ser eliminados antes de serem arquivados.
- (B) documentos digitalizados são aqueles produzidos, tramitados e armazenados em meio eletrônico.
- (C) a digitalização é largamente aplicada aos arquivos e faz uso dos documentos escaneados para efeito de prova administrativa e/ou jurídica.
- (D) o GED é uma técnica de digitalização que utiliza um hardware e um software para gerenciar documentos eletronicamente, permitindo após o processo de digitalização a eliminação imediata dos originais em papel para economia de espaço físico nos arquivos institucionais.
- (E) a digitalização de documentos adota as mesmas técnicas e procedimentos de um sistema de gestão documental aplicado aos documentos convencionais.

