

MINISTÉRIO DA SAÚDE / INCA

EDITAL Nº 04

CONCURSO PÚBLICO

GRUPO 03

Carreira: **Planejamento, Gestão e Infraestrutura**

Cargo: **Nível Superior – Analista em C&T Júnior L - I**

Área de Atuação: **Engenharia de Infraestrutura – Engenharia Civil**

CÓDIGO
P14
TARDE



T

Verifique se esta LETRA é a mesma do seu Cartão de Respostas.

DE ACORDO COM O EDITAL, O CANDIDATO QUE FIZER PROVA DE LETRA DIFERENTE SERÁ ELIMINADO.

TRANSCREVA, EM ESPAÇO DETERMINADO NO SEU CARTÃO DE RESPOSTAS, A FRASE DE HERÁCLITO PARA EXAME GRAFOTÉCNICO

“Grandes resultados requerem grandes ambições.”

ATENÇÃO

● DURAÇÃO DA PROVA: 5 horas e 30 minutos.

● ESTE CADERNO CONTÉM 60 (SESSENTA) QUESTÕES DE MÚLTIPLA ESCOLHA, CADA UMA COM 5 ALTERNATIVAS DE RESPOSTA – A, B, C, D e E – CONFORME DISPOSIÇÃO ABAIXO, DISCURSIVA E REDAÇÃO.

Disciplinas	Quantidade de questões	Valor de cada questão
Conhecimento Básico		
- Língua Portuguesa	10	0,25
- Ética e Legislação da Gestão Pública	10	0,5
- Política do SUS	10	0,25
Conhecimento Específico	30	1

● VERIFIQUE SE ESTE MATERIAL ESTÁ EM ORDEM. CASO CONTRÁRIO, NOTIFIQUE IMEDIATAMENTE O FISCAL.

● RESERVE OS 30 (TRINTA) MINUTOS FINAIS PARA MARCAR SEU CARTÃO DE RESPOSTAS.

LEIA AS INSTRUÇÕES ABAIXO

- Após identificado e instalado na sala, você não poderá consultar qualquer material enquanto aguarda o horário de início da prova.
- Siga, atentamente, a forma correta de preenchimento do Cartão de Respostas, conforme estabelecido no próprio.
- Não haverá substituição do Cartão de Respostas e/ou da(s) Folha(s) de Resposta(s) da Prova Discursiva e Redação por erro do candidato.

Por motivo de segurança:

- O candidato só poderá retirar-se definitivamente da sala após 1 (uma) hora do início efetivo da prova;
- Somente faltando 1 (uma) hora para o término da prova, o candidato poderá retirar-se levando o seu Caderno de Questões;
- O candidato que optar por se retirar sem levar o seu Caderno de Questões não poderá copiar suas respostas por qualquer meio. O descumprimento dessa determinação será registrado em ata e acarretará a eliminação do candidato; e
- Ao terminar a prova, o candidato deverá se retirar imediatamente do local, não sendo possível nem mesmo a utilização dos banheiros e/ou bebedouros.
- Ao terminar a prova, é de sua responsabilidade entregar ao fiscal o Cartão de Respostas assinado e a(s) Folha(s) de Respostas da Prova Discursiva e Redação. Não se esqueça dos seus pertences.
- A Prova Discursiva e a Redação deverão ser desenvolvidas na(s) Folha(s) de Resposta(s), personalizada(s) e desidentificada(s) pelo candidato, que deverá destacar o canhoto que contém seus dados cadastrais. A(s) Folha(s) de Resposta(s) da Prova Discursiva e Redação é(são) o(s) único(s) documento(s) válido(s) para a correção.
- O preenchimento da(s) Folha(s) de Resposta(s) será de sua inteira responsabilidade.
- Os três últimos candidatos deverão permanecer na sala até que o último candidato entregue o Cartão de Respostas e a(s) Folha(s) de Resposta(s) da Prova Discursiva e Redação.
- O fiscal de sala não está autorizado a alterar quaisquer dessas instruções. Em caso de dúvida, solicite a presença do coordenador local.

BOA PROVA!

www.funcab.org

Texto para responder às questões de 01 a 10.

Natal na Ilha do Nanja

Na Ilha do Nanja, o Natal continua a ser maravilhoso. Lá ninguém celebra o Natal como o aniversário do Menino Jesus, mas sim como o verdadeiro dia do seu nascimento. Todos os anos o Menino Jesus nasce, naquela data, como nascem no horizonte, todos os dias e todas as noites, o sol e a lua e as estrelas e os planetas. Na Ilha do Nanja, as pessoas levam o ano inteiro esperando pela chegada do Natal. Sofrem doenças, necessidades, desgostos como se andassem sob uma chuva de flores, porque o Natal chega e, com ele, a esperança, o consolo, a certeza do Bem, da Justiça, do Amor. Na Ilha do Nanja, as pessoas acreditam nessas palavras que antigamente se denominavam “substantivos próprios” e se escreviam com letras maiúsculas. Lá, elas continuam a ser denominadas e escritas assim.

Na Ilha do Nanja, pelo Natal, todos vestem uma roupinha nova – mas uma roupinha barata, pois é gente pobre – apenas pelo decore de participar de uma festa que eles acham ser a maior da humanidade. Além da roupinha nova, melhoram um pouco a janta, porque nós, humanos, quase sempre associamos à alegria da alma um certo bem-estar físico, geralmente representado por um pouco de doce e um pouco de vinho. Tudo, porém, moderadamente, pois essa gente da Ilha do Nanja é muito sóbria.

Durante o Natal, na Ilha do Nanja, ninguém ofende o seu vizinho – antes, todos se saúdam com grande cortesia, e uns dizem e outros respondem no mesmo tom celestial: “Boas-Festas! Boas-Festas!”

E ninguém pede contribuições especiais, nem abonos nem presentes – mesmo porque se isso acontecesse, Jesus não nasceria. Como podia Jesus nascer num clima de tal sofreguidão? Ninguém pede nada. Mas todos dão qualquer coisa, uns mais, outros menos, porque todos se sentem felizes, e a felicidade não é pedir nem receber: a felicidade é dar. Pode-se dar uma flor, um pintinho, um caramujo, um peixe – trata-se de uma ilha, com praias e pescadores! – uma cestinha de ovos, um queijo, um pote de mel... É como se a Ilha toda fosse um presepe. Há mesmo quem dê um carneirinho, um pombo, um verso! Foi lá que me ofereceram, certa vez, um raio de sol!

Na Ilha do Nanja, passa-se o ano inteiro com o coração repleto das alegrias do Natal. Essas alegrias só esmorecem um pouco pela Semana Santa, quando de repente se fica em dúvida sobre a vitória das Trevas e o fim de Deus. Mas logo rompe a Aleluia, vê-se a luz gloriosa do Céu brilhar de novo, e todos voltam para o seu trabalho a cantar, ainda com lágrimas nos olhos.

Na Ilha do Nanja é assim. Árvores de Natal não existem por lá. As crianças brincam com pedrinhas, areia, formigas: não sabem que há pistolas, armas nucleares, bombas de 200 megatons. Se soubessem disso, choravam. Lá também ninguém lê histórias em quadrinhos. E tudo é muito mais maravilhoso, em sua ingenuidade. Os mortos vêm cantar com os vivos, nas grandes festas, porque Deus imortaliza, reúne, e faz deste mundo e de todos os outros uma coisa só.

É assim que se pensa na Ilha do Nanja, onde agora se festeja o Natal.

(MEIRELES, Cecília. *Quadrante 1*. Rio de Janeiro: Editora do Autor, 4 ed. 1966, p. 169.)

Questão 01

Acerca da compreensão do texto, são feitas as afirmativas abaixo.

- I. Na Ilha do Nanja, o Natal continua a ser maravilhoso porque é comemorado como o dia do nascimento do Menino Jesus, e não como o dia de seu aniversário.
- II. Na Ilha do Nanja, as pessoas sofrem doenças, necessidades, desgostos, mas protegidas por uma chuva de flores, de modo que, com a chegada do Natal, também chegam a esperança, o consolo, a certeza do Bem, da Justiça e do Amor.
- III. Na Ilha do Nanja, pelo Natal, as pessoas, além de vestirem uma roupinha nova, pelo decoro de uma festa considerada a maior da humanidade, também capricham na refeição, por associar certo bem-estar físico à alegria da alma.
- IV. Na Ilha do Nanja, não se pedem contribuições especiais, nem abonos nem presentes, até porque Jesus não nasceria, caso as pessoas agissem com sofreguidão.
- V. Na Ilha do Nanja, as alegrias do Natal enchem os corações o ano inteiro, diminuindo um pouco apenas pela Semana Santa, por ocasião do surgimento repentino da dúvida sobre a vitória das Trevas e o fim de Deus.
- VI. Na Ilha do Nanja, as crianças brincam com pedrinhas, areia, formigas por não haver Árvores de Natal e por não saberem que há pistolas, armas nucleares, bombas de 200 megatons.

Das afirmativas acima, estão de acordo com o texto apenas:

- A) I, III, IV e VI.
- B) II, IV e VI.
- C) II, III e V.
- D) I, II e VI.
- E) I, III, IV e V.

Questão 02

Das modificações feitas na redação de cada fragmento abaixo transcrito do texto, alterou-se substancialmente o sentido original em:

- A) “Na Ilha do Nanja, as pessoas acreditam nessas palavras que antigamente se denominavam ‘substantivos próprios’ e se escreviam com letras maiúsculas. Lá, elas continuam a ser denominadas e escritas assim.” (§ 1) / Na Ilha do Nanja, as pessoas acreditam nessas palavras que antigamente se denominavam “substantivos próprios” e se escreviam com letras maiúsculas, de modo que lá elas continuam a ser denominadas e escritas assim.
- B) “Durante o Natal, na Ilha do Nanja, ninguém ofende o seu vizinho – antes, todos se saúdam com grande cortesia, e uns dizem e outros respondem no mesmo tom celestial: ‘Boas-Festas! Boas-Festas!’.” (§ 3) / Durante o Natal, na Ilha do Nanja, ninguém ofende o seu vizinho – pelo contrário, todos se saúdam com grande cortesia, dizendo uns e respondendo outros no mesmo tom celestial: “Boas-Festas! Boas-Festas!”.
- C) “Ninguém pede nada. Mas todos dão qualquer coisa, uns mais, outros menos, porque todos se sentem felizes, e a felicidade não é pedir nem receber: a felicidade é dar.” (§ 4) / Ainda que ninguém peça nada, todos dão qualquer coisa, uns mais, outros menos, porquanto todos se sentem felizes, pois a felicidade não é pedir nem receber, mas dar.
- D) “Mas logo rompe a Aleluia, vê-se a luz gloriosa do Céu brilhar de novo, e todos voltam para o seu trabalho a cantar, ainda com lágrimas nos olhos.” (§ 5) / Mas logo que rompe a Aleluia, vê-se a luz gloriosa do Céu brilhar de novo; pois todos voltam para o seu trabalho a cantar, ainda que com lágrimas nos olhos.
- E) “Os mortos vêm cantar com os vivos, nas grandes festas, porque Deus imortaliza, reúne, e faz deste mundo e de todos os outros uma coisa só.” (§ 6) / Como Deus imortaliza, reúne, e faz deste mundo e de todos os outros uma coisa só, os mortos vêm cantar com os vivos, nas grandes festas.

Questão 03

Quanto à tipologia textual, pode-se afirmar que o texto tem, predominantemente, a característica discursiva de uma:

- A) narração, por relatar uma autêntica festa natalina, ocorrida numa ilha imaginária, num tempo não definido, envolvendo personagens em mudanças de situação, numa relação de tempo anterior para posterior expressa no subsistema do pretérito.
- B) argumentação, por defender com argumentos convincentes de autoridade, e ainda fundamentados em provas concretas e dados estatísticos, a tese de que a festa do Natal é uma utopia, fazendo sentido apenas se festejada na ilha do nunca.
- C) descrição, por se tratar de um texto figurativo, apresentando ocorrências simultâneas, sem relação temporal cronológica, que busca retratar as características físicas e psicológicas dos moradores da Ilha do Nanja, durante a celebração da festa do Natal.
- D) injunção, por estruturar-se na forma de comandos direcionados ao leitor, em verbalização imperativa, para ensinar os procedimentos básicos para a celebração de uma autêntica festa de Natal.
- E) dissertação, por analisar e interpretar a realidade, com os enunciados em relações lógicas e verbos no tempo do presente, objetivando, por meio de recursos alegóricos, discorrer sobre os valores que devem ser resguardados para uma autêntica festa de Natal.

Questão 04

“Como podia Jesus nascer num clima de tal SOFREGUIDÃO?” (§4)

A opção em que estão expressos, respectivamente, um sinônimo e um antônimo do termo destacado na oração acima é:

- A) avidez / arrependimento.
- B) cobiça / desprendimento.
- C) ambição / padecimento.
- D) desapego / ganância.
- E) impassibilidade / inquietação.

Questão 05

“Árvores de Natal não existem por lá.” (§ 6)

Das alterações feitas na redação da frase transcrita acima, pode-se dizer que contraria a norma da língua culta quanto à concordância verbal a seguinte:

- A) Árvores de Natal não têm havido por lá.
- B) Árvores de Natal não deve haver por lá.
- C) Árvores de Natal não havia por lá.
- D) Árvores de Natal não podiam existir por lá.
- E) Árvores de Natal não hão de existir por lá.

Questão 06

“Se soubessem disso, choravam.” (§ 6)

Das alterações feitas na redação do período transcrito acima, aquela que terá pouca possibilidade de ocorrer, em virtude da relação semântica inadequada entre os tempos verbais, é:

- A) Se soubessem disso, certamente chorariam.
- B) Se soubessem disso, com certeza chorarão.
- C) Se souberem disso, vão chorar.
- D) Caso saibam disso, poderão chorar.
- E) Sabendo disso, irão chorar.

Questão 07

“... quase sempre associamos à alegria da alma um certo bem-estar físico...” (§ 2)

Para que o emprego do acento indicativo da crase seja considerado um desvio contra o padrão culto da língua, o fragmento transcrito acima tem de ser redigido da seguinte forma:

- A) quase sempre associamos àquela alegria da alma um certo bem-estar físico.
- B) quase sempre associamos um certo bem-estar físico à que pode ser considerada uma alegria da alma.
- C) quase sempre associamos à nossa alegria da alma um certo bem-estar físico.
- D) quase sempre associamos um certo bem-estar físico à toda alegria da alma.
- E) quase sempre associamos até à constante alegria da alma um certo bem-estar físico.

Questão 08

“É assim que se pensa na Ilha do Nanja, onde agora se festeja o Natal.” (§ 7)

Das alterações feitas na oração adjetiva do período acima, constitui um desvio de regência em relação ao padrão culto da língua a seguinte:

- A) É assim que se pensa na Ilha do Nanja, à qual o Natal é festejado com alegria.
- B) É assim que se pensa na Ilha do Nanja, aonde irei para festejar o próximo Natal.
- C) É assim que se pensa na Ilha do Nanja, de cujo Natal sempre trago boas recordações.
- D) É assim que se pensa na Ilha do Nanja, acerca da qual muito se tem falado por causa do Natal.
- E) É assim que se pensa na Ilha do Nanja, para onde se dirigem as pessoas de boa vontade para festejar o Natal.

Questão 09

“Todos os anos o Menino Jesus nasce, naquela data, como nascem no horizonte, todos os dias e todas as noites, o sol e a lua e as estrelas e os planetas.” (§ 1)

Considerando-se as funções sintáticas de termos e de orações e os processos sintáticos de subordinação e coordenação, a respeito do período transcrito acima é um equívoco afirmar que:

- A) o constituinte sujeito da 1ª oração “Todos os anos o Menino Jesus nasce, naquela data” é “o Menino Jesus”.
- B) o período é composto por subordinação, constituído de duas orações.
- C) a 2ª oração “como nascem no horizonte, todos os dias e todas as noites, o sol e a lua e as estrelas e os planetas.” classifica-se como subordinada adverbial conformativa.
- D) o constituinte sujeito da 2ª oração é “o sol e a lua e as estrelas e os planetas”.
- E) em ambas as orações, o predicado classifica-se como verbal.

Questão 10

“Lá, elas continuam a ser denominadas e escritas assim.” (§ 1)

O período transcrito acima, se for redigido na voz ativa, terá a seguinte redação:

- A) Lá, elas serão denominadas e escritas continuamente assim.
- B) Lá, continuam elas a ser denominadas e escritas assim.
- C) Lá, continuam a denominá-las e escrevê-las assim.
- D) Lá, elas denominar-se-ão e escrever-se-ão continuamente assim.
- E) Lá, continuar-se-á a denominá-las e escrevê-las assim.

- Ética e Legislação da Gestão Pública

Questão 11

O direito de associação, assegurado como fundamental no artigo 5º, incisos XVII, XVIII, XIX, XX e XXI da Constituição Federal vigente:

- A) declara que a associação é permitida para fins lícitos, entendendo-se como finalidades ilícitas somente as expressamente previstas na lei penal.
- B) admite que sejam criadas associações cujo objetivo seja o treinamento de seus membros para finalidades bélicas.
- C) não contempla o direito de criar associações, mas apenas o de aderir às já existentes e voltadas a fins lícitos.
- D) não veda a interferência da Administração Pública no exercício desse direito individual, que poderá ocorrer imotivadamente.
- E) ao mesmo tempo em que estabelece a liberdade de associar-se ou de criar associação, garante que ninguém poderá ser compelido a associar-se.

Questão 12

Além de obedecer aos princípios constitucionais que regem sua atividade, a Administração Pública Direta e Indireta de qualquer dos Poderes da União, dos Estados, do Distrito Federal e dos Municípios deve ainda observar a regra que:

- A) estabelece que os cargos, empregos e funções públicas são acessíveis exclusivamente aos brasileiros que preencham os requisitos estabelecidos em lei.
- B) proíbe a associação sindical dos servidores públicos vinculados a prestação de serviços públicos considerados, por sua natureza, essenciais.
- C) proíbe toda e qualquer contratação de agentes públicos sem a realização prévia de concurso de provas ou de provas e títulos.
- D) estabelece que a investidura em cargo ou emprego público depende de aprovação prévia em concurso público, ressalvadas as nomeações para cargo em comissão.
- E) exige, para contratação de obras, serviços e compras de qualquer natureza, processo de licitação pública que assegure igualdade aos concorrentes.

Questão 13

Segundo as regras que regem o processo administrativo no âmbito da Administração Pública Federal:

- A) tal processo pode sofrer impulsão de ofício, independentemente da atuação do interessado.
- B) não se admite pedido de uma pluralidade de interessados em um único requerimento.
- C) o desatendimento da intimação importa no reconhecimento da verdade dos fatos imputados.
- D) não é possível adotar providências acauteladoras sem a prévia manifestação do interessado.
- E) os prazos expressos em dias contam-se incluindo-se apenas os dias úteis.

Questão 14

A suspensão do cumprimento dos contratos administrativos:

- A) é possível a qualquer tempo, desde que ocorra atraso no cumprimento das obrigações do contratante ou atraso no pagamento devido pela Administração.
- B) é possível, podendo ocorrer apenas na hipótese de atraso no cumprimento das obrigações pelo contratante e em favor da Administração Pública.
- C) não é possível porque, gozando a Administração Pública de prerrogativas, cabe a ela unicamente promover a rescisão contratual.
- D) não é possível porque é vedado ao contratado, em qualquer hipótese, paralisar o cumprimento do serviço contratado, cabendo-lhe o direito de cobrar valores devidos.
- E) é possível para o contratado desde que, ausente justa causa, a Administração Pública atrase o pagamento em prazo superior a noventa dias.

Questão 15

Se um médico é agente público, atende pela rede pública do Sistema Único de Saúde e, para realizar o atendimento de paciente de tal rede, exige-lhe ainda o valor de mil reais, tal ato configura o crime de:

- A) prevaricação.
- B) peculato.
- C) concussão.
- D) corrupção ativa.
- E) condescendência criminosa.

Questão 16

Um profissional de saúde que, na condição de agente público, fraudas suas assinaturas no documento de controle de frequência para, mesmo sem trabalhar, receber sua remuneração:

- A) não pratica ato de improbidade administrativa porque tais atos só podem ser praticados por agentes políticos.
- B) pratica ato de improbidade administrativa que importa enriquecimento ilícito, mesmo não sendo agente político.
- C) não pratica ato de improbidade administrativa porque não é agente público da Administração Pública central.
- D) pratica ato de improbidade administrativa passível de sanção de pagamento de multa civil de até duas vezes o valor do acréscimo patrimonial.
- E) pratica ato de improbidade administrativa passível de aplicação da sanção de perda do cargo não cumulável com a aplicação de multa civil.

Questão 17

A Lei que dispõe sobre os procedimentos a serem observados com o fim de garantir o acesso a informações (Lei nº 12.527/2011):

- A) subordina com seu regime apenas os agentes públicos, as entidades e os órgãos da União Federal, uma vez que se trata de lei federal.
- B) permite indeferimento de acesso a informações sem exposição das razões sempre que a autoridade entender necessário.
- C) determina que a divulgação de informações pessoais depende sempre de prévio consentimento da pessoa a quem estas se referem.
- D) subordina com seu regime também as autarquias, as fundações públicas e as sociedades de economia mista municipais.
- E) permite recurso direto à Controladoria-Geral da União em caso de negativa de acesso à informação por entidades federais.

Questão 18

Segundo o Código de Ética Profissional do Servidor Público Civil do Poder Executivo Federal (Decreto nº 1.171/1994):

- A) o trabalho desenvolvido pelo servidor público é socialmente relevante e deve significar acréscimo ao bem-estar do próprio servidor, já que este integra a sociedade.
- B) fatos e atos verificados na vida privada do servidor não poderão influir em seu conceito funcional porque a vida privada não integra a função pública.
- C) qualquer ausência do servidor de seu local de trabalho, ainda que justificada, é fator de desmoralização e comprometimento do serviço público.
- D) as penas aplicáveis ao servidor público pela Comissão de Ética, que deverão ser motivadas, são as penas de censura, remoção ou perda da função ou cargo público.
- E) para fins de apuração do comprometimento ético, entende-se por servidor público unicamente aquele que, por força de lei ou contrato, preste serviços de natureza permanente.

Questão 19

Na estrutura organizacional do Ministério da Saúde, figura como órgão de assistência direta e imediata ao Ministro de Estado da Saúde:

- A) Secretaria de Atenção à Saúde.
- B) Departamento de Logística em Saúde.
- C) Secretaria Especial de Saúde Indígena.
- D) Agência Nacional de Vigilância Sanitária.
- E) Conselho de Saúde Suplementar.

Questão 20

Em conformidade com o regime jurídico dos servidores públicos civis da União, das autarquias e das fundações públicas federais (Lei nº 8.112/1990), a posse do servidor:

- A) sendo ato pessoal, não será realizável mediante procuração.
- B) ocorrerá para provimento de cargos em que haja ou não nomeação.
- C) não dependerá de prévia inspeção médica oficial.
- D) dar-se-á pela assinatura de termo inalterável em todo seu conteúdo.
- E) não ocorrendo até 30 dias após o ato de provimento, torna-lo-á sem efeito.

Questão 21

Assinale a alternativa que apresenta uma das ações previstas no Pacto em Defesa do SUS.

- A) Garantir o direito à saúde e reduzir desigualdades sociais e territoriais, ampliando a visão nacional dos problemas.
- B) Potencializar o processo de descentralização, fortalecendo estados e municípios para exercerem seus papéis de gestores.
- C) Racionalizar os gastos e otimizar os recursos, possibilitando ganho em escala nas ações e serviços de saúde de abrangência regional.
- D) Articular e apoiar a mobilização social pela promoção e desenvolvimento da cidadania, tendo a questão da saúde como um direito.
- E) Garantir a integralidade na atenção à saúde, ampliando o conceito de cuidado.

Questão 22

De acordo com os parâmetros estabelecidos para o planejamento e avaliação do estabelecimento de saúde de Alta Complexidade em Oncologia, é correto afirmar:

- A) Calcula-se que a incidência média de câncer hematológico seja em torno de 15% do total de cânceres estimados, exceto o câncer de pele (não melanoma).
- B) O atendimento mínimo previsto para um Serviço de Oncologia Pediátrica é de 40 casos novos/ano de tumores sólidos e de origem hematopoética.
- C) O estabelecimento de saúde responsável por uma população de 500.000 (quinhentos mil) habitantes deverá realizar, no mínimo, 650 cirurgias de câncer por ano.
- D) Considera-se que a média de câncer pediátrico (0 a 18 anos) é de 5% a 10% do total de cânceres estimados, exceto o câncer de pele.
- E) Estima-se a realização de 2.000 a 4.000 procedimentos de quimioterapia por ano para cada 1.000 novos casos de câncer.

Questão 23

Considerando as disposições legais acerca do primeiro tratamento do paciente com neoplasia maligna comprovada, analise as afirmativas a seguir.

- I. O prazo previsto para o início do tratamento poderá ser reduzido pelo profissional médico responsável, conforme a necessidade terapêutica do caso registrada em prontuário único.
- II. Considera-se efetivamente iniciado o primeiro tratamento da neoplasia maligna comprovada a partir da realização de terapia cirúrgica ou do início da radioterapia ou quimioterapia.
- III. O prazo estabelecido para o início do tratamento se aplica aos casos de câncer de tireoide sem fatores clínicos pré-operatórios prognósticos de alto risco.

Assinale:

- A) se somente a afirmativa I estiver correta.
- B) se somente a afirmativa II estiver correta.
- C) se somente a afirmativa III estiver correta.
- D) se somente as afirmativas I e II estiverem corretas.
- E) se somente as afirmativas II e III estiverem corretas.

Questão 24

Marque a alternativa que apresenta uma das diretrizes relacionadas à promoção da saúde no âmbito da Política Nacional para a Prevenção e Controle do Câncer.

- A) Tratamento oportuno e seguro dos pacientes diagnosticados com câncer e lesões precursoras.
- B) Desenvolvimento de ações e políticas públicas para enfrentamento do tabagismo, do consumo de álcool, do sobrepeso, da obesidade e do consumo alimentar inadequado.
- C) Estruturação das ações de monitoramento e controle da qualidade dos exames de rastreamento.
- D) Fomento à eliminação ou redução da exposição aos agentes cancerígenos relacionados ao trabalho e ao ambiente.
- E) Atendimento multiprofissional a todos os usuários com câncer, com oferta de cuidado compatível a cada nível de atenção e evolução da doença.

Questão 25

Com base no disposto na Lei nº 8.142/1990, marque a assertiva correta.

- A) O Conselho de Saúde é um órgão colegiado composto majoritariamente por profissionais de saúde.
- B) Aos municípios é vedado estabelecer consórcios para a execução das ações e serviços de saúde, salvo em casos emergenciais.
- C) O principal critério para que os municípios recebam os recursos para as ações de saúde é que estes apresentem a Programação Pactuada.
- D) Cabe à Conferência de Saúde atuar na formulação e avaliação de estratégias e políticas públicas para a saúde.
- E) A representação dos usuários nos Conselhos e Conferências de Saúde deve ser paritária em relação ao conjunto dos demais segmentos.

Questão 26

Sobre a atuação das Comissões Intergestores (bipartite e tripartite), analise as afirmativas a seguir e marque a assertiva correta.

- A) As Comissões Intergestores são reconhecidas como foros de negociação e pactuação entre gestores, quanto aos aspectos operacionais do SUS.
- B) Uma das competências exclusivas das Comissões Intergestores Bipartite é decidir sobre os aspectos financeiros e administrativos da gestão compartilhada do SUS.
- C) Cabe à Comissão Intergestores Tripartite tratar de matérias referentes à saúde, declaradas de utilidade pública e de relevante função social.
- D) As comissões devem atuar na formulação de estratégias e no controle da execução da Política Nacional de Saúde.
- E) Entre as atribuições das Comissões Intergestores está a aprovação dos valores para a remuneração dos serviços de saúde.

Questão 27

Com base nas obrigações dos estabelecimentos de saúde habilitados como Centros de Assistência de Alta Complexidade em Oncologia (CACON) ou Unidade de Assistência de Alta Complexidade em Oncologia (UNACON), analise as afirmativas a seguir.

- I. A formação profissional oferecida pela UNACON deve incluir residência médica em Cancerologia Clínica e Radioterapia.
- II. Tanto o CACON como a UNACON devem submeter-se à regulação, ao monitoramento e à avaliação do Gestor Estadual e Municipal.
- III. O serviço de Radioterapia é obrigatório para os estabelecimentos habilitados como CACON e facultado para aqueles habilitados como UNACON.

Assinale:

- A) se somente a afirmativa I estiver correta.
- B) se somente a afirmativa II estiver correta.
- C) se somente a afirmativa III estiver correta.
- D) se somente as afirmativas I e II estiverem corretas.
- E) se somente as afirmativas II e III estiverem corretas.

Questão 28

O controle do câncer do colo do útero e da mama é uma das prioridades do seguinte acordo:

- A) Pacto de Gestão.
- B) Pacto pela Vida.
- C) Programação Pactuada Integrada.
- D) Plano Diretor de Regionalização.
- E) Pacto em Defesa do SUS.

Questão 29

A Lei nº 8.080/1990 prevê a criação de Comissões Intersetoriais, subordinadas ao Conselho Nacional de Saúde. Essas comissões têm a finalidade de:

- A) propor prioridades, métodos e estratégias para a formação e educação continuada dos recursos humanos do SUS.
- B) fixar diretrizes a respeito das regiões de saúde, distrito sanitário, integração de territórios, referência e contrarreferência.
- C) articular políticas e programas de interesse para a saúde, cuja execução envolva áreas não compreendidas no âmbito do SUS.
- D) definir diretrizes, de âmbito nacional, regional e intermunicipal, a respeito da organização das redes de ações e serviços de saúde.
- E) formular estratégias para o controle e monitoramento das ações e serviços de saúde nas três esferas de gestão.

Questão 30

De acordo com as disposições da Constituição Federal de 1988 acerca do Sistema Único de Saúde, analise as afirmativas abaixo.

- I. A saúde é apresentada na Constituição como um serviço de relevância pública e de responsabilidade de todos os níveis de governo.
- II. Uma das competências do SUS é incrementar, em sua área de atuação, o desenvolvimento científico e tecnológico.
- III. A execução das ações e serviços de saúde tem como principal base constitucional a descentralização político-administrativa.

Assinale:

- A) se somente a afirmativa I estiver correta.
- B) se somente a afirmativa II estiver correta.
- C) se somente a afirmativa III estiver correta.
- D) se somente as afirmativas I e II estiverem corretas.
- E) se as afirmativas I, II e III estiverem corretas.

CONHECIMENTO ESPECÍFICO

Questão 31

Foi especificado o seguinte revestimento da fachada de um estabelecimento assistencial de saúde, com sua respectiva composição de preço unitário:

Emboço ou massa única em argamassa industrializada, preparo mecânico e aplicação com equipamento de mistura e projeção de 1,5 m ³ /h de argamassa em panos de fachada com presença de vãos, espessura de 25 mm – m ²		
Descrição básica	Unid.	Quant.
Pedreiro	h	0,70
Servente	h	0,72
Argamassa industrializada	m ³	0,04
Tela metálica	m ²	0,15

Para a argamassa industrializada, foi obtida a seguinte composição de preço unitário:

Argamassa industrializada para revestimentos, mistura e projeção de 1,5 m ³ /h de argamassa – m ³		
Descrição básica	Unid.	Quant.
Operador de betoneira	h	4,25
Argamassa industrializada	kg	1900
Projedor de argamassa	CHP	0,70
Projedor de argamassa	CHI	3,60

Os seguintes preços dos insumos foram coletados:

Descrição básica	Unid.	Preço (R\$)
Pedreiro	h	25,00
Servente	h	20,00
Operador de betoneira	h	20,00
Tela metálica	m ²	10,00
Argamassa industrializada	kg	0,60
Projedor de argamassa	CHP	6,00
Projedor de argamassa	CHI	3,00

Sabendo-se que o custo de mão de obra já inclui os encargos sociais e que a área total a ser revestida é de 2.000 m², o custo estimado para esse serviço é:

- A) R\$ 156.000,00.
- B) R\$ 166.000,00.
- C) R\$ 176.000,00.
- D) R\$ 186.000,00.
- E) R\$ 196.000,00.

Considere as seguintes informações, relativas ao planejamento de um projeto, para responder da questão 32 até a 34:

Antecessora	Atividade	Predecessora
-	AT1	AT2
AT1	AT2	AT3
AT2	AT3	-
-	AT4	AT5
AT4	AT5	-

Atividade	Duração (meses)	Custo R\$
AT1	2	90.000,00
AT2	3	60.000,00
AT3	1	30.000,00
AT4	4	60.000,00
AT5	2	60.000,00

Considere que todos os custos são proporcionais aos prazos, todos os serviços começarão em suas datas mais cedo e não haverá atraso.

Questão 32

O progresso acumulado do projeto previsto ao final do quinto mês é:

- A) 80,00%.
- B) 73,33%.
- C) 60,00%.
- D) 51,67%.
- E) 40,00%.

Questão 33

Ao final do quarto mês do projeto, o desembolso acumulado previsto é de:

- A) R\$ 120.000,00.
- B) R\$ 155.000,00.
- C) R\$ 180.000,00.
- D) R\$ 190.000,00.
- E) R\$ 225.000,00.

Questão 34

Ao final do terceiro mês de projeto, o progresso acumulado previsto da atividade 4 é:

- A) 55%.
- B) 65%.
- C) 75%.
- D) 85%.
- E) 95%.

Questão 35

Um terreno retangular de dimensões de 20 m por 60 m teve construído em todo o seu perímetro um muro com altura total de 2 m. Consultada a composição de preço unitário do m³ da argamassa traço 1:5 (cimento e areia grossa) para chapisco convencional, preparo mecânico com betoneira 250 litros, verificou-se que o consumo de cimento CP II-32 é de 281,25 kg. Desprezando-se qualquer abertura no muro e considerando-se que a espessura média desse chapisco é de 1 cm, o número de sacos de cimento com 50 kg necessário para executar o chapisco em ambas as faces desse muro é:

- A) 12.
- B) 18.
- C) 24.
- D) 30.
- E) 36.

Questão 36

Um projeto foi contratado a preço global por R\$ 2.000.000,00 e a tabela a seguir faz parte do contrato, informando os documentos executivos a serem emitidos e seus respectivos pesos relativos:

Produtos	Quantidade	Peso relativo
Desenhos A0	30	0,15
Desenhos A1	200	0,40
Desenhos A3	1000	0,35
Relatórios A4	100	0,10

Na data do primeiro lote de emissão, os seguintes produtos foram liberados para execução:

- Desenhos A0 = 10
- Desenhos A1 = 50
- Desenhos A3 = 200
- Relatórios A4 = 30

A fatura correspondente a essa emissão de documentos tem o valor de:

- A) R\$ 500.000,00.
- B) R\$ 450.000,00.
- C) R\$ 400.000,00.
- D) R\$ 350.000,00.
- E) R\$ 300.000,00.

Questão 37

A administração necessita licitar três serviços de engenharia com os seguintes valores estimados:

Serviço	Valor estimado (R\$)
S1	1.872.090,23
S2	120.564,45
S3	883.982,75

Considerando-se as determinações da Lei nº 8.666, de 21 de junho de 1993, e de suas alterações, os serviços S1, S2 e S3 deverão ser licitados, respectivamente, nas seguintes modalidades:

- A) concorrência, tomada de preços e convite.
- B) tomada de preços, convite e concorrência.
- C) convite, tomada de preços e concorrência.
- D) concorrência, convite e tomada de preços.
- E) convite, concorrência e tomada de preços.

Questão 38

Com relação às condições ambientais de controle de infecção relativas ao projeto executivo em estabelecimentos assistenciais de saúde (EAS) recomendadas pela resolução RDC nº 50 da Anvisa, de 21 de fevereiro de 2002, e suas alterações, é correto afirmar:

- A) Os tetos em áreas destinadas à realização de procedimentos cirúrgicos devem ser constituídos de forros falsos removíveis.
- B) É proibida a instalação de bidês nos EAS.
- C) A execução da junção entre o rodapé e o piso deve ser sempre na forma arredondada.
- D) As tintas elaboradas à base de epóxi, PVC, poliuretano ou outras destinadas a áreas molhadas são proibidas nas áreas críticas.
- E) Nas áreas críticas e semicríticas, todas as tubulações devem ser aparentes.

Questão 39

De acordo com a resolução RDC nº 50 da Anvisa, de 21 de fevereiro de 2002, e suas alterações, a distância mínima, em m, entre uma edificação e tanques e/ou cilindros de centrais de suprimento de oxigênio e óxido nitroso deve ser:

- A) 20.
- B) 15.
- C) 10.
- D) 8.
- E) 5.

Questão 40

O laudo de vistoria de uma obra registrou que determinada parede apresentava dano de revestimento com a seguinte manifestação: descolamento com pulverulência. Essa manifestação tem o seguinte aspecto:

- A) O revestimento se descola em placas com som cavo sob percussão.
- B) A placa apresenta-se endurecida, mas quebradiça, desagregando-se com facilidade.
- C) Há empolamento da pintura, apresentando partes internas das empolas na cor branca.
- D) A superfície do reboco descola do emboço, formando bolhas.
- E) A película de tinta descola arrastando o reboco, que se desagrega com facilidade.

Questão 41

De acordo com a norma ABNT NBR 7678/1983 (segurança na execução formada por obras e serviços de construção), o conjunto cinto de segurança e cabo de segurança deve ser capaz de resistir a uma força de tração, em N, sem sofrer ruptura, de:

- A) 3.000.
- B) 6.000.
- C) 9.000.
- D) 12.000.
- E) 15.000.

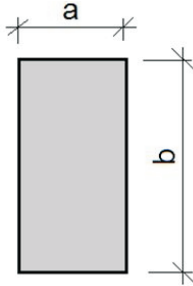
Questão 42

A Norma Regulamentadora NR 4 (serviços especializados em engenharia de segurança e em medicina do trabalho) e suas alterações definem que o dimensionamento dos Serviços Especializados em Engenharia de Segurança e em Medicina do Trabalho vincula-se à gradação do risco da atividade principal e ao número total de empregados do estabelecimento. Segundo a referida norma, as atividades de atendimento hospitalar são classificadas como de gradação de risco (GR):

- A) 2.
- B) 3.
- C) 4.
- D) 5.
- E) 6.

Questão 43

Antes do lançamento do concreto da estrutura de determinado pavimento de uma obra, o engenheiro responsável fez uma vistoria nas formas das vigas e identificou que as seções transversais sofreram algumas variações em relação ao projeto, como indicado a seguir.



Vigas	a x b (projeto) (mm)	a x b (forma) (mm)
V1	100 x 400	98 x 404
V2	200 x 700	210 x 710
V3	400 x 1300	397 x 1295
V4	250 x 900	246 x 895

Considerando-se as tolerâncias dimensionais para as seções transversais de elementos estruturais lineares contidas na norma ABNT NBR 14931/2004 (execução de estruturas de concreto – procedimento), pode-se liberar para concretagem, por estarem com suas seções transversais dentro das tolerâncias permitidas, somente as vigas:

- A) V1, V3 e V4.
- B) V2 e V3.
- C) V2, V3 e V4.
- D) V1, V2 e V3.
- E) V1 e V4.

Questão 44

A especificação de uma impermeabilização previa a execução de um estrato com a função de apoio e proteção da camada impermeável contra agressões provenientes do substrato. Segundo a norma ABNT NBR 9575/2010 (Impermeabilização – seleção e projeto), esse estrato é denominado camada de:

- A) separação.
- B) regularização.
- C) proteção mecânica.
- D) amortecimento.
- E) berço.

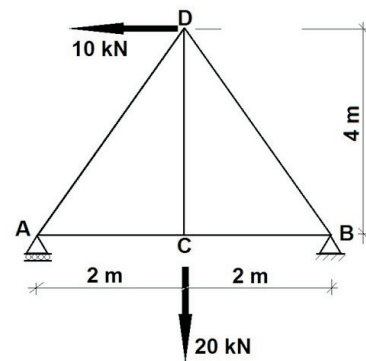
Questão 45

O vão de 2,4 m de uma viga biapoiada tem carregamento uniformemente distribuído ao longo de todo o seu comprimento, e deformação máxima no meio de 0,75 cm. O deslocamento angular da linha elástica na extremidade dessa viga, em radianos, é:

- A) 0,01.
- B) 0,02.
- C) 0,03.
- D) 0,04.
- E) 0,05.

Questão 46

Observe a treliça isostática representada a seguir com um apoio de 1º gênero em A e outro de 2º gênero em B.

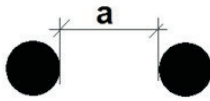


O esforço normal, em kN, na barra AC é:

- A) 20 de tração.
- B) 20 de compressão.
- C) 10 de tração.
- D) 10 de compressão.
- E) zero.

Questão 47

Duas barras com diâmetro de 16 mm da armadura longitudinal de um pilar em concreto armado estão com afastamento entre faces "a" como indicado a seguir.



Considerando-se as prescrições da norma ABNT NBR 6118/2014 (projeto de estruturas de concreto – procedimento) e que a dimensão máxima característica do agregado graúdo que será utilizado no concreto é igual a 12,5 mm, o valor mínimo de "a", em mm, deve ser:

- A) 12,5.
- B) 15,0.
- C) 16,0.
- D) 18,0.
- E) 20,0.

Questão 48

A norma ABNT NBR 8800/2008 (projeto de estruturas de aço e de estruturas mistas de aço e concreto de edifícios) estabelece que a resistência de cálculo de um material (f_d) deve ser determinada a partir da resistência característica ou nominal (f_k) minorada de um coeficiente de ponderação da resistência (γ_m) composto de três parcelas que consideram:

- A) variabilidade da resistência dos materiais envolvidos; simultaneidade desfavorável das ações; desvios gerados na construção e as aproximações feitas em projeto do ponto de vista das resistências.
- B) desvios gerados na construção e as aproximações feitas em projeto do ponto de vista das resistências; simultaneidade desfavorável das ações; diferença entre a resistência do material no corpo de prova e na estrutura.
- C) variabilidade da resistência dos materiais envolvidos; diferença entre a resistência do material no corpo de prova e na estrutura; desvios gerados na construção e as aproximações feitas em projeto do ponto de vista das resistências.
- D) diferença entre a resistência do material no corpo de prova e na estrutura; deterioração do material ao longo do tempo; simultaneidade desfavorável das ações.
- E) variabilidade da resistência dos materiais envolvidos; desvios gerados na construção e as aproximações feitas em projeto do ponto de vista das resistências; deterioração do material ao longo do tempo.

Questão 49

A norma ABNT NBR 13534/2008 (instalações elétricas de baixa tensão – requisitos específicos para instalação em estabelecimentos assistenciais de saúde) estabelece que, em alguns locais médicos, as luminárias devem ser alimentadas por, no mínimo, dois circuitos distintos, um dos quais conectados, necessariamente, à alimentação de segurança. Esses locais médicos são classificados como grupos:

- A) 4 e 5.
- B) 3 e 4.
- C) 2 e 3.
- D) 1 e 2.
- E) 0 e 1.

Questão 50

A norma ABNT NBR 5626/1998 (instalação predial de água fria) estabelece que as tubulações devem ser submetidas a ensaio para verificação da estanqueidade durante o processo de sua montagem, de modo a submetê-las a uma pressão hidráulica superior àquela que se verificará durante o uso. O valor dessa pressão de ensaio, em cada seção da tubulação, deve ser no mínimo 1,5 vez o valor da pressão prevista em projeto para ocorrer nessa mesma seção em condições estáticas (sem escoamento), mas sempre superior a:

- A) 30 kPa.
- B) 50 kPa.
- C) 60 kPa.
- D) 80 kPa.
- E) 100 kPa.

Questão 51

Estabelece a norma ABNT NBR 8160/1999 (sistemas prediais de esgoto sanitário – projeto e execução) que todo sistema de esgoto sanitário, incluindo o sistema de ventilação, deve ser inspecionado e ensaiado antes de entrar em funcionamento. As seguintes atividades são previstas:

1. Verificação se o sistema se encontra adequadamente fixado e se existe algum material estranho em seu interior.
2. Ensaio com fumaça.
3. Colocação dos aparelhos sanitários.
4. Ensaio com água ou ar.

A ordem correta de execução das atividades é:

- A) 3, 1, 4 e 2.
- B) 1, 4, 3 e 2.
- C) 3, 1, 2 e 4.
- D) 1, 3, 4 e 2.
- E) 1, 4, 2 e 3.

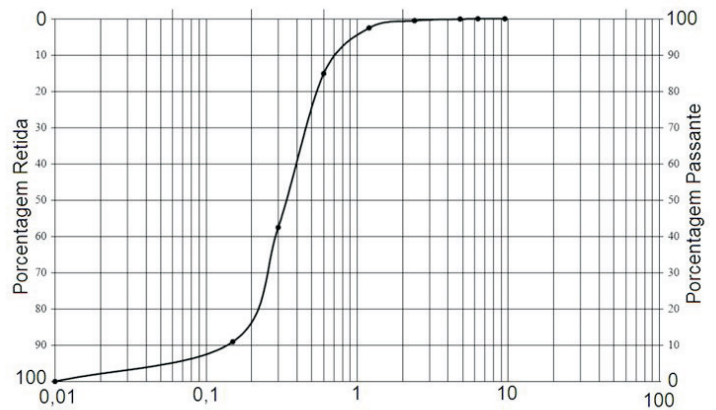
Questão 52

Determinado concreto será aplicado em uma estrutura com alta densidade de armadura e lançado por bombeamento. A classe de consistência recomendada pela norma ABNT NBR 8953/2009 – versão corrigida: 2011 (concreto para fins estruturais – classificação pela massa específica, por grupos de resistência e consistência) – nesse caso é:

- A) S220.
- B) S160.
- C) S100.
- D) S50.
- E) S10.

Questão 53

O ensaio de uma areia, realizado conforme ABNT NBR NM 248/2003 (agregados – determinação da composição granulométrica), revelou a seguinte curva granulométrica:

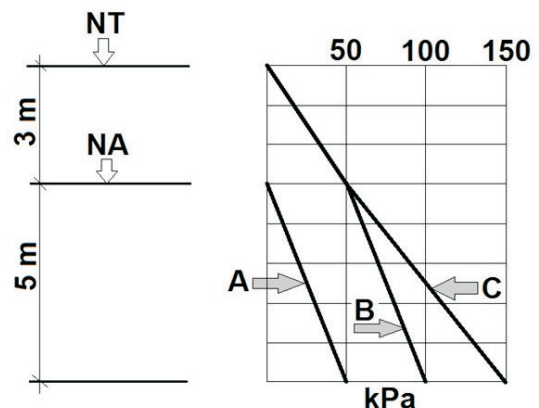


A dimensão máxima característica, em mm, desse agregado é:

- A) 0,3.
- B) 0,6.
- C) 1,2.
- D) 2,4.
- E) 4,8.

Questão 54

Observe o perfil de solo da figura a seguir, em que NT é o nível do terreno e NA, o nível da água, e o seu respectivo diagrama de tensões.



As curvas “A”, “B” e “C” representam, respectivamente, as tensões:

- A) efetiva, total e neutra.
- B) efetiva, neutra e total.
- C) neutra, total e efetiva.
- D) neutra, efetiva e total.
- E) total, efetiva e neutra.

Questão 55

Uma amostra de areia tem porosidade de 40% e densidade relativa de 8/3. O peso específico, em kN/m^3 , dessa amostra seca é igual a (considere o peso específico da água igual a 10 kN/m^3):

- A) 22.
- B) 20.
- C) 18.
- D) 16.
- E) 14.

Questão 56

Observe a seguir uma sinalização de segurança contra incêndio e pânico utilizada em edificações, conforme definida na norma ABNT NBR 13434-2/2004 (Sinalização de segurança contra incêndio e pânico – parte 2: símbolos e suas formas, dimensões e cores).



Essa é uma sinalização de:

- A) proibição.
- B) orientação.
- C) alerta.
- D) salvamento.
- E) equipamento.

Questão 57

Segundo a Resolução CONAMA n° 307, de 5 de julho de 2002, e suas alterações, que estabelecem diretrizes, critérios e procedimentos para a gestão dos resíduos da construção civil, os resíduos contaminados ou prejudiciais à saúde oriundos de demolições, reformas e reparos de clínicas radiológicas são classificados como classe:

- A) E.
- B) D.
- C) C.
- D) B.
- E) A.

Questão 58

São conhecidas as coordenadas (x; y) dos vértices de um terreno (poligonal fechada):

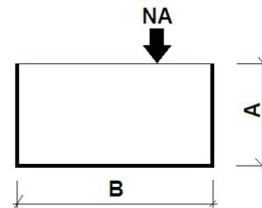
Ponto	x (m)	y (m)
A	20	10
B	40	40
C	70	30
D	60	0
E	40	20

A área desse terreno, em m^2 , é:

- A) 600.
- B) 750.
- C) 900.
- D) 1050.
- E) 1200.

Questão 59

Para irrigação de uma determinada área será construído um conduto livre (canal) com seção retangular conforme se representa a seguir, sendo NA o nível da água:



Assinale, entre as opções de valores de "A" e "B" a seguir, aquela que conduzirá a maior vazão fornecida por esse canal, considerando-se que o coeficiente de rugosidade e a declividade do canal são as mesmas em todas as opções:

- A) $A = 5,0$ e $B = 2,4$.
- B) $A = 2,4$ e $B = 5,0$.
- C) $A = 3,0$ e $B = 4,0$.
- D) $A = 4,0$ e $B = 3,0$.
- E) $A = 2,0$ e $B = 6,0$.

Questão 60

Utilizando-se um comando do menu DIMENSION do AutoCAD, executou-se o seguinte:



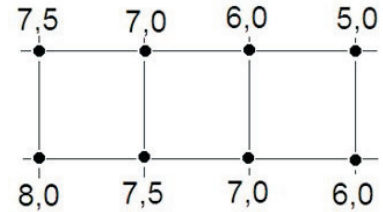
Assinale a alternativa que apresenta o comando utilizado.

- A) MULTILEADER
- B) CENTER MARK
- C) CONTINUE
- D) BASELINE
- E) RADIUS

PROVA DISCURSIVA

Questão 01

Um terreno de 60 m por 20 m foi estaqueado em quadrículas de 20 m por 20 m e as cotas obtidas em cada estaca, em metros, estão indicadas a seguir:



Pretende-se executar o serviço de terraplanagem nesse terreno para que ele fique plano na cota 6,5 m. O aterro necessário será executado com o material cortado, que será compactado até a situação em que se apresentava antes do corte.

Calcule o número de viagens de caminhão com 8 m³ de capacidade que será necessário para retirar a sobra de terra, considerando-se um empolamento de 28%.

Questão 02

Elabore um roteiro contendo requisitos para a manutenção de um estabelecimento assistencial de saúde, tendo como base as recomendações da norma ABNT NBR 5674/2012 (manutenção de edificações – requisitos para o sistema de gestão de manutenção).

Esse roteiro deve, necessariamente, abordar de forma sucinta, cada um dos seguintes aspectos:

- Tipos de manutenção
- Indicadores de eficiência
- Conteúdo básico do relatório de inspeção
- Programa de manutenção

Motivado pela leitura dos textos seguintes, sem, contudo, copiá-los ou parafraseá-los, redija um TEXTO DISSERTATIVO, em aproximadamente 20 linhas, em norma-padrão da língua portuguesa, atribuindo-lhe um título, sobre o tema: TABAGISMO, UM GRAVE PROBLEMA DE SAÚDE PÚBLICA: O QUE FAZER?

Texto 1:

Tabagismo: um grave problema de saúde pública.

É fator causal de quase 50 diferentes doenças incapacitantes e fatais.

Responde por 45% das mortes por infarto do miocárdio, 85% das mortes por doença pulmonar obstrutiva crônica (enfisema), 25% das mortes por doença cerebrovascular (derrames) e 30% das mortes por câncer. E 90% dos casos de câncer de pulmão ocorrem em fumantes.

Desencadeia e agrava condições como a hipertensão e diabetes.

Também aumenta o risco das pessoas desenvolverem e morrerem por tuberculose.

Mata 5 milhões de pessoas anualmente no mundo. No Brasil são 200 mil mortes anuais. Se a atual tendência de consumo se mantiver, em 2020, serão 10 milhões de mortes por ano e 70% delas acontecerão em países em desenvolvimento.

É mais do que a soma das mortes por alcoolismo, AIDS, acidentes de trânsito, homicídios e suicídios juntos.

Disponível em: <www1.inca.gov.br>. Acesso em: 11 set. 2014.

Texto 2:



Disponível em: <www.google.com.br>. Acesso em: 11 set. 2014.

Texto 3:



Disponível em: <www.google.com.br>. Acesso em: 11 set. 2014.

RASCUNHO

RASCUNHO