

CONHECIMENTOS ESPECÍFICOS

No que diz respeito ao sistema de contas nacionais, julgue os itens a seguir.

- 51 Os bens de capital são excluídos do cálculo do PIB, visto que são usados para a produção de outros bens.
- 52 Os desembolsos das famílias com a aquisição de moradia são computados nas contas nacionais como consumo agregado.
- 53 A soma da remuneração de todos os fatores de produção é igual ao produto interno bruto a preços de mercado.
- 54 Se um agente retirar recursos da caderneta de poupança e comprar um imóvel residencial usado, ocorrerá redução da poupança agregada da economia.
- 55 Desconsiderados os serviços de corretagem, a venda de imóveis usados não entra no cálculo do PIB.
- 56 Em uma economia sem subsídios, o PIB a preços de mercado é, pelo menos, maior que o PIB a custo de fatores.

Em relação ao modelo IS-LM e às principais teorias relacionadas à política econômica, julgue os itens que se seguem.

- 57 Uma política fiscal expansionista que vise ao equilíbrio orçamentário produz o mesmo efeito, no que diz respeito a produto, de uma política equivalente de corte de gastos.
- 58 Se o Banco Central fixar a quantidade de moeda, o aumento da preferência pela liquidez produzirá elevação da taxa de juros e queda do produto de equilíbrio.
- 59 O aumento dos gastos do governo sob o regime de metas de inflação provoca elevação do produto e da taxa de juros de equilíbrio.
- 60 A adoção de uma política monetária expansionista por meio do aumento da oferta de moeda gera expansão do produto e do consumo das famílias.

Com relação aos conceitos de resultado primário, nominal e operacional e de necessidade de financiamento do setor público, julgue os itens subsecutivos.

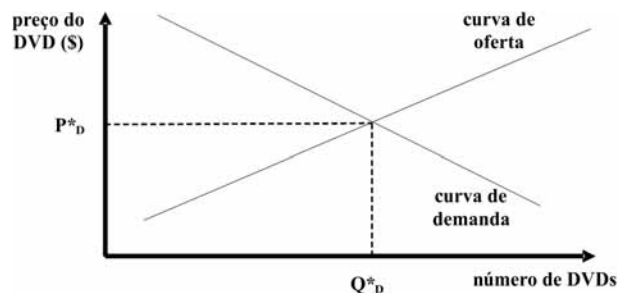
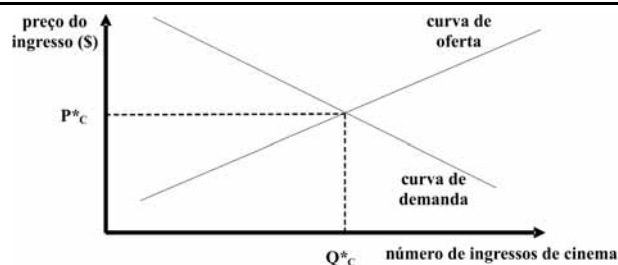
- 61 O resultado primário é apurado pelo regime de caixa, e as despesas financeiras, pelo regime de competência.
- 62 O resultado primário não abrange a incidência de juros sobre a dívida pública.

No que diz respeito às principais medidas de política econômica monetária para economias abertas, julgue os próximos itens.

- 63 Se a economia operar com déficit em transações correntes e o governo mantiver o orçamento equilibrado, então, em termos contábeis, a poupança privada será menor que o investimento agregado.
- 64 A decisão de se adotar, simultaneamente, câmbio fixo, regime de metas de inflação e plena flexibilidade da conta de capitais permite ao governo ampliar a atratividade dos investimentos estrangeiros diretos.
- 65 Em um regime com câmbio fixo, a expansão dos gastos do governo provoca aumento da renda e das exportações líquidas, mas reduz as reservas internacionais de equilíbrio.
- 66 Em ambiente de incerteza, havendo preferência pela liquidez crescente dos bancos comerciais, alterações da regra de compulsório não proporcionam alterações na renda de equilíbrio da economia.

Com base nas principais teorias de desenvolvimento econômico, julgue os itens subsequentes.

- 67 De acordo com o modelo Harrod-Domar, desenvolvido para fundamentar políticas de crescimento para países em desenvolvimento, a trajetória de expansão do produto será sempre equilibrada.
- 68 Consoante a curva de Kuznets, a desigualdade cresce nos primeiros estágios do desenvolvimento, estabiliza-se e cai, quando o processo de desenvolvimento e o nível de renda ultrapassam certo patamar.
- 69 Segundo o modelo clássico de Solow, não se pode aumentar a produção de forma indefinida aumentando-se a proporção de um fator de produção em relação aos demais.
- 70 Conforme o modelo clássico de Lewis, a migração rural para o meio urbano é consequência do aumento da demanda por trabalho do setor industrial moderno e do diferencial de salários que atrai o trabalhador.



Considerando que ingresso de cinema e DVD de filme para locação sejam bens substitutos perfeitos; que os mercados desses bens sejam interdependentes e competitivos e se encontrem inicialmente em equilíbrio, aos preços P^*_c e P^*_d , respectivamente, conforme representação nos gráficos acima; e que, inicialmente, não haja incidência de nenhum tipo de imposto sobre os referidos bens, julgue os itens seguintes.

- 71 A elevação do preço do DVD para locação acarretaria a redução da quantidade demandada de ingressos de cinema.
- 72 Consoante a análise de equilíbrio parcial, o efeito de um imposto sobre o preço do DVD para locação seria superestimado.
- 73 Segundo a análise de equilíbrio geral, um deslocamento da curva de oferta de ingressos para cima provocaria um deslocamento, para cima, da curva de oferta de DVDs para locação, o que, por *feedback*, implicaria um deslocamento adicional, para cima, da curva de oferta de ingressos.
- 74 Caso o mercado de DVDs para locação fosse dominado por uma única empresa monopolista, uma elevação do preço de ingressos de cinema resultaria em elevação do preço de DVDs para locação acima do preço que se observaria caso o mercado de DVDs para locação fosse competitivo.

A empresa UM, fabricante de computadores a partir de tecnologia de produção específica, apresentava os seguintes dados mensais de produção, custo, número de empregados e quantidade de componentes.

Tabela 1

	quantidade de computadores fabricados	número de empregados	salário e encargo social por empregado	quantidade de componentes	custo médio por componente
situação 1	250	20	R\$ 100,00	30	R\$ 50,00
situação 2	1.250	80	R\$ 150,00	120	R\$ 75,00

A empresa DOIS, produtora de *software*, apresentava os seguintes dados mensais.

Tabela 2

quantidade de aplicativos desenvolvidos	número de empregados	salário e encargo social por empregado
20	10	R\$ 200,00

Visando fortalecer suas posições ante seus concorrentes no mercado, as empresas UM e DOIS fundiram-se e criaram a empresa TRÊS, que passou a produzir computadores e aplicativos, de forma conjunta, ao custo total mensal de R\$ 5.000,00, conforme os seguintes dados, também mensais.

Tabela 3

produção conjunta	número de empregados	salário e encargo social por empregado	quantidade de componentes	custo médio por componente
300 computadores 30 aplicativos	30	R\$ 133,33	30	R\$ 50,00

Com base nessa situação hipotética, julgue os seguintes itens.

- 75 A empresa UM, fabricante de computadores, apresentava, antes da fusão, deseconomia de escala.
- 76 Com a fusão das duas empresas, o processo de produção conjunta passou a envolver economia de escopo.
- 77 No curto prazo, um ou mais insumos do processo produtivo são potencialmente variáveis, ao passo que, no longo prazo, todos os insumos são fixos.
- 78 Os rendimentos de escala eram crescentes para a empresa UM, que fabricava computadores.

RASCUNHO

Um monopolista fabricante de turbinas, único a deter a patente do conteúdo tecnológico e do processo de fabricação do aparelho, observou os seguintes níveis médios de produção total anual, conforme o número de empregados, a quantidade de componentes e a tecnologia de produção específica.

Tabela 1

número de empregados	quantidade média de turbinas produzidas
20	50
25	52
30	60
40	50

Tabela 2

quantidade de componentes	quantidade média de turbinas produzidas
12	48
18	60
24	72
27	81

Tabela 3

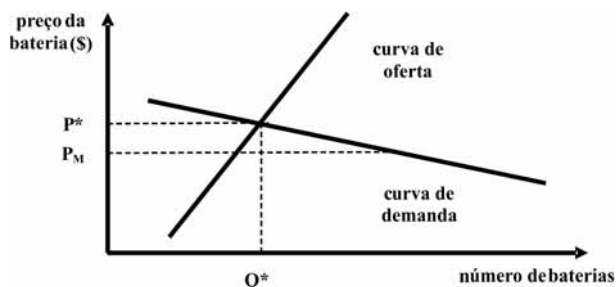
número de empregados	quantidade de componentes	quantidade média de turbinas produzidas
15	9	40
30	18	60
60	36	90

Os dados da tabela 1 foram apurados segundo uma quantidade fixa de componentes (18) e os dados da tabela 2, segundo um número fixo de empregados (30). Os níveis de produção da tabela 3 foram obtidos para diferentes combinações de ambos os insumos.

Tendo como referência a situação hipotética acima descrita, julgue os próximos itens.

- 79 Sendo decrescentes os rendimentos marginais dos insumos, o rendimento de escala será decrescente.
- 80 Sendo 30 o número de empregados, o produto marginal do trabalho é menor que o produto médio do trabalho.
- 81 Os rendimentos marginais são decrescentes para o trabalho e crescentes para os componentes.
- 82 Não há barreira à entrada de novos fabricantes.

Em determinada economia nacional, pretende-se conceder subsídio para a venda de baterias de celular e, inicialmente, não haverá permissão para a importação de baterias. No gráfico a seguir, são representadas as curvas de oferta e de demanda nacionais, o preço P^* e a quantidade de equilíbrio Q^* antes da aplicação do subsídio. No ponto (Q^*, P^*) , a elasticidade-preço da oferta dos fabricantes nacionais é igual a 1, e a elasticidade-preço da demanda nacional, -4. O preço P_M é o preço de equilíbrio (menor que P^*), quando o governo permite a importação irrestrita de baterias, sem exigibilidade de tarifa de importação ou imposição de quotas.



Em relação à situação hipotética acima apresentada, julgue os itens que se seguem.

- 83 A concessão de subsídio fará que a curva de oferta de baterias desloque-se para a direita.
- 84 Caso o governo permita a importação irrestrita de baterias, o aumento do excedente do consumidor será maior, em módulo, que a redução do excedente do fabricante.
- 85 A concessão do subsídio não resultará em peso morto.
- 86 A maior parte do benefício do subsídio recairá sobre os vendedores.

RASCUNHO

		fabricante II	
		preço alto	preço baixo
fabricante I	preço alto	(300, 240)	(240, 300)
	preço baixo	(90, 0)	(50, 90)

Os fabricantes I e II, os dois únicos empresários da indústria de antenas digitais, têm conhecimento da matriz de *payoffs* acima, que mostra pares ordenados, em que os números representam, respectivamente, o lucro médio mensal esperado do fabricante I e do fabricante II, que estabelecem suas estratégias de forma independente. Quando os fabricantes I e II combinam conjuntamente sua produção de forma a maximizar os lucros totais da indústria, a estratégia de cobrar um preço alto resulta em um par ordenado (400, 300), em vez de (300, 240). Com o objetivo de reforçar a competitividade da indústria nacional de antenas digitais, o governo impôs uma legislação antitruste.

Tendo como referência essa situação hipotética, julgue os itens a seguir.

- 87** Dado que os fabricantes I e II estabelecem suas estratégias de forma independente, a estratégia de cobrar um preço alto será dominante para ambos os fabricantes.
- 88** Dado que os fabricantes I e II estabelecem suas estratégias de forma independente, a melhor estratégia para o fabricante I é ameaçar cobrar um preço baixo, caso o fabricante II passe a cobrar um preço baixo.

Julgue os próximos itens, com relação ao balanço de pagamentos.

- 89** Caso seja utilizado o critério contábil da competência na elaboração do balanço de pagamentos, o registro da operação deverá ser realizado no momento do pagamento.
- 90** O balanço de pagamentos consiste no registro, em uma economia, dos fluxos de valores econômicos entre residentes e não residentes durante um período específico, que, em geral, é o de um ano fiscal.
- 91** Caso seja utilizado o critério contábil de caixa na elaboração do balanço de pagamentos, o registro do fluxo deverá ser realizado no momento do reconhecimento do crédito ou do débito.
- 92** Entre as principais fontes de dados utilizadas na elaboração do balanço de pagamentos no Brasil incluem-se as estatísticas cambiais, a Secretaria da Receita Federal, a Comissão de Valores Mobiliários, o Ministério do Desenvolvimento, Indústria e Comércio Exterior, a contabilidade de reservas internacionais e pesquisas junto ao Banco Central do Brasil e a empresas de transporte.

Com relação à evolução dos sistemas de propriedade intelectual e à autonomia tecnológica, em especial nos países desenvolvidos, julgue os itens de **93** a **98**.

- 93** São objetivos dos sistemas de proteção de propriedade intelectual a atribuição de valor comercial a ativos intangíveis, o estímulo de investimentos em pesquisa e desenvolvimento, o financiamento de inovações e o enquadramento da cooperação técnica.

- 94** O acordo TRIPS vincula propriedade intelectual ao comércio internacional e fortalece as normas de proteção dessa propriedade, visto que faculta aos integrantes da OMC a adesão ao acordo e obriga os que a ele aderiram a recorrer aos mecanismos de solução de controvérsias da OMC para que sejam impostas sanções a eventuais infratores.

- 95** No século XIX, consolidaram-se os tratados internacionais voltados para a proteção da propriedade intelectual, como a Convenção de Paris de Proteção da Propriedade Intelectual e a Convenção de Berna para a Proteção de Trabalhos Literários e Artísticos, ambas administradas atualmente pela Organização Mundial de Propriedade Intelectual.

- 96** A propriedade industrial, em sua acepção mais ampla, refere-se à indústria e ao comércio propriamente ditos, excluindo-se de seu âmbito as indústrias extrativas e agrícolas de produtos naturais, como frutas, animais e minerais.

- 97** Investimentos empresariais em inovação amparados por políticas de desenvolvimento científico e tecnológico contribuem para a elevação da massa salarial e para níveis mais altos de crescimento econômico no longo prazo, como sustentam argumentos teóricos schumpeterianos e neo-schumpeterianos, além de estudos empíricos no Brasil e no mundo.

- 98** A propriedade intelectual refere-se às criações da mente humana, tais como invenções, obras artísticas e literárias, desenhos, símbolos, nomes e imagens utilizadas no comércio em geral cujos direitos estão protegidos por patentes, marcas e direitos autorais.

RASCUNHO

Com base na política industrial, tecnológica e de comércio exterior (PITCE) e na política de desenvolvimento produtivo (PDP), julgue os próximos itens.

- 99** A percepção de que a economia mundial se caracterizava por intensas mudanças tecnológicas, o que facilita a delimitação de fronteiras claras entre as atividades econômicas, pautou a decisão expressa na PDP no sentido de eleger setores prioritários, em substituição à ênfase em sistemas produtivos que marcou a PITCE.
- 100** Ao destacar o programa de modernização do parque industrial nacional, a PITCE estabeleceu metas de aumento de empregos, modernização do parque industrial, elevação da produtividade, promoção da inovação e difusão do conhecimento tecnológico com o intuito de ampliar as exportações brasileiras.
- 101** A PITCE articulava-se em três eixos complementares: linhas de ação verticais, opções estratégicas e atividades portadoras de futuro. Entre os exemplos de atividades desse último eixo incluem-se os fármacos e os medicamentos, os *softwares* e as aplicações de semicondutores.
- 102** A PDP conferiu ênfase à implementação paralela de políticas públicas em vários setores governamentais, de modo a favorecer inovações em setores nos quais o Brasil não possuía competitividade sistêmica, como o setor aeronáutico, a mineração, a siderurgia e a petroquímica.

A respeito das teorias do comércio internacional e do comércio exterior, julgue os itens subsequentes.

- 103** Em sua crítica ao modelo ricardiano, Heckscher estende o conceito de fator de produção para além das categorias de capital, terra e trabalho, realçando as distintas qualidades desses fatores, que se tornam, assim, praticamente ilimitados; logo, cada economia tenderá a exportar mercadorias intensivas em seus fatores de produção mais abundantes.
- 104** No modelo ciclo de vida do produto, em relação a um produto específico, o desempenho das exportações de uma economia não se altera na medida em que se sucedem as fases de inovação, maturidade, padronização e ganhos de escala.
- 105** Ao se contrapor ao modelo das vantagens absolutas de Adam Smith, David Ricardo propõe um modelo alternativo no qual as funções de produção das economias diferem umas das outras e apresentam retornos constantes de escala, que decorrem especialmente de vantagens consideráveis em maquinaria e qualificação do trabalho.

O comércio exterior é marcado por operações relativamente simples de compra e venda de bens e serviços em que se envolve mais de um território aduaneiro. A respeito desse assunto, julgue os itens subsequentes.

- 106** O regime de exportação temporária permite a saída do país, com suspensão do pagamento do imposto de exportação, de mercadoria nacional ou nacionalizada, condicionada à reimportação em prazo determinado, no mesmo estado em que foi exportada.
- 107** Portos secos são recintos alfandegados de uso público nos quais se executam operações de movimentação e armazenagem de mercadorias e bagagem, sem controle aduaneiro, devendo o seu despacho aduaneiro realizar-se — seja *a priori*, seja *a posteriori* — nas instalações do exportador ou do importador, conforme a natureza da operação.
- 108** A exportação direta ocorre quando o próprio fabricante ou produtor fatura seu produto ou serviço diretamente ao comprador ou importador no exterior ou mediante a intermediação de consórcio de exportações de que ele faça parte ou empresa que lhe preste serviço.

Julgue os itens a seguir, acerca da economia brasileira na década de 80 do século passado.

- 109** Antes do Plano Cruzado, o governo anunciou um pequeno pacote fiscal para desaquecer o consumo, o qual ficou conhecido como Cruzadinho.
- 110** As elevadas taxas de crescimento econômico brasileiro observadas nos anos 80, período conhecido como o Milagre Econômico, derivaram dos investimentos em infraestrutura realizados nas décadas anteriores.
- 111** Os saldos positivos obtidos na balança comercial durante toda a década garantiram a solvência do Brasil frente aos credores internacionais.

Com relação a fatos ocorridos no Brasil na última década do século passado, julgue os itens que se seguem.

- 112** Com a crise asiática, o tripé macroeconômico, formado pelo regime de metas de inflação, metas de pleno emprego e câmbio flutuante, se tornou a base da política econômica brasileira.
- 113** O programa econômico realizado nos primeiros anos da década em questão incluiu a redução do tamanho do Estado, a reorganização da administração pública e a abertura comercial.
- 114** Alterações posteriores na Constituição Federal de 1988 foram necessárias para o processo de privatização que ocorreu ao longo da segunda metade da década em apreço.
- 115** O processo de implementação do Plano Real, durante o governo de Itamar Franco, foi faseado e durou alguns meses.

Julgue os seguintes itens, a respeito da trajetória recente da economia brasileira.

- 116** No que tange a responsabilidade na gestão fiscal, uma das principais críticas à Lei de Responsabilidade Fiscal é o fato de ela não contemplar despesas com pessoal.
- 117** Entre 2008 e 2009, início da recente crise financeira internacional, as principais agências de avaliação de risco do mundo atribuíram o grau de investimento à dívida soberana brasileira.
- 118** A dívida líquida brasileira tem-se reduzido nos últimos anos, quando, *ceteris paribus*, ocorre depreciação cambial.
- 119** Na publicação conhecida como Carta ao Povo Brasileiro, de 2002, o então candidato Lula prometeu novos pilares básicos para o arcabouço de política econômica, entre os quais, o abandono gradual do superávit primário para promover o retorno do crescimento econômico.

Julgue o item abaixo, acerca dos fundamentos da gestão de projetos.

- 120** O gerenciamento de projetos pode ser entendido como a aplicação de conhecimentos, habilidades e técnicas para a execução de projetos de forma efetiva e eficaz.

PROVA DISCURSIVA

- Nesta prova, faça o que se pede, usando o espaço para rascunho indicado no presente caderno. Em seguida, transcreva o texto para a **FOLHA DE TEXTO DEFINITIVO DA PROVA DISCURSIVA**, no local apropriado, pois **não será avaliado fragmento de texto escrito em local indevido**.
- Qualquer fragmento de texto além da extensão máxima de linhas disponibilizadas será desconsiderado.
- Na **folha de texto definitivo**, identifique-se apenas no cabeçalho da primeira página, pois **não será avaliado** texto que tenha qualquer assinatura ou marca identificadora fora do local apropriado.
- Nesta prova, ao domínio do conteúdo serão atribuídos até **40,00 pontos**, dos quais até **2,00 pontos** serão atribuídos ao quesito apresentação (legibilidade, respeito às margens e indicação de parágrafos) e estrutura textual (organização das ideias em texto estruturado).

O ano de 2014 pode ser o mais quente desde o início dos registros de temperatura no mundo, em 1880. O alerta veio da Administração Nacional de Oceanos e Atmosfera dos Estados Unidos da América, após a divulgação de que os meses de maio, junho, agosto e setembro bateram recordes de calor. Desde o início das medições, 2005 e 2010 foram os anos mais quentes da história. O pequeno intervalo entre os anos é um exemplo do efeito crescente das mudanças climáticas. Os dez anos mais quentes já registrados ocorreram nos últimos quinze anos e esta é a primeira vez em que o mês de setembro apresenta temperaturas tão altas sem a forte presença do fenômeno El Niño, que, no entanto, ainda pode manifestar-se este ano.

O Globo, 22/10/2014, p. 30 (com adaptações).

Considerando que o fragmento de texto acima tem caráter meramente motivador, redija um texto dissertativo acerca do seguinte tema.

MUDANÇAS CLIMÁTICAS E O DESAFIO DO DESENVOLVIMENTO SUSTENTÁVEL

Ao elaborar seu texto, aborde, necessariamente, os seguintes aspectos:

- ▶ fatores determinantes para a elevação da temperatura; [valor: 12,50 pontos]
- ▶ impacto das alterações do clima na vida das sociedades; [valor: 12,50 pontos]
- ▶ sustentabilidade como pressuposto para o desenvolvimento. [valor: 13,00 pontos]

RASCUNHO

1	
2	
3	
4	
5	
6	
7	
8	
9	
10	
11	
12	
13	
14	
15	
16	
17	
18	
19	
20	
21	
22	
23	
24	
25	
26	
27	
28	
29	
30	



cespe

 Cebraspe

Centro Brasileiro de Pesquisa em
Avaliação e Seleção e de Promoção de Eventos