



PREFEITURA DE
PIRAQUARA

PREFEITURA MUNICIPAL DE PIRAQUARA

ESTADO DO PARANÁ

EDITAL DE CONCURSO PÚBLICO N.º 057/2014

ASSISTENTE SOCIAL

INSTRUÇÕES

[Estas instruções passam a fazer parte do Edital n.º 057/2014 da Prefeitura Municipal de Piraquara.]

01. Deixe sobre a carteira escolar apenas o material estritamente necessário para a realização da prova (caneta, lápis, borracha e apontador) e a Cédula de Identidade.
02. No decorrer da prova, você assinará a **lista de presença**.
03. Você receberá do Fiscal os seguintes materiais:
 - a) **este caderno de prova**; e
 - b) **a folha de respostas**.

CADERNO DE PROVA

04. Este caderno de prova deve conter **40 (quarenta) questões**, numeradas de 01 a 40. Confira-o **antes** de iniciar a prova. Caso encontre algum defeito, levante o braço e aguarde a chegada do Fiscal. Após a prova ser iniciada, não será aceita qualquer reclamação sobre falhas na impressão e/ou montagem.
05. Em cada questão, somente **UMA alternativa será aceita como resposta**.
06. A interpretação das questões é parte integrante da prova. **Evite perguntas**.
07. A prova é **individual**. É vedada a comunicação entre os candidatos durante a prova.

FOLHA DE RESPOSTAS

08. **Confira se o seu nome, número de inscrição e número de sua identidade** estão corretos na folha de respostas. Caso contrário, notifique imediatamente o Fiscal.
 09. Não amasse, nem dobre a folha de respostas. **Preencha-a com caneta esferográfica azul ou preta, escrita grossa**. Não faça uso de borracha ou corretivo.
 10. A marcação na folha de respostas é de inteira **responsabilidade do candidato**.
 11. Procure **responder a todas as questões**. As questões não respondidas, com mais de uma resposta ou preenchidas em desacordo com as instruções da folha de respostas serão consideradas nulas.
 12. Ao terminar a prova, **devolva ao Fiscal a folha de respostas**. Após a entrega, **retire-se do local de prova**.
-
13. **Duração da prova**: 03h (três horas), já incluído o tempo destinado à identificação do candidato e ao preenchimento da folha de respostas.
 14. **Guarde o seu relógio** antes do início da prova. O tempo de realização da prova será controlado pelo Fiscal de sala.
 15. **Desligue o seu telefone celular** antes do início da prova e guarde-o.
 16. Você somente poderá **retirar-se da sala de provas** após decorrida 1 (uma) hora de seu início.
 17. Você poderá levar o seu caderno de prova **somente após duas horas do início da prova**.
 18. Os **03 (três) últimos candidatos** de cada sala deverão entregar a folha de respostas ao mesmo tempo, assinar o **Termo de Encerramento de Prova** e retirar-se, todos juntos, da sala.
 19. A **desobediência** a qualquer uma das determinações destas instruções ou das constantes da folha de respostas **poderá implicar a anulação da sua prova**.



Identidade com foto
sobre a carteira escolar



Não use



Não use



Não use



Elaboração: CEC – Núcleo de Concursos

É permitida a reprodução desse material, apenas para fins didáticos, desde que citada a fonte.

APLICAÇÃO: 19/10/2014

LÍNGUA PORTUGUESA

O texto a seguir servirá de base para você responder às questões de 1 a 3.

O MAPA DO CÉREBRO

Drauzio Varella

O cérebro humano é a estrutura mais complexa do Universo. Decifrar os mecanismos por meio dos quais ele consegue criar movimentos, percepções, pensamentos, memórias e a consciência é o maior desafio científico de todos os tempos.

Está prestes a ser criado o BAM – *Brain Activity Map* (Mapa da Atividade Cerebral) –, um megaprojeto organizado para desenvolver novas gerações de técnicas que permitam mapear a atividade de neurônio por neurônio, com precisão de milissegundos.

Parece pretensão paranoide, mas não é. A neurociência tem feito enormes avanços na tecnologia que tornou possível estudar as funções de neurônios isolados.

Imagens do cérebro em ação podem ser obtidas através da ressonância magnética funcional, método que consiste em injetar na veia glicose marcada com isótopos radioativos, e analisar através da ressonância sua distribuição pelas diferentes áreas cerebrais, enquanto a pessoa realiza funções como andar, rir, olhar para figuras que despertam compaixão, raiva, atração sexual, solidariedade.

Apesar desses avanços, os mecanismos responsáveis pela percepção, cognição e ação permanecem misteriosos porque resultam de interações em tempo real de grande número de neurônios, conectados em redes que formam circuitos de altíssima complexidade.

O projeto BAM propõe construir pontes que permitam descrever e manipular as atividades desses circuitos e redes de neurônios e até de cérebros inteiros, com a precisão em microescala de neurônio por neurônio.

O programa tem três objetivos:

- 1) Construir ferramentas capazes de, a um só tempo, obter imagens da maioria ou de todos os neurônios que fazem parte de cada circuito envolvido nas funções cerebrais;
- 2) Desenvolver métodos para interferir com o funcionamento de cada neurônio, desses circuitos;
- 3) Entender as funções essenciais de circuito por circuito.

Para atingir tais objetivos, é necessário criar programas de informática capazes de armazenar, mani-

pular e compartilhar dados de imagens e propriedades fisiológicas, em larga escala, que serão compartilhados com todos os investigadores participantes. Será obrigatoriamente um esforço de colaboração internacional entre neurocientistas, físicos, engenheiros e teóricos que trabalham na academia ou na indústria.

Dentro de cinco anos, vai ser possível monitorar ou controlar dezenas de milhares de neurônios. Ao redor dos dez anos, esse número terá sido multiplicado por dez.

Aos 15 anos, já poderemos observar a ação simultânea de um milhão de neurônios. Nessa fase, estaremos aptos a avaliar a função do cérebro inteiro do minúsculo peixe-zebra – usado como modelo em laboratório – ou de determinadas áreas do córtex cerebral de camundongos e de primatas.

Quando essa metodologia estiver disponível, poderá ser utilizada para diagnosticar e tratar distúrbios neuropsiquiátricos, ajudar na recuperação de funções perdidas depois de derrames cerebrais e criar teorias a respeito da cognição e do comportamento humano, baseadas em evidências.

Transtornos cerebrais devastadores como demências, esquizofrenia, depressão, autismo, epilepsia têm suas origens na desorganização das interações entre circuitos de neurônios, no interior do cérebro. Da mesma forma, as perdas de movimentos voluntários provocadas por derrames, paralisia cerebral, esclerose múltipla ou traumatismos medulares que desconectam os centros cerebrais do restante do corpo, poderão ser tratadas e corrigidas por meio dessas novas tecnologias.

As atividades econômicas envolvidas no BAM serão comparáveis às do Projeto Genoma, que exigiu investimentos da ordem de US\$ 3,8 bilhões, mas gerou US\$ 800 bilhões de impacto econômico. O financiamento deverá vir de fontes governamentais e da iniciativa privada.

Lamento não estarmos vivos – você e eu, leitor – para assistirmos à descrição das bases neurais da consciência, o desafio maior.

A consciência seria uma característica especial e exclusiva de nossa espécie ou apenas um subproduto natural de cérebros mais complexos, que emergiria como simples consequência da integração da experiência individual com as informações sensoriais?

Haverá resposta para indagações como essas?

VARELLA, Drauzio. O mapa do cérebro.
Folha de S. Paulo, 3 maio 2014.

01 Levando-se em conta as informações contidas no texto, analise as afirmações a seguir.

- I. O autor termina o seu texto se perguntando se a consciência seria algo inerente à nossa espécie ou se seria o resultado da interação entre as nossas informações sensoriais e nossas experiências individuais.
- II. A frase do antepenúltimo parágrafo (“Lamento não estarmos vivos – você e eu, leitor – para assistirmos à descrição das bases neurais da consciência, o desafio maior.”) expressa a total descrença do autor em relação ao projeto.
- III. A total ausência de vocativos indica que o autor, além de objetivo, não faz qualquer concessão no sentido de se dirigir ao leitor, o que mostra que se trata de um texto que se enquadra numa modalidade científica.

Está(ão) correta(s):

- A) somente I.
- B) somente II.
- C) somente III.
- D) somente I e II.
- E) somente II e III.

02 Levando-se em conta exclusivamente as informações do texto, assinale a afirmativa correta.

- A) O principal objetivo do BAM é o de injetar na veia glicose marcada com isótopos radioativos para analisar os neurônios.
- B) O BAM pretende analisar, através da ressonância, os neurônios das pessoas no momento em que estão realizando funções como andar, rir, olhar para pessoas que despertam compaixão.
- C) O autor do texto critica o projeto BAM por considerá-lo muito pretensioso.
- D) Apesar de já existirem ferramentas capazes de, simultaneamente, obter imagens de todos os neurônios do cérebro, o BAM pretende desenvolver também métodos para interferir no funcionamento de cada neurônio.
- E) Para a consecução do BAM, será necessária a colaboração de vários estudiosos e profissionais em escala internacional.

03 Observe a frase a seguir, retirada do texto-base.

As atividades econômicas envolvidas no BAM serão comparáveis às do Projeto Genoma, que exigiu investimentos da ordem de US\$ 3,8 bilhões, mas gerou US\$ 800 bilhões de impacto econômico.

Em qual das alternativas a seguir temos um uso de crase que tem a mesma justificativa que teria a da ocorrência de crase utilizada em “às” na frase acima?

- A) Ele assistiu **à** peça do seu melhor amigo.
- B) Ele se refere **à** que saiu, mas todos ainda ficaram em dúvida.
- C) A aula começou exatamente **às** dez horas da manhã.
- D) Ninguém foi **à** festa depois dos últimos acontecimentos.
- E) Logo **à** entrada da fazenda, ele encontrou o carro perdido.

04 No quarto parágrafo, temos uma vírgula antes do “E”, perfeitamente justificável em função do conjunto da frase e dos elementos que a compõem. Em qual das frases a seguir, pelo mesmo motivo, temos que adicionar uma vírgula antes do “E” para que a frase fique correta?

- A) A consciência ecológica, pressuposto tão importante, deve ser mais trabalhada com os alunos para que compreendam **e** saibam explicar com mais profundidade a razão da preservação da Terra.
- B) É importante ressaltar que, apesar de tudo, a conferência foi organizada sem o patrocínio da rede privada **e** sem que os participantes precisassem arcar com qualquer custo adicional.
- C) Muitas pesquisas são necessárias nas práticas médicas nas cidades **e** estados antes da realização dessas conferências.
- D) Temos de garantir que os médicos exerçam as suas funções de forma honesta, condição mínima para um bom tratamento **e** que estejam sempre acessíveis aos doentes.
- E) Os vencedores foram convidados a participar da conferência como convidados da comissão organizadora **e** solicitados a apresentar seus trabalhos na conferência, motivo pelo qual todos ficaram contentes.

05 Leia o trecho a seguir:

Da mesma forma, as **perdas** de movimentos voluntários provocadas por derrames, paralisia cerebral, esclerose múltipla ou traumatismos medulares que desconectam os centros cerebrais do restante do corpo, **poderão** ser tratadas e corrigidas por meio dessas novas tecnologias.

Quando lemos alguns textos, é comum encontramos construções em que há uma distância muito grande entre o sujeito da frase e o verbo que corresponde a ele. Na frase citada, por exemplo, o verbo “poder” vai para o plural (“poderão”) porque está concordando com o núcleo “perdas”, que aparece muitas palavras antes. Em função dessa distância ou da inversão da posição sujeito/verbo, é comum as pessoas errarem a concordância em algumas frases. Assinale a alternativa em que ocorreu um ERRO de concordância.

- A) Internacionalmente e também no Brasil vêm sendo discutidas as inconsistências da tentativa de utilizar uma diretriz de revisão ética única para todas as pesquisas em saúde.
- B) Embora tenha ocorrido apenas na esfera privada, esses problemas ainda permanecem sem solução, tanto aqui quanto na Europa.
- C) Trata-se, apesar de tudo, de questões essenciais para a saúde e o bom desempenho funcional dos indivíduos que trabalham nessa empresa.
- D) Já houve, tanto na esfera pública quanto na esfera privada, diversas manifestações de descontentamento com o salário que se paga aos funcionários.
- E) Intervêm, em situações muito semelhantes a essa, tantos fatores aleatórios que não há como prevê-los com muita antecedência.

06 Analise as frases a seguir.

- A. Não podemos afirmar por que o cliente está bravo.
- B. Não podemos afirmar porque o cliente está bravo.
- C. O cliente está bravo e não sabemos afirmar por quê.

Avalie os comentários sobre essas frases, assinando (V) para verdadeiro e (F) para falso.

- () Na frase A, não sabemos qual é a razão de o cliente estar bravo.
- () Na frase B, o motivo pelo qual não podemos afirmar algo é o fato de o cliente estar bravo.
- () A frase C tem o mesmo sentido que o da frase A.
- () A frase C está gramaticalmente incompleta.

Assinale a sequência correta, de cima para baixo.

- A) V – F – V – F
- B) V – F – F – F
- C) V – V – V – F
- D) F – V – F – V
- E) V – F – F – V

07 Leia com atenção o trecho a seguir.

A ambiguidade é um problema de construção na produção da mensagem. Ela se dá a partir de vários fatores.

Como você deve ter observado, o pronome “ela” pode ter vários referentes (pode ser “ambiguidade”, “construção”, “produção” ou “mensagem”), por isso, essa construção é considerada ambígua. Agora, analise as frases a seguir.

- I. Atlético quebra invencibilidade do São Paulo em casa.
- II. O deputado falou para os seus colegas que suas observações, quanto ao relatório apresentado, não deveriam ser revistas.
- III. Policial atira em assaltante com arma de brinquedo em São Paulo.

Assinale a alternativa que contém um comentário INCORRETO sobre essas frases.

- A) A frase I é ambígua e uma das possibilidades de reconstruí-la sem ambiguidade seria a seguinte: “Em casa, Atlético quebra invencibilidade do São Paulo”.
- B) A frase II é ambígua e uma das possibilidades de reconstruí-la sem ambiguidade seria a seguinte: “O deputado falou para os seus colegas que as observações dele, quanto ao relatório apresentado, não deveriam ser revistas”.
- C) A frase II é ambígua e uma das possibilidades de reconstruí-la sem ambiguidade seria a seguinte: “O deputado falou para os seus colegas que as observações deles, quanto ao relatório apresentado, não deveriam ser revistas”.
- D) A frase III é ambígua e uma das possibilidades de reconstruí-la sem ambiguidade seria a seguinte: “Policial atira em assaltante que estava com arma de brinquedo”.
- E) A frase III é ambígua e uma das possibilidades de reconstruí-la sem ambiguidade seria a seguinte: “Policial atira em assaltante portando uma arma de brinquedo”.

08 Observe a sequência de frases a seguir.

- I. A moça saiu ontem à tarde. Assisti ao filme da moça.
- II. A moça a cujo filme assisti saiu ontem à tarde.

Como você observou, houve adequação no uso do pronome relativo e obediência à regência verbal da norma padrão escrita. Assinale a alternativa em que houve erro em II na junção das frases contidas em I.

- A) I. A moça saiu ontem à tarde. Reconheci a moça durante a festa.
II. A moça que reconheci durante a festa saiu ontem à tarde.
- B) I. A moça saiu ontem à tarde. Simpatizei com as ideias da moça.
II. A moça com cujas ideias simpatizei saiu ontem à tarde.
- C) I. A moça saiu ontem à tarde. Todos dispuseram das brilhantes ideias da moça.
II. A moça de cujas brilhantes ideias todos simpatizaram saiu ontem à tarde.
- D) I. A moça saiu ontem à tarde. Concordo plenamente com as ideias da moça.
II. A moça cujas ideias concordo plenamente saiu ontem à tarde.
- E) I. A moça saiu ontem à tarde. Todos adoram a moça.
II. A moça que todos adoram saiu ontem à tarde.

09 Leia as palavras a seguir.

- I. fábrica
- II. revólver
- III. decretará

Assinale a alternativa que indica a(s) palavra(s) cuja retirada do acento implica mudança de classe gramatical.

- A) somente em I.
- B) somente em II.
- C) somente em III.
- D) somente em I e II.
- E) em I, II e III.

10 Leia os quadrinhos a seguir.



Laerte. In: <<http://literarizando.wordpress.com/2011/04/11/figuras-de-linguagem-ironia-e-eufemismo/>>

Assinale a alternativa que contém uma afirmação INCORRETA sobre os quadrinhos de Laerte.

- A) À medida que o personagem de óculos ameaça, o outro personagem (à esquerda de cada quadrinho) vai amenizando as acusações que faz contra ele.
- B) No terceiro quadrinho, o autor emprega a forma verbal “espera”. Mantendo a uniformidade de tratamento, caso quisesse substituir esse verbo pelo verbo “escutar”, empregaria a forma “escute”.
- C) O último quadrinho mostra a ironia do autor ao colocar o personagem da esquerda invertendo completamente aquilo que tinha a dizer sobre o outro.
- D) No terceiro e quarto quadrinhos, o autor transforma os pontos de exclamações em pontos de interrogações, transformando suas afirmações em indagações.
- E) No primeiro quadrinho, há uma acusação aberta contra o outro, mas, à medida que os quadrinhos evoluem, vai havendo uma suavização dessas mesmas acusações.

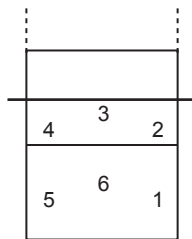
RACIOCÍNIO LÓGICO-MATEMÁTICO

11 Carlos é fisioterapeuta e trabalha em um Estúdio de Pilates. Ele atende até três pacientes por sessão e cada sessão dura 45 minutos. Carlos recebe R\$ 25,00 por sessão de Pilates de cada cliente atendido, independente do número de clientes na sessão. Certa manhã, Carlos observou que sua agenda estava praticamente lotada, pois tinha sessões programadas a partir das 8h 00min até as 12h 30min, sem intervalos, e que apenas na última sessão havia um único paciente para atender, sendo que nas demais sessões havia três pacientes. Assinale a alternativa que apresenta o valor total recebido, por Carlos, naquela manhã.

- A) R\$ 1.000,00
- B) R\$ 675,00
- C) R\$ 450,00
- D) R\$ 400,00
- E) R\$ 150,00

Observe a situação descrita abaixo e responda às questões 12 e 13 a seguir.

Filipe é o técnico de uma equipe de vôlei e escalou a equipe titular com os seguintes atletas: Joaquim, o Levantador; Jairo, o Oposto; Marcelo, Ricardo e Roberto, os Ponteiros; e Igor, o Meio de Rede. Para iniciar o jogo, Filipe precisa dispor os seis atletas em cada uma das seis possíveis posições, conforme figura ao lado. Porém, Joaquim e Jairo devem ficar em posições opostas (1 e 4, 3 e 6 ou 2 e 5).



12 Assinale a alternativa que apresenta o número máximo de disposições iniciais diferentes que Filipe pode fazer com estes seis titulares, atendendo à restrição de oposição entre Joaquim e Jairo.

- A) 200
- B) 144
- C) 125
- D) 75
- E) 36

13 Se Filipe desejar ainda que Igor, o Meio de Rede, inicie a partida na posição 3, assinale a alternativa que apresenta o número máximo de disposições iniciais diferentes que Filipe pode fazer com os outros cinco titulares, atendendo, ainda, à restrição de oposição entre Joaquim e Jairo.

- A) 120
- B) 48
- C) 24
- D) 20
- E) 5

14 Rogério é o Engenheiro Civil responsável por duas obras de mobilidade na cidade de Piraquara: a construção de um viaduto e a ampliação do terminal rodoviário. Ele montou duas equipes de servidores, uma para cada obra. Como a obra do viaduto é prioritária para a Prefeitura, a equipe do viaduto possui 7 servidores a mais que a outra equipe. Ao todo, foram selecionados 33 servidores para as duas obras. Assim, pode-se afirmar que _____ servidores estão trabalhando na construção do viaduto e _____ servidores estão trabalhando na ampliação do terminal rodoviário.

Assinale a alternativa que apresenta os valores corretos para preencher os espaços vazios no parágrafo acima, ou seja, o número de servidores trabalhando nas equipes de construção do viaduto e de ampliação do terminal rodoviário, respectivamente.

- A) 20; 13.
- B) 10; 17.
- C) 13; 20.
- D) 22; 15.
- E) 33; 26.

15 Uma das atribuições de um fonoaudiólogo é realizar exames de audiometria nos servidores da Prefeitura Municipal. Como possui outras atribuições, o fonoaudiólogo dedica três dias por semana para realizar os exames, e realiza, em média, 18 exames por semana. Considerando que a Prefeitura Municipal possui 258 servidores, assinale a alternativa que apresenta o tempo total para concluir todos os exames.

- A) 43 dias
- B) 40 dias
- C) 34 dias
- D) 28 dias
- E) 19 dias



16 José Luís é Técnico em Construções da Prefeitura de Piraquara. Sua função inclui vistoria de obras. Atualmente ele está vistoriando três obras: uma reforma nos banheiros da Câmara Municipal de Piraquara (Obra 1), uma ampliação e modernização de todas as salas de reuniões da Prefeitura Municipal de Piraquara (Obra 2) e a restauração da fachada da Escola Municipal João Martins (Obra 3). Além da vistoria, ele precisa fazer a compra de material para cada obra. A tabela abaixo apresenta o custo de alguns materiais de construção orçados por José Luís.

Produtos	Embalagem	Preço
Cimento	Saco – 50 kg	R\$ 25,80
Azulejo	Caixa – 1 m ²	R\$ 7,30
Massa Corrida	Tambor – 18 L	R\$ 69,90
Argamassa	Saco – 20 kg	R\$ 9,70
Tinta Branca	Tambor – 18 L	R\$ 143,20

A Obra 1 solicitou 20 m² de azulejo, 40 kg de argamassa e 36 L de tinta branca. A Obra 2 solicitou 300 kg de cimento, 54 L de massa corrida e 18 L de tinta branca. A Obra 3 solicitou 120 kg de argamassa, 40 m² de azulejo e 72 L de massa corrida. Com base nestas informações, assinale qual das alternativas abaixo está **INCORRETA**.

- A) Com o preço de uma embalagem de Tinta Branca pode-se comprar 5 embalagens de cimento.
- B) A diferença entre o maior e o menor custo de materiais entre as obras é de R\$ 178,00.
- C) O custo dos materiais solicitados na Obra 2, ampliação e modernização de todas as salas de reuniões da Prefeitura Municipal, é de R\$ 507,70.
- D) O custo dos materiais solicitados na Obra 1, reforma nos banheiros da Câmara Municipal, foi o menor dos três, totalizando R\$ 451,80.
- E) Se José Luís comprar apenas o cimento e a massa corrida solicitados pela Obra 2, gastará R\$ 365,40.

Observe as informações descritas abaixo e responda às questões 17 e 18 a seguir.

A Lei Municipal 911, de 24 de setembro de 2007, em seu Anexo 03, prevê a quantidade mínima de vagas de estacionamento para diversos tipos de edificações. O quadro abaixo apresenta algumas destas quantidades:

Tipo de Edificação	Número de Vagas
Prestação de Serviços	1 vaga a cada 50 m ²
Comércio Varejista	1 vaga a cada 40 m ²
Uso Religioso	1 vaga a cada 30 m ²

Um Arquiteto da Prefeitura foi designado para avaliar os projetos apresentados para receber alvará de construção e verificar se estão adequados a esta legislação.

17 Um dos projetos apresentados à Prefeitura para avaliação do Arquiteto é de um Supermercado que, segundo o projeto, será construído na forma de um galpão retangular com largura total de 28 m e comprimento total de 42 m. Assinale, então, a alternativa que apresenta a quantidade mínima de vagas de estacionamento que o Supermercado deverá disponibilizar para estar adequado à Lei Municipal 911/2007.

- A) 40 vagas
- B) 35 vagas
- C) 30 vagas
- D) 25 vagas
- E) 20 vagas

18 Com base na Lei Municipal 911/2007 citada, analise os projetos abaixo quanto a sua adequação a esta legislação.

- I. O projeto de um salão de beleza apresenta área total edificada de 627 m², e prevê 12 vagas de estacionamento.
- II. O projeto de uma igreja evangélica prevê 45 vagas de estacionamento e sua área total da edificação não ultrapassa 1350 m².
- III. O projeto de uma loja de departamentos apresenta área total edificada de 1964,5 m² e prevê 45 vagas de estacionamento, logo serão necessárias ao menos 3 novas vagas.

Julgue os projetos acima e assinale a alternativa correta abaixo.

- A) Todos os projetos estão adequados à Lei Municipal 911/2007.
- B) Nenhum dos projetos está adequado à Lei Municipal 911/2007.
- C) Apenas o projeto I está adequado à Lei Municipal 911/2007.
- D) Apenas o projeto II está adequado à Lei Municipal 911/2007.
- E) Apenas o projeto III está adequado à Lei Municipal 911/2007.



19 Eunice é Técnica em Higiene Dental em uma Unidade de Saúde de Piraquara. Certo dia, após a triagem, ficou definido que Eunice deveria atender 8 pacientes com as seguintes características: 2 pacientes encaminhados para remoção de placa e tártaro através de raspagem; 2 pacientes encaminhados para demonstração de técnicas de escovação visando prevenir a cárie dental; 3 pacientes encaminhados para polimento de restauração; 1 paciente encaminhado para remoção de sutura. Como nenhum caso apresentava urgência, Eunice sorteou dentre os oito casos qual seria o primeiro a ser atendido. Assinale a alternativa que apresenta a probabilidade de Eunice ter sorteado um paciente que necessita de polimento de restauração.

- A) 0,08
- B) 0,25
- C) 0,333
- D) 0,35
- E) 0,375

20 César é Técnico em Enfermagem e recebeu as prescrições de um médico para administrar o medicamento ANTIDOREX em quatro pacientes diferentes (A, B, C e D). Este medicamento vem no estado líquido em um frasco de 50 mL, com a seguinte informação “ANTIDOREX 2,5 mg/mL” e para sua administração é diluído em soro e aplicado intravenoso. Abaixo está a prescrição, feita pelo médico responsável, para cada paciente.

Paciente	Idade / Doença	Prescrição
A	12 anos/Dor de cabeça	20 mg de ANTIDOREX
B	18 anos/Dor de dente	15 mg de ANTIDOREX
C	29 anos/Dor no joelho esquerdo	65 mg de ANTIDOREX
D	42 anos/Dor nas costas	100 mg de ANTIDOREX

Com base nessas informações, julgue os itens abaixo marcando Verdadeiro (V) ou Falso (F).

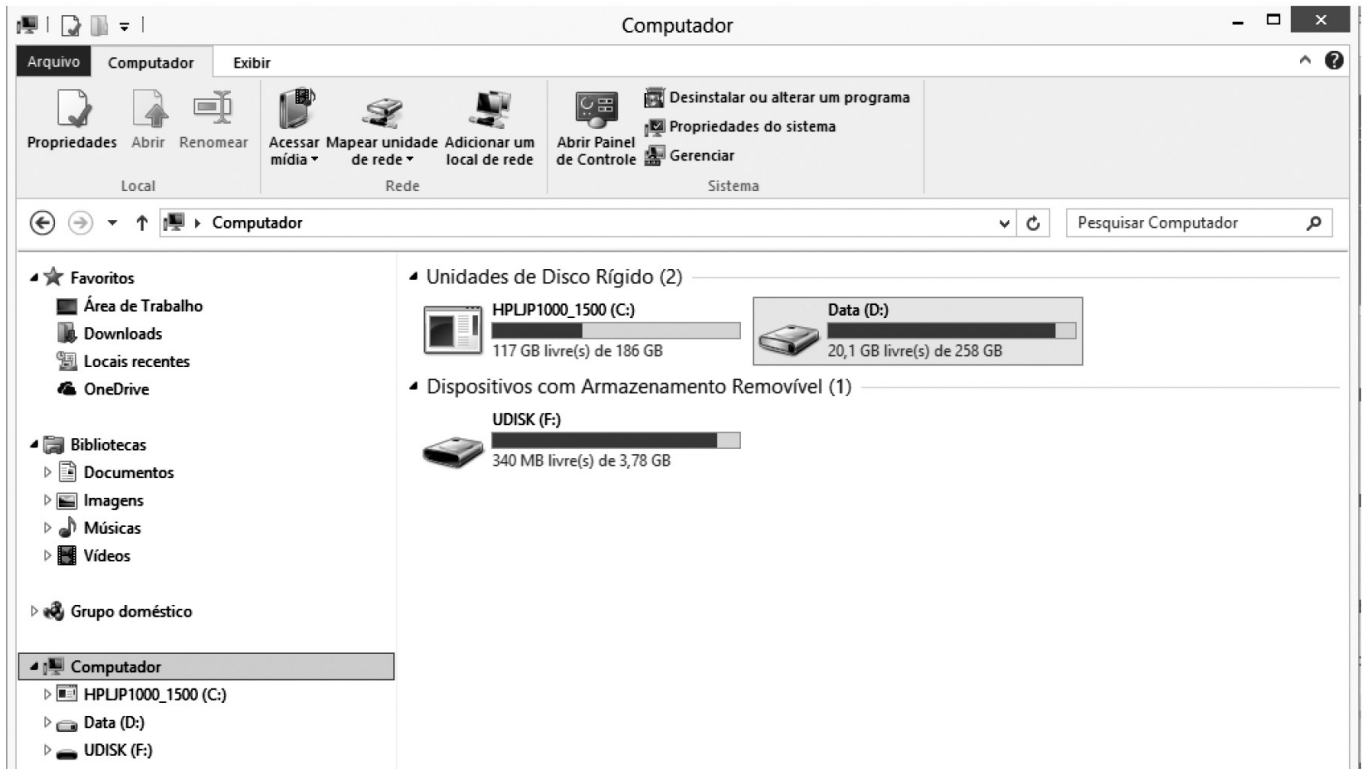
- () César deverá administrar 9 mL de ANTIDOREX para o paciente A.
- () César deverá administrar 6 mL de ANTIDOREX para o paciente B.
- () César deverá administrar exatamente metade de um frasco de ANTIDOREX para o paciente C.
- () César deverá administrar para o paciente D o quádruplo da dose administrada ao paciente A, ou seja, 40 mL de ANTIDOREX.
- () Para administrar a medicação aos quatro pacientes, César necessita de 3 frascos de ANTIDOREX, ao menos, já que juntos os pacientes receberão mais que 100 mL do medicamento.

Assinale a alternativa que apresenta, de cima para baixo, a sequência correta:

- A) V – F – F – V – F
- B) F – V – F – V – F
- C) F – F – V – V – F
- D) V – V – V – F – V
- E) F – V – V – V – V



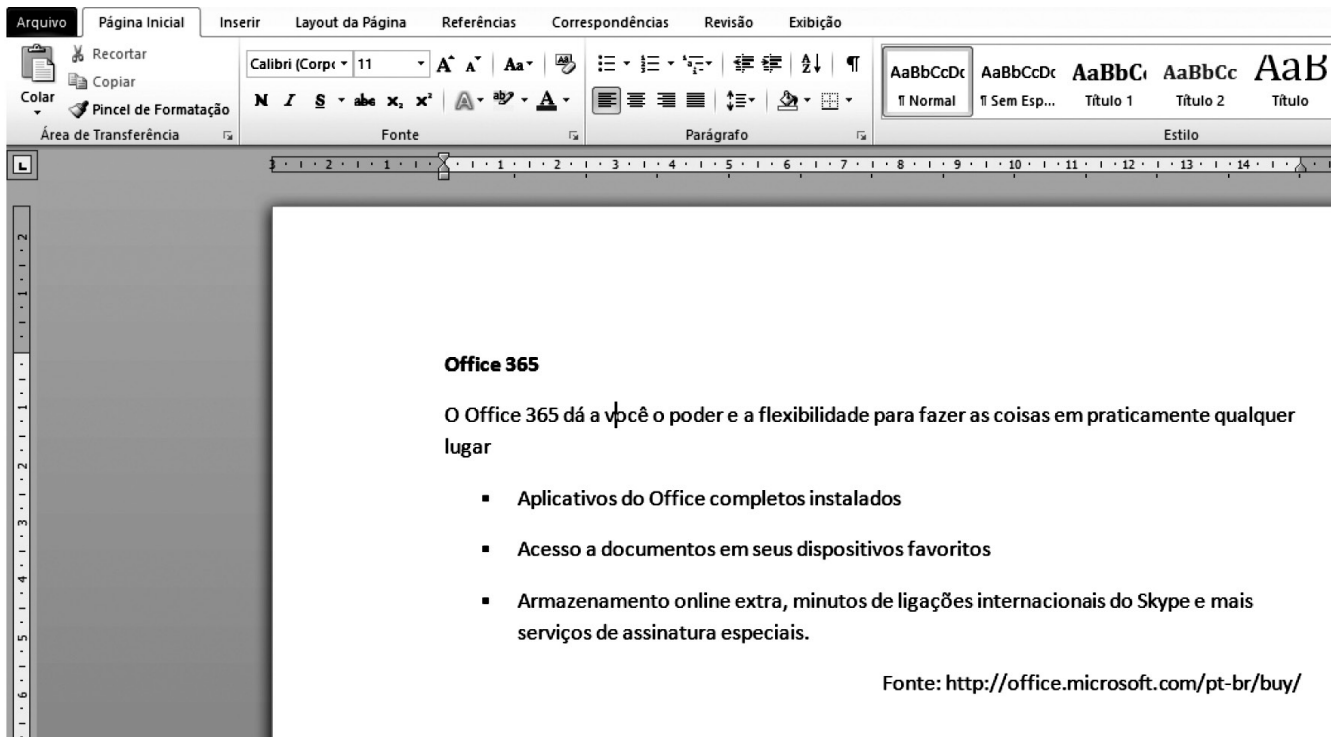
INFORMÁTICA










21 A figura acima mostra uma janela do Windows Explorer do Sistema Operacional Windows 8. Analisando a figura, pode-se afirmar corretamente que:

- A) o computador possui 3 ou mais unidades de HD instalados.
- B) há um dispositivo de armazenamento removível conectado ao computador.
- C) há um *pen drive* conectado ao computador por meio de uma porta AGP.
- D) não há *pen drive* algum conectado ao computador.
- E) não é possível abrir o Painel de Controle através dessa janela.

	A	B	C	D
1				
2	Funcionário	Sexo	Idade	
3	Ana Paula	F	24	
4	João Alfredo	M	36	
5	Luiz Guimarães	M	28	
6	Paula Fonseca	F	48	
7			34	



22 Acerca do Microsoft Word 2010 e do texto digitado conforme mostra a figura acima, assinale a alternativa correta:

- A) A fonte utilizada no texto é Calibri (Corpo) tamanho 11.
- B) Para colocar o efeito sublinhado no título do texto e centralizá-lo, basta selecionar o título, pressionando as teclas  +  e, em seguida, clicando nos botões  e .
- C) Ao pressionar as teclas  +  e, em seguida, clicar no botão , será aplicado o efeito realce em todo o texto.
- D) A opção para Salvar o documento está na Guia Layout da Página, grupo Edições.
- E) Não é possível imprimir o documento sem antes salvá-lo em um dispositivo de armazenamento como o HD ou *pen drive*.

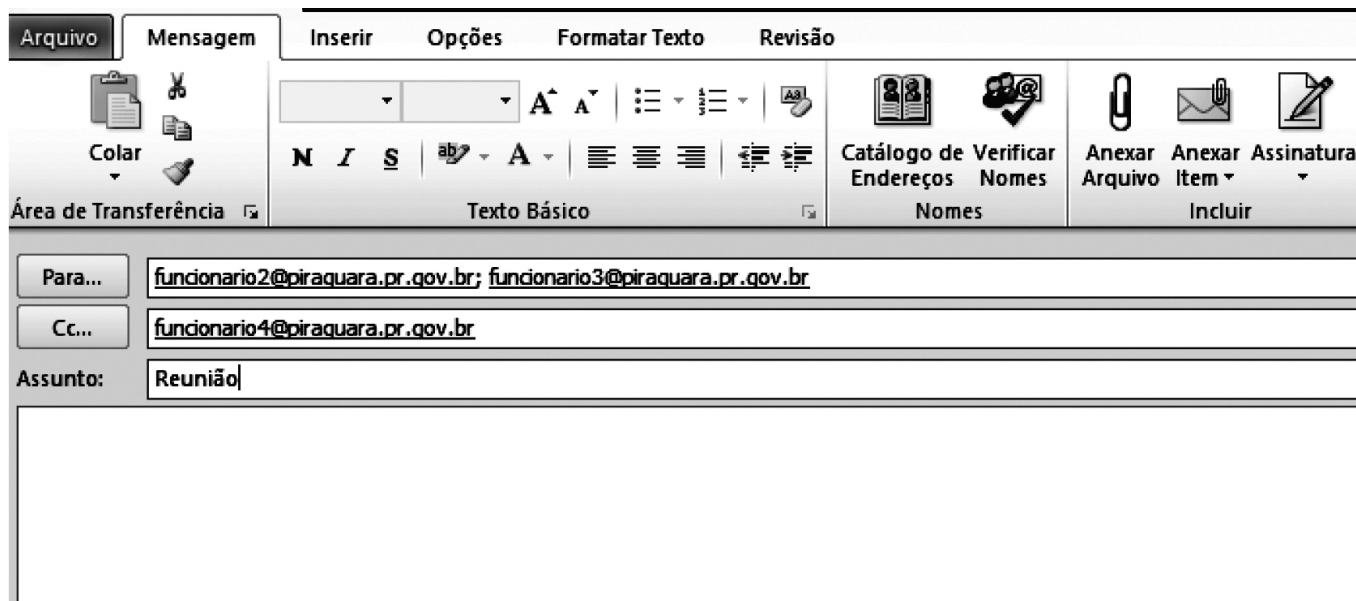
23 Acerca da Internet e da Intranet, analise as afirmações a seguir:

- I. A Internet é uma rede privada e a Intranet é uma rede pública na qual não é permitido o uso de servidores, pois cada máquina conectada na rede é denominada cliente.
- II. É o provedor que fornece o login e a senha para acesso à Internet.
- III. Na Internet, cada página www possui um endereço único, que é chamado URL.


Assinale a alternativa correta:

- A) Todas as afirmativas estão corretas.
- B) Todas as afirmativas estão incorretas.
- C) Somente as afirmativas II e III estão corretas.
- D) Somente as afirmativas I e II estão corretas.
- E) Somente a afirmativa I está correta.

24 O correio eletrônico é um serviço que permite aos seus usuários trocarem mensagens entre si. Essa comunicação acontece porque cada um dos usuários possui um endereço único, que localiza um espaço conhecido como Caixa Postal. A caixa postal de um usuário apresenta um endereço no formato usuario@dominio. O funcionário1 da Prefeitura Municipal de Piraquara enviou um e-mail, utilizando o Microsoft Outlook 2010 para comunicar sobre a data de uma reunião. Ao analisar a imagem abaixo, é correto afirmar:




A) O destinatário funcionario4@piraquara.pr.gov.br, ao receber o e-mail, respondeu somente ao funcionário1,

clicando no botão  Responder a Todos

B) Os destinatários funcionario2@piraquara.pr.gov.br e funcionario3@piraquara.pr.gov.br não sabem que o destinatário funcionario4@piraquara.pr.gov.br está participando da conversa, pois este é cópia oculta.

C) O destinatário funcionario4@piraquara.pr.gov.br está no campo Cópia Oculta de modo que se ele responder à

mensagem utilizando a opção  Responder a Todos, somente o funcionario1@piraquara.pr.gov.br receberá o e-mail.

D) O remetente funcionario1@piraquara.pr.gov.br poderá anexar arquivos utilizando esta janela do Microsoft Outlook 2010.

E) O remetente funcionario1@piraquara.pr.gov.br só poderá enviar a mensagem aos destinatários caso seus endereços eletrônicos estejam na lista de contatos do Microsoft Outlook 2010.

CONHECIMENTOS ESPECÍFICOS

25 A realidade brasileira nos apresenta famílias em diferentes situações socioeconômicas, que induzem à violação dos direitos de seus membros, em especial de suas crianças, adolescentes, jovens, idosos e pessoas com deficiência.

Acerca da Proteção Social Especial (PSE), analise as afirmativas a seguir:

- I. Para integrar as ações da Proteção Especial, é necessário que o cidadão esteja enfrentando situações de violações de direitos por ocorrência de violência física ou psicológica, abuso ou exploração sexual.
- II. Os serviços de Proteção Social Especial atuam diretamente ligados com o sistema de garantia de direito, exigindo uma gestão mais complexa e compartilhada com o Poder Judiciário, o Ministério Público e com outros órgãos e ações do Executivo.
- III. Destina-se a famílias e indivíduos em situação de risco pessoal ou social, cujos direitos tenham sido violados.
- IV. As atividades da Proteção Social Especial são diferenciadas de acordo com níveis de complexidade (média ou alta) e conforme a situação vivenciada pelo indivíduo ou família.
- V. O Centro de Referência Especializada em Assistência Social (CREAS) é a unidade pública estatal que oferta serviços da proteção especial, especializados e continuados, gratuitamente a famílias e indivíduos em situação de violação de direitos.

Assinale a alternativa correta:

- A) Somente as afirmativas I e IV estão corretas.
- B) Somente as afirmativas I, II e IV estão corretas.
- C) Somente as afirmativas III, IV e V estão corretas.
- D) As afirmativas I, II, III, IV e V estão corretas.
- E) Somente as afirmativas IV e V estão corretas.

26 O atendimento se constitui por um tipo de articulação em conjunto amplo e dinâmico de organizações diversas, em torno de interesses comuns, que realizam ações complementares em um processo unitário e coerente de decisões, estratégias e esforços. Essas ações em parceria realizam seus processos e se vinculam de maneira horizontal, de interdependência e complementaridade. (CARVALHO e GUARÁ, 1995).

Acerca do texto citado, os autores se referem a que tipo de atendimento?

- A) Entre profissional e usuário.
- B) Entre os usuários dos serviços, profissionais e instituição.
- C) Individualizado.
- D) Coletivo.
- E) Em rede.

27 De acordo com a Lei 8.662, de 7 de junho de 1993, que dispõe no seu artigo 5.º sobre as atribuições privativas do Assistente Social, estas constituem em: realizar vistorias, perícias técnicas, laudos periciais, informações e pareceres sobre a matéria de Serviço Social. Acerca de alguns dos procedimentos e instrumentos utilizados pelo profissional do Serviço Social, numere a coluna da direita de acordo com sua correspondência com a coluna da esquerda.

1. Perícia Social () É um processo metodológico específico do Serviço Social, que tem por finalidade conhecer com profundidade, e de forma crítica, uma determinada situação ou expressão da questão social, objeto da intervenção profissional.
2. Estudo Social () Pode ser considerada como um processo através do qual um especialista, no caso o Assistente Social, realiza um exame das situações sociais com a finalidade de emitir um parecer sobre elas.
3. Parecer Social () Documento resultante da Perícia Social, apresenta informações mais significativas e relevantes do estudo e da análise realizada.
4. Laudo Social () É uma opinião fundamentada que o Assistente Social emite sobre a situação estudada.

Assinale a alternativa que apresenta, de cima para baixo, a sequência numérica correta:

- A) 2 – 3 – 1 – 4
- B) 2 – 1 – 4 – 3
- C) 4 – 1 – 2 – 3
- D) 3 – 1 – 4 – 2
- E) 1 – 2 – 3 – 4



28 Para (IAMAMOTO, 1999 et al) as bases _____ no Serviço Social permitiram compreender que as ações profissionais estão profundamente condicionadas pelas relações entre as classes na sociedade capitalista e que elas interferem na produção do material e social do trabalho, tanto por meio das ações materiais como das ações de cunho sociopolítico e cultural. Ou seja, participaram da reprodução das relações sociais que se fazem por meio da reprodução de valores, de modos de vida e de práticas culturais e políticas.

Assinale a alternativa cuja expressão preenche corretamente a lacuna do texto acima:

- A) da transformação social
- B) dos conflitos sociais
- C) da racionalidade da ação do Assistente Social
- D) do pensamento crítico dialético
- E) das correlações de forças no marco das quais se exerce a intervenção

29 Sobre o Sistema Único de Saúde (SUS), Lei 8.080, de 19 de setembro de 1990, disposto no seu artigo 5.º, é correto afirmar que são seus objetivos:

(Marque V para a(s) verdadeira(s) e F para a(s) falsa(s)):

- () A identificação e divulgação dos fatores condicionantes e determinantes da saúde.
- () Preservação da autonomia das pessoas na defesa de sua integridade física e moral.
- () Divulgação de informações quanto ao potencial dos serviços de saúde e à sua utilização pelo usuário.
- () Descentralização político-administrativa, com direção única em cada esfera de governo.
- () A assistência às pessoas por intermédio de ações de promoção, proteção e recuperação da saúde, com a realização integrada das ações assistenciais e das atividades preventivas.

Assinale a alternativa que, de cima para baixo, apresenta a sequência correta:

- A) V – F – F – F – V
- B) V – V – F – F – V
- C) V – F – F – V – V
- D) F – F – V – V – F
- E) V – F – V – F – V

30 Assinale a alternativa que completa corretamente o caput do artigo 3.º da Lei 8.212, de 24 de julho de 1991, que dispõe sobre a organização da Seguridade Social: “A Previdência Social tem por fim assegurar aos seus beneficiários meios indispensáveis de manutenção, por motivo de _____ daqueles de quem dependiam economicamente”.

- A) incapacidade laborativa, idade avançada, tempo de contribuição, desemprego involuntário, encargos de família e reclusão ou morte
- B) incapacidade, idade avançada, tempo de contribuição, desemprego voluntário, encargos de família e reclusão ou invalidez
- C) incapacidade laborativa, idade avançada, tempo de serviço, desemprego involuntário, encargos sociais e reclusão ou morte
- D) incapacidade, idade avançada, tempo de serviço, desemprego involuntário, encargos de família e reclusão ou morte
- E) incapacidade laborativa, idade avançada, tempo de serviço, desemprego involuntário, encargos de família e reclusão ou invalidez permanente

31 Acerca da Lei 8.213, de 24 de julho de 1991, que dispõe sobre os Planos de Benefícios da Previdência Social, é correto afirmar que a Previdência Social rege-se por alguns dos seguintes princípios e objetivos listados abaixo, conforme disposto no seu artigo 2.º Assinale a alternativa que apresenta tais princípios:

- A) Universalidade, uniformidade e equivalência, seletividade e distributividade, irredutibilidade, caráter democrático e descentralizado.
- B) Universalidade, uniformidade e ambivalência, seletividade e distributividade, redutibilidade, caráter democrático e gestão centralizada.
- C) Universalidade, uniformidade, seletividade e diversidade, irredutibilidade, caráter democrático e descentralizado.
- D) Universalidade, uniformidade e equivalência, seletividade e setorialidade, irredutibilidade, caráter democrático e centralizado.
- E) Universalidade, equidade e equivalência, seletividade e distributividade, redutibilidade, caráter democrático e interventivo.

32 Assinale a alternativa que completa corretamente o texto a seguir:

Conforme o artigo 16.º da Lei 8.742, de 7 de dezembro de 1993, da Lei Orgânica de Assistência Social, as instâncias deliberativas do Sistema Único de Assistência Social (Suas), de caráter permanente e composição paritária entre governo e sociedade civil, são _____

- A) O Conselho Nacional de Assistência Social, os Conselhos Estaduais de Assistência Social e os Conselhos Municipais de Assistência Social.
- B) O Conselho Nacional de Assistência Social, os Conselhos Estaduais de Assistência Social, o Conselho de Assistência Social do Distrito Federal e os Conselhos Municipais de Assistência Social.
- C) O Conselho Nacional de Assistência Social, os Conselhos Estaduais de Assistência Social, o Conselho de Assistência Social do Distrito Federal e o Sistema Único de Saúde.
- D) O Conselho Nacional de Assistência Social, os Conselhos Estaduais de Assistência Social, o Conselho de Assistência Social do Distrito Federal e o Ministério do Desenvolvimento Social e Combate a Fome.
- E) O Conselho Nacional de Assistência Social, os Conselhos Estaduais de Assistência Social, o Conselho de Assistência Social do Distrito Federal e os Conselhos Municipais de Assistência Social e Fundo Nacional de Assistência Social.

33 Assinale a alternativa INCORRETA com relação à Lei de Diretrizes e Bases da Educação (LDB):

- A) A educação abrange os processos formativos que se desenvolvem na vida familiar, na convivência humana, no trabalho, nas instituições de ensino e pesquisa, nos movimentos sociais e organizações da sociedade civil e nas manifestações culturais.
- B) A educação, dever da família e do Estado, inspirada nos princípios de liberdade e nos ideais de solidariedade humana, tem por finalidade o pleno desenvolvimento do educando, seu preparo para o exercício da cidadania e sua qualificação para o trabalho.
- C) A União, os Estados, o Distrito Federal e os Municípios organizarão e elaborarão de forma individualizada, o Plano de Educação dos seus respectivos sistemas de ensino.
- D) O acesso à educação básica obrigatória é direito público subjetivo, podendo qualquer cidadão, grupo de cidadãos, associação comunitária, organização sindical, entidade de classe ou outra legalmente constituída e, ainda, o Ministério Público, acionar o poder público para exigi-lo.
- E) Os sistemas de ensino assegurarão às unidades escolares públicas de educação básica que os integram progressivos graus de autonomia pedagógica e administrativa e de gestão financeira, observadas as normas gerais de direito financeiro público.

34 Estabelece o artigo 24-A, da Lei Orgânica de Assistência Social, que fica instituído o Serviço de Proteção e Atendimento Integral à Família (PAIF), que valoriza as heterogeneidades, particularidades e a diversidade de culturas do grupo familiar, considerando os diversos arranjos familiares existentes e partindo do pressuposto de que são funções básicas da família: prover a proteção e a socialização dos seus membros; constituir-se como referência moral e afetiva; ser mediadora das relações dos seus membros com outras instituições sociais e com o Estado. Neste contexto, assinale a alternativa correta em relação ao PAIF:

- A) Cabe ao Centro de Referência Especializado de Assistência Social (CREAS), por meio do trabalho social com famílias em situação de vulnerabilidade social, com o objetivo de prevenir o rompimento dos vínculos familiares e a violência no âmbito de suas relações, garantindo o direito à convivência familiar e comunitária.
- B) Integra o Centro de Atenção Psicossocial (CAPS), por atenderem situações comumente relacionadas ao uso de substâncias psicoativas.
- C) Cabe aos Serviços de Proteção Especial de Alta Complexidade, por meio do trabalho social com famílias em situação de vulnerabilidade social, com o objetivo de prevenir o rompimento dos vínculos familiares e a violência no âmbito de suas relações, garantindo o direito à convivência familiar e comunitária.
- D) Integra o Centro de Referência de Assistência Social (CRAS), que é a unidade pública de abrangência e gestão municipal, estadual ou regional, destinada à prestação de serviços a indivíduos e famílias que se encontram em situação de risco pessoal ou social, por violação de direitos ou contingência, que demandam intervenções especializadas da proteção social especial.
- E) Integra a proteção social básica e consiste na oferta de ações e serviços socioassistenciais de prestação continuada, nos Centros de Referência de Assistência Social (CRAS).

35 Numere a coluna da direita de acordo com a sua correspondência com a coluna da esquerda:

1. Transferência () de renda () Previstos nos artigos 20 e 21 da Lei Orgânica de Assistência Social (LOAS), n.º 8742/93, é provido pelo governo federal, consistindo no repasse de 1 (um) salário mínimo mensal ao idosos (com 65 anos ou mais) e à pessoa com deficiência que comprove não ter meios para suprir sua sobrevivência ou de tê-la suprida por sua família. Esse benefício compõe o nível de proteção social básica, sendo o repasse efetuado diretamente ao beneficiário.
2. Benefício de Prestação Continuada () São previstos no artigo 22 da LOAS, e visam ao pagamento de auxílio por natalidade ou morte, ou ainda que visem atender às necessidades advindas de situações de vulnerabilidade temporária, com prioridade para a criança, a família, a pessoa idosa, a pessoa com deficiência, a gestante, a nutriz e nos casos de calamidade pública.
3. Benefícios Eventuais () Programas que visam ao repasse de recursos dos fundos de assistência social aos beneficiários como forma de acesso à renda, visando ao combate à fome, à pobreza e a outras formas de privatização de direitos que levem à situação de vulnerabilidade social, criando possibilidades para a emancipação, o exercício da autonomia das famílias e indivíduos e o desenvolvimento local.

Assinale a alternativa que, de cima para baixo, apresenta a sequência correta:

- A) 1 – 3 – 2
B) 2 – 3 – 1
C) 3 – 2 – 1
D) 1 – 2 – 3
E) 3 – 1 – 2

36 De acordo com a Lei Orgânica de Assistência Social (LOAS), no seu artigo 4.º, a Assistência Social rege-se pelos seguintes princípios, EXCETO pela:

- A) supremacia do atendimento às necessidades sociais sobre as exigências de rentabilidade econômica.
B) universalização dos direitos sociais, a fim de tornar o destinatário da ação assistencial alcançável pelas demais políticas públicas.
C) respeito à dignidade do cidadão, à sua autonomia e ao seu direito a benefícios e serviços de qualidade, bem como à convivência familiar e comunitária, vedando-se qualquer comprovação vexatória de necessidade.
D) igualdade de direitos no acesso ao atendimento, sem discriminação de qualquer natureza, garantindo-se equivalência às populações urbanas e rurais.
E) implementar a gestão do trabalho e a educação permanente na assistência social.

37 Leia com atenção o texto a seguir e as suas possíveis complementações:

Conforme o art. 4.º da Lei 8.069/90, Estatuto da Criança e do Adolescente (ECA), é dever da família, da comunidade, da sociedade em geral e do poder público assegurar, com absoluta prioridade, a efetivação dos direitos referentes à vida, à saúde, à alimentação, à educação, ao esporte, ao lazer, à profissionalização, à cultura, à dignidade, ao respeito, à liberdade e à convivência familiar e comunitária. A garantia de prioridade compreende _____.

(marque V para a(s) verdadeira(s) e F para a(s) falsa(s)):

- () a primazia de receber proteção e socorro em quaisquer circunstâncias; precedência de atendimento nos serviços públicos.
() a primazia de receber proteção e socorro em situações de flagrante delito ou desastre; precedência de atendimento nos serviços públicos.
() a proteção à vida e à saúde, mediante a efetivação de políticas sociais públicas que permitam o nascimento e o desenvolvimento sadio e harmonioso, em condições dignas de existência.
() a preferência na formulação e na execução das políticas sociais públicas; destinação privilegiada de recursos públicos nas áreas relacionadas com a proteção à infância e à juventude.
() o direito a opinião e expressão; participar da vida familiar e comunitária, sem discriminação; buscar refúgio, auxílio e orientação.

Assinale a alternativa que apresenta, de cima para baixo, a sequência correta:

- A) F – V – F – F – V
B) F – F – V – V – V
C) V – F – F – V – V
D) V – F – F – V – F
E) V – V – F – F – F



38 Assinale a alternativa que completa corretamente o texto a seguir:

O artigo 15 da Lei 10.741/2003, que dispõe sobre o Estatuto do Idoso, determina que: “É assegurada a atenção integral à saúde do idoso, por intermédio do Sistema Único de Saúde – SUS, garantindo-lhe o acesso universal e igualitário, em conjunto articulado e contínuo das ações e serviços, para a prevenção, promoção, proteção e recuperação da saúde, incluindo a atenção especial às doenças que afetam preferencialmente os idosos”. Com base neste artigo, é correto afirmar que uma das maneiras de efetivar a prevenção e a manutenção da saúde do idoso é por meio de _____.

- A) atendimento domiciliar, incluindo a internação, para a população que dele necessitar e esteja impossibilitada de se locomover, inclusive para idosos abrigados e acolhidos por instituições públicas, filantrópicas ou sem fins lucrativos e eventualmente conveniadas com o Poder Público, nos meios urbano e rural.
- B) cadastramento da população idosa de baixa renda em base setorial.
- C) atendimento domiciliar, incluindo a internação, para a população que dele necessitar, inclusive para idosos abrigados e acolhidos por instituições públicas, filantrópicas ou sem fins lucrativos e eventualmente conveniadas com o Poder Público, nos meios urbanos.
- D) reabilitação orientada pelo clínico geral e por equipe multidisciplinar, para redução das sequelas decorrentes do agravo da saúde.
- E) atendimento ambulatorial, para a população que dele necessitar, inclusive para idosos abrigados e acolhidos por instituições públicas, filantrópicas ou sem fins lucrativos e eventualmente conveniadas com o Centro de Referência da Assistência Social (CRAS), nos meios urbano e rural.

39 Assinale a alternativa que completa corretamente o parágrafo 2 do artigo 19, da Lei 8.069, de 13 de julho de 1990:

A permanência da criança e do adolescente em programa de acolhimento institucional não se prolongará por mais de _____.

- A) 2 (dois) anos, salvo comprovada necessidade que atenda ao seu superior interesse, devidamente fundamentada pela autoridade judiciária.
- B) 1 (um) ano, salvo comprovada necessidade que atenda ao seu superior interesse, devidamente fundamentada pela autoridade judiciária.
- C) 6 (seis) meses, salvo comprovada necessidade que atenda ao seu superior interesse, devidamente fundamentada pela autoridade judiciária.
- D) 6 (seis) meses, podendo este prazo ser prorrogado por igual período, devidamente fundamentado pela autoridade judiciária.
- E) 1 (um) ano, podendo este prazo ser prorrogado por igual período, devidamente fundamentado pela autoridade judiciária.

40 Assinale a alternativa que apresenta a complementação correta do texto a seguir:

Segundo o artigo 19, da Lei 10.741/2003, que dispõe sobre o Estatuto do Idoso, os casos de suspeita ou confirmação de violência praticada contra idosos serão objeto de notificação compulsória pelos serviços de saúde públicos e privados à autoridade sanitária, bem como serão obrigatoriamente comunicados por eles a quaisquer dos seguintes órgãos: _____.

- A) Autoridade policial; Poder Público; Conselho Municipal do Idoso; Conselho Estadual do Idoso; Secretaria Nacional do Idoso.
- B) Autoridade policial; Ministério Público; Conselho Municipal do Idoso; Conselho Estadual do Idoso; Conselho Nacional do Idoso.
- C) Autoridade policial; Ministério Público; Secretaria Municipal do Idoso; Secretaria Estadual do Idoso; Secretaria Nacional do Idoso.
- D) Poder Público; Conselho Municipal do Idoso; Conselho Estadual do Idoso; Conselho Nacional do Idoso.
- E) Ministério Público; Centro Municipal de Assistência ao idoso; Centro Estadual de Assistência ao idoso; Conselho Nacional de Assistência ao Idoso.