

Concurso Público

## **008. PROVA OBJETIVA**

### **CONTADOR**

- ◆ Você recebeu sua folha de respostas e este caderno contendo 60 questões objetivas.
- ◆ Confira seu nome e número de inscrição impressos na capa deste caderno e na folha de respostas.
- ◆ Quando for permitido abrir o caderno, verifique se está completo ou se apresenta imperfeições. Caso haja algum problema, informe ao fiscal da sala.
- ◆ Leia cuidadosamente todas as questões e escolha a resposta que você considera correta.
- ◆ Marque, na folha de respostas, com caneta de tinta azul ou preta, a letra correspondente à alternativa que você escolheu.
- ◆ A duração da prova é de 3 horas e 30 minutos, já incluído o tempo para o preenchimento da folha de respostas.
- ◆ Só será permitida a saída definitiva da sala e do prédio após transcorridos 75% do tempo de duração da prova.
- ◆ Ao sair, você entregará ao fiscal a folha de respostas e este caderno, podendo levar apenas o rascunho de gabarito, localizado em sua carteira, para futura conferência.
- ◆ Até que você saia do prédio, todas as proibições e orientações continuam válidas.

**AGUARDE A ORDEM DO FISCAL PARA ABRIR ESTE CADERNO DE QUESTÕES.**



## CONHECIMENTOS GERAIS

### LÍNGUA PORTUGUESA

Leia o texto para responder às questões de números **01** a **07**.

#### *A ciência do humor*

Na média, nós rimos entre 15 e 20 vezes por dia. Mas a variação entre indivíduos é grande. E não só entre indivíduos. Mulheres riem mais do que homens, mas são piores contadoras de piadas. E, à medida que envelhecem, elas tendem a rir menos, o que não acontece com eles. Também preferimos (todos) rir à tarde e no início da noite.

Um bom estoque de informações como essas, além daquela que foi considerada a piada mais engraçada do mundo, está em *Ha!: The Science of When We Laugh and Why* (Ha!: a ciência de quando rimos e por quê), do neurocientista Scott Weems.

O livro é interessante sob vários aspectos. Além das já referidas trivialidades, cujo valor é intrínseco, Weems faz um bom apanhado de como andam os estudos do humor, campo que apenas engatinhava 30 anos atrás e hoje conta com sociedades e artigos dedicados ao tema.

O que me chamou a atenção, entretanto, é que o autor propõe um modelo um pouco diferente para compreender o humor, que seria um subproduto da forma como nosso cérebro processa as dezenas de informações conflitantes que recebe a cada instante. Embora nós gostemos de imaginar que usamos a lógica para avaliar as evidências e tirar uma conclusão, trabalhos neurocientíficos sugerem que a mente é o resultado de uma **cacofonia** de módulos e sistemas atuando em rede. Vence aquele módulo que grita mais alto. Frequentemente, o cérebro aproveita essa confusão para, a partir da complexidade, produzir ideias novas e criativas.

Quando essas ideias atendem a certos requisitos como provocar surpresa e apresentar algo que pareça, ainda que vagamente, uma solução para o conflito, achamos graça e sentimos prazer, que vem na forma de uma descarga de dopamina, o mesmo neurotransmissor envolvido no vício em drogas e no aprendizado.

Basicamente, o humor é o resultado **inopinado** de nosso modo de lidar com ambiguidades e complexidades.

(Hélio Schwartzman, *Folha de S.Paulo*, 13.04.2014. Adaptado)

- 01.** As informações apresentadas no primeiro parágrafo são consideradas, por Hélio Schwartzman, como
- (A) fictícias.
  - (B) triviais.
  - (C) complexas.
  - (D) revolucionárias.
  - (E) progressistas.
- 02.** De acordo com Hélio Schwartzman, o humor constitui um campo de pesquisa que
- (A) permanece inexplorado no meio acadêmico.
  - (B) está em estágio embrionário atualmente.
  - (C) se popularizou há pouco mais de 30 anos.
  - (D) dificilmente será tratado com seriedade.
  - (E) ganhou notabilidade há pouco tempo.

- 03.** Segundo Scott Weems, o humor decorre da maneira como
- (A) o indivíduo soluciona conflitos com o raciocínio lógico.
  - (B) a mente interpreta logicamente conteúdos irracionais.
  - (C) o cérebro humano processa informações conflitantes.
  - (D) a razão se surpreende diante de um problema insolúvel.
  - (E) o homem repete padrões para solucionar problemas com eficácia.
- 04.** O termo **cacofonia**, em destaque no quarto parágrafo, está empregado com o sentido de
- (A) lógica.
  - (B) confusão.
  - (C) similaridade.
  - (D) consonância.
  - (E) congruência.
- 05.** Um antônimo para o termo **inopinado**, em destaque no último parágrafo, é
- (A) súbito.
  - (B) fortuito.
  - (C) aleatório.
  - (D) previsível.
  - (E) acidental.
- 06.** Assinale a alternativa em que a frase – **Frequentemente**, o cérebro aproveita essa confusão para, **a partir da complexidade**, produzir ideias novas e criativas. – permanece pontuada corretamente, de acordo com a norma-padrão da língua portuguesa, após o deslocamento das expressões em destaque.
- (A) O cérebro, **frequentemente**, aproveita essa confusão para produzir ideias novas e criativas **a partir da complexidade**.
  - (B) O cérebro **frequentemente**, aproveita essa confusão para, produzir ideias novas e criativas, **a partir da complexidade**.
  - (C) O cérebro, **frequentemente** aproveita essa confusão para produzir, **a partir da complexidade** ideias novas e criativas.
  - (D) O cérebro aproveita **frequentemente**, essa confusão para produzir **a partir da complexidade**, ideias novas e criativas.
  - (E) O cérebro aproveita, **frequentemente** essa confusão para produzir, **a partir da complexidade**, ideias novas e criativas.

07. Considere as seguintes passagens do texto.

- E, **à medida que** envelhecem, elas tendem a rir menos, o que não acontece com eles.
- Quando essas ideias atendem a certos requisitos como provocar surpresa e apresentar algo que pareça, **ainda que** vagamente, uma solução para o conflito, achamos graça e sentimos prazer...


As expressões destacadas expressam, respectivamente, noções de

- (A) comparação e modo.
- (B) causa e condição.
- (C) tempo e finalidade.
- (D) proporção e concessão.
- (E) conformidade e consequência.

08. Assinale a alternativa em que a concordância está em conformidade com a norma-padrão da língua portuguesa.

- (A) No futuro, um breve acesso a nossas lentes digitais permitirão obter as informações que buscamos.
- (B) Em um piscar de olhos, haverão diversos dados sobre aquela pessoa que julgamos conhecer de algum lugar.
- (C) Uma consulta ao acervo digital fornecerá informações precisas sobre eventos que poderiam ter ficado esquecido facilmente.
- (D) Nossas ações poderão ser constantemente filmadas por câmeras distribuídas pelos lugares que frequentamos.
- (E) Atualmente já são fabricados óculos que dispõem de câmeras minúsculas, capaz de filmar tudo aquilo que olhamos.

09. Leia a tira e, em seguida, assinale a alternativa que completa, correta e respectivamente, as lacunas.



(Caco Galhardo, *Folha de S.Paulo*, 13.04.2014)

A frase **Em tese!**, no último quadrinho, equivale a \_\_\_\_\_ e expressa o desejo da personagem de \_\_\_\_\_ sua fala do primeiro quadrinho.

- (A) Potencialmente! ... reforçar
- (B) Eventualmente! ... referendar
- (C) Tecnicamente! ... atestar
- (D) Factualmente! ... anular
- (E) Teoricamente! ... relativizar

10. Assinale a alternativa em que o acento indicativo de crase está empregado corretamente.

- (A) Prefiro a solidão à ideia de ficar aqui contigo.
- (B) Prefiro os perigos do mar à essa embarcação.
- (C) Prefiro a morte à uma vida do teu lado.
- (D) Prefiro o silêncio à qualquer conversa contigo.
- (E) Prefiro os tubarões à você.

11. Com as letras A, B, C e D, podem ser criados 24 anagramas, ou seja, 24 palavras com ou sem sentido, cada uma utilizando essas letras exatamente uma vez. Os primeiros seis anagramas, listados em ordem alfabética, são: ABCD, ABDC, ACBD, ACDB, ADBC, ADCB. Ordenando alfabeticamente todos os anagramas possíveis com as letras P, Q, R e T, o número de anagramas que estariam entre PTRQ e RPTQ é igual a
- (A) 4.
  - (B) 5.
  - (C) 6.
  - (D) 7.
  - (E) 8.
12. Dada a sequência de números (809; 910; 1011; 1112; ...) e observando a diferença entre dois números consecutivos, podemos determinar todos os outros termos. Considere as diferenças entre o 34.º e o 32.º termos, entre o 65.º e o 62.º termos e entre o 102.º e o 97.º. A soma dessas diferenças é igual a
- (A) 1001.
  - (B) 1010.
  - (C) 1110.
  - (D) 1111.
  - (E) 10100.
13. Em relação aos conjuntos A, B e C e a um total de 58 elementos que pertencem a eles, sabe-se: que nenhum elemento pertence simultaneamente aos três conjuntos; que 13 elementos pertencem simultaneamente aos conjuntos A e B; que 3 elementos pertencem simultaneamente aos conjuntos A e C; que 2 elementos pertencem simultaneamente aos conjuntos B e C; que o número de elementos que pertencem apenas ao conjunto C é 5 unidades a mais do que aqueles que pertencem apenas ao conjunto B; que o número de elementos que pertencem apenas ao conjunto A é 1 unidade a menos do que aqueles que pertencem apenas ao conjunto B.
- O número de elementos que pertencem apenas ao conjunto C é igual a
- (A) 46.
  - (B) 31.
  - (C) 24.
  - (D) 17.
  - (E) 12.

14. Se o sino da igreja toca e minha avó o escuta, então minha avó vai para a igreja.

Uma afirmação equivalente a essa, do ponto de vista lógico, é:

- (A) Se minha avó não vai para a igreja, então o sino da igreja não toca ou minha avó não o escuta.
- (B) Se minha avó não o escuta, então o sino da igreja não toca e minha avó não vai para a igreja.
- (C) Minha avó não o escuta ou o sino da igreja toca ou minha avó vai para a igreja.
- (D) Se o sino da igreja toca e minha avó vai para a igreja, então minha avó o escuta.
- (E) Se o sino da igreja não toca ou minha avó não o escuta, então minha avó não vai para a igreja.

15. Os doutores de Barsan são médicos, advogados ou engenheiros, mas nunca são os três ao mesmo tempo. São 8 os engenheiros que também são advogados, e um a menos do que esses 8 são os médicos que também são engenheiros. Três doutores são especialistas em apenas uma das áreas, um em cada uma das áreas. Sabendo-se que em Barsan há 27 doutores, o número de advogados supera o número de engenheiros em

- (A) 1.
- (B) 2.
- (C) 3.
- (D) 4.
- (E) 5.

16. Se eu falo, então tu te calas. Se não te calas, então ela acorda. Se ela acorda, então eu embalo.

*Eu não embalo e não grito.*

A partir dessas informações, pode-se concluir corretamente que

- (A) eu falo e tu te calas.
- (B) eu falo ou eu grito.
- (C) tu não te calas e ela não acorda.
- (D) ela não acorda e tu te calas.
- (E) ela acorda e eu embalo.

17. Alguns gatos não são pardos, e aqueles que não são pardos miam alto.

Uma afirmação que corresponde a uma negação lógica da afirmação anterior é:

- (A) Os gatos pardos miam alto ou todos os gatos não são pardos.
- (B) Nenhum gato mia alto e todos os gatos são pardos.
- (C) Todos os gatos são pardos ou os gatos que não são pardos não miam alto.
- (D) Todos os gatos que miam alto são pardos.
- (E) Qualquer animal que mia alto é gato e quase sempre ele é pardo.

18. Aquele que dá 3 passos para a direita somará  $1 + 3 + 5$ , e se der 5 passos para a direita somará  $1 + 3 + 5 + 7 + 9$ . Ou seja, somará números ímpares consecutivos, partindo de 1, tantas parcelas quantos passos der. Aquele que dá 3 passos para a esquerda somará  $2 + 4 + 6$ , e se der 4 passos para a esquerda somará  $2 + 4 + 6 + 8$ . Ou seja, somará números pares consecutivos, partindo de 2, tantas parcelas quantos passos der. Agindo dessa maneira, a diferença entre a soma de quem deu 28 passos para a direita e a soma de quem deu 27 passos para a esquerda é

- (A) 4.
- (B) 27.
- (C) 28.
- (D) 35.
- (E) 117.

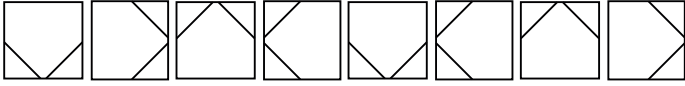
19. Considere as afirmações:

- I. A camisa é azul ou a gravata é branca.
- II. Ou o sapato é marrom ou a camisa é azul.
- III. O paletó é cinza ou a calça é preta.
- IV. A calça é preta ou a gravata é branca.

Em relação a essas afirmações, sabe-se que é falsa apenas a afirmação IV. Desse modo, é possível concluir corretamente que

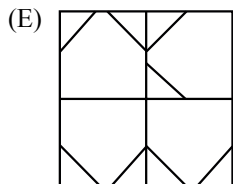
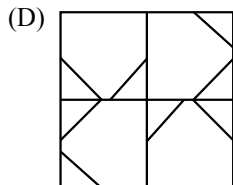
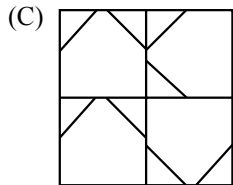
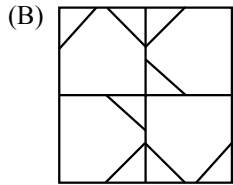
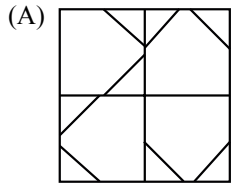
- (A) a camisa é azul e a calça é preta.
- (B) a calça é preta ou o sapato é marrom.
- (C) o sapato é marrom ou a gravata é branca.
- (D) a calça é preta e o paletó é cinza.
- (E) a camisa é azul ou o paletó é cinza.

20. Uma seqüência segue um padrão como mostra a figura e, a partir do novo termo, volta a repetir os elementos já apresentados na ordem dada.



A composição formada por figuras dessa seqüência, cuja posição está indicada no esquema, é

|                  |                  |
|------------------|------------------|
| 35. <sup>a</sup> | 22. <sup>a</sup> |
| 47. <sup>a</sup> | 53. <sup>a</sup> |





21. *Assembleia Geral da ONU aprova resolução contra anexação da Crimeia à Rússia*

Texto foi referendado com apoio de cem países, com 11 contrários e 58 abstenções. “Afirmamos nosso compromisso com a soberania, a independência política, a unidade e a integridade territorial da Ucrânia a partir de suas fronteiras reconhecidas internacionalmente”, argumenta o documento.

(*Opera Mundi*, <http://goo.gl/kBqlW6>, 27.mar.2014. Adaptado)

Essa anexação

- (A) deu-se por conta da pressão europeia e norte-americana sobre a região, fundamental na exportação de gás e petróleo para o Ocidente, o que levou a Rússia a declarar guerra à Ucrânia para se unir à Crimeia.
- (B) foi decidida em um plebiscito do qual participou toda a população ucraniana, que votou majoritariamente pelo desmembramento do país e pela união entre a região autônoma da Crimeia e o principal país vizinho, a Rússia.
- (C) ocorreu devido à violenta ação militar russa, sob as ordens do presidente Vladimir Putin, que enviou tropas para a fronteira da Ucrânia e ordenou o bombardeio dos postos militares ucranianos.
- (D) foi aprovada em referendo pela maior parte da população da Crimeia, depois que o Parlamento da região, que era autônoma à Ucrânia, rejeitou o novo governo ucraniano, mais ligado à União Europeia do que à Rússia.
- (E) teve como uma de suas causas o apoio do Irã e da China ao desmembramento da Ucrânia, com o objetivo de enfraquecer os interesses dos países ocidentais e reduzir a influência dos EUA no leste europeu.

22. *Captação do “volume morto” do Sistema Cantareira pode trazer problemas*

Especialistas alertam para o risco no uso da água do fundo das represas.

(*O Estado de S.Paulo*, <http://goo.gl/fjEPVE>, 10.abr.2014. Adaptado)

Entre os possíveis problemas, é correto identificar

- (A) o fornecimento de água inadequada para o consumo humano devido ao processo de decomposição de animais mortos acumulados no fundo das represas.
- (B) o risco de extinção de alguns cursos d’água, como o rio Paraíba e o rio Piracicaba, diretamente afetados pela utilização da água do fundo das represas.
- (C) a emergência de poluentes depositados no fundo das represas, onde se concentram contaminantes que não são tratados por sistemas convencionais para o abastecimento.
- (D) o desaparecimento do sistema, que nunca irá se recompor da utilização do “volume morto”, o que pode provocar o desabastecimento crônico da cidade de São Paulo.
- (E) o encarecimento das contas de água, pois o custo de exploração da água do fundo das represas é muito maior, o que levará ao aumento do preço da água para o consumidor final.

23. *Morte de Malhães pode ser queima de arquivo, diz Comissão da Verdade*

O presidente da Comissão Estadual da Verdade (CEV) do Rio de Janeiro, Wadih Damous, comentou na tarde desta sexta-feira (25) a morte de Paulo Malhães, cujo corpo foi encontrado no sítio em que morava, em Nova Iguaçu (Baixada Fluminense), com sinais de asfixia, segundo a Polícia Civil. “Na minha opinião, é possível que o assassinato de Paulo Malhães tenha sido queima de arquivo”, disse Damous.

(*UOL*, <http://goo.gl/f9npbP>, 25.abr.2014. Adaptado)

A suspeita está relacionada ao fato de que Malhães

- (A) entrevistou muitos ex-presos e ex-perseguidos políticos da época da ditadura e conseguiu, com isso, produzir um dossiê com denúncias contra os torturadores do período.
- (B) era filho de um desaparecido político da época da ditadura e, por isso, conhecia muitas informações sobre os locais em que os corpos dos desaparecidos foram abandonados.
- (C) possuía informações importantes sobre os arquivos e documentos relacionados à ditadura militar, pois era um jornalista que estava trabalhando com esses materiais.
- (D) foi um militante de esquerda na época da ditadura militar, ex-presos político, torturado barbaramente no DOPS, que fazia muitas denúncias sobre os seus torturadores.
- (E) foi um agente importante da repressão política no período da ditadura e era detentor de muitas informações sobre fatos que ocorreram nos bastidores daquela época.

24. *Copom sobe juros para 11% ao ano, acima do nível do início do governo*

O Comitê de Política Monetária do Banco Central (Copom) subiu nesta quarta-feira (2 de abril) a taxa básica de juros da economia brasileira pela nona vez seguida. A Selic passou de 10,75% para 11% ao ano – uma alta de 0,25 ponto percentual, em linha com o consenso das apostas do mercado financeiro.

(*G1*, <http://goo.gl/wmTqiy>, 2.abr.2014. Adaptado)

O que motivou a decisão tomada pelo Banco Central foi

- (A) o aumento da inadimplência.
- (B) a persistência da inflação.
- (C) o desaquecimento da economia.
- (D) o crescimento do desemprego.
- (E) a queda no consumo.

25. *Protestos pressionam governo na Venezuela*

Caracas tornou-se mais uma vez palco de enfrentamentos da oposição e de simpatizantes do governo chavista de Nicolás Maduro. A atual onda de protestos ganhou tons trágicos na última quarta-feira com a morte de três manifestantes. Desde então, o país vive sob tensão crescente.

(BBC Brasil, <http://goo.gl/PTRqTM>, 17.fev.2014. Adaptado)

A retomada dos protestos na Venezuela está relacionada

- (A) às manifestações estudantis contra a violência e a falta de segurança.
- (B) aos atos da oposição contra a política externa do governo.
- (C) à mobilização pela redução do valor das tarifas do transporte público.
- (D) às greves de trabalhadores, contrários ao baixo reajuste dos salários.
- (E) à luta das empresas de comunicação contra a regulação do setor.

### NOÇÕES DE ADMINISTRAÇÃO PÚBLICA

26. Um cidadão atento aos princípios Constitucionais da Administração Pública se deparou, em via pública, com o seguinte painel publicitário:



(Adaptado de um painel publicitário real)

Qual é o princípio da Administração Pública que foi desrespeitado e que foi notado por esse cidadão?

- (A) Publicidade.
- (B) Impessoalidade.
- (C) Eficiência.
- (D) Moralidade.
- (E) Pessoalidade.

27. Assinale a alternativa que apresenta a Lei que representa um dos principais avanços éticos recentes na Administração Pública brasileira.

- (A) Lei n.º 11.819/10, de igualdade entre gêneros.
- (B) Lei n.º 12.884/12, de Direitos Humanos.
- (C) Lei n.º 11.923/11, de meritocracia.
- (D) Lei n.º 12.527/11, de acesso à informação.
- (E) Lei n.º 12.158/12, da isonomia trabalhista.

28. A ANVISA, a ANATEL, a ANA, a ANTT, entre outras, são siglas de que tipo de organização da administração pública?

- (A) Autarquias públicas.
- (B) Agências de economia mista.
- (C) Agências reguladoras.
- (D) Autarquias públicas e de economia mista.
- (E) Agências público-privadas.

29. A Superintendência da Receita Federal tem adotado delegacias regionais, nos Estados e Municípios, entre outros motivos, para tornar mais eficiente a sua gestão. Esse tipo de prática administrativa denomina-se

- (A) descentralização.
- (B) desconcentração.
- (C) efetividade.
- (D) eficácia.
- (E) delegação.

30. A Petrobras, o Banco do Brasil e a SABESP são exemplos de que tipo de organização?

- (A) Empresas públicas.
- (B) Empresas de capital aberto.
- (C) Organizações paraestatais.
- (D) Empresas privadas com capital público.
- (E) Sociedades de economia mista.

## CONHECIMENTOS ESPECÍFICOS

31. De acordo com os princípios contábeis determinados pelas Resoluções CFC, o Princípio do Registro pelo Valor Original determina que os componentes do patrimônio devem ser, inicialmente, registrados pelos valores originais das transações, expressos em moeda nacional, e as bases de mensuração devem ser utilizadas em graus distintos e combinadas, ao longo do tempo, de diferentes formas. Nesse contexto, quando: (i) os ativos são reconhecidos pelos valores em caixa ou equivalentes de caixa, os quais teriam de ser pagos se esses ativos ou ativos equivalentes fossem adquiridos na data ou no período das demonstrações contábeis, e (ii) os passivos são reconhecidos pelos valores em caixa ou equivalentes de caixa, não descontados, que seriam necessários para liquidar a obrigação na data ou no período das demonstrações contábeis, a base de mensuração, nesses casos, é o

- (A) custo corrente.
- (B) custo histórico.
- (C) valor de realizável.
- (D) valor presente.
- (E) valor justo.

32. Analise as afirmações apresentadas a seguir, classificando-as como verdadeira (V) ou falsa (F).

O benefício econômico futuro incorporado a um ativo é o seu potencial em contribuir, direta ou indiretamente, para o fluxo de caixa ou equivalentes de caixa para a entidade. Tal potencial pode ser produtivo, quando o recurso for parte integrante das atividades operacionais da entidade. Isto posto, os benefícios econômicos futuros incorporados a um ativo podem fluir para a entidade de diversas maneiras. Por exemplo, o ativo pode ser:

- ( ) usado isoladamente ou em conjunto com outros ativos na produção de bens ou na prestação de serviços a serem vendidos pela entidade;
- ( ) trocado por outros ativos;
- ( ) usado para liquidar um passivo;
- ( ) distribuído aos proprietários da entidade.

Assinale a alternativa que apresenta a classificação correta, de cima para baixo.

- (A) V, F, F, V.
- (B) F, F, V, V.
- (C) V, F, F, F.
- (D) F, V, F, V.
- (E) V, V, V, V.

33. Assinale a alternativa que indica o valor do Patrimônio Líquido da empresa Acerta Quase Tudo S/A, em 31 de dezembro de 2013, após o encerramento do exercício, conforme balancete a seguir demonstrado:

|                                |           |
|--------------------------------|-----------|
| Estoques                       | 26.000,00 |
| Fornecedores                   | 35.000,00 |
| Reserva Legal                  | 5.000,00  |
| Despesas Gerais                | 30.000,00 |
| Máquinas e Equipamentos        | 12.000,00 |
| Contas a Pagar                 | 8.000,00  |
| Despesas de Salários           | 15.000,00 |
| Aplicações Financeiras         | 14.000,00 |
| Capital Social                 | 45.000,00 |
| Custo das Mercadorias Vendidas | 23.000,00 |
| Lucros a Distribuir            | 10.000,00 |
| Receitas Financeiras           | 8.000,00  |
| Despesas Financeiras           | 4.000,00  |
| Financiamentos                 | 17.000,00 |
| Duplicatas a Receber           | 35.000,00 |
| Vendas de Mercadorias          | 45.000,00 |
| Bancos conta Movimento         | 14.000,00 |

- (A) 22.000,00.
- (B) 35.500,00.
- (C) 41.000,00.
- (D) 60.000,00.
- (E) 62.000,00.

34. De acordo com a equação fundamental do patrimônio, uma entidade ao ter o aumento da situação líquida positiva, ou a diminuição da situação líquida negativa, tal entidade terá:

- (A) diminuição da riqueza do titular do patrimônio.
- (B) um equilíbrio patrimonial.
- (C) necessidade de recursos.
- (D) um aumento na utilização de recursos financeiros da entidade.
- (E) aumento da riqueza do titular do patrimônio.

35. Uma empresa industrial adquiriu, em dezembro de 2013, um equipamento para uso nas suas operações, portanto, para seu ativo imobilizado. Esse equipamento foi financiado pelo Banco Nacional de Desenvolvimento Econômico e Social – BNDES, no valor de R\$ 3.600.000,00. Uma vez que o financiamento será pago em 48 parcelas iguais e mensais, sendo a primeira parcela com vencimento em janeiro de 2014, o valor a ser classificado no Passivo Circulante em 31 de dezembro de 2013, será:

- (A) R\$ 675.000,00.
- (B) R\$ 900.000,00.
- (C) R\$ 1.000.000,00.
- (D) R\$ 1.100.000,00.
- (E) R\$ 2.700.000,00.

36. Uma empresa industrial “InduTudo Ltda.”, aproveitando uma oportunidade de preço, decidiu adquirir um edifício comercial no centro da cidade onde está instalada sua fábrica. O pagamento foi feito com 50% a vista e 50% a prazo. Uma vez que esse edifício foi adquirido com o objetivo de valorização do capital investido, no pressuposto de se apresentar por um preço de oportunidade, a administração da Indústria resolveu auferir receita adicional com aluguel do bem. O contrato de aluguel foi gerado na mesma época em que ocorreu a aquisição do bem. Baseado nessas informações, o lançamento contábil para registro dessa operação será:
- (A) Caixa e Bancos  
a Títulos a pagar.
- (B) Imobilizado  
a Títulos a pagar.
- (C) Estoques  
a Contas a pagar.
- (D) Propriedade para investimentos  
a Bancos  
a Títulos a pagar.
- (E) Investimentos a bancos.
37. Assinale a alternativa que preenche corretamente a lacuna. O que caracteriza a \_\_\_\_\_ é “o fato de ela tratar de expirações de fatores de serviços, direta ou indiretamente relacionados com a produção e a venda do produto (ou serviço) da entidade”.
- (A) despesa
- (B) lucro líquido
- (C) renda
- (D) lucro bruto
- (E) receita
38. Considere os dados fornecidos a seguir, bem como as informações das operações da companhia.
- Total das receitas líquidas de serviços = R\$ 250.000,00.
  - Impostos sobre vendas = PIS 1,65%, COFINS 7,6% e ISS 5%.
  - Custos dos serviços prestados equivalem a 80% do total da receita bruta diminuída apenas dos impostos.
  - O IR e CSL são calculados à base de 34% sobre o lucro antes dos impostos sobre a renda.
  - Despesas com vendas – R\$ 12.000,00.
  - Despesas administrativas brutas = R\$ 9.800,00.
  - Demais despesas R\$ 1.025,00.
- Calcule a receita bruta de serviços, os custos dos serviços prestados e o lucro líquido, respectivamente:
- (A) 250.540,00; 214.000,00; 12.800,00.
- (B) 291.545,19; 200.000,00; 17.935,00.
- (C) 320.320,20; 267.968,75; 12.800,00.
- (D) 322.440,10; 312.000,00; 9.600,00.
- (E) 322.520,15; 267.968,75; 8.448,00.
39. É a estrutura básica da escrituração contábil, formada por um conjunto de contas previamente estabelecido, que permite obter as informações necessárias à elaboração de relatórios gerenciais e demonstrações contábeis conforme as características gerais da entidade, possibilitando a padronização de procedimentos contábeis. O texto trata
- (A) da escrituração contábil.
- (B) do balanço patrimonial.
- (C) do plano de contas contábil aplicado ao setor público.
- (D) do razão contábil.
- (E) dos razões auxiliares e extracontábeis.
40. As premissas de que a entidade tem uma obrigação, legal ou não formalizada, presente como consequência de um evento passado; que seja provável uma saída de recursos para liquidar tal obrigação; e que pode ser feita estimativa confiável do montante da obrigação, referem-se a:
- (A) capital circulante líquido.
- (B) características de um passivo contingente.
- (C) características das contas a pagar, de fato.
- (D) origens e aplicação de recursos.
- (E) requisitos básicos para que uma provisão possa ser reconhecida.
41. Ao fim de cada exercício social, a diretoria fará elaborar, com base na escrituração mercantil da companhia, as demonstrações financeiras de que trata a Lei n.º 6.404/76, que deverão exprimir com clareza a situação do patrimônio da companhia e as mutações ocorridas no exercício. Das demonstrações financeiras publicadas, qual é a dispensável para companhias de capital fechado?
- (A) DVA – Demonstração do Valor Adicionado.
- (B) DFC – Demonstração dos fluxos de caixa.
- (C) DOAR – Demonstração das origens e aplicações de recursos.
- (D) DMPL – Demonstração das mutações do patrimônio líquido.
- (E) BS – Balanço social.
42. A escrituração da companhia será mantida em registros permanentes, com obediência aos preceitos da legislação comercial e de normas contábeis e aos princípios de contabilidade geralmente aceitos, devendo observar métodos ou critérios contábeis uniformes no tempo e registrar as mutações patrimoniais segundo o(a)
- (A) entidade.
- (B) oportunidade.
- (C) regime de competência.
- (D) qualificação da contabilidade pública.
- (E) escrituração contábil e fiscal.

43. Qual o valor, em reais, da reserva legal a ser calculado sobre o lucro do exercício de 2013, considerando as seguintes informações:
- o capital social da empresa é de R\$ 300.000,00 em 31 de dezembro de 2013;
  - o lucro líquido do exercício findo em 31 de dezembro de 2013 foi de R\$ 250.000,00;
  - a reserva legal constituída até 31 de dezembro de 2012 é de R\$ 54.000,00.
- (A) 5.500,00.  
(B) 6.000,00.  
(C) 12.500,00.  
(D) 18.500,00.  
(E) 20.000,00.
44. As despesas apropriadas no exercício e ainda não dedutíveis para fins de imposto de renda e contribuição social, mas cujas exclusões ou compensações futuras, para fins de apuração de lucro real, estejam explicitamente estabelecidas ou autorizadas pela legislação tributária, caracterizam-se como
- (A) Exclusões temporárias.  
(B) Diferenças permanentes.  
(C) Prejuízos fiscais.  
(D) Imposto de renda diferido.  
(E) Diferenças temporárias.
45. Assinale a alternativa que preenche corretamente as lacunas. As diferenças de numerário serão contabilizadas quando a menor, em \_\_\_\_\_, no subtítulo de uso interno Diferenças de Caixa, com indicação do nome do funcionário responsável, transferindo-se a diferença não regularizada, após esgotados todos os meios usuais e normais de cobrança, até o final do semestre seguinte para \_\_\_\_\_. Admite-se a transferência antes desse prazo, se ficar comprovada a impossibilidade de recuperação.
- (A) Devedores diversos ... País e Perdas de capital.  
(B) Credores diversos ... País e Perdas de capital.  
(C) Credores diversos ... País e Exterior e Ganhos de capital.  
(D) Devedores diversos ... País e Exterior e Perdas correntes.  
(E) Credores diversos ... País e Exterior e Ganhos correntes.
46. Analise as afirmações apresentadas a seguir classificando-as como verdadeira (V) ou falsa (F).
- Os títulos e valores mobiliários adquiridos por instituições financeiras e demais instituições autorizadas a funcionar pelo Banco Central do Brasil, exceto cooperativas de crédito, agências de fomento e sociedades de crédito ao micro-empresendedor, devem ser registrados pelo valor efetivamente pago, inclusive corretagens e emolumentos e devem ser classificados nas seguintes categorias:
- ( ) títulos para negociação  
( ) títulos para intermediação financeira  
( ) títulos disponíveis para venda  
( ) títulos mantidos até o vencimento  
( ) títulos mantidos pelo valor nominal
- Assinale a alternativa que apresenta a classificação correta, de cima para baixo.
- (A) V, V, V, V, F.  
(B) V, F, V, V, F.  
(C) F, F, V, V, V.  
(D) V, F, F, F, V.  
(E) F, V, F, F, V.
47. A reavaliação dos títulos e valores mobiliários quanto à sua classificação, de acordo com os critérios previstos no COSIF – Classificação dos Títulos e Valores Mobiliários em Categorias, somente poderá ser efetuada por ocasião da elaboração
- (A) de balanços trimestrais.  
(B) das informações financeiras intercalares.  
(C) dos balanços anuais.  
(D) dos balanços semestrais.  
(E) das demonstrações financeiras, pelo menos uma vez ao ano.
48. As ações subscritas ou havidas por investimentos compulsórios, destinadas à negociação em mercado; os bônus de subscrição de companhias abertas; os certificados e as cotas de fundos de renda variável; as ações adquiridas no mercado para livre negociação e outros títulos adquiridos ou subscritos, compõem
- (A) a carteira mista de títulos de renda.  
(B) a carteira de títulos de renda fixa.  
(C) a carteira de títulos de renda variável.  
(D) o portfólio de renda fixa e variável.  
(E) os estoques de títulos e valores mobiliários em custódia.

49. No que tange a operações de crédito, o ganho eventualmente auferido por ocasião de uma renegociação, calculado pela diferença entre o valor da renegociação e o valor contábil dos créditos, deve ser registrado em subtítulo de uso interno da própria conta que registra o crédito e ser apropriado ao resultado somente quando do seu recebimento, segundo critérios previstos na renegociação ou proporcionalmente aos novos prazos de vencimento, na conta

- (A) Receitas de recuperações.
- (B) Provisão para créditos de liquidação duvidosa.
- (C) Reversão de provisões operacionais.
- (D) Recuperação de créditos renegociados.
- (E) Rendas de operações de crédito.

50. O objetivo geral de uma auditoria independente é

- (A) apresentar as demonstrações contábeis de acordo com as normas contábeis do país.
- (B) determinar bases sólidas de consolidação das demonstrações contábeis.
- (C) assegurar que os controles internos possam produzir informações confiáveis.
- (D) informar a alta administração quanto aos princípios contábeis utilizados em suas demonstrações.
- (E) aumentar o grau de confiança nas demonstrações contábeis por parte dos usuários.

51. O relatório do auditor independente deverá ser classificado segundo a natureza da opinião que esse auditor está expressando sobre as demonstrações financeiras da entidade. Portanto, a opinião do auditor poderá ser expressa mediante um

- (A) parecer sem ressalva, parecer com ressalva, parecer limitado e parecer parcial.
- (B) parecer sem ressalva, parecer com ênfase, parecer limitado e parecer adverso.
- (C) parecer sem ressalva, parecer com ressalva, parecer adverso e parecer com abstenção de opinião.
- (D) parecer com ênfase, parecer sem ressalva, parecer parcial e parecer com ressalva.
- (E) parecer negativo, parecer parcial, parecer inadverso, parecer sem ressalva e parecer com ressalva.

Baseado nas informações a seguir responda às questões de números 52 a 54.

Uma Entidade, enquadrada no Lucro Real, está calculando o imposto de renda e contribuição social em uma base mensal, todavia pretende demonstrá-los em uma base trimestral, em 31 de março de 2014. Para tanto, ela tem os seguintes dados:

|                         |                            |
|-------------------------|----------------------------|
| Lucro antes do IR e CSL | Janeiro – R\$ 300.000,00   |
|                         | Fevereiro – R\$ 250.000,00 |
|                         | Março – R\$ 350.000,00     |

Adições temporárias: R\$ 70.000,00

Adições permanentes: R\$ 25.000,00

Exclusões permanentes R\$ 20.000,00

Exclusões temporárias R\$ 25.000,00

Para efeito do Imposto de renda diferido, a Administração considera que os ativos diferidos decorrentes de diferenças temporárias serão realizados na proporção da resolução final dos eventos que originaram tais diferenças. Adicionalmente, a Entidade fundamentada na expectativa de geração de lucros tributáveis futuros, determinada em estudo técnico aprovado pela Administração, reconheceu os créditos tributários sobre prejuízos fiscais e bases negativas de contribuição social de exercícios anteriores, que não possuem prazo prescricional e cuja compensação está limitada a 30% dos lucros anuais tributáveis. O valor base de cálculo é de R\$ 200.000,00; a alíquota combinada a ser utilizada é de 34%.

52. Os valores, em reais, do imposto de renda e do respectivo adicional do imposto de renda acumulados, respectivamente, nos três meses, como indicado, são:

- (A) 142.500,00 e 89.000,00.
- (B) 135.000,00 e 90.100,00.
- (C) 156.000,00 e 98.000,00.
- (D) 162.500,00 e 99.500,00.
- (E) 165.000,00 e 101.000,00.

53. O valor, em reais, da Contribuição Social sobre o Lucro Líquido é de:

- (A) 78.600,00.
- (B) 81.000,00.
- (C) 85.500,00.
- (D) 93.600,00.
- (E) 100.100,00.

54. O valor, em reais, do Imposto de Renda e o da Contribuição Social diferidos é de:

- (A) 85.500,00.
- (B) 91.800,00.
- (C) 93.600,00.
- (D) 99.500,00.
- (E) 100.100,00.

Com base no texto a seguir, responda às questões de números 55 e 56.

Uma entidade denominada Empresta Tudo S.A., que é tributada pelo lucro real e está enquadrada na não cumulatividade para a apuração de PIS e COFINS, necessita calcular as contribuições do PIS e COFINS para o mês de março de 2014. Para tanto, verificou-se após levantamento, que a entidade teria direito a considerar como insumos relativos à sua operação o valor de R\$ 800.000,00 e obteve, no mesmo mês, um faturamento na ordem de R\$ 4.000.000,00.

55. De acordo com o enunciado, o valor a ser registrado na rubrica de PIS sobre Receitas é de:

- (A) R\$ 80.000,00.
- (B) R\$ 79.000,00.
- (C) R\$ 66.000,00.
- (D) R\$ 52.800,00.
- (E) R\$ 13.200,00.

56. De acordo com o enunciado, o valor a ser registrado na rubrica de COFINS sobre Receitas é de:

- (A) R\$ 380.000,00.
- (B) R\$ 364.800,00.
- (C) R\$ 304.000,00.
- (D) R\$ 243.200,00.
- (E) R\$ 60.800,00.

57. De acordo com o RIR, art. 229, o Programa de Alimentação do Trabalhador, as doações aos Fundos da Criança e do Adolescente, as Atividades Culturais ou Artísticas, a Atividade Audiovisual, e o Vale-Transporte, este último até 31 de dezembro de 1997, e observados os limites e prazos previstos para esses incentivos, são considerados, para efeito de pagamento de imposto mensal, como

- (A) deduções do imposto apurado no mês.
- (B) deduções da base de cálculo mensal.
- (C) incentivos, com os quais a pessoa jurídica poderá requerer redução de imposto.
- (D) retenções do imposto apurado mensal ou trimestral.
- (E) retenções e incentivos à redução do imposto calculado em base mensais ou trimestrais.

58. A partir de 1.º de janeiro de 1997, o valor da Contribuição Social sobre o Lucro Líquido – CSLL

- (A) será tributado na apuração do lucro real, assim como na base do lucro presumido.
- (B) poderá ser deduzido para efeito de determinação do lucro real.
- (C) será determinado na base de cálculo do imposto mensal.
- (D) não poderá ser deduzido para efeito de determinação do lucro real.
- (E) poderá ser excluído da base do IR fonte mensal.

59. A Contribuição para o Financiamento da Seguridade Social – COFINS, com a incidência não-cumulativa, tem como fato gerador o faturamento mensal, assim entendido:

- (A) o total das receitas diferidas ou auferidas pela pessoa jurídica, de acordo com sua denominação ou classificação contábil.
- (B) o total das receitas auferidas pela pessoa jurídica, independentemente de sua denominação ou classificação contábil.
- (C) o total das receitas auferidas e diferidas pela pessoa jurídica, inclusive sobre ganho de capital, financeiras e de doações.
- (D) a receita líquida da venda de bens e serviços nas operações em conta própria ou alheia e todas as demais receitas auferidas pela pessoa jurídica.
- (E) a receita líquida da venda de bens e serviços nas operações em conta própria ou alheia e todas as demais receitas auferidas pela pessoa jurídica, incluindo as não operacionais, decorrentes da venda de ativo permanente, bem como auferidas pela pessoa jurídica revendedora, na revenda de mercadorias em relação às quais a contribuição seja exigida da empresa vendedora, na condição de substituta tributária.

60. Assinale a alternativa que preenche corretamente a lacuna:

A contribuição para o PIS/PASEP deverá ser paga até o \_\_\_\_\_ dia do mês subsequente ao de ocorrência do fato gerador.

- (A) 5.º (quinto)
- (B) 10.º (décimo)
- (C) 20.º (vigésimo)
- (D) 25.º (vigésimo quinto)
- (E) 30.º (trigésimo)

