

INSTRUÇÕES

LEIA COM ATENÇÃO

1. Este Caderno de Prova, com páginas numeradas de 1 a 17, é constituído de **40 (quarenta)** questões objetivas, cada uma com **4 (quatro)** alternativas, assim distribuídas:
01 a 10 – Língua Portuguesa
11 a 20 – Informática
21 a 40 – Conhecimentos Específicos
2. Caso o Caderno de Prova esteja incompleto ou tenha qualquer defeito de impressão, solicite ao fiscal que o substitua.
3. **Sobre a Marcação do Cartão de Respostas**

As respostas deverão ser transcritas com caneta esferográfica de tinta azul ou preta não porosa para o Cartão de Respostas, que será o único documento válido para correção.

- 3.1. Para cada questão existe apenas uma alternativa que a responde acertadamente. Para a marcação da alternativa escolhida no **CARTÃO DE RESPOSTAS**, pinte **completamente** o círculo correspondente.


Exemplo: Suponha que para determinada questão a alternativa C seja a escolhida.

N.º da Questão
<input type="radio"/> A
<input type="radio"/> B
<input checked="" type="radio"/>
<input type="radio"/> D

- 3.2. Marque apenas uma alternativa para cada questão.
 - 3.3. Será invalidada a questão em que houver mais de uma marcação, marcação rasurada ou emendada, ou não houver marcação.
 - 3.4. Não rasure nem amasse o **CARTÃO DE RESPOSTAS**.
4. Todos os espaços em branco, neste caderno, podem ser utilizados para rascunho.
 5. A duração da prova é **4 (quatro)** horas, já incluído o tempo destinado ao preenchimento do **CARTÃO DE RESPOSTAS**.
 6. Somente após decorridas **2 horas e 30 minutos** do início da prova, o candidato, depois de entregar seu Caderno de Prova e seu Cartão de Respostas, poderá retirar-se da sala de prova. O candidato que insistir em sair da sala de prova antes desse tempo deverá assinar **Termo de Ocorrência** declarando sua desistência do concurso.
 7. Será permitida a saída de candidatos levando o Caderno de Prova somente **na última meia hora** de prova.
 8. Na página 17 deste Caderno de Prova, encontra-se a **Folha de Anotação do Candidato**, a qual poderá ser utilizada para a transcrição das respostas das questões objetivas. Essa folha poderá ser levada pelo candidato para posterior conferência com o gabarito somente após decorridas **2 horas e 30 minutos** do início da prova.
 9. Após o término da prova, o candidato deverá, obrigatoriamente, entregar ao fiscal o **CARTÃO DE RESPOSTAS** devidamente assinado e preenchido.

LÍNGUA PORTUGUESA


INSTRUÇÃO: Leia a propaganda abaixo e responda às questões 01 e 02.



As botas
do Jurandir
se acidentaram.
O Jurandir
continua
pisando firme
no emprego.

Equipamentos de Proteção Individual salvam vidas.
Quem usa e se previne só tem a ganhar.

Procuradoria Regional do Trabalho da 23ª Região
Coordenadoria Nacional de Defesa
Do Meio ambiente do Trabalho - CODEMAT



(Jornal Diário de Cuiabá, 03/07/2013.)

QUESTÃO 01

Em relação à propaganda, analise as afirmativas.

- I - As botas já desgastadas, como mostra a figura, causam acidentes, por isso foi feita a propaganda.
- II - A intenção da propaganda é estimular o uso de equipamentos de proteção individual pelo trabalhador.
- III - A figura das botas tem caráter metafórico, simboliza o equipamento que pode salvar a vida de quem o usa.
- IV - A propaganda se dirige diretamente aos fabricantes de equipamentos de proteção individual no sentido de aperfeiçoar cada um para garantir a saúde do trabalhador.

Estão corretas as afirmativas

- (A) II e III, apenas.
- (B) I, III e IV, apenas.
- (C) II e IV, apenas.
- (D) I, II e IV, apenas.

QUESTÃO 02

Sobre a linguagem do texto, assinale a afirmativa correta.

- (A) A expressão *pisando firme* no texto sugere passos seguros, andar certo, pessoas que se mostram decididas.
- (B) A frase *Quem usa e se previne só tem a ganhar* pode ser entendida da seguinte forma: A pessoa que utiliza botas não corre risco de perder a vida.
- (C) Nas duas frases em letras maiores, há linguagem denotativa, isto é, não devem ser lidas em sentido literal.
- (D) Todas as formas verbais usadas no texto estão no presente do indicativo, indicando ações que ocorrem no momento da escrita.

QUESTÃO 03

Mais da metade dos brasileiros (54%) troca de celular em menos de três anos e 81% nem sequer recorrem à assistência técnica antes, segundo o Instituto Brasileiro de Defesa do Consumidor (IDEC). Um em cada três celulares e eletroeletrônicos é substituído quando para de funcionar, o que mostra desperdício. Quando não é a obsolescência programada, o motivo da troca é a obsolescência psicológica: a volúpia por um equipamento mais atual. Foram entrevistadas 806 pessoas (homens e mulheres), de 18 a 69 anos, de diferentes classes sociais, em nove capitais do Brasil. Brasileiros são loucos por celulares.

(Revista Planeta, março de 2014.)

Sobre aspectos da concordância verbal no texto, marque V para as afirmativas verdadeiras e F para as falsas.

- () No trecho *Mais da metade dos brasileiros (54%) troca de celular*, o verbo está no singular, mas deveria estar no plural por referir-se à porcentagem (54%).
- () Em *Foram entrevistadas 806 pessoas*, mesmo o sujeito estando posposto ao verbo, a concordância é feita com ele.
- () No fragmento *81% nem sequer recorrem*, o verbo está no plural em função de referir-se à porcentagem 81%.
- () Em *Um em cada três celulares e eletroeletrônicos é substituído*, como o núcleo da expressão *um em cada três* é o numeral um, o verbo deve estar no singular.

Assinale a sequência correta.

- (A) V, V, F, F
- (B) F, V, V, V
- (C) F, F, F, V
- (D) V, F, V, F

INSTRUÇÃO: Leia o texto abaixo e responda às questões de 04 a 08.

Falar de leite já foi bem mais simples. Por muito tempo o consumo do produto foi ponto passivo na nutrição. Atualmente é tema polêmico. Cientistas e médicos questionam as *benesses* desse hábito entranhado. O debate é acirrado, principalmente, por envolver os interesses de um mercado global e por afetar paixões gastronômicas. Se a discussão girasse em torno da alface, os ânimos não se exaltariam da mesma forma. Deixar de comer alface seria um alívio para muita gente. Já abrir mão de queijos, iogurtes, sorvetes ou leite – seja de vaca, cabra, búfala ou ovelha – beira o sacrifício.

O consumo do leite surgiu há dez mil anos, no período Neolítico, quando a espécie humana deixou de ser nômade e se fixou na terra, desenvolvendo a agricultura e a criação de animais para conquistar segurança alimentar. Desde então, o leite materno passou a ser substituído, já nos primeiros meses de vida, pelo de outros mamíferos. [...]

Poinsignon, médico e pesquisador francês, apresenta uma longa lista de doenças respiratórias, osteoarticulares, digestivas, autoimunes e cutâneas, derivadas do consumo do leite animal. Para o estudioso, o único leite adequado à espécie humana é o materno, e nenhum mamífero adulto consome o leite de sua mãe. A tese de Poinsignon é simples: somos vítimas das indústrias alimentícia e farmacêutica e da propaganda. Você quer curar ou prevenir doenças? Mude de dieta.

[...]

(MESQUITA, R.V. Difícil de engolir. *Revista Planeta*, março de 2014.)

QUESTÃO 04

Ao construir a argumentação, pode-se trabalhar com ideias implícitas, reveladas por elementos da linguagem. Assinale o trecho do texto que **NÃO** apresenta implícito.

- (A) *Falar de leite já foi bem mais simples.*
- (B) *Cientistas e médicos questionam as benesses desse hábito entranhado.*
- (C) *quando a espécie humana deixou de ser nômade*
- (D) *Por muito tempo o consumo do produto foi ponto passivo na nutrição.*

QUESTÃO 05

A pontuação é primordial em um texto por contribuir com a organização, com a demarcação de unidades e sinalização de limites da estrutura sintática. Sobre o uso de sinais de pontuação, analise as afirmativas.

- I - Em *Já abrir mão de queijos, iogurtes, sorvetes ou leite – seja de vaca, cabra, búfala ou ovelha – beira o sacrifício.*, os travessões poderiam ser substituídos por vírgulas, com a mesma função.
- II - No trecho *Desde então, o leite materno passou a ser substituído*, a presença da vírgula serve para isolar uma expressão temporal fora de sua posição canônica na língua portuguesa.
- III - Em *A tese de Poinignon é simples: somos vítimas das indústrias alimentícia e farmacêutica*, os dois pontos introduzem a tese referida anteriormente.
- IV - Em *Poinignon, médico e pesquisador francês, apresenta uma longa lista de doenças respiratórias*, as vírgulas foram usadas para destacar o vocativo.

Está correto o que se afirma em

- (A) II, III e IV, apenas.
- (B) I e IV, apenas.
- (C) II e III, apenas.
- (D) I, II e III, apenas.

QUESTÃO 06

Sobre elementos da língua presentes no texto, assinale a afirmativa correta.

- (A) Há três ocorrências da palavra *já* e, em todas elas, o sentido é o mesmo: tempo.
- (B) Em *para conquistar segurança alimentar*, a preposição indica sentido de concessão.
- (C) Sentido de condição é expresso no trecho *Se a discussão girasse em torno da alface, os ânimos não se exaltariam da mesma forma.*
- (D) A conjunção *e* apresenta a função de ligar orações nos seguintes trechos: *desenvolvendo a agricultura e a criação de animais* e *a espécie humana deixou de ser nômade e se fixou na terra.*

QUESTÃO 07

Os advérbios e as expressões adverbiais têm como principal função na língua caracterizar com mais precisão o processo ou estado indicado pelo verbo (ABAURRE, 2014). Assinale o trecho em que o advérbio ou expressão adverbial grifada **NÃO** acrescenta circunstância de tempo ao verbo.

- (A) *Se a discussão girasse em torno da alface, os ânimos não se exaltariam da mesma forma.*
- (B) *O consumo do leite surgiu há dez mil anos, no período Neolítico, quando a espécie humana deixou de ser nômade e se fixou na terra*
- (C) *Desde então, o leite materno passou a ser substituído, já nos primeiros meses de vida, pelo de outros mamíferos.*
- (D) *Atualmente é tema polêmico.*

QUESTÃO 08

Um texto apresenta coesão quando há conexão e harmonia entre as partes que o compõem. Em relação a elementos coesivos no texto, assinale a afirmativa **INCORRETA**.

- (A) O termo *produto* (linha 1) recupera leite, consistindo em coesão lexical.
- (B) O pronome demonstrativo em *desse hábito* (linha 02) conduz o sentido de hábito para beber leite, exemplo de coesão referencial.
- (C) No trecho *pelo de outros mamíferos* (linhas 9 e 10), subentende-se pelo leite de outros mamíferos, exemplo de coesão sequencial.
- (D) A palavra *estudioso* (linha 12) retoma o nome Poinsignon, consistindo em coesão lexical.

INSTRUÇÃO: Leia o fragmento e responda às questões 09 e 10.

O trem saiu lotado da estação de Itapevi, na manhã de um sábado quente e ensolarado de janeiro. Cerca de 200 jovens do município da Grande São Paulo se preparavam para ir a um encontro marcado cinco semanas antes pelo Facebook. Ao todo, 1906 pessoas tinham confirmado presença no Parque Villa-Lobos, a 20 quilômetros da estação. Os meninos e as meninas faziam mais um rolezinho, como os que já aconteciam desde dezembro em shoppings e parques na periferia de São Paulo. Os encontros reuniram milhares de adolescentes, e em alguns houve violência e confusão.

[...]

Por trás dos encontros, também está a nova realidade econômica do país. Na última década, o aumento da renda e do consumo, em especial nas famílias de classe C, fez crescer, e muito, a quantidade de pessoas que podem ter um computador ou um smatphone conectado à internet.

(Revista Info, fevereiro de 2014.)

QUESTÃO 09

Sobre o fragmento, assinale a afirmativa correta.

- (A) O texto é um simples relato, com personagens, unidade de tempo e lugar, clímax e desfecho.
- (B) O uso de *meninos* e *meninas* é uma exigência semântica, pois somente o termo *meninos* não abarcaria, segundo regras do português, o sentido de ambos, pois são palavras de gêneros diferentes.
- (C) Em geral, os rolezinhos, além de ser momento para pequenos furtos, terminam em violência contra os próprios participantes.
- (D) O texto sugere que há outras razões para a ocorrência dos rolezinhos, além da melhoria da situação econômica dos brasileiros.

QUESTÃO 10

Em relação a aspectos gramaticais, assinale a afirmativa correta.

- (A) O trecho *Os encontros reuniram milhares de adolescentes, e em alguns houve violência e confusão* poderia ser reescrito, sem prejuízo do sentido, da forma: Os encontros reuniram milhares de adolescentes. Em alguns, houve violência e confusão.
- (B) Em *no Parque Villa-Lobos, a 20 quilômetros da estação*, por indicar uma medida de comprimento, o verbo haver deveria ter sido usado: *no Parque Villa-Lobos, há 20 quilômetros da estação*.
- (C) Em *Cerca de 200 jovens do município da Grande São Paulo se preparavam*, ocorreu ênclise, que é a tendência da língua portuguesa do Brasil quando não houver palavras ou expressões atrativas para o uso da próclise.
- (D) Em *o aumento da renda e do consumo, em especial nas famílias de classe C, fez crescer*, a expressão verbal refere-se à renda e ao consumo, assim o plural seria correto.

INFORMÁTICA

QUESTÃO 11

Sobre o Internet Explorer 10, marque V para as afirmativas verdadeiras e F para as falsas.

- () Complementos, tais como o Adobe Flash, o Quicktime e o Silverlight, são aplicativos usados pelo Internet Explorer para interagir com conteúdo da Web como vídeos e jogos.
- () A Filtragem ActiveX impede que os sites instalem e utilizem aplicativos ActiveX, fazendo com que a navegação fique mais segura, entretanto o desempenho de alguns sites pode ser afetado.
- () O Internet Explorer 10 não permite importar os favoritos de outros navegadores, mas permite a importação dos favoritos de versões mais antigas.
- () O Gerenciador de Downloads mantém os arquivos baixados salvos na pasta Downloads, mas não permite mover os downloads da pasta Downloads para outros locais no computador.

Assinale a sequência correta.

- (A) F, F, V, V
- (B) F, V, V, F
- (C) V, F, F, V
- (D) V, V, F, F

QUESTÃO 12

Sobre o Windows 7, analise as afirmativas.

- I - Não é possível configurar permissões de acesso a pastas e arquivos para usuários do Windows 7, entretanto pode-se inserir diretamente uma senha de acesso para cada pasta/arquivo.
- II - O Sistema de Arquivos com Criptografia (EFS) é um recurso do Windows 7 que pode ser usado para armazenar informações no disco rígido em um formato criptografado.
- III - No Windows Explorer, um usuário tem a opção de ocultar a visualização de um determinado arquivo criado por ele, acessando a janela de propriedades desse arquivo.

Está correto o que se afirma em

- (A) I e III, apenas.
- (B) II e III, apenas.
- (C) II, apenas.
- (D) I, apenas.

QUESTÃO 13

A figura abaixo apresenta uma planilha do Microsoft Excel 2007 (idioma Português).

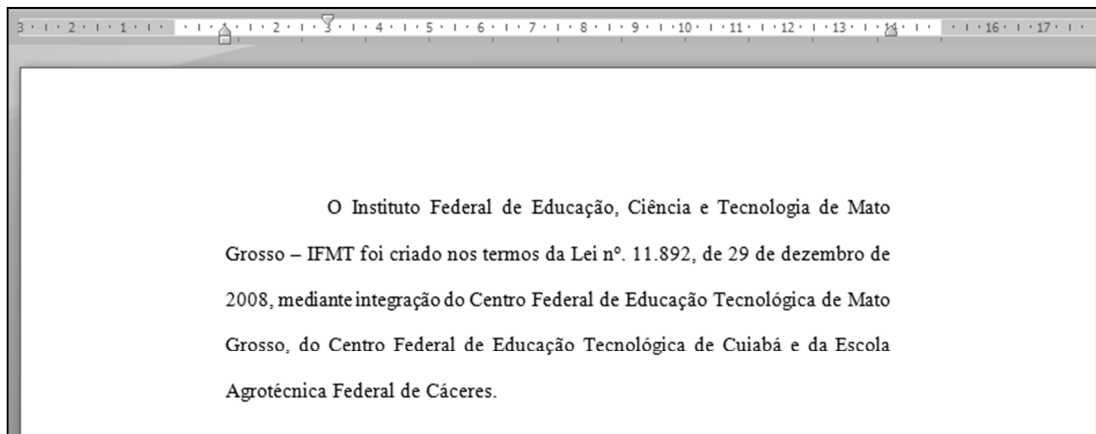
	A	B	C
1	10	15	
2	25	20	
3			

De acordo com a planilha, quais valores seriam retornados, respectivamente, pelas fórmulas $=A1^2-A2-B1-B2$ e $=SE(A2-B1>B2-A1;A1;B2)$?

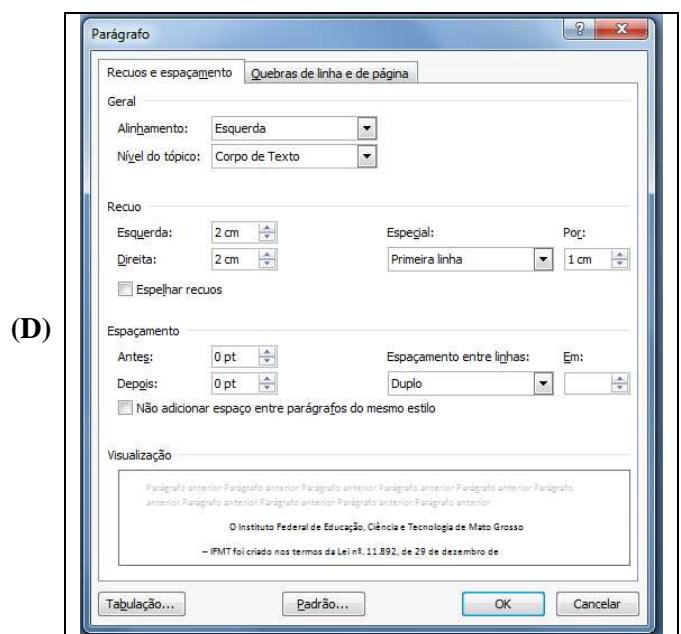
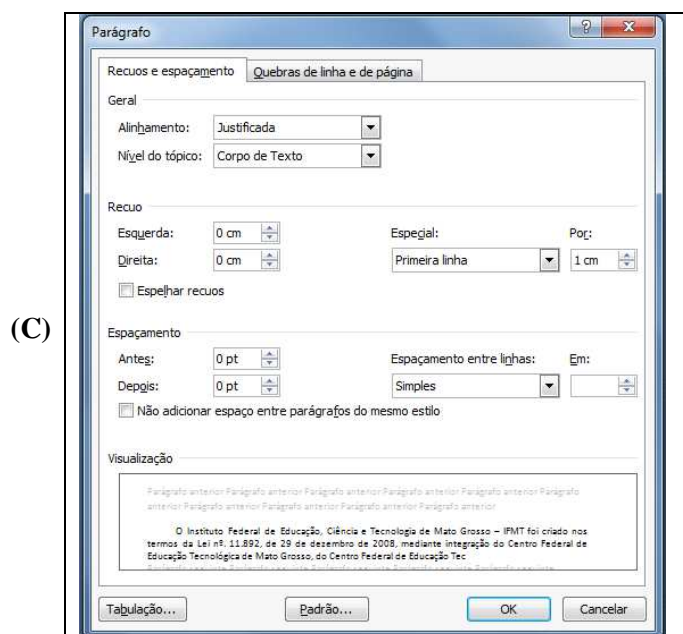
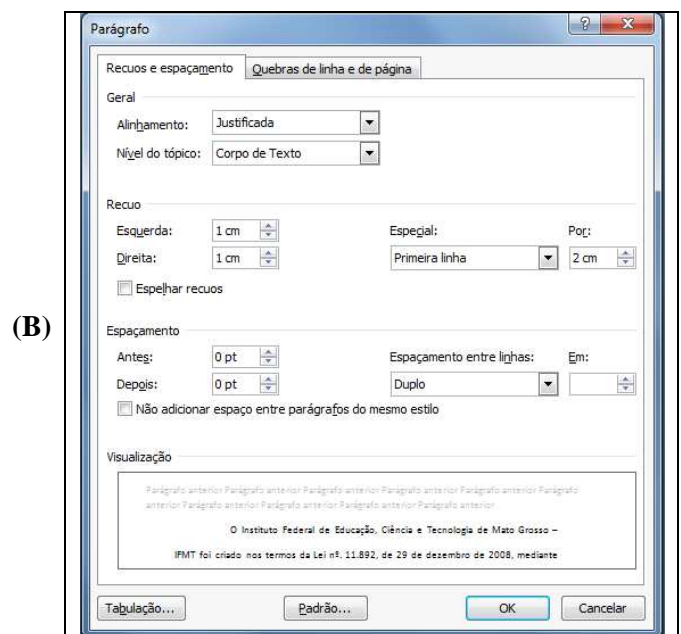
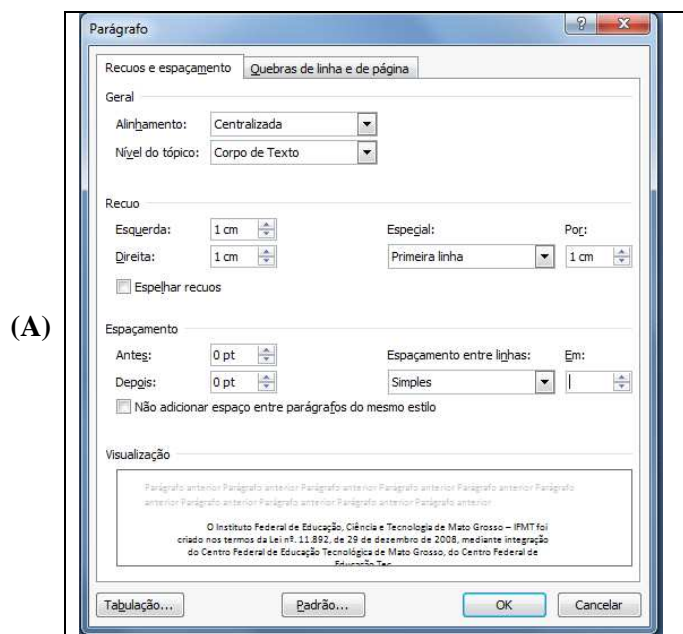
- (A) -40 e 10
- (B) -55 e 20
- (C) 40 e 20
- (D) 40 e 10

QUESTÃO 14

A figura abaixo apresenta um texto do Microsoft Word 2007 (idioma Português).



Assinale a alternativa que apresenta a formatação de parágrafo utilizada no texto mostrado na figura.



QUESTÃO 15

A respeito de conceitos de hardware, marque V para as afirmativas verdadeiras e F para as falsas.






- () O armazenamento baseado em RAID é formado por um conjunto de unidades de discos físicos, visto pelo sistema operacional como uma única unidade lógica.
- () Os discos SSD, diferentemente dos tradicionais discos rígidos magnéticos, não utilizam partes móveis em sua composição, o que os torna mais resistentes a quedas.
- () O *laser* das impressoras a *laser* é utilizado para queimar o papel nos locais onde se deseja gravar as imagens e caracteres que se quer imprimir.
- () Um chip *multicore* combina 2 ou mais processadores em um único chip de computador.

Assinale a sequência correta.

- (A) V, V, F, V
- (B) V, F, V, F
- (C) F, V, F, F
- (D) F, F, V, V

QUESTÃO 16

A coluna da esquerda apresenta ícones de botões do LibreOffice Writer 4.2.2 (idioma Português) e a da direita, a identificação de cada um. Numere a coluna da direita de acordo com a da esquerda.

- 1 -  () Tabela
- 2 -  () Ativar/Desativar marcadores
- 3 -  () Diminuir recuo
- 4 -  () Exportar diretamente como PDF
- 5 -  () Negrito

Marque a sequência correta.

- (A) 3, 4, 2, 5, 1
- (B) 5, 3, 1, 2, 4
- (C) 4, 2, 5, 1, 3
- (D) 4, 3, 5, 2, 1

QUESTÃO 17

A respeito da Internet e de seus conceitos de segurança, analise as afirmativas a seguir.

- I - *Applets* Java são pequenos programas que podem ser embutidos em uma página Web e executados quando um navegador carrega essa página.
- II - Ao usar navegadores Web, a liberação dos *cookies* garante maior segurança e privacidade ao se preencher dados em formulários Web.
- III - Os protocolos HTTPS, SSL e TLS são utilizados para assegurar a confidencialidade e a integridade das informações na Internet.

Está correto o que se afirma em

- (A) I e II, apenas.
- (B) II e III, apenas.
- (C) I, II e III.
- (D) I e III, apenas.

QUESTÃO 18

Ao digitar na barra de pesquisa do Google o termo: **IFMT filetype:pdf**, o que será exibido nos resultados de pesquisa?

- (A) Arquivos do tipo pdf hospedados apenas no site www.ifmt.edu.br.
- (B) Arquivos do tipo pdf hospedados apenas no site www.ifmt.edu.br e que contenham a palavra IFMT.
- (C) Arquivos do tipo pdf que contenham a palavra IFMT.
- (D) Arquivos do tipo pdf hospedados apenas no site www.ifmt.edu.br e que contenham a palavra filetype.

QUESTÃO 19

Observe a figura abaixo que apresenta uma janela do Mozilla Firefox 28.0, quando executado no Microsoft Windows 7.



Levando em consideração a figura acima, pode-se afirmar que o usuário, para visualizar a opção de desabilitar ou habilitar o bloqueio de janelas *popup*, deve clicar

- (A) no botão Opções e, após o aparecimento da janela denominada Opções, selecionar a aba Conteúdo.
- (B) no botão Opções e, após o aparecimento da janela denominada Opções, selecionar a aba Privacidade.
- (C) no botão Complementos e, após o aparecimento da janela denominada Complementos, selecionar a aba Segurança.
- (D) no botão Complementos e, após o aparecimento da janela denominada Complementos, selecionar a aba Geral.

QUESTÃO 20

A coluna da esquerda apresenta termos relacionados a e-mail e a da direita, a caracterização de cada termo. Numere a coluna da direita de acordo com a da esquerda.

- | | |
|------------------------|--|
| 1 - Endereço | () Mensagem indesejada que pode sobrecarregar a caixa postal. |
| 2 - <i>Spam</i> | () Coleta e armazena as mensagens em uma caixa postal. |
| 3 - Filtros | () Consiste no nome do usuário seguido pelo símbolo @ e, por fim, o nome do domínio do servidor de correio. |
| 4 - <i>Mail server</i> | () Pode dirigir as mensagens que chegam para pastas específicas. |

Assinale a sequência correta.

- (A) 3, 2, 1, 4
- (B) 2, 4, 1, 3
- (C) 4, 2, 3, 1
- (D) 2, 1, 4, 3

CONHECIMENTOS ESPECÍFICOS

QUESTÃO 21

Sobre as taxas de juros, marque V para as afirmativas verdadeiras e F para as falsas.

- () A alocação de capital entre poupadores e investidores é determinada em uma economia de mercado pelas taxas de juros.
- () O juro pode ser entendido como o preço pago pelo aluguel do dinheiro, ou seja, o valor que deve ser pago pelo empréstimo de um capital.
- () Os consumidores apresentam preferências temporais por utilizar seu capital para consumo no momento atual, ou aplicá-lo na expectativa de consumo maior no futuro.
- () O risco de não se reembolsar um empréstimo no vencimento diminui a taxa de juros exigida pelos poupadores.

Assinale a sequência correta.

- (A) F, F, V, V
- (B) V, V, V, F
- (C) V, F, F, F
- (D) F, V, V, V

QUESTÃO 22

Sobre capitalização dos juros, marque V para as afirmativas verdadeiras e F para as falsas.

- () No critério de capitalização linear, os juros incidem sobre o principal (capital inicial aplicado ou alocado) e geram, em consequência, remunerações (ou custos) diretamente proporcionais ao capital e prazo envolvidos na operação.
- () No critério de capitalização composto, os juros incidem sobre o saldo acumulado (montante) e, dessa forma, o juro gerado em determinada operação é adicionado (incorporado) ao principal e serve de base para o cálculo de juros do período posterior.
- () Taxa nominal representa a taxa de juros contratada (ou declarada) numa operação financeira (ativa ou passiva).
- () Taxa equivalente representa a taxa de juros que gera montantes idênticos (equivalentes) quando capitalizada sobre um mesmo capital e prazo.

Assinale a sequência correta.

- (A) V, V, V, V
- (B) F, F, F, V
- (C) V, F, V, F
- (D) F, V, V, V

QUESTÃO 23

O Sistema Financeiro Nacional (SFN) têm como finalidade intermediar o fluxo de recursos entre os poupadores e investidores e os tomadores de recursos, em condições satisfatórias para o mercado. Sobre esse assunto, assinale a afirmativa correta.

- (A) O Conselho Monetário Nacional (CMN) é o órgão máximo do Sistema Financeiro Nacional e desempenha função executiva e regulatória.
- (B) O Banco Central do Brasil (BACEN), que atua como um organismo fiscalizador do mercado financeiro, é um dos órgãos da Comissão de Valores Mobiliários (CVM).
- (C) O Sistema Financeiro Nacional (SFN) é constituído por um conjunto de instituições financeiras públicas e privadas que atuam por meio de diversos instrumentos financeiros, na captação de recursos, distribuição e transferências de valores entre os agentes econômicos.
- (D) O Banco Central do Brasil é o órgão máximo do Sistema Financeiro Nacional.

QUESTÃO 24

As decisões de investimento de longo prazo consistem na utilização de métodos de avaliação econômica, com o objetivo de se apurar os resultados e a atratividade das aplicações de capital. Assinale a afirmativa que **NÃO** considera o valor do dinheiro no tempo.

- (A) *Payback* simples.
- (B) Valor presente líquido.
- (C) Taxa interna de retorno.
- (D) Taxa interna de retorno modificada.

QUESTÃO 25

A coluna da esquerda apresenta as funções de Tesouraria e a da direita, suas respectivas atividades. Numere a coluna da direita de acordo com a da esquerda.

- | | | |
|-------------------------------------|-----|---|
| 1 - Planejamento Financeiro | () | Controlar as duplicatas em carteira e em cobrança bancária. |
| 2 - Administração do Fluxo de Caixa | () | Controlar adiantamentos a fornecedores. |
| 3 - Crédito e Cobrança | () | Estabelecer política de financiamento de capital de giro. |
| 4 - Contas a Pagar | () | Controlar os recursos disponíveis em bancos e em caixa. |

Marque a sequência correta.

- (A) 2, 1, 3, 4
- (B) 1, 3, 4, 2
- (C) 2, 3, 1, 4
- (D) 3, 4, 1, 2

QUESTÃO 26

Quando o grau de alavancagem financeira (GAF) é maior que 1, o efeito do capital de terceiros sobre o Patrimônio Líquido é

- (A) Indiferente.
- (B) Lucrativo.
- (C) Favorável.
- (D) Desfavorável.

QUESTÃO 27

Sabe-se que uma empresa vendeu, em 2013, R\$ 50.000.000,00 e somente recebeu R\$ 32.000.000,00 (o restante receberá no futuro). Teve como despesa incorrida R\$ 26.000.000,00 e pagou até o último dia do ano R\$ 20.000.000,00. Qual o valor líquido do saldo em regime de competência e em regime de caixa da empresa, respectivamente?

- (A) R\$ 12.000.000,00 e R\$ 18.000.000,00
- (B) R\$ 24.000.000,00 e R\$ 12.000.000,00
- (C) R\$ 26.000.000,00 e R\$ 20.000.000,00
- (D) R\$ 16.000.000,00 e R\$ 30.000.000,00

QUESTÃO 28

A tomada de decisão é o processo de identificar oportunidades e problemas e resolvê-los, a partir de esforços antes e depois da escolha concreta. Cada situação de decisão pode ser organizada numa escala de quatro posições. Quais são essas posições?

- (A) Certeza, Risco, Incerteza e Ambiguidade.
- (B) Certeza, Risco, Incerteza e Intuição.
- (C) Forças, Fraquezas, Ameaças e Oportunidades.
- (D) Forças, Fraquezas, Eficácia e Eficiência.

QUESTÃO 29

A coluna da esquerda apresenta abordagem da Controladoria e a da direita, suas respectivas atividades. Numere a coluna da direita de acordo com a da esquerda.

- | | | |
|-----------------------|-----|--|
| 1 - <i>Controller</i> | () | São o resultado de dados ou conjunto de dados adequadamente processados para que o usuário final os compreenda e possa tomar decisões. |
| 2 - Informações | () | Consiste em estabelecer com antecedência as ações a serem executadas dentro de cenários e condições preestabelecidos, estimando os recursos a serem utilizados e atribuindo as responsabilidades, para atingir os objetivos fixados. |
| 3 - Planejamento | () | Acompanhar a execução de atividades e comparar periodicamente o desempenho efetivo com o planejado. |
| 4 - Controlar | () | Dar suporte à gestão dos negócios da empresa, para que esta atinja seus objetivos, por meio de informações gerenciais geradas em tempo hábil para tomada de decisões. |

Marque a sequência correta.

- (A) 3, 1, 2, 4
- (B) 4, 2, 1, 3
- (C) 2, 3, 4, 1
- (D) 2, 3, 1, 4

QUESTÃO 30

O processo de organização conduz à criação da estrutura organizacional, que define como as tarefas são desenvolvidas e os recursos aplicados. Sobre definições de estrutura da organização, analise as afirmativas.

- I - Um conjunto de tarefas formais designadas a um indivíduo ou departamento.
- II - As relações formais de relacionamento, incluindo linha de autoridade, decisão de responsabilidade, número de níveis hierárquicos, amplitude de controle dos gerentes.
- III - O projeto dos sistemas para assegurar a coordenação eficaz dos funcionários nos departamentos.

São definições de estrutura da organização

- (A) I e II, apenas.
- (B) I e III, apenas.
- (C) II e III, apenas.
- (D) I, II e III.

INSTRUÇÃO: Analise os dados do quadro abaixo e responda às questões de 31 a 35.

DISCRIMINAÇÃO	Em R\$
Aquisição de Computadores	30.000,00
Devolução de Caução em dinheiro	12.500,00
Venda à vista de um imóvel	115.000,00
Aposentadorias	42.000,00
Pagamento dos valores inscritos no Serviço da Dívida a Pagar	7.600,00
Retenções da Folha de Pagamento	1.200,00
Juros da Dívida Pública	17.000,00
Pagamento de Operação de Crédito por Antecipação da Receita (ARO)	6.000,00
Obrigações Patronais	13.700,00
Recebimento de Tributos	220.000,00
Seguro-garantia depositado em dinheiro por um contratado da Administração Pública	10.000,00
Amortização da Dívida	18.000,00
Recolhimento de Contribuição Sindical	5.000,00
Passagens aéreas	3.000,00
Inscrição de Restos a Pagar	22.300,00
Obtenção de Empréstimos a Longo Prazo	78.000,00
Horas Extras	9.000,00
Pagamento antecipado de Benefícios Previdenciários	13.000,00

QUESTÃO 31

Qual o valor total das Receitas sob o enfoque orçamentário?

- (A) R\$ 413.000,00
- (B) R\$ 423.200,00
- (C) R\$ 368.500,00
- (D) R\$ 445.300,00

QUESTÃO 32

Qual o valor total das Despesas sob o enfoque orçamentário?

- (A) R\$ 145.200,00
- (B) R\$ 142.700,00
- (C) R\$ 153.300,00
- (D) R\$ 132.700,00

QUESTÃO 33

Qual o valor total das Receitas Extraorçamentárias?

- (A) R\$ 51.500,00
- (B) R\$ 52.200,00
- (C) R\$ 57.000,00
- (D) R\$ 33.500,00

QUESTÃO 34

Qual o valor total das Despesas Extraorçamentárias?

- (A) R\$ 57.300,00
- (B) R\$ 50.400,00
- (C) R\$ 44.100,00
- (D) R\$ 62.300,00

QUESTÃO 35

Qual o valor do Resultado Financeiro?

- (A) R\$ 272.200,00
- (B) R\$ 269.700,00.
- (C) R\$ 227.600,00
- (D) R\$ 286.700,00

QUESTÃO 36

Analise os dados do quadro abaixo.

DISCRIMINAÇÃO	Em Reais
Disponível	525.000,00
Estoques	400.000,00
Ativo Realizável a Longo Prazo	1.200.000,00
Encargos Sociais a Pagar	150.000,00
Financiamentos a Longo Prazo	1.150.000,00

Qual o Índice de Liquidez Geral?

- (A) 1,50
- (B) 1,84
- (C) 1,63
- (D) 1,23

QUESTÃO 37

Em relação à doutrina aplicada à gestão pública e seus instrumentos de planejamento, marque V para as afirmativas verdadeiras e F para as falsas.

- () A Lei de Diretrizes Orçamentárias (LDO) tem como função principal o estabelecimento dos parâmetros necessários à alocação dos recursos no orçamento anual, de forma a garantir, dentro do possível, a realização das diretrizes, dos objetivos e das metas contempladas no Plano Plurianual.
- () O Congresso Nacional deverá devolver o Plano Plurianual (PPA) aprovado ao Executivo para sanção até o encerramento do primeiro período da sessão legislativa.
- () O Orçamento da Seguridade Social abrange todas as entidades e órgãos a ela vinculados, da administração direta ou indireta, bem como os fundos e fundações instituídos e mantidos pelo Poder Público.
- () Os Créditos Adicionais suplementares e especiais só podem ser abertos se houver recursos disponíveis para ocorrer a despesa, independentemente da sua urgência e necessidade, e a autorização para sua abertura poderá ser inserida na Lei Orçamentária Anual (LOA).
- () Os limites da Dívida Pública Consolidada serão fixados em percentual da receita corrente líquida para cada esfera de governo e aplicados igualmente a todos os entes da Federação que a integrem, constituindo, para cada um deles, limites máximos e a apuração do montante será efetuada ao final de cada quadrimestre.

Assinale a sequência correta.

- (A) F, F, V, V, F
- (B) V, F, V, F, V
- (C) V, V, F, F, V
- (D) F, F, V, F, V

QUESTÃO 38

Em relação à Programação e Execução Financeira, marque a afirmativa **INCORRETA**.

- (A) O Poder Executivo, imediatamente após a promulgação da Lei de Orçamento, aprovará um quadro de cotas trimestrais da despesa que cada unidade orçamentária fica autorizada a utilizar, com vista a ajustar o ritmo da execução orçamentária ao fluxo provável de recursos, mantendo, na medida do possível, equilíbrio entre a receita arrecadada e a despesa realizada.
- (B) Até trinta dias após a publicação dos orçamentos, nos termos em que dispuser a Lei de Diretrizes Orçamentárias, o Poder Executivo estabelecerá, por ato próprio, a programação financeira e o cronograma de execução mensal de desembolso.
- (C) As disponibilidades de caixa da União serão depositadas no Banco Central; as dos Estados, do Distrito Federal, dos Municípios e dos órgãos ou entidades do poder público e das empresas por ele controladas, em instituições financeiras oficiais, ressalvados os casos previstos em lei.
- (D) É exigido acompanhamento e avaliação ao final de cada quadrimestre do desempenho da receita, confrontando o fluxo estimado com o realizado e, ainda que haja alinhamento da programação da despesa ao fluxo real de realização da receita, no sentido de assegurar o cumprimento das Metas Fiscais de Resultado Primário ou Nominal preestabelecidas na Lei de Diretrizes Orçamentárias.

QUESTÃO 39

A coluna da esquerda apresenta denominações usuais em relação à Estrutura e Análise das Demonstrações Contábeis do Setor Público e a da direita, a conceituação de cada uma. Numere a coluna da direita de acordo com a da esquerda.

- | | | |
|--------------------------------------|-----|---|
| 1 - Resultado Orçamentário | () | Resultante da relação entre a Receita Realizada e a Previsão Atualizada da Receita, indicando a existência de excesso ou falta de arrecadação para a cobertura de despesas. |
| 2 - Resultado Patrimonial | () | Demonstra quanto a entidade poderá dispor em recursos a curto prazo para pagar suas dívidas circulantes. |
| 3 - Passivo a Descoberto | () | Resultante da relação entre a Receita Realizada e a Despesa Empenhada. |
| 4 - Quociente de Execução da Receita | () | Resultante da relação entre o Total das Variações Patrimoniais Aumentativas e o Total das Variações Patrimoniais Diminutivas. |
| 5 - Liquidez Corrente (LC) | () | Quando o valor do Passivo for maior que o valor do Ativo. |

Marque a sequência correta.

- (A) 4, 5, 1, 2, 3
- (B) 5, 2, 4, 3, 1
- (C) 4, 1, 5, 3, 2
- (D) 5, 4, 3, 1, 2

QUESTÃO 40

Analise os dados do quadro abaixo referentes ao projeto de Lei Orçamentária de um determinado Estado. Esse Estado possui autarquias e fundações públicas que arrecadam receitas próprias, como de serviços prestados, aluguéis de imóveis e alienação de bens.

RECEITA PREVISTA	Em R\$	DESPESA FIXADA	Em R\$
Receita Tributária	1.100.000,00	Pessoal e Encargos Sociais	900.000,00
Receita de Contribuições	600.000,00	Outras Despesas Correntes	700.000,00
Transferências Correntes	400.000,00	Amortização da Dívida	500.000,00
TOTAL	2.100.000,00	TOTAL	2.100.000,00

A que princípio orçamentário essa proposta orçamentária deixou de obedecer?

- (A) Legalidade
- (B) Universalidade
- (C) Programação ou Planejamento
- (D) Unidade ou Totalidade



Edital N.º 27, de 11/04/2014

Concurso Público - Técnico Administrativo em Educação

Nome: _____

Cargo: *Tecnólogo/Formação: Gestão Financeira*

FOLHA DE ANOTAÇÃO DO CANDIDATO

Questão	Alternativa
01	
02	
03	
04	
05	
06	
07	
08	
09	
10	
11	
12	
13	
14	
15	
16	
17	
18	
19	
20	

Questão	Alternativa
21	
22	
23	
24	
25	
26	
27	
28	
29	
30	
31	
32	
33	
34	
35	
36	
37	
38	
39	
40	

Esta folha é destinada para uso EXCLUSIVO do candidato.