



TÉCNICO EM ENFERMAGEM DO TRABALHO

ATN66

CADERNO 1

LEIA COM ATENÇÃO AS INSTRUÇÕES

- 1 - A duração da prova é de 4 horas, já incluído o tempo de preenchimento do cartão de respostas.
- 2 - O candidato que, na primeira hora de prova, se ausentar da sala e a ela não retornar, será eliminado.
- 3 - Os três últimos candidatos ao terminar a prova deverão permanecer na sala e somente poderão sair juntos do recinto, após aposição em ata de suas respectivas assinaturas.
- 4 - Você **NÃO** poderá levar o seu caderno de questões (Provas) e nem copiar o gabarito, pois a imagem do seu **cartão de respostas** será disponibilizado em <http://concursos.biorio.org.br> na data prevista no cronograma.

INSTRUÇÕES - PROVA OBJETIVA

- 1- Confira atentamente se este caderno de questões (Provas), que contém **50 questões objetivas**, está completo.
- 2 - Cada questão da Prova Objetiva conterà **5 (cinco) opções** e somente uma correta.
- 3 - Confira **se seus dados pessoais**, o **curso** escolhido, indicados no **cartão de respostas**, estão corretos. Se notar qualquer divergência, notifique imediatamente ao Fiscal de Sala ou ao Chefe de Local. Terminada a conferência, você deve assinar o **cartão de respostas** no espaço apropriado.
- 4 - Confira atentamente se o **curso** e o **número do caderno** que consta neste caderno de questões é o mesmo do que consta em seu **cartão de respostas**. Se notar qualquer divergência, notifique imediatamente ao Fiscal de Sala ou ao Chefe de Local.
- 5 - Cuide de seu **cartão de respostas**. Ele não pode ser rasurado, amassado, dobrado nem manchado.
- 6 - Se você marcar mais de uma alternativa, sua resposta será considerada errada mesmo que uma das alternativas indicadas seja a correta.

AGENDA

- **18/05/2014, PROVAS OBJETIVAS/RECEBIMENTO DE TÍTULOS.**
- **19/05/2014**, Divulgação dos Gabaritos Preliminares e Disponibilização dos Exemplares das Provas Objetivas.
- **20/05/2014**, Disponibilização das Imagens dos Cartões de Respostas das Provas Objetivas.
- **21 e 22/05/2014**, Interposição de Recursos Administrativos quanto as questões das Provas Objetivas.
- **29/05/2014**, Divulgação dos Gabaritos Definitivos Oficiais.
- **02/06 a 03/06/2014**, Interposição de Recursos Administrativos contra as Notas Preliminares das Provas Objetivas.
- **09/06/2014**, Divulgação do Resultado Final das Notas das Provas Objetivas.
- **10/06/2014**, Relação dos Candidatos convocados para a Prova Prática.
- **10/06/2014**, Relação dos Candidatos que terão os Títulos Analisados.
- **16/06/2014**, Divulgação das Notas Preliminares da Avaliação de Títulos.
- **14/06 e/ou 15/06/2014, PROVAS PRÁTICAS.**
- **16/06/2014**, Divulgação das Notas Preliminares das Provas Práticas.
- **17/06 a 18/06/2014**, Interposição de Recursos contra as Notas Preliminares das Provas Práticas.
- **17/06 a 18/06/2014**, Interposição de recurso contra as Notas Preliminares da Avaliação de Títulos.
- **25/06/2014**, Resultado Final do Concurso Público.



INFORMAÇÕES:

- **Tel:** 21 3525-2480 das 9 às 18h
- **Internet:** <http://concursos.biorio.org.br>
- **E-mail:** nuclep2014@biorio.org.br

LÍNGUA PORTUGUESA

TEXTO

PAZ COM MORTES?

Paula Cesarino Costa, *Folha de São Paulo*

Uma senhora caminhava com o neto, após comemorar com um churrasco os 72 anos que recém-completara, quando irrompeu o tiroteio no complexo de favelas do Alemão, na zona norte do Rio. Arlinda Bezerra das Chagas, conhecida como dona Dalva, só teve tempo de aconselhar o neto a esconder-se atrás dela. Foi atingida por um tiro e morreu.

Ao tentar escapar de confronto entre traficantes e policiais, em Copacabana, zona sul, Douglas Rafael da Silva, 26, o dançarino DG, recebeu um tiro pelas costas, caiu do muro de uma creche e aumentou a estatística de assassinatos no Rio.

Por um desses absurdos que só a política e a polícia admitem, dona Dalva e DG são vítimas do chamado processo de pacificação de favelas do Rio. Mas pode haver pacificação com morte? Essa contradição em termos não tem escapado à imprensa estrangeira, açodada pela proximidade da Copa do Mundo.

Ao visitar uma comunidade “pacificada”, o repórter Bem Anderson, da série jornalística “Vice”, da HBO, surpreendeu-se quando o policial militar disse que comanda ali uma operação de guerra. No final, constata que, embora os grandes traficantes tenham sido retirados de muitas áreas, a polícia pode ser tão ruim quanto eles. E que o tráfico vive bem.

Pairam hoje mais dúvidas do que certezas sobre os avanços da política de segurança. Os motivos já são por demais conhecidos e repetidos.

A reconquista de territórios antes sob o domínio do tráfico não se manterá se não houver a ocupação por políticas de emprego e melhora das condições de habitação, transporte, educação e saúde. Nem se a polícia continuar a fornecer quadros para o crime organizado. A polícia não será respeitada enquanto casos de tortura, abuso e ineficiência se repetirem.

Pacificação não pode admitir guerra nem moradores contrapostos a policiais, como se inimigos fossem.

Questão 1

Considerando os dois primeiros parágrafos do texto, podemos dizer que:

- (A) o primeiro parágrafo se opõe tematicamente ao segundo.
- (B) o segundo parágrafo funciona como explicação do primeiro.

- (C) os dois parágrafos mostram exemplos diferentes do mesmo problema.
- (D) o segundo parágrafo funciona como intensificador do primeiro.
- (E) o primeiro parágrafo mostra o tema central do texto.

Questão 2

O título dado ao texto – *Paz com mortes?* – indica:

- (A) uma contradição em termos.
- (B) um problema inevitável a uma ocupação.
- (C) um despreparo da polícia.
- (D) uma solução de um problema.
- (E) uma dúvida sobre a violência das autoridades.

Questão 3

O relato da morte de dona Dalva apresenta um conjunto de fatores que o agravam; entre esses fatores só NÃO está:

- (A) a idade da vítima.
- (B) o fato de estar acompanhada do neto.
- (C) a proximidade de seu aniversário.
- (D) o inesperado do tiroteio.
- (E) a dedicação da avó ao proteger o neto.

Questão 4

O aspecto trágico da morte de Douglas Rafael da Silva está em:

- (A) exercer a profissão de dançarino.
- (B) ter ocorrido o crime na zona elegante do Rio de Janeiro.
- (C) ser atingido por um tiro pelas costas.
- (D) ter caído de um muro de uma creche.
- (E) ser vítima de um confronto diário nas comunidades.

Questão 5

“Por um desses absurdos que só a política e a polícia admitem, dona Dalva e DG são vítimas do chamado processo de pacificação de favelas do Rio. Mas pode haver pacificação com morte? Essa contradição em termos não tem escapado à imprensa estrangeira, açodada pela proximidade da Copa do Mundo.”

A opção em que a relação entre verbo e sujeito está errada é:

- (A) admitem / a política e a polícia.
- (B) são / dona Dalva e DG.
- (C) pode haver / pacificação.
- (D) tem escapado – essa contradição em termos.
- (E) açodada / a imprensa estrangeira.

Questão 6

“Ao visitar uma comunidade...”; essa oração reduzida pode ser desenvolvida de forma adequada do seguinte modo:

- (A) Depois de visitar uma comunidade...
- (B) Quando visitou uma comunidade...
- (C) Se visitou uma comunidade...
- (D) Logo que visitou uma comunidade...
- (E) Antes de visitar uma comunidade...

Questão 7

“Ao visitar uma comunidade ‘pacificada’...”; nesse segmento do texto, o termo *pacificada* aparece entre aspas porque:

- (A) reproduz uma designação oficial.
- (B) mostra a importância do termo no texto.
- (C) repete um termo mencionado anteriormente.
- (D) indica um novo valor semântico.
- (E) introduz um valor irônico para o termo.

Questão 8

“Nem se a polícia continuar a fornecer quadros para o crime organizado”; essa frase do texto significa que:

- (A) o crime organizado nunca foi enquadrado pela polícia.
- (B) a polícia continua um trabalho sem planejamento.
- (C) os criminosos contam com a corrupção policial.
- (D) uma parte dos policiais debanda para o crime organizado.
- (E) um grande grupo de policiais fornece armas a traficantes.

Questão 9

O termo sublinhado abaixo que é paciente do termo anterior é:

- (A) pacificação de favelas
- (B) operação de guerra
- (C) política de segurança
- (D) domínio do tráfico
- (E) políticas de emprego

Questão 10

Sobre a política de pacificação do Rio de Janeiro, o texto:

- (A) elogia os resultados, mas discorda dos meios.
- (B) critica os frutos colhidos até agora, por haver muitas mortes de criminosos.
- (C) alerta para uma nova escalada da violência.
- (D) indica algumas providências a serem tomadas, como os serviços sociais.
- (E) aponta um novo planejamento para a polícia.

RACIOCÍNIO LÓGICO

Questão 11

Observe os quatro primeiros termos da sequência a seguir: 226, 213, 200, 187, O oitavo termo é o:

- (A) 122
- (B) 135
- (C) 142
- (D) 144
- (E) 172

Questão 12

A soma dos números das faces opostas de um dado é sempre igual a 7. Observe a imagem a seguir:



A soma das faces opostas aos números observados na imagem é igual a

- (A) 4.
- (B) 6.
- (C) 7
- (D) 8.
- (E) 9.

Questão 13

O capítulo III de um livro começa na página 187 e vai até a página 235. João resolveu ler o capítulo todo num único dia. Para cumprir a resolução ele terá de ler a seguinte quantidade de páginas:

- (A) 47.
- (B) 48.
- (C) 49.
- (D) 50.
- (E) 51.

Questão 14

Se não é verdade que Adriano gosta de camarão ou de siri, avalie se as afirmativas a seguir são falsas (F) ou verdadeiras (V):

- I – Adriano não gosta nem de camarão nem de siri.
 II – Se Adriano gosta de camarão, então não gosta de siri.
 III – Se Adriano gosta de siri, então não gosta de camarão.

As afirmativas I, II e III são respectivamente:

- (A) V, V e V.
 (B) F, F e F.
 (C) F, V e V.
 (D) V, V e F.
 (E) V, F e F.

Questão 15

Nas linhas da tabela abaixo, o terceiro número foi obtido a partir dos dois primeiros de acordo com uma mesma regra.

18	12	6
12	4	8
25	12	13
19	8	?

Assim, a interrogação na quarta linha corresponde ao:

- (A) 8.
 (B) 9.
 (C) 10.
 (D) 11.
 (E) 12.

Questão 16

Num certo edifício os apartamentos são numerados de 1 em diante, usando-se consecutivamente os números inteiros. Todos os andares têm um mesmo número de apartamentos. Gérson mora no apartamento 68, no oitavo andar. O número de apartamentos em cada andar é igual a:

- (A) 6.
 (B) 7.
 (C) 8.
 (D) 9.
 (E) 10.

Questão 17

A sequência a seguir usa as letras de nosso alfabeto (ABCDEFGHIJKLMNOPQRSTUVWXYZ):

Z, W, S, N, ...

A próxima letra é:

- (A) F.
 (B) G.
 (C) H.
 (D) I.
 (E) J.

Questão 18

Se bananas são mais baratas do que ameixas e não tenho dinheiro suficiente para comprar duas dúzias de bananas, avalie se as afirmativas a seguir são falsas (F) ou verdadeiras (V):

- I – Não tenho dinheiro suficiente para comprar uma dúzia de bananas.
 II – Tenho dinheiro suficiente para comprar uma dúzia de ameixas.
 III – Não tenho dinheiro suficiente para comprar duas dúzias de ameixas.

As afirmativas I, II e III são respectivamente:

- (A) F, F e V.
 (B) V, F e V.
 (C) F, F e F.
 (D) F, V e V.
 (E) V, V e V.

Questão 19

Moreira levou 30 dias para cumprir 40% de uma tarefa. Se mantiver o ritmo, Moreira levará a seguinte quantidade de dias para executar toda a tarefa:

- (A) 65.
 (B) 66.
 (C) 70.
 (D) 75.
 (E) 78.

Questão 20

Observe a sequência:

4, 7, 11, ?, 44, 88, ...

A interrogação substitui o seguinte número:

- (A) 22.
- (B) 23.
- (C) 24.
- (D) 25.
- (E) 26.

NOÇÕES DE INFORMÁTICA

Questão 21

A figura a seguir mostra a especificação de um tablet.



Tablet Samsung Galaxy TAB 3 T2110 com Android 4.1 Wi-Fi e 3G Tela 7" Touchscreen Branco e Memória Interna 8GB

A citação “memória Interna 8GB” faz referência ao seguinte tipo de memória:

- (A) On Screen
- (B) DDR3 Bios
- (C) Flash RAM
- (D) SATA Eprom
- (E) Bluetooth Wi-Fi

Questão 22

Atualmente, os microcomputadores têm sido comercializados com discos rígidos cujas capacidades de armazenamento são suficientes para os trabalhos diários executados. Um valor bastante comum para a capacidade máxima e a tecnologia empregada nesses discos são, respectivamente:











- (A) 1 TB e SATA
- (B) 500GB e HDMI
- (C) 700 MB e SATA
- (D) 1000 TB e HDMI
- (E) 2 GB e SATA

Questão 23

A figura abaixo mostra uma janela no Windows XP que foi exibida na tela do monitor de vídeo, depois que a funcionária da NUCLEP executou um atalho de teclado.



O atalho de teclado que a funcionária usou foi:

- (A)  + 
- (B)  + 
- (C)  + 
- (D)  + 
- (E)  + 

Questão 24

A figura abaixo mostra diversos ícones que podem ser instalados na área de trabalho de um computador com sistema operacional Windows 7.



Eles representam pequenos programas com finalidades específicas, como relógio, calendário e temperatura do dia, visando facilitar e oferecer informações ao usuário do sistema. Esses ícones são conhecidos como:

- (A) inkgets
- (B) gadgets
- (C) midgets
- (D) nuggets
- (E) budgets


Questão 25

Um atalho de teclado que tem por função mostrar a janela de Ajuda do Word 2010 BR usa a seguinte tecla de função:

- (A) F5
- (B) F4
- (C) F3
- (D) F2
- (E) F1

Questão 26

O *MSOffice Word 2010 BR* disponibiliza dois ícones para uso na digitação de textos, o primeiro permite inserir caixas de texto pré-formatadas, e o segundo aplicar alinhamento justificado. Esses ícones são respectivamente:

- (A)  e 
- (B)  e 
- (C)  e 
- (D)  e 
- (E)  e 

Questão 27

A planilha abaixo foi criada no *Excel 2010 BR*.

	A	B	C	D	E
1	NUCLEP - 2014				
2					
3	7				
4	6		MAIOR ENTRE TODOS =		9
5	9				
6	2		MÉDIA A3 E A7 =		4
7	1				

- Em E4 foi inserida uma expressão usando a função MAIOR que determina o maior número entre todos no intervalo de A3 a A7.
- Em E6 foi inserida uma expressão que determina a média aritmética entre os números contidos nas células A3 e A7.

Nessas condições, as expressões inseridas nas células **E4** e **E6** foram respectivamente:

- (A) =MAIOR(A3:A7) e =MÉDIA(A3;A7)
- (B) =MAIOR(A3:A7) e =MÉDIA(A3:A7)
- (C) =MAIOR(A3:A7;1) e =MÉDIA(A3&A7)
- (D) =MAIOR(A3:A7;1) e =MÉDIA(A3:A7)
- (E) =MAIOR(A3:A7;1) e =MÉDIA(A3;A7)


Questão 28

No que diz respeito aos conceitos básicos para configuração e verificação de redes, um serviço possibilita a um servidor, ou mesmo a um roteador wireless, distribuir automaticamente, e de forma dinâmica, endereços IP diferentes a todos os computadores, à medida que eles fazem a solicitação de conexão com a rede. Esse serviço é conhecido pela sigla:

- (A) HPPS
- (B) WEP
- (C) DHCP
- (D) DNS
- (E) WINS

Questão 29

A navegação em sites na internet é realizada por meio de browsers, sendo o Google Chrome um dos mais utilizados. Um indicativo de que um site está sendo acessado em modo seguro, é visualizado na barra de endereços, exemplificado na seguinte alternativa:

- (A) 
- (B) 
- (C) 
- (D) 
- (E) 

Questão 30

No uso dos recursos dos softwares de correio eletrônico, se um usuário inserir o e-mail de um destinatário no campo da mensagem, uma cópia da mensagem será enviada para o destinatário e podem ocorrer duas situações, caracterizadas a seguir.

- I - o nome do destinatário não será visto pelos outros destinatários da mensagem.
- II - O nome do destinatário será visto pelos outros destinatários da mensagem.

Os espaços da mensagem caracterizados por I e II são referenciados, respectivamente, por:

- (A) Cc: e Cco:
 (B) Cco: e Cc:
 (C) Para: e Cópia:
 (D) Coo: e Co:
 (E) Co: e Coo:

CONHECIMENTOS ESPECÍFICOS
Questão 31

De acordo com a classificação de doenças relacionadas ao trabalho, são exemplos de doenças do sistema osteomuscular relacionadas com o trabalho:

- (A) dermatite solar, “pele de fazendeiro”, “pele de marinho”.
- (B) úlcera crônica da pele, urticária alérgica.
- (C) cervicalgia, dorsalgia.
- (D) estomatite ulcerativa crônica, dermatite solar.
- (E) urticária alérgica, urticária de contato.

Questão 32

As principais causas de Lesão por Esforço Repetitivo (LER) incluem:

- (A) falta de orientação, apenas.
- (B) atividades no trabalho que exijam força excessiva com as mãos e desconhecimentos sobre os riscos de LER, apenas.
- (C) posturas inadequadas e desfavoráveis às articulações e falta de orientação, apenas.
- (D) ritmo estressante de trabalho e falta de orientação.
- (E) repetição sistemática de um mesmo padrão de movimento, falta de orientação e desconhecimento sobre os riscos de LER.

Questão 33

O exame médico periódico deve ser feito com a seguinte frequência:

- a) apenas no desligamento do trabalhador da empresa.
- b) somente na admissão do trabalhador na empresa.
- c) após 3 (três) anos de trabalho na empresa.
- d) anualmente, quando os trabalhadores são menores de 18 (dezoito) anos e maiores de 45 (quarenta e cinco) anos de idade.
- e) a cada dois anos, para os trabalhadores expostos a radiação ionizante (raio-X).

Questão 34

Doenças causadas por ruído são evitadas:

- (A) eliminando-se a causa do ruído no local de trabalho, seja com adequação do ambiente por meio de normas técnicas, seja com o uso dos equipamentos de proteção coletiva (EPC) e de proteção individual (EPI).
- (B) realizando-se a audiometria mensal dos trabalhadores expostos a todo tipo de ruído.
- (C) realizando-se visitas setoriais.
- (D) exclusivamente com o uso dos EPIs.
- (E) exclusivamente com o uso dos EPIs e de EPCs

Questão 35

Ainda em relação ao programa de conservação auditiva, assinale a alternativa que NÃO apresenta efeitos do ruído sobre o indivíduo.

- (A) vertigem, desequilíbrio e dificuldade para caminhar.
- (B) taquicardia.
- (C) ruptura do tímpano.
- (D) hemorragia do ouvido médio e interno.
- (E) hipotermia e hipotensão arterial.

Questão 36

Em relação aos procedimentos para curativo de feridas abertas ou infectadas em um ambulatório de atendimento ao trabalhador é correto afirmar que:

- (A) quando se faz a troca de vários curativos em um mesmo paciente, devem-se iniciar pelas colostomias e fístulas, seguindo-se as feridas abertas infectadas, depois as não infectadas e por último as de incisão limpa e fechada.
- (B) deve-se lavar as mãos para evitar infecção somente após a conclusão do curativo.
- (C) deve-se utilizar somente o avental como EPI.
- (D) deve-se utilizar somente luvas como EPI.
- (E) independente do aspecto, serão sempre realizados conforme a técnica de curativo ou seja, sempre da área menos contaminada para a mais contaminada.

Questão 37

JLM trabalha em pé, 8 horas por dia. A seguinte orientação deve ser passada para ela:

- (A) manter-se em posição curvada em frente à bancada e o mais afastado dela possível, com o peso sendo alternadamente jogado, a cada quinze minutos, mais sobre a perna direita e mais sobre a perna esquerda.
- (B) manter-se em posição ereta em frente à bancada e o mais próximo dela possível, com o peso sendo alternadamente jogado, a cada cinco minutos, mais sobre a perna direita e mais sobre a perna esquerda.
- (C) manter-se em posição curvada em frente à bancada e o mais próximo dela possível, com o peso sendo alternadamente jogado, a cada cinco minutos, mais sobre a perna direita e mais sobre a perna esquerda.
- (D) manter-se em posição ereta em frente à bancada e próximo a ela, com o peso distribuído igualmente entre as duas pernas.
- (E) manter-se em posição ereta em frente à bancada e o mais afastado dela possível, com o peso distribuído igualmente entre as duas pernas.

Questão 38

CVW trabalha carregando peso durante toda sua carga horária. Segundo a NR 17- ergonomia, os seguintes cuidados devem ser observados para se levantar peso, EXCETO:

- (A) manter a carga apoiada nas duas mãos.
- (B) manter os pés separados e o peso do corpo corretamente distribuído.
- (C) manter as costas retas e as pernas em movimento de esticar.
- (D) manter pescoço e costas alinhados.
- (E) manter a carga afastada do corpo.

Questão 39

Doença do trabalho é aquela adquirida ou desencadeada em função de condições especiais em que o trabalho é realizado e com ele se relacione diretamente (também constante da relação supracitada). Avalie se as doenças consideradas como doenças do trabalho incluem:

- I - diabetes.
- II - saturnismo.
- III - disacusia em trabalho realizado em local extremamente ruidoso.
- IV - silicose.

Dessas doenças:

- (A) apenas a I está correta.
- (B) apenas a III e a IV estão corretas.
- (C) apenas a III está correta.
- (D) apenas a II está correta.
- (E) a II, a III e a IV estão corretas.

Questão 40

Quando um tóxico é ingerido, o esvaziamento gástrico, que compreende as medidas provocadoras de vômitos e a lavagem gástrica, é um dos tratamentos indicado. Constitui indicação para esse procedimento:

- (A) paciente com restrição a passagem de SNG.
- (B) paciente com depressão intensa sem intubação prévia.
- (C) paciente que ingeriu substâncias tóxicas dentro do período de segurança para realização do procedimento.
- (D) paciente que ingeriu cáusticos.
- (E) paciente que ingeriu derivados de petróleo.

Questão 41

Relacione os agentes de risco de natureza ocupacional a seguir com suas respectivas doenças:

- A. Vibrações.
- B. Ar Comprimido.
- C. Ruído e afecção auditiva.
- D. Algodão, Linho, Cânhamo, Sisal.
- E. Arsênico e seus compostos arsenicais.

- I - Neoplasia maligna dos brônquios e do pulmão.
- II - Ruptura traumática do tímpano.
- III - Sinusite barotraumática.
- IV - Rinites alérgicas.
- V - Acrocianose e acroparestesia.

A relação correta é:

- (A) I-E; II-C ; III-B; IV-A ; V-D.
- (B) I-A; II- C; III- D; IV- B; V- E.
- (C) I-E; II- B; III- A; IV- C; V- D.
- (D) I- E; II-C; III-B; IV-D, V-A.
- (E) I- D; II-B; III-C; IV-A; V-E.

Questão 42

Avalie se, de acordo com a NR-6, a empresa é obrigada a fornecer aos empregados, gratuitamente, EPI adequado ao risco, em perfeito estado de conservação e funcionamento, nas seguintes circunstâncias:

- I - sempre que as medidas de ordem geral não ofereçam completa proteção contra os riscos de acidentes do trabalho ou de doenças profissionais e do trabalho;
- II - enquanto as medidas de proteção coletiva estiverem sendo implantadas;
- III - para atender a situações de emergência.

Está correto o que se afirma em:

- (A) I, II e III.
- (B) I e II, apenas.
- (C) II e III, apenas.
- (D) I, apenas.
- (E) II, apenas.

Questão 43

O reconhecimento dos riscos ambientais, uma das etapas do processo de desenvolvimento do PPRA, inclui:

- (A) a descrição das possíveis sequelas à saúde dos trabalhadores.
- (B) o controle sistemático das situações que apresentem exposição ocupacional acima dos níveis de ação.
- (C) as medidas de eliminação e redução dos agentes prejudiciais à saúde.
- (D) a caracterização das atividades e do tipo de exposição.
- (E) a seleção do EPI a ser utilizado pelo trabalhador para controle dos riscos ambientais.

Questão 44

Em relação à NR 17, que versa sobre ergonomia, avalie se as afirmativas a seguir são falsas (F) ou verdadeiras (V):

- I - Visa a estabelecer parâmetros que permitam a adaptação das condições de trabalho às condições psicofisiológicas dos trabalhadores.
- II - Tem por objetivo proporcionar o máximo de conforto, segurança e desempenho eficiente.
- III - A fundamentação legal, ordinária e específica que dá embasamento jurídico à existência desta NR são os artigos 198 e 199 da CLT.

Está correto o que se afirma em:

- (A) I, apenas.
- (B) II, apenas.
- (C) III, apenas.
- (D) II e III, apenas.
- (E) I, II e III.

Questão 45

De acordo com a norma regulamentadora 4, os critérios utilizados para o dimensionamento do Serviço Especializado em Engenharia de Segurança e em Medicina do Trabalho devem ter por base:

- (A) a quantificação de riscos existentes nos postos de trabalho e o número total de trabalhadores da empresa.
- (B) o grau de risco e o número total de trabalhadores da empresa.
- (C) o número total de empregados da linha de produção e a qualificação dos riscos ocupacionais.
- (D) os programas de prevenção já existentes e a quantificação de riscos existentes nos postos de trabalho.
- (E) os programas de prevenção já existentes e o grau de risco da empresa.

Questão 46

Após o almoço no refeitório da empresa, vários trabalhadores apresentaram manifestações clínicas como mal-estar geral, diarreia, náuseas e vômitos. Suspeita-se de doença transmitida por alimento. nesse caso, a seguinte iniciativa deve ser tomada:

- (A) orientar os doentes a se automedicar com sintomáticos até que todos possam ser atendidos nos serviços de saúde para minimizar os agravos.
- (B) reunir todos os alimentos possivelmente contaminados e incinerá-los, evitando que continuem sendo consumidos.
- (C) coletar amostras de sangue para análise laboratorial após administração de terapia imunossupressora.
- (D) informar a vigilância epidemiológica por meio de formulário denominado "Inquérito Coletivo de Surto de Doença Transmitida por Alimento".
- (E) acondicionar os comensais em refrigeração até a chegada dos responsáveis pela investigação do surto.

Questão 47

Trabalhador feriu-se acidentalmente com equipamentos em mau estado de conservação. Durante a internação hospitalar, devido a complicações, apresentava riso sardônico e trismo, manifestações da doença de notificação compulsória denominada:

- (A) transtorno psiquiátrico.
- (B) tétano acidental.
- (C) síndrome de Burnout.
- (D) doença osteoarticular relacionada ao trabalho.
- (E) fadiga por esgotamento físico e psíquico.

Questão 48

Durante consulta de enfermagem, um trabalhador apresenta ortopneia. A ação imediata que o técnico de enfermagem deve excutar para minimizar essa manifestação clínica é:

- (A) administrar antieméticos.
- (B) coletar sangue para pesquisa de insuficiência renal.
- (C) posicionar o trabalhador em decúbito elevado.
- (D) aferir a pressão arterial.
- (E) aplicar compressas frias.

Questão 49

O trabalhador foi avaliado pelo médico do trabalho, que constatou hiperpirexia. Na vigência desse quadro, o técnico de enfermagem, após orientação médica, procede a:

- (A) instilação ocular de colírio a base de corticoide.
- (B) lateralização da cabeça para evitar broncoaspiração.
administração de antitérmico.
- (C) posicionamento do colaborador em decúbito lateral esquerdo.
- (D) aplicação de safigel na área lesionada.

Questão 50

Doenças em que o trabalho pode ser um fator de risco contributivo, mas não necessário, exemplificadas pelas doenças comuns mais frequentes ou mais precoces em determinados grupos ocupacionais e para as quais o nexos causal é de natureza eminentemente epidemiológica. São exemplos corretos dessa classe de doenças:

- (A) DORT/LER e varizes.
- (B) neoplasias e hipertensão.
- (C) dermatite de contato alérgica e neoplasia.
- (D) asma e hipertensão arterial.
- (E) varizes e asma ocupacional.

