

MINISTÉRIO DA AGRICULTURA, PECUÁRIA  
E ABASTECIMENTO  
**MAPA**

CONCURSO PÚBLICO  
Nº 001/2014

TIPO  
**01**  
BRANCO



Engenheiro Agrônomo

**TARDE**

Organizadora:



**CARGO: ENGENHEIRO AGRÔNOMO**

Texto para responder às questões de **01** a **09**.

**As verdades da razão**

Raciocinar não é algo que aprendemos na solidão, mas algo que inventamos ao nos comunicar e nos confrontar com os semelhantes: toda razão é fundamentalmente conversação. “Conversar” não é o mesmo que ouvir sermões ou atender a vozes de comando. Só se conversa – sobretudo só se discute – entre iguais. Por isso o hábito filosófico de raciocinar nasce na Grécia, junto com as instituições políticas da democracia. Ninguém pode discutir com Assurbanipal ou com Nero, e ninguém pode conversar abertamente em uma sociedade em que existem castas sociais inamovíveis. [...] Afinal de contas, a disposição a filosofar consiste em decidir-se a tratar os outros como se também fossem filósofos: oferecendo-lhes razões, ouvindo as deles e construindo a verdade, sempre em dúvida, a partir do encontro entre umas e outras.

[...] Oferecemos nossa opinião aos outros para que a debatam e por sua vez a aceitem ou refutem, não simplesmente para que saibam “onde estamos e quem somos”. E é claro que nem todas as opiniões são igualmente válidas: valem mais as que têm melhores argumentos a seu favor e as que melhor resistem à prova de fogo do debate com as objeções que lhe sejam colocadas.

[...] A razão não está situada como um árbitro semidivino acima de nós para resolver nossas disputas; ela funciona dentro de nós e entre nós. Não só temos que ser capazes de exercer a razão em nossas argumentações como também – e isso é muito importante e, talvez, mais difícil ainda – devemos desenvolver a capacidade de ser convencidos pelas melhores razões, venham de quem vierem. [...] A partir da perspectiva racionalista, a verdade buscada é sempre resultado, não ponto de partida: e essa busca incluía conversação entre iguais, a polêmica, o debate, a controvérsia. Não como afirmação da própria subjetividade, mas como caminho para alcançar uma verdade objetiva através das múltiplas subjetividades.

(Fernando Savater. “As verdades da razão”. In: *As perguntas da vida*. São Paulo: Martins Fontes, 2001.)

**01**

**Considerando que o texto é construído a partir de seqüências argumentativas, assinale a afirmativa compatível com o posicionamento do autor acerca do tema abordado.**

- A) A exposição de opiniões diversas implica na validação de cada uma delas.
- B) A conversação e o raciocínio são ações que se opõem em determinado contexto.
- C) Através da exposição de opiniões e sua confrontação, busca-se a verdade como resultado.
- D) Em uma sociedade em que as práticas e ideias não demonstram flexibilidade, o diálogo aberto se torna um agente transformador.

**02**

**De acordo com os recursos e a estruturação textual utilizados, é correto afirmar que o texto apresentado tem por objetivo principal**

- A) organizar informações pertinentes de modo objetivo.
- B) persuadir o leitor, convencendo-o acerca da ideia defendida pelo articulista.
- C) expor o ponto de vista do autor em um texto predominantemente objetivo.
- D) discutir as reações do ser humano diante das angústias existenciais vividas no século XXI.

**03**

**Os termos destacados em “Não como afirmação da própria subjetividade, mas como caminho para alcançar uma verdade objetiva através das múltiplas subjetividades.” (3º§) indicam, respectivamente, uma relação de**

- A) ressalva e explicação.
- B) oposição e finalidade.
- C) oposição e explicação.
- D) explicação e finalidade.

**04**

**A partir de mecanismos linguísticos que permitem uma seqüência lógico-semântica entre as partes do texto, identifique a referenciação corretamente estabelecida quanto ao destacado em “– e isso é muito importante e, talvez, mais difícil ainda –” (3º§).**

- A) A capacidade de exercer a razão em nossas argumentações.
- B) O exemplo dado de comparação entre razão e árbitro semidivino.
- C) A consciência de que a razão não está situada como um árbitro semidivino.
- D) O desenvolvimento da capacidade de sermos convencidos pelas melhores razões.

05

Em uma oração, os termos se relacionam entre si em uma relação de dependência. A partir de tal aspecto, analise as assertivas a seguir e identifique a correta.

- A) Em “atender a vozes” (1º§), “a” pode ser substituído por “às” sem que haja alteração de sentido.
- B) Em “algo que inventamos ao nos comunicar” (1º§), “ao” pode ser substituído por “à” se “nos” for eliminado.
- C) Em “Oferecemos nossa opinião aos outros” (2º§), a preposição é obrigatória, de acordo com o termo regente.
- D) Em “consiste em decidir-se” (1º§), “em” estabelece a mesma relação vista no uso da locução “por intermédio de”.

06

“A razão não está situada como um árbitro semidivino acima de nós para resolver nossas disputas; ela funciona dentro de nós e entre nós.” (3º§).

Nessa frase, o autor utiliza a \_\_\_\_\_ de uma \_\_\_\_\_ entre dois elementos distintos: \_\_\_\_\_ e \_\_\_\_\_ para tornar mais clara a ideia sobre \_\_\_\_\_. Assinale a alternativa que completa correta e sequencialmente a afirmativa anterior.

- A) afirmação / analogia / razão / disputas / razão
- B) intercalação / comparação / razão / emoção / verdade
- C) negação / comparação / razão / árbitro semidivino / razão
- D) comparação / situação / dentro de nós / entre nós / verdade

07

Considerando as funções estabelecidas sintaticamente pelas palavras em determinada oração, identifique o termo ou expressão destacado(a) cuja função sintática DIFERE dos demais.


- A) “[...] ouvindo as deles e construindo a verdade [...]” (1º§)
- B) “[...] sociedade em que existem castas sociais inamovíveis.” (1º§)
- C) “Por isso o hábito filosófico de raciocinar nasce na Grécia [...]” (1º§)
- D) “‘Conversar’ não é o mesmo que ouvir sermões ou atender a vozes de comando.” (1º§)

08

Considerando as várias funções da vírgula e sua importância, identifique o motivo pelo qual as vírgulas foram empregadas em “[...] e essa busca incluía conversaçã entre iguais, a polêmica, o debate, a controvérsia.” (3º§).

- A) Separar uma enumeração.
- B) Separar expressões retificativas.
- C) Separar uma aposição explicativa.
- D) Separar termos que serão retomados por pronome.

Texto para responder às questões 09 e 10.



(Tempos modernos, tempos de sociologia. São Paulo: Editora do Brasil. Volume único, Ensino Médio, 2010.)

09

Considerando as ideias do articulista do texto e comparando-as à charge, é correto afirmar que

- A) a charge demonstra uma crítica a determinado comportamento visto negativamente pelo autor do texto “As verdades da razão”.
- B) os personagens da charge demonstram atitudes que exemplificam e estão de acordo com o posicionamento do articulista.
- C) a charge exemplifica o exposto em “[...] caminho para alcançar uma verdade objetiva através das múltiplas subjetividades.” (3º§).
- D) apesar da expressão nos cartazes segurados pelos personagens, a charge não demonstra qualquer tipo de aproximação do texto quanto ao tema abordado.

10

Quanto à linguagem utilizada na mensagem expressa nos cartazes levados pelos personagens da *charge*, é correto afirmar que a substituição por “*Me sigam até a verdade*” implicaria

- A) uma aproximação maior com o público leitor através do uso de uma linguagem atual.
- B) inadequação linguística, incorrendo em incompreensão da mensagem a ser transmitida.
- C) desacordo do uso quanto à colocação do pronome oblíquo de acordo com a norma padrão.
- D) uma manifestação de caráter popular em que há preocupação com o uso da norma padrão da língua.

**RACIOCÍNIO LÓGICO**

11

Em três xícaras – uma grande, uma média e uma pequena – foram colocadas uma certa quantidade de chá com temperaturas diferentes. Considere que:

- ou a xícara grande recebeu chá morno ou a xícara média recebeu a menor quantidade de chá;
- a quantidade de chá colocada na xícara maior foi inferior à da xícara que recebeu chá quente, e a xícara pequena não foi a que recebeu a maior quantidade de chá;
- o chá frio não foi colocado na xícara média e a xícara pequena recebeu mais chá do que a de tamanho grande.

Desejando servir uma criança com chá morno, um adolescente com chá frio e um adulto com chá quente, deve-se entregar a eles, respectivamente, as xícaras

- A) pequena, grande e média.
- B) média, pequena e grande.
- C) grande, pequena e média.
- D) grande, média e pequena.

12

Um pai comprou 6 barras de chocolate e pretende entregar 1 para cada um de seus 6 filhos. Se 2 dessas barras são de chocolate branco e as demais, de chocolate preto, de quantas formas ele poderá distribuir as barras?

- A) 15.
- B) 20.
- C) 24.
- D) 30.

13

Considere os seguintes dados de certo ano:

- foi ano da segunda metade do século XX;
- começou num domingo e terminou numa segunda-feira;
- a soma de seus algarismos é 22.

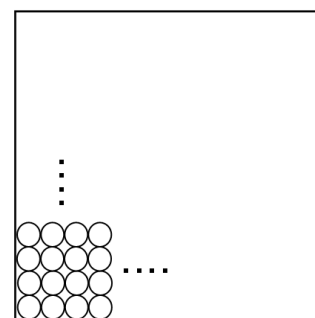
O ano em questão é

- A) 1966.
- B) 1975.
- C) 1984.
- D) 1993.

14

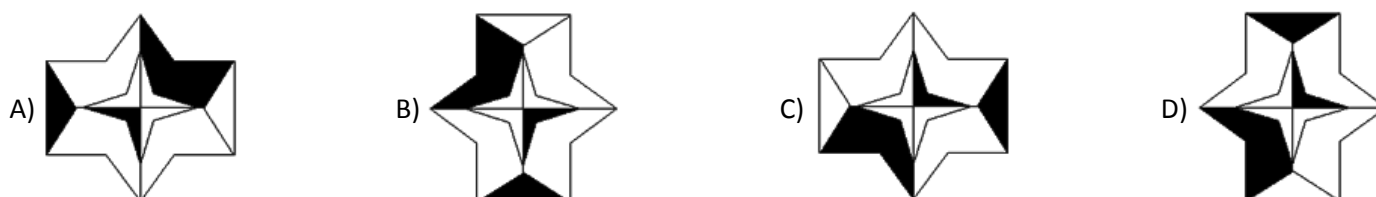
Sobre a superfície de uma mesa de forma quadrada, cujo perímetro mede 320 cm, foram colocadas várias fileiras de moedas dispostas lado a lado, conforme indicado na figura, e que se estenderam por toda a superfície da mesa. Se o diâmetro de cada moeda é igual a 2,5 cm e cada uma tem o valor de R\$ 0,25, então, as moedas totalizam

- A) R\$ 240,00.
- B) R\$ 256,00.
- C) R\$ 272,00.
- D) R\$ 280,00.



15

Qual das figuras é DIFERENTE das demais?



**CONHECIMENTOS DE INFORMÁTICA**

16

Analise as afirmativas sobre *hardware* e periféricos.

- I. A CPU (Unidade Central de Processamento) é o componente responsável por processar os dados em um computador.
- II. A memória principal de um computador tem a função de armazenar os dados permanentemente, mesmo após desligar o computador.
- III. Os dispositivos híbridos são aqueles que permitem realizar a entrada e a saída de informações. São exemplos destes dispositivos: *modem* e impressora multifuncional.

Está(ão) correta(s) apenas a(s) afirmativa(s)

- A) I.
- B) II.
- C) I e III.
- D) II e III.

17

Observe a planilha produzida com a ferramenta *Microsoft Office Excel 2007* (configuração padrão).

	A	B	C	D
1	Cliente	Prestação	Valor do Desconto	Valor com Desconto
2	Fabiano Carlos	R\$ 600,00		
3	Pedro Henrique	R\$ 550,00		
4	Marina Lima	R\$ 400,00		
5	Antônio José	R\$ 1.000,00		
6				
7	Desconto	0,10		

“Considerando que o valor de desconto é 10% sobre o valor da prestação, o usuário atribuiu à célula B7 tal valor de desconto. Na célula C2 deverá ser digitada a fórmula \_\_\_\_\_ para calcular o valor do desconto do cliente ‘Fabiano Carlos’. Para replicar a fórmula do desconto (10%) aos demais clientes deve ser utilizada a \_\_\_\_\_, que é representada por um pequeno quadrado preto na extremidade inferior direita da célula ativa. O valor com desconto do cliente ‘Pedro Henrique’ pode ser calculado na célula D3, inserindo a fórmula \_\_\_\_\_.” Assinale a alternativa que completa correta e sequencialmente a afirmativa anterior.

- A) =B2%B7 / replicação de célula / =B2-C2
- B) =B2%B\$7 / replicação de célula / =B2-C2
- C) =B2\*B7 / alça de preenchimento / =B3-C3
- D) =B2\*B\$7 / alça de preenchimento / =B3-C3

18

Considere a planilha produzida com a ferramenta *Microsoft Office Excel 2007* (configuração padrão).

	A	B	C	D	E	F	G
1	CONTROLE DE NOTAS						
2	COD	NOME	BIM01	BIM02	BIM03	BIM04	MÉDIA
3	1	Antônio S.	8	7	6	4	6,25
4	2	Brenno F.	6	6	7	3	5,5
5	3	Diego R.	3	3	3	4	3,25
6	4	Fernando L.	8	9	9	10	9
7	5	Igor M.	7	7	3	5	5,5
8	6	Samuel V.	6	6	2	9	5,75
9							
10							

Com base na planilha apresentada, analise as afirmativas.

- I. Para calcular a média de notas dos quatro bimestres do aluno “Igor M.”, foi inserida na célula G7 a fórmula =MÉDIA(C7;F7).
- II. Se na célula A9 for inserida a função =PROCV(3;A3;G8;2;0), o resultado apresentado será “Diego R.”
- III. Se na célula A10 for inserida a função =SE(G7>5;CONCATENAR("O ALUNO";B7;"FOI APROVADO");"REPROVADO"), o resultado apresentado será “Igor M.”

Está(ão) correta(s) apenas a(s) afirmativa(s)

- A) I.
- B) II.
- C) III.
- D) I e II.



23

A credibilidade de um produto orgânico pode ser aferida pelo consumidor por meio de alguns mecanismos. São instituições de certificação ou geração de credibilidade da qualidade dos produtos orgânicos, EXCETO:

- A) Certificadoras.
- B) Organização de Controle Social – OCS.
- C) Sistema Participativo de Garantia – SPG.
- D) Organismo Participativo de Avaliação da Conformidade Orgânica – OPAC.

24

“Uma das formas para identificar uma doença previamente não conhecida é através dos seguintes passos: verificação da ocorrência do patógeno associado a todas plantas doentes; isolamento do patógeno; inoculação e produção dos sintomas; e, isolamento do patógeno da planta doente com as mesmas características do inoculado.” Os procedimentos descritos anteriormente correspondem às etapas dos

- A) princípios de *Rock*.
- B) postulados de *Koch*.
- C) postulados de *Millardet*.
- D) postulados da relação patógeno x hospedeiro.

25

“Refresco ou bebida de fruta ou de vegetal é a bebida não fermentada, obtida pela diluição, em água potável, do suco de fruta, polpa ou extrato vegetal de sua origem, com ou sem adição de açúcares.” (Decreto nº 6.871/2009. Art. 22.)

Com base no texto apresentado e nos valores em porcentagem, analise.

- 1. Os refrescos de laranja ou laranjada, de tangerina e de uva deverão conter, no mínimo, \_\_\_\_\_ em volume de suco natural.
- 2. O refresco de limão ou limonada deverá conter, no mínimo, \_\_\_\_\_ em volume de suco de limão.
- 3. O refresco de maracujá deverá conter, no mínimo, \_\_\_\_\_ em volume de suco de maracujá.
- 4. O refresco de maçã deverá conter, no mínimo, \_\_\_\_\_ em volume em suco de maçã.

Assinale a alternativa que completa correta e sequencialmente as afirmativas anteriores.

- A) 20% / 06% / 05% / 15%
- B) 30% / 06% / 05% / 20%
- C) 15% / 05% / 06% / 15%
- D) 30% / 05% / 06% / 20%

26

Ao fiscalizar um estabelecimento de produção de inoculantes, constaram-se as seguintes irregularidades:

- 1. ausência de envio de relatórios trimestrais de produção, importação, exportação e comercialização nos prazos previstos;
- 2. constatação de entrega de uma carga a granel de inoculante a um estabelecimento comercial;
- 3. presença de outros micro-organismos que não estavam declarados no registro do inoculante, além dos limites estabelecidos;
- 4. propaganda com os dizeres “Super Inoc: dispensa qualquer adubação ou controle de lagartas”, induzindo, claramente, o consumidor ao equívoco.

A respeito das irregularidades relacionadas anteriormente, as infrações decorrentes classificam-se quanto à natureza, respectivamente, em

- A) leve, grave, leve e grave.
- B) leve, gravíssima, leve e grave.
- C) grave, gravíssima, leve e grave.
- D) grave, grave, grave e gravíssima.

27

Sobre a armazenagem de produtos agropecuários, analise.

- I. Não poderão ser recebidos em depósito e guardados a granel, no mesmo silo ou célula, produtos de diferentes depositantes, mesmo que sejam da mesma espécie, classe comercial e qualidade, conforme dispuser o contrato de depósito ou o regulamento interno do armazém.
- II. O depositante tem o direito de acesso ao local de depósito para verificar as condições de guarda e conservação de produtos entregues em depósito, assim como o exame da documentação a eles pertinentes.
- III. Para o exercício das atividades comerciais de prestação remunerada de serviços de guarda e conservação dos produtos é obrigatório, sem prejuízo de outras condições estabelecidas em lei, o arquivamento prévio, na Junta Comercial, do regulamento interno do armazém e do termo de nomeação do fiel, bem como de suas alterações.

Está(ão) correta(s) a(s) afirmativa(s)

- A) I, II e III.
- B) II, apenas.
- C) I e III, apenas.
- D) II e III, apenas.

28

A lei conhecida como “Lei de Engenharia Genética, Lei de Biossegurança e Lei de Pesquisa em Embriões” não se aplica, quando a modificação genética for obtida por meio das seguintes técnicas, desde que não impliquem a utilização de OGM como receptor ou doador, EXCETO:

- A) Biobalística.
- B) Mutagênese.
- C) Formação e utilização de células somáticas de hibridoma animal.
- D) Fusão celular, inclusive a de protoplasma, de células vegetais, que possa ser produzida mediante métodos tradicionais de cultivo.

29

“Assembleia Geral é o órgão supremo da cooperativa que, conforme o prescrito na legislação e no Estatuto Social, tomará toda e qualquer decisão de interesse da sociedade.”

(Brasil Cooperativo 2014. Disponível em: [http://www.brasilcooperativo.coop.br/site/cooperativismo/por\\_dentro\\_da\\_cooperativa.asp](http://www.brasilcooperativo.coop.br/site/cooperativismo/por_dentro_da_cooperativa.asp).)

A respeito da Assembleia Geral Extraordinária de uma cooperativa, é de sua competência exclusiva deliberar sobre os seguintes assuntos, EXCETO:

- A) Reforma do estatuto.
- B) Mudança do objeto da sociedade.
- C) Fusão, incorporação ou desmembramento.
- D) Destinação das sobras apuradas ou rateio das perdas decorrentes da insuficiência das contribuições para cobertura das despesas da sociedade, deduzindo-se, no primeiro caso, as parcelas para os fundos obrigatórios.

30

Segundo o Decreto nº 6.476/2008, que promulga o Tratado Internacional sobre Recursos Fitogenéticos para a Alimentação e a Agricultura, “[...] cada parte contratante deverá, conforme o caso e sujeito a sua legislação nacional, adotar medidas para proteger e promover os direitos dos agricultores [...]”.

São direitos dos agricultores que deverão ser promovidos, EXCETO:

- A) Receber sementes ou material propagativo melhorado caso estes sejam derivados de recursos tradicionais.
- B) Proteção do conhecimento tradicional relevante aos recursos fitogenéticos para a alimentação e a agricultura.
- C) Participar de forma equitativa na repartição dos benefícios derivados da utilização dos recursos fitogenéticos para a alimentação e a agricultura.
- D) Participar na tomada de decisões, em nível nacional, sobre assuntos relacionados à conservação e ao uso sustentável dos recursos fitogenéticos para a alimentação e a agricultura.

31

“O manejo integrado de pragas (MIP) tem sido apresentado, pela ciência e tecnologia no controle de pragas, como sendo um conjunto de métodos empregados de forma harmônica pelos agricultores.”

(Gravena, 2005.)

Sobre o manejo integrado de pragas (insetos), marque V para as afirmativas verdadeiras e F para as falsas.

- ( ) As pragas têm inimigos naturais que podem reduzir sua densidade populacional.
- ( ) As plantas apresentam certa tolerância natural ao ataque de pragas.
- ( ) O controle químico empregado pelo homem pode ter seus efeitos minimizados sobre os inimigos naturais.
- ( ) Pragas exóticas, normalmente, apresentam maior quantidade de inimigos naturais.
- ( ) O sistema ecológico agrícola pode ser manipulado, visando desfavorecer pragas e favorecer inimigos naturais.

A sequência está correta em

- A) F, V, F, F, F.
- B) F, F, V, V, V.
- C) V, F, F, V, F.
- D) V, V, V, F, V.

32

Em um relatório econômico de uma empresa agrícola foram levantados os seguintes dados:

- custos com aluguel de terras, salário de empregados permanentes e similares: R\$ 400.000,00;
- custos com insumos, energia, combustível e similares: R\$ 700.000,00;
- produção total de sacas de soja: 29.000 sacas de 60 kg;

Considerando os princípios de custo de produção da economia rural, o custo fixo médio (CFMe), o custo variável médio (CVMe) e o custo total médio (CTMe), aproximados, da soja produzida nessa propriedade são, respectivamente,

- A) R\$ 24,13, R\$ 17,50 e R\$ 41,63.
- B) R\$ 24,13, R\$ 13,79 e R\$ 37,92.
- C) R\$ 17,50, R\$ 24,13 e R\$ 41,63.
- D) R\$ 13,79, R\$ 24,13 e R\$ 37,92.



33

Um agricultor adquiriu um determinado produto no mercado e, ao fazer a pesagem em sua propriedade, constatou que tal produto apresentava uma redução no seu peso de 20%, sendo este valor acima das variações naturais. Segundo o Código de Defesa do Consumidor, esse agricultor terá direito às seguintes compensações, EXCETO:

- A) Complementação do peso ou medida, neste caso, 20%.
- B) Abatimento do dobro da percentagem da redução, no valor pago pelo produto, neste caso, 40%.
- C) Substituição do produto por outro da mesma espécie, marca ou modelo, sem os aludidos vícios.
- D) Restituição imediata da quantia paga, monetariamente atualizada, sem prejuízo de eventuais perdas e danos.

34

Com base no Decreto nº 5.759/2006, que promulga o texto revisto da Convenção Internacional para a Proteção dos Vegetais (CIVP), relacione adequadamente as colunas.

- |   |  |
|---|--|
| 1. Análise de riscos de pragas.         | 6. Medida fitossanitária.                  |
| 2. Área de baixa prevalência de pragas. | 7. Medida fitossanitária harmonizada.      |
| 3. Artigo regulamentado.                | 8. Praga.                                  |
| 4. Estabelecimento.                     | 9. Praga quarentenária.                    |
| 5. Introdução.                          | 10. Praga não quarentenária regulamentada. |
- ( ) Entrada de uma praga que resulta no seu estabelecimento.
  - ( ) Perpetuação, em um futuro previsível, de uma praga dentro de uma área depois da sua entrada.
  - ( ) Processo de avaliação de provas biológicas, científicas e econômicas para determinar se uma praga deve ser regulamentada e a intensidade de quaisquer medidas fitossanitárias que devem ser adotadas para controlá-la.
  - ( ) Área delimitada pelas autoridades competentes, que pode corresponder à totalidade de um país, parte de um país ou à totalidade ou partes de vários países, em que uma determinada praga se encontra em baixo nível e sujeita às medidas de efetiva vigilância, controle ou erradicação.
  - ( ) Qualquer planta, produto vegetal, lugar de armazenamento, de embalagem, meio de transporte, *container*, solo e qualquer outro organismo, objeto ou material capaz de abrigar ou disseminar pragas que se julgue dever estar sujeito às medidas fitossanitárias, especialmente quando estiver envolvido o transporte internacional.
  - ( ) Qualquer espécie, raça ou biotipo vegetal ou animal ou agente patogênico daninho para as plantas ou produtos vegetais.
  - ( ) Praga não quarentenária cuja presença em plantas para plantio influi no seu uso proposto, com repercussões economicamente inaceitáveis e que, portanto, está regulamentada no território da parte contratante importadora.
  - ( ) Praga de importância econômica potencial para uma área em perigo, quando a praga ainda não existir ou, se existir, não está dispersa e encontra-se controlada.
  - ( ) Qualquer legislação, regulamento ou procedimento oficial que tenha o propósito de prevenir a introdução e/ou a disseminação de pragas.
  - ( ) Medida fitossanitária estabelecida pelas partes contratantes, tendo como base as normas internacionais.

A sequência está correta em

- |                                   |                                   |
|-----------------------------------|-----------------------------------|
| A) 4, 5, 2, 1, 8, 3, 9, 10, 7, 6. | C) 5, 4, 2, 1, 10, 8, 3, 9, 7, 6. |
| B) 4, 5, 7, 2, 9, 3, 8, 10, 6, 1. | D) 5, 4, 1, 2, 3, 8, 10, 9, 6, 7. |

35

De acordo com a Norma Internacional de Medida Fitossanitária nº 15 (NIMF 15), que trata da certificação fitossanitária de embalagens e suportes de madeira, os tratamentos fitossanitários internacionalmente aceitos são os

- |                                    |  |
|------------------------------------|--|
| A) com endossulfan e radiação.     | C) térmico e com brometo de metila.    |
| B) térmico e com sulfato de cobre. | D) com sulfato de cobre e endossulfan. |

36

As seguintes pragas quarentenárias estão presentes na lista de pragas quarentenárias A1 em 13/02/2014:

- *Diabrotica balteata*;
- *Anastrepha suspensa*;
- *Agrotis segetum*;
- *Frankliniella bispinosa*.

Os insetos citados anteriormente pertencem, respectivamente, às ordens

- |  |  |
|--|--|
| A) <i>Diptera</i> , <i>Coleoptera</i> , <i>Lepidoptera</i> e <i>Thysanoptera</i> . | C) <i>Coleoptera</i> , <i>Diptera</i> , <i>Lepidoptera</i> e <i>Thysanoptera</i> . |
| B) <i>Coleoptera</i> , <i>Diptera</i> , <i>Thysanoptera</i> e <i>Lepidoptera</i> . | D) <i>Thysanoptera</i> , <i>Lepidoptera</i> , <i>Diptera</i> e <i>Coleoptera</i> . |

37

A praga não quarentenária regulamentada (PNQR) encontra-se presente em material de propagação vegetal (MPV), que afeta o uso proposto deste material, causando impactos economicamente inaceitáveis, e está regulamentada na área de análise de risco de praga ARP. A ARP para PNQR é composta, sequencialmente, pelas seguintes etapas:

- A) Identificação das pragas associadas ao MPV que são pragas quarentenárias, mas podem não ter importância regulatória e serem consideradas na ARP; avaliação do risco; e, manejo do risco.
- B) Identificação das pragas associadas ao MPV que não são pragas quarentenárias, mas podem ter importância regulatória e serem consideradas na ARP; avaliação do risco; e, manejo do risco.
- C) Identificação das pragas associadas ao MPV que são pragas quarentenárias, mas podem ter importância regulatória e serem consideradas na ARP; audiência internacional; e, manejo do risco.
- D) Identificação das pragas associadas ao MPV que não são pragas quarentenárias, mas podem ter importância regulatória e serem consideradas na ARP; audiência internacional; e, manejo do risco.

38

“O Certificado Fitossanitário de Origem (CFO) e o Certificado Fitossanitário de Origem Consolidado (CFOC) são os documentos emitidos na origem para atestar a condição fitossanitária da partida de plantas, partes de vegetais ou produtos de origem vegetal de acordo com as normas de defesa sanitária vegetal do Ministério da Agricultura, Pecuária e Abastecimento (MAPA).” O CFO ou CFOC poderá ser usado na fundamentação da emissão da Permissão de Trânsito Vegetal (PTV) para a movimentação de partidas de plantas, partes de vegetais ou produtos de origem vegetal, quando:

- I. se tratar de produto de áreas com potencial de veicular praga quarentenária A1 e houver exigência para o trânsito;
- II. se tratar de produto com potencial de veicular praga quarentenária A2 e houver exigência para o trânsito;
- III. for para comprovar a origem de Área Livre de Praga (ALP), Local Livre de Praga (LLP), Sistema de Mitigação de Riscos de Praga (SMRP) ou Área de Baixa Prevalência de Praga (ABPP), devidamente reconhecidas pelo MAPA;
- IV. for para atender às exigências específicas de certificação fitossanitária de origem para a compra de produtos do poder público.

Estão corretas apenas as alternativas

- A) I e II.
- B) II e III.
- C) II e IV.
- D) I, II e III.

39

O art. 8º da Lei nº 8.027/90 dispõe que “pelo exercício irregular de suas atribuições o servidor público civil responde civil, penal e administrativamente, podendo as cominações civis, penais e disciplinares cumularem-se, sendo umas e outras independentes entre si, bem assim as instâncias civil, penal e administrativa”. Sobre o tema, assinale a afirmativa INCORRETA.

- A) A competência para a imposição das penas disciplinares será determinada em ato do Poder Executivo.
- B) A penalidade de advertência converte-se automaticamente em suspensão, por trinta dias, no caso de reincidência.
- C) Os atos de suspensão e demissão mencionarão sempre a causa da penalidade, dispensada tal exigibilidade para os atos de advertência.
- D) A aplicação da penalidade de suspensão acarreta o cancelamento automático do valor da remuneração do servidor, durante o período de vigência da suspensão.

40

Considerando que Joaquim seja aprovado em concurso público e que, havendo disponibilidade de horário, acumule um cargo na administração federal e um emprego público em empresa pública estadual, ambos remunerados, e sabendo que tal situação não é permitida pela Constituição, é correto afirmar, de acordo com o disposto na Lei nº 8.027/90, que

- A) a acumulação realizada constitui infração passível de suspensão, visto que a vedação não alcança as empresas públicas estaduais.
- B) a acumulação remunerada de cargos, empregos e funções públicas, vedada pela Constituição Federal, constitui infração grave, passível de aplicação de pena de demissão.
- C) por se tratar de acumulação de um cargo público com um emprego público não há que se falar em infração grave, a qual somente ocorreria caso a acumulação fosse de dois cargos públicos.
- D) a acumulação de um cargo na administração federal e um emprego público em âmbito estadual não constitui infração passível de aplicação de pena de demissão, já que o cargo e o emprego estão vinculados a entes federativos diversos.



44

Um dos nomes mais marcantes do cenário econômico brasileiro dos últimos anos, Eike Batista, tornou-se um exemplo da nova era da globalização, em que impérios financeiros podem ser construídos e desconstruídos em altíssima velocidade. Sobre essa trajetória, é correto afirmar que

- A) com nenhum apoio estatal, investiu na indústria naval e de infraestrutura, com foco apenas na exportação de produtos do Brasil.
- B) através do grupo EBX, foram implantadas várias empresas atuando de forma complementar nas áreas de petróleo, mineração e logística.
- C) como presidente da Vale, durante muitos anos da década de 1990, utilizou a experiência adquirida para montar o grupo OGX Mineração.
- D) como proprietário do Bradesco, elevou o banco brasileiro ao patamar de maior empresa do mercado financeiro do Brasil e da América Latina.

45

Leia a seguir a tradução do trecho final de um dos discursos mais famosos da história da humanidade:

*“... E quando isso acontecer, quando deixarmos a liberdade ecoar, quando a deixarmos ressoar em cada vila e vilarejo, em cada Estado e cada cidade, poderemos trazer para mais perto o dia que todos os filhos de Deus, negros e brancos, judeus e gentios, protestantes e católicos, poderão se dar as mãos e cantar, nas palavras da velha canção negra, ‘livres, enfim! Livres, enfim! Louvado seja Deus Todo-Poderoso. Estamos livres, enfim!’”* (Tradução de Clara Allain. Editora Abril.)

Este discurso, denominado *I have a dream* (Eu tenho um sonho, em português), e o evento no qual foi proferido sensibilizaram o mundo, o que resultou no sepultamento de muitas leis segregacionistas e na garantia de muitos direitos aos negros. O autor de tal trecho foi tema recorrente em 2013, quando muito se discutiu o cinquentenário de um dos mais importantes acontecimentos pacíficos de luta pelos direitos civis. Trata-se de

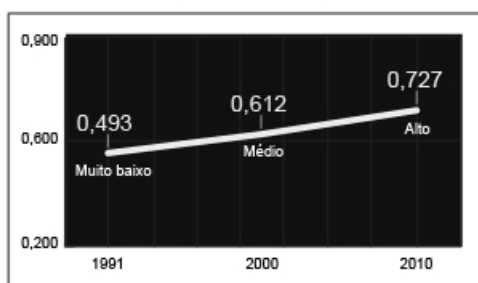
- A) Barack Obama.
- B) Nelson Mandela.
- C) Abraham Lincon.
- D) Martin Luther King.

46

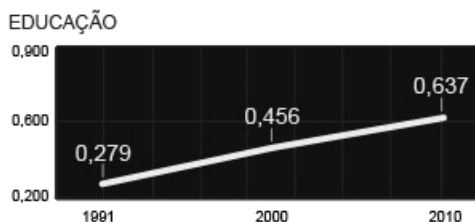
Analise os seguintes gráficos, referentes ao Índice de Desenvolvimento Humano dos Municípios do Brasil.

### EVOLUÇÃO DO IDHM BRASILEIRO

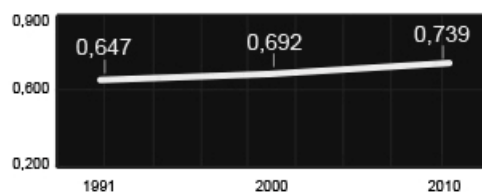
O índice varia de 0 (muito baixo) a 1 (muito alto)



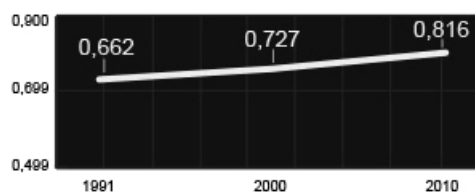
Evolução dos itens que fazem parte do IDHM



RENDA



LONGEVIDADE



(Portal Uol. Disponível em: [www.uol.com.br](http://www.uol.com.br).)

Com base nas informações apresentadas nos gráficos, analise as afirmativas.

- I. A educação é o grande problema brasileiro no que diz respeito à melhoria de Índice de Desenvolvimento Humano Municipal (IDHM), já que mantém os menores índices, abaixo, inclusive, do IDHM geral do Brasil.
- II. A longevidade é o item que mais contribuiu para elevar o Índice de Desenvolvimento Humano Municipal do Brasil, já que alcançou número bem superior aos demais, inclusive bem acima ao índice geral do país.
- III. No decorrer dos anos é possível afirmar que o item Longevidade do Índice de Desenvolvimento Humano Municipal foi o que mais registrou avanço, saindo de 0,662 em 1990 para 0,816 em 2010.

Está(ão) correta(s) a(s) afirmativa(s)

- A) I, II e III.
- B) I, apenas.
- C) I e II, apenas.
- D) II e III, apenas.

47

A sociedade brasileira vem, de forma mais intensa nos últimos anos, tornando-se mais intolerante com os atos de corrupção, cobrando mais transparência e honestidade em todas as esferas sociais e políticas do país. Um importante instrumento para esse momento brasileiro foi a implantação, em agosto de 2013, da Lei Anticorrupção (Lei nº 12.846/2013), que dispõe principalmente sobre a

- A) ampla regulamentação deste crime no Brasil com a previsão de punição a todos os envolvidos: civis ou militares.
- B) condenação de agentes públicos federais de alto escalão, munidos de imunidade parlamentar, por atos de corrupção.
- C) destinação de recursos ilícitos de pessoas físicas, popularmente denominados caixa 2, a fim de financiar campanhas eleitorais.
- D) responsabilização e punição de empresas envolvidas em atos de corrupção contra a administração pública nacional ou estrangeira.

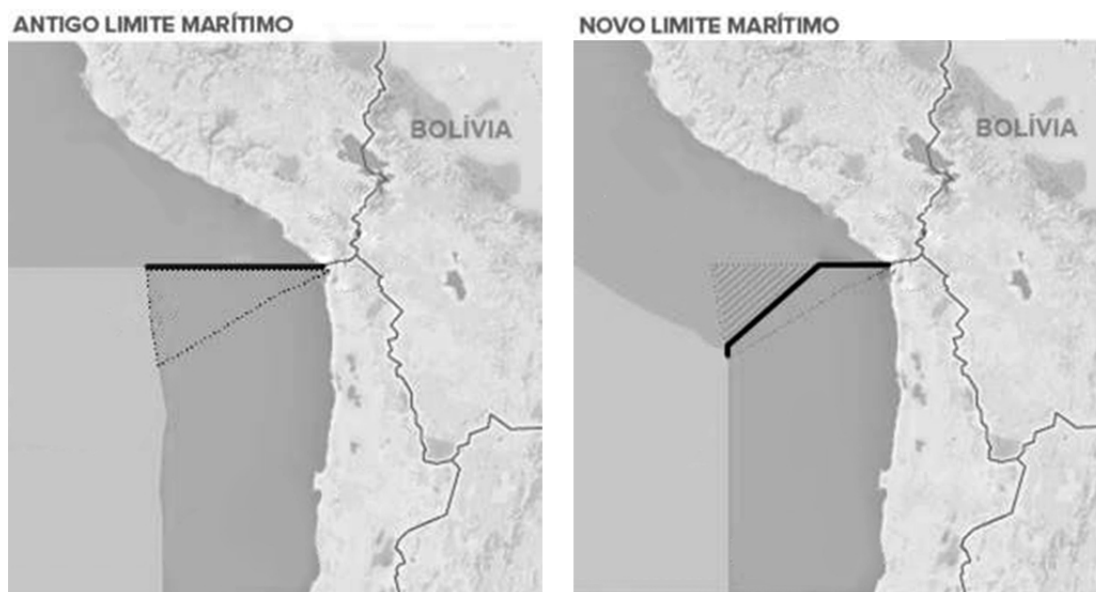
48

Em 2013, a diplomacia brasileira obteve uma importante vitória com a eleição de Roberto Azevêdo para o posto de diretor-geral da Organização Mundial do Comércio (OMC) – mais importante cargo já assumido por um brasileiro em uma instituição multilateral. Vitorioso, com o apoio dos demais países do BRICS (Rússia, Índia, China e África do Sul), Azevêdo obteve seu primeiro êxito, alguns meses após sua posse, com a

- A) aceitação da inclusão dos países do antigo bloco socialista como membros, dentre eles, Rússia e China.
- B) assinatura de um acordo que põe fim à prática de subsídios agrícolas e às tarifas sobre bens industriais.
- C) proibição consentida entre os 159 países-membros das barreiras ao comércio internacional de serviços.
- D) conclusão de um acordo global que facilita procedimentos de alfândega e altera tarifas na área agrícola.

49

A ilustração apresenta o resultado final de um dos mais antigos litígios territoriais da América do Sul, envolvendo a luta por uma área oceânica entre dois países banhados pelo Pacífico, que foi decidido, no início de 2014, pela Corte Internacional de Justiça de Haia (CIJ).



(Infográfico elaborado em 27/01/2014. Disponível em: [g1.com.br](http://g1.com.br). Adaptado.)

As nações envolvidas na disputa são

- A) Peru e Chile.
- B) Bolívia e Equador.
- C) Argentina e Uruguai.
- D) Venezuela e Colômbia.

50

A foto mostra vários jovens vestidos de preto e mascarados, internacionalmente conhecidos por *Black Blocs*, que vêm se integrando às manifestações brasileiras, principalmente nas cidades do Rio de Janeiro e São Paulo.



(Disponível em: <http://nuvensobreatlantico.blogspot.com.br/2013/08/facistas-mascarados.html>.)

Acerca dos *Black Blocs*, mundialmente conhecidos, é **INCORRETO** afirmar que

- A) ganharam força nas manifestações contra o neoliberalismo, a globalização e o capitalismo.
- B) têm origem na Alemanha, nos movimentos de contracultura da segunda metade do século XX.
- C) não se intitulam uma organização, mas uma tática de protesto condicionada a contextos políticos.
- D) é um grupo fascista, que se manifesta através de movimentos pacíficos, oriundo de cenários *punks* anarquistas.

PROVA ESCRITA DISCURSIVA

**ORIENTAÇÕES GERAIS**

- A Prova Escrita Discursiva é de caráter eliminatório e classificatório, constituída de um estudo de caso.
- Para o estudo de caso da Prova Escrita Discursiva, o candidato deverá formular texto com extensão mínima de 20 (vinte) e, no máximo, de 30 (trinta) linhas.
- A Prova Escrita Discursiva deverá ser manuscrita, em letra legível, com caneta esferográfica de corpo transparente, de ponta grossa e de tinta azul ou preta, não sendo permitida a interferência e/ou a participação de outras pessoas, salvo em caso de candidato na condição de pessoa com deficiência que esteja impossibilitado de redigir textos, como também no caso de candidato que tenha solicitado atendimento especial para este fim, nos termos deste Edital. Nesse caso, o candidato será acompanhado por um fiscal da CONSULPLAN devidamente treinado, para o qual deverá ditar o texto, especificando oralmente a grafia das palavras e os sinais gráficos de pontuação.
- O candidato receberá nota zero na Prova Escrita Discursiva em casos de não atendimento ao conteúdo avaliado, de não haver texto, de manuscruver em letra ilegível ou grafadas por outro meio que não o determinado no item anterior, bem como no caso de identificação em local indevido.
- Será desconsiderado, para efeito de avaliação, qualquer fragmento de texto que for escrito fora do local apropriado ou que ultrapassar a extensão máxima permitida.
- A Prova Escrita Discursiva terá o valor de 40 (quarenta) pontos.
- Para efeito de avaliação da Prova Escrita Discursiva serão considerados os seguintes elementos de avaliação:

ELEMENTOS DE AVALIAÇÃO DA PROVA ESCRITA DISCURSIVA		
Critérios	Elementos da Avaliação	Total de pontos por critério
Aspectos Formais e Aspectos Textuais	Observância das normas de ortografia, pontuação, concordância, regência e flexão, paragrafação, estruturação de períodos, coerência e lógica na exposição das ideias.	15 pontos
Aspectos Técnicos	Pertinência da exposição relativa ao tema, à ordem de desenvolvimento proposto e ao conteúdo programático proposto.	25 pontos
<b>TOTAL DE PONTOS</b>		<b>40 pontos</b>

**Considere a seguinte situação hipotética:**

Em julho de 2013 foi detectada, em uma região específica do país, uma nova doença de etiologia fúngica na cultura da batata (*Solanum tuberosum*). Seus sintomas referem-se à ocorrência de manchas foliares e ficou constatada sua transmissão via material de propagação. A doença foi verificada em reboleiras nos locais de maior umidade das lavouras, de menor insolação dentro da propriedade e, também, em solos de pH mais baixo. Em uma determinada cultivar, na mesma região, não houve incidência da doença. Constatou-se, ainda, que um determinado fungicida foi eficaz na proteção da planta.

**A respeito da situação apresentada, descreva o princípio do triângulo da doença de plantas para este caso em questão, propondo métodos de controle de doença baseados em cada vértice do triângulo.**

ESTUDO DE CASO

01	
02	
03	
04	
05	
06	
07	
08	
09	
10	
11	
12	
13	
14	
15	
16	
17	
18	
19	
20	
21	
22	
23	
24	
25	
26	
27	
28	
29	
30	









## INSTRUÇÕES

1. Material a ser utilizado: caneta esferográfica de tinta azul ou preta. Os objetos restantes devem ser colocados em local indicado pelo fiscal da sala, inclusive aparelho celular desligado e devidamente identificado.
2. Não é permitida, durante a realização das provas, a utilização de máquinas calculadoras e/ou similares, livros, anotações, impressos ou qualquer outro material de consulta, protetor auricular, lápis, borracha, corretivo. Especificamente, não é permitido que o candidato ingresse na sala de provas sem o devido recolhimento, com respectiva identificação, dos seguintes equipamentos: *bip*, telefone celular, *walkman*, agenda eletrônica, *notebook*, *palmtop*, *ipad*, *ipod*, *tablet*, *smartphone*, mp3, mp4, receptor, gravador, calculadora, câmera fotográfica, controle de alarme de carro, relógio de qualquer modelo etc.
3. Durante a prova, o candidato não deve levantar-se, comunicar-se com outros candidatos e nem fumar.
4. A duração da prova é de 04 (quatro) horas, já incluindo o tempo destinado à entrega do Caderno de Provas e à identificação – que será feita no decorrer da prova – e ao preenchimento do Cartão de Respostas (Gabarito) e Folha de Texto Definitivo (Prova Discursiva).
5. Somente em caso de urgência pedir ao fiscal para ir ao sanitário, devendo no percurso permanecer absolutamente calado, podendo antes e depois da entrada sofrer revista através de detector de metais. Ao sair da sala no término da prova, o candidato não poderá utilizar o sanitário. Caso ocorra uma emergência, o fiscal deverá ser comunicado.
6. O Caderno de Provas consta de 50 (cinquenta) itens de múltipla escolha e uma prova discursiva constituída de: estudo de caso para os cargos de nível superior, sobre tema de natureza técnica específica de cada cargo; e redação para os cargos de nível médio técnico, médio e fundamental, sobre tema da atualidade. Leia-o atentamente.
7. **Os itens das provas objetivas são do tipo múltipla escolha, com 04 (quatro) alternativas (A a D) e uma única resposta correta.**
8. Ao receber o material de realização das provas, o candidato deverá conferir atentamente se o Caderno de Provas corresponde ao cargo a que está concorrendo, bem como se os dados constantes no Cartão de Respostas (Gabarito) e Folha de Texto Definitivo (Prova Discursiva) que lhe foram fornecidos estão corretos. Caso os dados estejam incorretos, ou o material esteja incompleto, ou tenha qualquer imperfeição, o candidato deverá informar tal ocorrência ao fiscal.
9. Os fiscais não estão autorizados a emitir opinião e prestar esclarecimentos sobre o conteúdo das provas. Cabe única e exclusivamente ao candidato interpretar e decidir.
10. O candidato poderá retirar-se do local de provas somente a partir dos 90 (noventa) minutos após o início de sua realização, contudo não poderá levar consigo o Caderno de Provas, sendo permitida essa conduta apenas no decurso dos últimos 30 (trinta) minutos anteriores ao horário previsto para o seu término.
11. Os 3 (três) últimos candidatos de cada sala somente poderão sair juntos. Caso o candidato insista em sair do local de aplicação da prova, deverá assinar um termo desistindo do Concurso Público e, caso se negue, deverá ser lavrado Termo de Ocorrência, testemunhado pelos 2 (dois) outros candidatos, pelo fiscal da sala e pelo coordenador da unidade.

## RESULTADOS E RECURSOS

- As provas aplicadas, assim como os gabaritos preliminares das provas objetivas serão divulgados na *Internet*, no *site* **[www.consulplan.net](http://www.consulplan.net)**, a partir das 16h00min do dia subsequente ao da realização das provas.
- O candidato que desejar interpor recursos contra os gabaritos oficiais preliminares das provas objetivas disporá de **02 (dois) dias úteis**, a partir do dia subsequente à divulgação, em requerimento próprio disponibilizado no *link* correlato ao Concurso Público no *site* **[www.consulplan.net](http://www.consulplan.net)**.
- A interposição de recursos deverá ser feita **via Internet**, através do **Sistema Eletrônico de Interposição de Recursos**, com acesso pelo candidato ao fornecer dados referentes à sua inscrição apenas no prazo recursal, à **CONSULPLAN**, conforme disposições contidas no *site* **[www.consulplan.net](http://www.consulplan.net)**, no *link* correspondente ao Concurso Público.