

ALMOXARIFE

CÓDIGO: ALM27

CADERNO: 1

LEIA COM ATENÇÃO AS INSTRUÇÕES

- 1 - A duração da prova é de 4 horas, já incluído o tempo de preenchimento do cartão de respostas.
- 2 - O candidato que, na primeira hora de prova, se ausentar da sala e a ela não retornar, será eliminado.
- 3 - Os três últimos candidatos ao terminar a prova deverão permanecer na sala e somente poderão sair juntos do recinto, após aposição em ata de suas respectivas assinaturas.
- 4 - Você **NÃO** poderá levar o **seu caderno de questões e nem copiar o gabarito (assinamentos)**, pois a imagem do seu cartão de respostas será disponibilizado em <http://concursos.biorio.org.br> na data prevista no cronograma.

INSTRUÇÕES - PROVA OBJETIVA

- 1 - Confira atentamente se este caderno de questões, que contém 50(cinquenta) **questões objetivas**, está completo.
- 2 - Cada questão da Prova Objetiva conterà **4 (quatro) opções** e somente uma correta.
- 3 - Confira **se os seus dados pessoais** e o **emprego** escolhido, indicados no **cartão de respostas**, estão corretos. Se notar qualquer divergência, notifique imediatamente ao Fiscal de Sala ou ao Chefe de Local. Terminada a conferência, você deve assinar o **cartão de respostas** no espaço apropriado.
- 4 - Confira atentamente se o **emprego** e o **número do caderno** que constam neste caderno de questões são os mesmos do seu **cartão de respostas**. Se notar qualquer divergência, notifique imediatamente ao Fiscal de Sala ou ao Chefe de Local.
- 5 - Cuide de seu **cartão de respostas**. Ele não pode ser rasurado, amassado, dobrado nem manchado.
- 6 - Se você marcar mais de uma alternativa, sua resposta será considerada errada mesmo que uma das alternativas indicadas seja a correta.
- 7 - No decorrer da prova objetiva o fiscal de sala irá colher a sua digital no selo que está no seu cartão de respostas.

AGENDA

- **06/04/2014**, Provas Objetivas e Entrega de Títulos (candidatos de Nível Superior).
- **07/04/2014**, Divulgação dos Gabaritos Preliminares e Disponibilização dos Exemplares das Provas Objetivas.
- **09/04/2014**, Disponibilização das Imagens dos Cartões de Respostas das Provas Objetivas.
- **10/04 e 11/04/2014**, Interposição de Recursos Administrativos quanto às questões das Provas Objetivas.
- **28/04/2014**, Divulgação dos Gabaritos Definitivos Oficiais, Resultado das Notas Preliminares das Provas Objetivas.
- **28/04/2014**, Resultado Definitivo das Notas das Provas Objetivas.
- **03/05 até 04/05/2014**, Avaliação Física.
- **05/05 a 28/05/2014**, Prova Prática.
- **06/05 e 07/05/2014**, Interposição de Recursos Administrativos quanto as Notas Preliminares das Provas Discursivas.
- **06/05 e 07/05/2014**, Interposição de Recursos Administrativos quanto as Notas Preliminares da Avaliação de Títulos.
- **09/06/2014**, Homologação Final do Concurso.



INFORMAÇÕES:

- **Tel:** 21 3525-2480 das 9 às 18h
- **Internet:** <http://concursos.biorio.org.br>
- **E-mail:** emgepron2014@biorio.org.br

LÍNGUA PORTUGUESA**TEXTO****SUPOSTOS E SUSPEITOS NA ORDEM DO DIA**

Deonísio da Silva, O Globo, 2/2/2014

Vários profissionais estão desconcertados com o português de boa parte da mídia, mas não apenas com erros de ortografia, mais leves; ou de sintaxe, mais graves, por ferirem a lógica e confundirem os leitores. Sua perplexidade é com ataques absurdos como o seguinte: o bandido é flagrado com arma na mão, confessa o crime diante de câmeras e microfones, sem nenhum tipo de coação, e, às vezes, reconhece, orgulhosamente, que o sujeito filmado pelos sistemas de vigilância de lojas ou residências é ele, sim, o meliante. E ainda assim boa parte da mídia o denomina “suposto assaltante”, “suspeito de crime” e outras delicadezas.

Escrever bem começa pelo seguinte: dar às coisas o nome que as coisas têm. E não é só em relação a assaltantes e gatunos, não. São assustadoras as indulgências concedidas a esses políticos corruptos. Elas são mais perigosas do que aquelas dadas aos bandidos comuns. Quando vão parar nos presídios, irrompe na cena a cara de pau adicional de simular esmolas recebidas para lhes custear as multas aplicadas pela autoridade competente. Esmolas de meio milhão de reais! O Brasil acaba de criar o mendigo de elite, que é o bandido político.

Gozam dos benefícios dos eufemismos citados também políticos de outros países. “Suposto” e “suspeito” vêm sendo palavras curingas e têm servido para tudo, principalmente para substituir o que significa outra coisa.

Suposto quer dizer admitido por hipótese. Deixamos a palavra ali embaixo de “posto”, aguardando que a palavra seja apurada. Suspeito tem o significado de alguém do qual desconfiamos, que tenha feito algo que ele até pode negar. Porém, quando supostos e suspeitos admitem ou confessam, sem coação nenhuma, que foram os autores do que lhes é atribuído, eles não são mais suspeitos nem supostos.

Podemos fazer pouco, mas podemos ao menos contar ao distinto público as coisas como as coisas são. E para isso as palavras são outras, a sintaxe é outra, a lógica é outra.

QUESTÃO 1

Segundo o primeiro parágrafo do texto, o problema mais grave quanto ao uso da língua portuguesa pela mídia é:

- (A) errar em ortografia.
- (B) cometer erros na construção de frases.
- (C) ferir a lógica dos fatos.
- (D) não dar nomes adequados às coisas.

QUESTÃO 2

A mídia emprega “suposto assaltante” por delicadeza, segundo o autor do texto; nesse caso, a mídia emprega um tipo de linguagem figurada denominado:

- (A) metáfora
- (B) eufemismo
- (C) hipérbole
- (D) metonímia

QUESTÃO 3

“Vários profissionais estão desconcertados com o português de boa parte da mídia, mas não apenas com erros de ortografia, mais leves; ou de sintaxe, mais graves, por ferirem a lógica e confundirem os leitores”.

Nesse segmento do texto, as formas verbais sublinhadas se referem a:

- (A) erros de ortografia ou de sintaxe.
- (B) apenas a erros de ortografia.
- (C) apenas a erros de sintaxe.
- (D) vários profissionais.

QUESTÃO 4

No primeiro parágrafo, os “ataques absurdos” citados pelo autor do texto significam ataques:

- (A) marcados pela violência.
- (B) reconhecidos pelo marginal.
- (C) investigados pela polícia.
- (D) praticados contra o idioma.

QUESTÃO 5

“Dar às coisas o nome que as coisas têm” é uma qualidade do bom texto, segundo o autor; em outras palavras, o texto deve apresentar:

- (A) correção gramatical
- (B) estruturação clara
- (C) adequação vocabular
- (D) obediência à norma culta

QUESTÃO 6

Ao destacar a frase “Esmolas de meio milhão de reais!”, o autor do texto quer registrar:

- (A) surpresa e raiva
- (B) raiva e ironia
- (C) desprezo e indignação
- (D) indignação e surpresa

QUESTÃO 7

Em todas as frases abaixo há preposições sublinhadas; a frase cuja preposição é uma exigência de um termo anterior é:

- (A) “mas não apenas com erros de ortografia”
- (B) “suspeito de crime”.
- (C) “Esmolas de meio milhão de reais!”
- (D) “Sua perplexidade é com ataques absurdos”

QUESTÃO 8

“São assustadoras as indulgências concedidas a esses políticos corruptos. Elas são mais perigosas do que aquelas dadas aos bandidos comuns”.

O comentário INADEQUADO sobre um dos componentes desse segmento do texto é:

- (A) “corruptos” e “comuns” qualificam as mesmas pessoas.
- (B) “assustadoras” é um adjetivo relacionado a “indulgências”.
- (C) “aquelas” substitui o substantivo “indulgências”.
- (D) “elas” e “aquelas” referem-se ao mesmo substantivo.

QUESTÃO 9

“Suspeito tem o significado de alguém do qual desconfiamos, que tenha feito algo que ele até pode negar”.

Em lugar de “do qual”, a forma mais adequada do relativo, nesse caso, é:

- (A) de quem
- (B) de que
- (C) de cujo
- (D) de onde

QUESTÃO 10

“Suposto quer dizer admitido por hipótese. Deixamos a palavra ali embaixo de “posto”, aguardando que a palavra seja apurada. Suspeito tem o significado de alguém do qual desconfiamos, que tenha feito algo que ele até pode negar. Porém, quando supostos e suspeitos admitem ou confessam, sem coação nenhuma, que foram os autores do que lhes é atribuído, eles não são mais suspeitos nem supostos”.

Sobre os componentes desse segmento do texto, a única afirmativa ADEQUADA é:

- (A) “Suposto” e “suspeito” possuem significados idênticos.
- (B) Na imprensa, “suposto” e “suspeito” aparecem com significados trocados entre si.
- (C) A expressão “quer dizer” equivale a “refere-se a”.
- (D) Supostos e suspeitos deixam de sê-lo quando admitem ou confessam seus delitos.

RACIOCÍNIO LÓGICO**QUESTÃO 11**

Observe os cinco primeiros termos da sequência a seguir: 24, 28, 34, 42, 52, ...; o décimo termo é:

- (A) 132
- (B) 136
- (C) 138
- (D) 142

QUESTÃO 12

Raimundo percebeu que se dividisse sua coleção de cd's de música clássica em partes proporcionais a 2, 2 e 3, as idades de seus netos, a divisão seria exata, ou seja, não restaria nenhum cd. Assim, pode-se afirmar que o número de cd's da coleção de Raimundo é um múltiplo de:

- (A) 2
- (B) 3
- (C) 5
- (D) 7

QUESTÃO 13

Um torneio de futebol será disputado por 16 equipes em regime de turno e retorno, ou seja, cada equipe jogará duas vezes com cada uma das demais. Assim, esse torneio terá a seguinte quantidade de jogos:

- (A) 180
- (B) 240
- (C) 360
- (D) 480

QUESTÃO 14

Numa urna há 6 bolas amarelas, 5 brancas, 4 verdes e 6 pretas. Aída vai retirar bolas da urna, sucessivamente, sem olhar, até ter certeza de que sorteará ao menos duas bolas de uma mesma cor. O número máximo de bolas que ela deve sortear para ter essa certeza é igual a:

- (A) 5
- (B) 8
- (C) 15
- (D) 16

QUESTÃO 15

A média aritmética entre os números 5, 7, x e y é igual a 9. A média aritmética entre (x - 2) e (y + 3) é igual a:

- (A) 9,5
- (B) 11,5
- (C) 12,5
- (D) 13,5

NOÇÕES DE INFORMÁTICA

QUESTÃO 16

Entre os periféricos utilizados nas configurações dos microcomputadores, um tem por função digitalizar documentos. Esse periférico é denominado:

- (A) plotter
- (B) scanner
- (C) stick drive
- (D) floppy disk

QUESTÃO 17

Um funcionário da EMGEPRON abriu a janela do Windows Explorer na tela de um microcomputador com sistema operacional *Windows XP*, versão em português. Nessa janela, acessou a pasta C:\CONTRATOS, tendo verificado que só existiam quatro arquivos armazenados. Para selecionar todos os quatro arquivos de uma só vez, ele deve executar o seguinte atalho de teclado:

- (A) Ctrl + A
- (B) Ctrl + S
- (C) Alt + S
- (D) Alt + A

QUESTÃO 18

No sistema operacional Windows 7 BR, a pequena seta em



existente na área de trabalho, significa que o ícone representa:

- (A) um browser baixado da internet
- (B) uma imagem em formato JPG
- (C) um utilitário de busca da web
- (D) um atalho para um programa

QUESTÃO 19

O texto abaixo foi digitado no Word 2010 BR, com alinhamento à esquerda.







A **EMGEPRON** iniciou o gerenciamento da revitalização do Submarino "Riachuelo" no AMRJ, cujos serviços incluem a recuperação estrutural do casco, dos conveses externos e vela, restauração do acervo histórico e instalação de novo sistema de refrigeração, a fim de proporcionar maior segurança e conforto aos visitantes.

Construído em 1973, na Inglaterra, o Submarino "Riachuelo" foi lançado ao mar em 1975 e incorporado à Armada brasileira em 1977. Após 20 anos de operabilidade, foi desincorporado do Serviço Ativo em 1997, sendo reclassificado como Submarino-Museu.

- A sigla **EMGEPRON** foi criada por meio de um recurso do Word.
- Para aplicar alinhamento centralizado ao texto, deve-se, após selecioná-lo, acionar um determinado ícone ou executar o atalho de teclado Ctrl + E.

O recurso e o ícone são respectivamente:

- (A) SmartArt e 
- (B) SmartArt e 
- (C) WordArt e 
- (D) WordArt e 

QUESTÃO 20

A planilha abaixo foi criada no Excel do pacote MSOffice 2010 BR.

EMGEPRON - LICITAÇÃO						
ITEM	DESCRIÇÃO	QTD	FORNECEDOR			MENOR COTAÇÃO
			F1	F2	F3	
1	Resma 500 fls	10	R\$ 140,00	R\$ 130,00	R\$ 110,50	R\$ 110,50
2	Pendrive 16 GB	6	R\$ 120,00	R\$ 150,00	R\$ 180,00	R\$ 120,00
3	Roteador 802.11n	3	R\$ 510,00	R\$ 450,00	R\$ 330,00	R\$ 330,00
4	Esferográfica	20	R\$ 160,00	R\$ 40,00	R\$ 100,00	R\$ 40,00
						R\$ 600,50

Nessa planilha foram inseridas expressões

- em G5, G6, G7 e G8 para determinar o menor valor entre todas as cotações dos fornecedores F1, F2 e F3.
- em G9 que determina a soma de todas as células de G5 a G8.

Nessas condições, as expressões inseridas em G5 e G9 foram respectivamente:

- (A) =MÍNIMO(D5:F5;1) =SOMA(G5:G8)
- (B) =MÍNIMO(D5:F5) =SOMA(G5;G8)
- (C) =MENOR(D5:F5) e =SOMA(G5;G8)
- (D) =MENOR(D5:F5;1) e =SOMA(G5:G8)

QUESTÃO 21

Atualmente, o pendrive tem sido utilizado na realização de cópias de segurança, tendo em vista o baixo custo, facilidade de manuseio e capacidade de armazenamento. No contexto da informática, essa atividade é conhecida por:

- (A) backup
- (B) firewall
- (C) phishing
- (D) sniffer


QUESTÃO 22

A instalação de um antivírus em um microcomputador é de suma importância para o seu funcionamento satisfatório, no que diz respeito à segurança dos dados e ao próprio desempenho da máquina. Dois exemplos de programas antivírus são:

- (A) iTunes e Avast!
- (B) Avast! e McAfee
- (C) McAfee e WinZip
- (D) WinZip e iTunes

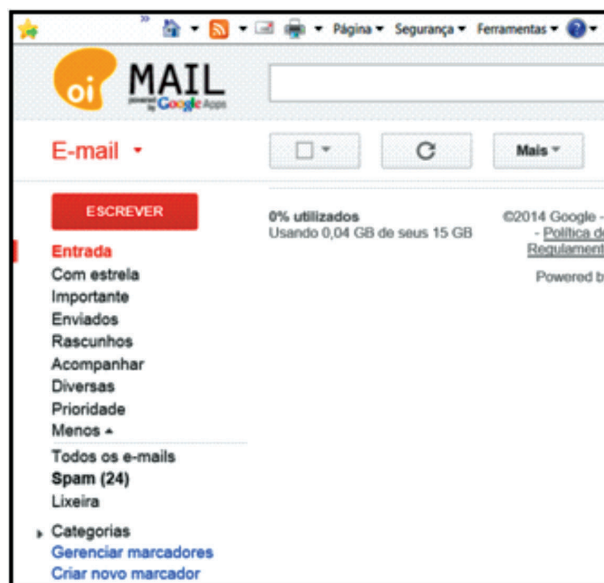
QUESTÃO 23

Atualmente, a integração de computadores em redes cabeadas para acesso à internet é implementada por meio do uso de conectores e cabos que seguem o padrão Fast Ethernet. O conector utilizado nessa implementação é conhecido pela sigla RJ45 e está indicado na seguinte figura:



QUESTÃO 24


Existem estruturas de correio eletrônico que funcionam integradas em sites específicos como os da Oi, Yahoo, HotMail e Gmail, entre outras, para permitir a troca de mensagens de e-mail entre usuários da internet. A título de exemplo, a figura abaixo ilustra o acesso de parte de um usuário no site <http://mail.oi.com.br>, com destaque para a Caixa de Entrada.



Essa estrutura é conhecida por:

- (A) NetMail
- (B) UserMail
- (C) WebMail
- (D) SendMail

QUESTÃO 25

No Firefox Mozilla v26.0 o acionamento do ícone  tem a seguinte finalidade:

- (A) Configurar a página inicial do Firefox Mozilla
- (B) Verificar o andamento dos downloads
- (C) Adicionar site à Barra de Favoritos
- (D) Visualizar a impressão do site exibido na tela

CONHECIMENTOS ESPECÍFICOS**QUESTÃO 26**

O Arranjo Físico de uma empresa é a distribuição ____ do espaço físico disponível, mediante a disposição lógica de seus processos segundo as suas ____ de execução, com os espaços necessários para o bom desempenho de suas atividades, buscando a ____ dos fluxos físicos dos materiais e pessoas, e proporcionando o espaço necessário para as funções de apoio.

As lacunas ficam corretamente preenchidas respectivamente por:

- (A) aleatória / sequências / minimização
- (B) otimizada / rotações / maximização
- (C) otimizada / sequências / minimização
- (D) aleatória / rotação / maximização

QUESTÃO 27

Em relação ao arranjo físico de uma unidade produtiva ou de uma empresa de serviços, avalie se as afirmativas a seguir são falsas (F) ou verdadeiras (V):

- I - Preocupa-se com o posicionamento físico dos recursos de transformação.
- II - Decide onde dispor suas instalações, máquinas e seu pessoal
- III - Determina a forma e a aparência da unidade em consonância com a maneira como os recursos transformados – material, informação e clientes – fluem pelo espaço.

As afirmativas I, II e III são respectivamente:

- (A) V, V e V
- (B) V, F e V
- (C) F, V e F
- (D) F, F e F

QUESTÃO 28

Dentre os objetivos de um bom arranjo físico encontramos os seguintes, EXCETO:

- (A) Garantir instalações adequadas para o bem estar dos colaboradores, tais como banheiros, vestiários, refeitórios etc.
- (B) Oferecer boa sinalização e segurança, com demarcações áreas de circulação e isolamento de operações perigosas.
- (C) Usar princípios de ergonomia para obter maior produtividade, segurança e conforto aos operadores e demais trabalhadores.
- (D) Possibilitar à empresa atingir os objetivos com o maior investimento de capital possível em instalações e espaços necessários.

QUESTÃO 29

Os objetivos do arranjo físico de ambientes de escritórios de modo geral incluem os seguintes, EXCETO:

- (A) Proporcionar ambiente agradável, confortável, de fácil acesso a funcionários e restritivo a visitantes.
- (B) Estabelecer uma lógica de circulação adequada visando a redução das distâncias a percorrer e o tempo de locomoção dos funcionários.
- (C) Possibilitar o isolamento e segurança das áreas de trabalho que necessitem de privacidade e/ou condições ambientais específicas, tais como provadores, caixas, estoques ambientes refrigerados.
- (D) Promover a correta e necessária comunicação e integração entre as pessoas de diferentes áreas de trabalho.

QUESTÃO 30

Em relação aos tipos e características dos arranjos físicos, avalie se as afirmativas a seguir são falsas (F) ou verdadeiras (V):

- I - O arranjo físico posicional é aplicado quando o produto a ser confeccionado ou o objeto ou a pessoa que está recebendo os serviços permanece em uma posição fixa, enquanto os recursos, insumos e pessoas que executam as atividades se dirigem até o mesmo.
- II - O arranjo físico por processo ou funcional é organizado em setores ou centros de trabalho especializado, que reúnem as máquinas, equipamentos e profissionais necessários ao trabalho a ser efetuado.
- III - O arranjo físico celular é uma combinação dos arranjos físicos por processo e por produto; nele, os recursos e máquinas são agrupadas em células e funcionam de uma forma semelhante a um setor do arranjo físico por processo, enquanto o fluxo de materiais e peças se dá de modo similar a um arranjo por produto, em escala reduzida, fluindo como em uma linha de produção.

As afirmativas I, II e III são respectivamente

- (A) F, F e F
- (B) V, V e V
- (C) F, V e V
- (D) V, F e F

QUESTÃO 31

“Ciência que procura configurar, projetar e adaptar o trabalho ao homem, mediante a compreensão das interações do ser humano com os demais elementos de um sistema de trabalho” é uma definição de:

- (A) autonomia
- (B) engenharia de processos
- (C) ergonomia
- (D) arquitetura de interiores

QUESTÃO 32

Os estudos que contribuem para o planejamento das tarefas e dos postos de trabalho, além dos próprios produtos, ambientes e sistemas de modo a torná-los compatíveis com as necessidades, habilidades e limitações das pessoas devem levar em conta principalmente os seguintes aspectos no projeto dos postos de trabalho, EXCETO:

- (A) antropométricos
- (B) físicos
- (C) ambientais
- (D) trabalhistas

QUESTÃO 33

O bom projeto e controle dos fatores físicos do ambiente de trabalho contribui para melhorar o desempenho das pessoas no trabalho, propiciando conforto e viabilizando uma melhor concentração, características que determinam as características comportamentais, psicossociais e motivacionais do trabalhador em relação a suas atividades. Avalie se os fatores ambientais a seguir listados são importantes para esses fins:

- I - Iluminação
- II - Acústica
- III - Temperatura, umidade e ventilação do ambiente

Desses fatores, estão corretos:

- (A) I e II, apenas
- (B) II e III, apenas
- (C) I e III, apenas
- (D) I, II e III

QUESTÃO 34

“Gerenciar eficazmente o espaço tridimensional de um local adequado e seguro, colocado a disposição para a guarda de mercadorias que serão movimentadas rápida e facilmente, com técnicas compatíveis as respectivas características, preservando a sua integridade física e entregando-a a quem de direito no momento aprazado.”

(conhecimentosdaarmazenagem.blogspot.com.br/2012/03/logistica-da-armazenagem-logistica-da.html)

Essa é uma definição adequada de:

- (A) armazenagem
- (B) ergonomia
- (C) controle de estoque
- (D) produção

QUESTÃO 35

Avalie se os objetivos do uso de armazéns incluem:

- I - A maximização do uso dos espaços, aumentando a área estática através do uso de paletes e permitindo o armazenamento de um número maior de produtos.
- II - O acesso rápido aos itens armazenados, através do uso de endereço, evitando o gasto de tempo durante a sua busca.
- III - Proteção e conservação dos materiais, de acordo com as suas propriedades e especificações.

Estão corretos:

- (A) I e II, apenas
- (B) I, II e III
- (C) I e III, apenas
- (D) II e III, apenas

QUESTÃO 36

Em relação à conservação de materiais, as seguintes afirmativas estão corretas, EXCETO:

- (A) deve adequar o ambiente aos materiais de modo a garantir a preservação de suas características até sua entrega.
- (B) se for realizada de modo inadequada, pode implicar em prejuízos para a empresa, e aumento da periculosidade e da insalubridade do ambiente.
- (C) as embalagens servem para proteger os produtos contra avarias durante o manuseio e a armazenagem, mas não oferecem proteção contra furtos.
- (D) quanto menor é o controle da empresa sobre o ambiente físico, maiores devem ser as precauções com a embalagem para evitar avarias, portanto, o ambiente logístico influencia as decisões relativas ao projeto da embalagem.

QUESTÃO 37

“A perda de utilidade de um produto armazenado que não está coberto por seguro” é uma definição possível de:

- (A) inutilidade
- (B) obsolescência
- (C) caducagem
- (D) estacionariedade

QUESTÃO 38

Você precisa selecionar um certo produto no almoxarifado, pois ele foi pedido por um determinado setor. O produto é perecível, ou seja, tem prazo de validade. Nesse caso, você deve escolher:

- (A) o de mais fácil acesso
- (B) o de mais difícil acesso
- (C) o que estiver com data final de validade mais próxima
- (D) o que estiver com data final de validade mais longínqua

QUESTÃO 39

Estoque pode ser definido como o conjunto de materiais, mercadorias ou produtos acumulados para uso posterior, de modo a permitir o atendimento _____ das necessidades dos usuários para a _____ das atividades da organização, sendo gerado, portanto, pela _____ de se prever a demanda com exatidão.

As lacunas ficam corretamente preenchidas por:

- (A) regular / continuidade / impossibilidade
- (B) irregular / descontinuidade / impossibilidade
- (C) regular / descontinuidade / necessidade
- (D) irregular / continuidade / necessidade

QUESTÃO 40

Avalie se para ser considerado material de consumo um certo material deve atender, dentre outros, aos seguintes critérios:

- I - Durabilidade: se em uso normal ele perde ou tem reduzidas as suas condições de funcionamento em certo prazo.
- II - Fragilidade: se sua estrutura for quebradiça, deformável ou danificável, caracterizando sua irrecuperabilidade e a perda de sua identidade ou funcionalidade.
- III - Perecibilidade: se está sujeito a modificações químicas ou físicas ou se deteriore ou perca sua característica pelo uso normal.

Estão corretos os critérios:

- (A) I e II, apenas
- (B) I e III, apenas
- (C) II e III, apenas
- (D) I, II e III

QUESTÃO 41

São em geral exemplos de materiais de consumo, EXCETO:

- (A) lápis e canetas
- (B) papéis e envelopes
- (C) mesas e estantes
- (D) elásticos e grampos

QUESTÃO 42

O material que, em razão de seu uso corrente, não perde a sua identidade física ou tem uma durabilidade superior a dois anos é denominado material:

- (A) transitório
- (B) permanente
- (C) perece
- (D) inflexível

QUESTÃO 43

Empilhar materiais não é simplesmente colocar um sobre o outro de qualquer maneira; o empilhamento deve ser coerente para facilitar a distribuição. A disposição que se dá ao empilhamento possibilita maior segurança e contagem mais rápida dos materiais. Algumas regras básicas podem ser seguidas. Vamos a elas: [...]

(prefeitura.sp.gov.br/cidade/secretarias/upload/chamadas/Apostila_Curso_Almojarifado_1260476807.pdf)

Avalie se as seguintes regras estão corretas:

- I - A distância entre o alto da pilha e o teto deve ser menor do que 30 cm.
- II - Deve-se utilizar o recurso de usar caixas de madeiras sobrepostas, quando for o caso, e usar paletes, que trabalham harmoniosamente com a empilhadeira de garfo.
- III - Verificar sempre a resistência das embalagens, respeitando as indicações do fabricante.
- IV - As pilhas devem estar sempre firmes, ou seja, a movimentação de unidades superiores não deve ameaçar nem desestabilizar as unidades que permanecerão empilhadas.

Estão corretas:

- (A) I e IV, apenas
- (B) II, III e IV, apenas
- (C) II e III, apenas
- (D) I, II, III e IV

QUESTÃO 44

O Padrão de Descrição de Materiais (PDM) é uma padronização da identificação de materiais. As seguintes afirmativas em relação ao PDM estão corretas, EXCETO:

- (A) possibilita a adoção de um número expressivo de características para cada tipo de material.
- (B) permite processar grandes volumes de materiais com agilidade, velocidade, produtividade e flexibilidade.
- (C) pegue uma estruturação definida que fica ao sabor das vontades do administrador.
- (D) racionaliza outros recursos organizacionais como equipamentos, recursos humanos e recursos financeiros.

QUESTÃO 45

Avalie se são vantagens da identificação de materiais:

- I - Padronização de materiais e equipamentos usados na organização.
- II - Maior ganho de escala nas compras e redução de custos.
- III - Maior agilidade dos processos de compras.
- IV - Otimização da gestão de estoques e redução de falhas.

Estão corretas:

- (A) I e III, apenas
- (B) II e IV, apenas
- (C) I, III e IV, apenas
- (D) I, II, III e IV

QUESTÃO 46

O controle é uma peça fundamental para uma eficiente administração de materiais. Avalie se o controle permite que se obtenham as seguintes informações principais, dentre outras:

- I - Dados cadastrais do fornecedor.
- II - Preço médio do item controlado
- III- Quantidade de materiais em estoque na data do levantamento.
- IV - Data da última aquisição e preço pago.

Estão corretos:

- (A) I, II, III e IV
- (B) I e II, apenas
- (C) II, III e IV, apenas
- (D) II e III, apenas

QUESTÃO 47

Em relação aos recursos de que se pode lançar mão para se obter um bom controle, NÃO é correto afirmar que:

- (A) Ficha de prateleira é um documento que permite o controle do material no próprio local em que está fisicamente armazenado; ela fica junto ao material e cada entrada ou saída do material é nela registrada.
- (B) Kardex é um sistema de arquivo que facilita o manuseio das fichas; ele contém todos os dados relacionados ao material mas, em termos comparativos, não substitui vantajosamente as fichas de prateleiras.
- (C) Guia de transferência é o documento usado para registrar a transferência de produtos em processo da produção para o almoxarifado.
- (D) Requisição de compras é o formulário usado pelo almoxarifado para solicitar à área de compras a reposição de materiais por ele controlados.

QUESTÃO 48

O recebimento de materiais e a inspeção são importantes instrumentos de controle. Em relação ao tema NÃO é correto afirmar que:

- (A) O objetivo básico do recebimento é garantir que o material entregue pelo fornecedor está em conformidade com as especificações que constam do pedido de compras (ou da ordem de fornecimento).
- (B) Geralmente o controle no recebimento é feito a partir da Nota Fiscal emitida pelo fornecedor.
- (C) A inspeção no recebimento, como controle, não deve ser feita imediatamente, mas a posteriori, a partir de amostras destinadas a ensaios ou testes de laboratório.
- (D) Em muitas organizações, os fornecedores certificados e com a qualificação necessária são dispensados de inspeções no recebimento.

QUESTÃO 49

Geralmente, os materiais recebidos podem receber as seguintes identificações:

- (A) aprovado, aguardando inspeção e reprovado
- (B) presente, ausente e em processo
- (C) permanentes, inconclusivos e perenes
- (D) acima do valor de referência, na média, abaixo do valor de referência

QUESTÃO 50

Dá-se o nome de movimentação de materiais a todo o fluxo de materiais dentro da empresa. A movimentação de materiais é uma atividade indispensável a qualquer sistema de produção e visa não somente o abastecimento das seções produtivas, mas também a garantia da sequência do processo de produção entre as seções envolvidas.

As principais finalidades da movimentação de materiais incluem as a seguir listadas, EXCETO UMA, que está ERRADA. Assinale-a.

- (A) *Aumento da capacidade produtiva da empresa*, que pode ser conseguido por meio de redução do tempo de fabricação, do incremento da produção, da intensificação do abastecimento de materiais às seções produtivas e do uso racional da capacidade de armazenagem, utilizando plenamente o espaço disponível e aumentando a área útil da fábrica.
- (B) *Melhoria das condições de trabalho*, proporcionando mais segurança, redução do número de acidentes durante as operações com materiais, redução da fadiga nas operações com materiais e maior conforto para o pessoal e aumento da produtividade da mão-de-obra.
- (C) *Redução dos custos de produção*, conseguida com o aumento da quantidade de mão-de-obra braçal e redução dos custos de materiais, pelo correto acondicionamento e transporte adequado que reduzirem as perdas ou estragos de materiais.
- (D) *Melhoria da distribuição*: a distribuição que é significativamente melhorada com a racionalização dos sistemas de manuseio por meio de melhoria na circulação, na localização estratégica de almoxarifados e na melhoria dos serviços aos usuários.

