



Concurso Público

REF. EDITAL N° 198/2013

NÍVEL SUPERIOR - TARDE

Cargo

ANALISTA TÉCNICO: ARQUITETURA, URBANISMO E ENGENHARIA - ARQUITETURA

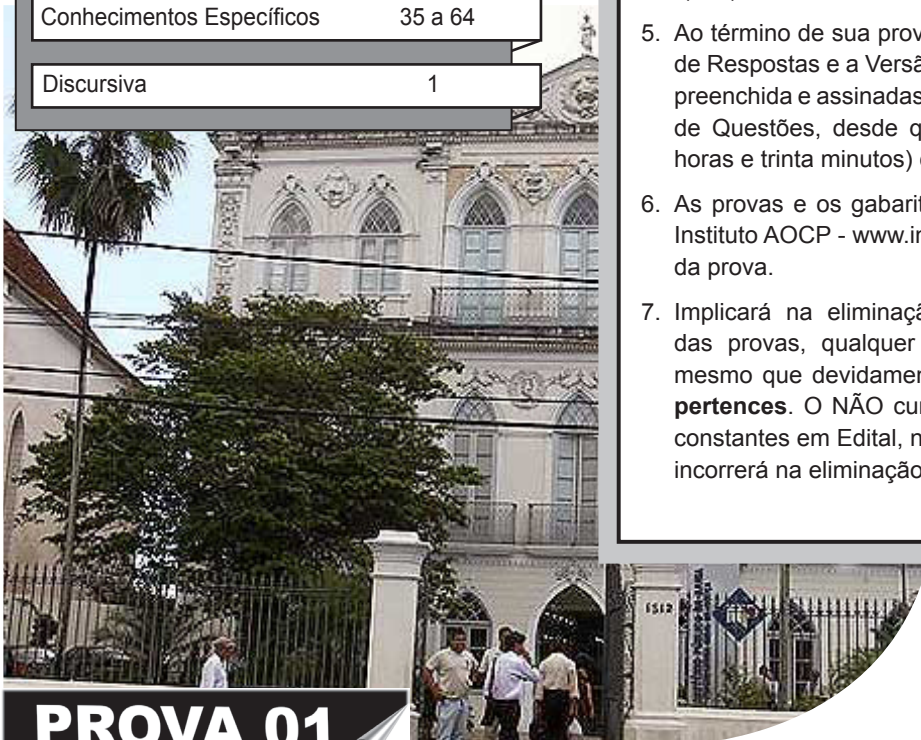
ATENÇÃO

O Caderno de questões possui 64 (sessenta e quatro) questões objetivas e 1 (uma) questão discursiva, numeradas sequencialmente, de acordo com o exposto no quadro a seguir:

MATÉRIA	QUESTÕES
Língua Portuguesa	01 a 06
Raciocínio Lógico	07 a 12
Noções de Informática	13 a 18
Ética e Direitos Humanos	19 a 24
Legislação Aplicável ao Ministério Público do Estado da Bahia	25 a 34
Conhecimentos Específicos	35 a 64
Discursiva	1

INSTRUÇÕES

1. Na sua Folha de Respostas, confira seu nome, o número do seu documento e o número de sua inscrição. Além disso, não se esqueça de conferir seu Caderno de Questões quanto a falhas de impressão e de numeração, e se o cargo corresponde àquele para o qual você se inscreveu. Qualquer divergência comunique ao fiscal.
2. O único documento válido para avaliação da prova é a Folha de Respostas. Só é permitido o uso de caneta esferográfica **transparente** de cor azul ou preta para o preenchimento da Folha de Respostas, que deve ser realizado da seguinte maneira: ■
3. **O candidato deverá marcar na Folha de Respostas o número que corresponde à sua prova.**
4. O prazo de realização da prova é de 4h30min (quatro horas e trinta minutos), incluindo a marcação da Folha de Respostas e a transcrição da Versão Definitiva da questão Discursiva. Após 60 (minutos) do início da prova, o candidato estará liberado para utilizar o sanitário ou deixar definitivamente o local de aplicação. A retirada da sala de prova dos 3 (três) últimos candidatos só ocorrerá conjuntamente.
5. Ao término de sua prova, comunique ao fiscal, devolvendo-lhe a Folha de Respostas e a Versão Definitiva da questão Discursiva devidamente preenchida e assinadas. O candidato poderá levar consigo o Caderno de Questões, desde que permaneça na sala durante 3h30min (três horas e trinta minutos) contadas a partir do início da prova.
6. As provas e os gabaritos preliminares estarão disponíveis no site do Instituto AOCB - www.institutoaocb.org.br - no dia posterior à aplicação da prova.
7. Implicará na eliminação do candidato, caso, durante a realização das provas, qualquer equipamento eletrônico venha emitir ruídos, mesmo que devidamente acondicionado no **envelope de guarda de pertences**. O NÃO cumprimento a qualquer uma das determinações constantes em Edital, no presente Caderno ou na Folha de Respostas, incorrerá na eliminação do candidato.



PROVA 01

-----(destaque aqui)-----

FOLHA PARA ANOTAÇÃO DAS RESPOSTAS DO CANDIDATO

Questão	01	02	03	04	05	06	07	08	09	10	11	12	13	14	15	16	17	18	19	20	21	22	
Resp.																							

Questão	23	24	25	26	27	28	29	30	31	32	33	34	35	36	37	38	39	40	41	42	43	
Resp.																						

Questão	44	45	46	47	48	49	50	51	52	53	54	55	56	57	58	59	60	61	62	63	64	
Resp.																						

O gabarito oficial preliminar e o caderno de questões da prova objetiva estarão disponíveis no endereço eletrônico www.institutoaocp.org.br no dia seguinte à aplicação da prova.

LÍNGUA PORTUGUESA

Qualidade na educação: o DNA das escolas
Segredo de uma rede de qualidade não é padronizar, mas atender fatores distintos – pois algumas escolas têm mais problemas e desafios do que outras

João Batista Araujo e Oliveira

[...] A exemplo do que ocorre no Brasil, na maioria dos países desenvolvidos os pais matriculam seus filhos na escola pública mais próxima de sua casa. A grande diferença é que, na maior parte das nações, as escolas de diferentes bairros são semelhantes: elas se parecem muito entre si, no que fazem e nos resultados. No Brasil as escolas se parecem mais com os bairros onde estão localizadas. Elas têm, portanto, a cara do bairro.

Sabemos como fazer uma escola de qualidade, uma escola boa. Há inclusive escolas públicas assim no Brasil, algumas centenas delas, ou talvez poucos milhares. São escolas de prestígio, de alto padrão, onde o ensino é de qualidade, os alunos estudam e aprendem e os resultados são elevados. São escolas militares, colégios de aplicação e unidades estaduais ou municipais aqui e ali que possuem as mesmas características. Mas essas escolas são poucas – uma pequena fração entre as mais de 120.000 unidades urbanas de ensino fundamental.

Nunca aprendemos a fazer aquilo que os países desenvolvidos sempre fizeram: manter um padrão. E quando o nível cai, há mecanismos para trazer a escola de volta. Resultado: embora sejam obrigados a matricular seus filhos na escola do bairro, os pais sabem que o ensino oferecido ali é semelhante ao proporcionado por unidades de outros bairros. E sabem que se seus filhos se esforçarem também obterão bons resultados.

As estatísticas produzidas pela OCDE ilustram esse fenômeno de maneira muito clara. Nos países desenvolvidos, a diferença da média das notas das escolas é relativamente pequena – raramente ultrapassa os 30%. Essa diferença é enorme no Brasil.

Manter uma rede de escolas de padrão não significa que todas as unidades são idênticas, que recebem os mesmos recursos, que são 100% padronizadas. Ao contrário, para ter resultados semelhantes, as escolas precisam de recursos distintos – pois algumas têm mais problemas e desafios do que outras. Para promover a igualdade é necessário tratar desigualmente os desiguais. Escolas que caem no desempenho recebem ajuda extra; escolas com maior número de alunos com dificuldade de aprendizado recebem mais e melhores recursos, e assim por diante.

A exemplo do fator que nos faz semelhantes como seres humanos, há uma DNA a tornar parecido o desempenho das escolas. O segredo de uma rede de qualidade está na maneira como se forma o DNA da escola, os fatores que asseguram que todas as unidades da rede possam funcionar e atingir níveis de desempenho semelhantes.

O que torna uma rede de escolas boa não é muito diferente do que torna uma escola boa. Mas criar uma rede boa é muito diferente de criar uma escola boa.

Adaptado de <http://veja.abril.com.br/noticia/educacao/qualidade-na-educacao-o-dna-das-escolas>

QUESTÃO 01

De acordo com o texto,

- (A) o Brasil, embora não tenha os mesmos resultados educacionais dos países desenvolvidos, consegue manter um padrão de qualidade em sua rede de ensino.
- (B) o segredo para que alcancemos um padrão de qualidade em nossas escolas é saber tratar as necessidades específicas de cada instituição escolar, aplicando os recursos de maneira desigual conforme a necessidade de cada uma.
- (C) há uma divergência entre o Brasil e os demais países do mundo, pois em nosso país os pais não costumam matricular seus filhos em escolas próximas a seus lares.
- (D) o Brasil sofre com a educação por não saber fazer escolas de qualidade.
- (E) para que seja mantida uma rede de escolas de padrão, é necessário manter uma uniformidade na distribuição de recursos voltados às escolas.

QUESTÃO 02

Em “...E sabem que se seus filhos se esforçarem também obterão bons resultados.”, os dois termos destacados

- (A) exercem a mesma função no texto, pois ambos servem para indeterminar o sujeito.
- (B) exercem a mesma função no texto, pois ambos são utilizados como partículas apassivadoras.
- (C) exercem funções diferentes no texto, visto que o primeiro age como conjunção subordinativa condicional e o segundo como partícula integrante do verbo “esforçar”, que nesse contexto é pronominal.
- (D) exercem funções diferentes no texto, visto que o primeiro age como indeterminador do sujeito e o segundo como conjunção subordinativa causal.
- (E) exercem funções diferentes no texto, visto que o primeiro serve para indeterminar o sujeito e o segundo como conjunção integrante.

QUESTÃO 03

Considerando a norma padrão da língua portuguesa, assinale a alternativa correta quanto ao que se afirma.

- (A) Em “Elas têm, portanto, a cara do bairro.”, o termo destacado pode ser substituído por “tem” sem que ocorra prejuízo gramatical.
- (B) Em “...os fatores que asseguram que todas as unidades da rede possam funcionar...”, o termo destacado deve ser substituído por “possa” para que haja concordância com o termo rede.
- (C) Em “No Brasil as escolas se parecem mais com os bairros...”, é necessário emprego de vírgula após “No Brasil”.
- (D) Em “Elas têm, portanto, a cara do bairro.”, as vírgulas utilizadas podem ser retiradas sem que haja prejuízo gramatical.
- (E) Em “Essa diferença é enorme no Brasil.”, é obrigatório o emprego de vírgula antes da expressão “no Brasil”.

QUESTÃO 04

Em “Elas têm, portanto, a cara do bairro.”, o termo destacado tem valor

- (A) conclusivo.
- (B) adversativo.
- (C) causal.
- (D) aditivo.
- (E) alternativo.

QUESTÃO 05

Em “Mas essas escolas são poucas...”, a expressão destacada refere-se, **EXCETO**

- (A) a escola com ensino de qualidade.
- (B) inclusive a escolas públicas.
- (C) a escolas de prestígio.
- (D) a escolas de alto padrão.
- (E) a todas as escolas dos bairros.

QUESTÃO 06

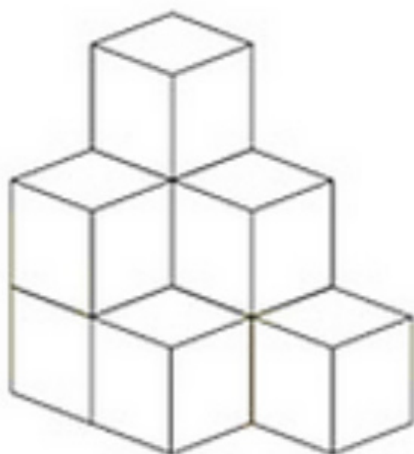
Em “As estatísticas produzidas pela OCDE...” o termo destacado, na oração,

- (A) exerce função de sujeito, porque pratica a ação.
- (B) exerce função de objeto direto, porque complementa o verbo “produzidas”.
- (C) exerce função de complemento nominal, porque complementa o nome “produzidas”.
- (D) exerce função de agente da passiva, porque pratica a ação.
- (E) exerce função de objeto indireto, porque complementa o verbo com o uso de preposição exigida pela regência do verbo produzidas.

RACIOCÍNIO LÓGICO

QUESTÃO 07

Observe a pilha de cubos a seguir:



Quantos cubos faltam na figura para que esta contenha 20 cubos?

- (A) 9.
- (B) 10.
- (C) 11.
- (D) 12.
- (E) 15.

QUESTÃO 08

Quatro amigas foram ao shopping e uma delas comprou uma bolsa. Sobre quem comprou a bolsa, considere as afirmativas a seguir:

- Eu não fui, diz Juliana.
- Foi a Amanda, diz a Luana.
- Foi a Luana, diz a Isabela.
- A Isabela não tem razão, diz a Amanda.

Sabendo que só uma delas mentiu. Então quem comprou a bolsa?

- (A) Juliana.
- (B) Luana.
- (C) Amanda.
- (D) Isabela.
- (E) Nenhuma delas.

QUESTÃO 09

Daniela possui seis gatos de estimação, três são pretos, dois são brancos e um é preto e branco. Sábado e Domingo são os dias que Daniela dá banho em seus gatos. Em um dia, ela lava três e, no outro, os outros três. Se no sábado ela escolheu aleatoriamente três gatos para o banho, o que podemos com certeza afirmar sobre eles, sabendo que nenhum era o branco e preto?

- (A) São todos pretos.
- (B) São todos brancos.
- (C) Um é preto e dois são brancos.
- (D) Um é branco e dois são pretos.
- (E) Pelo menos um é preto.

QUESTÃO 10

Gustavo, Camila e Rafaela foram juntos para uma festa. Chegando na festa, um deles só tomou água, o outro, refrigerante e, o outro, cerveja. Sabendo que:

- ou Gustavo tomou água, ou Camila tomou água;
- ou Gustavo tomou refrigerante, ou Rafaela tomou água;
- ou Camila tomou cerveja, ou Rafaela tomou cerveja.

Assinale a alternativa que apresenta o que Gustavo, Camila e Rafaela tomaram na festa, respectivamente.

- (A) Refrigerante, água e cerveja.
- (B) Água, refrigerante e cerveja.
- (C) Refrigerante, cerveja e água.
- (D) Refrigerante, água e cerveja.
- (E) Cerveja, refrigerante e água.

QUESTÃO 11

Uma dona de casa vai fazer o almoço. Na sua geladeira, tem três tipos de carnes, e quatro tipos de saladas. Quantas possibilidades essa dona de casa tem para preparar o almoço, sabendo que o almoço deverá ter um tipo de carne e um tipo de salada?

- (A) 7.
- (B) 8.
- (C) 10.

- (D) 12.
- (E) 24.

QUESTÃO 12

Em uma urna foram colocadas 12 fichas, com números de 1 a 12. Cada ficha possui um único número. Sabendo disso, qual é a probabilidade de, em um único sorteio, sair uma ficha com um número ímpar?

- (A) 25%.
- (B) 50%.
- (C) 55%.
- (D) 60%.
- (E) 65%.

NOÇÕES DE INFORMÁTICA

QUESTÃO 13

Em relação aos conceitos de Hardware e Software, assinale a alternativa correta.

- (A) Microsoft Excel é um software livre utilizado para execução de cálculos.
- (B) BIOS é o nome dado a programas (softwares), quando são armazenados na memória RAM.
- (C) Memória ROM é uma memória virtual criada pelo sistema operacional, utilizando o espaço livre no disco rígido (HD).
- (D) Firmware é o conjunto de instruções operacionais programadas diretamente no hardware de um equipamento eletrônico.
- (E) Cache é um tipo de chip de memória de computador que mantém seus dados quando a energia é desligada ou em uma falha do Sistema Operacional.

QUESTÃO 14

A figura a seguir ilustra uma planilha do Microsoft Excel 2010 (instalação padrão português – Brasil). Com base nesta planilha, assinale a alternativa correta.

	A	B	C	D	E	F	G	H	I	J	K
1											
2	INFLAÇÃO										
3	ÍDICE	JANEIRO	FEVEREIRO	MARÇO	ABRIL	MAIO	JUNHO	MAIOR ÍDICE	MENOR ÍDICE	ACUMULADO ANO	
4	INPC-IBGE	0,83	0,54	0,50	0,42	0,75	-0,23	0,83	-0,23	2,81	
5	IPC-FIPE	0,20	-0,16	-0,23	0,65	0,56	-0,75	0,65	-0,75	0,27	
6	IGP-DI (FGV)	0,86	0,02	0,25	-0,11	0,25	-0,38	0,86	-0,38	0,89	
7	IGP-M/(FGV)	0,90	0,15	0,20	0,12	0,18	0,54	0,90	0,12	2,09	
8	ICV-DIEESE	0,74	0,28	0,23	0,17	0,49	-0,17	0,74	-0,17	1,74	
9	IPA-DI/FGV	0,75	-0,12	0,16	-0,30	0,09	-0,39	0,75	-0,39	0,19	
10	*Valores fictícios										
11											

- (A) O valor obtido na célula H4 pode ser calculado utilizando a seguinte fórmula: **=MAIOR(B4:G4)**
- (B) O valor obtido na célula I4 pode ser calculado utilizando a seguinte fórmula: **=MENOR(B4:G4)**
- (C) Ao clicar na célula K4 e digitar a fórmula **=CONT.SE(B4:J9;"<=0")** e pressionar a tecla ENTER, retornará o valor 15.
- (D) O valor obtido na célula J4 pode ser calculado utilizando a seguinte fórmula: **=SOMA(B4:I4)**
- (E) O valor obtido na célula J4 pode ser calculado utilizando a seguinte fórmula: **=SOMA(B4;G4)**

QUESTÃO 15

Sobre conceitos de organização e gerenciamento de informações, arquivos, pastas e programas, assinale a alternativa correta. Considere o Sistema Operacional Windows 7.

- (A) Não é possível criar uma Pasta dentro de outra já existente.
- (B) É possível salvar dentro de uma mesma pasta arquivos com o mesmo nome.
- (C) Arquivos com extensões diferentes não podem ser salvos em uma mesma Pasta.
- (D) Uma Pasta vazia será eliminada pelo sistema após este ser reiniciado.
- (E) Na Pasta Imagem da biblioteca do Windows, somente pode ser salvo arquivo com extensão JPG.

QUESTÃO 16

Sobre Álbum de Fotografia presente no programa de apresentações Power Point 2010 (instalação padrão português – Brasil), assinale a alternativa correta.

- (A) Está presente na Guia Design.
- (B) Quando se usa o recurso Álbum de Fotografia, o usuário deverá fechar a apresentação aberta, pois, caso contrário, a apresentação em uso será afetada.
- (C) Usa-se a tecla de atalho ALT para selecionar um conjunto de fotos.
- (D) Em Álbum de Fotografia, encontra-se a opção Olhos Vermelhos para correção de imagem.
- (E) Cada imagem será colocada em um Slide individual.

QUESTÃO 17

Sobre conceitos de proteção e segurança da informação, malwares e pragas virtuais, assinale a alternativa que apresenta o software que pode monitorar o comportamento online do usuário ou coletar informações sobre ele (inclusive informações confidenciais ou de identificação pessoal), alterar configurações do computador ou fazer com que ele fique lento.

- (A) Spyware.
- (B) Vírus de Macro.
- (C) Spam.
- (D) Firewall.
- (E) Screenloggers.

QUESTÃO 18

O termo URL está relacionado a conceitos de internet. Para este, é correto afirmar que

- (A) é um endereço único na internet composto pelo nome do arquivo, diretório, nome do servidor e o método como ele será requisitado.
- (B) é uma forma bastante rápida e versátil de transferir arquivos (também conhecidos como ficheiros), sendo uma das mais usadas na internet.
- (C) é a linguagem usada para rotular páginas da internet.
- (D) é um protocolo de comunicação entre sistemas de informação que permite a transferência de dados entre redes de computadores.
- (E) é o endereço numérico que identifica, de forma única, um computador na rede internet.

ÉTICA E DIREITOS HUMANOS

QUESTÃO 19

Os Dez Princípios do Pacto Global abrangem temas relacionados aos Direitos Humanos, ao Trabalho, ao Meio Ambiente e ao Combate à Corrupção e, por isso,

- (A) são juridicamente vinculativos a todas as empresas, dada a importância de sua pauta.
- (B) as corporações, principais agentes da globalização, poderão ajudar a garantir que o mercado, tecnologia, comércio e finanças possam progredir de forma a beneficiar as economias e as sociedades em todos os lugares.
- (C) não se trata de uma rede de empresas e/ou outros stakeholders.
- (D) se configuram como uma iniciativa compulsória, direcionada primeiramente aos Estados e, em segundo lugar, às empresas.
- (E) não há preocupação, dentre tais princípios, com a liberdade associativa, apenas com o tema da negociação coletiva.

QUESTÃO 20

Quanto à Declaração Universal dos Direitos Humanos de 1948, é INCORRETO afirmar que

- (A) os Estados-Membros se comprometeram a desenvolver, em cooperação com as Nações Unidas, o respeito universal aos direitos humanos e liberdades fundamentais e a observância desses direitos e liberdades.
- (B) toda pessoa, vítima de perseguição, tem o direito de procurar e de gozar asilo em outros países.
- (C) toda pessoa tem o direito de tomar parte no governo de seu país, diretamente ou por intermédio de representantes livremente escolhidos.
- (D) toda pessoa, como membro da sociedade, tem direito à segurança social e à realização, pelo esforço nacional, pela cooperação internacional e de acordo com a organização e recursos de cada Estado, dos direitos econômicos, sociais e culturais indispensáveis à sua dignidade e ao livre desenvolvimento da sua personalidade.
- (E) o Estado terá prioridade de direito na escolha do gênero de instrução que será ministrada às crianças e adolescentes, independentemente da manifestação dos pais.

QUESTÃO 21

Analise as assertivas a seguir e assinale a alternativa que aponta as corretas.

- I. A Política, enquanto ligada à cidade e ao que é civil e social, está também muito ligada à ideia de Poder.
- II. A Constituição Federal Brasileira de 1988 trouxe mecanismos para o exercício da

cidadania, viabilizando a participação do povo na política, seja de forma direta, ou de forma indireta.

III. **Pode-se entender que no gênero ético se encontram três espécies de normas: as de direito, as da moral e as dos costumes.**

IV. **A regra moral se diferencia da regra dos costumes, eis que os costumes demandam a intenção, ou seja, não basta a simples adoção de uma conduta. Para os costumes, deve haver a conformação da intenção do sujeito para com a mesma.**

- (A) Apenas I, II e III.
- (B) Apenas I e IV.
- (C) Apenas I e III.
- (D) Apenas II e III.
- (E) I, II, III e IV.

QUESTÃO 22

Acerca da fiscalização e da prestação de contas envolvendo a Administração Pública, é correto afirmar que

- (A) o princípio da publicidade inviabiliza as atividades de fiscalização e controle na medida em que demanda recursos humanos e financeiros para a publicação dos atos oficiais em detrimento do envio de verbas necessárias aos órgãos de controle.
- (B) o assim chamado sistema de “accountability” é extremamente falho. Nele, apenas prepondera o controle de ordem vertical.
- (C) com vistas a viabilizar o controle da Administração Pública e a assegurar que suas atividades se prestarão ao atendimento do interesse público, a “accountability” pode ser tida como um conceito dinâmico, e envolve o indivíduo ou a agência obrigados a prestar contas e a justificar seus atos aos cidadãos.
- (D) a Constituição Federal Brasileira, ao adotar de forma preponderante a democracia representativa, não viabiliza ações compatíveis com a noção de “accountability”.
- (E) a importação do “accountability” no Brasil é inviável por limitações de ordem formal e material.

QUESTÃO 23

Quanto aos agentes públicos e seus deveres para com a Administração Pública, é correto afirmar que

- (A) a observância aos Princípios Constitucionais da Administração Pública é obrigatória, contudo, tal observância poderá ser afastada pelo legislador ordinário.
- (B) a moralidade administrativa não prevalecerá diante do Poder Discricionário do Agente Público, este condiciona aquela.
- (C) a noção de ética na Administração Pública não está de forma alguma vinculada com o princípio da impessoalidade, de modo que a inobservância do princípio da impessoalidade não atenta contra a ética

no serviço público.

- (D) o dever de honestidade e de probidade dos agentes públicos é a regra, a qual, uma vez não observada, pode ensejar, sem prejuízo de outras medidas, a sua responsabilização por improbidade administrativa.
- (E) o dever de manutenção de conduta ilibada e idoneidade moral imposto ao agente público implica que o mesmo está proibido de participar de cultos religiosos.

QUESTÃO 24

Quanto à Declaração Universal dos Direitos Humanos de 1948, analise as assertivas e assinale a alternativa que aponta as corretas.

- I. **Todas as pessoas nascem livres e iguais em dignidade e direitos. São dotadas de razão e consciência e devem agir em relação umas às outras com espírito de fraternidade.**
- II. **Toda pessoa tem capacidade para gozar os direitos e as liberdades estabelecidos nesta Declaração, sem distinção de qualquer espécie, seja de raça, cor, sexo, língua, religião, opinião política ou de outra natureza, origem nacional ou social, riqueza, nascimento, ou qualquer outra condição.**
- III. **Toda pessoa tem direito à vida, à liberdade e à segurança pessoal.**
- IV. **Ninguém será mantido em escravidão ou servidão, a escravidão e o tráfico de escravos serão proibidos em todas as suas formas.**

- (A) Apenas I, II e III.
- (B) Apenas I e IV.
- (C) Apenas I e III.
- (D) Apenas II e III.
- (E) I, II, III e IV.

**LEGISLAÇÃO APLICÁVEL
AO MINISTÉRIO PÚBLICO
DO ESTADO DA BAHIA**

QUESTÃO 25

Analise as assertivas e assinale a alternativa que aponta as corretas. São princípios institucionais do Ministério Público:

- I. Unidade.
- II. Indivisibilidade.
- III. Independência funcional.
- IV. Vinculação aos Poderes Judiciário e Executivo.

- (A) Apenas I, II e III.
- (B) Apenas I, II e IV.
- (C) Apenas I e II.
- (D) Apenas II e IV.
- (E) I, II, III e IV.

QUESTÃO 26

Conforme a Lei Complementar 11/1996, são órgãos de execução do Ministério Público, EXCETO

- (A) o Procurador-Geral de Justiça.
- (B) o Colégio de Procuradores de Justiça.
- (C) a Corregedoria-Geral do Ministério Público.
- (D) os Procuradores de Justiça.
- (E) os Promotores de Justiça.

QUESTÃO 27

Assinale a alternativa INCORRETA. As Procuradorias de Justiça são classificadas em

- (A) Procuradorias de Justiça Cíveis.
- (B) Procuradorias de Justiça Criminais.
- (C) Procuradorias de Justiça de Contas.
- (D) Procuradorias de Justiça Administrativas.
- (E) Procuradorias de Justiça Especializadas.

QUESTÃO 28

De acordo com a Lei Complementar 11/1996, o prazo para devolução dos autos com manifestação de Procurador de Justiça, salvo situações especiais, não poderá exceder

- (A) 60 (sessenta) dias.
- (B) 30 (trinta) dias.
- (C) 15 (quinze) dias.
- (D) 10 (dez) dias.
- (E) 05 (cinco) dias.

QUESTÃO 29

Assinale a alternativa INCORRETA. O Procurador-Geral de Justiça Adjunto será escolhido livremente, dentre os Procuradores de Justiça, pelo Procurador-Geral de Justiça, cabendo-lhe

- (A) auxiliar o Procurador-Geral de Justiça em suas

atribuições.

- (B) prestar assessoria direta ao Procurador-Geral de Justiça.
- (C) exercer a coordenação geral dos Centros de Apoio Operacional.
- (D) exercer, por delegação, as atribuições que lhe forem conferidas.
- (E) emitir pareceres sobre assuntos técnico-administrativos.

QUESTÃO 30

Conforme a Lei Complementar 11/1996, os membros do Ministério Público possuem como uma das garantias a vitaliciedade e esta será adquirida

- (A) após 1 (um) ano de exercício, não podendo perder o cargo senão por sentença judicial transitada em julgado.
- (B) após 2 (dois) anos de exercício, não podendo perder o cargo senão por sentença judicial transitada em julgado.
- (C) após 3 (três) anos de exercício, não podendo perder o cargo senão por sentença judicial transitada em julgado.
- (D) após 5 (cinco) anos de exercício, não podendo perder o cargo senão por sentença judicial transitada em julgado.
- (E) após 10 (dez) anos de exercício, não podendo perder o cargo senão por sentença judicial transitada em julgado.

QUESTÃO 31

Assinale a alternativa INCORRETA. De acordo com a Lei Complementar 11/1996, compete aos Procuradores de Justiça

- (A) o exercício das atribuições do Ministério Público junto aos Tribunais de Justiça e de Contas, desde que não cometidas ao Procurador-Geral de Justiça.
- (B) officiar e emitir parecer escrito e fundamentado nos processos cíveis, criminais e administrativos, inclusive por delegação.
- (C) impetrar *habeas corpus*, *habeas data*, mandado de segurança, mandado de injunção, ação direta de inconstitucionalidade, requerer correição parcial, bem como propor outras medidas cabíveis, perante os Tribunais competentes.
- (D) interpor, quando for o caso, recursos aos Tribunais locais ou superiores, ou sugerir ao Procurador-Geral de Justiça, fundamentadamente, a interposição ou adoção de outras medidas cabíveis.
- (E) integrar comissão de procedimento administrativo disciplinar.

QUESTÃO 32

O membro vitalício do Ministério Público somente perderá o cargo por sentença judicial transitada em julgado, proferida em ação civil própria. A este respeito, analise as assertivas e assinale a alternativa que aponta as corretas.

- I. A ação civil para a decretação da perda do cargo pela prática de infração penal incompatível com o exercício do cargo será proposta enquanto não verificada a prescrição da infração penal.
- II. A ação civil para a decretação da perda do cargo em razão do exercício da advocacia, inclusive a representação judicial e a consultoria jurídica a entidades públicas será proposta no prazo de 3 (três) anos contados do fato.
- III. A ação civil para a decretação da perda do cargo em virtude de abandono do cargo por prazo superior a 30 (trinta) dias consecutivos será proposta no prazo de 5 (cinco) anos contados do fato.
- IV. O membro do Ministério Público aposentado, ainda que na atividade tenha praticado infração penal incompatível com o exercício do cargo ou exercido a advocacia não perderá o cargo, nem serão cassados seus proventos.

- (A) Apenas I, II e IV.
- (B) Apenas II, III e IV.
- (C) Apenas I e II.
- (D) Apenas I e III.
- (E) I, II, III e IV.

QUESTÃO 33

Conforme a Lei Complementar 11/1996, constituem prerrogativas dos membros do Ministério Público, no exercício de suas funções, EXCETO

- (A) receber o mesmo tratamento jurídico protocolar dispensado aos membros do Poder Judiciário e Conselheiros do Tribunal de Contas junto aos quais oficiem.
- (B) dispor e utilizar livremente, nas comarcas em que servir, de instalações próprias e condignas nos prédios dos fóruns.
- (C) gozar de inviolabilidade pelas opiniões que externar ou pelo teor de suas manifestações processuais ou procedimentos, nos limites de sua independência funcional.
- (D) receber intimação pessoal em qualquer processo e grau de jurisdição, através da entrega dos autos com vista.
- (E) ser processado e julgado originariamente pelo Juiz da Comarca onde exerce o cargo, nos crimes comuns e de responsabilidade, ressalvadas exceções de ordem constitucional.

QUESTÃO 34

De acordo com o Estatuto dos Servidores Públicos Civis do Estado da Bahia, são formas de provimento de cargo público, EXCETO

- (A) readaptação.

- (B) reversão.
- (C) reintegração.
- (D) recondução.
- (E) nomeação.

CONHECIMENTOS ESPECÍFICOS

QUESTÃO 35

De acordo com Romero (2000), fatores climáticos globais são aqueles que condicionam, determinam e dão origem ao clima nos seus aspectos macro ou mais gerais. Assinale a alternativa que apresenta somente estes tipos de fatores climáticos.

- (A) Radiação solar, latitude, altitude, ventos e massas de água e terra.
- (B) Topografia, temperatura, altitude, vegetação e ventos.
- (C) Umidade do ar, precipitações topografia e vegetação.
- (D) Movimento do ar, vegetação, latitude, radiação solar e superfície do solo.
- (E) Latitude, altitude, longitude, umidade do ar, topografia e precipitações.

QUESTÃO 36

Preencha a lacuna e, em seguida, assinale a alternativa correta.

“_____ é um método pelo qual os usuários finais da ergonomia desempenham um papel ativo na identificação e análise dos problemas ergonômicos, assim como na formulação e implementação de suas soluções.”

- (A) Ergonomia consciente
- (B) Ergonomia corretiva
- (C) Ergonomia associativa
- (D) Ergonomia participativa
- (E) Ergonomia conceitual

QUESTÃO 37

Assinale a alternativa correta em relação às condições e meio ambiente de trabalho na indústria da construção.

- (A) São obrigatórios a elaboração e o cumprimento do PCMAT (Programa de Condições e Meio Ambiente de Trabalho) nos estabelecimentos com 100 (cem) trabalhadores ou mais, contemplando os aspectos na NR 18 e outros dispositivos complementares de segurança.
- (B) A construção de alojamento, lavanderia e área de lazer é obrigatória mesmo que não haja trabalhadores alojados.
- (C) Instalação sanitária é o local destinado ao asseio corporal e/ou ao atendimento das necessidades fisiológicas de excreção, sendo proibida a utilização destas para outros fins.
- (D) É permitido cozinhar e aquecer qualquer tipo de refeição dentro do alojamento.
- (E) É dispensado o uso de aventais e gorros para os que trabalham na cozinha.

QUESTÃO 38

Relacione as colunas e assinale a alternativa com a sequência correta.

- A. Estudo da viabilidade de um programa e do partido arquitetônico a ser adotado para sua apreciação e aprovação pelo cliente. Pode servir à consulta prévia para aprovação em órgãos governamentais.
- B. Definição do partido arquitetônico e dos elementos construtivos, considerando os projetos complementares (estrutura, instalações, etc.). Nesta etapa, o projeto deve receber aprovação final do cliente e dos órgãos oficiais envolvidos e possibilitar a contratação da obra.
- C. Apresenta, de forma clara e organizada, todas as informações necessárias à execução da obra e todos os serviços inerentes.
- D. Constitui-se na revisão final, pós-obra, de todos os documentos do projeto executivo.

- Projeto como construído.
- Estudo preliminar.
- Anteprojeto.
- Projeto executivo.

- (A) B – A – C – D.
- (B) A – D – B – C.
- (C) C – B – D – A.
- (D) D – A – B – C.
- (E) A – B – C – D.

QUESTÃO 39

De acordo com a NR 18, Condições e Meio Ambiente de Trabalho na Indústria da Construção, assinale a alternativa correta quanto às instalações sanitárias.

- (A) Devem ter portas de acesso que possibilitem o devassamento e ser construídas de modo a evitar o resguardo conveniente.
- (B) Devem ter paredes de material resistente e lavável, podendo ser de madeira.
- (C) Devem ser ligadas diretamente aos locais destinados às refeições.
- (D) Podem ser conjugadas entre homens e mulheres.
- (E) Dispensam ventilação e iluminação em suas instalações.

QUESTÃO 40

O processo de projeto, como ensinado e conceitualizado nas escolas de arquitetura, inclui um número de passos para resolver os problemas em sequência, segundo Snyder e Catanese. Informe se é verdadeiro (V) ou falso (F) o que se afirma a seguir e assinale a alternativa que apresenta a sequência correta.

- A iniciação é o primeiro passo do processo.
- A preparação é feita antes da avaliação.
- A ação encerra o processo.
- A confecção da proposta é feita após a iniciação e a preparação.

- (A) F – F – V – V.
- (B) V – V – F – F.
- (C) F – V – F – V.
- (D) F – V – V – F.
- (E) V – F – V – V.

QUESTÃO 41

Assinale a alternativa INCORRETA em relação à segurança no trabalho em serviços de demolição.

- (A) Antes de se iniciar a demolição, as linhas de fornecimento de energia elétrica, água, inflamáveis líquidos e gasosos liquefeitos, substâncias tóxicas, canalizações de esgoto e de escoamento de água devem ser desligadas, retiradas, protegidas ou isoladas, respeitando-se as normas e determinações em vigor.
- (B) As construções vizinhas à obra de demolição devem ser examinadas, prévia e periodicamente, no sentido de ser preservada sua estabilidade e a integridade física de terceiros.
- (C) Antes de se iniciar a demolição, devem ser removidos os vidros, ripados, estuques e outros elementos frágeis.
- (D) Objetos pesados ou volumosos devem ser removidos mediante o emprego de dispositivos mecânicos, ficando proibido o lançamento em queda livre de qualquer material.
- (E) As escadas devem ser mantidas interditadas, impedindo a circulação de emergência, sendo os primeiros locais a serem demolidos em cada pavimento.

QUESTÃO 42

A Lei nº 10257/2001 regulamenta os artigos 182 e 183 da Constituição Federal, estabelece diretrizes gerais da política urbana e dá outras providências. Em relação a esta lei, assinale a alternativa correta.

- (A) Considera-se subutilizado o imóvel cujo aproveitamento seja superior ao máximo definido no plano diretor ou em legislação dele decorrente.
- (B) Quando o imóvel é considerado subutilizado, o Município procederá à aplicação do imposto sobre a propriedade predial e territorial urbana (IPTU) progressivo no tempo, mediante a majoração da alíquota pelo prazo de cinquenta anos consecutivos.
- (C) O valor da alíquota a ser aplicado a cada ano não deverá exceder a dez vezes o valor referente ao ano anterior, respeitada a alíquota máxima de oitenta por cento.
- (D) Caso definido pela lei municipal, o empreendimento deverá elaborar um estudo prévio de impacto de vizinhança (EIV) para obter as licenças ou autorizações de construção, ampliação ou funcionamento a cargo do Poder Público municipal. O EIV será executado de

forma a contemplar os efeitos positivos e negativos do empreendimento ou atividade quanto à qualidade de vida da população residente na área e suas proximidades.

- (E) A elaboração do EIV substitui a elaboração e a aprovação de estudo prévio de impacto ambiental (EIA), requeridas nos termos da legislação ambiental.

QUESTÃO 43

De acordo com a Lei nº 12378/2010, que regulamenta o exercício da Arquitetura e Urbanismo e cria o Conselho de Arquitetura e Urbanismo do Brasil - CAU/BR e os Conselhos de Arquitetura e Urbanismo dos Estados e do Distrito Federal – CAUs, assinale a alternativa que **NÃO** apresenta um campo de atuação de arquitetos e urbanistas.

- (A) Arquitetura Paisagística, concepção e execução de projetos para espaços externos, livres e abertos, privados ou públicos, como parques e praças, considerados isoladamente ou em sistemas, dentro de várias escalas, inclusive a territorial.
- (B) Componentes, dispositivos, sistemas e equipamentos como: transistores, circuitos integrados e placas de circuito impresso.
- (C) Patrimônio Histórico Cultural e Artístico, arquitetônico, urbanístico, paisagístico, monumentos, restauro, práticas de projeto e soluções tecnológicas para reutilização, reabilitação, reconstrução, preservação, conservação, restauro e valorização de edificações, conjuntos e cidades.
- (D) Tecnologia e resistência dos materiais, dos elementos e produtos de construção, patologias e recuperações.
- (E) Sistemas construtivos e estruturais, estruturas, desenvolvimento de estruturas e aplicação tecnológica de estruturas.

QUESTÃO 44

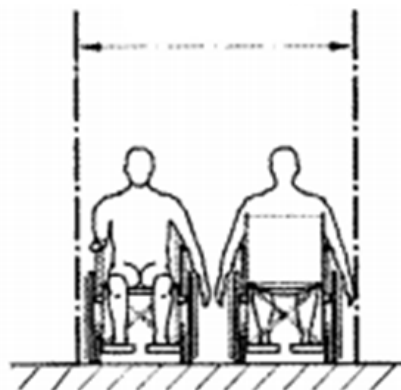
Analise as assertivas que dizem respeito à classificação da crítica dos monumentos e assinale a alternativa que aponta a(s) correta(s).

- I. Análise urbanística é a história dos espaços exteriores em que surge o monumento e que ele contribui para criar.
- II. Análise arquitetônica é a história da concepção espacial, do modo de sentir e viver os espaços interiores.
- III. Análise volumétrica é o estudo da caixa mural que contém o espaço.
- IV. Análise dos elementos decorativos são as relações dimensionais do edifício relativamente ao parâmetro humano.

- (A) Apenas I e II.
- (B) Apenas I, II e III.
- (C) Apenas III e IV.
- (D) Apenas I, II e IV.
- (E) Apenas III.

QUESTÃO 45

Analise a figura a seguir e assinale a alternativa que apresenta as dimensões referenciais para deslocamento em linha reta de duas pessoas em cadeiras de rodas.



- (A) 1,50 a 1,80 metros.
- (B) 1,80 a 2,00 metros.
- (C) 1,20 a 1,50 metros.
- (D) 1,00 a 1,20 metros.
- (E) 2,00 a 2,50 metros.

QUESTÃO 46

Preencha as lacunas e assinale a alternativa com a sequência correta em relação à empunhadura em corrimãos ou barras de apoio, de acordo com a NBR 9050/2004.

“Objetos tais como corrimãos e barras de apoio, entre outros, devem ter seção circular com diâmetro entre ____ cm e ____ cm e devem estar afastados no mínimo ____ cm da parede ou outro obstáculo.”

- (A) 4,0 / 5,0 / 6,0
- (B) 2,5 / 4,0 / 2,0
- (C) 6,0 / 8,0 / 1,0
- (D) 1,0 / 5,0 / 3,0
- (E) 3,0 / 4,5 / 4,0

QUESTÃO 47

Relacione as colunas e, em seguida, assinale a alternativa com a sequência correta.

- A. Planta que compreende o projeto como um todo, contendo, além do projeto de arquitetura, as informações necessárias dos projetos complementares, tais como movimento de terra, arruamento, redes hidráulica, elétrica e de drenagem, entre outros.
- B. Vista superior do plano secante horizontal, localizado a, aproximadamente, 1,50 m do piso em referência. A altura desse plano pode ser variável para cada projeto de maneira a representar todos os elementos considerados necessários.
- C. Planta que compreende o partido arquitetônico como um todo, em seus múltiplos aspectos. Pode conter informações específicas em função do tipo e porte do programa, assim como para a finalidade a que se destina.

- () Planta de situação.
- () Planta de locação.
- () Planta de edificação.

- (A) B – C – A.
- (B) A – B – C.
- (C) C – A – B.
- (D) B – A – C.
- (E) C – B – A.

QUESTÃO 48

Segundo a NBR 6492/1994, Representação de projetos de arquitetura, assinale a alternativa que apresenta as dimensões corretas para as cifras nas cotas e o espaço entre elas e a linha de cota, respectivamente.

- (A) 3,0 mm e 1,5 mm.
- (B) 5,0 mm e 1,0 mm.
- (C) 1,5 mm e 2,0 mm.
- (D) 8,0 mm e 5,0 mm.
- (E) 1,0 mm e 10,0 mm.

QUESTÃO 49

Programa de necessidades é a etapa destinada à determinação das exigências de caráter prescritivo ou de desempenho (necessidades e expectativas dos usuários) a serem satisfeitas pela edificação a ser concebida. Assinale a alternativa que apresenta uma informação de referência para esta etapa.

- (A) Levantamento topográfico e cadastral.
- (B) Estudo de viabilidade de arquitetura.
- (C) Levantamento de dados para arquitetura.
- (D) Anteprojeto de arquitetura.
- (E) Legislação municipal, estadual e federal pertinentes.

QUESTÃO 50

Preencha a lacuna e, em seguida, assinale a alternativa correta.

“A execução de uma fundação em _____ consiste na escavação, manual ou mecânica, de um poço, até encontrar terreno firme e consiste, também, na abertura de uma base alargada nesse terreno a fim de transmitir a carga do pilar através de uma pressão compatível com as características do terreno.”

- (A) estacas moldadas in loco
- (B) sapata corrida
- (C) estacas pré-moldadas de concreto armado
- (D) sapata isolada
- (E) tubulões

QUESTÃO 51

As instalações prediais de água fria devem ser projetadas de modo que, durante a vida útil do edifício que as contém, atendam a alguns requisitos. Assinale a alternativa que NÃO apresenta um dos requisitos.

- (A) Preservar a potabilidade da água.
- (B) Impedir o fornecimento de água de forma contínua, em quantidade adequada e com pressões e velocidades compatíveis com o perfeito funcionamento dos aparelhos sanitários, peças de utilização e demais componentes.
- (C) Evitar níveis de ruído inadequados à ocupação do ambiente.
- (D) Promover economia de água e de energia.
- (E) Possibilitar manutenção fácil e econômica.

QUESTÃO 52

Assinale a alternativa que corresponde ao arquiteto responsável pela revitalização da Praça Oxum, no Terreiro da Casa Branca, em Salvador, Bahia.

- (A) Frank Lloyd Wright.
- (B) Oscar Niemeyer.
- (C) Lúcio Costa.
- (D) Le Corbusier.
- (E) Paulo Mendes da Rocha.

QUESTÃO 53

Arquiteto brasileiro cuja obra arquitetônica caracteriza-se especialmente pela busca da racionalização e da industrialização da arquitetura, responsável pelo projeto do Tribunal Regional Eleitoral, do Mercado Municipal de Paripe, da Igreja do Alagados, entre outros, no estado da Bahia.

- (A) Vilanova Artigas.
- (B) Oscar Niemeyer.
- (C) João Filgueiras Lima.
- (D) Ruy Ohtake.
- (E) Álvaro Siza.

QUESTÃO 54

Teóricos aplicam algumas analogias para explicar a arquitetura. Preencha a lacuna e, em seguida, assinale a alternativa correta.

“As teorias de arquitetura baseadas em _____ tomam duas formas. Uma é bem geral e focaliza as relações entre partes da construção ou entre a construção e seu ambiente. A outra forma de analogia é mais específica, chamada “biomórfica”, focaliza os processos de crescimento e a capacidade de movimento associados a organismos.”

- (A) analogias biológicas
- (B) analogias românticas
- (C) analogias matemáticas
- (D) analogias linguísticas
- (E) analogias realísticas

QUESTÃO 55

Em relação aos itens que os desenhos que fazem parte do estudo preliminar devem conter, informe se é verdadeiro (V) ou falso (F) o que se afirma a seguir e, depois, assinale a alternativa que apresenta a sequência correta.

- () A planta de situação deve conter curvas de nível existentes e projetadas, além de eventual sistema de coordenadas referenciais.
- () Os cortes devem conter a caracterização dos elementos do projeto: fechamentos externos e internos, acessos, circulações verticais e horizontais, áreas de serviço e demais elementos significativos.
- () A planta da edificação deve conter as vias de acesso ao conjunto, arruamento e logradouros adjacentes com os respectivos equipamentos.

- (A) F – V – F.
- (B) F – F – V.
- (C) V – F – V.
- (D) F – V – V.
- (E) V – V – F.

QUESTÃO 56

A crítica, em arquitetura, é o registro das respostas ao meio ambiente construído. A crítica que tem como base uma doutrina, um sistema, um tipo ou uma medida e depende da crença em algo fora do ambiente físico e da decisão de usar isso como padrão para avaliar o projeto de construções e cidades denomina-se

- (A) crítica participativa.
- (B) crítica descritiva.
- (C) crítica colaborativa.
- (D) crítica normativa.
- (E) crítica interpretativa.

QUESTÃO 57

De acordo com Bruno Zevi, ao se entender o espaço como protagonista da arquitetura, é correto afirmar que

- (A) a arquitetura é como uma grande escultura escavada,

cujo interior é impenetrável para o homem.

- (B) a planta de um edifício não é uma projeção abstrata em plano horizontal de todas as suas paredes.
- (C) a planta do edifício é uma realidade que ninguém vê a não ser no papel, cuja única justificativa depende da necessidade de medir, para os operários que devem executar materialmente o trabalho, as distâncias entre os vários elementos da construção.
- (D) as fachadas e as seções longitudinais, interiores e exteriores, servem para medir as larguras.
- (E) os cortes não devem ser utilizados para definir ou medir as alturas interiores.

QUESTÃO 58

Para fins de iluminação natural, conforme sua condição, o céu é classificado como encoberto, claro ou parcialmente nublado. Sobre os níveis de nebulosidade para determinar as condições dominantes para o projeto de iluminação, analise as assertivas e assinale a alternativa que aponta a(s) correta(s).

- I. A luz refletida do solo pode ser uma boa fonte de iluminação natural em situação de céu parcialmente nublado porque ela reflete novamente do teto, que geralmente é de cor mais clara, e penetra mais profundamente no ambiente.
- II. O céu encoberto é três vezes mais brilhante no zênite do que no horizonte e a iluminação é distribuída de forma parelha no horizonte.
- III. A luz solar refletida pelo solo geralmente representa de 10% a 15% da iluminação total que alcança uma janela vertical, embora possa representar mais de 50% quando a janela estiver protegida da radiação solar direta.

- (A) Apenas II e III.
- (B) Apenas I e II.
- (C) Apenas II.
- (D) Apenas I e III.
- (E) Apenas I.

QUESTÃO 59

Segundo Benévolo, em História da Arquitetura Moderna, o ano em que se iniciam as reformas sociais e urbanísticas assinala também o êxito do movimento neogótico na arquitetura. Assinale a alternativa que apresenta este ano.

- (A) 1520.
- (B) 1280.
- (C) 1950.
- (D) 1830.
- (E) 1760.

QUESTÃO 60

Informe se é verdadeiro (V) ou falso (F) o que se afirma a seguir em relação ao primeiro programa da Bauhaus, publicado em 1919, e, depois, assinale a alternativa que apresenta a sequência correta.

- () Curso preliminar de seis meses, no qual o aluno adquire confiança com os materiais e com alguns problemas formais simples.
- () Ensino trienal, em parte técnico e em partes formal. Após os três anos, o aluno pode obter o diploma de artesão.
- () Curso de aperfeiçoamento, de duração variável, baseado no projeto arquitetônico e no trabalho prático nos laboratórios da escola, e ao final do qual o aluno pode obter, com um exame, o diploma de mestre em artes.

- (A) F – F – V.
- (B) F – F – F.
- (C) V – V – V.
- (D) V – V – F.
- (E) F – V – V.

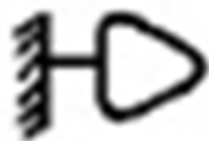
QUESTÃO 61

De acordo com a NBR 5626/1998, assinale a alternativa que corresponde ao componente destinado ao uso da água ou ao recebimento de dejetos líquidos e sólidos, e que na maioria das vezes, pertence à instalação predial de esgoto sanitário.

- (A) Aparelho sanitário.
- (B) Alimentador predial.
- (C) Barrilete.
- (D) Fonte de abastecimento.
- (E) Coluna de distribuição.

QUESTÃO 62

Assinale a alternativa que corresponde à figura a seguir, de acordo com a NBR 5444/1989.



- (A) Saída para telefone interno na parede.
- (B) Tomada para rádio e televisão.
- (C) Campainha.
- (D) Tomada de luz na parede, baixo (300 mm do piso acabado).
- (E) Ponto de luz fluorescente na parede.

QUESTÃO 63

Os orçamentos podem ser classificados quanto à sua finalidade. Sobre o assunto, relacione as colunas e assinale a alternativa com a sequência correta.

- A. Embasam decisões empresariais sobre o que deve ser construído, em função da disponibilidade de recursos e oportunidade.
 - B. Embasam julgamentos, decisões sobre pendências ou solucionam dúvidas a respeito dos custos de execução, envolvendo ou não condições, técnicas e/ou métodos diferentes.
 - C. Feito o mais detalhado possível e usado para financiamento de crédito.
- () Orçamento Pericial.
 - () Orçamento Gerencial.
 - () Orçamento para Construção.

- (A) C – B – A.
- (B) A – C – B.
- (C) B – C – A.
- (D) C – A – B.
- (E) B – A – C.

QUESTÃO 64

“Industrialização da Construção é um processo evolutivo que, através de ações organizacionais e da implementação de inovações tecnológicas, métodos de trabalho e técnicas de planejamento e controle, objetiva incrementar a produtividade e o nível de produção e aprimorar o desempenho da atividade construtiva”. Assinale a alternativa INCORRETA quanto às características deste processo organizacional.

- (A) Continuidade no fluxo de produção.
- (B) Baixo nível de organização do trabalho.
- (C) Mecanização em substituição ao trabalho manual, sempre que possível.
- (D) Pesquisa e experimentação organizada, integradas à produção.
- (E) Integração dos diferentes estágios do processo global de produção.

DISCURSIVA

1. A prova discursiva será avaliada considerando-se os seguintes aspectos:

- a) o conhecimento técnico-científico sobre a matéria;
- b) o atendimento ao tema proposto na questão;
- c) a clareza de argumentação/senso crítico;
- d) a seletividade de informação;
- e) a criatividade/originalidade;
- f) a utilização adequada da Língua Portuguesa.

2. O candidato terá sua prova discursiva avaliada com nota 0 (zero):

- a) em casos de não atendimento ao conteúdo avaliado e ao tema proposto, de manuscruver em letra ilegível ou de grafar por outro meio que não o determinado no Edital 198/2013;
- b) apresentar acentuada desestruturação na organização textual ou atentar contra o pudor;
- c) redigir seu texto a lápis ou a tinta em cor diferente de azul ou preta;
- d) não apresentar as questões redigidas na Folha da Versão Definitiva ou entregar em branco;
- e) apresentar identificação, em local indevido, de qualquer natureza (nome parcial, nome completo, outro nome qualquer, número(s), letra(s), sinais, desenhos ou códigos).

3. O candidato disporá de, no máximo, 15 (quinze) linhas para elaborar a resposta de cada questão da prova discursiva, sendo desconsiderado para efeito de avaliação qualquer fragmento de texto que for escrito fora do local apropriado ou que ultrapassar a extensão de 15 (quinze) linhas permitidas para a elaboração de seu texto.

QUESTÃO 01

A arquitetura moderna passou a ser o estilo dominante no início do século XX. No Brasil, o início dos anos 30 marca o conflito entre o neocolonial, estilo dominante na arquitetura brasileira da época e o Modernismo, que começava a ganhar espaço. Discorra sobre as características deste estilo arquitetônico, Modernismo, e cite as principais obras modernistas do Brasil.

1 _____

2 _____

3 _____

4 _____

5 _____

6 _____

7 _____

8 _____

9 _____

10 _____

11 _____

12 _____

13 _____

14 _____

15 _____

-----(destaque aqui)-----

FOLHA PARA ANOTAÇÃO DAS RESPOSTAS DO CANDIDATO

Questão	01	02	03	04	05	06	07	08	09	10	11	12	13	14	15	16	17	18	19	20	21	22	
Resp.																							

Questão	23	24	25	26	27	28	29	30	31	32	33	34	35	36	37	38	39	40	41	42	43	
Resp.																						

Questão	44	45	46	47	48	49	50	51	52	53	54	55	56	57	58	59	60	61	62	63	64	
Resp.																						

O gabarito oficial preliminar e o caderno de questões da prova objetiva estarão disponíveis no endereço eletrônico www.institutoaocp.org.br no dia seguinte à aplicação da prova.