

INSTITUTO FEDERAL DE  
EDUCAÇÃO, CIÊNCIA E TECNOLOGIA  
RORAIMA

## CONCURSO PÚBLICO para o cargo de Assistente de Alunos

PROVA  
**CO4 - P**  
TARDE

**ATENÇÃO:**  
Verifique se o tipo de prova deste caderno de questões confere com o seu cartão de respostas.



**TRANSCREVA, EM ESPAÇO DETERMINADO NO SEU CARTÃO DE RESPOSTAS,  
A FRASE DO FILÓSOFO CONFÚCIO PARA EXAME GRAFOTÉCNICO**

**"Se não sabes, aprende; se já sabes, ensina."**

### ATENÇÃO

● DURAÇÃO DA PROVA: 4 horas.

● ESTE CADERNO CONTÉM 40 (QUARENTA) QUESTÕES DE MÚLTIPLA ESCOLHA, CADA UMA COM 5 ALTERNATIVAS DE RESPOSTA – A, B, C, D e E – CONFORME DISPOSIÇÃO ABAIXO:

Disciplinas	Quantidade de questões	Valor de cada questão
Língua Portuguesa	15	3
Matemática	10	1
Legislação e Ética na Administração Pública	15	3

● VERIFIQUE SE ESTE MATERIAL ESTÁ EM ORDEM, CASO CONTRÁRIO, NOTIFIQUE IMEDIATAMENTE O FISCAL.

● RESERVE OS 30 (TRINTA) MINUTOS FINAIS PARA MARCAR SEU CARTÃO DE RESPOSTAS.

### LEIA AS INSTRUÇÕES ABAIXO

- Após identificado e instalado na sala, você não poderá consultar qualquer material, enquanto aguarda o horário de início da prova.
- Siga, atentamente, a forma correta de preenchimento do Cartão de Respostas, conforme estabelecido no próprio.
- Não haverá substituição do Cartão de Respostas por erro do candidato.

#### **Por motivo de segurança:**

- O candidato só poderá retirar-se definitivamente da sala após 1 (uma) hora do início efetivo da prova;
- Somente faltando 1 (uma) hora para o término da prova, o candidato poderá retirar-se levando o seu Caderno de Questões;
- O candidato que optar por se retirar sem levar o seu Caderno de Questões, não poderá copiar suas respostas por qualquer meio. O descumprimento dessa determinação será registrado em ata e acarretará a eliminação do candidato; e
- Ao terminar a prova, o candidato deverá retirar-se imediatamente do local, não sendo possível nem mesmo a utilização dos banheiros e/ou bebedouros.
- Ao terminar a prova, é de sua responsabilidade entregar ao fiscal o Cartão de Respostas assinado. Não se esqueça dos seus pertences.
- Os três últimos candidatos deverão permanecer na sala até que o último candidato entregue o Cartão de Respostas.
- O fiscal de sala não está autorizado a alterar quaisquer destas instruções. Em caso de dúvida, solicite a presença do coordenador local.

**BOA PROVA!**

[www.funcab.org](http://www.funcab.org)

Leia o texto abaixo e responda às questões propostas.

### Sabores

Nunca me esqueci da tarde em que, voltando da escola acompanhado pela empregada lá de casa... bem, naquele tempo politicamente incorreto, a gente chamava de “empregada”. Eu sei que, hoje, costuma-se chamar de funcionária, secretária, ajudante, amiga, auxiliar... Mas, como estou falando de antigamente, mantereí o termo da ocasião. Pois voltava da escola com a empregada, ela entrou numa padaria para comprar leite e me perguntou:

– Quer comprar um sonho?

Sonhos não se recusam. Mas também não são oferecidos. Estranhei. Ela insistiu e me apontou o sonho a que se referia. Vi, pela primeira vez na vida, aquele doce, em forma de almofada, soltando creme para todos os lados. Aceitei e, na primeira mordida, percebi que tinha um sabor que eu nunca havia experimentado. E era delicioso. Foi dos melhores prazeres gastronômicos a que já tive acesso. Até hoje procuro pelo sonho de padaria perfeito. Mas nunca mais o encontrei.

Nas férias de verão, sempre passadas no Rio, meu irmão costumava me levar para jantar na casa da tia Maria Caldas. tia Maria Caldas – ela sempre foi chamada assim, com nome e sobrenome – era a solteirona da família. Morou a vida inteira num conjugado na Avenida Copacabana. Tinha cozinha mínima. Mas aparentava gostar de cozinhar para meu irmão e eu. Num desses jantares, não me lembro do prato principal, mas lembro-me muito bem de um dos acompanhamentos: ovos mexidos. Ovo não era um alimento muito popular lá em casa. Não era inteiramente rejeitado, como a cebola e o alho, que nunca fizeram parte do cardápio. Mas era ocasional. E em outras formas, como a do ovo cozido ou a do ovo frito. Mexidos, eu nunca tinha visto. Eu não gostava muito de ovos, por isso fiz cara feia quando a tia Maria Caldas estava preparando aqueles. Mas, desde a primeira garfada, foi amor à primeira vista. Tento repetir aquela experiência. Faço ovos com bacon, com presunto, com ervas, ponho leite para ficarem macios, ponho água para ficarem mais leves... Mas nunca mais comi ovos mexidos tão gostosos quanto os da tia Maria Caldas.

Minha primeiríssima viagem internacional foi a Buenos Aires. Ainda era universitário, tempos de dureza, e, na Argentina, me submeti a uma dieta de massas num dos restaurantes mais populares da cidade, o baratíssimo Pippo. Mas uma noite, eu e o grupo que me acompanhava cometemos uma extravagância e fomos jantar num restaurante que tinham me recomendado: El Palacio de La Papas Fritas. Na verdade, assim como o Pipo, o El Palacio era uma rede de restaurantes. Também era popular,

mas com um cardápio com preços um pouco acima do outro. E usava toalhas de mesa, diferentemente do Pipo que preferia cobrir as mesas com papel de pão. A ideia era comer carne, mas o que me surpreendeu foi o acompanhamento, as tais papas fritas. Em forma de pequenas almofadas – devo ter alguma obsessão gastronômica por almofadas –, as batatas, fritas no ponto exato, estouravam na boca espalhando seu sabor. Voltei muitas vezes a Buenos Aires. Nunca deixei de ir ao El Palacio em busca daquele gosto. Mas nunca mais o encontrei.

Resumo da ópera: os melhores sabores são os da primeira vez.

(XEXÉO. Artur. Revista O Globo. 01/09/2013.)

#### Questão 01

No primeiro parágrafo do texto, o autor interrompe a narrativa para fazer uma reflexão. Essa reflexão se refere:

- A) ao motivo pelo qual o autor escolheu como título uma única palavra – Sabores.
- B) ao tempo da escola cujas memórias não correspondem ao ideal de uma infância feliz.
- C) aos sonhos de sua infância que serão contados nos parágrafos seguintes.
- D) ao termo “empregada”, considerado politicamente incorreto nos dias de hoje.
- E) às lembranças das férias na infância, quando a comida era feita especialmente para as crianças.

#### Questão 02

A alternativa que melhor justifica o título do texto Sabores, de acordo com a leitura global do texto é:

- A) o autor narra diferentes situações em que experimentou um determinado tipo de alimento pela primeira vez.
- B) o sonho faz parte do universo infantil, proporcionando diferentes sabores ao realizá-los.
- C) as recordações da infância representam um sabor inigualável em relação à vida adulta.
- D) as diversas viagens que fazemos ao longo de nossa vida são prazeres que merecem ser contabilizados.
- E) o hábito de comer o mesmo tipo de comida desfavorece o prazer de se conhecer sabores diferentes.

Questão 03

A palavra MAS, que introduz o período “[...] Mas nunca mais comi ovos mexidos tão gostosos quanto os da tia Maria Caldas.”, no quarto parágrafo, exprime uma ideia de:

- A) adição.
- B) alternância.
- C) explicação.
- D) oposição.
- E) conclusão.

Questão 04

A palavra OCASIONAL, empregada no quarto parágrafo, “[...] Mas era ocasional.[...]” pode ser substituída por outra de mesmo sentido que o empregado no texto em:

- A) eventual.
- B) frequente.
- C) original.
- D) contínuo.
- E) rotineiro.

Questão 05

A alternativa que justifica corretamente o uso de travessões ( – ) no trecho “[...] tia Maria Caldas – ela sempre foi chamada assim, com nome e sobrenome – era a solteirona da família. [...]” (parágrafo 4), é:

- A) introduz um discurso direto de um personagem do texto.
- B) assinala um comentário do autor sobre o elemento citado anteriormente.
- C) destaca um novo assunto que será desenvolvido; apresenta uma enumeração de itens.
- D) marca a citação de um novo personagem do texto.
- E) divide o fato narrado em dois momentos distintos.

Questão 06

O adjetivo GOSTOSOS em “Mas nunca mais comi ovos mexidos tão gostosos quanto os da tia Maria Caldas.” (parágrafo 4) está empregado no grau:

- A) superlativo relativo de superioridade.
- B) comparativo de inferioridade.
- C) superlativo absoluto analítico.
- D) comparativo de igualdade.
- E) comparativo de superioridade.

Questão 07

Observe a regência do verbo ESQUECER empregada no primeiro parágrafo do texto “Nunca me esqueci da tarde em que, voltando da escola acompanhado pela empregada lá de casa [...]” A opção em que o verbo destacado está corretamente empregado quanto à regência, considerando a norma culta da língua é:

- A) Preferíamos mais ovos mexidos do que cozidos, sem graça, que minha mãe fazia.
- B) Quando cheguei a casa, minha tia me esperava com uma comida caseira e fresquinha.
- C) Íamos sempre na casa da minha tia para comer aquela comidinha fresquinha.
- D) Depois daquele dia, passamos a lembrar da tia com muita alegria.
- E) Sempre obedecíamos minha tia; afinal, ela fazia todos os nossos pratos prediletos.

Questão 08

No texto Sabores, predomina a:

- A) descrição.
- B) narração.
- C) dissertação.
- D) argumentação.
- E) prescrição.

Questão 09

Assinale a alternativa em que o termo destacado apresenta o mesmo valor circunstancial que NAS FÉRIAS DE VERÃO, no trecho “Nas férias de verão, sempre passadas no Rio, meu irmão costumava me levar para jantar na casa da tia Maria Caldas.” (parágrafo 4):

- A) “Minha primeiríssima viagem internacional foi ABUENOSAIRES [...]” (parágrafo 5)
- B) Mas, DESDE A PRIMEIRA GARFADA, foi amor à primeira vista” (parágrafo 4)
- C) Vi, PELA PRIMEIRA VEZ NA VIDA, aquele doce, em forma de almofada, soltando creme para todos os lados [...]” (parágrafo 3)
- D) “[...] as batatas, fritas NO PONTO EXATO, estouravam na boca espalhando seu sabor [...]” (parágrafo 5)
- E) “[...] Mas NUNCA MAIS o encontrei.” (parágrafo 5)

Questão 10

No período “[...] A ideia era comer carne, mas o que me surpreendeu foi o acompanhamento, AS TAIS PAPAS FRITAS [...]” (parágrafo 5), o termo destacado desempenha a seguinte função sintática:

- A) sujeito.
- B) objeto direto.
- C) complemento nominal.
- D) aposto.
- E) adjunto adnominal.

Questão 11

A alternativa em que o verbo destacado DESTOA dos demais quanto à flexão de modo e tempo é:

- A) “[...] ela ENTROU numa padaria para comprar leite e me perguntou: [...]” (parágrafo 1).
- B) “[...] VI, pela primeira vez na vida, aquele doce, em forma de almofada, soltando creme para todos os lados [...]” (parágrafo 3).
- C) “[...] Mas APARENTAVA gostar de cozinhar para meu irmão e eu [...]” (parágrafo 4).
- D) “[...] MOROU a vida inteira num conjugado na Avenida Copacabana [...]” (parágrafo 4).
- E) “[...] Nunca DEIXEI de ir ao El Palacio em busca daquele gosto [...]” (parágrafo 5).

Questão 12

A palavra QUE, no período “[...] Aceitei e, na primeira mordida, percebi que tinha um sabor que eu nunca havia experimentado [...]” (parágrafo 3), tem o mesmo papel na relação entre as orações que aquele destacado na alternativa:

- A) “[...] Ela insistiu e me apontou o sonho a QUE se referia [...]” (parágrafo 3).
- B) “[...] Eu sei QUE, hoje, costuma-se chamar de funcionária, secretária, ajudante, amiga, auxiliar [...]” (parágrafo 1).
- C) “[...] Mas uma noite, eu e o grupo QUE me acompanhava cometemos uma extravagância [...]” (parágrafo 5).
- D) “[...] E usava toalhas de mesa, diferentemente do Pipo QUE preferia cobrir as mesas com papel de pão [...]” (parágrafo 5).
- E) “[...] Foi dos melhores prazeres gastronômicos a QUE já tive acesso [...]” (parágrafo 3).

Questão 13

Observe o emprego do verbo SER no último parágrafo do texto: “Resumo da ópera: os melhores sabores são os da primeira vez.” Está corretamente empregado o verbo destacado, de acordo com as regras de concordância da norma culta da língua, na alternativa:

- A) Dois bifes SÃO muito pouco para me satisfazer.
- B) Já É três horas da tarde; melhor fazermos um lanche apenas.
- C) Aquele balcão cheio de guloseimas ERAM um prato cheio para os olhos infantis.
- D) Daqui até a padaria SERIA vinte metros, uma eternidade para alcançar o sonho!
- E) Minhas fantasias, guloseimas, tudo ERAM os sabores na minha vida.

Questão 14

A letra X é empregada em diversos vocábulos da Língua Portuguesa com sons diferentes, como em “MEXIDOS, eu nunca tinha visto.”, e em “Tento repetir aquela EXPERIÊNCIA.”, no quarto parágrafo. Assinale a opção em que ambos os vocábulos devem ser registrados com a letra X:

- A) borra\_\_eiro / ê\_\_ito.
- B) ê\_\_tase / a\_\_pereza.
- C) en\_\_uto / e\_\_ímio.
- D) fe\_\_adura / en\_\_arcado.
- E) en\_\_ente / en\_\_ame.

Questão 15

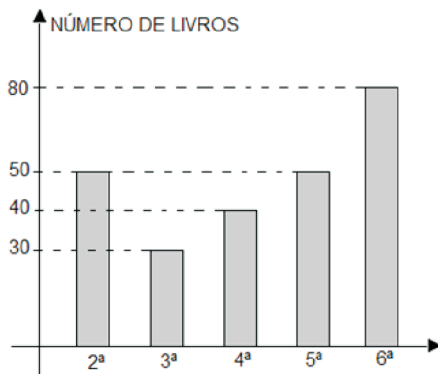
Os pronomes são palavras que, dentre outros papéis, substituem e/ou se referem a um termo anteriormente expresso. Nos períodos abaixo, o pronome destacado está se referindo, corretamente, ao seguinte termo expresso entre parênteses, na opção:

- A) “[...] Pois voltava da escola com a empregada, ELA entrou numa padaria para comprar leite e me perguntou: [...]” (parágrafo 1) (ESCOLA).
- B) “[...] Até hoje procuro pelo sonho de padaria perfeito. Mas nunca mais O encontrei.” (parágrafo 3) (SONHO).
- C) “[...] Mas nunca mais comi ovos mexidos tão gostosos quanto OS da tia Maria Caldas [...]” (parágrafo 4) (GOSTOSOS).
- D) “[...] A ideia era comer carne, mas o QUE me surpreendeu foi o acompanhamento, as tais papas fritas [...]” (parágrafo 5) (CARNE).
- E) “[...] Não era inteiramente rejeitado, como a cebola e o alho, QUE nunca fizeram parte do cardápio [...]” (parágrafo 4) (CARDÁPIO).

MATEMÁTICA

Questão 16

O gráfico a seguir representa o número de livros emprestados numa biblioteca de 2ª a 6ª feira.



De acordo com o gráfico, a média diária, do número de livros emprestados por essa biblioteca, é:

- A) 35
- B) 40
- C) 50
- D) 60
- E) 65

Questão 17

Quatro amigos investiram suas economias no sistema de juros simples, de acordo com a tabela a seguir:

	Capital inicial	Taxa de juros mensais	Período de capitalização
Marcos	R\$2.000,00	5%	6 meses
Nonato	R\$1.500,00	4%	10 meses
Rodrigo	R\$2.500,00	6%	8 meses
Sílvio	R\$3.000,00	3%	5 meses

De acordo com a tabela anterior, os valores dos juros recebidos por Nonato e Rodrigo, depois do período de capitalização, foram respectivamente:

- A) R\$ 600,00 e R\$ 600,00
- B) R\$ 600,00 e R\$ 1.200,00
- C) R\$ 600,00 e R\$ 450,00
- D) R\$ 450,00 e R\$ 1.200,00
- E) R\$ 1.200,00 e R\$ 1.200,00

Questão 18

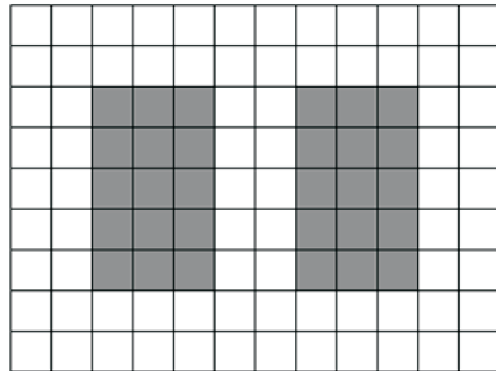
Em uma região será plantado café, milho e mandioca. Sendo  $\frac{1}{3}$  desta região com plantações de café,  $\frac{1}{4}$  do restante com plantações de milho, e os 4,5 km<sup>2</sup> que restam com plantações de mandioca.

A área dessa região, ocupada pela plantação de café será:

- A) 6,0 km<sup>2</sup>
- B) 4,5 km<sup>2</sup>
- C) 3,0 km<sup>2</sup>
- D) 2,5 km<sup>2</sup>
- E) 1,5 km<sup>2</sup>

Questão 19

Os canteiros de uma horta foram desenhados numa região quadriculada a seguir.



O percentual da região quadriculada, ocupada pelos dois canteiros, é de, aproximadamente:

- A) 18,8%
- B) 20,7%
- C) 27,8%
- D) 32,3%
- E) 35,4%

Questão 20

Um fazendeiro comprou máquinas agrícolas por R\$ 625.000,00 incluindo 25% das despesas com transporte e montagem. O valor das máquinas agrícolas sem as despesas seria:

- A) R\$ 425.000,00
- B) R\$ 468.750,00
- C) R\$ 475.000,00
- D) R\$ 500.000,00
- E) R\$ 550.000,00

Questão 21

A produção diária de suco de uma empresa pode ser embalada em recipientes com 500 mL ou 750 mL. Para embalar toda a produção diária nos recipientes de 500 mL serão utilizados 1.800 recipientes.

O número total de recipientes de 750 mL para embalar a mesma produção, é:

- A) 1050
- B) 1100
- C) 1150
- D) 1200
- E) 1250

Questão 22

A tabela a seguir mostra os produtos e valores de uma compra realizada por Carlos, que gastou um total de R\$ 557,50.

Produtos	Valor unitário	Quantidade
Calças	R\$ 75,00	02
Camisas	R\$ 25,80	05
Bermudas	X	03
Sapatos	R\$ 87,50	02

O valor de cada bermuda foi:

- A) R\$ 33,75
- B) R\$ 34,50
- C) R\$ 35,50
- D) R\$ 38,45
- E) R\$ 40,50

Questão 23

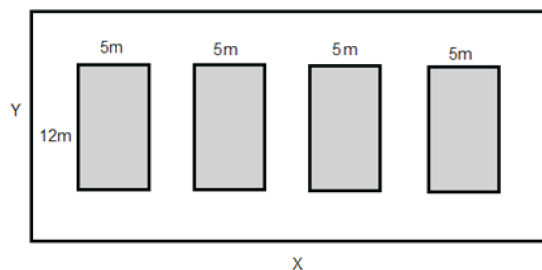
Paulo andou a terça parte do dobro da quarta parte de uma ponte de madeira e ainda faltaram 30 m para percorrer, até a outra margem do rio.

O comprimento total da ponte, em metros, é:

- A) 36
- B) 39
- C) 42
- D) 45
- E) 48

Enunciado para as questões 24 e 25.

Em um terreno com X metros de comprimento e Y metros de largura serão construídos quatro tanques distantes 2 metros entre si e das margens do terreno, com 12 metros de comprimento, 5 metros de largura e 1,5 metros de altura, como mostra a figura a seguir.



Questão 24

De acordo com o enunciado, o volume, em metros cúbicos, para encher completamente os quatro tanques, é:

- A) 60
- B) 90
- C) 180
- D) 360
- E) 400

Questão 25

A área total do terreno, da figura anterior, em metros quadrados, é:

- A) 480
- B) 450
- C) 416
- D) 360
- E) 320

## LEGISLAÇÃO E ÉTICA NA ADMINISTRAÇÃO PÚBLICA

### Questão 26

Nos termos do artigo 2º da Constituição da República Federativa do Brasil, é correto afirmar que:

- A) os poderes da União são dependentes e harmônicos entre si.
- B) o poder da União se concentra nas forças armadas, que se dividem em Exército, Marinha e Aeronáutica.
- C) o único poder da União é o Poder Executivo, representado pelo Presidente da República.
- D) são poderes da União: Executivo, Legislativo e Judiciário.
- E) são poderes da União: a Presidência da República, o Senado Federal e o Tribunal de Contas da União.

### Questão 27

Nos termos da Constituição Federal de 1988, somente brasileiro nato pode ocupar o seguinte cargo:

- A) Deputado Federal.
- B) Deputado Estadual.
- C) Ministro de Estado de Defesa.
- D) Vereador.
- E) Prefeito.

### Questão 28

A casa é asilo inviolável do indivíduo, segundo a Constituição Federal. A partir dessa afirmativa, assinale a alternativa correta.

- A) Por se tratar de asilo inviolável, a casa não pode ser adentrada em hipótese alguma.
- B) Em caso de flagrante delito, a casa pode ser adentrada com o consentimento do morador.
- C) A casa pode ser adentrada, por determinação judicial, inclusive durante o período noturno.
- D) Em caso de desastre, a casa pode ser adentrada com o consentimento do morador.
- E) Para prestar socorro, a casa pode ser adentrada sem o consentimento do morador.

### Questão 29

Assinale a alternativa que contenha um direito social, previsto no artigo 6º da Constituição Federal.

- A) Igualdade entre homens e mulheres.
- B) Proteção à maternidade.
- C) Liberdade de manifestação de pensamento.
- D) Liberdade de expressão da atividade intelectual.
- E) Direito de propriedade.

### Questão 30

Pedro, desde criança, sonha em se tornar Presidente da República. Para que Pedro possa se candidatar a Presidente da República, sua idade mínima deverá ser:

- A) 18 (dezoito) anos.
- B) 21 (vinte e um) anos.
- C) 25 (vinte e cinco) anos.
- D) 30 (trinta) anos.
- E) 35 (trinta e cinco) anos.

### Questão 31

Nos termos do artigo 37 da Constituição Federal, assinale a alternativa correta.

- A) É vedada a vinculação ou equiparação de quaisquer espécies remuneratórias para efeito de remuneração de pessoal do serviço público.
- B) O prazo de validade do concurso público será de até um ano, prorrogável uma vez, por igual período.
- C) É vedada a acumulação remunerada de cargos públicos em qualquer hipótese.
- D) É garantido ao servidor público militar o direito à livre associação sindical.
- E) Não é garantido o direito de greve ao servidor público civil.

### Questão 32

Nos termos do artigo 41 da Constituição Federal de 1988, os servidores nomeados para cargo de provimento efetivo, em virtude de concurso público, passam a ter estabilidade após quantos anos de concreto exercício?

- A) 1 (um).
- B) 2 (dois).
- C) 3 (três).
- D) 4 (quatro).
- E) 5 (cinco).

Questão 33

Nos termos do artigo 2º da Lei nº 8.112/1990, servidor público é:

- A) o cidadão aprovado em concurso público.
- B) a pessoa investida em emprego público.
- C) o brasileiro nato que exerce cargo em comissão.
- D) a pessoa legalmente investida em cargo público.
- E) o cidadão eleito para cargo político.

Questão 34

Assinale a alternativa que contenha um dos requisitos básicos para a investidura em cargo público.

- A) Ser brasileiro nato.
- B) Estar quite com as obrigações militares e eleitorais.
- C) Aptidão mental, mas não física, exceto nos casos em que o cargo exigir.
- D) Idade mínima de 21 (vinte e um) anos.
- E) Idade mínima de 16 (dezesesseis) anos.

Questão 35

Qual é o prazo para posse do servidor público, contado da publicação do ato de provimento, nos termos do artigo 13 da Lei nº 8.112/1990?

- A) 5 (cinco) dias.
- B) 10 (dez) dias.
- C) 15 (quinze) dias.
- D) 20 (vinte) dias.
- E) 30 (trinta) dias.

Questão 36

Uma vez empossado no cargo, qual o prazo para que o servidor público entre em exercício?

- A) 5 (cinco) dias.
- B) 10 (dez) dias.
- C) 15 (quinze) dias.
- D) 20 (vinte) dias.
- E) 30 (trinta) dias.

Questão 37

Assinale a alternativa que contenha um dos fatores considerados na avaliação do servidor público no desempenho do cargo, durante o estágio probatório, nos termos do artigo 20 da Lei nº 8.112/1990.

- A) Assiduidade
- B) Relação interpessoal
- C) Sexo
- D) Idade
- E) Estado civil

Questão 38

Carlos, servidor público do Instituto Federal de Educação, Ciência e Tecnologia de Roraima, após acidente automobilístico, sofreu limitação na sua capacidade física e, por esse motivo, foi investido em cargo de atribuições e responsabilidades compatíveis com tal limitação. Qual a denominação dada ao provimento de cargo público ocorrido nesta situação, após a limitação da capacidade física de Carlos?

- A) Reversão.
- B) Recondução.
- C) Reintegração.
- D) Readaptação.
- E) Remoção.

Questão 39

Em relação ao vencimento, provento e a remuneração do servidor público, nos termos da Lei nº 8.112/1990, é correto afirmar que:

- A) em hipótese alguma haverá desconto sobre a remuneração ou provento.
- B) não será concedida ajuda de custo ao servidor que se afastar do cargo, ou reassumi-lo, em virtude de mandato eletivo.
- C) o vencimento do cargo efetivo, acrescido das vantagens de caráter permanente, pode sofrer reduções, nos termos da lei.
- D) as indenizações se incorporam ao vencimento ou provento para qualquer efeito.
- E) as gratificações e os adicionais não se incorporam ao vencimento ou provento para qualquer efeito.



Questão 40

Nos termos do artigo 59 da Lei nº 8.112/1990, o servidor público que receber diárias e não se afastar da sede, por qualquer motivo, fica obrigado a restituí-las integralmente, no prazo de:

- A) 5 (cinco) dias.
- B) 10 (dez) dias.
- C) 15 (quinze) dias.
- D) 20 (vinte) dias.
- E) 30 (trinta) dias.