

Código

111



Data e horário

Domingo

24/11/2013

14 horas

(Horário Oficial de Brasília)


INSTRUÇÕES

- Você receberá do fiscal
 - um **caderno de questões** das **provas objetiva e discursiva** contendo 50 (cinquenta) questões de múltipla escolha, com 5 (cinco) alternativas de resposta cada uma, e apenas uma alternativa correta, e 1 (uma) questão discursiva;
 - um **cartão de respostas** ótico personalizado; e
 - uma **folha de respostas da prova discursiva**.
- Verifique se a numeração das questões, a paginação do **caderno de questões** e as codificações do **cartão de respostas** ótico e da **folha de respostas da prova discursiva** estão corretas.
- Quando autorizado pelo **fiscal do IADES**, no momento da identificação, escreva no espaço apropriado do **cartão de respostas**, com a sua caligrafia usual, a seguinte frase:

Educação, arma poderosa.

- Você dispõe de 4 (quatro) horas para fazer as **provas objetiva e discursiva**, devendo controlar o tempo, pois não haverá prorrogação desse prazo. Esse tempo inclui a marcação do **cartão de respostas** ótico e o preenchimento da **folha de respostas da prova discursiva**.
- Somente será permitido levar o **caderno de questões** após 3 (três) horas e 30 (trinta) minutos do início das provas.
- Somente após decorrida 1 (uma) hora do início das provas, você poderá entregar seu **cartão de respostas** ótico e a **folha de respostas da prova discursiva** e retirar-se da sala.
- Após o término da prova, entregue ao fiscal do **IADES** o **cartão de respostas** e a **folha de respostas da prova discursiva** devidamente assinados.
- Deixe sobre a carteira apenas o documento de identidade e a **caneta esferográfica de tinta preta ou azul, fabricada de material transparente**.
- Não é permitida a utilização de qualquer aparelho eletrônico de comunicação. Desligue e guarde em embalagem fornecida pelo fiscal do **IADES**: máquina fotográfica; telefone celular; relógio; gravador; *bip*; receptor; *pager*; *notebook*; *tablet* eletrônico; *walkman*; aparelho portátil de armazenamento e de reprodução de músicas, vídeos e outros arquivos digitais; agenda eletrônica; *palmtop*; régua de cálculo; máquina de calcular e (ou) qualquer outro equipamento similar.
- Não é permitida a consulta a livros, dicionários, apontamentos e apostilas.
- Você somente poderá sair e retornar à sala de aplicação de provas na companhia de um **fiscal do IADES**.
- Não será permitida a utilização de lápis em nenhuma etapa da prova.

INSTRUÇÕES PARA AS PROVAS OBJETIVA E DISCURSIVA

- Verifique se os seus dados estão corretos no **cartão de respostas da prova objetiva** e na **folha de respostas da prova discursiva**. Caso haja algum dado incorreto, escreva apenas no(s) campo(s) a ser(em) corrigido(s), conforme instruções no **cartão de respostas**.
- Leia atentamente cada questão e assinale, no **cartão de respostas** ótico, uma única alternativa.
- O **cartão de respostas** ótico e a **folha de respostas da prova discursiva** não podem ser dobrados, amassados, rasurados ou manchados nem podem conter nenhum registro fora dos locais destinados às respostas.
- A maneira correta de assinalar a alternativa no **cartão de respostas** é cobrir, fortemente, com **caneta esferográfica preta ou azul**, o espaço a ela correspondente. Marque as respostas assim: 

PROVA PARA O(S) SEGUINTE(S) EMPREGO(S) (Código 111):

CAU-BR: Analista de Controladoria.

Realização:



Texto 1 para responder as questões de 1 a 4.

O olhar estrangeiro

1 Sempre que um livro de arquitetura me cai às mãos,
a primeira coisa que procuro é saber se Brasília ou os
arquitetos que a construíram estão nele. Quando o livro é de
4 autor estrangeiro, então, essa busca se torna ainda mais
ansiosa. É um modo de cotejar meu olhar com o olhar
estrangeiro.

7 Do recém-lançado *O futuro da arquitetura desde
1889*, de Jean-Louis Cohen, esmerada edição da CosacNaify,
com revisão técnica da professora Sylvia Ficher, da UnB, o
10 que mais me chamou a atenção foi o título do capítulo
destinado à produção brasileira: “O planeta Brasil”. Perfeito.
Em matéria de arquitetura e urbanismo modernos, somos
13 mesmo um universo singular. As obras surgidas a partir da
década de 1940 “abriu novos horizontes para os arquitetos
europeus e americanos, bem como para aqueles que
16 trabalhavam na África e no Oriente Médio”.

O fascínio das formas da arquitetura moderna
brasileira, escreveu o autor, “residia em sua fluência e
19 elegância, mas também em sua ousadia técnica, que dava
extrema leveza às mais complexas estruturas, possíveis
graças à articulação das duas técnicas desenvolvidas para o
22 uso do concreto armado: a ossatura e as cascas.” A
inventividade brasileira, prossegue, “era visível também nas
novas soluções para os pilotis de Le Corbusier, que deixavam
25 de ser simples cilindros para ganhar contornos em V ou Y
afinando nas extremidades.”

Brasília merece um item no capítulo destinado a Le
28 Corbusier. Aqui, o autor se contenta em descrever
resumidamente o projeto de Lucio Costa e as obras de Oscar
Niemeyer. Talvez Jean-Louis Cohen, um dos mais
31 renomados historiadores de arquitetura do século 20, quisesse
fugir da crítica feroz que os especialistas estrangeiros
destinam à cidade desde que ela foi construída. Sendo assim,
34 conclui o item dizendo: “A população de Brasília continua
profundamente arraigada à cidade, refutando as previsões
pessimistas de seus mais aguerridos detratores.”

37 Vale ressaltar que no livrão de 525 páginas, rico em
iconografia da arquitetura mundial do período, Brasília é só
um dos 207 itens distribuídos em 36 capítulos. O mundo é
40 bem mais diverso do que a gente é capaz de supor.

FREITAS, Conceição. In: *Correio Braziliense*. Caderno Cidades, 6/10/ 2013.

QUESTÃO 1

Considerando o contexto em que aparece o período “A população de Brasília continua profundamente arraigada à cidade, refutando as previsões pessimistas de seus mais aguerridos detratores.” (linhas de 34 a 36), é correto afirmar que os vocábulos em destaque significam, respectivamente,

- (A) ratificando e caluniadores.
- (B) reiterando e ultrajadores.
- (C) desmentindo e difamadores.
- (D) derrubando e apoiadores.
- (E) contrariando e seguidores.

QUESTÃO 2

Considerando as informações do texto e a sua relação com o título, assinale a alternativa correta.

- (A) O texto intitula-se “O olhar estrangeiro”, pois o seu conteúdo principal tem como referente o livro *O futuro da arquitetura desde 1889*, de Jean-Louis Cohen, que faz considerações sobre a arquitetura brasileira.
- (B) O título faz referência direta às influências de alguns arquitetos brasileiros sobre a arquitetura estrangeira.
- (C) O título faz menção à influência dos arquitetos estrangeiros sobre as formas da arquitetura moderna brasileira.
- (D) O texto é intitulado “O olhar estrangeiro”, pois apresenta como tema principal a total divergência de opinião sobre a arquitetura brasileira entre a autora (o olhar brasileiro) e Jean-Louis Cohen (o olhar estrangeiro).
- (E) O título refere-se às comparações feitas pela autora entre as concepções dos arquitetos nacionais e as dos arquitetos estrangeiros sobre as produções arquitetônicas do final do século 19 até hoje.

QUESTÃO 3

Assinale a alternativa que, em conformidade com a norma padrão, reproduz o sentido original do período “Sempre que um livro de arquitetura me cai às mãos, a primeira coisa que procuro é saber se Brasília ou os arquitetos que a construíram estão nele.” (linhas de 1 a 3).

- (A) Toda a vez que um livro de arquitetura me cai às mãos, a primeira coisa que procuro é saber se Brasília ou os arquitetos, os quais a construíram, estão nele.
- (B) A primeira coisa que procuro, toda vez que um livro de arquitetura me cai às mãos, é saber se Brasília ou os arquitetos que lhe construíram estão nele.
- (C) Quando um livro de arquitetura me cai às mãos esporadicamente a primeira coisa que procuro é saber se Brasília ou os arquitetos que a construíram estão nele.
- (D) A primeira coisa que procuro, sempre que um livro de arquitetura me cai às mãos, é saber se Brasília ou os arquitetos que a construíram estão nele.
- (E) Saber se Brasília ou os arquitetos em cuja a construção trabalharam estão nele é a primeira coisa que procuro, sempre que um livro de arquitetura me cai às mãos.

QUESTÃO 4

Logo no início do texto, Conceição Freitas revela “a primeira coisa” (linha 2) que procura sempre que lhe cai às mãos um livro de arquitetura. A esse respeito, é correto afirmar que o livro *O futuro da arquitetura desde 1889*, de Jean-Louis Cohen,

- (A) não satisfaz a busca da autora.
- (B) satisfaz parcialmente a busca feita pela autora, pois apresenta apenas uma vaga menção a Oscar Niemeyer e Lucio Costa.
- (C) satisfaz parcialmente a procura feita pela autora, já que não é destinado um capítulo inteiro a Brasília.
- (D) satisfaz plenamente a procura feita pela autora, pois ele reconhece a importância da arquitetura moderna brasileira para a arquitetura mundial.
- (E) satisfaz plenamente a procura feita pela autora, pois nele aparece pelo menos um dos conteúdos que ela deseja encontrar.

Texto 2 para responder as questões de 5 a 8.

1 Quando arquiteto e morador encontram-se para
discutir um projeto de habitação, tem-se, por um lado, uma
dimensão de liberdade e de escolha a partir da possibilidade
4 de pensar e imaginar a casa que se quer e se sonha, baseada
em uma construção cultural, histórica, ideológica e
antropológica. Por outro, há a dimensão da necessidade e da
7 urgência, quando se trata de população de baixa renda e de
habitação social, traduzida nas ideias da casa como abrigo e
da habitação mínima com sua respectiva solução técnica.

10 A relação entre essas dimensões revela a
complexidade que caracteriza o diálogo entre arquiteto e
morador e se expressa pelos vínculos e dilemas entre
13 carência, liberdade, ideologia, gestão, política, técnica e
autonomia. Não me refiro a uma análise dessas categorias em
si, mas às ambiguidades que elas imprimem na produção do
16 objeto arquitetônico, problematizando o seu processo de
concepção e de construção.

19 Nesse espaço de diálogos e interlocuções entre
indivíduos e grupos carregados de experiências que ora os
diferenciam, ora os agrupam, efetivam-se as dimensões
participativas, que considero como uma esfera micro da
22 participação, baseadas no falar e no ouvir o outro a fim de se
conceber e se construir algo coletivamente.

25 A análise das questões colocadas nessa esfera da
participação pode contribuir para o debate sobre o conceito
de sustentabilidade, aplicado na produção do ambiente
construído, na medida em que pode indicar as limitações e as
28 potencialidades de um projeto que procura integrar, na
prática, as suas múltiplas dimensões, na perspectiva de se
evitar as categorizações socialmente vazias que são
31 encontradas em muitas noções sobre sustentabilidade que não
contemplam a diversidade social e suas formas de
apropriação e de uso dos recursos e do ambiente. Além disso,
34 na discussão sobre princípios e estratégias gerais sobre a
sustentabilidade, há o destaque para a dimensão política por
meio da criação de mecanismos que incrementam a
37 participação da sociedade nas tomadas de decisão.

SHIMBO, Lúcia Zanin; INO, Akemi. *Questões, conflitos e potencialidades do diálogo entre moradores e arquitetos sobre materiais construtivos sustentáveis para habitação*. Disponível em: <http://www.habitare.org.br/doc/docs_revista/artigo_lucia_shimbo.pdf>. Acesso em: 1º/11/2013, com adaptações.

QUESTÃO 5

Acerca do texto, assinale a alternativa correta.

- (A) Os conectivos “por um lado” (linha 2) e “Por outro” (linha 6) foram empregados para estabelecer uma comparação que alude a dois aspectos da discussão do projeto de habitação entre o morador e o arquiteto.
- (B) Em “se expressa pelos vínculos e dilemas” (linha 12), o pronome refere-se ao substantivo “complexidade” (linha 11).
- (C) Em “efetivam-se” (linha 20) e “a fim de se conceber” (linhas 22 e 23), o “se” tem a mesma função sintática.
- (D) É opcional o emprego do verbo “pode” (linha 25) no singular ou no plural.
- (E) As palavras “ideológica” (linha 5), “carência” (linha 13) e “múltiplas” (linha 29) seguem a mesma regra de acentuação.

QUESTÃO 6

Acerca da oração “muitas noções sobre sustentabilidade que não contemplam a diversidade social e suas formas de apropriação e de uso dos recursos e do ambiente.”, (linhas de 31 a 33), assinale a alternativa correta.

- (A) O complemento de “contemplam” é formado por dois núcleos, “diversidade” e “formas”.
- (B) O verbo “contemplam” tem como núcleos do complemento “diversidade”, “formas” e “uso”.
- (C) Se o “que” fosse suprimido, haveria alteração semântica do texto.
- (D) Os termos “de apropriação” e “de uso dos recursos e do ambiente” são complementos do verbo “contemplam”.
- (E) Os termos “dos recursos” e “do ambiente” são complementos do nome “apropriação”.

QUESTÃO 7

Considere as afirmações acerca da leitura do texto e julgue os itens subsequentes.

- I. O texto é essencialmente informativo.
- II. O texto trata da complexa relação entre o processo de concepção da habitação, o produto arquitetônico e o perfil do morador.
- III. O texto mostra que é intrínseco à profissão do arquiteto passar por um dilema para escolher entre utilidade e estética.
- IV. Os autores do texto assumem um posicionamento crítico em relação ao conceito de sustentabilidade.

A quantidade de itens certos é igual a

- (A) 0. (B) 1. (C) 2. (D) 3. (E) 4.

QUESTÃO 8

Analise as reescrituras do terceiro parágrafo do texto, considerando corretas as que não alteram sintática e semanticamente o texto, e julgue os itens que se seguem.

- I. Efetivam-se as dimensões participativas nesse espaço de diálogos e interlocuções entre indivíduos e grupos carregados de experiências que ora os diferenciam, ora os agrupam, que considero como uma esfera micro da participação, baseadas no falar e no ouvir o outro a fim de se conceber e se construir algo coletivamente.
- II. Efetivam-se as dimensões participativas nesse espaço de diálogos e interlocuções entre indivíduos e grupos, carregados de experiências baseadas no falar e no ouvir o outro, que ora os diferenciam, ora os agrupam, a fim de se conceber e se construir algo coletivamente que considero como uma esfera micro da participação.
- III. Nesse espaço de diálogos e interlocuções entre indivíduos e grupos, carregados de experiências que ora os diferenciam, ora os agrupam, as dimensões participativas, que considero como uma esfera micro da participação, efetivam-se, baseadas no falar e no ouvir o outro a fim de se conceber e se construir algo coletivamente.
- IV. As dimensões participativas, que considero como uma esfera micro da participação, baseadas no falar e no ouvir o outro a fim de se conceber e se construir algo coletivamente, efetivam-se nesse espaço de diálogos e interlocuções entre indivíduos e grupos, carregados de experiências que ora os diferenciam, ora os agrupam.

A quantidade de itens certos é igual a

- (A) 0. (B) 1. (C) 2. (D) 3. (E) 4.

RACIOCÍNIO LÓGICO E MATEMÁTICO

Questões de 9 a 13

QUESTÃO 9

Se todo arquiteto é desenhista, existe professor que é arquiteto, mas algum desenhista não é professor, então é correto afirmar que

- (A) existe professor que não é arquiteto.
- (B) existe arquiteto que não é professor.
- (C) algum professor não é desenhista.
- (D) todo arquiteto que é professor é também desenhista.
- (E) algum desenhista que é professor é também arquiteto.

QUESTÃO 10

O edifício sede de certa construtora tem três andares e lá trabalham nove pessoas. De quantas maneiras essas pessoas podem ser distribuídas, de modo que quatro trabalhem no primeiro andar, três no segundo e, no terceiro andar, trabalhem o dono e sua secretária?

- (A) 15. (B) 20. (C) 25. (D) 30. (E) 35.

QUESTÃO 11

Um pedreiro construindo um muro linear afirmou para o arquiteto responsável: “se eu construir certa quantidade de metro por dia, passados 16 dias faltarão 22 metros a serem construídos. Se, com grande esforço, eu conseguir construir dois metros a mais por dia, passados 12 dias ainda faltarão 14 metros a serem construídos”. Nesse caso hipotético, assinale a alternativa que indica, em metros, o comprimento do muro.

- (A) 64. (B) 72. (C) 86. (D) 94. (E) 98.

QUESTÃO 12

Na reunião semanal entre engenheiros e arquitetos de determinada construtora, duas pessoas chegam atrasadas e pelo menos uma delas é arquiteta. A probabilidade das duas pessoas serem arquitetas é de

- (A) $\frac{1}{6}$.
- (B) $\frac{1}{3}$.
- (C) $\frac{1}{4}$.
- (D) $\frac{1}{2}$.
- (E) 1.

QUESTÃO 13

Candidatos a um emprego, em determinada construtora responderam um questionário com 10 itens do tipo verdadeiro ou falso. Observou-se que todos os candidatos responderam oito itens como verdadeiros e dois como falsos e que não existiam dois questionários com todas as respostas iguais. Nessa situação, o número máximo de candidatos era

- (A) 45. (B) 50. (C) 55. (D) 60. (E) 65.

Área livre

QUESTÃO 14 _____

De acordo com a Lei nº 12.378/2010, é competência do Conselho de Arquitetura e Urbanismo do Brasil (CAU/BR)

- (A) zelar pela dignidade e valorização da arquitetura, do urbanismo e da agronomia.
- (B) criar órgãos colegiados com funções abrangentes e interdisciplinares.
- (C) representar os arquitetos e urbanistas em colegiados de órgãos públicos federais, estaduais ou municipais que tratem de questões de exercício profissional referentes à arquitetura e ao urbanismo.
- (D) homologar os regimentos internos e as prestações de contas dos CAUs.
- (E) julgar e homologar, com poder de veto, as questões administrativas decididas pelos CAUs.

QUESTÃO 15 _____

Com base na Lei nº 12.378/2010, assinale a alternativa que apresenta uma atividade ou atribuição do Arquiteto e Urbanista.

- (A) Realização de estudos de viabilidade técnica e econômica de empreendimentos imobiliários.
- (B) Coleta de dados socioeconômicos da população para subsidiar projetos de planejamento urbanístico e cultural.
- (C) Controle de qualidade de projetos ambientais e de saúde alimentar.
- (D) Direção de obras e de serviços técnicos voltados para o restauro e a valorização de edificações.
- (E) Produção e divulgação técnica especializada de projetos de Arquitetura e Urbanismo e de Engenharia em geral.

QUESTÃO 16 _____

O Colegiado Permanente com a participação das Entidades Nacionais de Arquitetos e Urbanistas (CEAU), a que se refere o art. 61 da Lei nº 12.378/2010 e instituído pelo art. 7º do Regimento Geral do CAU/BR, possui qual atribuição?

- (A) Desenhar o perfil das 100 maiores cidades brasileiras e propor soluções de melhoria do ambiente urbano.
- (B) Manter fórum permanente com instituições representativas da profissão de Arquiteto e Urbanista no âmbito internacional.
- (C) Zelar para a manutenção da imagem dos Conselhos de Arquitetura e Urbanismo.
- (D) Fiscalizar o exercício da profissão de Arquiteto e Urbanista.
- (E) Tratar das questões do ensino e exercício profissional do Arquiteto e Urbanista.

QUESTÃO 17 _____

Assinale a alternativa que **não** apresenta unidade(s) organizacional(is) do CAU/BR.

- (A) Gerências Técnica, Administrativa e Financeira.
- (B) Gerências de Edificações e de Planejamento Urbanístico.
- (C) Assessorias Jurídica e de Relações Internacionais.
- (D) Assessorias de Planejamento e de Comunicação.
- (E) Auditoria e Ouvidoria.

QUESTÃO 18 _____

Com base no Código de Ética e Disciplina do CAU/BR, assinale a alternativa correta.

- (A) O arquiteto e urbanista deve empenhar-se no conhecimento, na aplicação, no aperfeiçoamento, na atualização e na divulgação do Código de Ética e Disciplina do CAU/BR.
- (B) O arquiteto e urbanista deve fiscalizar o CAU no cumprimento da prática regular da profissão.
- (C) Para a obtenção do registro de autoria, faz-se necessário que o arquiteto e urbanista anexe parecer jurídico junto aos seus projetos de arquitetura.
- (D) Ao arquiteto e urbanista não compete opinar sobre a legislação pertinente às atividades da Arquitetura e Urbanismo.
- (E) A orientação, a disciplina e a fiscalização do exercício profissional são atividades exclusivas do Conselho, não cabendo ao arquiteto e urbanista colaborar com o CAU para a realização dessas atividades.

ATUALIDADES Questões de 19 a 22

QUESTÃO 19 _____

Quando a menina nasceu, nenhum vizinho foi dar os parabéns aos seus pais. Em regiões do Paquistão como o Vale do Swat, onde ela vivia, só o nascimento de meninos é celebrado. Das meninas, espera-se apenas que vivam quietinhas atrás das cortinas, cozinhem e tenham filhos – preferencialmente antes dos 18 anos de idade. Aos 12 anos, para poder continuar indo à escola, desafiou uma das mais cruéis e violentas milícias em ação, o fundamentalista Talibã. Aos 15 anos, foi baleada na cabeça em uma tentativa do grupo de silenciá-la. Sobreviveu ao atentado e, aos 16 anos, tornou-se porta-voz mundial de uma causa até há pouco quase obscura, entre outros motivos, por ter surgido em uma região que já parecia ter problemas a tratar: as milhares de meninas no Afeganistão e no Paquistão que, graças a uma interpretação do Islã eivada de ignorância e ódio, são impedidas de ter acesso à educação e a um futuro melhor.

Revista *Veja*, 16/10/2013, edição 2.343. Editora Abril, pag. 86, com adaptações.

Essa autobiografia da jovem paquistanesa é narrada no livro.

- (A) Afeganistão depois do Talibã.
- (B) O caçador de pipas.
- (C) A costureira de Khair Khana.
- (D) Em que acreditam os muçulmanos.
- (E) Eu sou Malala.

QUESTÃO 20

Em dezembro de 2010 foi sancionada e regulamentada em dezembro de 2010 a Política Nacional de Resíduos Sólidos (PNLR), que reúne o conjunto de diretrizes e ações a ser adotado, com vistas à gestão integrada e ao gerenciamento adequado dos resíduos sólidos.

Quanto ao objeto e ao campo de aplicação da PNLR, é correto afirmar que

- (A) se aplica aos resíduos radioativos, pois estes não são regulados por leis específicas de acordo com o Ministério do Meio Ambiente.
- (B) estão sujeitas à observância desta lei apenas as pessoas jurídicas, de direito público ou privado, responsáveis, direta ou indiretamente, pela geração de resíduos sólidos.
- (C) institui a responsabilidade compartilhada dos geradores de resíduos sólidos, incluindo fabricantes, importadores, distribuidores, comerciantes e consumidores.
- (D) estabelece a logística reversa, caracterizada por um conjunto de ações e procedimentos, por parte dos consumidores, destinados à coleta e à restituição dos resíduos sólidos ao setor empresarial.
- (E) Serão permitidos os lixões a céu aberto, de acordo com a legislação, nas áreas que não coloquem em risco as nascentes de rios e os lençóis freáticos.

QUESTÃO 21

Os 25 anos da Constituição brasileira, que se comemoram hoje, talvez contenham em si mesmos – pela mera menção de sua durabilidade – o maior elogio ao texto atualmente em vigor.

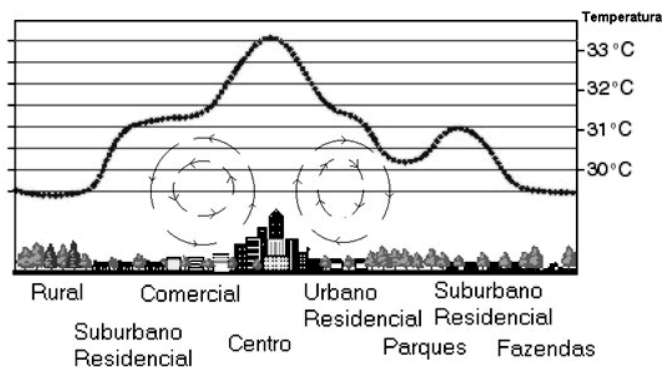
Quando foi promulgada, em 5 de outubro de 1988, não faltaram advertências quanto aos riscos de inviabilidade que a nova Carta projetava sobre os governos do futuro, dado seu detalhismo e sua prodigalidade ao acomodar demandas das mais distintas corporações.

<www.folha.uol.com.br/opiniaio>. Seção: Editorial – Constituição em vigor, 05 de outubro de 2013.

Assinale a alternativa que, dentre os diversos fatores, aquele que justifica a denominação “Constituição Cidadã” dada para a atual Carta Magna do Brasil.

- (A) As leis que previam a licença-maternidade e a demarcação de terras indígenas pelos estados e municípios.
- (B) A multa de 50% no ato da demissão de um trabalhador e o direito à greve para os funcionários públicos e privados.
- (C) O direito à titularidade da terra para as mulheres trabalhadoras rurais e o conceito restrito de família.
- (D) A aprovação de leis a qual também contava com audiências públicas que preparavam emendas com a participação da sociedade civil na busca dos próprios interesses.
- (E) A transição entre o período da ditadura militar e a afirmação do regime democrático no País, marcada pela Constituição, tendo total respaldo dos militares desde o movimento Diretas Já.

QUESTÃO 22



Considere a figura acima, que demonstra um impacto ambiental provocado pela elevação da temperatura nos centros urbanos devido à demasiada concentração de materiais sólidos nas grandes cidades (asfalto, concreto, tijolos, prédios etc.), e observe que, quanto mais afastado do centro urbano menor, será a temperatura.

Sobre o assunto, é correto afirmar que o impacto ambiental demonstrado na figura e aludido no texto se refere à(o)

- (A) inversão térmica.
- (B) ilha de calor.
- (C) zoneamento ecológico.
- (D) buraco na camada de ozônio.
- (E) aquecimento global.

CONHECIMENTOS EM MICROINFORMÁTICA

Questões de 23 a 25

Figura 1 para responder as questões 23 e 24.

	A	B	C	D	E	F	G
1	Cidades	População com Saneamento (mil hab.)	População sem Saneamento (mil hab.)				
2	Arquitetolândia	80	80%	20	20%		
3	Urbanopólis	30	75%	10	25%		
4	Belas Paisagens	150	75%	50	25%		
5	Total	260	76%	80	24%		
6	População total: 340 mil habitantes. Fonte: lades.						

QUESTÃO 23








De acordo com a imagem de uma planilha Excel, apresentada na figura 1, qual é a fórmula usada para definir o percentual da população total sem saneamento?

- (A) = MEDIA % (E2+E3+E4)
- (B) = MEDIA PONDERADA (D2;D3;D4)/(B2;B3;B4)
- (C) = D5/(B5+D5)
- (D) = E5/(C5+E5)
- (E) = (SOMA(E2:E4) 3) / (SOMA(C2:C4)/3)

QUESTÃO 24

Conforme a figura 1, percebe-se que os percentuais foram arredondados. Os valores exatos até a segunda casa decimal são **76,47%** e **23,53%**. Para que a linha 5 apareça com os totais, conforme mostrado a seguir, assinale a alternativa que apresenta uma sequência correta de cliques no *mouse*.

Total	260	76,47%	80	23,53%
-------	-----	--------	----	--------

- (A) <Selecionar a linha 5>, <Clicar 2 vezes no botão  >.
- (B) <Selecionar a célula C5>, <Clicar 2 vezes no botão  >, <Selecionar a célula E5>, <Clicar 2 vezes no botão  >
- (C) <Selecionar a célula C5>, <Clicar 2 vezes no botão  >, <Selecionar a célula E5>, <Clicar 2 vezes no botão  >.
- (D) <Clicar em **Iniciador da Caixa de Diálogo**  ao lado de **Número**. Na lista **Categoria**, <Clicar 2 vezes em **Porcentagem**>.
- (E) <Selecionar as colunas C e E> e <Clicar 2 vezes no botão  >.

QUESTÃO 25

Para evitar a perda de informações importantes, faz-se necessário uma rotina de cópias de segurança (também chamadas de *backup*) conveniente para as necessidades de cada usuário de microinformática. Acerca desse tema, assinale a alternativa correta.

- (A) O *backup* de todos os arquivos do computador pessoal deve ser feito diariamente pelo usuário que os criou ou salvou a última versão.
- (B) Os sistemas operacionais atualmente usados em computadores pessoais têm ferramentas de incentivo ao bloqueio das chamadas cópias de segurança, com o objetivo de evitar a transmissão de arquivos e documentos criados naquele computador.
- (C) A opção adequada para *backups* em ambientes de escritório é salvar os arquivos criados diretamente em HD externo ou *pen drive*, sem salvá-los no disco rígido do PC.
- (D) As mídias óticas (DVD e CD) são as melhores alternativas para *backup* dos arquivos, pois não permitem novas cópias, mas apenas a leitura dos arquivos gravados.
- (E) Os HD externos e os *pendrives* representam, nos dias atuais, uma boa relação custo × benefício para *backups* de arquivos do usuário. O seu uso indiscriminado, porém, representa ameaça à segurança das informações corporativas.

CONHECIMENTOS ESPECÍFICOS

Questões de 26 a 50

QUESTÃO 26

A administração estratégica é uma metodologia gerencial que permite estabelecer e monitorar a direção a ser seguida pela organização, e objetiva concretizar os resultados organizacionais por meio de uma maior e melhor interação com o ambiente. Acerca desse tema, é correto afirmar que se trata de um processo

- (A) contínuo, que tem como base o planejamento estratégico, durante o qual são definidos e revisados a missão da organização, a visão de futuro, os valores, os objetivos, as estratégias e os projetos de intervenção que visam à mudança desejada.
- (B) descontínuo, que tem como base o planejamento para atender à demanda da empresa, durante o qual são definidos e revisados os processos de produção para otimizar o produto final.
- (C) intermitente, que tem como base o planejamento tático, durante o qual são revisadas as linhas de produção e os processos produtivos, visando à maximização da produção.
- (D) em que o administrador tem como base o planejamento de curto prazo para atender à demanda do mercado, diminuindo os custos de produção e melhorando os processos de produção e a logística de entrega do produto.
- (E) de avaliação que o administrador estabelece para buscar identificar pontos fortes e fracos nos processos de produção, criando condições de aperfeiçoamento e melhoramento no produto final.

QUESTÃO 27

Os planos estratégicos, táticos e operacionais fazem parte da administração das empresas e são elaborados para estruturá-las e organizá-las, visando a melhorias de produção e na diminuição dos custos dos respectivos produtos finais. Sobre o tema, assinale a alternativa correta.

- (A) O plano estratégico é pertinente à estratégia da organização na produção de um de seus produtos.
- (B) Os planos táticos estão relacionados com uma área da organização.
- (C) Os planos táticos estão relacionados com as diversas áreas da organização. Por exemplo, um plano financeiro e um plano de *marketing*.
- (D) Os planos operacionais são preparados para operacionalizar os planos estratégicos.
- (E) controle tático é um tipo especial de controle organizacional, que se concentra no acompanhamento do processo produtivo, no sentido de adequá-lo às exigências do mercado.

QUESTÃO 28

O balanço patrimonial é dividido em dois grandes blocos: o ativo que representa todos os bens e direitos da empresa, e o passivo, que representa todas as obrigações exigíveis.

Os índices são relações entre contas ou grupos de contas das demonstrações financeiras, que visam evidenciar determinado aspecto econômico ou financeiro.

Os índices de estrutura de capital mostram as grandes linhas de decisões financeiras, em termos de obtenção e aplicação de recursos, caracterizados por quanto menores forem, melhor será a condição financeira da empresa. A respeito dessas estas relações, assinale a alternativa correta.

- (A) Imobilização dos Recursos Não-Correntes: indica qual percentual de recursos não correntes a empresa aplicou no ativo permanente [Ativo Permanente/(Patrimônio Líquido+Exigível a Curto Prazo)] $\times 100$.
- (B) Composição do Endividamento: indica qual o percentual de obrigações em curto prazo em relação às obrigações totais (Passivo Permanente/Capital de Terceiros) $\times 100$.
- (C) Composição de Lucratividade: indica qual o percentual de obrigações em curto prazo em relação às obrigações totais (Passivo Permanente/Capital de Terceiros) $\times 100$.
- (D) Imobilização do Patrimônio Líquido: indica o quanto a empresa aplicou no ativo permanente por cada \$100 de capital próprio (Ativo Circulante/Patrimônio Líquido) $\times 100$.
- (E) Participação de Capitais de Terceiros: indica o quanto a empresa tomou de capital de terceiros por capital próprio investido (Capital de Terceiros/Patrimônio Líquido) $\times 100$.

QUESTÃO 29

Considerando que índices de estrutura de capital mostram as grandes linhas de decisões financeiras, em termos de obtenção e aplicação de recursos, caracterizadas por quanto menores forem, melhor será a condição financeira da empresa, assinale a alternativa que indica quais são eles.

- (A) Participação de Capitais de Terceiros: indica o quanto a empresa tomou de capital de terceiros por capital próprio investido (Capitais de Terceiros/Ativo Circulante) $\times 100$.
- (B) Imobilização do Patrimônio Líquido: indica o quanto a empresa aplicou no ativo permanente por cada \$100 de capital próprio; (Ativo Permanente/Patrimônio Líquido) $\times 100$.
- (C) Composição do Endividamento: indica qual o percentual de obrigações em curto prazo em relação às obrigações totais (Lucros anuais/Capitais de Terceiros).
- (D) Imobilização dos Recursos Não-Correntes: indica qual o percentual de recursos não correntes a empresa aplicou no ativo permanente [Ativo Circulante/(Patrimônio Líquido+Exigível a Curto Prazo)] $\times 100$.
- (E) Imobilização do Patrimônio Líquido: indica o quanto a empresa aplicou no ativo permanente por cada \$100 de capital próprio (Ativo Circulante/Capitais de Terceiros) $\times 100$.

QUESTÃO 30

Assinale a alternativa correta quanto aos princípios básicos de governança corporativa que se forem aplicados, podem tornar a administração mais eficiente.

- (A) Equidade com os públicos estratégicos (*stakeholders*); e, *fairness*: senso de justiça e equidade no tratamento dos acionistas do setor (associados).
- (B) *Disclosure* ou transparência; *fairness*: senso de justiça e equidade no tratamento dos acionistas do setor (associados); e, *accountability*: prestação responsável de contas, fundamentada nas melhores práticas contábeis e de auditoria.
- (C) *Compliance*: conformidade no cumprimento de normas reguladoras, expressas nos estatutos sociais, nos regimentos internos e nas instituições legais; e, *disclosure* ou transparência.
- (D) *Fairness*: senso de justiça e equidade no tratamento dos acionistas do setor (associados); e, *accountability*: prestação responsável de contas, fundamentada nas melhores práticas contábeis e de auditoria.
- (E) *Disclosure* ou transparência; equidade com os estratégicos (*stakeholders*); prestação de contas (*accountability*); e, cumprimento das legislações.

QUESTÃO 31

Determinada empresa de calçados está enfrentando dificuldades financeiras devido à concorrência estrangeira no mercado de calçados de qualidade inferior e de preços baixos. Os produtos dessa empresa são de alta qualidade e, conseqüentemente, os respectivos preços são mais altos, se comparados com os importados.

Diante disso, um profissional com curso superior em administração e especialização em estratégias corporativas foi contratado pela empresa para apresentar ações que possam reinseri-la no mercado, em melhores condições para competir com as empresas internacionais do ramo.

Nessa situação hipotética, assinale a alternativa correta quanto às ações de gestão de estratégica de custo a serem implantadas pelo profissional contratado, para que a empresa de calçados possa diminuir os preços dos seus produtos sem perder a qualidade, que é um ponto alto dos seus calçados.

- (A) Desenvolver formas de avaliar, acompanhar e gerenciar a evolução dos custos dos produtos ao longo da cadeia de valor, buscando a sua redução contínua.
- (B) Incrementar formas diferenciadas do produto para atrair a atenção do cliente, agregando valor ao produto.
- (C) Focar exclusivamente nos direcionadores estruturais da cadeia produtiva (força de trabalho, eficiência do *layout*, gestão da qualidade total e configuração do produto).
- (D) Focar exclusivamente nos direcionadores de execução da cadeia produtiva (escala de produção, tamanho do investimento, tecnologia e complexidade).
- (E) Modificar a cadeia produtiva, de modo a incorporar produtos de segunda linha e menor custo, que poderiam ser proporcionais aos preços baixos de venda.

QUESTÃO 32

A prestação de contas pode ser resumida pelos seus princípios ou fundamentos, pela avaliação dos procedimentos e dos resultados e pela determinação das ações de melhoria e de responsabilidade. Com base nisso, assinale a alternativa correta.

- (A) Seus princípios ou fundamentos são o da legalidade, o da transparência, e o da publicidade.
- (B) A avaliação dos procedimentos e dos resultados se refere às finalidades e aos objetivos da organização, da forma do uso dos recursos tecnológicos, materiais e humanos.
- (C) A avaliação dos procedimentos está fundamentada nos relatórios do desempenho que as instituições devem prestar, os quais devem ter um formato complexo e formal, devendo incluir todas as informações da organização.
- (D) As ações de melhoria e de responsabilidade devem propiciar um plano de gestão, que resultará em ações corretivas e complementares.
- (E) Os princípios ou fundamentos da prestação de contas são o da legalidade, o da transparência e o da democracia.

QUESTÃO 33

Determinado consultor contratado por uma empresa de eletrodomésticos, após mais uma semana de estudos, verificou que os custos reais estavam bem maiores que os custos projetados.

O consultor indicou, então, que os cálculos dos custos reais e dos projetados fossem reavaliados, afirmando que a empresa deveria buscar uma aproximação entre os custos projetados e os reais.

Considerando essa situação hipotética, assinale a alternativa que apresenta as ações necessárias para atender à recomendação do consultor.

- (A) Verificar se os cálculos dos custos projetados e dos reais partiram da mesma premissa, ou seja, se os custos apropriados têm a mesma origem (tipos de tecnologia e insumos disponíveis) e constituição (matéria-prima e custos indiretos de fabricação).
- (B) Manter os projetos de fabricação originais, alterando os insumos por produtos mais baratos.
- (C) Alterar os custos de fabricação, utilizando mão de obra mais barata.
- (D) Diminuir os custos reais, aumentando o número de mão de obra na linha de produção.
- (E) Aumentar o treinamento dos funcionários, possibilitando mais satisfação nos quadros da empresa.

QUESTÃO 34

Com relação à eficácia de toda a análise de custos na cadeia de valor da empresa, assinale a alternativa correta.

- (A) O foco deve ser nos conceitos estratégicos da cadeia de valor da empresa.
- (B) O objetivo principal da empresa deverá estar nos planos operacionais e nos direcionadores de custos da empresa.
- (C) A ação principal está na diversificação da cadeia produtiva, gerando oportunidades de aumento da receita da empresa.
- (D) O foco deve estar na implementação de planos táticos e de planos operacionais na cadeia de valor.
- (E) A visão do administrador deve estar direcionada somente para os recursos existentes e a operacionalidade da empresa.

QUESTÃO 35

Até a revolução industrial do século 18, quase só existia a contabilidade financeira (ou geral), desenvolvida na era mercantilista. O cálculo era simplesmente por diferença, computando o quanto se possuía de estoque inicial, de compras e de estoque final. Nesse caso, como se calculava o valor de aquisição das mercadorias vendidas?

- (A) Estoques iniciais (+) compra (+) estoque final (=) custo de mercadorias vendidas.
- (B) Custo de mercadorias vendidas (+) compra (+) estoque final (=) estoques iniciais.
- (C) Custo de mercadorias vendidas (+) compra (-) estoque final (=) estoques iniciais.
- (D) Estoques iniciais (+) compra (-) estoque final (=) custo de mercadorias vendidas.
- (E) Estoques iniciais (-) compra (+) estoque final (=) custo de mercadorias vendidas.

QUESTÃO 36

O organograma é uma fotografia da hierarquia empresarial, capaz de facilitar a visualização das relações de autoridade e de subordinação. Considerando essa informação, assinale a alternativa correta.

- (A) O organograma em linha é útil para representar estruturas organizacionais flexíveis, nas quais as ordens fluem de cima para baixo e as comunicações verticais são raras.
- (B) O organograma de assessoria deriva do organograma em linha seu diferencial consiste em conexões verticais, que são acrescentadas à estrutura horizontal.
- (C) O organograma funcional é utilizado para apresentar a hierarquia que os chefes e seus subordinados desempenham na empresa.
- (D) O organograma em linha tem como desvantagem a dificuldade de cultura, deixando dúvidas quanto à distribuição de autoridade.
- (E) No organograma matricial, a representação gráfica é híbrida, combinando duas formas diferentes de organizar a empresa.

QUESTÃO 37

A contabilidade financeira, para melhor atender as empresas emergentes no século passado, dá ênfase à clássica demonstração de resultados. Como exemplo, considere que a empresa Arquitetura XX presta serviços aos lojistas filiados à associação comercial local. O resultado financeiro do mês de setembro de 2013 foi um dos piores, pois ela faturou apenas 93 mil reais, investiu um total de 56 mil reais em estoque, sendo que suas despesas totalizaram 62 mil reais. Nesse caso hipotético, qual foi o resultado líquido da empresa Arquitetura XX?

- (A) 31 mil reais positivo.
- (B) 25 mil reais positivo.
- (C) 25 mil reais negativo.
- (D) 62 mil reais positivo.
- (E) 31 mil reais negativo.

QUESTÃO 38

A demonstração dos fluxos de caixa enquadra-se em uma das quatro demonstrações financeiras obrigatórias, além de ser importante para o processo decisório de uma organização. Considerando que entre as suas divisões, tem-se o fluxo de investimento, assinale a alternativa que descreve esse fluxo.

- (A) Fluxos de caixa que resultam de operações de empréstimo e capital próprio.
- (B) Fluxos de caixa que quitam empréstimo tanto em curto prazo quanto em longo prazo, resultando em correspondente entrada e saída de caixa.
- (C) Fluxos relacionados à produção e à venda dos produtos e serviços da empresa.
- (D) Fluxos de caixa associados com a compra e a venda de ativos imobilizados, bem como de participações societárias.
- (E) Fluxos de caixa que captam a demonstração do resultado e as transações das contas circulantes, excluindo os títulos a pagar, ocorridas durante o período.

QUESTÃO 39

A aplicação das finanças organizacionais visa à tomada de decisão em termos financeiros. Nesse sentido, a Consultoria Arquitetônica solicitou ao setor financeiro o cálculo da análise marginal, pois existe um estudo atual sobre a possibilidade de substituir os *softwares* antigos pelos mais recentes e modernos do mercado.

O novo *software* demanda um desembolso, à vista, de R\$ 4.500,00, enquanto o antigo tem valor de mercado de apenas R\$ 1.600,00. O total dos benefícios gerados pelo novo *software* é de R\$ 6.000,00 e os benefícios do *software* antigo, considerando o mesmo período de tempo, seriam de R\$ 2.000,00. Nesse caso hipotético, qual é a análise marginal do projeto?

- (A) R\$ 6.900,00.
- (B) R\$ 1.900,00.
- (C) R\$ 5.100,00.
- (D) R\$ 2.100,00.
- (E) R\$ 1.100,00.

QUESTÃO 40

O administrador financeiro desempenha um papel importante na operação de uma organização, interagindo com as áreas de responsabilidade da empresa. Quais são essas áreas?

- (A) Contabilidade, custos, contas a pagar, contas a receber, auditoria, enfim, todas as áreas da divisão financeira.
- (B) Contabilidade, produção, *marketing*, recursos humanos, pesquisas, vendas e planejamento.
- (C) Contabilidade e produção.
- (D) Produção e *marketing*.
- (E) Contabilidade, recursos humanos e custos.

QUESTÃO 41

O processo do planejamento financeiro divide-se em dois aspectos chaves: o planejamento de caixa e o de lucros. Com base nessa informação, assinale a alternativa que conceitua, respectivamente, esses aspectos.

- (A) Planejamento de caixa é exigido frequentemente pelos credores atuais e futuros. Planejamento de lucros é normalmente realizado por meio de demonstrativos financeiros projetados.
- (B) Planejamento de caixa é normalmente realizado por meio de demonstrativos financeiros projetados. Planejamento de lucros envolve a preparação do orçamento de caixa da empresa.
- (C) Planejamento de caixa e de lucros são normalmente realizados por meio de demonstrativos financeiros projetados.
- (D) Planejamento de caixa envolve a preparação do orçamento de caixa da empresa. Planejamento de lucros é normalmente realizado por meio de demonstrativos financeiros projetados.
- (E) Planejamento de caixa é exigido frequentemente pelos credores atuais e futuros. Planejamento de lucros envolve a preparação do orçamento de caixa da empresa.

QUESTÃO 42

Em relação ao planejamento tributário, assinale a alternativa correta.

- (A) A denominação do planejamento tributário refere-se à realização posterior do fato administrativo, pesquisando seus efeitos jurídicos e econômicos e as alternativas legais mais onerosas.
- (B) O livro legislação tributária constitui uma introdução ao planejamento tributário, publicado em 1971, sendo obra pioneira do planejamento tributário.
- (C) O planejamento tributário envolve a análise das alternativas e das lacunas existentes na legislação, aumentadas por sucessivas alterações da lei.
- (D) A relação custo/benefício pode ser avaliada pela iniciativa, por estabilizar a função dos valores envolvidos.
- (E) O planejamento tributário tem alternativas legais, válidas somente para as pequenas e médias empresas.

QUESTÃO 43 _____

Com relação à distribuição de trabalho na organização, assinale a alternativa correta.

- (A) A distribuição vertical de trabalho é comum em empresas com mão de obra altamente qualificada.
- (B) A distribuição vertical de trabalho é comum em empresas com mão de obra pouco qualificada.
- (C) Na distribuição vertical de trabalho, o número de cargos de chefia é maior do que na distribuição horizontal.
- (D) A distribuição horizontal de trabalho prioriza o nível hierárquico.
- (E) Na distribuição horizontal de trabalho, o menor desafio é a coordenação do trabalho conjunto.

QUESTÃO 44 _____

Define-se rotação de ênfase como sendo a periodicidade com que determinada tarefa deve ser auditada, conforme o grau de risco a ela atribuída. Acerca desse tema, é correto afirmar que a análise de risco, culminando em uma matriz, propõe-se a

- (A) bloquear informações gerenciais.
- (B) impor a tomada de decisão.
- (C) impor o planejamento dos trabalhos de auditoria.
- (D) contribuir para a análise de gestão.
- (E) promover um melhor conhecimento do controle externo da entidade.

QUESTÃO 45 _____

O Institute of Internal Auditors (IIA) estabeleceu normas da prática profissional da auditoria. Acerca desse tema, assinale a alternativa que apresenta a norma corretamente detalhada.

- (A) A execução dos trabalhos de auditoria deve envolver a execução dos serviços, o exame e a avaliação das informações, a comunicação dos resultados e o *follow-up*.
- (B) Na capacitação profissional, os auditores devem planejar com competência os cuidados profissionais.
- (C) Na gestão do departamento de auditoria, o diretor de auditoria interna deve administrar adequadamente o departamento da auditoria interna.
- (D) Na extensão dos trabalhos de auditoria interna, deve-se abranger o exame, a avaliação da adequação e a eficácia do sistema de controles externos.
- (E) Com independência, os auditores devem ser profissionais envolvidos nas atividades e lotados nas unidades que auditam.

QUESTÃO 46 _____

Assinale a alternativa que define a permissão da segurança fornecida por uma auditoria das demonstrações financeiras.

- (A) Dependência do auditor.
- (B) Detecção de fraude.
- (C) Segurança máxima plena.
- (D) Atos legais de clientes.
- (E) Insegurança sobre a lucratividade da empresa.

QUESTÃO 47 _____

Na avaliação de controles em ambientes de tecnologia da informação, vinculados aos processos de controladoria, torna-se necessário que o auditor

- (A) considere o conhecimento que adquiriu para obter entendimento.
- (B) identifique acertos ou classificações potenciais que possam ocorrer em afirmações.
- (C) realize testes sem controle.
- (D) desconsidere a evidência e a aplicação.
- (E) identifique controles necessários para liberar as classificações indevidas.

QUESTÃO 48 _____

Quais é o benefício que pode ser proporcionado pelos sistemas de informações gerenciais?

- (A) Controle das operações que ocorrem no mercado.
- (B) Limite às questões internas do funcionamento da empresa.
- (C) Contribuição para melhoria no relacionamento da organização com o entorno.
- (D) O fato de manter os fornecedores bem afastados e os clientes próximos.
- (E) Estreitamento dos vínculos somente com os clientes.

QUESTÃO 49 _____

De acordo com as demonstrações contábeis, assinale a alternativa que indica a(s) responsabilidade(s) do auditor?

- (A) Analisar eventos e transações.
- (B) Distribuir demonstrações contábeis e parecer da auditoria aos acionistas, anualmente.
- (C) Classificar e resumir dados registrados.
- (D) Obter e avaliar evidência referente às demonstrações contábeis.
- (E) Medir e registrar dados de transações.

QUESTÃO 50 _____

Receitas decorrentes de investimentos em títulos são verificadas por evidência documental e recálculo. Observe as informações a seguir e faça o recálculo do problema apresentado.

- Compra de 22 peças a 900 reais.
- Venda de 500 peças a 33,20 reais.
- Compra de 200 acessórios a 18,50 reais.
- A soma dos dividendos foi de 6.900 reais.

Com base nas informações apresentadas, qual foi o resultado do investimento da conferência do auditor?

- (A) R\$ 0,00.
- (B) R\$ 6.900,00.
- (C) R\$ 7.350,00.
- (D) R\$ 7.400,00.
- (E) R\$ 13.800,00.

PROVA DISCURSIVA

Orientações para a elaboração do texto da prova discursiva:

- A prova discursiva consiste na elaboração de um texto dissertativo.
- A prova discursiva deverá ser manuscrita, em letra legível, com caneta esferográfica de tinta azul ou preta, fabricada de material transparente.
- A **folha de texto definitivo** da prova discursiva não poderá ser assinada, rubricada e não deverá conter, em outro local que não o apropriado, nenhuma palavra ou marca que a identifique, sob pena de anulação da prova discursiva.
- A detecção de qualquer marca identificadora no espaço destinado à transcrição de texto definitivo acarretará anulação da prova do candidato.
- A **folha de texto definitivo** é o único documento válido para a avaliação da prova discursiva.
- O espaço para rascunho, contido no caderno de provas, é de preenchimento facultativo e não valerá para avaliação da prova discursiva.
- O texto deverá ter extensão mínima de 20 (vinte) linhas e máxima de 40 (quarenta) linhas, com base no tema a seguir apresentado.

Leia, com atenção, o texto a seguir.

O orçamento é um produto integrado ao planejamento estratégico da organização, atuando como alerta aos gestores e indicando se o plano é eficaz. É um plano financeiro e cronológico, normalmente para um ano, que visa implementar e oferecer suporte às estratégias delimitadas pela organização.

FREZATTI, F. **Orçamento Empresarial: planejamento e controle gerencial**. 3. ed. São Paulo: Atlas, 2006.

Considerando que o texto apresentado tem caráter meramente motivador, redija um texto dissertativo acerca da elaboração, do acompanhamento e do controle do orçamento na organização sem fins lucrativos, comentando sobre:

- a) Os aspectos importantes a serem observados na elaboração do orçamento anual.
- b) As responsabilidades internas sobre o acompanhamento da execução do orçamento.
- c) O apoio necessário ao controle orçamentário, por meio de um sistema de informações, bem como a sua importância para o processo decisório na organização.

Área livre - rascunho na página seguinte

Rascunho

1	
5	
10	
15	
20	
25	
30	
35	
40	