



GOVERNO DO ESTADO DE ALAGOAS

SECRETARIA DE ESTADO DA GESTÃO PÚBLICA

CONCURSO PÚBLICO **2013**

TARDE

CADERNO DE PROVAS OBJETIVA E DISCURSIVA

LEIA COM ATENÇÃO AS INSTRUÇÕES ABAIXO.

- 1 Ao receber este caderno de provas, confira inicialmente se os seus dados pessoais e nome do cargo a que você concorre, transcritos acima, estão corretos e coincidem com o que está registrado na sua Folha de Respostas e na sua Folha de Texto Definitivo da prova discursiva. Confira também o seu nome em cada página numerada deste caderno de provas. Em seguida, verifique se ele contém a quantidade de itens indicada em sua Folha de Respostas, correspondentes à prova objetiva, e a prova discursiva, acompanhada de espaço para rascunho, de uso opcional. Caso o caderno esteja incompleto, tenha qualquer defeito e(ou) apresente divergência quanto aos seus dados pessoais ou ao nome do cargo a que você concorre, solicite ao fiscal de sala mais próximo que tome as providências cabíveis, pois não serão aceitas reclamações posteriores nesse sentido.
- 2 Quando autorizado pelo chefe de sala, no momento da identificação, escreva, no espaço apropriado da Folha de Respostas, com a sua caligrafia usual, a seguinte frase:

O descumprimento dessa instrução implicará a anulação das suas provas e a sua eliminação do concurso.

- 3 Não se comunique com outros candidatos nem se levante sem autorização de fiscal de sala.
- 4 Não serão distribuídas folhas suplementares para rascunho nem para texto definitivo.
- 5 Na duração das provas, está incluído o tempo destinado à identificação — que será feita no decorrer das provas —, ao preenchimento da Folha de Respostas e à transcrição do texto definitivo da prova discursiva para a Folha de Texto Definitivo.
- 6 Ao terminar as provas, chame o fiscal de sala mais próximo, devolva-lhe a sua Folha de Respostas e a sua Folha de Texto Definitivo e deixe o local de provas.
- 7 A desobediência a qualquer uma das determinações constantes em edital, no presente caderno, na Folha de Respostas ou na Folha de Texto Definitivo poderá implicar a anulação das suas provas.

OBSERVAÇÕES:

Não serão conhecidos recursos em desacordo com o estabelecido em edital.

É permitida a reprodução deste material apenas para fins didáticos, desde que citada a fonte.

Informações adicionais: telefone 0 (XX) 61 3448-0100; sac@cespe.unb.br; Internet — www.cespe.unb.br.

- De acordo com o comando a que cada um dos itens a seguir se refira, marque, na **folha de respostas**, para cada item: o campo designado com o código **C**, caso julgue o item **CERTO**; ou o campo designado com o código **E**, caso julgue o item **ERRADO**. A ausência de marcação ou a marcação de ambos os campos não serão apenadas, ou seja, não receberão pontuação negativa. Para as devidas marcações, use a **folha de respostas**, único documento válido para a correção das suas provas objetivas.
- Nos itens que avaliam **noções de informática**, a menos que seja explicitamente informado o contrário, considere que todos os programas mencionados estão em configuração-padrão, em português, que o *mouse* está configurado para pessoas destros, que expressões como **clique**, **clique simples** e **clique duplo** referem-se a cliques com o botão esquerdo do *mouse* e que **teclar** corresponde à operação de pressionar uma tecla e, rapidamente, liberá-la, acionando-a apenas uma vez. Considere também que não há restrições de proteção, de funcionamento e de uso em relação aos programas, arquivos, diretórios, recursos e equipamentos mencionados.

CONHECIMENTOS BÁSICOS

Texto para os itens de 1 a 10

1 Um cientista chamado Francis Galton é considerado
um dos fundadores do que chamamos hoje de biometria: a
aplicação de métodos estatísticos para estudo dos fenômenos
4 biológicos. Sua pesquisa em habilidades e disposições mentais,
a qual incluía estudos de gêmeos idênticos, foi pioneira em
demonstrar que vários traços são genéticos. A paixão de Galton
7 pela medição permitiu que ele abrisse, em 1884, o Laboratório
de Antropométrica na Exibição Internacional de Saúde, onde
ele coletou estatísticas de milhares de pessoas. Em 1892,
10 Galton inventou o primeiro sistema moderno de impressão
digital. Adotado pelos departamentos de polícia em todo o
mundo, a impressão digital era a forma mais confiável de
13 identificação, até o advento da tecnologia do DNA no
século XX.

Os avanços comerciais na área da biometria
16 começaram na década de 70 do século passado. Nessa época,
um sistema chamado Identimat foi instalado em um número de
locais secretos para controle de acesso. Ele mensurava a forma
da mão e olhava principalmente para o tamanho dos dedos. A
19 produção do Identimat acabou na década de 80 do século
passado. Seu uso foi pioneiro na aplicação da geometria da
mão e pavimentou o caminho para a tecnologia biométrica
22 como um todo.

Paralelamente ao desenvolvimento da tecnologia de
25 mão, a biometria digital estava progredindo nas décadas de 60
e 70 do século XX. Nessa época, algumas companhias estavam
envolvidas com identificação automática das imagens digitais
28 para auxiliar as forças policiais. O processo manual de
comparação de imagens digitais em registros criminais era
longo e necessitava de muito trabalho. No final dos anos 60,
31 o FBI começou a checar automaticamente as imagens digitais
e, na metade da década de 70, já havia instalado certa
quantidade de sistemas de *scanners* digitais automáticos. Desde
34 então, o papel da biometria nas forças policiais tem crescido
rapidamente, e os AFIS (*Automated Fingerprint Identification
Systems*) são utilizados por um número significativo de forças
37 policiais em todo o mundo.

Internet: <www.consultoresbiometricos.com.br> (com adaptações).

Com base nas ideias do texto, julgue os itens que se seguem.

- 1 A tecnologia do DNA é um sistema de identificação mais confiável que a impressão digital.
- 2 O desenvolvimento do sistema Identimat antecedeu o advento da biometria digital.
- 3 A identificação automática das imagens digitais foi desenvolvida para auxiliar as forças policiais.
- 4 De acordo com o texto, forças policiais do mundo inteiro utilizam o sistema de biometria digital.
- 5 A biometria, que consiste na aplicação de métodos estatísticos para estudo dos fenômenos biológicos, foi criada em 1892 por um cientista chamado Francis Galton.

Com relação à estrutura linguística do texto, julgue os seguintes itens.

- 6 A supressão da vírgula empregada logo após a conjunção “e” (ℓ.32) não prejudicaria a correção gramatical do texto.
- 7 A locução verbal “havia instalado” (ℓ.32) poderia ser substituída, no texto, pela forma verbal **instalara**, cujo sentido é o mesmo.
- 8 A oração “o papel da biometria nas forças policiais tem crescido rapidamente” (ℓ.34-35) poderia ser reescrita, mantendo-se a correção gramatical e a coerência do texto, da seguinte forma: o papel da biometria nas forças policiais têm crescido rápida.
- 9 Mantendo-se a correção gramatical e o sentido do texto, a expressão “a qual” (ℓ.5) poderia ser substituída por **que**.
- 10 O termo “Adotado” (ℓ.11) concorda, em gênero e número, com o nome “sistema” (ℓ.10). Caso fosse flexionado no feminino, concordando com o nome “impressão” (ℓ.12), a correção gramatical e a coerência do texto seriam mantidas.

Texto para os itens de 11 a 19

1 Quando era mais jovem, eu estudara um pouco de
filosofia, de lógica, e, da matemática, a análise dos geômetras
e a álgebra, três artes ou ciências que pareciam poder contribuir
4 com algo para o meu propósito. No entanto, analisando-as,
percebi que, quanto à lógica, seus silogismos e a maior parte de
seus outros preceitos servem mais para explicar aos outros as
7 coisas já conhecidas, ou mesmo, como a arte de Lúlio, para
falar, sem formar juízo, daquelas que são ignoradas, do que
para aprendê-las.

10 Por esse motivo, considere ser necessário buscar
algum outro método que, contendo as vantagens desses três,
estivesse desembaraçado de seus defeitos. A grande quantidade
13 de leis fornece com frequência justificativas aos vícios, de
forma que um Estado é mais bem dirigido quando, apesar de
possuir muito poucas delas, são estritamente cumpridas;
16 portanto, em lugar desse grande número de preceitos de que se
compõe a lógica, achei que me seriam suficientes os quatro
seguintes, uma vez que tomasse a firme e inalterável resolução
19 de não deixar uma só vez de observá-los.

O primeiro era o de nunca aceitar algo como
verdadeiro que eu não conhecesse claramente como tal; ou
22 seja, de evitar cuidadosamente a pressa e a prevenção, e de
nada fazer constar de meus juízos que não se apresentasse tão
clara e distintamente a meu espírito que eu não tivesse motivo
25 algum de duvidar dele. O segundo, o de repartir cada uma das
dificuldades que eu analisasse em tantas parcelas quantas
fossem possíveis e necessárias a fim de melhor solucioná-las.
28 O terceiro, o de conduzir por ordem meus pensamentos,
iniciando pelos objetos mais simples e mais fáceis de conhecer,
para elevar-me, pouco a pouco, como galgando degraus, até o
31 conhecimento dos mais compostos, e presumindo até mesmo
uma ordem entre os que não se precedem naturalmente uns aos
outros. E o último, o de efetuar em toda parte relações
34 metódicas tão completas e revisões tão gerais que eu tivesse a
certeza de nada omitir.

De acordo com as ideias do texto acima, julgue os próximos itens.

- 11 De acordo com o texto, “a arte de Lúlio” (ℓ.7) consistia na arte de fazer discursos tautológicos.
- 12 De acordo com o texto, a filosofia, a lógica e a matemática servem mais para explicar aos outros as coisas já conhecidas que para possibilitar o aprendizado sobre essas coisas.
- 13 Infere-se da leitura do texto que a existência de uma grande quantidade de leis pode não ser favorável a um Estado.

No que se refere à estrutura linguística do texto, julgue os itens subsequentes.

- 14 A forma verbal “são” (ℓ.15) concorda em número com o nome “leis” (ℓ.13).
- 15 A oração “de que se compõe a lógica” (ℓ.16-17) corresponde, em sentido e em correção gramatical, à oração **que a lógica é composta**, portanto a substituição de uma pela outra não acarretaria prejuízo ao texto.
- 16 O trecho “e de nada (...) dele” (ℓ.22-25) poderia ser reescrito, com manutenção da correção gramatical e das ideias do texto, de uma das seguintes formas: (a) e de fazer constar de meus juízos apenas o que se apresentasse tão clara e distintamente a meu espírito que eu não tivesse nenhum motivo de duvidar dele; ou (b) e de fazer constar de meus juízos nada que não se apresentasse tão clara e distintamente a meu espírito que eu não tivesse nenhum motivo de duvidar dele.
- 17 O emprego do sinal indicativo de crase no “a” que constitui a expressão “pouco a pouco” (ℓ.30) é facultativo.
- 18 O emprego da vírgula logo após a oração “Quando era mais jovem” (ℓ.1) é facultativo.
- 19 Sem prejuízo para a correção gramatical e a coerência do texto, o trecho “estivesse desembaraçado de seus defeitos” (ℓ.12) poderia ser substituído, no texto, por: não apresentasse os defeitos encontrados na filosofia, na lógica e na matemática.

Texto para os itens de 20 a 27

1 As longas séries de razões, todas simples e fáceis, que
os geômetras costumam utilizar para chegar às suas mais
difíceis demonstrações, tinham-me dado a oportunidade de
4 imaginar que todas as coisas com a possibilidade de serem
conhecidas pelos homens seguem-se umas às outras do mesmo
modo e que, uma vez que nos abstenhamos apenas de aceitar
7 por verdadeira qualquer uma que não o seja, e que observemos
sempre a ordem necessária para deduzi-las umas das outras,
não pode existir nenhuma delas tão afastada que não se chegue
10 ao final, nem tão escondida que não se descubra.

Decidi passar em revista as diferentes ocupações que
os homens exercem nesta vida, para procurar escolher a
13 melhor; e, sem pretender dizer nada a respeito das dos outros,
achei que o melhor a fazer seria continuar naquela mesma em
que me encontrava, ou seja, utilizar toda a minha existência em
16 cultivar minha razão, e progredir o máximo que pudesse no
conhecimento da verdade, de acordo com o método que me
determinara. Eu sentira tão grande felicidade, a partir do
19 momento em que começara a servir-me deste método, que não
acreditava que, nesta vida, se pudessem receber outros mais
doces, nem mais inocentes; e, descobrindo todos os dias, por
22 seu intermédio, algumas verdades que me pareciam deveras
importantes e geralmente ignoradas pelos outros homens, a
satisfação que isso me proporcionava preenchia de tal forma
25 meu espírito que tudo o mais não me atingia.

E, enfim, não saberia cercear os meus desejos, nem
estar contente, se não tivesse percorrido um caminho pelo qual,
28 julgando estar seguro da aquisição de todos os conhecimentos
de que fosse capaz, pensava estar também, pelo mesmo
método, seguro da aquisição de todos os verdadeiros bens que
31 em alguma ocasião se encontrassem ao meu alcance; tanto mais
que a nossa vontade, não estando propensa a seguir ou fugir a
qualquer coisa, a não ser que o nosso entendimento a
34 represente como boa ou má, é suficiente bem julgar para bem
agir, e julgar o melhor possível para também agir da melhor
maneira, ou seja, para adquirir todas as virtudes e, ao mesmo
37 tempo, todos os outros bens que se possam adquirir; e, quando
se tem certeza de que é assim, não se pode deixar de ficar
contente.

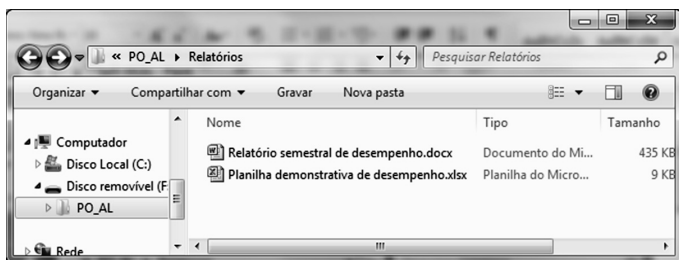
Idem, ibidem (com adaptações).

Julgue os próximos itens a seguir, relativos às ideias e à estrutura linguística do texto acima.




- 20 No texto, afirma-se que as séries de razões utilizadas pelos geômetras, embora sejam longas, são simples e fáceis.
- 21 O narrador do texto resignou-se diante da ocupação que escolheu para sua vida.
- 22 O emprego do sinal indicativo de crase na expressão “às suas mais difíceis demonstrações” (ℓ.2-3) é facultativo.
- 23 Está subentendida, após o pronome “outros” (ℓ.13), a palavra **métodos**.
- 24 O vocábulo “se” presente na linha 20 denota uma situação de incerteza quanto ao fato de se ter percorrido o caminho certo.
- 25 A oração “quando se tem certeza de que é assim” (ℓ.37-38) poderia ser reescrita, com manutenção da correção gramatical e da coerência do texto, da seguinte forma: quando se está seguro que é assim.
- 26 Da leitura do texto infere-se que agir bem se relaciona a saber julgar.
- 27 De acordo com o 1.º parágrafo, todas as coisas do mundo são passíveis de ser conhecidas pelos homens.

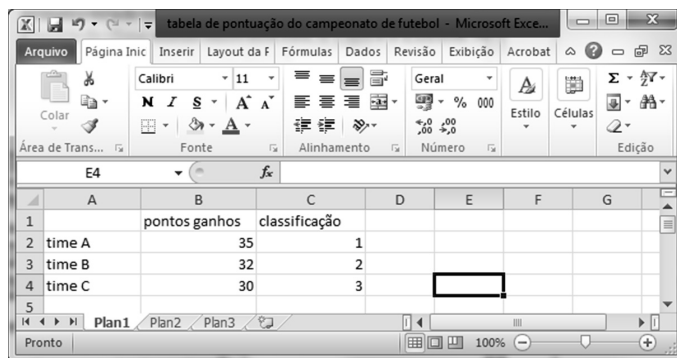
Com fundamento no **Manual de Redação da Presidência da República**, julgue os itens seguintes, a respeito da adequação do formato e da linguagem às correspondências oficiais.

- 28 Se um servidor da Assessoria Especial dirigir correspondência oficial ao diretor do Instituto de Criminalística da Perícia Oficial do Estado de Alagoas, ele deverá empregar, na redação desse documento, o pronome de tratamento Vossa Senhoria e o vocativo Senhor, acompanhado do nome do diretor.
- 29 O emprego do vocativo Ilustríssimo Senhor para autoridades que recebem o tratamento de Vossa Senhoria e para particulares confere a adequada distinção ao destinatário da comunicação oficial, no caso de esse ser uma autoridade do Estado.
- 30 A estrutura da exposição de motivos apresenta duas formas básicas, estabelecidas conforme a sua finalidade. Caso se deseje levar algum assunto ao conhecimento do presidente da República, deve-se adotar o padrão ofício; e caso se pretenda propor alguma medida ou submeter projeto de ato normativo, deve-se utilizar, também, o padrão ofício, seguindo-se alguns preceitos redacionais específicos, e o documento deve ser acompanhado de formulário de anexo, padronizado e devidamente preenchido.
- 31 A forma de tratamento a ser empregada em referência ao presidente do Congresso Nacional seria Digníssimo Senhor Presidente do Congresso Nacional.







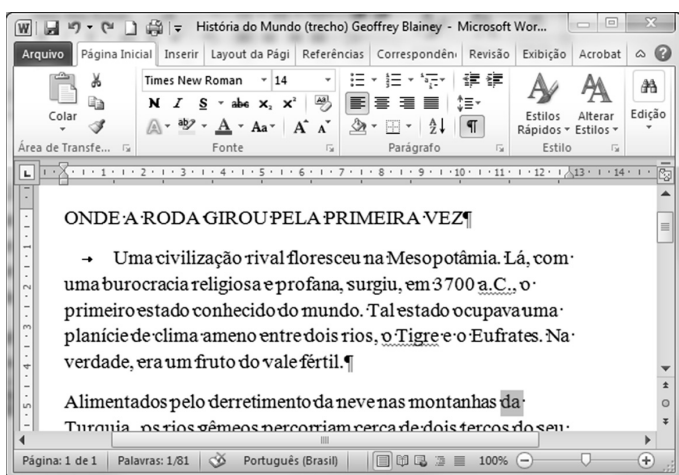
Considerando a figura acima, a qual ilustra uma janela do Windows 7, julgue os itens subsequentes.

- 32 Ao se clicar o botão , a ordem em que os dois arquivos da pasta estão exibidos será trocada.
- 33 Ao se clicar o ícone  Planilha demonstrativa de desempenho.xlsx e, em seguida, o botão , o arquivo Planilha demonstrativa de desempenho será movido para a Área de Trabalho do Windows.






A figura acima apresenta uma janela do Excel 2010 com parte de uma planilha que contém dados de times de um campeonato de futebol. Com relação a essa figura, julgue os itens que se seguem.

- 37 O botão  possui funcionalidades que podem ser utilizadas para excluir todos os elementos da célula ou remover seletivamente a formatação, o conteúdo ou os comentários.
- 38 Ao se clicar a célula B1 e, em seguida, o botão , será aplicado negrito ao conteúdo dessa célula. Se, em seguida, for clicado o botão  e a célula C1, será aplicado negrito também à célula C1.
- 39 Ao se selecionar as células B2, B3 e B4 e se clicar o botão , os conteúdos das células selecionadas serão reordenados em ordem decrescente.





A figura acima mostra uma janela do Word 2010 com um texto em processo de edição. Com relação a essa figura e ao Word 2010, julgue os itens a seguir.

- 34 Um clique triplo entre as letras O e D da palavra RODA fará com que toda a frase ONDE A RODA GIROU PELA PRIMEIRA VEZ seja selecionada.
- 35 A seguinte sequência de ações permitirá copiar a palavra “fértil” em outro ponto do texto: aplicar um clique duplo sobre a palavra “fértil”; clicar o botão ; clicar no local onde se deseja colocar a cópia da palavra; clicar o botão .
- 36 Ao se clicar o botão , as marcas de parágrafo e outros símbolos de formatação exibidos no texto serão ocultados.



A figura acima representa uma janela do Google Chrome com a visualização de uma página da Web. Com relação a essa figura, julgue os itens subsequentes.

- 40 Ao se clicar o botão , as palavras alagoas e estado serão pronunciadas no alto-falante do computador por um mecanismo de síntese de voz provido pelo Google.
- 41 Caso se clique o botão , a página inicial do Google será sempre exibida.

RASCUNHO

Considerando os símbolos lógicos usuais e as representações das proposições lógicas por meio de letras maiúsculas, julgue os itens seguintes, relacionados à lógica proposicional.

- 42 A proposição $[(P \wedge Q) \vee R] \vee Q \Leftrightarrow [P \vee R \vee Q] \wedge (R \vee Q)$ é uma tautologia.
- 43 Considere o seguinte argumento:
“Todo criminoso identificado é quase sempre levado à prisão. Os peritos sempre conseguem encontrar, na cena de um crime não adulterada, alguma maneira de identificar o criminoso. Logo, toda vez que os peritos são chamados e investigam a cena do crime, o criminoso é capturado e levado à prisão.”
É correto afirmar que esse é um argumento válido, classificado como um argumento indutivo.
- 44 De acordo com as leis de Morgan, a proposição $\neg[P \vee (\neg Q)]$ é equivalente à proposição $(\neg P) \vee Q$.

Um instituto de criminalística concluiu várias investigações criminais por meio de coleta, análise e identificação de impressões digitais, utilizando uma combinação dos seguintes métodos: aplicação de ninidrina, aplicação de cianoacrilato e aplicação de corantes fluorescentes (DFO, ardrex, rondamina 6G etc.). Em 70 investigações concluídas até determinada data, utilizou-se a aplicação de ninidrina; em 80, utilizou-se a aplicação de cianoacrilato; em 40, utilizou-se somente a aplicação de corantes fluorescentes; em 20, utilizaram-se a aplicação de corantes fluorescentes e a aplicação de ninidrina; em 12, foram utilizadas a aplicação de ninidrina e cianoacrilato; e, em 8, foram utilizados os três métodos de identificação.

Com base nessas informações, julgue os itens que se seguem.

- 45 Até a referida data, mais de 200 investigações haviam sido concluídas utilizando-se os métodos citados.
- 46 Mais de 44 investigações foram concluídas utilizando-se somente a aplicação de ninidrina.
- 47 Menos de 15 investigações foram concluídas utilizando-se exatamente dois dos três métodos.
- 48 Em mais de 94 investigações concluídas não se utilizou da aplicação de cianoacrilato.

Considere que a, b, c e d sejam números inteiros positivos, maiores que 1 e $a < b < c < d$, e que S seja o conjunto de todas as possíveis somas de dois, três ou quatro desses números. Com base nessas informações, julgue os itens seguintes.

- 49 Se os dois menores elementos de S forem 7 e 9, então $b = c + 2$.
- 50 O conjunto S tem pelos menos doze elementos.
- 51 Se o maior elemento de S for igual a vinte, então $c \leq 7$.

Acerca de ética e moral, julgue os itens que se seguem.

- 52 A ética e a moral se complementam; todavia, a primeira relaciona-se ao sentimento de justiça social e, por vezes, é confundida com as leis.
- 53 A ética, enquanto norma de conduta, refere-se às situações particulares e quotidianas que direcionam a prática das pessoas.

Julgue o próximo item, acerca de ética e valores.

- 54 Os valores orientam o comportamento ético e permitem classificar os comportamentos dentro de qualquer escala de desenvolvimento moral.

Julgue os itens a seguir, no que se refere às disposições do Código de Ética Profissional do Servidor Público Civil do Poder Executivo Federal, Decreto n.º 1.171/1994.

- 55 Desempenhar com presteza as atribuições do seu cargo e não omitir a publicação de quaisquer atos administrativos é dever do servidor.
- 56 Além do trabalho de orientação e aconselhamento sobre a ética profissional, cabe às comissões de ética aplicar sanções disciplinares contra os servidores civis.
- 57 Para ser considerado válido, o ato administrativo deve ser compatível com a moralidade administrativa.

No que diz respeito ao regime disciplinar do servidor público federal estabelecido na Lei n.º 8.112/1990, julgue os itens seguintes.

- 58 Exceto em situações emergenciais e transitórias, o servidor público não poderá incumbir a outro servidor público atribuições estranhas ao cargo que ocupa.
- 59 É vedado o acúmulo de remunerações pelo exercício de cargos públicos que compreendam dois cargos ou empregos privativos de profissionais de saúde, com profissões regulamentadas, ainda que haja compatibilidade de horários.

Acerca dos atos de improbidade administrativa praticados pelos servidores públicos, julgue os itens subsequentes.

- 60 Deixar de praticar, indevidamente, atos de ofício constitui ato de improbidade administrativa que atenta contra os princípios da administração pública.
- 61 Uma vez permitida a realização de despesas não autorizadas em lei ou regulamentadas, ocorrerá o ressarcimento integral do dano.

Mário foi surpreendido no momento em que praticava crime de ação penal pública condicionada à representação. A partir dessa situação hipotética, julgue os itens a seguir.

- 62 Mário será identificado criminalmente pelo processo datiloscópico, procedimento obrigatório e indispensável em caso de indiciamento.
- 63 A prisão em flagrante é ilegal, por ser vedada em caso de crimes que se submetem à ação penal pública condicionada. Nesse caso, para apurar a conduta de Mário, o delegado poderá, *ex officio*, instaurar inquérito policial.
- 64 Na hipótese de ser o crime inafiançável, Mário permanecerá preso durante toda a investigação criminal.
- 65 A nota de culpa deve ser entregue a Mário no momento da prisão em flagrante, sob pena de a autuação posterior tornar-se ilegal e passível de livramento imediato por *habeas corpus*.

Acerca de diligências e outras providências em caso de investigação criminal, julgue os itens subsequentes.

- 66 É vedada a interceptação telefônica quando a prova puder ser feita por outros meios disponíveis, o que comprova a excepcionalidade desse meio de prova.
- 67 A busca domiciliar deve ser feita durante o dia, sem necessidade de mandado judicial quando realizada pela própria autoridade policial pessoalmente.
- 68 A prisão temporária somente pode ser decretada durante o inquérito policial e por ordem judicial. Uma vez esgotado o prazo legal, o preso deve ser imediatamente solto, independentemente de alvará de soltura.

Acerca do processo penal brasileiro, julgue os itens subsequentes.

- 69 A lei dispõe que o assistente de acusação será admitido durante o curso da ação penal pública, mas é omissa quanto à sua habilitação durante o inquérito policial.
- 70 A ação penal privada subsidiária da pública é admitida nos casos em que o Ministério Público perde o prazo para o oferecimento da denúncia, mas vedada quando ele requer o arquivamento do inquérito policial.
- 71 A lei processual penal tem aplicação imediata, sem retroagir, independentemente de seu conteúdo ser mais benéfico para o acusado.

A respeito da organização político-administrativa do Estado, julgue os itens a seguir.

- 72 A exploração direta ou indireta dos serviços locais de gás canalizado é competência administrativa do município.
- 73 Cabe à União a organização e a manutenção do Poder Judiciário e do Ministério Público do Distrito Federal.

A respeito do Poder Executivo, julgue o item subsequente.

- 74 A concessão de indulto a presos é uma atribuição do presidente da República que pode ser delegada a um ministro de Estado.

No que diz respeito ao Poder Legislativo, julgue os itens seguintes.

- 75 Compete à comissão parlamentar de inquérito indiciar as pessoas investigadas que tenham cometido infrações penais apuradas nos inquéritos.
- 76 Ainda que um veto tenha sido rejeitado pelo Congresso Nacional, o presidente da República deverá promulgar a lei.
- 77 O Congresso Nacional é titular de atribuição investigatória.

A respeito do Poder Judiciário, julgue os itens seguintes.

- 78 Uma causa em que um Estado estrangeiro for litigar contra um município deverá ser proposta na justiça federal.
- 79 O Poder Judiciário municipal é representado pelo juiz de direito em exercício na comarca.
- 80 A justiça do trabalho é um órgão jurisdicional integrante do ordenamento normativo federal.

Com relação às funções essenciais à justiça, julgue o item subsecutivo.

- 81 Há previsão legal para a criação e organização de defensorias públicas municipais.

No que se refere à aplicabilidade das normas constitucionais, julgue os itens que se seguem.

- 82 É de natureza programática a norma constitucional mediante a qual se confere competência à União para elaborar e executar planos nacionais e regionais de ordenação do território e de desenvolvimento econômico e social.
- 83 Norma constitucional em que se estabelece a possibilidade de realização de interceptação telefônica, conforme hipóteses e forma estabelecidas em lei, é exemplo de norma de eficácia contida.

Com base no disposto na Constituição Federal de 1988, julgue o próximo item, relativos a direitos e garantias fundamentais.

- 84 A proteção conferida à honra e à imagem das pessoas não se estende às pessoas jurídicas, por se tratar de proteção inerente à pessoa física.

Com relação à organização político-administrativa do Estado brasileiro, julgue o item subsecutivo.

- 85 Considere que tenha sido editada lei estadual que previa o cancelamento de multas de trânsito impostas aos motoristas em certa rodovia estadual. Nessa situação, a despeito de a competência para legislar sobre trânsito e transporte ser privativa da União, a criação dessa lei é constitucional, haja vista que as multas canceladas foram emitidas em rodovia estadual, e não em federal.

Acerca das funções essenciais à justiça, julgue o próximo item.

- 86 Considere que tenha sido editada lei estadual que estabelecia a subordinação administrativa da defensoria pública estadual ao governador do estado. Nessa situação, a criação dessa lei é inconstitucional, dado que a defensoria pública é dotada de autonomia funcional e administrativa.

No que se refere aos atos administrativos, julgue os próximos itens.

- 87 Quando a administração pública emite uma certidão para o particular, certificando situação existente, pratica um ato administrativo ordinatório.
- 88 O Poder Judiciário pode apreciar de ofício a nulidade de ato administrativo que não tenha sido objeto de impugnação judicial.
- 89 O ato de aposentadoria compulsória constitui exemplo de ato administrativo vinculado e pode ser anulado por vício de legalidade.

Julgue os itens subsequentes relativos aos agentes públicos.

- 90 Considere-se que, em sede de processo administrativo disciplinar, o relatório final da comissão processante tenha sugerido a aplicação da penalidade de suspensão ao agente público e que a autoridade julgadora, motivadamente e com base nas provas dos autos, tenha aplicado a pena de demissão. Nessa situação, embora motivada, a penalidade não poderia ter sido agravada, uma vez que a legislação de regência veda em caráter absoluto o agravamento, por parte da autoridade competente, da penalidade sugerida pela comissão.
- 91 De acordo com o que estabelece a Lei n.º 8.112/90, para que seja beneficiário de pensão por morte de servidor civil, o companheiro ou a companheira designado deve comprovar união estável como entidade familiar e dependência econômica em relação ao *de cuius*.
- 92 Considerando-se que a administração pública, ao dispensar servidor público investido em função pública de caráter precário, não tenha aberto prévio processo administrativo, é correto afirmar que, nessa situação, o ente público agiu dentro dos limites legais, já que, em regra, o servidor público ocupante de função pública de natureza precária pode ser exonerado *ad nutum*, não se exigindo, para a prática do ato, a abertura de prévio processo administrativo.

No que concerne aos poderes e princípios da administração pública, julgue os itens subsecutivos.

- 93** O princípio da responsabilidade objetiva do Estado adotado no ordenamento jurídico nacional não exclui a possibilidade de apuração de responsabilidade do agente público causador do dano a terceiro, embora deva se dar no âmbito de ação regressiva e mediante a comprovação de culpa ou dolo.
- 94** O poder hierárquico é exercido por entes da administração pública direta em relação aos órgãos integrantes da administração indireta.

Com relação à improbidade administrativa, julgue os próximos itens.

- 95** Caso determinado servidor revele fato sigiloso do qual tenha tido ciência em razão do exercício de suas atribuições, estará ele sujeito à perda da função pública, mas não à suspensão dos direitos políticos.
- 96** O servidor público que, para omitir ato de ofício a que estava obrigado, tenha recebido vantagem econômica de qualquer natureza, ainda que indireta, estará sujeito, além de outras sanções, ao pagamento de multa civil.

A respeito dos serviços públicos e da organização administrativa, julgue os itens seguintes.

- 97** As autarquias são criadas para o exercício de atividades típicas da administração pública, e, para tanto, são dotadas de autonomia orçamentária e patrimonial.
- 98** Ao criar empresa pública ou sociedade de economia mista para atuar na prestação de serviço público, o Estado transfere a essas entidades a própria titularidade do serviço, e não apenas a sua prestação, uma vez que tais entidades integram a própria estrutura organizacional do Estado.

Julgue os itens a seguir, acerca de crimes contra a administração pública, crimes hediondos e crimes contra a pessoa.

- 99** Considere que uma mulher, logo após o parto, sob a influência do estado puerperal, estrangule seu próprio filho e acredite tê-lo matado. Entretanto, o laudo pericial constatou que, antes da ação da mãe, a criança já estava morta em decorrência de parada cardíaca. Nessa situação, a mãe responderá pelo crime de homicídio, com a atenuante de ter agido sob a influência do estado puerperal.
- 100** Considere que os servidores públicos João e Ana, no exercício de suas funções, solicitaram para si vantagem indevida para retardar a prática de ato de ofício, mas somente João a recebeu. Nessa situação, ambos praticaram corrupção passiva.
- 101** É vedada a concessão de fiança à pessoa plenamente capaz que cometer homicídio simples, por ser considerado crime hediondo, e a pena a ser aplicada nesse caso será cumprida no regime inicialmente fechado.

No que se refere aos crimes contra a fé pública e contra o patrimônio e à imputabilidade, julgue os itens seguintes.

- 102** Diante de furto de objeto de pequeno valor cometido por réu primário, poderá o juiz limitar a pena ao pagamento de multa.
- 103** Considera-se crime contra a fé pública fraudar concurso público para órgão da administração direta do governo federal ou vestibular para universidade particular.
- 104** Se uma pessoa, de forma voluntária, embriagar-se completamente com o objetivo de matar seu desafeto e, no instante do ato, estiver incapaz de entender o caráter ilícito do fato, estará, por essa razão, isenta de pena.
- 105** Se uma lei ordinária alterar o Código Penal para estabelecer a maioria penal aos dezesseis anos, será julgada inconstitucional, pois a Constituição Federal de 1988 dispõe expressamente que são penalmente inimputáveis os menores de dezoito anos de idade.

Com relação ao crime consumado e tentado e à lei penal no tempo e no espaço, julgue os itens a seguir.

- 106** Considere que uma pessoa tenha sido denunciada pela prática de determinado fato definido como crime, que, em seguida, foi descriminalizado pela lei A. Posteriormente, foi editada a lei B, que revogou a lei A e voltou a criminalizar aquela conduta. Nessa situação, a última lei deve ser aplicada ao caso.
- 107** O crime omissivo próprio admite tentativa.

Acerca de aplicação da lei penal, concurso de crimes e culpabilidade, julgue os próximos itens.

- 108** Se uma pessoa com um único disparo de arma de fogo matar duas pessoas, poderá responder por concurso formal impróprio de crimes.
- 109** Segundo o princípio da territorialidade, se uma pessoa comete latrocínio em embarcação brasileira mercante em alto-mar, aplica-se a lei brasileira.
- 110** Se uma pessoa cometer determinado fato definido como crime e alegar que o fez em estrita obediência hierárquica à ordem não manifestamente ilegal, a sua culpabilidade será excluída diante da inexigibilidade de outra conduta.

Acerca da identificação criminal, julgue os seguintes itens.

- 111** As informações obtidas a partir da coincidência de perfis genéticos deverão ser consignadas em laudo pericial firmado por, pelo menos, um perito oficial devidamente habilitado.
- 112** Antes do trânsito em julgado da sentença condenatória, é vedado mencionar a identificação criminal do indiciado em atestados de antecedentes ou em informações não destinadas ao juízo criminal.
- 113** A identificação criminal poderá incluir a coleta de material biológico para a obtenção do perfil genético quando o documento apresentado for insuficiente para identificar cabalmente o indiciado.

Com relação ao Registro de Identidade Civil (RIC), julgue os itens subsecutivos.

- 114** Mediante o número único de RIC, cada cidadão, desde que seja brasileiro nato, naturalizado ou estrangeiro residente no país, será identificado em suas relações com a sociedade e com os organismos governamentais e privados.
- 115** O RIC é gerado e fornecido pelo Ministério da Justiça, após a confirmação da unicidade da identificação do cidadão, com base no processo datiloscópico padrão decadactilar.

No que se refere à carteira de identidade e à apresentação e uso de documentos de identificação pessoal, julgue o item abaixo.

- 116** Para a expedição da carteira de identidade, não é exigida do interessado a apresentação de qualquer outro documento além dos originais da certidão de nascimento ou de casamento, não sendo admitida a apresentação desses documentos em cópias autenticadas.

No que se refere à improbidade administrativa, julgue os seguintes itens.

- 117** Aquele que, mesmo não sendo agente público, induza ou concorra para a prática do ato de improbidade ou dele se beneficie sob qualquer forma direta ou indireta, está sujeito às disposições da Lei de Improbidade Administrativa, no que couber.
- 118** A aplicação da pena de ressarcimento independe da efetiva ocorrência de dano ao patrimônio público ocasionado por ato de improbidade administrativa.

No que se refere ao abuso de autoridade e aos juizados especiais cíveis e criminais, julgue os itens subsequentes.

- 119** O ato lesivo ao patrimônio de pessoa jurídica, quando praticado com abuso ou desvio de poder ou sem competência legal, constitui abuso de autoridade.
- 120** O insolvente civil e a massa falida não podem ser partes em processos cíveis instituídos com base na Lei dos Juizados Especiais Cíveis e Criminais.

PROVA DISCURSIVA

- Nesta prova, faça o que se pede, usando, caso deseje, o espaço para rascunho indicado no presente caderno. Em seguida, transcreva o texto para a **FOLHA DE TEXTO DEFINITIVO DA PROVA DISCURSIVA**, no local apropriado, pois **não será avaliado fragmento de texto escrito em local indevido**.
- Qualquer fragmento de texto que ultrapassar a extensão máxima de linhas disponibilizadas será desconsiderado.
- Na **folha de texto definitivo**, identifique-se apenas no cabeçalho da primeira página, pois **não será avaliado** texto que tenha qualquer assinatura ou marca identificadora fora do local apropriado.
- Ao domínio do conteúdo serão atribuídos até **20,00 pontos**, dos quais até **1,00 ponto** será atribuído ao quesito apresentação (legibilidade, respeito às margens e indicação de parágrafos) e estrutura textual (organização das ideias em texto estruturado).

Não é fácil estabelecer distinção entre moralidade administrativa e probidade administrativa. A rigor, pode-se afirmar que os significados dessas expressões são idênticos, haja vista que ambas se relacionam com a ideia de honestidade na administração pública. Quando se exige probidade ou moralidade administrativa, isso significa que não basta a legalidade formal, restrita, da atuação administrativa, com observância da lei; é preciso também a observância de princípios éticos, de lealdade, de boa-fé, de regras que assegurem a boa administração e a disciplina interna na administração pública.

Maria Sylvia Zanella Di Pietro. **Direito Administrativo**.
26.ª ed. São Paulo: Atlas, 2013, p. 885 (com adaptações).

Considerando o fragmento de texto acima, que têm caráter motivador, redija um texto dissertativo, com base na Lei n.º 8.429/1992, acerca da ação de improbidade administrativa como instrumento processual de defesa da moralidade administrativa, abordando, necessariamente, os seguintes aspectos:

- ▶ modalidades dos atos de improbidade administrativa; [valor: 8,00 pontos]
- ▶ sanções aplicáveis aos atos de improbidade administrativa; [valor: 6,00 pontos]
- ▶ possibilidade de apuração dos atos de improbidade administrativa concomitantemente nas esferas penal, cível e administrativa. [valor: 5,00 pontos]

RASCUNHO

1	
2	
3	
4	
5	
6	
7	
8	
9	
10	
11	
12	
13	
14	
15	
16	
17	
18	
19	
20	
21	
22	
23	
24	
25	
26	
27	
28	
29	
30	