

GOVERNO DO ESTADO DA PARAÍBA
SECRETARIA DE ESTADO DA ADMINISTRAÇÃO – SEAD
PODER EXECUTIVO



GOVERNO
DA PARAÍBA

CONCURSO PÚBLICO
para provimento de vagas no cargo de

Técnico Administrativo

PROVA

P

ATENÇÃO:
Verifique se o tipo de prova deste caderno de questões confere com o seu cartão de respostas



TRANSCREVA EM ESPAÇO DETERMINADO NO SEU CARTÃO DE RESPOSTAS A FRASE DO ESCRITOR JOSÉ AMÉRICO DE ALMEIDA PARA EXAME GRAFOTÉCNICO

"Ver bem não é ver tudo: é ver o que os outros não veem."

ATENÇÃO

● DURAÇÃO DA PROVA: 03h30min

● ESTE CADERNO CONTÉM 50 (CINQUENTA) QUESTÕES DE MÚLTIPLA ESCOLHA, CADA UMA COM 5 ALTERNATIVAS DE RESPOSTA – A, B, C, D e E – CONFORME DISPOSIÇÃO ABAIXO:

Disciplinas	Quantidade de questões	Valor de cada questão
Língua Portuguesa	15	2
Matemática	15	2
Informática Básica	10	2
Conhecimentos Gerais	10	2

● VERIFIQUE SE ESTE MATERIAL ESTÁ EM ORDEM, CASO CONTRÁRIO, NOTIFIQUE IMEDIATAMENTE O FISCAL.

● RESERVE OS 30 (TRINTA) MINUTOS FINAIS PARA MARCAR SEU CARTÃO DE RESPOSTAS.

LEIA AS INSTRUÇÕES ABAIXO

- Após identificado e instalado na sala, você não poderá consultar qualquer material, enquanto aguarda o horário de início da prova.
- Siga, atentamente, a forma correta de preenchimento do Cartão de Respostas, conforme estabelecido no próprio.
- Não haverá substituição do Cartão de Respostas por erro do candidato.

Por motivo de segurança:

- O candidato só poderá retirar-se definitivamente da sala após 1 (uma) hora do início efetivo da prova;
- Somente faltando 1 (uma) hora para o término da prova, o candidato poderá retirar-se levando o seu Caderno de Questões;
- O candidato que optar por se retirar sem levar o seu Caderno de Questões, não poderá copiar suas respostas por qualquer meio. O descumprimento dessa determinação será registrado em ata e acarretará a eliminação do candidato; e
- Ao terminar a prova, o candidato deverá retirar-se imediatamente do local, não sendo possível nem mesmo a utilização dos banheiros e/ou bebedouros.
- Ao terminar a prova, é de sua responsabilidade entregar ao fiscal o Cartão de Respostas assinado. Não se esqueça dos seus pertences.
- Os três últimos candidatos deverão permanecer na sala até que o último candidato entregue o Cartão de Respostas.
- O fiscal de sala não está autorizado a alterar qualquer destas instruções. Em caso de dúvida, solicite a presença do coordenador local.

BOA PROVA!

www.funcab.org

Leia o texto abaixo e responda às questões propostas.

O espelho

Falar mal da TV virou moda. É “in” repudiar a baixaria, desancar o onipresente eletrodoméstico. E, num país em que os domicílios sem televisão são cada vez mais raros, o que não falta é especialista no assunto. [...]

Mas quando os “especialistas” criticam a TV, estão olhando para o próprio umbigo. Feita à nossa imagem e semelhança, ela é resultado do que somos enquanto rebanho globalizado. Macaqueia e realimenta nossos conceitos e preconceitos quando ensina, diariamente, o bê-á-bá a milhões de crianças.

Reclamamos que, na programação, só vemos sexo, violência e consumismo. Ora, isso é o que vemos também ao sair à rua. E, se fitarmos o espelho do banheiro com um pouco mais de atenção, levaremos um susto com a reprise em cartaz. Talvez por isso a TV nos choque, por nos mostrar, sem rodeios, a quantas anda o inconsciente coletivo. E não adianta dourar a pílula; já tentaram, mas não deu ibope.

Aqui e ali, alguns vão argumentar que cultivam pensamentos mais nobres e que não se sentem representados no vídeo. Mas a fração que lhes cabe está lá, escondidinha como é próprio às minorias. Está nos bons documentários, nas belas imagens dos eventos esportivos, na dramaturgia sensível, no humorismo que surpreende, nos desenhos e nas séries inteligentes, no entrevistador que sabe ouvir o entrevistado, nas campanhas altruístas.

Reclama-se muito que, nas novelas, os negros fazem, quase sempre, papéis de subalternos. Mas é essa a condição que a sociedade reserva à maioria deles, e também à maior parte dos nordestinos, na vida real. O que a televisão fornece é um retrato da desigualdade no país.

[...]

A televisão mostra muita violência o dia inteiro, gritam os pacifistas na sala de estar. Como se não houvesse milhões de Stallones, Gibsons, Bronsons, Van Dammes e Schwarzeneggers armados até os dentes no Afeganistão, Golfo Pérsico, Colúmbia, Mianmar, favelas brasileiras ou trincheiras angolanas.

É natural que uma parte de nós se revolte, o que parece tão compreensível quanto inócuo. Campanhas contra a baixaria televisiva lembram a piada do marido traído que encontra a mulher com o amante no sofá da sala e, no dia seguinte, vende o móvel para solucionar o problema. Garrotear a TV é tapar o sol com a peneira.

Enquanto a discussão ganha adeptos, continuamos devorando nosso tubo de imagem de estimação. Depois, de barriga cheia, saímos à rua para ratificar, legitimar com pensamentos, palavras e atitudes, que as coisas são mesmo assim e que, pelo jeito, a reprise continuará.

Aquele repórter sensacionalista que repete à exaustão a cena de linchamento, o apresentador que tripudia sobre o drama do desvalido, a loura que vê na criança um consumidor a mais, o jovem que tem num “reality show” desumano a alternativa para sua falta de horizonte, a menina precocemente erotizada, no fundo, somos todos nós. (MIGLIACCIO, Marcelo. *Folha de S.Paulo*. 19/10/2003)

Questão 01

Qual é a ideia central do texto?

- A) A sociedade é uma consequência das imagens televisivas.
- B) A TV espelha a sociedade em que vivemos.
- C) É necessário substituir a TV por outra forma de entretenimento.
- D) A televisão é insubstituível nos lares brasileiros.
- E) Os programas televisivos sempre foram de baixa qualidade.

Questão 02

Assinale a opção em que há correspondência entre o trecho e o conteúdo dos parênteses.

- A) “E não adianta dourar a pílula; já tentaram, mas não deu ibope.” (conotação)
- B) “Reclamamos que, na programação, só vemos sexo, violência e consumismo.” (conotação)
- C) “Mas quando os ‘especialistas’ criticam a TV, estão olhando para o próprio umbigo.” (denotação)
- D) “[...] levaremos um susto com a reprise em cartaz.” (denotação)
- E) “[...] continuamos devorando nosso tubo de imagem de estimação.” (denotação)

Questão 03

Qual das alternativas é correta em relação às ideias veiculadas no texto?

- A) Só a intervenção daqueles que cultivam pensamentos mais nobres é capaz de transformar a sociedade violenta em que vivemos.
- B) A parte da população que cultivava pensamentos mais nobres não consegue representação no conteúdo dos programas televisivos.
- C) A revolta de parte da população brasileira se justifica a partir do momento em que a televisão brasileira exclui a programação de qualidade.
- D) Apesar das críticas à TV, como mídia que apresenta conteúdo de sexo, violência e consumismo, ela apenas reproduz a sociedade brasileira.
- E) É direito da população reclamar de um conteúdo televisivo que mancha a reputação de toda a sociedade brasileira.

Questão 04

O substantivo REBANHO, no segundo parágrafo, é coletivo, por indicar uma multiplicidade de seres da mesma espécie, embora esteja no singular. Assinale a opção em que o elemento entre parênteses está corretamente relacionado com o substantivo coletivo.

- A) Armada (armas de fogo)
- B) Cáfila (soldados)
- C) Nuvem (insetos)
- D) Réstia (aves em voo)
- E) Fauna (plantas de uma região)

Questão 05

A oração subordinada, destacada em “Macaqueia e realimenta nossos conceitos e preconceitos QUANDO ENSINA, DIARIAMENTE, O BÊ-Á-BÁ A MILHÕES DE CRIANÇAS.”, classifica-se como:

- A) substantiva objetiva indireta.
- B) substantiva predicativa.
- C) adverbial final.
- D) adverbial conformativa.
- E) adverbial temporal.

Questão 06

Assinale a opção que apresenta, correta e respectivamente, a função sintática de cada um dos pronomes destacados em: “Mas a fração QUE LHES cabe está lá, escondidinha como é próprio às minorias.”

- A) Sujeito – objeto indireto
- B) Objeto direto – objeto indireto
- C) Predicativo – objeto direto
- D) Adjunto adverbial – sujeito
- E) Complemento nominal – sujeito

Questão 07

Assinale a opção que completa, respectivamente, as lacunas da frase abaixo, de acordo com a norma culta da língua.

Assistindo ___ novela na casa dos vizinhos e sem se preocupar com ___ presença dos estranhos, ela começou ___ chorar.

- A) a – a – à
- B) a – à – a
- C) à – a – a
- D) à – à – a
- E) a – à – à

Questão 08

O prefixo da palavra destacada em: “[...] quase sempre, papéis de SUBALTERNOS.” denota:

- A) preconceito.
- B) privação.
- C) excesso.
- D) inferioridade.
- E) mudança.

Questão 09

Assinale a palavra do texto que foi acentuada seguindo a mesma regra de ALTRUISTAS.

- A) sensível
- B) país
- C) inócuo
- D) domicílios
- E) séries

Questão 10

Apenas uma das frases abaixo está correta quanto à concordância verbal. Assinale-a.

- A) Aqui se encontra vários aparelhos à venda.
- B) Devolve-se os valores retidos como sinal.
- C) Percebe-se alguns defeitos de fabricação.
- D) Elogiou-se as atitudes do vendedor.
- E) Precisa-se de vendedores com experiência.

Questão 11

Assinale a opção que apresenta, correta e respectivamente, a classe gramatical a que pertencem as palavras destacadas no trecho abaixo.

“Aquele repórter SENSACIONALISTA que repete à exaustão a cena de LINCHAMENTO, o apresentador que tripudia sobre o drama do desvalido, a loura que vê na criança um consumidor A mais, o JOVEM que tem num ‘reality show’ desumano a alternativa para sua falta de horizonte, a menina PRECOCAMENTE erotizada, no fundo, somos todos nós.”

- A) substantivo – substantivo – artigo – substantivo – adjetivo
- B) advérbio – adjetivo – artigo – adjetivo – adjetivo
- C) advérbio – verbo – artigo – adjetivo – advérbio
- D) adjetivo – substantivo – preposição – substantivo – advérbio
- E) adjetivo – verbo – preposição – adjetivo – advérbio

Questão 12

A que palavra do trecho abaixo o pronome destacado se refere?

“Aqui e ali, alguns vão argumentar que cultivam pensamentos mais nobres e que não se sentem representados no vídeo. Mas a fração que LHES cabe está lá, escondidinha como é próprio às minorias.”

- A) alguns
- B) cultivam
- C) pensamentos
- D) nobres
- E) representados

Leia as charges abaixo e responda às questões 13, 14 e 15.



Questão 13

Relacionando-se as duas charges, conclui-se que:

- A) É responsabilidade da família controlar o conteúdo da programação televisiva a que as crianças assistem.
- B) Os meios de comunicação vêm abordando, com frequência, a problemática da alienação imposta pela TV.
- C) A TV é ambivalente: por um lado, aliena as pessoas; por outro, desenvolve conhecimento e reflexão.
- D) A censura aos programas de televisão acaba por impedir o acesso das crianças ao conteúdo cultural veiculado.
- E) A TV é uma mídia capaz de veicular entretenimento e cultura, promovendo união familiar.

Questão 14

Na segunda charge, o verbo DESLIGAR encontra-se no:

- A) pretérito mais-que-perfeito do indicativo.
- B) futuro do pretérito do indicativo.
- C) presente do indicativo.
- D) presente do subjuntivo.
- E) imperativo afirmativo.

Questão 15

Dependendo do contexto, as preposições podem expressar ideias diferentes. Na fala da segunda charge: "Mas é um documentário sobre o Henri Cartier-Bresson!", a única preposição presente expressa:

- A) contradição.
- B) assunto.
- C) espaço superior.
- D) instrumento.
- E) autoria.

MATEMÁTICA

Questão 16

Qual o número natural que ao ser dividido por 9 tem quociente 7 e deixa o maior resto possível?

- A) 64
- B) 69
- C) 71
- D) 83
- E) 85

Questão 17

Sendo $2^3 \cdot 3^y \cdot 5^x$ a fatoração do número 1800 em bases primas, o valor de $x + y$ é:

- A) 1
- B) 2
- C) 3
- D) 4
- E) 5

Questão 18

Fernando comprou 80 balas e dividiu entre seus sobrinhos, em partes diretamente proporcionais as suas idades.

SOBRINHOS	IDADES
Ana	2 anos
Paulo	3 anos
Maria	5 anos

O número de balas que Paulo recebeu foi:

- A) 8
- B) 12
- C) 16
- D) 24
- E) 40

Questão 19

João comprou todos os presentes de Natal dos seus filhos numa única loja e pagou R\$ 600,00 à vista, depois de um desconto de 25% do valor total da compra. O valor, em reais, que João pagaria, pela mesma compra, sem o desconto, seria:

- A) R\$ 450,00
- B) R\$ 650,00
- C) R\$ 700,00
- D) R\$ 750,00
- E) R\$ 800,00

Questão 20

José investiu R\$ 900,00 a uma taxa de 2% ao mês durante 8 meses. Retirou a metade dos juros desse período e comprou uma calça jeans. O valor, em reais, da calça jeans, foi:

- A) R\$ 36,00
- B) R\$ 48,00
- C) R\$ 72,00
- D) R\$ 80,00
- E) R\$ 86,00

Questão 21

Marcos trabalha quatro horas por dia, e leva 18 dias para realizar um determinado trabalho. Quantas horas Marcos precisaria trabalhar diariamente para realizar o mesmo trabalho em seis dias?

- A) 6
- B) 8
- C) 10
- D) 12
- E) 16

Questão 22

O conjunto solução da expressão numérica

$$E = \frac{3 \cdot 4 + 5 \cdot 6 - 2 \cdot 5}{(4 \cdot 2)^2}, \text{ é:}$$

- A) 0,5
- B) 0,6
- C) 0,7
- D) 0,8
- E) 1,2

Questão 23

A representação correta do intervalo real definido por $N = [2; 7[$, na reta real é:

- A)
- B)
- C)
- D)
- E)

Questão 24

Em um grupo de amigos $\frac{1}{4}$ é casado, $\frac{1}{3}$ dos solteiros é noivo e os outros oito amigos são solteiros e sem noivas. O número total de amigos desse grupo é:

- A) 12
- B) 16
- C) 18
- D) 24
- E) 27

Questão 25

O quadro abaixo apresenta os presentes de Natal comprados pela família Pereira.

PRODUTOS	QUANTIDADES
Aparelhos eletrônicos	X
Roupas	Y
Brinquedos	Z
Perfumes	K

Dos 57 presentes comprados pela família Pereira, o número de aparelhos eletrônicos foi o triplo do número de roupas; o número de roupas foi o dobro do número de brinquedos e o número de perfumes foi a metade do número de brinquedos. O número de pessoas que comprou roupas foi:

- A) 20
- B) 18
- C) 16
- D) 14
- E) 12

Questão 26

Para fazer a divulgação de sua loja, Manoel encomendou 240 ímãs de geladeira e 400 calendários de mesa. Ele vai montar alguns kits contendo os brindes. Todo kit terá o mesmo número de brindes, uma parte de cada tipo e todos serão distribuídos sem deixar sobras, ou seja, o número máximo de kits idênticos que Manoel conseguirá montar utilizando todos os ímãs e calendários de mesa, será:

- A) 40
- B) 60
- C) 80
- D) 120
- E) 160

Questão 27

Sejam x e y dois números naturais e positivos de modo que o m.m.c $(x;y) = 216$ e o m.d.c $(x;y) = 6$, o valor de x , se y for igual a 54, será:

- A) 27
- B) 24
- C) 30
- D) 32
- E) 36

Questão 28

Se 20 funcionários trabalhando 16 horas diariamente, atendem 1600 pessoas em 30 dias, calcule o número mínimo de funcionários que, trabalhando 10 horas por dia, durante 20 dias, atenderá 1200 pessoas.

- A) 32
- B) 36
- C) 38
- D) 40
- E) 48

Questão 29

O quociente entre a soma e o produto das raízes da equação $x^2 - 4x + 1 = 0$, é:

- A) 4
- B) 2
- C) 1
- D) $\frac{1}{2}$
- E) $\frac{1}{4}$

Questão 30

Paulo investiu um capital a uma taxa de juros simples de 5% ao mês, rendendo R\$ 450,00 de juros em nove meses. O valor do capital investido por Paulo foi:

- A) R\$ 1.000,00
- B) R\$ 1.500,00
- C) R\$ 1.750,00
- D) R\$ 2.000,00
- E) R\$ 2.500,00

INFORMÁTICA BÁSICA

Questão 31

A melhor maneira de localizar na Internet arquivos Excel contendo gráficos e projeções na área de fiscalização é informando na caixa de pesquisa do Google a expressão:

- A) gráficos fiscalização filetype:xls
- B) gráficos fiscalização filetype:doc
- C) gráficos fiscalização filetype:excel
- D) gráficos fiscalização filetype:pdf
- E) gráficos fiscalização filetype:html

Questão 32

Observe abaixo a galeria de estilos do Microsoft Office Word 2007.



É correto afirmar que a configuração da fonte no estilo:

- A) Ênfase é negrito.
- B) Forte é itálico.
- C) Normal é caixa alta.
- D) Título 3 é negrito.
- E) Parágrafo é realce.

Questão 33

Ao mesmo tempo que a Internet se tornou um canal *on-line* para realizar negócios, também viabilizou a propagação de códigos maliciosos, como os listados abaixo, EXCETO:

- A) Vírus.
- B) Worm.
- C) Spam.
- D) Trojan.
- E) Spyware.

Questão 34

No Microsoft Office Excel 2007, a fórmula MÉDIA(F1:G3) retorna a média aritmética dos números contidos:

- A) nas células F1, G1, G2 e G3.
- B) em todas as células das linhas 1 a 3.
- C) em todas as células das colunas F e G.
- D) nas células F1 e G3.
- E) nas células F1, F2, F3, G1, G2 e G3.

Questão 35

Em aplicativos de email, o formato de mensagem "texto sem formatação" oferece suporte a:

- A) imagens no corpo da mensagem.
- B) arquivos anexos.
- C) negrito.
- D) itálico.
- E) fontes coloridas.

Questão 36

No Windows Explorer, a imagem  representa um(a):

- A) arquivo protegido.
- B) impressora.
- C) pasta.
- D) atalho.
- E) compartilhamento de rede.

Questão 37

O recurso que permite transferir um arquivo da Internet para um computador ou para um dispositivo de armazenamento de dados é chamado de:

- A) Recuperar fontes.
- B) Print.
- C) Hyperlink.
- D) Download.
- E) Upload.

Questão 38

No Microsoft Office Word 2007, o recurso “Orientação” existente na opção de menu “Layout de páginas” permite:






- A) selecionar os tamanhos de margem do documento inteiro.
- B) selecionar os tamanhos de margem da seção atual.
- C) alternar as páginas entre os layouts Retrato e Paisagem.
- D) escolher um tamanho de papel para a seção atual.
- E) dividir o texto em duas ou mais colunas.

Questão 39

Suponha que ao somar as despesas totais relacionadas num arquivo criado no Microsoft Office Excel 2007, o resultado apresentado seja 8989,33333 conforme imagem abaixo.

	A	B
44	Presentes	200
45		
46	Despesas pessoais	925,00
47		
48	Despesas totais	8989,33333
49		
50	Receita	8400
51		
52	Sobra...	-589,33

O recurso que objetiva reduzir o número de casas decimais apresentadas é:

- A) 
- B) 
- C) 
- D) 
- E) 

Questão 40

Ao se logar no Windows XP, é apresentada sua área de trabalho que pode conter os seguintes elementos, EXCETO:

- A) Cabeçalho.
- B) Ícones.
- C) Barra de Tarefas.
- D) Botão Iniciar.
- E) Segundo Plano.

CONHECIMENTOS GERAIS

Questão 41

No dia 30 de novembro de 2012, a presidente Dilma Rousseff concedeu o parecer sobre o projeto de lei aprovado na Câmara dos Deputados que muda as regras de distribuição dos *royalties* do petróleo. O parecer da presidente Dilma Rousseff na ocasião foi:

- A) Sancionou, com vetos em alguns artigos.
- B) Vetou todo o projeto de lei.
- C) Deixou a decisão para o Judiciário.
- D) Vetou a lei para os estados litorâneos.
- E) Sancionou, sem vetos, todo o projeto de lei.

Questão 42

Apesar do reduzido território, o estado da Paraíba possui uma significativa variedade de produção agropecuária. Entre as lavouras temporárias a seguir, a que possuiu a maior área plantada em 2011, no estado da Paraíba, foi:

- A) alho.
- B) fumo.
- C) cebola.
- D) feijão.
- E) girassol.

Questão 43

A região Nordeste possui elevada potencialidade para o uso de fontes renováveis de energia, tais como a solar e a eólica. No litoral, as condições são propícias à instalação de usinas de energia eólica, principalmente em razão do seguinte fator natural:

- A) Modificações ambientais por meio das ações do homem.
- B) Ocorrência do ponto geográfico mais oriental das Américas.
- C) Diferenças entre as pressões atmosféricas do mar e do continente.
- D) Atuação do fenômeno *El Niño* diminuindo a ação das chuvas.
- E) Predomínio de espaços vazios na vegetação da caatinga.

Questão 44

Nos últimos anos, o número de estudantes em instituições de Ensino Superior cresceu sistematicamente no Brasil. Alguns fatores ajudam a compreender esse resultado numericamente positivo, tais como melhoria das condições de vida, as novas necessidades do mercado de trabalho, além da criação de programas institucionais de incentivo aos estudantes. O programa que incentiva diretamente o ingresso de estudantes no Ensino Superior por meio da concessão de bolsas de estudo, parciais ou integrais, em cursos de graduação e sequenciais de formação específica, em instituições privadas, é:

- A) Enem
- B) Prouni.
- C) Bolsa Família.
- D) Enade.
- E) Encceja.

Questão 45

O Brasil é um dos países sul-americanos que mais atraem imigrantes internacionais. Segundo dados do Censo 2010 do IBGE, aproximadamente 455 mil pessoas imigraram para o Brasil nos últimos 10 anos, sendo que nos dois últimos anos houve a intensificação da entrada de estrangeiros no país. Considerando as duplas de países a seguir, a origem da maioria dos imigrantes, no Brasil, é dos seguintes países sul-americanos:

- A) Haiti e Bolívia.
- B) Chile e Equador.
- C) Paraguai e México.
- D) Equador e Haiti.
- E) Bolívia e Paraguai.

Questão 46

Apesar de o Brasil ser o quinto país do mundo em extensão territorial, sua população concentra-se nas chamadas áreas metropolitanas, que contêm hoje 28,8% dos habitantes do país e onde se verificam os mesmos problemas de outras cidades do mundo. O crescimento das cidades promove diversas transformações climáticas, sendo a principal, que ocorre no território urbano, é:

- A) O aumento dos níveis dos lençóis freáticos nas regiões centrais.
- B) A diminuição do efeito estufa com a aplicação de novas tecnologias.
- C) O menor impacto das chuvas com a construção das galerias pluviais.
- D) A expansão da coleta seletiva diminuindo a emissão de gases tóxicos.
- E) O aumento das temperaturas em comparação aos espaços rurais.

Questão 47

O Brasil configura-se como um conjunto de retalhos culturais que juntos formam a cultura brasileira. Cada região, entretanto, possui algumas peculiaridades culturais, tornando-se, por vezes, atrativos turísticos. A região Nordeste possui aspectos facilmente identificados pelos brasileiros como típicos da cultura nordestina. Entre as alternativas a seguir, assinale a que apresenta um personagem relacionado com o universo cultural do Nordeste, ligada a essa região, e que é identificado em todo o Brasil como típico da cultura nordestina.

- A) Cangaceiro.
- B) Sambista.
- C) Pescador.
- D) Capoeirista.
- E) Umbandista.

Questão 48

A Organização das Nações Unidas, por meio do Programa das Nações Unidas para o Desenvolvimento, utiliza o índice de desenvolvimento humano para compreender as desigualdades socioeconômicas e propor medidas que viabilizem melhores condições de vida, principalmente para os países subdesenvolvidos. O IDH é formado por indicadores econômicos e sociais, servindo de base para a construção de um *ranking* de desenvolvimento entre os lugares. Entre os indicadores a seguir, o utilizado pela ONU no IDH que abrange a perspectiva social é:

- A) Produto Interno Bruto.
- B) Taxa de natalidade.
- C) Renda *per capita*.
- D) Expectativa de vida.
- E) Índice de urbanização.

Questão 49

Nas últimas décadas, o mundo vive intensas transformações comportamentais por causa da evolução tecnológica. A computação, talvez, seja o setor com maior destaque nos novos padrões de organização das diferentes sociedades, gerando desde novos produtos até novos tipos de trabalhos. Existe atualmente uma tecnologia que permite fazer impressões sem que o computador esteja ligado à impressora por meio de um cabo. É possível, através de um celular conectado à Internet fazer uma impressão em alguns modelos de impressoras. A tecnologia que viabiliza esse tipo de impressão é:

- A) Jato de tinta.
- B) Matricial.
- C) Plotter.
- D) Wi Fi.
- E) Laser.

Questão 50

Apesar do pequeno território, o estado da Paraíba possui uma grande quantidade de municípios, sendo alguns litorâneos e muitos interioranos. Entre os municípios a seguir, o que possui a característica de o sol nascer primeiro em razão da sua posição geográfica é:

- A) Serra Branca.
- B) João Pessoa.
- C) Cajazeiras.
- D) Soledade.
- E) Taperoá.