

**TÉCNICO(A) DE CONTABILIDADE I****LEIA ATENTAMENTE AS INSTRUÇÕES ABAIXO.**

01 - Você recebeu do fiscal o seguinte material:

a) este caderno, com o enunciado das 70 questões das Provas Objetivas, todas com valor de 1,0 ponto, sem repetição ou falha, assim distribuídas:

LÍNGUA PORTUGUESA I	MATEMÁTICA	ATUALIDADES	CONHECIMENTOS ESPECÍFICOS
Questões 1 a 10	Questões 11 a 20	Questões 21 a 30	Questões 31 a 70

b) 1 **CARTÃO-RESPOSTA** destinado às respostas às questões objetivas formuladas nas provas.

02 - Verifique se este material está em ordem e se o seu nome e número de inscrição conferem com os que aparecem no **CARTÃO-RESPOSTA**. Caso contrário, notifique **IMEDIATAMENTE** o fiscal.

03 - Após a conferência, o candidato deverá assinar no espaço próprio do **CARTÃO-RESPOSTA**, preferivelmente a caneta esferográfica de tinta na cor preta.

04 - No **CARTÃO-RESPOSTA**, a marcação das letras correspondentes às respostas certas deve ser feita cobrindo a letra e preenchendo todo o espaço compreendido pelos círculos, a **caneta esferográfica de tinta na cor preta**, de forma contínua e densa. A LEITORA ÓTICA é sensível a marcas escuras; portanto, preencha os campos de marcação completamente, sem deixar claros.

Exemplo: (A) ● (C) (D) (E)

05 - Tenha muito cuidado com o **CARTÃO-RESPOSTA**, para não o **DOBRAR, AMASSAR ou MANCHAR**. O **CARTÃO-RESPOSTA SOMENTE** poderá ser substituído caso esteja danificado em suas margens superior ou inferior - **BARRA DE RECONHECIMENTO PARA LEITURA ÓTICA**.

06 - Para cada uma das questões objetivas, são apresentadas 5 alternativas classificadas com as letras (A), (B), (C), (D) e (E); só uma responde adequadamente ao quesito proposto. Você só deve assinalar **UMA RESPOSTA**: a marcação em mais de uma alternativa anula a questão, **MESMO QUE UMA DAS RESPOSTAS ESTEJA CORRETA**.

07 - As questões objetivas são identificadas pelo número que se situa acima de seu enunciado.

08 - **SERÁ ELIMINADO** do Processo Seletivo Público o candidato que:

a) se utilizar, durante a realização das provas, de máquinas e/ou relógios de calcular, bem como de rádios gravadores, *headphones*, telefones celulares ou fontes de consulta de qualquer espécie;

b) se ausentar da sala em que se realizam as provas levando consigo o Caderno de Questões e/ou o **CARTÃO-RESPOSTA**.

09 - Reserve os 30 (trinta) minutos finais para marcar seu **CARTÃO-RESPOSTA**. Os rascunhos e as marcações assinaladas no Caderno de Questões **NÃO SERÃO LEVADOS EM CONTA**.

10 - Quando terminar, entregue ao fiscal **O CADERNO DE QUESTÕES E O CARTÃO-RESPOSTA** e **ASSINE A LISTA DE PRESENÇA**.

**Obs.** O candidato só poderá se ausentar do recinto das provas após **1 (uma) hora** contada a partir do efetivo início das mesmas. Por razões de segurança, o candidato **não** poderá levar o Caderno de Questões.

11 - **O TEMPO DISPONÍVEL PARA ESTAS PROVAS DE QUESTÕES OBJETIVAS É DE 4 (QUATRO) HORAS.**

12 - As questões e os gabaritos das Provas Objetivas serão divulgados no segundo dia útil após a realização das provas na página da **FUNDAÇÃO CESGRANRIO** ([www.cesgranrio.org.br](http://www.cesgranrio.org.br)).

**LÍNGUA PORTUGUESA I****Poluição na floresta**

Na semana passada, o ar da capital do Acre, em plena Amazônia, estava mais poluído que o da cidade de São Paulo. O fenômeno, que se repete nos meses de agosto e setembro, é uma espécie de maldição geográfica combinada à irresponsabilidade ambiental. Localizado em uma confluência de correntes de vento que passam sobre o Pará, Mato Grosso e Rondônia, o Acre recebe boa parte da fumaça gerada pelas queimadas nos três estados, os líderes do *ranking* dos incêndios florestais.

10 Para piorar, tem um relevo que amplia o problema. A barreira das correntes de vento representada pela Cordilheira dos Andes faz as nuvens de fumaça pararem sobre o Acre. Com a tendência de aumento das queimadas na região, sabe-se que a situação se tornará cada vez mais grave.

15 Neste ano, a questão ganhou dimensão ainda mais dramática porque o estado vive uma das piores secas de sua história. Os níveis de umidade do ar — num lugar cercado de floresta úmida — chegam a rivalizar com os de Brasília, uma das cidades com o ar mais seco do país.

20 O ar seco e a falta de chuvas deixam a vegetação mais vulnerável ao fogo. O resultado é que os primeiros focos de queimada na região começam a aparecer pelo menos um mês antes do esperado. “O próprio Acre está produzindo muito da fumaça que o sufoca”, explica

25 o agrônomo Evandro Orfanó Figueiredo, da Embrapa. Segundo o cientista, cada hectare de mata consumido pelo fogo lança na atmosfera cerca de 115 toneladas de carbono. Isso é o mesmo que dizer que o peso das árvores é dissolvido e diluído no ar. Só em agosto, o número de focos de incêndio no estado foi cinco vezes maior que o registrado ao longo de todo o ano de 2004. O físico Saulo de Freitas, do Centro de Previsão de Tempo e Estudos climáticos do INPE, explica que a fumaça é apenas a parte visível do problema. No Hospital de Base de Rio Branco,

30 mais de 30% dos atendimentos médicos registrados em agosto foram de crianças e idosos com problemas respiratórios provocados pelo ar contaminado.

Revista *Veja*, 31 ago. 2005

**1**

De acordo com o texto, os estados que são os maiores responsáveis por incêndios florestais são:

- (A) Acre, Amazonas e São Paulo.
- (B) Acre, São Paulo e Pará.
- (C) Acre, Amazonas e Rondônia.
- (D) Pará, Mato Grosso e Rondônia.
- (E) Pará, Mato Grosso e Amazonas.

**2**

A irresponsabilidade ambiental a que se refere o texto se deve a:

- (A) nuvens de fumaça pairando no ar.
- (B) barreira de correntes de vento.
- (C) falta de chuvas da estação.
- (D) clima seco na região.
- (E) aumento de queimadas.

**3**

A causa de a capital do Acre receber parte da fumaça proveniente das queimadas é que:

- (A) há muitas florestas na região atingida pelos recentes incêndios.
- (B) a altura das Cordilheiras dos Andes não deixa o ar circular o suficiente.
- (C) ela se localiza no encontro de correntes de vento vindas de outros estados.
- (D) o relevo geográfico da região favorece a estagnação das nuvens de poluição.
- (E) o ar seco e a falta de chuvas deixam a vegetação mais favorável ao fogo.

**4**

O trecho “Os níveis de umidade do ar – num lugar cercado de floresta úmida – chegam a rivalizar com os de Brasília, uma das cidades com o ar mais seco do país.” (l. 17-19) traz uma noção de:

- (A) causa-efeito.
- (B) contraste.
- (C) detalhamento.
- (D) exemplificação.
- (E) escalonamento.

**5**

A palavra “isso”, na frase “Isso é o mesmo que dizer que ...” (l. 28), se refere ao fato de que:

- (A) diariamente, são lançadas cerca de 115 toneladas de carbono.
- (B) a quantidade de fumaça do incêndio é dissolvida e espalhada no ar.
- (C) a fumaça vem de cada hectare de mata consumido pelo fogo.
- (D) é jogado no ar um tanto de carbono equivalente à quantidade de mata queimada.
- (E) o peso das árvores é de 115 hectares em todo o território queimado.

**6**

Os incêndios florestais que ocorrem \_\_\_ partir de agosto caminham em direção \_\_\_ grandes cidades e tendem \_\_\_ se alastrar pela região.

Preenche corretamente as lacunas do período acima a opção:

- (A) a – às – a
- (B) a – as – a
- (C) à – às – a
- (D) à – às – à
- (E) à – as – à

7

A questão ganhou dimensão ainda mais dramática porque o estado vive uma das piores secas de sua história.

Assinale a única opção em que o trecho em destaque **NÃO** equivale ao trecho sublinhado no período acima.

- (A) **Como o estado vive uma das piores secas de sua história**, a questão ganhou dimensão ainda mais dramática.
- (B) **Em virtude de o estado viver uma das piores secas de sua história**, a questão ganhou dimensão ainda mais dramática.
- (C) **Por menos que o estado viva uma das piores secas de sua história**, a questão ganhou dimensão ainda mais dramática.
- (D) **Pelo fato de o estado viver uma das piores secas de sua história**, a questão ganhou dimensão ainda mais dramática
- (E) **Já que o estado vive uma das piores secas de sua história**, a questão ganhou dimensão ainda mais dramática.

8

Indique a opção que avalia corretamente como verdadeira (V) ou falsa (F) cada afirmação abaixo sobre o segundo parágrafo do texto.

- ( ) As condições climáticas favoreceram o incêndio na Amazônia.
- ( ) O número de focos de incêndio quintuplicou em agosto.
- ( ) Velhos e crianças constituem 1/3 dos que procuraram ajuda hospitalar.

A seqüência correta é:

- (A) V – V – F
- (B) V – F – V
- (C) V – F – F
- (D) F – V – V
- (E) F – F – V

9

A expressão que, no texto, substitui, de acordo com a norma culta, o adjetivo destacado em “irresponsabilidade ambiental” ( l. 5) é:

- (A) até o ambiente.
- (B) ao ambiente.
- (C) do ambiente.
- (D) com o ambiente.
- (E) para o ambiente.

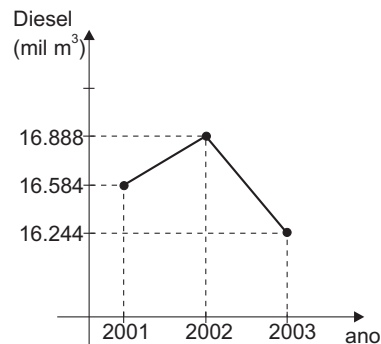
10

Indique a opção em que o verbo haver está empregado de modo **INCORRETO**.

- (A) Há muito tempo que não se via incêndio tão grande.
- (B) Haviã incoñtáveis problemas decorrentes do incêndio.
- (C) Haja vista os exemplos que nos dão o descaso com a natureza.
- (D) Aquele fulano tem de se haver comigo!
- (E) Eles hãõ de conseguir salvar o Amazonas do desmatamento!

**MATEMÁTICA**

11



Disponível em: <http://www.oglobo.com.br/petroleo>  
8 out. 2005

O gráfico acima apresenta as vendas de óleo diesel pelas distribuidoras brasileiras, em milhares de metros cúbicos, nos anos de 2001 a 2003. Se o aumento linear observado de 2001 para 2002 fosse mantido de 2002 para 2003, as vendas em 2003 teriam sido  $x$  milhares de  $m^3$  maiores do que realmente foram. Desse modo, o valor de  $x$  seria:

- (A) 304
- (B) 608
- (C) 754
- (D) 948
- (E) 1.052

12

João retirou uma carta de um baralho comum (52 cartas, 13 de cada naipe) e pediu a José que adivinhasse qual era. Para ajudar o amigo, João falou: “A carta sorteada não é preta, e nela não está escrito um número par.” Se José considerar a dica de João, a probabilidade de que ele acerte qual foi a carta sorteada, no primeiro palpite, será de:

- (A)  $\frac{1}{4}$
- (B)  $\frac{4}{13}$
- (C)  $\frac{8}{13}$
- (D)  $\frac{1}{16}$
- (E)  $\frac{5}{26}$

13

Desde 1975 acreditava-se que o Monte Everest, ponto mais alto do mundo, tinha 8.848,13 m de altura. Mas um novo estudo, realizado pelo Escritório Estatal de Pesquisa e Mapeamento da China, com auxílio de satélites e altímetros de última geração, constatou que a altura do Monte Everest é, na verdade, 8.844,43 m. A diferença, em metros, entre as duas medidas é de:

- (A) 3,3
- (B) 3,7
- (C) 3,9
- (D) 4,3
- (E) 4,7

14

No Campeonato Brasileiro de Futebol, cada vitória vale três pontos e cada empate, um ponto. Um time jogou algumas partidas e, sem sofrer qualquer derrota, marcou 23 pontos. Se o número de vitórias foi o maior possível, quantas partidas esse time jogou?

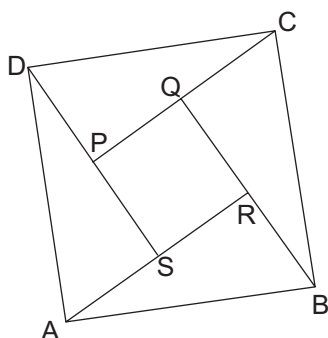
- (A) 7 (B) 8  
(C) 9 (D) 10  
(E) 11

15

Para comprar um sanduíche, um refresco e um sorvete, gastei R\$9,00. Se eu comprasse um refresco, três sorvetes e um sanduíche, gastaria R\$15,00. Com a quantia necessária para comprar um sanduíche e um refresco, quantos sorvetes posso comprar?

- (A) 2 (B) 3  
(C) 4 (D) 5  
(E) 6

16



Na figura acima, os triângulos ASD, ARB, CQB e DPC são congruentes. Os pontos P, Q, R e S são pontos médios dos segmentos DS, PC, QB e RA, respectivamente. Se PQRS é um quadrado cujos lados medem 2cm, a medida do segmento AB, em cm, é igual a:

- (A)  $\sqrt{5}$  (B)  $2\sqrt{5}$  (C)  $2\sqrt{6}$  (D) 5 (E) 6

17

Um restaurante oferece cinco ingredientes para que o cliente escolha no mínimo 2 e no máximo 4 para serem acrescentados à salada verde. Seguindo esse critério, de quantos modos um cliente pode escolher os ingredientes que serão acrescentados em sua salada?

- (A) 25  
(B) 30  
(C) 36  
(D) 42  
(E) 50

18

Ao negociar a compra de certa mercadoria com um fornecedor, um comerciante lhe disse: “Se você me der R\$1,00 de desconto em cada peça, poderei comprar 60 peças com a mesma quantia que eu gastaria para comprar 50.” Se o fornecedor der o desconto pedido, o comerciante pagará, em reais, por peça:

- (A) 9,00  
(B) 8,00  
(C) 7,00  
(D) 6,00  
(E) 5,00

19

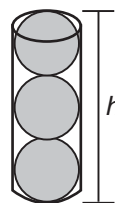
Um levantamento feito em determinada empresa, sobre o tempo de serviço de seus funcionários, apresentou o resultado mostrado na tabela abaixo:

	Homens	Mulheres	Total
10 anos ou mais	33	21	54
Menos de 10 anos	48	24	72
Total	81	45	126

Um prêmio será sorteado entre os funcionários que trabalham há pelo menos 10 anos nessa empresa. A probabilidade de que o ganhador seja uma mulher é de:

- (A)  $\frac{1}{6}$  (B)  $\frac{5}{6}$   
(C)  $\frac{4}{9}$  (D)  $\frac{7}{18}$   
(E)  $\frac{11}{18}$

20



Uma bola de borracha perfeitamente esférica tem 2,6cm de raio. A altura mínima  $h$ , em cm, de uma embalagem cilíndrica na qual é possível acomodar 3 bolas, como mostra a figura acima, é de:

- (A) 7,8 (B) 9,8  
(C) 12,6 (D) 14,6  
(E) 15,6

**ATUALIDADES**

**21**

A ação do homem sobre a natureza tem gerado preocupações de que estaríamos tocando os limites da biosfera terrestre. Abaixo estão indicados aspectos relacionados a essa ação, **EXCETO** um. Assinale-o.

- (A) Ocorrência de intensos terremotos e maremotos em áreas de choque de placas tectônicas.
- (B) Multiplicação do uso da água gerando áreas carentes de água limpa, habitadas por um terço da humanidade.
- (C) Elevação da temperatura média da Terra, provocando o derretimento do gelo nas calotas polares.
- (D) Extinção de centenas de espécies de seres vivos catalogadas e degradação de seus ambientes.
- (E) Crescimento da emissão de gases poluentes na atmosfera, aumentando as mortes ligadas à poluição.

**22**

A respeito de um dos programas mais centrais do Ministério do Desenvolvimento Social, o Bolsa Família, afirma-se que:

- I - compõe a política social do governo federal, visando, dentre outros, ao combate sistemático à fome do país;
- II - tem como público-alvo famílias com renda mensal *per capita* inferior a R\$ 100,00;
- III - tem cerca da metade das famílias beneficiárias vivendo nos estados da região Norte.

Está(ão) correta(s) a(s) afirmativa(s):

- (A) I, apenas.
- (B) I e II, apenas.
- (C) I e III, apenas.
- (D) II e III, apenas.
- (E) I, II e III.

**23**

“A pedra deu lugar ao bronze, o bronze ao ferro, o ferro ao aço. Cada um desses materiais teve um melhor substituto que seu antecessor. Mas, hoje, vê-se o contrário. Ainda não temos uma alternativa eficiente e barata para o petróleo”.

Revista Veja, ed. 1925, 05 out. 2005.

A opinião acima é de Colin Campbell e refere-se a um dos aspectos do atual estado da crise energética. Assinale a alternativa que apresenta uma consequência diretamente vinculada à crise do setor petrolífero.

- (A) Desestatização massiva das principais empresas petrolíferas.
- (B) Onda de fusões empresariais, como o exemplo da Exxon com a Mobil.
- (C) Redução global do consumo de barris diários, sobretudo na Europa.
- (D) Surgimento de combustíveis mais energéticos que o petróleo, como o etanol.
- (E) Atuação estratégica da OPEP para aumentar sua produção e reduzir preços.

**24**

A Confederação Nacional da Indústria revisou suas principais projeções para a economia brasileira, ajustando, em setembro, as estimativas apresentadas em julho de 2005, conforme quadro abaixo.

 <b>As estimativas</b>		
INDICADORES	SETEMBRO / 2005	JULHO / 2005
PIB	3,5%	3,2%
PIB industrial	4,4%	4,2%
Vendas (indústria transformação)	4%	3,8%
Exportações	<b>US\$ 117 bilhões</b>	<b>US\$ 114 bilhões</b>
Importações	<b>US\$ 76 bilhões</b>	<b>US\$ 76 bilhões</b>
Taxa média de juros	19,1%	19,1%
Superavit primário	4,85%	4,5%
IPCA	5,1%	6%
Consumo das famílias	3,2%	2,9%
Custeio governo	1,8%	1%
Investimentos	4%	4%
Agropecuária	3,2%	2,2%
Serviços	2,5%	2,5%

Fonte: CNI

Jornal O Globo, 28 set. 2005.

Com base nessa revisão de estimativas, é correto afirmar que o(a):

- (A) política monetária fará retroceder o consumo das famílias.
- (B) inflação tenderá a superar o acúmulo das sucessivas deflações.
- (C) saldo da balança comercial terá uma elevação do *superavit*.
- (D) produto interno bruto acompanhará o ritmo dos investimentos.
- (E) setor industrial manterá maior crescimento do que o agropecuário.

**25**

No Brasil, comenta-se sobre a necessidade de um novo pacto federativo, a fim de que se redistribuam competências entre os níveis de governo. Sabe-se que nas prefeituras têm subido os custos com serviços de responsabilidade de estados ou da União. A razão que explica essa situação dos municípios brasileiros é a(o):

- (A) redução do número de estatais federais, nos últimos dois anos.
- (B) pressão da população para que as prefeituras cubram serviços básicos.
- (C) diminuição da carga tributária, nos últimos cinco anos.
- (D) terceirização de serviços públicos, por parte dos estados e da União.
- (E) descaso estadual com o cumprimento da lei de responsabilidade fiscal.

26

Leia os argumentos sobre o projeto de transposição das águas do rio São Francisco.

Texto I:

O projeto pretende pôr fim à “indústria da seca”, que usa a água levada por carros-pipa para conseguir votos. Assim, a prioridade é levar água para a população. Se houver sobra, ela será usada na irrigação.

Texto II:

A distribuição de água pelo projeto ficará sob controle dos governadores, que terão sua força política ampliada. Como o custo da água será alto, ela somente será usada em grandes fazendas. A população pobre não terá benefícios.

Jornal Folha de São Paulo, 09 out. 2005.

A leitura comparativa dos Textos I e II permite afirmar corretamente que:

- (A) ambos se restringem a uma visão técnica do problema.
- (B) ambos preconizam o fim da ideologia por meio da política.
- (C) a perspectiva do primeiro se contrapõe à do segundo.
- (D) a concepção ambiental do primeiro reforça a do segundo.
- (E) o segundo texto justifica e explica o primeiro.

27

O Estatuto do Desarmamento, aprovado em 2003, trata, em seu primeiro artigo, do Sistema Nacional de Armas (SINARM), sobre o qual é correto afirmar que:

- (A) coordena os planos de trabalho das Secretarias de Segurança Pública dos estados e do Distrito Federal.
- (B) tem por objetivo identificar e cadastrar as armas de fogo das Forças Armadas e Auxiliares.
- (C) é vinculado ao Congresso Nacional e foi criado para realizar o referendo popular de outubro de 2005.
- (D) é instituído no Ministério da Justiça, no âmbito da Polícia Federal, com circunscrição em todo o País.
- (E) foi responsável pelas frentes de campanha do “sim” e do “não”, para o referendo previsto no artigo 35 daquele Estatuto.

28



Jornal do Brasil, 07 out. 2005.

A proliferação de bolsas de apostas e o afastamento, por corrupção, de alguns árbitros vêm afetando o futebol, tanto no Brasil quanto em outros países, sobretudo da Europa e da Ásia.

“Os sites de apostas, que têm versões pelo menos em duas línguas, são mais uma faceta da globalização. Depois de preencher um cadastro, o internauta pode escolher o resultado de jogos do mundo inteiro e pagar suas apostas em depósito bancário e cartão de crédito. Os prêmios são depositados na mesma conta-corrente”.

Jornal O Globo, 02 out. 2005.

Assinale a alternativa que apresenta o título mais adequado ao texto e à imagem acima.

- (A) Mundo sem ética.  
Os paraísos fiscais postos em questão.
- (B) Planeta desigual.  
Triunfo no Norte, crise no Sul.
- (C) Globalização perversa.  
Investimentos estrangeiros e crise do emprego.
- (D) Nos porões da globalização.  
O crescimento difuso das práticas mafiosas.
- (E) Máquina de guerra virtual.  
Dinheiro, Internet e conflito entre nações.

29

A conclusão da Rodada de Doha, a cargo da Organização Mundial do Comércio (OMC), será efetivada em dezembro de 2005. Neste sentido, diálogos bilaterais vêm sendo realizados, como aquele entre Brasil e Estados Unidos. Nesse contexto, acerca da situação do governo brasileiro com relação à OMC e aos Estados Unidos, é correto afirmar que o(a):

- (A) governo brasileiro espera do governo dos E.U.A. a redução do índice dos subsídios agrícolas.
- (B) governo brasileiro, ao defender a sua liderança no Mercosul, afasta-se das negociações comandadas pela OMC.
- (C) governo dos E.U.A. recusa-se a colaborar com o Brasil, devido à resistência brasileira à criação da ALCA.
- (D) governo norte-americano pressiona Brasília por um maior acesso ao mercado brasileiro, contrariando a OMC.
- (E) OMC mantém uma relação tensa com o Brasil, em virtude do bilateralismo praticado por Brasília.

“O Clima entre China e Taiwan pode manter-se sempre tenso devido à ameaça constante de guerra. Depois da aprovação, no início do ano, da Lei Anti-Secessão chinesa, que autoriza o uso da força contra separatistas da ilha, a sensação de ‘paz por um fio’ é ainda maior”.

Jornal O Globo, 09 out. 2005.

Sobre as relações entre a República Popular da China e Taiwan, marcadas por convergências e também, sérias divergências, está correto afirmar que:

- (A) a Lei Anti-Secessão, criada pelos chineses, busca impedir que se repita com Taiwan a mesma situação de Hong-Kong, hoje isolada da China.
- (B) a insistente proposta de Taiwan de tornar-se membro da ONU, como país independente, agrava a débil relação comercial entre a China e a ilha.
- (C) o desempenho econômico da ilha é uma decorrência dos investimentos chineses, ao longo de décadas, em função dos planos socialistas de Pequim.
- (D) o embate entre nacionalistas taiwaneses e socialistas chineses reforça a posição, por parte de Pequim, de que a ilha não faz parte da China.
- (E) cerca da metade dos investimentos feitos por empresas taiwanesas no exterior está na China, atestando nítidos laços econômicos entre ambas.

**CONHECIMENTOS ESPECÍFICOS**

**31**

Analise o registro contábil a seguir, como um conjunto único das operações realizadas.

Rio de Janeiro, 21 de outubro de 2005

Diversos

a Bancos c/Movimento

Banco A

Móveis e Utensílios

Pago à Industria Mobiliária, conforme 2.900,00

NF nº 1234

Veículos

Pago à Campeã Renault F.1 Ltda.

Conforme NF nº 5421 35.000,00 37.900,00

Pode-se afirmar que tal conjunto apresenta os requisitos necessários a uma partida de:

- (A) Caixa.
- (B) Conta corrente.
- (C) Diário.
- (D) Razão.
- (E) Razonete.

**32**

Analise os razonetes abaixo, referentes a um determinado fato administrativo .

Caixa		Acionistas c/ capital	
SA	200.000,00	SA	500.000,00
(1)	50.000,00		50.000,00 (1)

É correto afirmar que eles correspondem ao registro contábil de:

- (A) aumento de capital, com parte em dinheiro.
- (B) integralização em dinheiro, de capital subscrito.
- (C) pagamento aos acionistas, em dinheiro.
- (D) pagamento de capital a realizar, em dinheiro.
- (E) subscrição de capital, em dinheiro.

**33**

A frase “Não há débito (s) sem crédito (s) correspondente(s).” indica a(o):

- (A) essência do método das partidas dobradas.
- (B) encerramento das contas de resultado.
- (C) encerramento das contas patrimoniais.
- (D) registro contábil pelo regime de caixa.
- (E) registro contábil pelo regime de competência.





**41**

A Companhia Nobre S/A, que compra e vende um só tipo de mercadoria, encerrou um determinado exercício social com um estoque no valor de R\$1.250.000,00.

No mesmo dia do encerramento, por uma questão conjuntural, todos os fornecedores dessa mercadoria anunciaram uma deflação de 10% nos preços por eles praticados.

Considerando os dados acima e os critérios de avaliação dos ativos, determinados pela legislação societária (Lei 6.404/76), que dispõe sobre as Sociedades por Ações, a Companhia deve:

- (A) manter a situação atual do estoque.
- (B) aumentar o valor do estoque, para ajustá-lo ao valor de mercado.
- (C) ajustar o custo do estoque com a redução do seu valor original.
- (D) realizar o diferimento do ajuste, para apropriação futura.
- (E) constituir provisão, para ajustar o estoque ao valor de mercado.

**42**

Em 1 jul. 2004, a Laminados S/A contraiu um empréstimo no Banco do Brasil, em reais, para pagamento do principal e dos encargos remuneratórios, atualização monetária e juros, no vencimento em junho de 2005.

Em 31 dez. 2004, antes do levantamento do Balanço, a área financeira apresentou as seguintes informações sobre o empréstimo, apuradas até 31 de dezembro, ao Departamento de Contabilidade, para o registro contábil cabível no aludido balanço de 2004:

Valor do empréstimo R\$ 200.000,00; Atualização pela Taxa CDI R\$19.840,00; Juros R\$32.976,00; Atualização pela variação cambial R\$16.320,00.

Considerando as informações acima e os critérios de avaliação dos passivos, o valor do empréstimo, no balanço de 31 dez. 2004, em reais, foi:

- (A) 219.840,00
- (B) 232.976,00
- (C) 249.296,00
- (D) 252.816,00
- (E) 269.136,00

**43**

Entende-se por período contábil:

- (A) qualquer período de tempo estabelecido pela empresa.
- (B) qualquer período de tempo, desde que não ultrapasse 31 de dezembro de cada ano, obrigatoriamente.
- (C) período de doze meses. coincidente com o ano-calendário, obrigatoriamente.
- (D) período de doze meses. não coincidente com o ano-calendário, exclusivamente.
- (E) o espaço de tempo escolhido para a contabilidade apresentar a situação patrimonial e financeira.

**44**

“São as contas representativas do capital subscrito e por dedução a parcela ainda não realizada”

A definição acima representa o conceito de:

- (A) Acionista conta Capital.
- (B) Capital a Integralizar.
- (C) Capital à disposição da empresa.
- (D) Capital próprio.
- (E) Capital Social.

**45**

No seguinte conjunto de informações apresentado por uma sociedade anônima, a única Reserva de Capital é:

- (A) Subvenções para investimento.
- (B) Reavaliação de imóveis.
- (C) Lucros não realizados.
- (D) Dividendo obrigatório não distribuído.
- (E) Expectativa de ocorrência de inundações.

**46**

No balancete de verificação final, antes do levantamento do Balanço, em 31 dez. 2004, foram apuradas as seguintes informações, relativas aos saldos das contas.

Em reais

	Em reais
Capital Social	1.250.000,00
Reserva Legal	125.000,00
Reserva Estatutária	100.000,00
Lucros Acumulados	75.000,00
Total	1.550.000,00

No mesmo exercício social de 2004, na Demonstração do Resultado do Exercício, foi apurado o prejuízo de R\$ 515.200,00.

No Balanço encerrado em 2004, a Conta Prejuízo Acumulado deverá apresentar, em reais, o saldo devedor de:

- (A) 215.200,00
- (B) 315.200,00
- (C) 340.200,00
- (D) 440.200,00
- (E) 515.200,00

**47**

Uma Companhia que adotava o Método da Média Ponderada Móvel para avaliar seu estoque de mercadorias passou a adotar o Método PEPS. Esta mudança redundou numa redução de R\$ 220.000,00 no Custo das Mercadorias Vendidas.

A diferença apurada deve ser contabilizada como:

- (A) redução do estoque.
- (B) aumento do estoque.
- (C) ajuste de exercícios anteriores.
- (D) despesa operacional do exercício.
- (E) aumento do custo das mercadorias vendidas.

**48**

As informações a seguir foram extraídas dos registros da Companhia Centauro S/A.

Exercício Social 2003	
Lucros Acumulados	750.000,00
Exercício Social 2004	
Lucro Líquido do Exercício	2.550.000,00
Provisão para Imposto de Renda	382.500,00
Provisão para Contingências	105.000,00
Reserva Legal	127.500,00
Reserva de Ágio	220.550,00
Dividendos Propostos	2.275.000,00

Considerando, exclusivamente, os dados propostos na questão, o saldo da Demonstração do Lucro ou Prejuízo Acumulado, em 2004, em reais, é:

- (A) 2.951.950,00                      (B) 2.464.450,00  
 (C) 1.714.450,00                      (D) 897.500,00  
 (E) 676.950,00

**49**

Anotações feitas pela Contabilidade, antes dos ajustes patrimoniais cabíveis, no encerramento do exercício social, para a elaboração do balanço de 2004, demonstram.

Duplicatas a Receber	2.540.000,00
Duplicatas Descontadas	840.000,00
Duplicatas Consideradas Incobráveis, ainda não baixadas	40.000,00
Cheques a Receber	120.000,00
Provisão para Devedores Duvidosos (antes dos ajustes)	80.000,00
Experiência da inadimplência, da Cia.	8%

O saldo da Conta Provisão para Devedores Duvidosos, em reais, no Balanço do 2004, é:

- (A) 132.800,00                      (B) 145.600,00  
 (C) 200.000,00                      (D) 216.000,00  
 (E) 240.000,00

**50**

Uma das providências que o antecede a elaboração do Balanço consiste no encerramento das contas de resultado. O encerramento das Contas de Despesas é feito por

	DÉBITO	CRÉDITO
(A)	Demonstração do Resultado do Exercício	Cada conta de Despesa
(B)	Lucros Acumulados	Cada conta de Despesa
(C)	Cada conta de Despesa	Demonstração do Resultado do Exercício
(D)	Resultado do Exercício	Cada conta de Despesa
(E)	Resultado do Exercício	Lucro Acumulado

**51**

Em abril.2004, a companhia Notas S/A baixou de sua carteira uma duplicata a receber, considerada incobrável, no valor de R\$ 12.000,00, contra a respectiva provisão.

Em novembro do mesmo ano o cliente compareceu na companhia Notas e pagou a aludida duplicata em dinheiro.

O registro contábil deste recebimento será feito a Débito de Caixa e a crédito de:

- (A) Duplicatas a Receber.  
 (B) Provisão para Devedores Duvidosos.  
 (C) Despesa de Devedores Duvidosos.  
 (D) Clientes.  
 (E) Outras Receitas Operacionais.

**52**

A demonstração das Mutações do Patrimônio Líquido fornece a movimentação ocorrida, num exercício, nas contas integrantes do patrimônio líquido. Por isso ela é uma demonstração:

- (A) exigida pela Comissão de Valores Mobiliários, para as companhias abertas  
 (B) exigida pela Comissão de Valores Mobiliários, para as companhias fechadas  
 (C) exigida pela Comissão de Valores Mobiliários, para as sociedades anônimas;  
 (D) obrigatória pela lei das sociedades anônimas, para as sociedades anônimas;  
 (E) obrigatória pela lei das sociedades anônimas, para todos os tipos de sociedade.

**53**

A demonstração contábil que objetiva apresentar, de forma ordenada e sumariada, principalmente as informações relativas às operações de financiamento e investimento da empresa, durante um o exercício, é denominada:

- (A) Balanço Patrimonial.  
 (B) Demonstração das Origens e Aplicações de Recursos.  
 (C) Demonstração do Resultado do Exercício.  
 (D) Demonstração do Lucro ou Prejuízo Acumulado.  
 (E) Demonstração do Valor Agregado.

**54**

Uma Companhia tem um investimento permanente, considerado de pequeno valor, em outra sociedade. Neste caso, qual deve ser o procedimento da investidora em relação às perdas consideradas definitivas na investida?

- (A) Ajustar o valor original ao de mercado.  
 (B) Ajustar o valor do investimento por estimativa.  
 (C) Ajustar o valor do investimento pela equivalência patrimonial.  
 (D) Fazer uma provisão para perda, no investimento.  
 (E) Reduzir o investimento em valor proporcional ao da perda na investida.

**55**

A Companhia Norma S/A, no encerramento do exercício, em 31 dez. 2004, antes de elaborar as demonstrações contábeis, fez as seguintes anotações, em reais:

Lucro Líquido do Exercício 2004	1.150.000,00
Receitas incluídas no aludido Lucro Líquido do Exercício	
Ganho no Investimento, pela Equivalência Patrimonial	365.000,00
Vendas de Longo Prazo	
Vencimento em 2005	100.000,00
Vencimento após 2005	287.500,00
Reserva Legal, constituída em 2004	57.500,00
Dividendos previstos no Estatuto da Companhia	50% do lucro

Sabendo que a Companhia, adotando as prerrogativas estabelecidas pela Lei que dispõe sobre as Sociedades por Ações (Lei 6.404/76), aprovou a constituição da Reserva de Lucros a Realizar, o valor, em reais, de dividendos mínimos propostos pela administração é:

- (A) 340.000,00
- (B) 397.500,00
- (C) 497.500,00
- (D) 546.250,00
- (E) 575.000,00

**56**

A Lemos S/A, que em 2002 adquiriu 20% das ações da Fonte S/A, seu único investimento em participações societárias, apresentou, no balanço de 2003, a seguinte informação:

ATIVO PERMANENTE

    INVESTIMENTOS

        Avaliados pela Equivalência Patrimonial

            Cia. Fonte 1.250.000,00

Em 2004, a Fonte S/A. apresentou em suas demonstrações contábeis e respectivas notas explicativas, as seguintes informações:

Lucro líquido do exercício 2004	2.125.500,00
Reserva de reavaliação constituída em 2004	555.200,00
Dividendos propostos, em 2004	1.260.480,00

Considerando as informações acima, o resultado da avaliação do investimento em 2004, pelo Método da Equivalência Patrimonial, em reais, foi:

- (A) 536.100,00
- (B) 425.100,00
- (C) 284.100,00
- (D) 173.100,00
- (E) 111.000,00

**57**

São métodos de valiação de estoque permitidos pela teoria Contábil:

- I - PEPS;
- II - UEPS;
- III - Média ponderada móvel;
- IV - Preço específico.

Para fins fiscais, são considerados Métodos de Avaliação, apenas:

- (A) I. (B) I e II.
- (C) I e III. (D) I e IV.
- (E) I, III e IV.

**58**

Uma empresa adquiriu um determinado bem, cuja vida útil original é estimada em 5 anos, por R\$ 200.000,0. Pagou ainda R\$ 6.000,00 de frete e R\$10.000,00 de instalações, indispensáveis para o bom funcionamento do bem.

A depreciação simples, no segundo ano de uso, calculada pelo Método da Soma dos Dígitos é, em reais, igual a:

- (A) 13.600,00 (B) 28.800,00
- (C) 40.000,00 (D) 43.200,00
- (E) 57.600,00

**59**

A Companhia Comercial Sulca S/A, enquadrada na tributação pelo lucro real, ao final de um determinado exercício social, apresentou as seguintes informações:

Custo das Vendas	300.000,00
Despesa de Depreciação	25.000,00
Despesa de Devedores diversos (PDD)	10.000,00
Despesas Comerciais	100.000,00
Despesas Financeiras Líquidas	80.000,00
Dividendo recebido, Investimento Avaliado pelo Custo	8.000,00
Ganho na Venda de Imobilizado	15.000,00
Perda pelo Método da Equivalência Patrimonial	20.000,00
Vendas Líquidas	800.000,00

Considerando as determinações fiscais no livro de apuração do lucro real – LALUR, quais foram os valores apurados, em reais, referentes ao lucro contábil (LAIR) e ao lucro real, respectivamente?

- (A) 288.000,00 e 300.000,00
- (B) 280.000,00 e 290.000,00
- (C) 288.000,00 e 310.000,00
- (D) 288.000,00 e 318.000,00
- (E) 300.000,00 e 298.000,00

**60**

Considere as seguintes informações:

Em 2003, saldo do prejuízo fiscal, parte "B" do LALUR (Livro de Apuração do Lucro Real): R\$ 85.500,00.

Em 2004, Demonstração do Lucro Real (parte "A" do LALUR):

Lucro líquido do exercício	175.200,00
(+) Adições	28.150,00
(-) Subtrações	<u>(3.350,00)</u>
(=) Lucro Real	200.000,00

Considerando as informações e a Lei do imposto de renda sobre a compensação de prejuízos fiscais de exercícios anteriores, o valor dessa compensação, em reais, em 2004, foi:

- (A) 85.500,00 (B) 60.000,00  
 (C) 59.850,00 (D) 52.560,00  
 (E) 25.650,00

**61**

A Empresa DELTA vendeu à empresa GAMA mercadorias a prazo, no valor de R\$ 25.000,00. Entretanto, a GAMA alegou que as mercadorias vieram com defeito de fabricação e informou que vai devolvê-las. A DELTA, então, para evitar a devolução de mercadorias, propõe uma redução, no valor de pagamento de 20%, o que é aceito pela GAMA. O registro desta operação, na empresa DELTA, em reais, será:

- (A) Abatimento sobre vendas  
 a Duplicatas a receber 5.000,00
- (B) Despesa com descontos  
 a Abatimento sobre vendas 5.000,00
- (C) Fornecedores  
 a Abatimento sobre compras 5.000,00
- (D) Devolução de vendas  
 a Duplicatas a receber 20.000,00
- (E) Descontos financeiros concedidos  
 a Custo das mercadorias vendidas 25.000,00

**62**

A empresa Amazonas adquiriu da Indústria Amapá mercadorias sobre as quais incidiram IPI e ICMS.

Sendo a Amazonas empresa comercial, o IPI constante desta aquisição deverá ser:

- (A) registrado em conta separada, visando sua compensação com o IPI a pagar no futuro.
- (B) somado ao valor do ICMS e registrado na conta ICMS e IPI a recuperar.
- (C) segregado da operação de compra e registrado como despesa não operacional do período.
- (D) lançado simplesmente como despesa do período, visto não ser recuperável.
- (E) considerado como custo das mercadorias adquiridas.

**63**

A Empresa ALFA vende para a empresa BETA R\$ 50.000,00 em mercadorias, estando inclusos neste montante 17% de ICMS.

O registro correto desta operação, em reais, na empresa BETA, é:

- (A) Diversos  
 a Fornecedores  
 Estoque de Mercadorias 41.500,00  
 ICMS a Recuperar 8.500,00 50.000,00
- (B) Diversos  
 a Fornecedores  
 Estoque de Mercadorias 50.000,00  
 ICMS a Recuperar 10.240,96 60.240,96
- (C) Diversos  
 a Diversos  
 a Receita de Vendas 50.000,00  
 a ICMS a Recuperar 10.240,96 60.240,96
- (D) Diversos  
 a Diversos  
 a Duplicatas a Receber 41.500,00  
 a ICMS a Recuperar 8.500,00 50.000,00
- (E) Diversos  
 a Duplicatas a Receber  
 Estoque de Mercadorias 41.500,00  
 ICMS a Recuperar 8.500,00 58.500,00

**64**

Foram extraídas do balancete de verificação da Cia. Brasil as seguintes contas:

	Em R\$		Em R\$
Receita Bruta	11.200.000,00	Despesa com Amortização	85.000,00
Despesa com Vendas	850.000,00	Despesa com Depreciação	220.000,00
ICMS a Recolher	1.070.000,00	Receitas financeiras	130.000,00
Despesas Administrativas	2.100.000,00	Despesas não Operacionais	118.000,00
CMV	6.080.000,00	Despesas Financeiras	600.000,00

Sabendo que a Companhia Brasil recolhe seus impostos, impreterivelmente, no próprio mês e considerando os dados acima, o RCM - Resultado com mercadorias, em reais, foi:

- (A) 10.130.000,00  
 (B) 6.080.000,00  
 (C) 4.050.000,00  
 (D) 325.000,00  
 (E) 207.000,00

**65**

A Cia. SIGMA teve a seguinte movimentação de estoques:

Data	Entrada		Saída	
	Quantidade	Preço Unitário	Quantidade	Preço Unitário
10.01.05	12.000	2,00	-	-
20.01.05	18.000	2,20	-	-
31.01.05	-	-	25.000	?

Sabendo-se que havia em estoque, em 31 dez .2004, 5.000 unidades, ao custo de R\$ 1,80 a unidade, e utilizando-se o método PEPS de avaliação de estoques, é correto afirmar que o custo, em reais, das mercadorias vendidas em janeiro de 2005 foi:

- (A) 50.600,00 (B) 50.000,00  
 (C) 33.000,00 (D) 23.600,00  
 (E) 22.600,00

**66**

O lançamento que registra a requisição de matérias-primas feita pela fábrica ao almoxarifado é:

- (A) Estoque de Matéria-prima a Produtos em Elaboração  
 (B) Produtos em Elaboração a Estoques de Matérias-primas  
 (C) Produtos em Elaboração a Fornecedores a Pagar  
 (D) Produtos em Elaboração a Produtos Acabados  
 (E) Fornecedores a Produtos em Elaboração

**67**

Todo o custo variável, necessariamente, é, também:

- (A) alocado aos produtos, por meio de rateio.  
 (B) considerado um custo de transformação.  
 (C) elemento a ser desprezado na apuração do custo real.  
 (D) um custo indireto.  
 (E) um custo direto.

**68**

Em relação a custos diretos e indiretos, assinale a afirmativa correta.

- (A) Matéria-prima é custo indireto, porque não se identifica com os produtos.  
 (B) Depreciação das máquinas é custo direto, porque se relaciona com o equipamento utilizado na produção.  
 (C) A manutenção das máquinas é custo direto, porque varia proporcionalmente ao aumento de vendas.  
 (D) Matéria-prima e mão-de-obra direta são custos diretos, porque podem ser apropriados perfeitamente aos diversos produtos fabricados.  
 (E) O aluguel de fábrica não é um item apropriável na contabilidade de custos.

**69**

Foram extraídos da Cia. PERNAMBUCANA os seguintes dados, em reais, referentes ao mês de setembro de 2005:

- Vendas Líquidas 200.000,00
- Mão-de-obra Direta (MOD) 24.000,00
- Mão-de-obra Indireta (MOI) 25.000,00
- Luz e força da Fábrica 8.500,00
- Materiais Diversos da Fabrica 1.500,00
- Outros Custos de Fábrica 10.500,00
- Salários de Vendedores 10.500,00
- Despesas de Viagens 10.000,00
- Publicidade e Propaganda 8.500,00
- Salários do Escritório 15.000,00
- Despesas Diversas do Escritório 2.400,00
- Lucro Bruto do Exercício 64.400,00
- Compras Líquidas 63.100,00

Inventários	Inicial	Final
Matéria prima	8.000,00	7.000,00
Produtos em Processo	6.000,00	5.000,00
Produtos acabados	5.000,00	4.000,00

Com base nos dados acima, o custo dos produtos vendidos, em reais, montou a:

- (A) 144.600,00 (B) 135.600,00  
 (C) 134.600,00 (D) 88.100,00  
 (E) 64.100,00

**70**

Assinale a opção que apresenta a principal diferença entre o critério de custeio por absorção e o critério de custeio direto ou variável.

	Critério de custeio por absorção	Critério de custeio direto ou variável
(A)	Só aloca aos produtos o custo variável	Apropria todos os custos aos produtos
(B)	Considera como custo até despesas fixas	Contabiliza como custos somente o custo direto e as despesas variáveis
(C)	Apropria aos produtos tanto os custos variáveis quanto os fixos	Apropria os custos variáveis, tratando os fixos como se fossem despesas do período
(D)	Acumula, nos produtos, os custos diretos, indiretos, fixos e variáveis, além dos custos imputados	Somente apropria aos produtos os custos variáveis, lançando os custos fixos, na produção do período seguinte
(E)	Apropria aos produtos todos os custos, exceto o custo de oportunidade	Apropria aos produtos os custos variáveis e o de oportunidade