



PODER JUDICIÁRIO
TRIBUNAL SUPERIOR ELEITORAL
CONCURSO PÚBLICO
EDITAL Nº 1 / 2011

Tipo 01 BRANCA

ADMINISTRATIVA

A fachada do Tribunal Superior Eleitoral, um edifício moderno com uma fachada curva e revestida em vidro escuro, refletindo o céu azul com nuvens brancas. No primeiro plano, há uma grama verde e uma cerca de metal. Um grande círculo branco decorativo está visível na base do edifício.

Técnico Judiciário

TJ-01

Organizadora:



INSTRUÇÕES PARA A REALIZAÇÃO DAS PROVAS

Atenção! Você está recebendo um caderno de provas do tipo 1 (BRANCA). Portanto, **verifique se sua folha de respostas também se refere ao tipo 1** e se é coincidente com o registrado no rodapé de cada página. Caso contrário, notifique imediatamente o fiscal de sala para que sejam tomadas as devidas providências.

INFORMAÇÕES GERAIS

1) Você receberá do fiscal de sala os materiais descritos a seguir:

- uma folha de respostas destinada às respostas das questões objetivas, numerada de **1 a 120**;
- este caderno de prova contendo **120 questões**, cada qual com 04 alternativas de respostas (A, B, C e D), exceto as questões de nº. **41 a 80**, com duas alternativas de resposta apenas (A e B).

2) Verifique se seu caderno está completo, sem repetição de questões ou falhas. Caso contrário, **notifique imediatamente o fiscal de sala** para que sejam tomadas as devidas providências.

3) Ao receber a folha de respostas, você deve **OBRIGATORIAMENTE**:

- conferir seus dados pessoais, em especial seu nome, número de inscrição e o número do documento de identidade;
- ler atentamente as instruções para a marcação das respostas das questões objetivas;
- marcar o campo relativo à confirmação do tipo/cor de prova, conforme o caderno que você recebeu;
- assinar a folha de respostas, no espaço reservado, com caneta esferográfica transparente de cor azul ou preta.

4) As questões são identificadas pelo número situado acima do seu enunciado.

5) Durante a aplicação da prova **não será permitido**:

- qualquer tipo de comunicação entre os candidatos;
- levantar da cadeira sem a devida autorização do fiscal de sala;
- portar aparelhos eletrônicos, tais como bip, telefone celular, walkman, agenda eletrônica, notebook, palmtop, pen drive, receptor, gravador, máquina de calcular, máquina fotográfica, controle de alarme de carro etc., bem como relógio de qualquer espécie, óculos escuros, protetor auricular ou quaisquer acessórios de chapelaria, tais como chapéu, boné, gorro etc. e, ainda, lápis, lapiseira/grafite e/ou borracha. **Tal infração poderá acarretar eliminação sumária do candidato.**

6) A Consulplan realizará a coleta da impressão digital dos candidatos na folha de respostas.

7) O preenchimento da folha de respostas, de inteira responsabilidade do candidato, dar-se-á mediante utilização de caneta esferográfica de tinta indelével de cor preta ou azul. Não será permitida a troca da folha de respostas por erro do candidato.

8) O tempo disponível para a realização da prova é de **5 (cinco) horas**, já incluído o tempo para os procedimentos de identificação previstos no edital e a marcação da folha de respostas.

9) Reserve tempo suficiente para marcar sua folha de respostas. Para fins de avaliação, serão levadas em consideração apenas as marcações realizadas na folha de respostas, sendo que não é permitido anotar informações relativas às suas respostas em qualquer outro meio que não seja o próprio caderno de provas.

10) Somente após decorrida **uma hora** do início da prova você poderá retirar-se da sala de prova, contudo sem levar o caderno de provas.

11) Somente no decorrer dos últimos **30 (trinta) minutos** do período da prova você poderá retirar-se da sala levando o caderno de provas.

12) Ao terminar a prova, chame o fiscal de sala, entregue a folha de respostas e deixe o local de prova. O candidato que descumprir a regra de entrega do documento será **ELIMINADO** do concurso.

13) Os candidatos poderão ser submetidos a sistema de detecção de metais quando do ingresso e saída de sanitários durante a realização das provas. Ao sair da sala no término da prova, o candidato não poderá utilizar o sanitário.

14) Os gabaritos preliminares das provas objetivas serão divulgados na Internet, no endereço eletrônico <http://www.consulplan.net>, a partir das 16h00min do dia subsequente ao da sua realização.

15) O candidato que desejar interpor recursos contra a aplicação das provas e contra os gabaritos preliminares das provas deverá fazê-lo de 00h00min do dia 14 de fevereiro de 2012 até as 23h59min do dia 16 de fevereiro de 2012, ininterruptamente, observado o horário oficial de Brasília/DF, por meio do Sistema Eletrônico de Interposição de Recurso, que estará disponível no endereço eletrônico <http://www.consulplan.net>.



PROVA 1 (P1) - CONHECIMENTOS GERAIS**LÍNGUA PORTUGUESA**

Texto I para as questões de 01 a 15.

Presente perfeito

01 Aproveito a chegada do 13º salário e a proximidade do Natal para discutir o presente perfeito. Num mundo perfeitamente racional, ninguém nem pestanejaria antes de presentear seus familiares e amigos com dinheiro vivo.

05 Em princípio, nada pode ser melhor. Elimina-se o risco de errar, pois o presenteado escolhe o que quiser, e no tamanho certo. Melhor, ele pode juntar recursos de diversas origens e comprar um item mais caro, que ninguém sozinho poderia oferecer-lhe.

10 Só que o mundo não é um lugar racional. Se você regalar sua mulher com um caríssimo jantar na expectativa de uma noite tórrida de amor, estará sendo romântico. Mas, se ousar oferecer-lhe dinheiro para o mesmo fim, torna-se um simples cafajeste.

15 Analogamente, você ficará bem se levar um bom vinho para o almoço de Dia das Mães na casa da sogra. Experimente, porém, sacar a carteira e estender-lhe R\$ 200 ao fim da refeição e se tornará “persona non grata” para sempre naquele lar.

20 Essas incongruências chamaram a atenção de economistas comportamentais, que desenvolveram modelos para explicá-las. Aparentemente, vivemos em dois mundos distintos, o das relações sociais e o da economia de mercado. Enquanto o primeiro é regido por valores como amor e lealdade, o segundo tem como marca indexadores monetários e contratos. Sempre que misturamos os dois registros, surgem mal-entendidos.

25 O economista Dan Ariely vai mais longe e propõe que, no mundo das relações sociais, o presente serve para aliviar culpas: ofereça ao presenteado algo de que ele goste, mas acha bobagem comprar, como um jantar naquele restaurante chique ou um perfume um pouco mais caro. O que você está lhe dando, na verdade, é uma licença para ser extravagante.

30 Segundo Ariely, é esse mecanismo que explica o sucesso de vales-presentes e congêneres, que nada mais são que dinheiro com prazo de validade e restrições de onde pode ser gasto.

(Hélio Schwartzman. Folha de S.Paulo, 4/12/2011, com adaptações)

01

Com base na leitura do texto e os sentidos por ele produzidos, analise as afirmativas a seguir:

- I. O presente perfeito é dinheiro vivo.
 - II. O mundo das relações sociais não é perfeitamente racional.
 - III. O presente ideal é o que sirva para aliviar culpas.
- Assinale
- (A) se apenas as afirmativas I e III estiverem corretas.
 - (B) se apenas as afirmativas II e III estiverem corretas.
 - (C) se todas as afirmativas estiverem corretas.
 - (D) se apenas as afirmativas I e II estiverem corretas.

02

Em relação ao uso da primeira pessoa no texto, é correto afirmar que

- (A) se justifica por narrar fatos ocorridos com o autor.
- (B) representa uma tentativa de aproximação com o leitor.
- (C) busca contextualizar a motivação pessoal pela escolha temática.
- (D) institui caráter emotivo ao que se deve tratar com objetividade.

03

A respeito do uso de “você” em diferentes partes do texto, assinale a alternativa correta.

- (A) Em se tratando de um texto escrito para o jornal, a forma “você” não poderia ser empregada por se tratar de linguagem coloquial.
- (B) A forma “você” é usada como recurso estilístico para indeterminar o agente das ações listadas no texto.
- (C) O texto se dirige especificamente aos leitores, tratados em sua individualidade; daí a opção pela forma no singular.
- (D) O texto se dirige a um destinatário específico, desconhecido pelo leitor, em um tom epistolar.

04

Assinale a palavra que, no texto, desempenhe função sintática idêntica à de *marca* (L. 27).

- (A) amor (L. 26)
- (B) vinho (L. 17)
- (C) bobagem (L. 32)
- (D) caro (L. 9)

05

O economista Dan Ariely vai mais longe e propõe que, no mundo das relações sociais, o presente serve para aliviar culpas: ofereça ao presenteado algo de que ele goste, mas acha bobagem comprar, como um jantar naquele restaurante chique ou um perfume um pouco mais caro. (L. 29-34). No trecho anterior, o sinal de dois pontos introduz

- (A) uma explicação seguida de explicitação.
- (B) uma explicitação seguida de exemplificação.
- (C) uma exemplificação seguida de explicitação.
- (D) uma explicação seguida de exemplificação.

06

Assinale a alternativa em que a alteração da ordem das duas palavras implique mudança semântica.

- (A) diversas origens (L. 9) – origens diversas.
- (B) bom vinho (L. 16-17) – vinho bom.
- (C) restaurante chique (L. 33) – chique restaurante.
- (D) caríssimo jantar (L. 12) – jantar caríssimo.

07

Segundo Ariely, é esse mecanismo que explica o sucesso de vales-presentes e congêneres, que nada mais são que dinheiro com prazo de validade e restrições de onde pode ser gasto. (L. 36-39) No trecho anterior, o pronome destacado, em relação ao texto, exerce papel

- (A) pleonástico.
- (B) dêitico.
- (C) catafórico.
- (D) anafórico.

08

Experimente, porém, sacar a carteira... (L. 18) Assinale a alternativa em que a alteração da estrutura anterior tenha sido feita observando correta relação entre pessoas do discurso e formas verbais.

- (A) Experimentes, porém, sacar tua carteira...
- (B) Experimenta, porém, sacar tua carteira...
- (C) Experimentais, porém, sacar vossa carteira...
- (D) Experimenteis, porém, sacar vossa carteira...

09

Assinale a palavra em que o elemento con- (ou co-) NÃO tenha o mesmo valor que o de *congêneres* (L. 37).

- (A) concentrar
- (B) condomínio
- (C) contabilidade
- (D) confraria

10

Assinale a palavra que, no texto, exerça papel adjetivo.

- (A) dois (L. 28)
- (B) mais (L. 34)
- (C) bem (L. 16)
- (D) regido (L. 25)

11

Enquanto o primeiro é regido por valores como amor e lealdade, o segundo tem como marca indexadores monetários e contratos. (L. 25-27) Assinale a alternativa que poderia substituir *Enquanto* no período anterior, sem modificação de sentido.

- (A) Como
- (B) Já que
- (C) Ao passo que
- (D) Quando

12

O que você está lhe dando, na verdade, é uma licença para ser extravagante. (L. 34-35) Acerca do período anterior, analise as afirmativas a seguir:

- I. O período contém três orações.
- II. O período é composto por coordenação e subordinação.
- III. Há uma oração reduzida.

Assinale

- (A) se apenas as afirmativas I e II estiverem corretas.
- (B) se todas as afirmativas estiverem corretas.
- (C) se apenas as afirmativas I e III estiverem corretas.
- (D) se apenas as afirmativas II e III estiverem corretas.

13

Em *vales-presentes* (L. 37), o plural se fez com a flexão dos dois elementos. Assinale a palavra composta em que se devem pluralizar igualmente os dois elementos.

- (A) reco-reco
- (B) tique-taque
- (C) guarda-roupa
- (D) primeiro-ministro

14

... ofereça ao presenteado algo de que ele goste... (L. 31-32) Assinale a alternativa em que a alteração do trecho anterior tenha se efetuado consoante a norma culta. Despreze possíveis alterações de sentido.

- (A) ...ofereça ao presenteado algo de que ele aspire...
- (B) ...ofereça ao presenteado algo de que ele lembre...
- (C) ...ofereça ao presenteado algo a que ele almeje...
- (D) ...ofereça ao presenteado algo a que ele vise...


15

Mas, se ousar oferecer-lhe dinheiro para o mesmo fim, torne-se um simples cafajeste. (L. 14-15) Assinale a alternativa em que a alteração da estrutura anterior tenha sido feita em consonância com a norma culta.

- (A) Mas, caso ofereça-lhe dinheiro para o mesmo fim, tornará-se um simples cafajeste.
- (B) Mas, caso lhe ofereça dinheiro para o mesmo fim, tornar-se-á um simples cafajeste.
- (C) Mas, se tiver oferecido-lhe dinheiro para o mesmo fim, se tornará um simples cafajeste.
- (D) Mas, se tiver lhe oferecido dinheiro para o mesmo fim, tornará-se um simples cafajeste.

NOÇÕES DE INFORMÁTICA

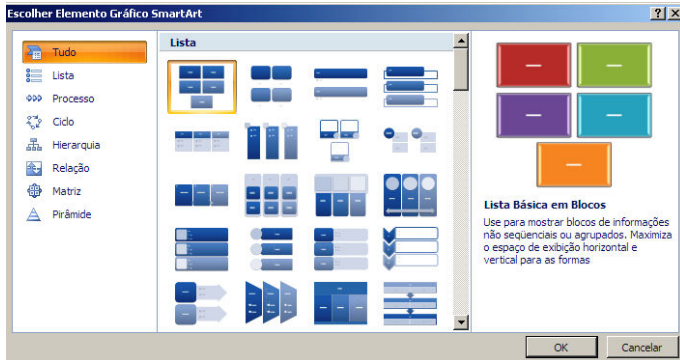
16

Sabe-se que determinado servidor do TSE trabalha em um microcomputador com Sistema Operacional Windows 7 Professional (idioma Português Brasil). Nessa atividade, ele acionou o Windows Explorer, selecionou o arquivo  fotografias_historicas.pps na pasta C:\imagens e executou o atalho de teclado Ctrl + X. Em seguida, acessou a pasta C:\Documentos e executou o atalho Ctrl + V. Tal procedimento resultou na seguinte ação

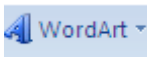
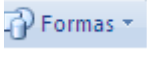
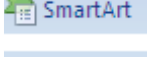
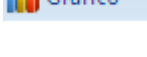
- (A) copiou o arquivo de C:\Documentos para C:\imagens
- (B) copiou o arquivo de C:\imagens para C:\Documentos
- (C) moveu o arquivo de C:\Documentos para C:\imagens
- (D) moveu o arquivo de C:\imagens para C:\Documentos

17

Observe a janela referente ao emprego de um recurso do Microsoft Office Word 2007 (idioma Português Brasil), e que possibilita a inserção de organogramas padronizados, além do uso de diagramas de Venn.



Tal janela é mostrada na tela como resultado de um clique na guia Inserir e do acionamento, na Faixa de Opções, do seguinte ícone

- (A) 
- (B) 
- (C) 
- (D) 

18

Observe a planilha criada no Microsoft Office Excel 2007 (idioma Português Brasil).

	A	B	C	D
1	TSE - 2012			
2				
3	FUNCIONÁRIO	SALÁRIO MÍNIMO	REFERÊNCIA	SALÁRIO REAL
4	Andréia	R\$ 622,00	10	R\$ 6.220,00
5	João		12	R\$ 7.464,00
6	Marcílio		5	R\$ 3.110,00
7	Paula		8	R\$ 4.976,00
8			TOTAL =	R\$ 21.770,00
9				
10			MENOR SALÁRIO =	R\$ 3.110,00

- Na célula D4, foi inserida uma expressão que determina a multiplicação dos valores do salário vigente em B4 pela referência em C4, utilizando-se o conceito de referência absoluta. A partir de D4 e, mediante os atalhos de teclado para copiar e colar, foram inseridas expressões semelhantes em D5, D6 e D7.
- O valor de D8 foi determinado por meio do uso da expressão =SOMA(D4:D7).
- Em D10, foi inserida uma expressão que determina o menor salário a ser pago, entre os funcionários mostrados na planilha.

As expressões inseridas em D6 e D10 são, respectivamente

- (A) =MULT(\$B\$4;C6) e =MENOR(D4:D7)
- (B) =MULT(\$B\$4;C6) e =MÍNIMO(D4:D7)
- (C) =PRODUTO(\$B\$4;C6) e =MENOR(D4:D7)
- (D) =PRODUTO(\$B\$4;C6) e =MÍNIMO(D4:D7)

19

Para acessar o site do TSE – <http://www.tse.jus.br/>, utiliza-se o browser Internet Explorer 8 (idioma Português Brasil). Nesse contexto, observe a figura conhecida como Opções da Internet.



- No browser, a barra de menus **Arquivo Editar Exibir Favoritos Ferramentas Ajuda** foi configurada para ser exibida toda vez que o Internet Explorer 8 (idioma Português Brasil) for acionado.
- Para armazenar o endereço do TSE – <http://www.tse.jus.br/> – como página inicial, de modo que ao acionar o browser, seja mostrado esse site na tela, o internauta deve clicar em **Usar atual**, indicado na figura.

Para ter acesso à janela “Opções da Internet” e modificar a página inicial do browser Internet Explorer 8, o usuário deverá clicar no menu e item de menu, respectivamente:

- (A) Exibir e Opções da Internet.
- (B) Editar e Opções da Internet.
- (C) Favoritos e Opções da Internet.
- (D) Ferramentas e Opções da Internet.

20

No Microsoft Office PowerPoint 2007 (idioma Português Brasil), elabora-se uma apresentação que contém 13 slides.

- A exibição da apresentação pode ser feita a partir do



slide inicial (1), clicando-se no ícone



atual (13), em

- Para fins de segurança, convém salvar no disco rígido o trabalho realizado.

Os atalhos de teclado que correspondem à exibição dos slides

a partir do slide atual e são, respectivamente

- (A) Shift + F5 e F12.
- (B) Shift + F5 e F11.
- (C) Ctrl + F5 e Alt + F12.
- (D) Ctrl + F5 e Alt + F11.

NOÇÕES DE ARQUIVOLOGIA

21

De acordo com a Teoria das Três Idades, os arquivos passam por três estágios de evolução distintos. Quanto ao terceiro estágio, é correto afirmar que se denomina Arquivo

- (A) permanente e possui documentos de valor primário.
- (B) corrente e possui documentos de valor secundário.
- (C) permanente e possui documentos de valor mediato.
- (D) intermediário e possui documentos de valor imediato.

22

Sabe-se que a avaliação constitui uma etapa da gestão de documentos. Entende-se por avaliação o(a)

- (A) sequência de operações que visa distribuir em classes os documentos de um arquivo.
- (B) conjunto de procedimentos que visa à identificação documental e a elaboração de instrumentos de pesquisa.
- (C) processo relacionado à análise de documentos, com vistas a estabelecer sua destinação em conformidade com os valores que lhes forem atribuídos.
- (D) conjunto de processos desenvolvidos por uma instituição para a atuação de suas competências específicas.

23

Os documentos públicos e notariais podem ser divididos em categorias. À categoria de documentos dispositivos refere-se o(a)

- (A) auto.
- (B) ato.
- (C) ata.
- (D) dossiê.

24

Entre os procedimentos que correspondem ao Arquivo Permanente, está diretamente relacionado à elaboração dos instrumentos de pesquisa o(a)

- (A) tabela de temporalidade.
- (B) descrição.
- (C) avaliação.
- (D) protocolo.

25

“Boletim de ocorrência e certidão de nascimento configuram-se como exemplos de _____ documental.”

Assinale a alternativa que completa corretamente a afirmativa anterior.

- (A) forma
- (B) espécie
- (C) formato
- (D) tipo

NOÇÕES DE DIREITO ELEITORAL

26

De acordo com a Constituição da República Federativa do Brasil de 1988, são brasileiros naturalizados

- (A) os nascidos no estrangeiro de pai brasileiro ou de mãe brasileira, desde que sejam registrados em repartição brasileira competente.
- (B) os nascidos na República Federativa do Brasil, ainda que de pais estrangeiros, desde que estes não estejam a serviço de seu país.
- (C) os estrangeiros de qualquer nacionalidade, residentes na República Federativa do Brasil há mais de quinze anos ininterruptos e sem condenação penal.
- (D) os que, na forma da lei, adquiram a nacionalidade brasileira, exigidas aos originários de países de língua portuguesa apenas residência por um ano ininterrupto e idoneidade moral.

27

Representam formas de exercício da soberania popular, conforme a Constituição da República Federativa do Brasil de 1988,

- I. o referendo e a iniciativa popular.
- II. o referendo e o voto aberto.
- III. o plebiscito e o referendo.
- IV. o sufrágio e o voto indireto.

Estão corretas apenas as alternativas

- (A) I, III
- (B) II, III
- (C) I, IV
- (D) III, IV

28

De acordo com o Código Eleitoral, os Tribunais Regionais Eleitorais são compostos por eleição e nomeação. Entre os eleitos, há

- (A) dois advogados de notório saber.
- (B) três desembargadores do Tribunal de Justiça.
- (C) um membro do Ministério Público.
- (D) dois juízes de Direito.

29

Com base no Código Eleitoral e suas atualizações, NÃO compete ao juiz eleitoral

- (A) decidir *habeas corpus* e mandado de segurança, em matéria eleitoral, desde que essa competência não esteja atribuída privativamente a instância superior.
- (B) representar sobre a necessidade de nomeação dos preparadores para auxiliarem o alistamento eleitoral, indicando os nomes dos cidadãos que devem ser nomeados.
- (C) tomar conhecimento das reclamações que lhe forem feitas verbalmente ou por escrito, reduzindo-as a termo, e determinando as providências que cada caso exigir.
- (D) fornecer aos que não votaram por motivo justificado e aos não alistados, por dispensados do alistamento, um certificado que os isente das sanções legais.

30

Com base na Resolução TSE 21.538, analise as afirmativas a seguir:

- I. É facultado o alistamento, no ano em que se realizarem eleições, do menor que completar 16 anos até a data do pleito, inclusive.
- II. O brasileiro nato que não se alistar até os 19 anos ou o naturalizado que não se alistar até um ano depois de adquirida a nacionalidade brasileira incorrerá em multa imposta pelo juiz eleitoral e cobrada no ato da inscrição.
- III. Não se aplicará a pena ao não alistado que requerer sua inscrição eleitoral até o quinquagésimo dia anterior à eleição subsequente à data em que completar 19 anos.

Assinale

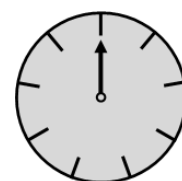
- (A) se apenas as afirmativas I e II estiverem corretas.
- (B) se todas as afirmativas estiverem corretas.
- (C) se apenas as afirmativas II e III estiverem corretas.
- (D) se apenas as afirmativas I e III estiverem corretas.

RACIOCÍNIO LÓGICO

31

Os relógios analógicos convencionais têm a sua circunferência dividida em 12 pedaços iguais. Em certo relógio, tal circunferência foi dividida em 9 pedaços e só há ponteiro das horas. As marcas deste relógio não representam sempre as mesmas horas. À meia-noite, início do dia 15 de dezembro, seu ponteiro estava sobre a marca mais alta, conforme a figura. Após uma volta, o ponteiro retornará a esta posição. Nesse momento, serão 9 horas da manhã desse mesmo dia. Quando este ponteiro voltar à posição mais alta e novamente for meia-noite, estará se iniciando o dia _____ de dezembro. Assinale a alternativa que completa corretamente a afirmativa anterior.

- (A) 17
- (B) 18
- (C) 19
- (D) 20



32

Abel, Bento e Cid são irmãos. A soma de suas idades é 19. Abel tem 1 ano a mais do que Bento, e esse, por sua vez, tem 3 anos a mais do que Cid. A idade de Bento é

- (A) 4.
- (B) 5.
- (C) 6.
- (D) 7.

33

Uma estante é constituída por 4 prateleiras. Um lote de 10 livros será distribuído sobre esta estante. Sobre as possíveis distribuições finais dos livros nas prateleiras, analise.

- I. Haverá pelo menos um livro em cada prateleira.
- II. Haverá uma prateleira com, pelo menos, três livros.
- III. É possível que duas prateleiras quaisquer nunca tenham a mesma quantidade de livros.

Está(ão) correta(s) apenas a(s) afirmativa(s)

- (A) I
- (B) II
- (C) I, II
- (D) II, III

34

Observe as proposições lógicas simples P, Q e R.

- *P*: Hoje é dia de Natal.
- *Q*: Eu vou ganhar presente.
- *R*: A família está feliz.

As proposições $\sim P$, $\sim Q$, $\sim R$ são, respectivamente, as negações das proposições P, Q e R. O conectivo “e” é representado pelo símbolo \wedge , enquanto o conectivo “ou” é representado por \vee . A implicação é representada por \rightarrow .

A proposição composta $(\sim P \wedge R) \rightarrow Q$ corresponde a

- (A) Hoje é dia de Natal e a família está feliz e eu vou ganhar presente.
- (B) Hoje não é dia de Natal e a família está feliz ou eu vou ganhar presente.
- (C) Se hoje não é dia de Natal e a família está feliz então eu vou ganhar presente.
- (D) Se hoje é dia de Natal ou a família está feliz então eu vou ganhar presente.

35

Em uma sequência de números inteiros, o 1º termo vale 6, o 2º termo vale 1 e, a partir do 3º, cada termo corresponde àquele que o antecede em duas posições subtraído daquele que o antecede em uma posição. Estão representados os três primeiros termos desta sequência.

1º termo: 6 2º termo: 1 3º termo: 5 = 6 - 1

O 7º termo desta sequência será

- (A) 22.
- (B) 7.
- (C) 2.
- (D) -2.

36

Os irmãos *Ciro*, *Plínio* e *Vítor* têm alturas e pesos diferentes. Considere que

- *o mais alto é o mais gordo, mas o mais baixo não é o mais magro.*
- *Vítor é mais baixo que *Ciro* e mais magro que *Plínio*.*
- *Plínio é o mais alto ou *Ciro* é o mais baixo.*

Diante do exposto, é correto afirmar que

- (A) a ordem crescente dos pesos desses irmãos é: *Plínio*, *Vítor* e *Ciro*.
- (B) *Ciro* é o mais magro e *Plínio* é o mais alto.
- (C) *Plínio* é o mais alto e *Vítor* é o mais gordo.
- (D) a ordem decrescente das alturas desses irmãos é: *Ciro*, *Plínio* e *Vítor*.

37

Cinco amigos se reuniram em uma lanchonete. Antes que a conta fosse fechada, um deles foi embora, deixando R\$50,00 para pagar a sua parte. Um tempo depois, os quatro amigos restantes pediram o fechamento da conta, cujo valor foi R\$235,00. Os amigos deram os R\$50,00 e dividiram igualmente entre si o saldo devedor restante. De acordo com as informações, conclui-se corretamente que cada um dos amigos restantes pagou quanto do que pagaria se a conta fosse dividida igualmente por 5?

- (A) R\$0,75 a menos.
- (B) R\$0,25 a menos.
- (C) R\$0,75 a mais.
- (D) R\$0,25 a mais.

38

Para encher um reservatório dispõe-se de duas torneiras com vazões diferentes. Se uma das torneiras leva meia hora para encher o reservatório, e a outra leva 15 minutos, quanto tempo (em minutos) seria gasto para encher este reservatório, utilizando-se estas duas torneiras simultaneamente?

- (A) 10
- (B) 12
- (C) 11
- (D) 9

39

Os anos bissextos possuem 366 dias, ou seja, 1 dia a mais do que os anos não bissextos. Esse dia a mais é colocado no final de fevereiro, sendo seu 29º dia. Será um ano bissexto aquele que começar em uma segunda-feira e terminar em um(a)

- (A) quarta-feira.
- (B) terça-feira.
- (C) segunda-feira.
- (D) domingo.

40

Um dado é dito comum, quando tem a forma de um cubo e cada uma de suas faces é numerada de 1 a 6. Um dado comum será lançado três vezes seguidas. De quantas formas diferentes a soma dos três resultados pode dar 8?

- (A) 6
- (B) 10
- (C) 15
- (D) 21

QUESTÕES LÓGICO-INTERPRETATIVAS (CONHECIMENTOS GERAIS)


Texto II para as questões de 41 a 45.

Augusto, no exercício do cargo de Técnico Judiciário, recebeu uma ordem de seu superior imediato solicitando a elaboração de um relatório no Microsoft Word 2007. Segundo as ordens recebidas, o documento elaborado contemplará diversas informações, dentre elas uma planilha construída no Microsoft Office Excel 2007 (idioma Português Brasil). Por fim, Augusto deverá enviar o e-mail à Secretaria do Tribunal, utilizando na mensagem o recurso de confirmação de entrega.

41

Realizar mais atividades em menos tempo é uma atitude que demonstra eficiência. Para reduzir o tempo de conclusão da tarefa descrita no texto, uma das formas mais rápidas de se iniciar o aplicativo Microsoft Office Word 2007 se constitui em acessar a janela "EXECUTAR" do Microsoft Windows XP por meio de teclas de atalho e digitar o comando respectivo, seguido do acionamento da tecla "ENTER". A alternativa que apresenta as teclas de atalho e o comando digitado é

(A)  + R e "winword"

(B)  + R e "word"

42

No relatório solicitado pelo superior imediato, é necessário inserir uma série de dados dispostos em tabela, conforme a seguir apresentados:

Mês/ano	Processos recebidos	Processos arquivados
Janeiro/2011	1585	566
Fevereiro/2011	898	456
Março/2011	999	358
Total	3482	1380

As células da linha "Total" representam a soma de processos recebidos (3482) e processos arquivados (1380) no primeiro trimestre de 2011. Uma maneira de facilitar a obtenção da soma é inserindo nas células da linha mencionada a seguinte fórmula por meio da guia "Layout" das "Ferramentas de Tabela", no grupo "Dados", comando "Fórmula":

(A) =SUM(ABOVE)

(B) =SUM(UP)

43

A ordem de trabalho determina que a planilha do Microsoft Excel 2007 contida no relatório deverá ser a ele vinculada ou incorporada, de forma a criar um vínculo dinâmico que, ao contrário do que ocorre quando Augusto simplesmente cola os dados externos (pressionando CTRL+V, por exemplo), e possível trabalhar no programa original (Excel). Uma forma de atender corretamente à essa determinação será

(A) acessar a guia "Inserir", clicar em "Objeto" no grupo "Texto", selecionar "Planilha do Microsoft Office Excel" na lista e depois clicar em "OK".

(B) acessar a guia "Inserir", clicar em "Referência Cruzada" no grupo "Links", selecionar "Planilha do Microsoft Office Excel" na lista e depois clicar em "OK".

44

No desenvolvimento do relatório, Augusto se deparou com a necessidade de destacar um trecho do Código de Processo Civil que foi revogado. Usualmente, tal trecho de lei é apresentado conforme o seguinte exemplo: "~~TRECHO REVOGADO~~". O recurso de formatação utilizado no exemplo, que se encontra na guia "Fonte", foi o

(A) sobrescrito.

(B) tachado.

45

Concluído e aprovado o relatório pelo seu superior, Augusto fez o envio do e-mail, utilizando o recurso de confirmação de entrega, à Secretaria do Tribunal. A esse respeito, é correto afirmar que

(A) é possível inserir regra para solicitar a confirmação de entrega de uma única mensagem em específico ou de todas as mensagens que você enviar.

(B) somente é possível inserir a regra de solicitar confirmação de entrega para todas as mensagens que você enviar.

46

Confúcio, um jovem politicamente ativo em sua cidade, fez seu alistamento aos 16 anos, para expressar, por meio do voto, sua indignação acerca da atual administração municipal. Em 2012, ano em que as eleições se verificarão, ele, também por dever constitucional, está prestando o serviço militar obrigatório. No dia da eleição, portando seu título eleitoral, Confúcio encaminha-se para a sua seção eleitoral e é impedido pelo presidente da mesa de votar. Agiu o presidente de forma correta?

(A) SIM

(B) NÃO

47

Patrício, brasileiro, casado, aos 34 anos, vice-governador de um estado da federação brasileira, nunca tendo assumido o cargo de chefe do executivo estadual, pretende uma candidatura à Presidência da República, antes de terminar seu atual mandato. Contagiada pelo espírito político do marido, Amália decide também concorrer a um cargo político, qual seja, de vereadora na capital do mesmo estado em que seu marido é o vice-governador. Preocupados com as implicações legais de uma possível decisão precipitada, o casal procura o assessor jurídico do partido, para dirimir algumas dúvidas sobre procedimento e possíveis vedações. Acerca das dúvidas sobre a possibilidade da candidatura,

- (A) para que Amália possa concorrer ao cargo pretendido, Patrício deve renunciar ao respectivo mandato até seis meses antes do pleito.
- (B) mesmo sendo cônjuge de Patrício, Amália será considerada elegível independente do afastamento de Patrício.

Texto III para as questões de nº. 48 a 50.

José Maria, nascido em dezembro de 1992, filho do Prefeito de Rio Novo, eleito para a gestão 2009/2012, possui domicílio eleitoral na cidade circunvizinha de Rio Doce e pretende se candidatar a um cargo eletivo nas próximas eleições municipais de 2012. Em janeiro de 2011, José Maria contraiu núpcias com Maria Rita, vereadora do município de Rio Bonito. Em fevereiro de 2011, a vereadora Maria Rita foi eleita Presidente da Câmara de seu município e, em julho de 2011, separou-se de fato de José Maria. No mês seguinte, José Maria finalizou o curso técnico em Topografia e constituiu união estável com Adriana Cláudia, servidora pública efetiva do município de Rio Novo. Em janeiro de 2012, o prefeito de Rio Novo veio a falecer. Permanecendo a situação acima descrita com todos os vínculos dos envolvidos acima mantidos (civil, funcional e eleitoral), e tendo todos os três municípios menos de 10.000 habitantes, conforme último censo divulgado, responda às questões de número 48 a 50, de acordo com a legislação pertinente.

48

José Maria poderá candidatar-se a prefeito em 2012 em pelo menos uma das três citadas?

- (A) Sim.
- (B) Não.

49

José Maria poderá candidatar-se a vereador na cidade de

- (A) Rio Doce.
- (B) Rio Novo.

50

A condição de ter se casado com Maria Rita e de ser filho do Prefeito de Rio Novo, recentemente falecido, impede José Maria de ser candidato a cargo eletivo no Legislativo do Município de Rio Doce?

- (A) Sim.
- (B) Não.

PROVA 2 (P2) - CONHECIMENTOS ESPECÍFICOS

QUESTÕES LÓGICO-INTERPRETATIVAS (CONHECIMENTOS ESPECÍFICOS)

Texto IV para as questões de 51 a 60.

Roberto Padilha é proprietário da empresa Max Pinturas em Jaboaão dos Guararapes, na região metropolitana de Recife/PE. Em 2010, 12 dos 98 pintores deixaram a Max em busca de salários maiores na concorrência. Cada vez que um deles saía, era preciso recrutar e treinar do zero novos profissionais. Padilha começou a reagir para evitar que a falta de gente interrompesse a trajetória de crescimento da empresa. Ele solicitou aos seus gerentes uma avaliação da produtividade de cada funcionário e a usou como base para esboçar um plano de carreiras para seu pessoal. No caso dos pintores, ele criou três níveis hierárquicos, concedendo aumentos de até 25% aos mais produtivos.

(Falta gente na sua empresa? Revista PME Exame. Abril/2011, adaptado)

51

Padilha, ao solicitar aos gerentes uma avaliação da produtividade dos funcionários, definiu a função de gestão de pessoas da empresa Max Pinturas como

- (A) responsabilidade de linha.
- (B) função de *staff*.

52

O plano de carreiras define, principalmente, a trajetória do funcionário na organização e o seu salário durante essa trajetória. O salário é considerado pelo funcionário um fator relacionado a como ele sente em relação à(ao)

- (A) seu cargo.
- (B) sua empresa.

53

Recrutar e treinar faz parte dos seguintes processos da área de gestão de pessoas, respectivamente,

- (A) provisão de pessoas e desenvolvimento de pessoas.
- (B) aplicação de pessoas e manutenção de pessoas.

54

Uma política de gestão de pessoas utilizada por Padilha para reter talentos na empresa Max Pinturas é a melhoria da remuneração dos funcionários baseada em produtividade. Com tal política, Padilha pretende reter funcionários e garantir

- (A) o atendimento da demanda em crescimento com qualidade dos serviços prestados.
- (B) uma gestão de recursos humanos que atenda às exigências dos sindicatos e atenda à demanda em crescimento.

55

Considerando a empresa como um sistema aberto, é correto afirmar que a seleção e o treinamento constituem-se em

- (A) entradas no sistema.
- (B) processamentos do sistema.

56

Como estratégia para retenção de funcionários, Padilha desenvolveu um plano de carreiras. Os resultados que vierem a ser obtidos com a implantação do plano de carreiras estão relacionados à

- (A) eficiência.
- (B) eficácia.

57

Em relação ao recrutamento, é correto afirmar que corresponde a uma desvantagem do recrutamento externo

- (A) afetar a política salarial da empresa, influenciando as faixas salariais.
- (B) gerar conflito de interesses entre os candidatos à vaga.

58

A avaliação da produtividade de funcionários baseia-se na capacidade de produzir mais

- (A) com menos gastos de recursos.
- (B) com mais gastos de recursos.

59

Dentro de um ambiente altamente competitivo, no que se refere aos recursos humanos, o processo de seleção tende a ser menos exigente quando há

- (A) abundância de recursos humanos.
- (B) escassez de recursos humanos.

60

No que se refere à análise organizacional para levantamento das necessidades de treinar pessoas, assinale a alternativa correta.

- (A) Analisa-se o conjunto de habilidades, capacidades, competências e atitudes dos recursos humanos.
- (B) Analisa-se os objetivos da empresa, a filosofia de treinamento e o que se pretende com o treinamento.

Texto V para as questões de 61 a 70.

Uma forma de melhorar o fluxo de caixa é aumentar o giro das mercadorias. Estoques altos demais significam menos dinheiro em caixa (...) Os grandes fornecedores deverão tentar receber em prazos menores e os grandes clientes farão de tudo para conseguir prazos maiores (...) A produção ao longo do ano deve ser programada de forma a acompanhar a demanda dos clientes o mais próximo possível da realidade. Dentro dessa filosofia, as empresas precisam atuar de forma logística no seu processo de aquisição/suprimentos, na gestão de seus estoques, na produção propriamente dita e no pronto-atendimento aos clientes.

(Receitas para o ano novo. Revista PME Exame. Dezembro/2011, adaptado)

61

A logística é uma abordagem atual da administração de recursos materiais e tem como atividades consideradas primárias

- (A) a armazenagem, o manuseio de materiais, a embalagem prática dos produtos.
- (B) o transporte, a manutenção dos estoques, o processamento de pedidos.

62

Em relação aos fornecedores, as empresas vivenciam, atualmente, a seguinte situação

- (A) aproximadamente 20% dos fornecedores de uma empresa são responsáveis por 80% dos itens comprados por ela.
- (B) aproximadamente 80% dos fornecedores de uma empresa são responsáveis por 20% dos itens comprados por ela.

63

Assinale a alternativa que define a relação existente entre compras e produção.

- (A) Atendimento às necessidades de programa de produção e de materiais auxiliares, uma vez que é o setor que produz a necessidade do mercado.
- (B) Atendimento às necessidades de programa de produção e de materiais auxiliares, já que é o setor que produz novas metodologias e processos de produção.

64

De acordo com o texto apresentado, o objetivo de compras é

- (A) comprar materiais e produtos para o estoque aos mais baixos custos, dentro das especificações de qualidade da empresa.
- (B) coordenar os fluxos com o mínimo de investimentos em estoques de forma que atenda à programação da empresa.

65

No que se refere à qualificação de fornecedores, é correto afirmar que

- (A) a área de compras tem a função de estabelecer a ligação entre fornecedor e engenharia/produção, pesquisando o mercado, localizando e coletando informações da empresa.
- (B) a área de compras tem a função de selecionar os futuros fornecedores que foram aprovados para compor o quadro de fornecedores.

66

Analise o seguinte trecho do texto apresentado “[...] as empresas precisam atuar de forma logística no seu processo de aquisição/suprimentos, na gestão de seus estoques, na produção propriamente dita e no pronto-atendimento aos clientes.” O trecho refere-se a

- (A) gestão da cadeia produtiva.
- (B) gestão da cadeia de suprimentos.

67

O pronto-atendimento aos clientes por parte das empresas, refere-se ao processo de

- (A) distribuição física.
- (B) compra e venda.

68

Assinale a alternativa que apresenta duas atividades que compõem a gestão da cadeia de suprimentos.

- (A) A gestão de compras e suprimentos e a gestão da distribuição física.
- (B) A gestão da cadeia produtiva e a gestão do espaço físico.

69

Assinale a alternativa que explica a relação existente entre a gestão de recursos materiais e o fluxo de caixa.

- (A) Saída de caixa pelos investimentos em produção física e retorno dos investimentos pela entrega rápida dos bens aos clientes.
- (B) Saída de caixa pelo pagamento de fornecedores e entrada de caixa pelo recebimento dos clientes.

70

Na função de compras, uma das ações de suprimentos é o acompanhamento de pedidos que se refere à(ao)

- (A) entrega física dos bens ao cliente final, acompanhando todo o processo de transporte físico.
- (B) controle dos pedidos em carteira realizados pela empresa com o intuito de evitar atrasos ou problemas na entrega para o cliente.

Texto VI para as questões de 71 a 80.

A dificuldade em encontrar pessoal qualificado pode servir de estímulo para profissionalizar a gestão de pessoas (...). Desde 2010, a formação de pessoal qualificado tornou-se a principal preocupação de um empresário dono de uma rede de hotéis. Até 2014, esse empresário deve investir pouco mais de 1 milhão de reais para treinar o pessoal necessário para manter seus planos de expansão. O dinheiro será usado num programa de treinamento interno de funcionários que ocupam cargos como de governantas e chefes de recepção. “Selecionei quem tem mais potencial para liderar equipes”, diz o empresário. “Esses funcionários terão aulas de finanças e marketing, entre outras disciplinas”. Esse empresário está recorrendo às próprias fileiras devido à dificuldade em encontrar gente preparada (...). “Em alguns casos levei três meses para encontrar o profissional que eu procurava (...). Não posso correr o risco de parar de crescer por falta de gente”, disse ele.

(Falta gente na sua empresa? Revista PME Exame. Abril/2011, adaptado)

71

O ciclo de treinamento compreende um conjunto de etapas em ordem sequencial que devem ser desenvolvidas. Assinale a alternativa que apresenta esse conjunto de etapas de forma sequencial.

- (A) Planejamento das ações de treinamento, levantamento das necessidades de treinamento, execução do treinamento e programação do treinamento.
- (B) Levantamento das necessidades de treinamento, programação do treinamento, execução do treinamento e avaliação do treinamento.

72

Em alguns setores, como o hoteleiro, pela falta de pessoal qualificado, os empreendedores estão investindo na qualificação de seus funcionários. Essa ação é considerada uma estratégia de

- (A) recrutamento interno e seleção de pessoas.
- (B) retenção e valorização de pessoas.

73

Em épocas de expansão e crescimento econômico é fundamental o país possuir pessoas qualificadas para que as empresas aproveitem esta fase. Uma das características apresentadas no texto, que é uma realidade atual do Brasil, diz respeito ao fenômeno denominado

- (A) apagão humano.
- (B) apagão intelectual.

74

São resultados que um programa de treinamento deve proporcionar a nível dos recursos humanos:

- (A) Redução da rotatividade e do absenteísmo, aumento da eficiência do funcionário e mudança de atitudes e de comportamento do funcionário.
- (B) Melhoria da qualidade dos produtos e serviços, aumento da produtividade, melhoria do clima organizacional e melhoria da imagem da empresa.

75

De acordo com o texto, constitui-se em uma competência básica, para que o funcionário seja selecionado para participar do treinamento interno o

- (A) autogerenciamento da carreira.
- (B) desenvolvimento da liderança.

76

De acordo com o texto, foram selecionadas as governantas e chefes de recepção que têm mais potencial para liderar equipes. De acordo com o texto apresentado, uma equipe é

- (A) um conjunto de pessoas que interage, principalmente trocando informações, experiências e expectativas no trabalho ou tomando decisões que ajudem a cada um em sua própria área de atividade.
- (B) um pequeno número de pessoas, com habilidades complementares, comprometidas umas com as outras e partilhando um objetivo, metas e alguma forma de trabalho.

77

O processo de treinamento de funcionários é diferente do processo de desenvolvimento. O treinamento constitui-se em um processo educacional de

- (A) curto prazo, que envolve a transmissão de conhecimentos específicos relativos ao trabalho.
- (B) longo prazo, orientado no sentido de melhorar os processos de resolução de problemas e de renovação de uma organização.

78

O treinamento possibilita mudanças no comportamento dos funcionários. Em relação ao texto, o treinamento propiciará qual mudança no comportamento dos funcionários da rede de hotéis?

- (A) Desenvolvimento de habilidades.
- (B) Desenvolvimento de conceitos.

79

Diante da escassez de profissionais qualificados, o processo de seleção é visto como um processo de comparação entre duas variáveis que correspondem a:

- (A) o que o cargo requer e o que o candidato oferece.
- (B) a eficiência do candidato e os objetivos estabelecidos.

80

No que se refere ao desenvolvimento de pessoas, assinale a alternativa correta.

- (A) Fornece o essencial para o cargo atual e é imediato.
- (B) Proporciona conhecimentos e prepara para funções complexas.

CONHECIMENTOS ESPECÍFICOS

81

Perigosa quadrilha de narcotraficantes em determinada cidade brasileira planeja executar uma série de atentados, com real possibilidade de produzir mortes entre civis, com o intuito de espalhar pânico nesta cidade. Gasparzinho, integrante da facção criminosa é preso e, em interrogatório, por meio da técnica do “waterboarding” (afogamento simulado) aplicada pela autoridade policial, confessa e fornece detalhes sobre o plano terrorista. Tal fato possibilita a ação preventiva das forças de segurança daquela unidade da federação que, assim, conseguem impedir a execução dos eventos. A respeito da situação descrita, é correto afirmar que

- (A) é amparada pela supremacia do interesse público.
- (B) viola o princípio da individualização da pena.
- (C) ponderando os bens jurídicos em oposição, é amparada pelo princípio da proporcionalidade.
- (D) viola o devido processo legal.

82

Recentemente, no estado brasileiro do Pará, ocorreu um plebiscito em que seria decidido pelos eleitores daquela unidade federativa sobre a divisão do estado, para a criação dos estados de Carajás e Tapajós. Se efetivamente o resultado do plebiscito fosse pela aprovação, após voto direto de todos os eleitores com domicílio eleitoral naquele estado e em dia com as obrigações eleitorais, a próxima etapa deste processo de divisão seria a aprovação pelo legislativo da divisão do estado, por meio de

- (A) Lei Ordinária Federal.
- (B) Medida Provisória.
- (C) Lei Complementar Federal.
- (D) Emenda Constitucional.

83

Para se eleger prefeito de qualquer município brasileiro, deve o cidadão possuir idade mínima de

- (A) 21 anos.
- (B) 18 anos.
- (C) 30 anos.
- (D) 35 anos.

84

Pedroso Pereira, deputado federal eleito e diplomado, ainda não empossado, é investigado como mandante do crime de homicídio qualificado ocorrido no município onde mantém sua base eleitoral. No espaço de tempo entre a diplomação e a posse do parlamentar, o Ministério Público denuncia o político em face do fato ocorrido. Considerando a situação apresentada, é correto afirmar que a denúncia

- (A) não poderá ser recebida, em razão da imunidade processual do deputado.
- (B) pode ser recebida e processada pelo Tribunal de Justiça do Estado em que ocorreu o crime.
- (C) pode ser recebida e processada pelo Supremo Tribunal Federal.
- (D) poderá ser recebida, mas o processo judicial será suspenso até o término do mandato do parlamentar.

85

No fim de 2011, a presidente da República editou medida provisória que dispõe sobre a organização e competência das juntas eleitorais. O ato normativo aguarda ser votado no Plenário da Câmara, encontrando-se na pauta de deliberação da Comissão Mista do Congresso. A respeito da proposta de iniciativa da Chefe do Poder Executivo, é correto afirmar que

- (A) terá sua eficácia preservada até o eventual veto pelo Congresso Nacional.
- (B) se não for apreciada em até trinta dias contados de sua publicação, entrará em regime de urgência, trancando a pauta de votação do Congresso Nacional.
- (C) terá sua votação iniciada em sessão conjunta do Congresso Nacional.
- (D) não poderá ser submetida ao Congresso Nacional por tratar de matéria que não pode ser objeto de medida provisória.

86

O Tribunal Superior Eleitoral denegou a segurança em ação mandamental impetrada por F.S., prefeito eleito de Rio das Flores, que buscava impugnar a decisão do Tribunal Regional Eleitoral e que determinou a cassação do mandato eletivo do político, em razão de condutas caracterizadoras de abuso de poder econômico. Em face da decisão proferida pelo TSE

- (A) cabe recurso ordinário a ser apresentado perante ao STF (Supremo Tribunal Federal).
- (B) cabe recurso especial a ser apresentado perante ao STJ (Superior Tribunal de Justiça).
- (C) não cabe recurso, esgotada a última instância da Justiça Especializada.
- (D) cabe embargo de divergência a ser apresentado perante ao STF (Supremo Tribunal Federal).

87

A Presidente da República vetou três artigos do Projeto de Lei XY/2011, que foi regularmente aprovado pelo Congresso Nacional. De acordo com a Constituição Federal de 1988, é correto afirmar que o veto poderá ser apreciado pelo(a)

- (A) Senado Federal e rejeitado pelo voto da maioria absoluta de seus membros.
- (B) Câmara dos Deputados e rejeitado pelo voto da maioria absoluta de seus membros.
- (C) Congresso Nacional, em sessão conjunta, e rejeitado pelo voto da maioria relativa de seus membros.
- (D) Congresso Nacional, em sessão conjunta, e rejeitado pelo voto da maioria absoluta dos deputados e senadores.

88

O Poder Legislativo tem sido alvo de inúmeras críticas por parte dos meios de comunicação e da sociedade civil em geral, no que tange à conduta dos representantes políticos eleitos. Com relação a vedações e autorizações a este poder, deputados e senadores, segundo a Constituição,

- (A) investidos em cargo de Ministro de Estado não perderão os respectivos mandatos eletivos.
- (B) a partir da posse, não podem firmar contrato com pessoa jurídica de direito público, exceto quando o contrato obedecer a cláusulas uniformes.
- (C) durante a vigência de estado de sítio e do estado de defesa, poderão ter suspensas as imunidades parlamentares, mediante o voto de dois terços dos membros da Casa a que os deputados e senadores pertencerem.
- (D) quaisquer informações recebidas, em razão do exercício do mandato ou não, são protegidas pelo sigilo de fonte.

89

Considere o seguinte demonstrativo financeiro hipotético: Receita agropecuária = R\$50,00; Receita industrial = R\$400,00; Receita de serviços = R\$1.000,00; Alienação de bens = R\$200,00 e Operação de crédito = R\$300,00. Com base nesses dados, qual é o valor total das receitas de capital?

- (A) R\$ 450,00
- (B) R\$ 500,00
- (C) R\$ 1.400,00
- (D) R\$ 1.700,00

90

Considere o seguinte demonstrativo financeiro hipotético de um orçamento público: Pessoal e encargos = R\$2.000,00; Juros e encargos da dívida = R\$1.500,00; Investimentos = R\$500,00; Inversões financeiras = R\$100,00 e Amortização de dívida = R\$200,00.

Com base nesses dados, qual é o valor total das despesas correntes?

- (A) R\$1.500,00
- (B) R\$1.700,00
- (C) R\$1.800,00
- (D) R\$3.500,00

91

O conceito de orçamento público evoluiu ao longo do tempo, refletindo as mudanças administrativas do poder público e as características do sistema político vigente. Considerando as características do orçamento tradicional e do orçamento-programa, analise.

- I. O principal critério de classificação do orçamento-programa são as unidades administrativas.
- II. A estrutura do orçamento programa está voltada para aspectos administrativos.
- III. O controle no orçamento-programa visa à efetividade.

Assinale

- (A) se apenas as afirmativas I e II estiverem corretas.
- (B) se apenas as afirmativas I e III estiverem corretas.
- (C) se apenas as afirmativas II e III estiverem corretas.
- (D) se todas as afirmativas estiverem corretas.

92

Os créditos adicionais suplementares e especiais dependem da indicação de fontes de recursos para sua abertura. Considerando os possíveis tipos de créditos orçamentários, analise.

- I. Créditos suplementares são destinados a reforços de dotação orçamentária.
- II. Créditos extraordinários são destinados a despesas urgentes e imprevisíveis.
- III. Créditos especiais são destinados a despesas para as quais haja dotação orçamentária específica.

Assinale

- (A) se apenas as afirmativas I e II estiverem corretas.
- (B) se apenas as afirmativas I e III estiverem corretas.
- (C) se apenas as afirmativas II e III estiverem corretas.
- (D) se todas as afirmativas estiverem corretas.

93

Um determinado município tem como limite máximo para dívida consolidada o valor de R\$3.650.000,00 e que, ao final do primeiro quadrimestre do ano de 2011, apresentou um valor correspondente a R\$3.720.000,00 de dívida consolidada. Com base no exposto, é correto afirmar que o município, enquanto apresentar o valor excedente da dívida consolidada não poderá

- (A) alterar o funcionamento da estrutura de carreira dos funcionários de forma que implique em aumento de despesas.
- (B) limitar o empenho como uma medida para obtenção de resultado primário que eleve a dívida consolidada acima do limite.
- (C) prover cargo público por admissão ou contratação de pessoal para qualquer finalidade ou contratar hora-extra.
- (D) realizar operações de crédito interna ou externa, mesmo que seja por antecipação de receita.

94

NÃO é uma atribuição da gestão de pessoas

- (A) analisar e descrever cargos.
- (B) desenhar cargos.
- (C) avaliar desempenho de funcionários.
- (D) realizar planejamento de produção.

95

Na gestão de pessoas, o treinamento está relacionado ao processo de

- (A) desenvolver pessoas.
- (B) agregar pessoas.
- (C) recompensar pessoas.
- (D) manter pessoas.

96

Com relação ao treinamento nas organizações, analise.

- I. É o processo de ensinar aos novos colaboradores as habilidades básicas para desempenho em seus cargos.
- II. É o processo educacional de curto prazo aplicado de maneira sistemática.
- III. Está relacionado com as habilidades futuras exigidas pelo cargo.

Assinale

- (A) se apenas as afirmativas I e II estiverem corretas.
- (B) se apenas as afirmativas I e III estiverem corretas.
- (C) se apenas as afirmativas II e III estiverem corretas.
- (D) se todas as afirmativas estiverem corretas.

97

Nos processos de treinamento, é primordial desenvolver o ciclo de treinamento que é composto por quatro etapas, a saber: diagnóstico, desenho, implementação e avaliação. A atividade relacionada à elaboração do programa de treinamento para atender às necessidades identificadas em um cargo, dá-se o nome de

- (A) diagnóstico.
- (B) desenho.
- (C) implementação.
- (D) avaliação.

98

De acordo com as funções de um gerente de operações, analise.

- I. Formular estratégia de operações alinhada com os objetivos estratégicos da organização.
- II. Tomar decisões relativas ao *layout* de instalações.
- III. Controlar a produção das unidades sob sua responsabilidade.
- IV. Administrar estoques.

Assinale

- (A) se todas as afirmativas estiverem corretas.
- (B) se apenas as afirmativas II e IV estiverem corretas.
- (C) se apenas as afirmativas I e III estiverem corretas.
- (D) se apenas as afirmativas II e III estiverem corretas.

99

No que tange à revogação e à anulação do ato administrativo, é correto afirmar que

- (A) a revogação produz efeito retroativo e a anulação não.
- (B) a revogação e a anulação podem ser realizadas pela administração ou pelo judiciário.
- (C) na revogação, há análise do mérito do ato administrativo, já na anulação há juízo de legalidade.
- (D) a revogação é ato vinculado, enquanto a anulação é discricionário.

100

Em relação aos poderes administrativos, é correto afirmar que

- (A) entre ente federativo e autarquia há poder hierárquico.
- (B) entre um superior e seu subordinado em uma repartição há poder hierárquico.
- (C) a multa aplicada a um particular que avança o sinal tem fundamento no poder hierárquico.
- (D) a multa aplicada pelo poder concedente a uma concessionária de serviço público tem base no poder hierárquico.

101

Sobre o tema ato administrativo, analise.

- I. Toda revogação pressupõe um ato legal e perfeito, mas inconveniente ao interesse público. Como a revogação atinge um ato que foi editado em conformidade com a lei, ela não retroage (seus efeitos são *ex nunc*).
- II. O ato administrativo a que falte um dos elementos essenciais de validade será considerado inexistente, independente de qualquer decisão administrativa ou mesmo judicial.
- III. A permissão é ato administrativo negocial, discricionário e precário, pelo qual o Poder Público faculta ao particular o uso de bens públicos a título gratuito ou oneroso, nas condições estabelecidas pela Administração.

Assinale

- (A) se apenas as afirmativas I e II estiverem corretas.
- (B) se apenas as afirmativas I e III estiverem corretas.
- (C) se apenas as afirmativas II e III estiverem corretas.
- (D) se todas as afirmativas estiverem corretas.

102

Em relação a responsabilidade por atos de concessionárias de serviços públicos que causem dano a terceiros, o Brasil adota a teoria do(a)

- (A) risco integral.
- (B) risco administrativo.
- (C) culpa anônima.
- (D) responsabilidade com culpa civil.

103

Os atos administrativos possuem como atributos, EXCETO:

- (A) Imperatividade.
- (B) Coercibilidade.
- (C) Atipicidade.
- (D) Autoexecutoriedade.

104

Sobre Ato Administrativo, Abuso de Poder e Poder de Polícia, analise cada uma das afirmativas, assinalando aquela que for verdadeira.

- (A) O mérito do ato administrativo está sempre presente nos atos discricionários, o que não acontece nos atos vinculados.
- (B) São exemplos de atos administrativos discricionários a licença para construir e a autorização para porte de arma.
- (C) Na Administração Pública, o abuso de poder apresenta-se unicamente de forma comissiva, seja por excesso ou desvio de poder.
- (D) O poder de polícia é exercido com vinculação estrita, obedecendo às limitações da lei relativamente à competência, forma, fins, motivos e objeto.

105

O Estado responderá pelos danos que os seus agentes causarem

- (A) somente quando estiverem no exercício de suas funções.
- (B) quando estiverem no exercício de suas funções ou quando se utilizarem de suas funções para causar o dano.
- (C) no exercício de suas funções ou fora de suas funções ainda que o dano seja causado em uma atividade particular.
- (D) somente quando o agente atuar com dolo ou culpa.

106

A venda de bens imóveis da administração pública, quando se sujeita à licitação deve ser realizada

- (A) sempre na modalidade de concorrência.
- (B) na modalidade de concorrência, tendo como exceção as hipóteses de imóveis adquiridos em procedimentos judiciais ou por dação em pagamento.
- (C) por leilão, em regra.
- (D) pela modalidade adequada ao preço do imóvel, podendo ser concorrência, tomada de preços, convite ou leilão.

107

Em relação ao controle sobre a administração pública, é correto afirmar que

- (A) o judiciário pode anular ou revogar atos da administração pública.
- (B) com base na autotutela, a administração pública pode revogar atos ilegais ou anular os inconvenientes.
- (C) a anulação de um ato pela administração pública produz efeitos retroativos.
- (D) a revogação de um ato pela administração produz efeitos retroativos.

108

Marque a alternativa que contém os fundamentos ou subprincípios do princípio da proporcionalidade.

- (A) Adequação, razoabilidade e racionalidade.
- (B) Adequação, exigibilidade e proporcionalidade em sentido estrito.
- (C) Razoabilidade, necessidade e boa-fé.
- (D) Regularidade, exigibilidade e proporcionalidade em sentido estrito.

109

Sobre o tema poderes administrativos, marque a alternativa correta.

- (A) É pacífico o entendimento de que os poderes administrativos são renunciáveis.
- (B) Regulamento autônomo é aquele que complementa a lei, permitindo a sua fiel execução.
- (C) Hierarquia é o escalonamento em plano horizontal dos órgãos e agentes da Administração, estabelecendo uma relação de coordenação.
- (D) O poder disciplinar permite a aplicação de sanções dos servidores da Administração Pública por infração funcional.

110

Considerando as diferenças entre gestão pública e privada, analise.

- I. A gestão privada possui mais autonomia decisória relativamente a gestão pública.
- II. A gestão pública sofre mais ingerência política relativamente a gestão privada.
- III. A gestão privada de empresas tem objetivos econômicos e sociais com mesmo peso.
- IV. Para a gestão pública, a lucratividade pode ser dispensável.

Estão corretas apenas as afirmativas

- (A) I, III
- (B) II, IV
- (C) III, IV
- (D) I, II, IV

111

A estrutura de um governo estadual pode ser desenvolvida com base no seguinte organograma: Secretaria de Transportes; Secretaria de Educação e Secretaria de Turismo, por exemplo. Diante do exposto, assinale o tipo de departamentalização descrito anteriormente.

- (A) Por programas.
- (B) Funcional.
- (C) Matricial.
- (D) *Ad hoc*.

112

Em relação às formas de descentralização, analise.

- I. A concessão é a delegação da prestação de serviço público.
- II. A permissão ocorre por meio de contrato de adesão.
- III. A autorização é um ato administrativo precário, unilateral e discricionário.

Assinale

- (A) se apenas as afirmativas I e II estiverem corretas.
- (B) se apenas as afirmativas I e III estiverem corretas.
- (C) se apenas as afirmativas II e III estiverem corretas.
- (D) se todas as afirmativas estiverem corretas.

113

Sobre a desconcentração, analise.

- I. Significa repartição de funções entre vários órgãos de uma mesma administração.
- II. Significa uma quebra de hierarquia entre os órgãos despersonalizados.
- III. Na desconcentração, a execução de atividades pelo Estado é direta e imediata.

Assinale

- (A) se apenas as afirmativas I e II estiverem corretas.
- (B) se apenas as afirmativas I e III estiverem corretas.
- (C) se apenas as afirmativas II e III estiverem corretas.
- (D) se todas as afirmativas estiverem corretas.

114

A gestão pública em toda a sua atividade está presa aos mandamentos da lei, deles não podendo se afastar, sob pena de invalidade de seus atos e responsabilização de seus eventuais autores. A determinação corresponde ao disposto pelo princípio da

- (A) legalidade.
- (B) moralidade.
- (C) igualdade.
- (D) publicidade.

115

Considerando as características das entidades de administração direta e indireta, assinale a única alternativa associada a uma autarquia.

- (A) Possuir personalidade jurídica de direito privado.
- (B) Ser um órgão de administração direta.
- (C) Ser capaz de bastar-se por si mesma.
- (D) Ter flexibilidade de administração de pessoal (quadro próprio).

116

Com base na Lei nº 8.112/90 e suas alterações, são casos de provimento de cargos públicos, EXCETO:

- (A) O servidor que sai de seu cargo e ingressa em outro situado em classe mais elevada (progressão funcional).
- (B) O servidor passa a integrar quadro funcional diverso, saindo de seu cargo efetivo para outro de igual denominação.
- (C) O restabelecimento, por laudo médico, de servidor aposentado por invalidez.
- (D) O retorno do servidor a determinado cargo, tendo em vista que o cargo que ocupava foi extinto ou declarado desnecessário.

117

De acordo com a Lei nº 8.112/90 e suas alterações, no caso de servidor que, tendo tomado posse, não entre em exercício no prazo estabelecido, ocorrerá

- (A) exoneração de ofício.
- (B) demissão por abandono de cargo.
- (C) vacância imediata.
- (D) afastamento por prazo determinado ou indeterminado, conforme o caso.

118

A respeito da redistribuição, com base na Lei nº 8.112/90 e suas alterações, é INCORRETO afirmar que

- (A) ocorrerá *ex officio* para ajustamento de lotação e da força de trabalho às necessidades dos serviços, inclusive nos casos de reorganização, extinção ou criação de órgão ou entidade.
- (B) nos casos de reorganização ou extinção de órgão ou entidade, extinto o cargo ou declarada sua desnecessidade no órgão ou entidade, o servidor estável que não for redistribuído será colocado em disponibilidade, até seu aproveitamento.
- (C) o servidor que não for redistribuído ou colocado em disponibilidade poderá ter exercício provisório em outro órgão ou entidade, até seu adequado aproveitamento.
- (D) a redistribuição de cargos efetivos vagos se dará por ato isolado do órgão da Administração Pública Federal envolvido, submetido ao órgão destinatário e ao órgão central controlador para aprovação.

119

Com base na Lei nº 8.112/90 e suas alterações, analise.

- I. O servidor perderá a parcela de remuneração diária, proporcional aos atrasos, ausências e saídas antecipadas, iguais ou superiores a sessenta minutos.
- II. As gratificações e os adicionais incorporam-se ao vencimento ou provento, nos casos e condições indicados em lei.
- III. Será concedida ajuda de custo àquele que, não sendo servidor da União, for nomeado para cargo em comissão, com mudança de domicílio.

Assinale

- (A) se todas as afirmativas estiverem corretas.
- (B) se apenas as afirmativas I e II estiverem corretas.
- (C) se apenas as afirmativas II e III estiverem corretas.
- (D) se apenas as afirmativas I e III estiverem corretas.

120

De acordo com a Lei nº 8.112/90 e suas alterações, ao servidor NÃO é proibido

- (A) participar de gerência ou administração de sociedade privada.
- (B) exercer o comércio na qualidade de cotista ou comanditário.
- (C) aceitar comissão, emprego ou pensão de estado estrangeiro.
- (D) recusar-se a atualizar seus dados cadastrais quando solicitado.