

# BIBLIOTECÁRIO

Data: 17/10/2010

Duração: 4 horas

Leia atentamente as instruções abaixo.

01- Você recebeu do fiscal o seguinte material:

a) Este Caderno, com 50 (cinquenta) questões da Prova Objetiva, sem repetição ou falha, conforme distribuição abaixo, e o tema da Prova Discursiva.

Português	Raciocínio Lógico	Conhecimentos Específicos
01 a 10	11 a 20	21 a 50

b) Um **Cartão de Respostas** destinado às respostas das questões objetivas formuladas nas provas.

c) Um **Caderno da Prova Discursiva**.

02- Verifique se este material está em ordem e se o seu nome e número de inscrição conferem com os que aparecem no **Cartão de Respostas**. Caso contrário, notifique **imediatamente** o fiscal.

03- Após a conferência, o candidato deverá assinar no espaço próprio do **Cartão de Respostas**, com caneta esferográfica de tinta na cor **azul** ou **preta**.

04- No **Cartão de Respostas**, a marcação da alternativa correta deve ser feita cobrindo a letra e preenchendo todo o espaço interno do quadrado, com caneta esferográfica de tinta na cor **azul** ou **preta**, de forma contínua e densa.

Exemplo: 

A	B	■	D	E
---	---	---	---	---

05- Para cada uma das questões objetivas, são apresentadas 5 (cinco) alternativas classificadas com as letras (A, B, C, D e E), mas só uma responde adequadamente à questão proposta. Você só deve assinalar **uma alternativa**. A marcação em mais de uma alternativa anula a questão, mesmo que uma das respostas esteja correta.

06- Será eliminado do Concurso Público o candidato que:

a) Utilizar, durante a realização das provas, telefone celular, bip, walkman, receptor/transmissor, gravador, agenda telefônica, notebook, calculadora, palmtop, relógio digital com receptor ou qualquer outro meio de comunicação.

b) Ausentar-se da sala, a qualquer tempo, portando o **Cartão de Respostas**.

**Observações: Por motivo de segurança, o candidato só poderá retirar-se da sala após 1 (uma) hora a partir do início da prova.**

**O candidato que optar por se retirar sem levar seu Caderno de Questões não poderá copiar sua marcação de respostas, em qualquer hipótese ou meio. O descumprimento dessa determinação será registrado em ata, acarretando a eliminação do candidato.**

**Somente decorridas 2 horas de prova, o candidato poderá retirar-se levando o seu Caderno de Questões.**

07- Reserve os 30 (trinta) minutos finais para marcar seu **Cartão de Respostas**. Os rascunhos e as marcações assinaladas no **Caderno de Questões** não serão levados em conta.

## PORTUGUÊS

Leia o texto a seguir e responda às questões de nº 01 a 10.

## FIM DO MUNDO

Estaria o mundo de hoje, e o Brasil junto com ele, se comprometendo com o que pode vir a ser a mais cara, obsessiva e mal informada ilusão científica da história? A humanidade já esteve convencida de que a Terra era plana, e que era possível prever matematicamente a extinção da vida humana por falta física de comida, já que a população crescería sempre de forma geométrica e a produção de alimentos jamais poderia aumentar no mesmo ritmo; mais recentemente, grandes empresas, governos e ases da ciência digital acreditaram que o "bug do milênio" iria paralisar o mundo na passagem de 1999 para 2000.

Não se pode dizer que a crescente convicção de que o planeta sofre hoje uma "ameaça sem precedentes" em toda a sua existência, como resultado direto da "mudança do clima", e particularmente do "aquecimento global", seja exatamente a mesma coisa. É conveniente tentar estabelecer algum tipo de separação entre o que possam ser problemas reais e o que é uma espécie de culto psicótico ao fim do mundo. Trata-se, previsivelmente, de tarefa com poucas chances de sucesso.

Há, em primeiro lugar, uma atitude cada vez mais ampla e cada vez mais agressiva estabelecendo que as pessoas têm, obrigatoriamente, de acreditar que o clima está mudando para pior e que a catástrofe é uma perspectiva não apenas indiscutível como iminente; dúvidas não são permitidas. A ideia geral é que o cidadão, ao sair de casa um dia desses, pode sofrer um ataque de efeito estufa e cair morto no meio da rua. A essa insistência em criar uma unanimidade de pensamento se acrescenta uma extensa mistura de mistificação, desinformação, pseudociência, demagogia, charlatanismo, fatos sem confirmação e números cuja veracidade não pode ser certificada. De maneira sistemática, fotos da terra rachada pela seca, que o Nordeste do Brasil conhece desde o tempo de dom Pedro II, são apresentadas como prova do aquecimento do planeta. O culpado final por tudo é o "consumo".

Políticos, governos e organizações internacionais, em vez de colocarem mais racionalidade no debate, contribuem ativamente para esse impulso crescente de autoflagelação. Um ano atrás, para ficar num exemplo só, a Inglaterra aprovou uma lei pela qual o país terá de cortar em 80% as suas emissões de carbono até o ano de 2050; ninguém faz a menor ideia de como isso vai se passar na prática. Globalmente, verbas cada vez mais prodigiosas são anunciadas para salvar o planeta: 100 bilhões de dólares por ano em 2020, segundo cálculos de economistas, ou até 1 trilhão - diferença muito reveladora da seriedade dessas contas todas. A maior parte desse dinheiro, segundo os discursos, deverá ser empregada para ajudar os países pobres a participar do combate ambiental e para que Brasil, Índia ou China sejam compensados das despesas que terão para deixar de ameaçar o mundo com o seu desenvolvimento.

Há um conjunto de neuroses, fantasias e necessidades políticas que se ligam muito mais aos países ricos do que à realidade brasileira. O Brasil faria melhor pensando primeiro em seus interesses. Parece bem claro que o país, antes de ter um problema ecológico, tem um problema sanitário; nossa verdadeira tragédia ambiental é o fato de que 50% da população não dispõe de rede de esgotos, ou de que dois terços dos esgotos são lançados nos rios sem tratamento nenhum. Na Amazônia, onde há o maior volume de água doce do mundo, a maioria da população não tem água decente para beber. Nas áreas pobres das cidades o lixo não é coletado - acaba em rios, represas ou na rua.

A questão ecológica real, no Brasil, chama-se pobreza.

(J.R. Guzzo, Revista *Veja*, 11 de novembro de 2009, com adaptações)

01. No texto, "a mais cara, obsessiva e mal informada ilusão científica da história" (l. 2/3) está explicitada no segmento:

- A) "A humanidade já esteve convencida de que a Terra era plana..." (l. 3/4)
- B) "... a extinção da vida humana por falta física de comida..." (l. 5/6)
- C) "... a produção de alimentos jamais poderia aumentar no mesmo ritmo;..." (l. 7/8)
- D) "... o "bug do milênio" iria paralisar o mundo na passagem de 1999 para 2000." (l. 9/10)
- E) "... é uma espécie de culto psicótico ao fim do mundo." (l. 16/17)

02. A ideia contida na última frase do texto explicita-se no parágrafo:

- A) 1º
- B) 2º
- C) 3º
- D) 4º
- E) 5º

03. Em relação ao problema implícito na interrogativa feita no primeiro período do texto, a resposta do enunciador, de acordo com a coerência do texto, sugere:

- A) otimismo
- B) ceticismo
- C) idealismo
- D) ufanismo
- E) alienação

04. No texto, predomina o modo de organização textual:

- A) narrativo
- B) de orientação
- C) dissertativo-argumentativo
- D) descritivo
- E) técnico-científico

05. Em "...a extinção da vida humana por falta física de comida..." (l. 5/6), a preposição destacada tem valor semântico de:

- A) consequência
- B) concessão
- C) tempo
- D) causa
- E) modo

06. Foi empregada para satisfazer regência verbal a expressão sublinhada em:

- A) "... convencida de que a Terra..." (l. 4)
- B) "... convicção de que o planeta..." (l. 11)
- C) "... um ataque do efeito..." (l. 24/25)
- D) "... insistência em criar..." (l. 25/26)
- E) "... primeiro em seus interesses..." (l. 50/51)

07. Em "...por falta física de comida, já que a população..." (l. 5/6), a expressão em destaque pode ser substituída, sem prejuízo semântico ou gramatical, por:

- A) conquanto
- B) portanto
- C) porquanto
- D) contanto que
- E) enquanto

08. Dentre os segmentos abaixo, o que apresenta voz verbal passiva é:

- A) "Estaria o mundo de hoje, e o Brasil junto com ele, se comprometendo..." (l. 1/2)  
 B) "Trata-se, previsivelmente, de tarefa com poucas chances de sucesso." (l. 17/18)  
 C) "...a produção de alimentos jamais poderia aumentar..." (l. 7)  
 D) "...que o clima está mudando para pior..." (l. 21)  
 E) "...dúvidas não são permitidas." (l. 23)

09. O recurso expressivo da ironia está presente no segmento:

- A) "Não se pode dizer que a crescente convicção..." (l. 11)  
 B) "... uma atitude cada vez mais ampla e cada vez mais agressiva..." (l. 19/20)  
 C) "A essa insistência em criar uma unanimidade..." (l. 25/26)  
 D) "... diferença muito reveladora da seriedade dessas contas todas. (l. 42)  
 E) "O Brasil faria melhor pensando primeiro em seus interesses." (l. 50/51)

10. No segmento "... se ligam muito mais aos países ricos do que à realidade brasileira. (l. 49/50), o acento indicativo de crase é obrigatório. Da mesma forma, o acento grave é obrigatório, ao se substituir a expressão destacada por:

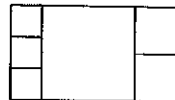
- A) ... aquela realidade  
 B) ... a esta realidade  
 C) ... a tal realidade  
 D) ... a nossa realidade  
 E) ... a uma realidade

## RACIOCÍNIO LÓGICO

11. O número  $N = 2222...22$  possui 200 algarismos iguais a 2. Quando  $N$  é dividido por 12, o 50º algarismo do quociente é:

- A) 1  
 B) 2  
 C) 4  
 D) 6  
 E) 8

12. A figura abaixo mostra um retângulo dividido em seis quadrados: um quadrado grande, dois médios e três pequenos.



Se a área de cada quadrado pequeno é de  $10\text{m}^2$ , a área do retângulo é:

- A)  $176\text{m}^2$   
 B)  $165\text{m}^2$   
 C)  $154\text{m}^2$   
 D)  $132\text{m}^2$   
 E)  $126\text{m}^2$

13. Toda questão de múltipla escolha possui uma, e apenas uma, opção correta. Antônio não entendeu nada do enunciado de certa questão, cujas opções eram:

- A. O problema tem duas soluções, ambas positivas.  
 B. O problema tem duas soluções, uma positiva e outra negativa.  
 C. O problema tem mais de uma solução.  
 D. O problema tem, pelo menos, uma solução.  
 E. O problema tem exatamente uma solução positiva.

A resposta certa da questão que Antônio não entendeu é:

- A) A  
 B) B  
 C) C  
 D) D  
 E) E

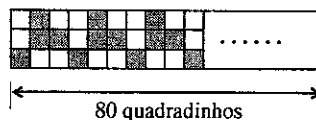
14. Jonas é um apreciador de vinhos e costuma dizer duas frases:

- I- Para mim, qualquer vinho ou é bom ou é ruim; não há meio termo.  
 II- Todo vinho barato é ruim.

Pode-se concluir que:

- A) Se um vinho não é barato, então é bom.  
 B) Se um vinho é ruim, então é barato.  
 C) Se um vinho é bom, então não é barato.  
 D) Um vinho pode ser barato e bom.  
 E) Se um vinho é bom, então não é ruim.

15. Observe a faixa quadriculada abaixo:

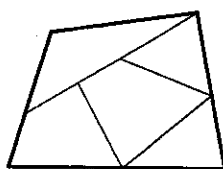


A faixa tem 80 quadradinhos de comprimento, 3 quadradinhos de altura e alguns quadradinhos estão pintados de cinza. A pintura dos quadradinhos obedece a um padrão que não se altera ao longo de toda a faixa.

O número de quadradinhos pintados de cinza nesta faixa é:

- A) 102  
 B) 104  
 C) 105  
 D) 107  
 E) 108

16. O quadrilátero da figura abaixo está dividido em 5 regiões:



O quadrilátero deve ser pintado de forma que duas regiões que possuam uma fronteira em comum não tenham a mesma cor. Essas regiões disponíveis quatro cores, mas não é necessário utilizar todas as cores em uma pintura (podem ser utilizadas todas as cores ou não). O número de maneiras diferentes em que esse quadrilátero pode ser pintado é:

- A) 144
- B) 120
- C) 90
- D) 64
- E) 60

17. Renato está em casa quando chega sua esposa dizendo: "Bati com o carro." Renato então exclama: "Todas as mulheres dirigem mal."

A negação dessa afirmativa é:

- A) Todas as mulheres dirigem bem.
- B) Todos os homens dirigem mal.
- C) Todos os homens dirigem bem.
- D) Nenhuma mulher dirige mal.
- E) Há pelo menos uma mulher que dirige bem.

18. Vítor coleciona figurinhas e tem mais do que 50 e menos do que 200 figurinhas. Ele reparou que, contando as figurinhas de 6 em 6, ou de 7 em 7, ou ainda de 9 em 9, sempre sobrava uma figurinha. O número de figurinhas que Vítor possui está entre:

- A) 50 e 80
- B) 80 e 110
- C) 110 e 140
- D) 140 e 170
- E) 170 e 200

19. Ana, Bia e Clô trabalham na mesma empresa e têm carros da mesma marca e modelo, porém com cores diferentes: prata, verde e azul. Certo dia, o porteiro novo procurou as três para tentar identificar os carros que estavam na garagem, e elas disseram:

Ana: "O carro azul é meu."

Bia: "O carro azul não é meu."

Clô: "O carro verde não é meu."

Todas: "Nas declarações que fizemos anteriormente, somente uma de nós disse a verdade."

Pode-se concluir que:

- A) Ana possui o carro verde.
- B) Bia possui o carro prata.
- C) Clô possui o carro azul.
- D) Ana possui o carro azul.
- E) Bia possui o carro verde.

20. Um saco tem 5 bolas de mesmo tamanho e peso: duas brancas e três pretas. Retirando ao acaso duas delas, a probabilidade de que sejam de cores diferentes é:

- A) 30%
- B) 40%
- C) 50%
- D) 60%
- E) 80%

## CONHECIMENTOS ESPECÍFICOS

21. A operação da descrição de conteúdo de documentos, pela qual se determina o assunto principal e, eventualmente, um ou dois assuntos secundários é chamada:

- A) catalogação
- B) referência
- C) indexação
- D) bibliografia
- E) classificação

22. Na deterioração dos documentos por agentes físicos, podem-se citar:

- A) tempo, umidade e luminosidade excessiva
- B) acidez, mofo e fungos
- C) manipulação, circulação e poeira
- D) roedores, sujeira e fogo
- E) poluição atmosférica, parasitas e insalubridade

23. O componente importante da administração de uma biblioteca, que permite corrigir ou manter estratégias com finalidade de atingir objetivos predeterminados, é a:

- A) coleta de dados
- B) obtenção de resultados
- C) avaliação de coleções
- D) pesquisa de opinião
- E) tomada de decisão

24. Atribuir valor, julgar mérito e relevância, e medir o grau de eficiência e eficácia e o impacto causado pelas ações de determinada organização ou pela implementação de políticas, programas e projetos de informação é a forma de:

- A) editar
- B) avaliar
- C) processar
- D) selecionar
- E) agilizar

25. É competência específica do bibliotecário:

- A) realizar serviços de digitação
- B) registrar o material selecionado e adquirido
- C) coletar dados estatísticos das tarefas
- D) chefiar bibliotecas e centros de documentação
- E) manter o arquivo de correspondência

26. A ordem dos elementos constantes da legenda bibliográfica, tanto no anverso da folha de rosto como em todas as páginas do fascículo de uma publicação periódica científica impressa, segundo a NBR 6021, é a seguinte:

- A) título abreviado, local de publicação, número das páginas inicial e final do fascículo como um todo, data da edição do fascículo
- B) título da publicação periódica científica impressa, local de publicação, número do fascículo, número das páginas inicial e final do fascículo como um todo, data da edição do fascículo
- C) título abreviado, número do fascículo, número das páginas inicial e final do fascículo como um todo, data da edição do fascículo
- D) título abreviado, local de publicação, número do volume, número do fascículo, número das páginas inicial e final do fascículo como um todo, data da edição do fascículo
- E) título da publicação periódica científica impressa, número do fascículo, número das páginas inicial e final do fascículo como um todo, data da edição do fascículo

27. Um artigo em publicação periódica científica impressa, de acordo com a NBR 6022, deve ser precedido de:

- A) eferência e glossário
- B) índice e sumário
- C) nota explicativa e nota de rodapé
- D) apresentação e introdução
- E) resumo e palavras-chave

**28.** Qualquer alteração e/ou irregularidade na edição de uma publicação periódica científica impressa deve ser informada na/no:

- A) publicação, área das notas da ficha catalográfica e editorial
- B) folha de rosto, publicação e editorial
- C) colofão, área das notas da ficha catalográfica e editorial
- D) folha de rosto, área das notas da ficha catalográfica e colofão
- E) editorial, publicação e colofão

**29.** O índice que ordena e reúne, em um arranjo ou combinações de arranjos, os verbetes de fascículos anteriores do mesmo índice, chama-se:

- A) seletivo
- B) acumulativo
- C) exaustivo
- D) especializado
- E) compreensivo

**30.** A operação na qual são escolhidos os termos mais apropriados para descrever o conteúdo de um documento é a:

- A) classificação
- B) catalogação
- C) indexação
- D) sistematização
- E) documentação

**31.** O conjunto de regras de catalogação que determinam como elaborar a descrição bibliográfica e os pontos de acesso, é o:

- A) Tabela ISBN
- B) Código de Catalogação
- C) Notação de autor
- D) Tabela de Classificação
- E) Tabela de Cutter

**32.** Um relatório anual do Instituto de Pesos e Medidas do Estado do Rio de Janeiro terá a seguinte entrada, segundo o CCAA2, revista:

- A) Instituto de Pesos e Medidas, Rio de Janeiro (RJ).
- B) IPEN (Rio de Janeiro, RJ).
- C) IPEN-RJ.
- D) Rio de Janeiro (Estado). *Instituto de Pesos e Medidas*.
- E) Instituto de Pesos e Medidas do Estado do Rio de Janeiro.

**33.** Se, em uma obra, o título aparecer na fonte principal da informação, com os sinais de pontuação ... (reticências) ou [ ] (colchetes), o procedimento correto a ser adotado é:

- A) transformar as reticências em travessão e/ou colchetes em parênteses
- B) ignorar as reticências e/ou os colchetes
- C) ignorar as reticências e/ou transformar os colchetes em parênteses
- D) transcrever o título com as reticências e/ou os colchetes
- E) transformar as reticências em travessão e/ou ignorar os colchetes

**34.** Segundo Grogan, são chamadas fontes terciárias, os seguintes documentos:

- A) enciclopédias, dicionários, manuais, periódicos
- B) trabalhos acadêmicos, dissertações, teses, manuais
- C) bibliografias, serviços de indexação e resumos, catálogos coletivos, guias de literatura, diretórios
- D) bibliografias, teses, dissertações, manuais, anuários
- E) catálogos coletivos, periódicos, anuários, manuais

**35.** Construir representações de documentos publicados numa forma que se preste a sua inclusão em algum tipo de base de dados é o propósito principal da elaboração de:

- A) códigos e normas
- B) tesouros e bibliografias
- C) catálogos e gráficos
- D) índices e resumos
- E) preprints e repertórios

**36.** A classificação usada para relacionar as características dos diversos assuntos, cuja principal particularidade é a subdivisão dos assuntos em facetas e focos, é a seguinte:

- A) Decimal de Dewey
- B) Ranganathan
- C) Bliss
- D) Decimal Universal
- E) Brown

**37.** Em biografias traduzidas, o número da Tabela de Cutter utilizado corresponde ao:

- A) editor
- B) tradutor
- C) título
- D) biografado
- E) autor

**38.** Segundo o tipo de característica ou qualidade escolhida para a base da classificação, quando esta é inseparável do objeto, é chamada de:

- A) natural
- B) artificial
- C) filosófica
- D) científica
- E) mutável

**39.** Localizar os assuntos na coleção, oferecendo um meio para remeter, do índice às tabelas do sistema de classificação, e das fichas do catálogo aos documentos, além de possibilitar a ordenação dos próprios documentos pelos assuntos de que tratam, é a principal finalidade da:

- A) modulação
- B) revisão
- C) indexação
- D) notação
- E) hierarquização

**40.** Na catalogação legível por computador, o termo abrangente usado para se referir às etiquetas, indicadores e códigos de subcampos é chamado:

- A) sinalizador
- B) ponto de acesso
- C) designador de conteúdo
- D) delimitador
- E) marcador de texto

**41.** Na ciência da informação, o instrumento de adaptação entre um texto e um público, tendo por função essencial motivar a leitura, orientá-la e garantir sua pertinência, é chamado:

- A) hipertexto
- B) interação
- C) infometria
- D) construção
- E) paratexto

**42.** No processo de automação, transformar o catálogo existente na biblioteca, em formato de fichas, num catálogo em formato legível por máquina, de acordo com normas e padrões estabelecidos, chama-se:

- A) reversão de dados
- B) transcrição direta
- C) conversão retrospectiva
- D) automação direta
- E) adaptação de busca

**43.** Os sistemas de recuperação da informação, como as bases de dados, podem ser categorizados como referenciais ou de fonte. Bases referenciais são bases de dados que incluem referências ou informações secundárias. Subdividem-se em dois tipos, a saber:

- A) manuais e tabelas
- B) bibliográficas e diretórios
- C) texto completo e legislativo
- D) numéricos e dicionário
- E) imagens e dados gráficos

**44.** Em artigos de publicações periódicas, a estrutura é formada de elementos pré-textuais, textuais e pós-textuais. São considerados elementos textuais:

- A) introdução e conclusão
- B) resumo e palavras-chave
- C) referência e glossário
- D) agradecimento e notas explicativas
- E) anexos e apêndices

**45.** A etapa final do processo do serviço de referência se inicia com a apresentação dos resultados da busca ao usuário. Esse período é chamado:

- A) exatidão
- B) relevância
- C) realização
- D) síntese
- E) fonte

**46.** Um conjunto convencional de informações determinadas, a partir do exame de um documento, e destinadas a fornecer uma descrição única e precisa deste documento, constitui a:

- A) linguagem documental
- B) descrição bibliográfica
- C) descrição de conteúdo
- D) resenha bibliográfica
- E) terminologia documental

**47.** O documento que serve como instrumento de marketing da biblioteca, funcionando como forma de divulgação e de prestação de contas, é o:

- A) diagnóstico
- B) manual
- C) projeto
- D) relatório
- E) boletim

**48.** Segundo Wood, o material bibliográfico que não se encontra disponível através dos canais normais de venda é chamado de literatura:

- A) cinzenta
- B) exclusiva
- C) reprográfica
- D) efêmera
- E) aberta

**49.** O sistema que constitui uma das formas mais utilizadas para a captação de material, com a finalidade de elaborar a bibliografia nacional e formar a coleção que representa a herança cultural de um país, é:

- A) o registro catalográfico
- B) o catálogo coletivo
- C) o depósito legal
- D) a numeração padronizada
- E) a catalogação na publicação

**50.** O preço fornecido por firmas comerciais, em licitações ou orçamentos, tem o nome de:

- A) carta de crédito
- B) edital
- C) empenho
- D) adiantamento
- E) cotação

### QUESTÃO DISCURSIVA

Com a finalidade de possibilitar melhor representação dos assuntos dos documentos, os criadores da CDU imaginaram meios de unir símbolos de diferentes conceitos, através de sinais gráficos. Descreva os dez sinais e explique a sua utilização.

GRADE DE CORREÇÃO	
CONTEÚDO/CRITÉRIO	PONTUAÇÃO
A importância da criação dos sinais gráficos e sua descrição	0 a 10
A utilização dos sinais	0 a 10
Clareza, coesão e coerência	0 a 3
Correção Gramatical	0 a 2

Escreva o mínimo de (20) vinte linhas e o máximo de (30) trinta linhas para desenvolver o seu trabalho, que deverá atender aos critérios de avaliação conforme a grade.

Utilize o espaço disponível para rascunho neste Caderno de Questões e transcreva o seu texto para o local indicado no Caderno de Prova Discursiva.

RASCUNHO

5

10

15

20

25

30