

CONCURSO PÚBLICO

PREFEITURA MUNICIPAL DE MANAUS
SECRETARIA MUNICIPAL DE ADMINISTRAÇÃO
SECRETARIA MUNICIPAL DE EDUCAÇÃO

26 DE SETEMBRO DE 2010

NÍVEL SUPERIOR

**CARGO 5: PROFESSOR
CIÊNCIAS**

MANHÃ

TIPO A

INSTRUÇÕES

Confira seus dados pessoais constantes da sua folha de respostas. Verifique também se o nome do cargo e o tipo de prova impressos neste caderno correspondem aos indicados na sua folha de respostas. Em seguida, verifique se este caderno contém **sessenta** questões, corretamente ordenadas de **1 a 60**. As provas objetivas são constituídas de questões com quatro opções (A, B, C e D) e **uma única resposta correta**.

Em caso de divergência de dados e/ou de defeito no caderno de provas, solicite providências ao fiscal de sala mais próximo.

Transcreva as respostas das questões objetivas para a sua folha de respostas, que é o **único documento válido** para a correção das provas e cujo preenchimento é de sua exclusiva responsabilidade. Serão consideradas marcações indevidas as que estiverem em desacordo com o estabelecido no edital de abertura ou na folha de respostas, tais como marcação rasurada ou emendada, ou campo de marcação não preenchido integralmente. Em hipótese alguma, haverá substituição da folha de respostas por erro de preenchimento por parte do candidato.

Para a marcação na folha de respostas, que é o **único documento válido** para a correção da prova, utilize somente caneta esferográfica de tinta **preta**. Escreva no espaço apropriado da folha de respostas, com a sua caligrafia usual, a seguinte frase do educador Paulo Freire:

Não se pode falar de educação sem amor.

O descumprimento dessa instrução implicará a anulação das suas provas e sua eliminação do concurso, conforme previsto no edital de abertura.

Não é permitido que a folha de respostas seja preenchida por outra pessoa, ressalvados os casos de atendimento especial previamente deferidos.

É vedado amassar, molhar, dobrar, rasgar ou, de qualquer modo, danificar a sua folha de respostas, sob pena de arcar com os prejuízos decorrentes da impossibilidade de realização da leitura óptica ou da correção.

A duração das provas é de **quatro horas**. Você deverá permanecer, obrigatoriamente, em sala por, no mínimo, uma hora após o início das provas, e poderá levar este caderno somente no decurso dos últimos quinze minutos anteriores ao horário determinado para o seu término.

A desobediência a qualquer uma das determinações constantes dos editais do processo, do presente caderno e da folha de respostas implicará a anulação das suas provas.

CRONOGRAMA

Divulgação do gabarito oficial preliminar das provas objetivas, no endereço eletrônico www.movens.org.br , a partir das 17 horas	28/9/2010
Prazo para entrega de recursos contra o gabarito oficial preliminar das provas objetivas	29 e 30/9/2010
Data provável para divulgação do resultado final das provas objetivas e convocação para a avaliação de títulos	27/10/2010
Data provável para entrega de títulos	28 e 29/10/2010



CHAVE DE SEGURANÇA:
8 U Y p 4 h



Utilize este espaço para rascunho.

CONHECIMENTOS BÁSICOS

Leia o texto abaixo para responder às questões 1 e 2.

Educação do olhar

1 Educar é mostrar a vida a quem ainda não a viu. O educador diz: "Veja!" – e, ao falar, aponta. O aluno olha na direção apontada e vê o que nunca viu. Seu mundo se expande. Ele fica mais rico interiormente. E, ficando mais rico interiormente, ele pode sentir mais alegria e dar mais alegria – que é a razão pela qual vivemos.

Já li muitos livros sobre psicologia da educação, sociologia da educação, filosofia da educação – mas, por mais que me esforce, não consigo me lembrar de qualquer referência à educação do olhar ou à importância do olhar na educação, em qualquer deles.

A primeira tarefa da educação é ensinar a ver. É através dos olhos que as crianças tomam contato com a beleza e o fascínio do mundo. Os olhos têm de ser educados para que nossa alegria aumente.

Quero ensinar as crianças. Elas ainda têm olhos encantados. Seus olhos são dotados daquela qualidade que, para os gregos, era o início do pensamento: a capacidade de se assombrar diante do banal. Para as crianças, tudo é espantoso: um ovo, uma minhoca, uma concha de caramujo, o voo dos urubus, os pulos dos gafanhotos, uma pipa no céu, um pião na terra. Coisas que os eruditos não veem.

Na escola eu aprendi complicadas classificações botânicas, taxonomias, nomes latinos – mas esqueci. Mas nenhum professor, jamais, chamou a minha atenção para a beleza de uma árvore ou para o curioso das simetrias das folhas.

As palavras só têm sentido se nos ajudam a ver o mundo melhor. Aprendemos palavras para melhorar os olhos. Quando a gente abre os olhos, abrem-se as janelas do corpo, e o mundo aparece refletido dentro da gente.

Jardins bonitos há muitos, mas só traz alegria o jardim que nascer dentro da gente. São as crianças que, sem falar, nos ensinam as razões para viver. Elas não têm saberes a transmitir. No entanto, elas sabem o essencial da vida. Quem não muda sua maneira adulta de ver e sentir e não se torna como criança jamais será sábio.

Rubem Alves. Internet: www.rubemalves.com.br (com adaptações)

QUESTÃO 1

De acordo com as estruturas linguísticas e gramaticais do texto, julgue os itens abaixo como Verdadeiros (V) ou Falsos (F) e, em seguida, assinale a opção correta.

- I – A forma verbal "traz" (linha 32) pode ser substituída por **trazem**, já que, neste caso, é permitida a concordância com "Jardins bonitos" (linha 32).
- II – As palavras "Educar" (linha 1) e "educador" (linha 2) pertencem à mesma classe de palavras, ou seja, são verbos no infinitivo.
- III – A palavra "saberes" (linha 34) está empregada no texto com o sentido de **conhecimento**.
- IV – Em suas duas ocorrências, o pronome "ele" (linhas 4 e 5) tem como referente "aluno" (linha 2) e, não, "mundo" (linha 3).
- V – A oração "abrem-se as janelas do corpo" (linhas 30 e 31) está na voz passiva sintética, justificada pela presença de um verbo transitivo direto na terceira pessoa do plural acompanhado de um pronome apassivador.

A sequência correta é:

- (A) F, F, V, V, V.
- (B) V, F, F, F, F.
- (C) V, F, V, F, V.
- (D) F, V, F, V, F.

QUESTÃO 2

Acerca das ideias apresentadas no texto, julgue os itens abaixo e, em seguida, assinale a opção correta.

- I – O autor faz reflexões a respeito de uma educação voltada para a capacidade de se enxergar sob ângulos e referenciais diferentes, enfoques sob os quais a maioria das pessoas ainda não está habituada.
- II – Infere-se do quarto parágrafo que as crianças possuem mais subjetividade, poesia e alegria na forma de olhar do que os adultos.
- III – Educar, na visão do autor, é encarar o processo de ensinar e de aprender com a desconstrução do olhar engessado sobre tudo.
- IV – Ao mencionar que as crianças "ainda têm olhos encantados" (linhas 16 e 17), infere-se que ela é desperta para o imaginário e o poético, viaja através das palavras e é capaz de se surpreender com coisas simples.

A quantidade de itens certos é igual a

- (A) 1.
- (B) 2.
- (C) 3.
- (D) 4.

Leia o texto abaixo para responder às questões de 3 a 5.

1 A palavra "professor" deriva da palavra "professar", que, além de lecionar, significa "declarar publicamente uma convicção ou um compromisso de conduta". Não por acaso, as duas têm a mesma raiz. Nós, mestres, somos 5 profissionais em vários sentidos: por ensinarmos e por nos comprometermos com condutas de trabalho – em uma atividade que exige a contínua exposição de convicções. Essa condição também envolve responsabilidades múltiplas, com conhecimentos e procedimentos, especialmente por lidarmos com muitos jovens e crianças e por um tempo longo.

Precisamos nos lembrar disso, não para nos sentirmos mais importantes do que já somos, mas para termos consciência de que, no desempenho dessa função social, não dá para ignorar limitações pessoais e problemas, ou 15 seja, nossa condição humana.

As responsabilidades de educador, ainda mais complexas, são cumpridas em circunstâncias muito especiais, sob permanente exposição a dezenas de olhares daqueles que pretendemos formar. Aliás, os alunos não são 20 passageiros e não nos consideram somente condutores de classes ou especialistas em Ciências ou Arte. Eles nos enxergam também como alguém que está com blusa colorida e sorriso animado, calça amarrotada e olheiras ou tênis novos e expressão impaciente. Da mesma forma, a turma não vê palavras e números surgirem no quadro e converterem-se em sons, mas acompanham a mão firme ou 25 trêmula segurando o giz e o tom grave ou agudo da voz que explica.

Ao sairmos para o trabalho, mesmo preocupados com a nova ruga flagrada no espelho ou a diferença entre o saldo bancário e a prestação vencida, nos investimos da "persona" professoral. Sensível sim, mas profissional.

Luís Carlos de Menezes - Revista Nova Escola
Edição 223 - junho 2009 (com adaptações)

QUESTÃO 3

Com relação às ideias do texto, assinale a opção correta.

- (A) O texto reúne elementos que não condizem com a realidade do professor e que sequer funcionam como objetos de avaliação por parte de alunos, como é o caso, por exemplo, de “calça amarrotada”, “olheiras” (linha 23) e “mão firme ou trêmula” (linhas 26 e 27).
- (B) O termo “professoral” (linha 31), que é a união de **professor** e **natural**, carrega um sentimentalismo exagerado por parte do autor e, ao mesmo tempo, revela o inconformismo do professor em relação a sua profissão.
- (C) A tese apresentada no segundo parágrafo do texto contradiz a ideia apresentada no terceiro, já que, neste último, o autor afirma que os alunos veem o professor como aquele que meramente transmite conhecimento.
- (D) Ao longo do texto, o autor estabelece uma relação entre o ato de ensinar e a condição humana do professor.

QUESTÃO 4

A respeito dos aspectos linguísticos e gramaticais do texto, julgue os itens abaixo e, em seguida, assinale a opção correta.

- I – O conector “que” (linha 2) introduz uma oração subordinada adverbial concessiva, já que restringe um fato expresso na oração principal.
- II – O emprego proclítico do pronome átono em “não nos consideram” (linha 20) é justificado por haver a atração de uma palavra de sentido negativo.
- III – A inserção de uma vírgula imediatamente após “condição” (linha 8) e “Precisamos” (linha 11) acarretaria prejuízo gramatical ao texto.
- IV – A forma verbal “têm” (linha 4) recebe acento circunflexo por se encontrar no plural, mas, neste caso, poderia também receber, facultativamente, o acento agudo.

A quantidade de itens certos é igual a

- (A) 1.
- (B) 2.
- (C) 3.
- (D) 4.

QUESTÃO 5

Acerca das estruturas do texto, julgue os itens abaixo e, em seguida, assinale a opção correta.

- I – Na linha 5, o vocábulo “por”, em suas duas ocorrências, pertence à mesma classe de palavras.
- II – Na linha 4, a expressão “as duas” tem como referentes as palavras “professor” e “professar” (linha 1).
- III – Caso o vocábulo “a” (linha 18) fosse substituído por **à**, seria mantida a correção gramatical, já que, neste caso, o uso do sinal indicativo de crase é facultativo.
- IV – No texto, o verbo “lembrar” (linha 11), por apresentar-se na forma pronominal, é transitivo indireto.
- V – A palavra “sob” (linha 18) pode ser substituída por **sobre**, sem acarretar prejuízo de sentido ao texto, já que ambas são preposições.

Estão certos apenas os itens

- (A) I, II e IV.
- (B) I, III e V.
- (C) I e IV.
- (D) II, III, IV e V.

QUESTÃO 6

De acordo com a Lei Complementar n.º 135/2010, mais conhecida como Lei Ficha Limpa, julgue os itens abaixo como Verdadeiros (V) ou Falsos (F) e, em seguida, assinale a opção correta.

- I – A Lei é polêmica porque impede que apenas deputados cassados disputem a reeleição.
- II – A Lei Ficha Limpa foi aprovada graças a uma campanha de mobilização da sociedade civil brasileira, que culminou na apresentação de um Projeto de Lei de Iniciativa Popular ao Congresso Nacional.
- III – O Tribunal Superior Eleitoral decidiu que a Lei passaria a ter validade já nas eleições de outubro de 2010.
- IV – O impacto da Lei é limitado porque permite que candidatos condenados, mas que ocupam cargos públicos, possam concorrer às eleições de 2010.
- V – Os impactos da Lei diminuiriam em razão dos vetos do Presidente da República ao texto aprovado no Congresso Nacional.

A sequência correta é:

- (A) V, F, F, V, F.
- (B) F, V, F, F, F.
- (C) F, V, V, F, F.
- (D) V, F, F, V, V.

QUESTÃO 7

Acerca do projeto de lei de iniciativa do Governo federal que trata da prática do castigo físico em crianças, apelidada pela mídia de Lei da Palmada, assinale a opção correta.

- (A) Seriam possíveis apenas os castigos físicos autorizados pelo projeto de lei.
- (B) Pais e cuidadores de menores ficariam proibidos de dar “palmadas pedagógicas” em menores de idade.
- (C) O projeto determina que pais ou responsáveis poderão ser presos e os menores ficarão sob a guarda do conselho tutelar.
- (D) O Brasil é o primeiro país do mundo a adotar uma medida como essa.

QUESTÃO 8

Com relação à ação realizada pela Marinha de Israel, que impediu uma frota de embarcações com ativistas pró-palestinos de chegar à Faixa de Gaza, assinale a opção correta.

- (A) Israel interceptou os navios porque mantém bloqueio marítimo à Faixa de Gaza.
- (B) O Governo brasileiro apoiou a ação israelense, a despeito de reações contrárias do Congresso brasileiro.
- (C) Os tripulantes dos barcos foram presos e ainda se encontram em prisões de segurança máxima em Israel.
- (D) A Organização das Nações Unidas (ONU) não se pronunciou porque o bloqueio é aprovado por Resolução do Conselho de Segurança da entidade.

QUESTÃO 9

De acordo com a proposta do trem de alta velocidade no Brasil, assinale a opção correta.

- (A) O edital veda que empréstimos públicos sejam concedidos para o projeto.
- (B) Um ponto relevante é a obrigatoriedade de que o grupo vencedor da licitação seja inteiramente nacional.
- (C) Uma das principais críticas ao projeto é de que a sua execução custaria mais de 30 bilhões de reais.
- (D) O trem-bala é considerado o principal projeto de infraestrutura para a Copa do Mundo no Brasil, com conclusão prevista para até o final de 2012.

QUESTÃO 10

Em 20 de abril de 2010, ocorreu o derramamento de petróleo após a explosão e o afundamento da plataforma *Deepwater*, operada pela empresa petrolífera BP no golfo do México, em um acidente que matou 11 funcionários e afetou profundamente o meio ambiente da costa de vários estados americanos.

BBC Brasil. Internet: www.bbc.co.uk/portuguese (com adaptações).

A respeito desse acidente, assinale a opção correta.

- (A) O acidente foi resultado de sabotagem de ambientalistas que se opõem à exploração de petróleo.
- (B) Pelo fato de ser o poço petrolífero mais profundo do mundo, os técnicos eram contrários a sua exploração.
- (C) O Presidente Obama decidiu interromper a exploração de petróleo em alto mar depois do acidente.
- (D) A empresa BP desistiu de tentar fechar o vazamento após diversas tentativas frustradas.

QUESTÃO 11

A aquisição de conhecimentos e experiências por meio da educação possui uma determinada finalidade. Para quê aprendo? O que devo aprender? São perguntas colocadas pelo homem desde a Antiguidade. Mas a resposta para essas perguntas tem variado muito conforme a época e o pensamento dos diversos educadores. Todos concordam que a educação possui uma finalidade, porém seus objetivos são muito divergentes.

Professor de Educação Básica – Vestcon Editora Ltda.

Acerca dos autores e seus pensamentos a respeito da educação, relacione a primeira coluna à segunda e, em seguida, assinale a opção correta.

- 1 – Platão
 - 2 – Marx
 - 3 – Durkheim
 - 4 – Sócrates
 - 5 – Dewey
 - 6 – Gramsci
- () Via na educação o mecanismo básico para a constituição de sistemas sociais e de sua manutenção e perpetuação em forma de sociedades.
 - () O ideal seria a conquista da virtude, que, para ele, era sinônimo de sabedoria. Para alcançar a virtude, a mente precisava ser treinada, isto é, disciplinada por meio de exercícios.
 - () A educação é um processo de contínua reconstrução da experiência, com o propósito de ampliar e aprofundar o seu conteúdo social, enquanto o indivíduo ganha controle dos métodos envolvidos.
 - () A boa educação consistia em dar ao corpo e à alma toda a beleza e perfeição de que são capazes. O governo deveria ser controlado pelos filósofos, os únicos realmente capazes de solucionar os problemas sociais com sabedoria e justiça.
 - () A classe dominante impõe suas ideias como meio de controle. Teoria e prática devem estar unidas: a práxis é essencial.
 - () A ideologia desempenha um papel chave porque apoia a ordem social existente, mas também pode ser um meio de conscientização. Em consequência, os intelectuais podem ter importante papel na mudança, como criadores, difusores e organizadores de ideias.

A sequência correta é:

- (A) 3, 4, 5, 1, 2, 6.
- (B) 6, 2, 3, 4, 1, 5.
- (C) 4, 5, 2, 1, 3, 6.
- (D) 5, 2, 3, 1, 6, 4.

QUESTÃO 12

A temática da Pluralidade Cultural diz respeito ao conhecimento e à valorização das características étnicas e culturais dos diferentes grupos sociais que convivem no território nacional, às desigualdades socioeconômicas e à crítica às relações sociais discriminatórias e excludentes que permeiam a sociedade brasileira, oferecendo ao aluno a possibilidade de conhecer o Brasil como um país complexo, multifacetado e algumas vezes paradoxal.

Parâmetros curriculares nacionais : pluralidade cultural, orientação sexual. Brasil. Secretaria de Educação Fundamental.

Com relação à Pluralidade Cultural, julgue os itens abaixo como Verdadeiros (V) ou Falsos (F) e, em seguida, assinale a opção correta.

- I – Busca explicitar a diversidade étnica e cultural que a compõe, compreender suas relações, marcadas por desigualdades socioeconômicas, e apontar transformações necessárias.
- II – Respeitar e valorizar as diferenças étnicas e culturais não significa aderir aos valores do outro, mas, sim, respeitá-los como expressão da diversidade, respeito que é, em si, devido a todo ser humano, por sua dignidade intrínseca, sem qualquer discriminação.
- III – Não almeja a divisão ou o esquadrihamento da sociedade em grupos culturais fechados, mas o enriquecimento propiciado a cada um e a todos pela pluralidade de formas de vida, pelo convívio e pelas opções pessoais, assim como o compromisso ético de contribuir com as transformações necessárias à construção de uma sociedade mais justa.
- IV – Na escola, muitas vezes, há manifestações de racismo, discriminação social e étnica, por parte de professores, de alunos, da equipe escolar, ainda que de maneira involuntária ou inconsciente. Essas atitudes representam violação dos direitos dos alunos, professores e funcionários discriminados, trazendo consigo obstáculos ao processo educacional, pelo sofrimento e constrangimento a que essas pessoas se veem expostas.

A sequência correta é:

- (A) V, F, F, F.
- (B) V, V, V, V.
- (C) V, F, F, V.
- (D) F, F, V, V.

QUESTÃO 13

Os principais pedagogos que atuaram de maneira significativa no cenário da educação no século XIX foram

- (A) Dewey, Marx e Dilthey.
- (B) Piaget, Emília Ferreiro e Vygotsky.
- (C) Pestalozzi, Fröebel e Herbart.
- (D) Carl Rogers, Freud e Köhler.

QUESTÃO 14

O ato de planejar faz parte da história do ser humano, pois o desejo de transformar sonhos em realidade objetiva é uma preocupação marcante de toda pessoa. Em nosso dia a dia, sempre estamos enfrentando situações que necessitam de planejamento, mas nem sempre as nossas atividades diárias são delineadas em etapas concretas da ação, uma vez que já pertencem ao contexto de nossa rotina. Entretanto, para a realização de atividades que não estão inseridas em nosso cotidiano, usamos os processos racionais para alcançar o que desejamos.

Maria Adelia Teixeira Baffi. O planejamento em educação: revisando conceitos para mudar concepções e práticas. In.: **José Luiz de Paiva Bello.** Pedagogia em Foco, Petrópolis, 2002.

Considerando os tipos de planejamento, relacione a primeira coluna à segunda e, em seguida, assinale a opção correta.

- I – Planejamento
 II – Planejamento Educacional
 III – Planejamento Curricular
 IV – Planejamento de Ensino
 V – Planejamento Escolar
- () É o processo de busca de equilíbrio entre meios e fins, entre recursos e objetivos, visando ao melhor funcionamento de empresas, instituições, setores de trabalho, organizações grupais e outras atividades humanas (PADILHA, 2001).
- () Processo contínuo que se preocupa com o “para onde ir” e “quais as maneiras adequadas para chegar lá”, tendo em vista a situação presente e possibilidades futuras, para que o desenvolvimento da educação atenda tanto as necessidades da sociedade quanto as do indivíduo (PARRA apud SANT’ANNA et al., 1995).
- () Processo de decisão sobre atuação concreta dos professores, no cotidiano de seu trabalho pedagógico, envolvendo as ações e situações, em constantes interações entre professor e alunos e entre os próprios alunos (PADILHA, 2001).
- () Envolve o processo de reflexão, de decisões sobre a organização, o funcionamento e a proposta pedagógica da instituição. “É um processo de racionalização, organização e coordenação da ação docente, articulando a atividade escolar e a problemática do contexto social” (LIBÂNEO, 1992).
- () Processo de tomada de decisões sobre a dinâmica da ação escolar. É previsão sistemática e ordenada de toda a vida escolar do aluno”. Portanto, essa modalidade de planejar constitui um instrumento que orienta a ação educativa na escola, pois a preocupação é com a proposta geral das experiências de aprendizagem que a escola deve oferecer ao estudante, através dos diversos componentes curriculares (VASCONCELLOS, 1995).

A sequência correta é:

- (A) I, II, IV, V, III.
 (B) IV, V, III, II, I.
 (C) III, I, II, V, IV.
 (D) I, II, III, IV, V.

QUESTÃO 15

Os resultados do Censo Escolar da Educação Básica de 2008 apontam um crescimento significativo nas matrículas da educação especial nas classes comuns do ensino regular. O índice de matriculados passou de 46,8% do total de alunos com deficiência, em 2007, para 54% no ano passado. Estão em classes comuns 375.772 estudantes com deficiência, transtornos globais do desenvolvimento e altas habilidades ou superdotação. Esse crescimento é reflexo da política implementada pelo Ministério da Educação, que inclui programas de implantação de salas de recursos multifuncionais, de adequação de prédios escolares para a acessibilidade, de formação continuada de professores da educação especial e do Benefício de Prestação Continuada da Assistência Social (BPC) na escola, além do programa Educação Inclusiva: Direito à Diversidade.

Secretaria de Educação Especial - MEC.
 Internet: <http://portal.mec.gov.br/seesp>

De acordo com o texto acima, assinale a opção que apresenta o Benefício de Prestação Continuada (BPC).

- (A) Apoiar os sistemas de ensino na implantação de salas de recursos multifuncionais, com materiais pedagógicos e de acessibilidade, para a realização do atendimento educacional especializado, complementar ou suplementar à escolarização.
- (B) Contribuir para a melhoria da formação dos professores e alunos; o público-alvo prioritário da rede são professores de educação básica dos sistemas públicos de educação.
- (C) Envolver os ministérios da Educação, da Saúde e do Desenvolvimento Social e Combate à Fome, além da Secretaria Especial dos Direitos Humanos, em parceria com municípios, estados e com o Distrito Federal, que realiza o acompanhamento e monitoramento do acesso e da permanência, na escola, das pessoas com deficiência, até 18 anos, por meio da articulação das políticas de educação, saúde, assistência social e direitos humanos.
- (D) Assegurar a educação inclusiva, em todos os níveis dos sistemas educacionais de ensino.

QUESTÃO 16

O art.166 do Estatuto da Criança e do Adolescente – Lei n.º 8.069/1990 – informa que “se os pais forem falecidos, tiverem sido destituídos ou suspensos do poder familiar, ou houverem aderido expressamente ao pedido de colocação em família substituta, este poderá ser formulado diretamente em cartório, em petição assinada pelos próprios requerentes, dispensada a assistência de advogado”.

O §3º desse artigo orienta, ainda, que o consentimento

- (A) dos titulares do poder familiar será colhido pela autoridade judiciária competente em audiência, presente o Ministério Público, garantida a livre manifestação de vontade e esgotados os esforços para manutenção da criança ou do adolescente na família natura ou extensa.
- (B) somente terá valor se for dado após o nascimento da criança.
- (C) dos titulares do poder familiar será precedido de orientações e esclarecimentos prestados pela equipe interprofissional da Justiça da Infância e da Juventude, em especial, no caso de adoção, sobre a irrevogabilidade da medida.
- (D) é retratável até a data da publicação da sentença constitutiva da adoção.

QUESTÃO 17

De acordo com a Lei n.º 11.494/2007, que regulamenta o Fundo de Manutenção e Desenvolvimento da Educação Básica e de Valorização dos Profissionais da Educação (Fundeb), julgue os itens abaixo como Verdadeiros (V) ou Falsos (F) e, em seguida, assinale a opção correta.

- I – Os Fundos destinam-se à manutenção e ao desenvolvimento da educação básica pública e à valorização dos trabalhadores em educação, incluindo sua condigna remuneração, observado o disposto nesta lei.
- II – A distribuição de recursos que compõem os Fundos, no âmbito de cada estado e do Distrito Federal, dar-se-á, entre o governo estadual e seus municípios, na proporção do número de alunos matriculados nas respectivas redes de educação básica pública presencial, na forma do anexo desta lei.
- III – Os recursos disponibilizados aos Fundos pela União, pelos estados e pelo Distrito Federal deverão ser registrados de forma detalhada a fim de evidenciar as respectivas transferências.
- IV – O valor anual mínimo por aluno definido nacionalmente constitui-se em valor de referência relativo aos anos iniciais do ensino fundamental urbano e será determinado contabilmente em função da complementação da União.

A sequência correta é:

- (A) V, F, V, V.
- (B) V, V, V, V.
- (C) F, V, F, V.
- (D) V, V, V, F.

QUESTÃO 18

Várias leis e documentos no Brasil estabelecem direitos de pessoas com deficiência. Acerca desse assunto, relacione a primeira coluna, que traz a legislação, à segunda, que apresenta o que é previsto na Constituição Federal, no Estatuto da Criança e do Adolescente e na Lei de Diretrizes e Bases da Educação, e, em seguida, assinale a opção correta.

- I – Constituição da República Federativa do Brasil de 1988
 - II – Estatuto da Criança e do Adolescente – Lei n.º 8.069/1990
 - III – Lei de Diretrizes e Bases da Educação – Lei n.º 9.394/96
- () Prevê que o atendimento educacional será feito em classes, escolas ou serviços especializados, sempre que, em função das condições específicas dos alunos, não for possível a sua integração nas classes comuns de ensino regular.
 - () Prevê o pleno desenvolvimento dos cidadãos, sem preconceito de origem, raça, sexo, cor, idade e quaisquer outras formas de discriminação; garante o direito à escola para todos; e coloca como princípio para a Educação o “acesso aos níveis mais elevados do ensino, da pesquisa e da criação artística, segundo a capacidade de cada um”.
 - () Garante o direito à igualdade de condições para o acesso e a permanência na escola, sendo o Ensino Fundamental obrigatório e gratuito (também aos que não tiveram acesso na idade própria); o respeito dos educadores; e atendimento educacional especializado, preferencialmente na rede regular.

A sequência correta é:

- (A) I, II, III.
- (B) II, III, I.
- (C) III, II, I.
- (D) III, I, II.

QUESTÃO 19

O art. 206 da Constituição Federal de 1988 discorre sobre os princípios do ensino. De acordo com seu parágrafo único, que foi incluído pela Emenda Constitucional n.º 53/2006, assinale a opção correta.

- (A) Leis complementares fixarão normas para a cooperação entre a União e os estados, o Distrito Federal e os municípios, tendo em vista o equilíbrio do desenvolvimento e do bem-estar em âmbito nacional.
- (B) A lei disporá sobre as categorias de trabalhadores considerados profissionais da educação básica e sobre a fixação de prazo para a elaboração ou adequação de seus planos de carreira, no âmbito da União, dos estados, do Distrito Federal e dos municípios.
- (C) Os cursos de educação profissional técnica de nível médio, nas formas articulada, concomitante e subsequente, quando estruturados e organizados em etapas com terminalidade, possibilitarão a obtenção de certificados de qualificação para o trabalho após a conclusão, com aproveitamento de cada etapa que caracterize uma qualificação para o trabalho.
- (D) No Distrito Federal, as instituições de educação infantil criadas e mantidas pela iniciativa privada integram seu sistema de ensino.

QUESTÃO 20

A Lei n.º 11.645/2008, em seu art. 26-A, estabelece que

- (A) “Considera-se criança, para os efeitos desta Lei, a pessoa até doze anos de idade incompletos, e adolescente aquela entre doze e dezoito anos de idade.”
- (B) “É instituído, no âmbito de cada Estado e do Distrito Federal, um Fundo de Manutenção e Desenvolvimento da Educação Básica e de Valorização dos Profissionais da Educação (Fundeb), de natureza contábil, nos termos do art. 60 do Ato das Disposições Constitucionais Transitórias (ADCT).”
- (C) “Nos estabelecimentos de ensino fundamental e médio, públicos e privados, torna-se obrigatório o estudo da história e cultura afro-brasileira e indígena.”
- (D) “A União, em articulação com os Estados, o Distrito Federal, os municípios e a sociedade civil, procederá a avaliações periódicas da implementação do Plano Nacional de Educação.”

QUESTÃO 21

O art. 212 da Constituição Federal de 1988 traz o seguinte: “A União aplicará, anualmente, nunca menos de dezoito, e os estados, o Distrito Federal e os municípios vinte e cinco por cento, no mínimo, da receita resultante dos impostos, compreendida a proveniente de transferências, na manutenção e desenvolvimento do ensino.”

De acordo com o §6º do art. 212 da Constituição Federal de 1988, incluído pela Emenda Constitucional n.º 53/2006, é correto afirmar que

- (A) as cotas estaduais e municipais da arrecadação da contribuição social do salário-educação serão distribuídas proporcionalmente ao número de alunos matriculados na educação básica nas respectivas redes públicas de ensino.
- (B) a educação básica pública terá como fonte adicional de financiamento a contribuição social do salário-educação, recolhida pelas empresas, na forma da lei.
- (C) a distribuição dos recursos públicos assegurará prioridade ao atendimento das necessidades do ensino obrigatório, nos termos do plano nacional de educação.
- (D) as atividades universitárias de pesquisa e extensão poderão receber apoio financeiro do poder público.

QUESTÃO 22

A Lei n.º 9.394/96, que estabelece as Diretrizes e Bases da Educação Nacional (LDB), determina, no art. 9º, que cabe à União, a elaboração do Plano Nacional de Educação (PNE), em colaboração com os estados, o Distrito Federal e os municípios, e institui a Década da Educação; e no art. 87, que a União encaminhe o Plano Nacional de Educação (PNE) ao Congresso Nacional, um ano após a publicação da citada lei, com diretrizes e metas para os dez anos posteriores, em sintonia com a Declaração Mundial sobre Educação para Todos.

É correto afirmar que os objetivos e prioridades do Plano Nacional de Educação NÃO preveem

- (A) a elevação global do nível de escolaridade da população e a melhoria da qualidade do ensino em todos os níveis.
- (B) a democratização da gestão do ensino público, nos estabelecimentos oficiais, obedecendo aos princípios da participação dos profissionais da educação na elaboração do projeto pedagógico da escola e a participação das comunidades escolar e local em conselhos escolares ou equivalentes.
- (C) o estabelecimento em todos os municípios, no prazo de três anos, sempre que possível em articulação com as instituições de ensino superior que tenham experiência na área, de um sistema de acompanhamento, controle e supervisão da educação infantil, nos estabelecimentos públicos e privados, visando ao apoio técnico-pedagógico para a melhoria da qualidade e à garantia do cumprimento dos padrões mínimos estabelecidos pelas diretrizes nacionais e estaduais.
- (D) a redução das desigualdades sociais e regionais no tocante ao acesso e à permanência, com sucesso, na educação pública.

QUESTÃO 23

A Lei de Diretrizes e Bases da Educação (LDB) – Lei 9.394/96 – em seu art. 3º, discorre sobre os princípios do ensino. De acordo com o art. 3º, NÃO é considerado Princípio da Educação

- (A) a igualdade de condições para o acesso e a permanência na escola.
- (B) a garantia de padrão de qualidade e a valorização da experiência extraescolar.
- (C) o zelo pela aprendizagem dos alunos.
- (D) o respeito à liberdade e apreço à tolerância; pluralismo de ideias e de concepções pedagógicas.

QUESTÃO 24

Acerca da Educação Especial, a Lei de Diretrizes e Bases da Educação n.º 9.394/96, no § 2º do art. 58, preceitua que "o atendimento educacional será feito em classes, escolas ou serviços especializados, sempre que, em função das condições específicas dos alunos, não for possível a sua integração nas classes comuns de ensino regular".

De acordo com o texto, é correto afirmar que

- (A) torna-se obrigatória a inclusão de pessoas com deficiência nas escolas regulares de classes comuns, mesmo sem ter o atendimento especializado.
- (B) o atendimento especializado pode ocorrer em classes ou em escolas especiais, quando não for possível oferecê-lo na escola regular.
- (C) o acesso ao ensino é um direito humano, porém, as pessoas com deficiência devem estudar unicamente em escolas ou classes especiais.
- (D) as pessoas com deficiência só poderão estudar em escolas ou classes comuns.

QUESTÃO 25






De acordo com o art. 4º da Lei de Diretrizes e Bases da Educação n.º 9.394/96, Título III – Do Direito à Educação e do Dever de Educar, o dever do Estado com a educação escolar pública será efetivado mediante a garantia de entender.

Com relação a esse assunto, assinale a opção que apresenta os deveres do Estado.

- (A) Promover o ensino fundamental, obrigatório e gratuito, inclusive para os que a ele não tiveram acesso na idade própria; universalização do ensino médio gratuito; atendimento gratuito em creches e pré-escolas às crianças de zero a seis anos de idade; oferta de ensino noturno regular adequado às condições do educando.
- (B) Elaborar e executar políticas e planos educacionais, em consonância com as diretrizes e planos nacionais de educação, integrando e coordenando as suas ações e as dos seus municípios; autorizar, reconhecer, credenciar, supervisionar e avaliar, respectivamente, os cursos das instituições de educação superior e os estabelecimentos do seu sistema de ensino; baixar normas complementares para o seu sistema de ensino.
- (C) Organizar, manter e desenvolver os órgãos e instituições oficiais dos seus sistemas de ensino; definir, com os municípios, formas de colaboração na oferta do ensino fundamental, as quais devem assegurar a distribuição proporcional das responsabilidades, de acordo com a população a ser atendida e os recursos financeiros disponíveis em cada uma dessas esferas do Poder Público.
- (D) Assegurar o ensino fundamental e oferecer, com prioridade, o ensino médio a todos que o demandarem, respeitado o disposto no art. 38 desta lei; assumir o transporte escolar dos alunos da rede estadual.

QUESTÃO 26

A barra de ferramentas do Windows Explorer do Windows XP possui vários botões. Acerca desses botões, relacione a primeira coluna, que apresenta imagens dos botões, à segunda, que traz suas respectivas descrições, e, em seguida, assinale a opção correta.

- I – 
- II – 
- III – 
- IV – 
- V – 

- () Botão utilizado para mapear unidade de rede.
- () Botão utilizado para alterar os modos de exibição da lista de arquivos, podendo exibir os arquivos com seus detalhes, em listas ou miniaturas.
- () Botão que exibe as propriedades dos arquivos ou pastas selecionados.
- () Botão utilizado para alternar entre a exibição do Painel de Tarefas Comuns e das Pastas no Windows Explorer.
- () Botão que pode ser usado para mover arquivos ou pastas selecionadas para outra pasta.

A sequência correta é:

- (A) I, IV, II, III, V.
- (B) IV, V, III, II, I.
- (C) III, II, V, I, IV.
- (D) V, III, I, II, IV.

QUESTÃO 27

Existem diferentes formas de se apagar um arquivo no Windows XP. Ainda que todas elas produzam o efeito de apagar o arquivo, podem existir pequenas diferenças entre elas.

A respeito dos diferentes meios de se apagar um arquivo no Windows XP, configurado em Português, assinale a opção INCORRETA.

- (A) Ao se clicar em um arquivo e teclar Shift + Del e, então, clicar no botão Sim, o arquivo é apagado sem ir para a Lixeira.
- (B) Pode-se apagar um arquivo ao se clicar com o botão direito, escolher a opção Excluir e, então, clicar no botão Sim.
- (C) Ao se apagar um arquivo que está em uma unidade mapeada de rede, ele vai diretamente para a Lixeira.
- (D) Ao se restaurar um arquivo da Lixeira, ele retornará para a localização anterior a sua deleção.

QUESTÃO 28

Tabulações são muito utilizadas para dar uma formatação clara a um documento. Elas organizam o texto de forma que fique alinhado com um determinado ponto. No Microsoft Word 2007, configurado em Português, é possível utilizar tabulações de diferentes tipos.

Acerca dos tipos de tabulação do Microsoft Word 2007, assinale a opção INCORRETA.

- (A) A tabulação Centralizada define a posição do centro do texto, ou seja, conforme o usuário digita, o texto fica centralizado na posição marcada.
- (B) A tabulação Direita marca a posição do texto, que, conforme o usuário digita, é deslocado para a direita.
- (C) A tabulação Decimal define a posição do ponto decimal do número digitado, ou seja, conforme o usuário digita um número, o seu ponto decimal permanece alinhado na posição marcada.
- (D) A tabulação do tipo Barra não produz efeito no texto.

QUESTÃO 29

Considere a planilha elaborada no Microsoft Excel 2007, apresentada abaixo.

	A	B
1	Meses	Atendimentos
2	jan/2010	1200
3	fev/2010	1520
4	mar/2010	890
5	abr/2010	720
6	mai/2010	570
7	jun/2010	1980
8	jul/2010	4310
9	ago/2010	2750
10	set/2010	5870
11	out/2010	6487
12	nov/2010	1457
13	dez/2010	

Dados históricos indicam que a expectativa de atendimento no mês de dezembro é a soma entre o maior volume do ano com 50% da média.

Assinale a opção que apresenta a fórmula que deve ser utilizada na célula B13 para calcular a expectativa de movimento no mês de dezembro de 2010.

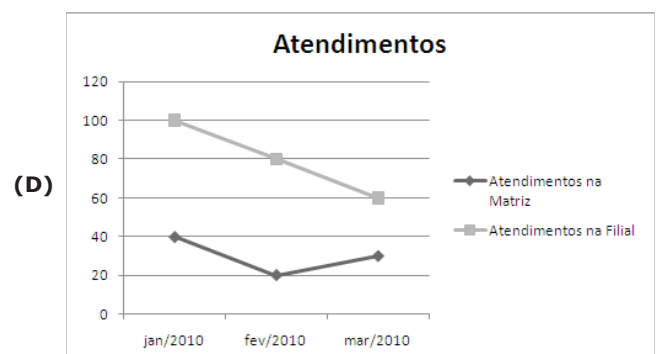
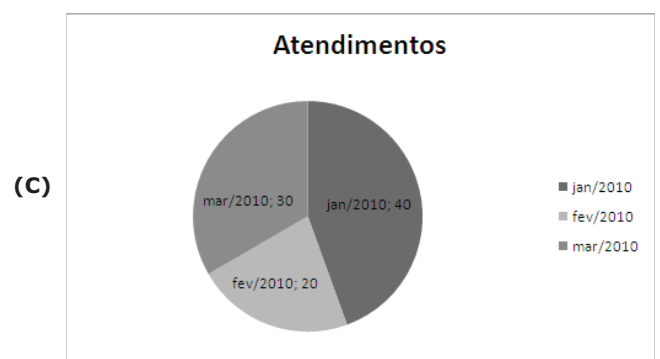
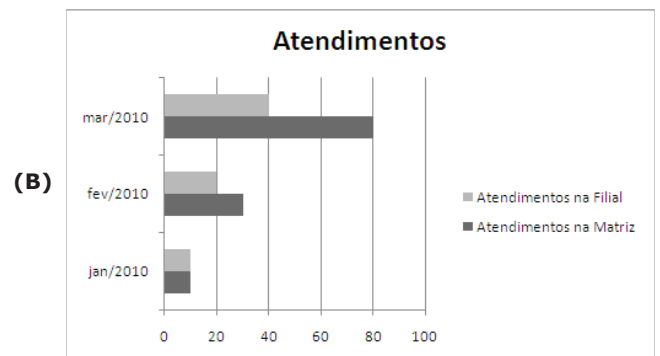
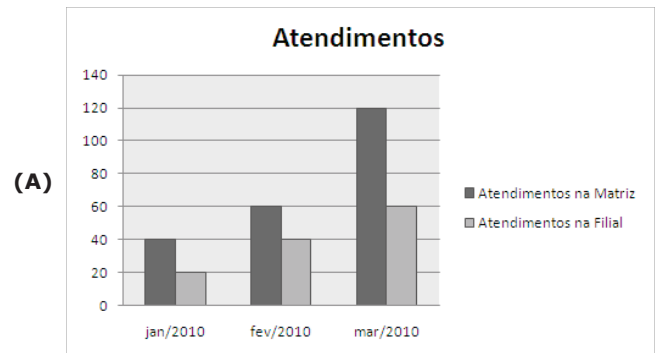
- (A) =MÁXIMO(B2:B12)+MÉDIA(B2:B12)/2
- (B) =(MAIOR(B2:B12;2)+MÉDIA(B2:B12))/2
- (C) =MAIOR(B2:B12;1)+MOD(MÉDIA(B2:B12); 2)
- (D) =MÁXIMO(B2:B12)-(MÉDIA(B2:B12)/50%)

QUESTÃO 30

Considere a planilha abaixo, elaborada no Microsoft Excel 2007.

	A	B	C
1	Meses	Atendimentos na Matriz	Atendimentos na Filial
2	jan/2010	40	20
3	fev/2010	60	40
4	mar/2010	120	60

Assinale a opção que apresenta o gráfico criado a partir da planilha apresentada.



CONHECIMENTOS ESPECÍFICOS

QUESTÃO 31

Segundo o inciso XXIV, art 6º da Lei n.º 11.097/2005, biodiesel é um "biocombustível derivado de biomassa renovável para uso em motores a combustão interna com ignição por compressão ou, conforme regulamento, para geração de outro tipo de energia, que possa substituir parcial ou totalmente combustíveis de origem fóssil".

Acerca do biodiesel, assinale a opção correta.

- (A) Quimicamente, o biodiesel consiste de ésteres de ácidos graxos, ésteres alquila (metila, etila ou propila) de ácidos carboxílicos de cadeia longa.
- (B) O biodiesel é comumente produzido por meio de uma reação química chamada de esterificação, na qual um ácido carboxílico reage com álcool produzindo éster.
- (C) A glicerina gerada a partir do biodiesel é bastante pertinente para a geração de emprego no Brasil.
- (D) Os óleos monoinsaturados e os óleos de características únicas, como o óleo de mamona, são essenciais para a produção do biodiesel.

QUESTÃO 32

Deepwater Horizon era uma torre petrolífera semissubmersível construída em 2001; media 121 metros de comprimento, sendo uma das maiores sondas de perfuração de águas profundas. No dia 22 de abril de 2010, afundou causando derramamento de petróleo e prejudicando o *habitat* de centenas de espécies marinhas e aves, fato que agravou a poluição ambiental.

Internet: www.educacao.uol.com.br (com adaptações)

Acerca da poluição e de seu controle, é correto afirmar que

- (A) a mancha de petróleo derramada no golfo do México vem destruindo um ecossistema de grande diversidade ambiental e área de produção pesqueira.
- (B) a introdução de esgoto na água diminui a Demanda Bioquímica de Oxigênio (DBO), causando a oxigenação da água.
- (C) os valores de Índice de Qualidade da Água (IQA) que são medidos pelos estados brasileiros não são adaptados ao IQA dos Estados Unidos.
- (D) a poluição das águas leva a grandes epidemias, mas não causa comprometimento da vida de populações ribeirinhas, pois dependem dos corpos d'água para extrativismo.

QUESTÃO 33

Observe a placa de identificação de uma espécie em exposição em um zoológico.

Nome vulgar: Macaco-prego Ordem: Primates Família: Cebidae Espécie: <i>Cebus apella</i>
--

Acerca da classificação dos seres, assinale a opção INCORRETA.

- (A) Todas essas categorias de classificação são conhecidas como categorias taxonômicas.
- (B) O nome científico *Cebus apella* está identificado pelo sistema binomial sueco, cujo primeiro nome designa a espécie e o segundo o filo.
- (C) Espécie é um conjunto formado por organismos capazes de se inter cruzarem livremente na natureza, produzindo descendentes férteis.
- (D) A partir da crescente utilização do sequenciamento do DNA dos seres vivos, os biólogos passaram a adotar novas categorias de classificação desses seres.

QUESTÃO 34

Os vírus, ao adotarem o comportamento destruidor, executam o ciclo lítico, no qual a célula é lisada e libera dezenas de vírus. No ciclo lisogênico, o material genético viral incorpora-se ao DNA da célula, que, ao se dividir, transmite o material genético às células-filhas. Hoje se sabe que muitos vírus parasitas do homem, entre eles os causadores de câncer, possuem esse comportamento.

Biologia. Volume Único. Ed. Habras.

Com relação aos vírus, é correto afirmar que

- (A) no vírus da gripe aviária, conhecido como H5N1, a proteína hemaglutinina é responsável pelo contato do vírus com receptores localizados na membrana plasmática da célula a ser infectada, etapa necessária para o ingresso do vírus no citoplasma celular.
- (B) são organismos celulares extremamente simples e pequenos, formados por uma carapaça proteica envolvendo uma molécula de DNA ou RNA, não sendo possível a formação pelas duas moléculas simultaneamente.
- (C) rubéola, sarampo, caxumba, raiva, varíola, herpes, dengue, gastroenterite e hanseníase são doenças causadas por vírus.
- (D) a dificuldade de produzir vacinas eficientes contra a gripe e outras viroses independe do elevado grau de mutação do patrimônio genético dos vírus.

QUESTÃO 35

Um professor mostrou a seus alunos uma reportagem de jornal intitulada "A água – fonte de vida – pode também trazer consigo uma gama de doenças". Após a leitura da reportagem, os alunos debateram e confeccionaram uma cartilha educativa e informativa para a comunidade local acerca das doenças causadas por bactérias. Ao ler a cartilha, o professor encontrou uma informação com erro.

Biologia. Volume Único. Ed. Habras.

Com base na situação acima decrita, assinale a opção que apresenta a informação INCORRETA.

- (A) Febre tifoide é uma doença causada pela bactéria *Salmonella typhi*, que transmite a doença via ingestão de água e alimentos contaminados e contato com pessoas doentes.
- (B) A urina dos ratos, misturada à água das chuvas, pode transmitir a leptospirose em pessoas que entram em contato com esta via pele e/ou mucosas. Esse contato é facilitado quando o indivíduo apresenta arranhões ou feridas. A bactéria *Leptospira interrogans* causa dor de cabeça, febre e, em alguns casos, icterícia. Pode atingir os rins, o fígado e o baço, levando a pessoa infectada à morte.
- (C) Em lugares brejosos, as cianobactérias são capazes de fixar o nitrogênio atmosférico. Os compostos nitrogenados por elas produzidos causam doenças nas plantações de arroz.
- (D) O mosquito *Aedes aegypti* pode se proliferar em casos de inundação, visto que ambientes de água parada favorecem a desova da fêmea responsável pela transmissão da dengue. Essa doença infecciosa provoca febre alta, dores nos músculos, nas articulações e na cabeça, além de manchas vermelhas no corpo e inchaço.

QUESTÃO 36

Pertencem ao Reino Methazoa os filios

- (A) poríferos; cnidários; parasitas; platelmintos.
- (B) moluscos; anelídeos; artrópodes; equinodermos; cordatos.
- (C) anelídeos; cnidários; parasitas; fungos; cordatos.
- (D) poríferos; anelídeos; artrópodes; fungos.

QUESTÃO 37

A maioria dos protozoários é de vida livre e aquática e podem ser encontrados na água doce, salobra ou salgada, além de poderem ser encontrados também no solo ou na matéria em decomposição e alguns, especiais, são parasitas.

Acerca desse assunto, assinale a opção que apresenta, respectivamente, classe, forma de locomoção e tipo de protozoário.

- (A) rizópodes; pseudópodes; paramécio
 (B) ciliados; cílios; ameba
 (C) apicomplexos; flagelos; plasmódio
 (D) flagelados; flagelos; tripanossomo

QUESTÃO 38

O Brasil possui a maior biodiversidade vegetal do planeta. A maior parte da flora brasileira encontra-se na mata Atlântica e na floresta Amazônica, embora o pantanal matogrossense, o cerrado e as restingas também apresentem grande diversidade vegetal. Como exemplos dessa flora, existem as briófitas, as pteridófitas, as gimnospermas e as angiospermas.

Sônia Lopes – Bio

Com relação a esse assunto, assinale a opção que apresenta somente exemplos de espécies da flora brasileira.

- (A) Musgo de turfeira, cavalinhas, sequoia, palmeira
 (B) Cevada, samambaia, pinheiro-do-paraná, figueira
 (C) Hepáticas, selaginella, samambaia, palmeira
 (D) Avenca, cavalinha, sequoia, palmeira

QUESTÃO 39

Acerca dos invertebrados, assinale a opção INCORRETA.

- (A) São pluricelulares, possuem tecidos especializados e vivem como organismo heterotrófico.
 (B) Holótipos, parátipos, lectótipos, paralectótipos e neótipos são espécies de invertebrados.
 (C) No filo Annelida existem duas classes mais importantes: classe Oligochaeta (minhocas, tubitex) e a classe Polychaeta (sanguessuga como *Hirudo medicinalis*, que foi muito utilizada para fazer sangrias).
 (D) Nos holometábolos, uma larva emerge do ovo, cuja forma é totalmente diferente da forma do animal adulto.

QUESTÃO 40

Acerca das teorias da formação do universo, julgue os itens abaixo e, em seguida, assinale a opção correta.


- I – O Big Bang, ou grande explosão, também conhecido como modelo da grande explosão térmica, parte do princípio de Friedmann, que afirma que, enquanto o Universo se expande, a radiação contida e a matéria se esfriam.
 II – Segundo Gamow, na expansão do universo a partir de seu estado inicial de alta compressão, em uma explosão repentina, o resultado foi uma violentíssima redução de densidade e temperatura; após este ímpeto inicial, a matéria passou a predominar sobre a antimatéria.
 III – A Teoria do Big Bang baseia-se em dois pressupostos: o primeiro é a Teoria da Relatividade Geral, de Albert Einstein, que explica a interação gravitacional da matéria; o segundo pressuposto é o conhecido princípio cosmológico, que diz que o aspecto do universo independe da posição do observador.

Estão certos os itens

- (A) II e III, apenas.
 (B) I e II, apenas.
 (C) I e III, apenas.
 (D) I, II e III.

QUESTÃO 41

Observe as figuras abaixo, retiradas do livro *Ecology and Evolution of Darwin's Finches* (1999), que demonstra um dos resultados provocados pelo isolamento geográfico dos tentilhões de Darwin das ilhas Galápagos, onde foram produzidas mais de uma dúzia de espécies.



1. *Geospiza magnirostris*
 2. *Geospiza fortis*
 3. *Geospiza parvula*
 4. *Certhidea olivacea*

Finches from Galapagos Archipelago

Acerca da evolução genética, assinale a opção INCORRETA.

- (A) Especiação é o processo evolutivo pelo qual as espécies vivas se formam. Esse processo pode ser uma transformação gradual de uma espécie em outra (anagênese) ou a divisão de uma espécie em duas por cladogênese.
 (B) Variação hereditária não existe em populações de organismos.
 (C) Adaptações são estruturas ou comportamentos que melhoram uma função específica dos organismos, aumentando sua chance de sobreviver e reproduzir.
 (D) Fluxo gênico é a troca de genes entre populações, que são normalmente da mesma espécie.

QUESTÃO 42

As algas correspondem a um grupo bastante heterogêneo, podem ser unicelulares ou pluricelulares, microscópicas ou macroscópicas e de coloração bastante variável. Acerca das algas, julgue os itens abaixo como Verdadeiros (V) ou Falsos (F) e, em seguida, assinale a opção correta.

- I – A maioria das euglenófitas vivem em água doce. A *Euglena viridis* dotada de um flagelo frontal se reproduz por cissiparidade e, se esta reprodução for com intensidade, a água poderá exibir coloração esverdeada.
 II – As crisófitas são algas unicelulares portadoras de uma carapaça silicosa denominada frústula e os restos de sua parede celular, como no caso das diatomáceas, são explorados comercialmente como isolantes térmicos, abrasivos finos para polimento e confecção de cosméticos.
 III – Cariocleptia ou nucleocleptia é um fenômeno no qual um protista ciliado (*Myrionecta rubra*) fagocita uma alga protocista unicelular (*Geminigera cryophila*) e sequestra seu núcleo para manter os cloroplastos da alga em funcionamento.
 IV – As clorofitas (algas verdes) caracterizam-se pela estrutura exclusivamente multicelular; seus talos variam de poucos centímetros até dezenas de metros; sua parede celular apresenta celulose e algena; e os óleos e a laminarina são suas substâncias de reserva.

A sequência correta é:

- (A) F, V, F, F.
 (B) F, F, V, V.
 (C) V, F, F, F.
 (D) V, V, V, F.

QUESTÃO 43

Acerca das leis de Newton, assinale a opção INCORRETA.

- (A) A segunda Lei de Newton toma a seguinte fórmula matemática: $F = m \cdot a$.
- (B) Duas partículas materiais quaisquer atraem-se ou gravitam reciprocamente com uma força inversamente proporcional às suas massas e diretamente proporcional ao quadrado da distância que as separa.
- (C) Todo o corpo permanece em estado de repouso ou com movimento retilíneo e uniforme, enquanto sobre ele não atuar força qualquer (Lei da Inércia).
- (D) A qualquer ação opõe-se uma reação de intensidade igual e de sentido oposto. Por outras palavras, as interações mútuas de dois corpos são sempre iguais e de sentidos contrários.

QUESTÃO 44

Acerca das principais funções inorgânicas e das características gerais de ácidos, bases, sais e óxidos, julgue os itens abaixo e, em seguida, assinale a opção correta.

- I – Bicarbonato de Sódio (NaHCO_3) é um sal usado em medicamentos que atuam como antiácidos estomacais. É também empregado como fermento na fabricação de pães, bolos, etc., uma vez que libera gás carbônico aquecido, o que permite o crescimento da massa. É, ainda, utilizado para fabricar extintores de incêndio de espuma.
- II – Hidrácidos não possuem oxigênio. Tem-se como exemplos: HI, HCN, $\text{H}_4[\text{Fe}(\text{CN})_6]$.
- III – Quanto mais a base for solúvel em água, mais forte ela será (exceção do NH_4OH , que é uma base solúvel, porém fraca).

Estão certos os itens

- (A) I e III, apenas.
 (B) II e III, apenas.
 (C) I e II, apenas.
 (D) I, II e III.

QUESTÃO 45

Considere duas cargas elétricas puntiformes, Q_1 e Q_2 , separadas pela distância d , mostrada nas figuras A e B.

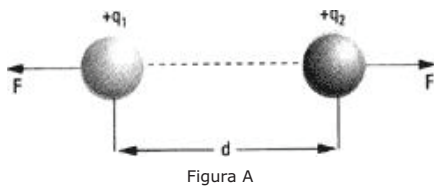


Figura A

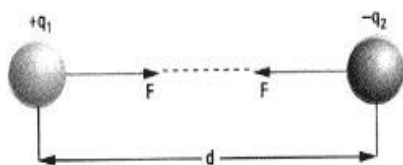


Figura B

Internet: www.colegioweb.com (com adaptações)

Com base nas figuras acima, assinale a opção correta.

- (A) Se os sinais dessas cargas forem iguais, elas se repelem; se forem diferentes, se atraem.
- (B) São forças de ação e reação, portanto, não têm a mesma intensidade e direção; e têm sentidos opostos.
- (C) As forças de atração ou de repulsão entre duas cargas elétricas puntiformes são inversamente proporcionais.
- (D) Q_1 e Q_2 são cargas elétricas com grandes dimensões.

QUESTÃO 46

Cada espécie de ser vivo possui em suas células um certo número de tipos de cromossomos. Chamam-se diploides as células que possuem dois cromossomos de cada tipo e haploides as células que possuem um cromossomo de cada tipo.

Armênio Urzunian e Ernesto Birner. Biologia – Volume Único

Pode-se afirmar, então, que o número diploide de cromossomos das espécies "chimpanzé", "drosófila", "pernilongo" e "sapo" são, respectivamente,

- (A) 23, 18, 48 e 6.
 (B) 48, 8, 6 e 22.
 (C) 64, 22, 20 e 46.
 (D) 24, 22, 46 e 8.

QUESTÃO 47

A resposta a uma questão que perturba a humanidade há anos "Quem nasceu primeiro: o ovo ou a galinha?" pode ter sido descoberta por um estudo feito com a casca de ovo. A descoberta foi publicada no *Structural Control of Crystal Nuclei by Eggshell Protein* (a tradução seria "Controle estrutural de núcleo de cristais na proteína da casca do ovo") e mostra que a ave teria surgido antes.

Assinale a opção que apresenta a teoria da evolução humana na qual este estudo se apoia.

- (A) Lamarckista
 (B) Neodarwinista
 (C) Darwinista
 (D) Fixista

QUESTÃO 48

Acerca dos conceitos de embriologia, julgue os itens abaixo como Verdadeiros (V) ou Falsos (F) e, em seguida, assinale a opção correta.

- () Gametogênese é o processo pelo qual os gametas são produzidos nos organismos dotados de reprodução sexuada.
- () A Espermatogênese é o processo que ocorre nos testículos, as gônadas masculinas.
- () A Espermatogênese divide-se em quatro fases: de proliferação ou de multiplicação; de crescimento; de maturação; e espermiogênese.
- () Nos ovários, encontram-se agrupamentos celulares chamados foliculos ovarianos de Graaf, onde estão as células germinativas, que originam os gametas; e as células foliculares, responsáveis pela manutenção das células germinativas e pela produção dos hormônios sexuais femininos.
- () Os ovários não se alternam na maturação dos seus foliculos, ou seja, a cada ciclo menstrual, a liberação de um óvulo, ou ovulação, acontece nos dois ovários.

A sequência correta é:

- (A) V, V, F, F, F.
 (B) V, F, V, F, F.
 (C) F, F, V, V, V.
 (D) V, V, V, V, F.

QUESTÃO 49

Assinale a opção que apresenta um fator que NÃO influencia na rapidez das transformações químicas.

- (A) Número da massa atômica.
 (B) Superfície de contato.
 (C) Concentração de reagentes.
 (D) Presença de catalisador e pressão.

QUESTÃO 50

“Pode faltar água para quatro bilhões de pessoas no mundo. Cientistas projetam que cerca de quatro bilhões de pessoas serão afetadas com a falta d’água, em função da poluição dos rios e da pouca ação política na área de parte dos estados.”

Jornal A Crítica Amazônica, 10/6/2010

Acerca de ecologia, é correto afirmar que

- (A) o aumento da temperatura, provocado pelo efeito estufa, poderá favorecer o derretimento do gelo das calotas polares e o aumento do nível das águas dos oceanos. O Protocolo de Kyoto não visa à redução da emissão de gases que promovem o aumento do efeito estufa.
- (B) o termo Bioma é utilizado como sinônimo de ecossistema.
- (C) impactos causados pela má gestão humana como desmatamento, derramamento de petróleo, como no golfo do México, e lixo em excesso não afetam a falta de água no planeta e, sim, poluem o meio ambiente.
- (D) a chuva ácida é formada por diversos ácidos como, por exemplo, o óxido de nitrogênio e os dióxidos de enxofre, que são resultantes da queima de combustíveis fósseis. Quando chegam à Terra no formato de chuva ou neve, esses ácidos danificam o solo, as plantas, as construções históricas, os animais marinhos e terrestres, etc.

QUESTÃO 51

“Equipe dos EUA implanta células do braço no coração. Pesquisadores da Universidade da Califórnia injetaram células do biceps de um paciente na parede do seu coração deteriorado. O objetivo foi recuperar a função do órgão.”

Folha de São Paulo, 31/5/2001

Acerca das informações acima e de conhecimentos sobre anatomia, assinale a opção correta.

- (A) O tecido muscular possui células especializadas para a contração. Sua função é permitir o movimento, realizar a manutenção postural e produzir calor.
- (B) Os músculos possuem renovação celular.
- (C) O coração é um órgão formado por musculatura lisa. Ele se divide em dois lados: o lado esquerdo (átrio esquerdo e ventrículo esquerdo) e o lado direito (átrio direito e ventrículo direito).
- (D) Os músculos esqueléticos estão revestidos por uma lâmina delgada de tecido conjuntivo, o endomísio.

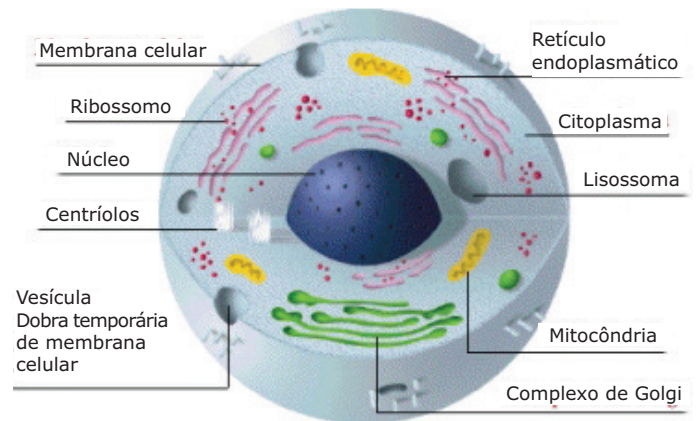
QUESTÃO 52

Reações químicas que produzem energia são chamadas exotérmicas e as que a absorvem são chamadas endotérmicas. Acerca das energias nas transformações químicas, assinale a opção INCORRETA.

- (A) A quantidade de calor mobilizada em uma transformação química pode ser incluída na equação que a representa: como um produto, no caso de absorção de calor, ou como reagente, no caso de liberação de calor.
- (B) A combustão do etanol (C_2H_6O) e a oxidação do metal magnésio são exemplos de transformações exotérmicas, pois se realizam com liberação de energia, na forma de luz e calor.
- (C) A obtenção de metais, como o ferro e a fotossíntese, são exemplos de transformações endotérmicas, pois se realizam com fornecimento contínuo de energia.
- (D) O calor associado a uma transformação química é chamado “calor de reação” e recebe o nome da transformação à qual corresponde.

QUESTÃO 53

A figura abaixo identifica diversos componentes celulares.



Internet: www.webciencia.com.br (com adaptações)

Acerca da figura acima, assinale a opção que apresenta a correta associação do componente celular à sua função.

- (A) Ribossomos – hereditariedade
- (B) Mitocôndria – permeabilidade celular
- (C) Lisossomos – digestão celular
- (D) Membrana citoplasmática – respiração celular

QUESTÃO 54

Acerca dos átomos e modelos atômicos, assinale a opção INCORRETA.

- (A) Próton é a partícula nuclear com carga positiva igual, em grandeza, à do elétron.
- (B) Segundo Bohr, os elétrons não giram em órbitas.
- (C) Nêutron é uma das partículas fundamentais que compõem a matéria. Sua massa é de $1,675 \times 10^{-27} \text{kg}$, aproximadamente 0,125% maior do que a do próton; não tem carga elétrica.
- (D) Segundo Thomson, o átomo seria uma esfera maciça e positiva com as cargas negativas distribuídas ao acaso na esfera. A quantidade de cargas positivas e negativas seriam iguais e, dessa forma, o átomo seria eletricamente neutro. O modelo proposto por Thomson ficou conhecido como “pudim com passas”.

QUESTÃO 55

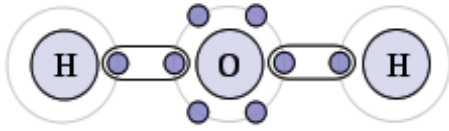
A quantidade de matéria (n) contida em uma determinada massa (m) de certa substância cuja massa molar é M, é dada pela relação

- (A) $n = m / M$
- (B) $n = m \times M$
- (C) $n = m - M$
- (D) $n = m + M$

QUESTÃO 56

A quantidade de moléculas ingeridas ao se beber 9g de água é igual a

- (A) $4 \cdot 10^{23}$ moléculas.
- (B) $3 \cdot 10^{23}$ moléculas.
- (C) $6,02 \cdot 10^{23}$ moléculas.
- (D) $6 \cdot 10^{23}$ moléculas.

QUESTÃO 57

T. W. G. Solomons. Química Orgânica. 6 ed.

Ligações químicas são uniões estabelecidas entre átomos para formarem as moléculas. Acerca das ligações químicas e considerando a figura acima, julgue os itens abaixo e, em seguida, assinale a opção correta.

- I - Ligações iônicas são um tipo de ligação química baseada na atração eletrostática entre dois íons carregados com cargas opostas.
- II - A molécula apresentada na figura não pode ser encontrada nos três estados físicos.
- III - Ligação covalente é o tipo de ligação que ocorre quando os átomos envolvidos ainda não atingiram a estabilidade com os oito ou dois elétrons na camada de valência.
- IV - Ligação metálica ocorre entre íons.

Estão certos apenas os itens

- (A) I e III.
- (B) I, II e III.
- (C) III e IV.
- (D) I e IV.

QUESTÃO 58

Acerca dos fungos, assinale a opção correta.

- (A) A infecção fúngica, normalmente adquirida pelo contato com águas estagnadas, é Geotricose.
- (B) O fungo cuja estrutura vegetativa se diferencia totalmente da estrutura de reprodução é chamado Eucárpico.
- (C) As principais características que distinguem os fungos dentro do domínio Eucariota são: nutrição heterotrófica (absorção ou osmotrófica); parede celular composta de quitina e b-glucana; cristas mitocondriais achatada; ausência de mastigonemas flagelares.
- (D) O enxofre é um dos nutrientes não utilizados pelos fungos.

QUESTÃO 59

“Rio de Janeiro - O Governo federal define até o fim deste ano a localização das novas usinas nucleares, projetadas para operar a partir de 2020.”

Agência Brasil, 12/8/2010

Acerca dos processos nucleares, assinale a opção INCORRETA.

- (A) Fusão nuclear é o processo no qual dois ou mais núcleos atômicos se juntam e formam um outro núcleo de maior número atômico. A fusão nuclear requer muita energia para acontecer e, geralmente, liberta muito mais energia do que consome.
- (B) Reação nuclear, em Física Nuclear, é qualquer reação química na qual ocorra modificação de um ou mais núcleos atômicos, em que dois ou mais átomos se unem ou um átomo sofre fissão nuclear.
- (C) O núcleo atômico é o corpo central do átomo eletricamente positivo, que compreende quase toda a massa do átomo, formado por nêutrons e prótons.
- (D) Situada na praia de Itaorna, Município de Angra dos Reis, Estado do Rio de Janeiro, a Central Nuclear de Angra recebeu o nome de Central Nuclear Almirante Álvaro Alberto em homenagem a este pioneiro pesquisador do campo da tecnologia nuclear no Brasil.

QUESTÃO 60

Rever os conteúdos de Ciências na Educação Infantil e no Ensino Fundamental, em uma postura interdisciplinar, significa também rever aquilo que determina sua essência, sua finalidade maior, o sentido do humano em suas interrelações na busca da construção e reconstrução do conhecimento

Hernández & Ventura, 1998.

Com relação aos conhecimentos da metodologia do ensino de Ciências, assinale a opção INCORRETA.

- (A) A assimilação de conhecimentos a partir de situações vivenciadas pelos participantes individualmente torna-se uma transposição da didática do conhecimento científico para uma linguagem significativa, pouco utilizada no processo de ensino-aprendizagem.
- (B) As atividades lúdicas exploratórias podem contribuir para a construção do conhecimento e do desenvolvimento pessoal, social, cognitivo e psicomotor dos alunos. Estes apropriam-se do conhecimento ao brincar, pois isso estimula a aprendizagem.
- (C) Com a Lei n.º 5.692/71, o ensino de Ciências passou a ter caráter obrigatório nas oito séries do primeiro grau.
- (D) De acordo com a Lei de Diretrizes e Bases (LDB), outro aspecto metodológico a ser considerado, no ensino das ciências em geral, com possível destaque para a Química e a Física, diz respeito às abordagens quantitativas e qualitativas.