



CONCURSO PÚBLICO

PREFEITURA MUNICIPAL DE CONGONHAS

ESTADO DE MINAS GERAIS

EDITAL N.º. 001/2009

INSTRUÇÕES

- 01 - Material a ser utilizado: caneta esferográfica azul ou preta. Os objetos restantes devem ser colocados em local indicado pelo fiscal da sala, inclusive aparelho celular desligado e devidamente identificado com etiqueta.
- 02 - Não é permitido consulta, utilização de livros, códigos, dicionários, apontamentos, apostilas, calculadoras e etc. Não é permitido ao candidato ingressar na sala de provas sem a respectiva identificação e o devido recolhimento de telefone celular, bip e outros aparelhos eletrônicos.
- 03 - Durante a prova, o candidato não deve levantar-se, comunicar-se com outros candidatos e nem fumar.
- 04 - A duração da prova é de 04 (quatro) horas, exceto para os candidatos ao cargo de Técnico em Enfermagem, que realizarão também, provas discursivas, sendo concedido o acréscimo de 01 (uma) hora para a realização das mesmas, perfazendo assim, um total de 05 (cinco) horas para a realização das provas objetivas e discursivas.
- 05 - Somente em caso de urgência pedir ao fiscal para ir ao sanitário, devendo no percurso permanecer absolutamente calado, podendo antes e depois da entrada sofrer revista através de detector de metais. Ao sair da sala no término da prova, o candidato não poderá utilizar o sanitário. Caso ocorra uma emergência, o fiscal deverá ser comunicado.
- 06 - O Caderno de Provas consta de 60 (sessenta) questões de múltipla escolha. Leia-o atentamente.
- 07 - As questões das provas objetivas são do tipo múltipla escolha, com 05 (cinco) opções (A a E) e uma única resposta correta.**
- 08 - Ao receber o material de realização das provas, o candidato deverá conferir atentamente se o Caderno de Provas corresponde ao cargo a que está concorrendo, observando o nome do cargo na parte superior da próxima página, bem como se os dados constantes na Folha de Respostas (Gabarito) que lhe foi fornecida, estão corretos. Caso os dados estejam incorretos, ou o material esteja incompleto ou tenha qualquer imperfeição, o candidato deverá informar tal ocorrência ao fiscal.
- 09 - Os fiscais não estão autorizados a emitir opinião e prestar esclarecimentos sobre o conteúdo das provas. Cabe única e exclusivamente ao candidato interpretar e decidir.
- 10 - O candidato somente poderá retirar-se do local de realização das provas levando o Caderno de Provas no decurso dos últimos 30 (trinta) minutos anteriores ao horário previsto para o seu término. O candidato, também, poderá retirar-se do local de provas somente a partir dos 90 (noventa) minutos após o início de sua realização, contudo não poderá levar consigo o caderno de provas.
- 11 - Ao terminar a prova, o candidato entregará obrigatoriamente ao fiscal de sala, o Cartão de Respostas devidamente assinado no local indicado e o Formulário de Resposta da Prova Discursiva (somente para o cargo de Técnico em Enfermagem).

RESULTADOS E RECURSOS

- Os gabaritos oficiais preliminares das provas objetivas serão divulgados na Internet, no site www.consulplan.net, no Quadro de Avisos da Prefeitura e no Diário Oficial do Estado de Minas Gerais, a partir 09h00min do dia subsequente ao da realização da prova escrita.
- Os recursos deverão ser apresentados, conforme determinado no item 8 do Edital N.º. 001/2009, sendo observados os seguintes aspectos:
- a) O candidato que desejar interpor recursos contra os gabaritos oficiais preliminares das provas objetivas via Internet disporá de **48 (quarenta e oito) horas ininterruptas, iniciando-se às 09h00min do dia 20 de setembro de 2010 e encerrando-se às 09h00min do dia 22 de setembro de 2010**, via fax, ou em requerimento próprio disponibilizado no link correlato ao Concurso Público no site www.consulplan.net. A interposição de recursos no Protocolo Geral da Prefeitura Municipal poderá ser feita nos dias **20 a 22 de setembro de 2010, no horário de expediente, de 12:00 às 18:00 horas**.
- b) A interposição de recursos poderá ser realizada das seguintes formas: a) via Internet, através do Sistema Eletrônico de Interposição de Recursos, com acesso pelo candidato com o fornecimento de dados referentes à sua inscrição, apenas no prazo recursal, à CONSULPLAN, conforme disposições contidas no site www.consulplan.net, no link correspondente ao Concurso Público; ou b) na Prefeitura Municipal de Congonhas/MG, por meio de requerimento, protocolado no Protocolo Geral.

TEXTO:

Onde fica o gol?

Em função da mobilização com a Copa do Mundo, andei me lembrando de uma conversa que tive com um amigo, anos atrás. Ele liderava uma equipe numa agência de publicidade e trabalhava em ritmo alucinado. No decorrer do papo, ele desabafou dizendo que era difícil conviver com colegas que não sabiam para que lado ir, o que fazer, como agir, e que, por causa dessas incertezas, perdiam tempo e faziam os outros perderem também. E exemplificou:

– Sabe por que eu sempre gostei do Pelé? Porque o Pelé pegava a bola em qualquer lugar do gramado e ia com ela reto para o gol. Ele sabia exatamente para onde tinha que chutar.

Isso que você nem é muito fã do esporte. – Comentei.

– Pois é, não jogo futebol, mas tenho alma de artilheiro: entro em campo e já saio perguntando onde é que é o gol. É pra lá? Então é pra lá que eu vou, sem desperdiçar meu tempo, sem ficar enfeitando.

Táí o que a gente precisa se perguntar todo dia quando acorda: onde é que é o gol?

Muitas pessoas vivem suas vidas como se dopadas, chutando para todos os lados, sem nenhuma estratégia, contando apenas com a sorte. Elas acreditam que, uma hora dessas, de repente, quem sabe, a bola entrará. E até que isso aconteça, esbanjam energia à toa.

Goal, em inglês significa objetivo. Você deve ter um. Conquistar um cliente, ser o padeiro mais conceituado do bairro, melhorar a aparência, sair de uma depressão, ganhar mais dinheiro, se aproximar dos seus pais. Pode até ser algo mais simples: comprar as entradas para um show, visitar um amigo doente, trocar o óleo do carro, levar flores para sua mulher. Ou você faz sua parte para colocar a bola dentro da rede ou seguirá chutando para as laterais, catimbando, sem atingir nenhum resultado.

Quase invejo quem tem tempo a perder: sinal de que é alguém irritantemente jovem, que ainda não se deu conta da ligeireza da vida. Já os veteranos não podem se dar ao luxo de acordar tarde, e, no caso, “acordar tarde” não significa dormir até meio-dia: significa dormir no ponto, comer mosca. Não dá. Depois de uma certa idade, é preciso ser mais atento e proativo.

Parece um jogo estafante, nervoso, mas não precisa ser. O gol que você quer marcar talvez seja justamente aprender a ter um dia a dia mais calmo, mais focado em seus reais prazeres e afetos, sem estresse. É uma meta tão valiosa quanto qualquer outra. Só que não pode ser um “quem sabe”, tem que ser um gol feito.

Esta é a diferença entre aqueles que realizam as coisas e os que ficam só empatando.

(Revista O Globo, 04 de julho de 2010, Martha Medeiros)

01) Infere-se do texto que:

- I. Há pessoas que vivem contando apenas com a sorte na vida.
- II. Deve-se ter um objetivo na vida.
- III. Depois de uma certa idade, é preciso ser mais atento e proativo.

Está(ão) correta(s) apenas a(s) afirmativa(s):

- A) I, II B) II, III C) I D) II E) I, II, III

02) De acordo com o texto “Onde fica o gol?”, marque V para as afirmativas verdadeiras e F para as falsas:

- () Há pessoas que vivem a vida sem estratégia, sem objetivo.
- () Há pessoas que esbanjam energia à toa na vida, sem atingir nenhum resultado.
- () Deve-se viver calmamente, focando nos prazeres reais e afetos, sem estresse.

A sequência está correta em:

- A) F, V, F B) V, V, V C) V, V, F D) F, F, V E) V, F, V

03) “– Sabe por que eu sempre gostei do Pelé?” O sinal de pontuação travessão (–) foi utilizado anteriormente para:

- A) Encerrar qualquer tipo de período.
- B) Marcar uma pausa de curta duração.
- C) Indicar que alguém está falando de viva voz (discurso direto).
- D) Substituir a dupla vírgula.
- E) Isolar explicações.

04) “Depois de uma certa idade, é preciso ser mais atento e proativo.” As palavras destacadas apresentam respectivamente, como significados corretos:

- A) estulto, tolo / alguém que não age corretamente.
- B) cuidadoso, ponderado / alguém que antecipa futuros problemas, necessidades ou mudanças; é ser ágil e competente.
- C) fraco, débil / inopinado, inesperado.
- D) feito com intenção / equipamento de ideias.
- E) degradado / alguém derribado.



CONCURSO PÚBLICO – PREFEITURA MUNICIPAL DE CONGONHAS/MG

- 05) No trecho “*E até que isso aconteça, esbanjam energia à toa.*” o sinal indicativo da crase foi utilizado corretamente. Assinale a alternativa em que isso NÃO acontece:
- A) Fui à feira. D) Dirijo-me à Vossa Excelência.
B) Sentaram-se à sombra. E) Assisti àquele filme ontem.
C) Voltamos cedo à casa dos amigos.
- 06) “*Você deve ter um.*” No trecho anterior, o ponto final (.) foi utilizado para:
- A) Separar expressões de caráter explicativo. D) Isolar uma palavra estranha à língua culta.
B) Marcar a omissão do verbo. E) Marcar uma pequena pausa.
C) Encerrar o período.
- 07) “*– Pois é, não jogo futebol, mas tenho alma de artilheiro...*” a palavra destacada anteriormente exprime ideia de:
- A) Escolha. D) Explicação.
B) Contraste, oposição. E) Soma, adição.
C) Finalidade.
- 08) Assinale a afirmativa que apresenta a forma verbal adequada:
- A) Naquele dia, faltou dez pessoas. D) Haviam muitas pessoas nesse lugar.
B) O pessoal gritavam. E) Paulo eram as alegrias daquela família.
C) Ainda não chegaram os documentos.
- 09) Quanto à regência, assinale a afirmativa INCORRETA:
- A) Os amigos foram ao teatro. D) Lá em casa, somos três.
B) João namora com Maria. E) Nós aspiramos a uma boa faculdade.
C) Prefiro cinema a teatro.
- 10) “*É uma meta tão valiosa quanto qualquer outra.*” As palavras destacadas apresentam, respectivamente:
- A) dígrafo / encontro vocálico e tritongo D) ditongo / hiato e encontro vocálico
B) encontro vocálico / dígrafo e encontro vocálico E) hiato / encontro consonantal e hiato
C) hiato / ditongo e encontro consonantal

RACIOCÍNIO LÓGICO

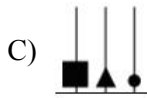
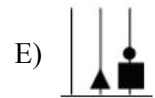
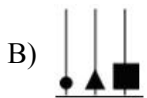
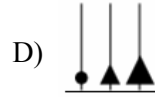
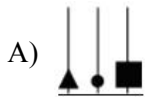
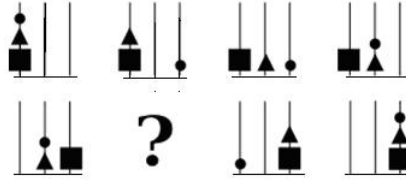
- 11) Dionísio tem uma fazenda, na qual existem várias macieiras com maçãs verdes e vermelhas. Numa caminhada pela fazenda, ele resolveu colher maçãs, de tal forma que o número de frutas colhidas num pé seria sempre o dobro do número colhido no pé anterior. Ele começou retirando apenas uma maçã no primeiro pé, e no segundo retirou duas maçãs, passando a ter 3 maçãs. No próximo pé, colheu quatro maçãs, ficando com um total de sete maçãs, e assim sucessivamente... Dionísio pretende distribuir todas as frutas colhidas em caixas que juntas comportam no máximo 2000 maçãs. Desejando não deixar frutas fora das caixas e respeitando as condições de colheita, indique o maior número de árvores que Dionísio pode ter utilizado na referida colheita:
- A) 12 B) 11 C) 10 D) 9 E) 13
- 12) Em uma concessionária de veículos há carros de duas e quatro portas, sendo 25% destes, de quatro portas. Após serem vendidos alguns carros de duas portas verificou-se que 37,5% daqueles que continuaram no estacionamento eram de quatro portas. Marque a afirmativa verdadeira:
- A) 40% dos carros de duas portas que havia nesta concessionária foram vendidos.
B) Mais da metade de todos os carros que havia nesta concessionária foram vendidos.
C) Foram vendidos 1/3 dos carros de duas portas que havia nesta concessionária.
D) 25% de todos os carros que havia nesta concessionária foram vendidos.
E) Foram vendidos 4/9 dos carros de duas portas que havia nesta concessionária.
- 13) Numa rua há 4 prédios: Edifício Solar, Edifício Independência, Edifício Aquarius e Edifício Novo Horizonte. Sabe-se que o número de andares do Solar é inferior ao do Novo Horizonte. O Independência não é o mais alto e o Aquarius não é o mais baixo. O número de andares do Independência é superior ao do Solar. O Novo Horizonte é o segundo mais alto. Qual das alternativas apresenta os edifícios em ordem crescente de altura?
- A) Edifício Novo Horizonte, Edifício Independência, Edifício Aquarius, Edifício Solar
B) Edifício Aquarius, Edifício Independência, Edifício Solar, Edifício Novo Horizonte
C) Edifício Solar, Edifício Independência, Edifício Novo Horizonte, Edifício Aquarius
D) Edifício Independência, Edifício Solar, Edifício Novo Horizonte, Edifício Aquarius
E) Edifício Solar, Edifício Independência, Edifício Aquarius, Edifício Novo Horizonte
- 14) Na sequência a seguir, quais letras correspondem às lacunas “-”, respectivamente:
- A L ! B K @ C - # D I \$ - H % F
- A) T, U B) J, E C) J, J D) Q, I E) E, J



CONCURSO PÚBLICO – PREFEITURA MUNICIPAL DE CONGONHAS/MG

- 15) Renato esqueceu sua senha bancária que possui 4 caracteres, sendo cada um deles uma letra ou um número. Porém, Renato sabe que apenas uma das informações a seguir é verdadeira. Assinale-a:
- A) A senha é composta por 3 algarismos pares distintos e 1 ímpar.
 B) A senha apresenta 2 letras e 2 algarismos.
 C) A senha é formada por 2 consoantes e 2 vogais.
 D) A senha apresenta 4 algarismos distintos.
 E) A senha apresenta 2 consoantes e 2 algarismos pares.

- 16) Marque a alternativa que corresponde à figura omitida em “?” na gravura apresentada:



- 17) Cosme, Emiliano e Damião frequentam uma famosa padaria da cidade. Cada um fez seu pedido, um delicioso doce e uma saborosa bebida. Entretanto, o distraído atendente Gomes não anotou corretamente os lanches. Não obstante, Gomes conhece bem os três amigos e facilmente deduziu o que cada um pediu. Gomes sabe que:
- Quem come pudim bebe café.
 - Damião sempre pede alfajor.
 - Cosme não pediu suco.
 - Aquele que come brigadeiro não bebe capuccino.

Logo:

- A) Cosme pediu pudim e café, Damião pediu alfajor e capuccino, Emiliano pediu brigadeiro e suco.
 B) Cosme pediu pudim e capuccino, Damião pediu alfajor e café, Emiliano pediu brigadeiro e suco.
 C) Damião pediu pudim e café, Emiliano pediu alfajor e capuccino, Cosme pediu suco e brigadeiro.
 D) Emiliano pediu pudim e suco, Damião pediu alfajor e capuccino, Cosme pediu brigadeiro e café.
 E) Cosme pediu alfajor e café, Damião pediu pudim e suco, Emiliano pediu brigadeiro e capuccino.
- 18) Numa cozinha, existem 48 copos distribuídos sobre a mesa, sobre a pia e guardados no armário. Sabe-se que o número de copos sobre a pia é igual à metade dos copos guardados no armário e o número de copos sobre a mesa é igual à metade do número de copos existentes nesta cozinha. Quantos copos estão guardados no armário?
- A) 14 B) 16 C) 18 D) 17 E) 19

- 19) Analise as proposições a seguir:

I. - + = 14

II. + - = 2

III.
$$\frac{\begin{matrix} \text{neutral face} & + & \text{sad face} \\ \hline \text{happy face} \end{matrix}}{=} = 2$$

IV. x x = ?

Assinale a alternativa que corresponde ao valor de IV:

- A) 440 B) 480 C) 630 D) 450 E) 810



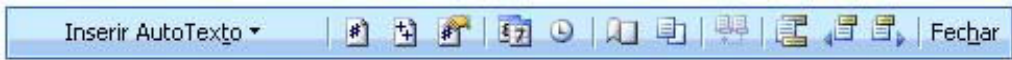
CONCURSO PÚBLICO – PREFEITURA MUNICIPAL DE CONGONHAS/MG

- 20) Laura comprou três calçados para presentear seu marido Lucas, sua filha Luana e seu filho Leandro, sendo estes calçados: um par de sandália, um par de tênis e um par de sapato não necessariamente nesta ordem. Sabe-se que estes calçados estavam em caixas de cores verde, azul e cinza. Analise as afirmativas:
- I. Lucas não ganhou o tênis.
 - II. O sapato estava na caixa azul.
 - III. A caixa verde foi entregue a filha de Laura.
 - IV. Leandro ganhou a sandália.
- Logo:**
- A) A sandália estava na caixa verde.
 - B) Luana ganhou o sapato.
 - C) O filho de Laura ganhou a caixa cinza.
 - D) O presente de Luana não estava na caixa verde.
 - E) O marido de Laura não ganhou a caixa azul.

INFORMÁTICA BÁSICA

- 21) A opção que descreve corretamente as teclas de atalho e suas respectivas funções no Microsoft Word 2003 (configuração padrão), é:
- A) F6 – Verificar ortografia e gramática.
 - B) Ctrl + N – Arquivo novo.
 - C) Ctrl + A – Abrir documento.
 - D) Ctrl + S – Salvar.
 - E) F2 – Ajuda.
- 22) No Microsoft Excel 2003 (configuração padrão), o caminho para a Importação de dados externos, é:
- A) Menu Arquivo, opção Importar dados externos.
 - B) Menu Dados, opção Importar dados externos.
 - C) Menu Inserir, opção Importar dados externos.
 - D) Menu Formatar, opção Importar dados externos.
 - E) Menu Ferramentas, opção Importar dados externos.
- 23) Com relação ao uso do Microsoft Excel 2003 (configuração padrão), analise o fragmento de planilha:

| | A | B | C | D |
|---|---|---|---|---|
| 1 | 4 | 2 | 8 | |
| 2 | 7 | 3 | 2 | |
| 3 | 9 | 6 | 4 | |
| 4 | | | | |

- Ao ser aplicada na célula D4, a fórmula =MÉDIA(A1:C3)*2, obtém-se como resultado o valor de:
- A) 8
 - B) 10
 - C) 12
 - D) 14
 - E) 16
- 24) No Microsoft Word 2003 (configuração padrão), os ícones da figura apresentada são componentes da seguinte barra de ferramentas:
- 
- A) Padrão.
 - B) Formatação.
 - C) Formulários.
 - D) Desenho.
 - E) Cabeçalho e rodapé.
- 25) Na manipulação de arquivos, a partir do Windows Explorer, assinale a função da combinação das teclas Ctrl + X:
- A) Copiar arquivo ou pasta selecionada.
 - B) Selecionar todos arquivos e pasta do diretório atual.
 - C) Recortar arquivo ou pasta selecionada.
 - D) Renomear arquivo ou pasta selecionada.
 - E) Excluir arquivo ou pasta selecionada.
- 26) No Microsoft Word 2003 (configuração padrão), tem-se um documento de 100 páginas. Sabe-se que a intenção é imprimir da página 30 a 50. O preenchimento do intervalo de páginas no assistente do comando Imprimir deve ser:
- A) 30:50
 - B) 30;50
 - C) 30a50
 - D) 30-50
 - E) 30#50
- 27) Na estrutura de pastas do Windows Explorer (Windows XP Professional), o conteúdo da área de trabalho é armazenado no Item:
- A) Meus locais de rede.
 - B) Painel de controle.
 - C) Desktop.
 - D) Todos os programas.
 - E) Lixeira.
- 28) No Microsoft Word 2003 (configuração padrão), o ícone da barras de ferramentas Padrão referente ao comando visualizar impressão, é:

- A) 
- B) 
- C) 
- D) 
- E) 



CONCURSO PÚBLICO – PREFEITURA MUNICIPAL DE CONGONHAS/MG

29) São categorias de funções do Microsoft Excel (versão 2003 / configuração padrão), EXCETO:

- A) Financeira. B) Data e hora. C) Geometria. D) Estatística. E) Lógica.

30) Analise o fragmento de planilha do Microsoft Excel 2003 (configuração padrão):

| | D4 | | | |
|---|----|---|---|---|
| | A | B | C | D |
| 1 | 1 | 3 | 1 | |
| 2 | 2 | 2 | 2 | |
| 3 | 3 | 1 | 3 | |
| 4 | | | | |

Ao ser aplicada na célula D4, a fórmula: =SOMA(A1:A3;C1:C3)^2, obtém-se como resultado o valor de:

- A) 16 B) 24 C) 64 D) 144 E) 388

CONHECIMENTOS ESPECÍFICOS

31) Não afirma a legislação ambiental do município de Congonhas acerca do CODEMA, EXCETO:

- A) Os membros do CODEMA serão nomeados por critério e ato do Prefeito Municipal.
B) Os membros do Conselho do CODEMA somente em casos de impedimentos poderão ser substituídos.
C) O mandato dos membros do CODEMA será de quatro anos, sendo permitida uma recondução.
D) O Regimento Interno do CODEMA deverá ser aprovado por decreto do Prefeito Municipal.
E) A Diretoria do CODEMA constituída de no máximo um Presidente e dois Secretários será eleita na sua primeira reunião, por maioria de votos de seus integrantes.

32) NÃO conceitua o código de obras do município de Congonhas:

- A) Afastamento: menor distância entre a edificação e quaisquer das divisas do lote em que se situa.
B) Alinhamento: linha divisória entre qualquer terreno e a via ou logradouro público.
C) Testada: divisa do lote ou da edificação com o logradouro público, que coincide com o alinhamento.
D) Via pública: área de terreno destinada pela Prefeitura ao uso de trânsito público.
E) Recuo: distância entre o limite externo da edificação e a divisa do lote.

33) Não conceitua o código de obras do município de Congonhas, EXCETO:

- A) Espaço externo: área a céu aberto, sem comunicação direta a logradouro público.
B) Espaço interno: área a céu aberto, com comunicação direta a logradouro público.
C) Área ocupada: a projeção, em plano horizontal, da área construída situada acima do nível do solo.
D) Porão: pavimento ou cômodo de uma edificação situado inteiramente em nível inferior ao do terreno circundante.
E) Subsolo: espaço situado entre o terreno e o assoalho de uma edificação ou, ainda, compartimento de uma edificação com o piso situado, no todo ou em parte, em nível inferior ao do terreno circundante.

34) Segundo o código de obras de Congonhas, a Prefeitura pode dispensar a licença para, EXCETO:

- A) Limpeza ou pintura externa ou interna de edifícios, reparos e substituição de revestimentos.
B) Execução de impermeabilizações.
C) Obras de reparos e manutenção, em geral.
D) Construção de passeio e de muros de divisa com até 2,00m de altura.
E) Substituição de telhas, esquadilhas, forros ou assoalhos, calhas e condutores, em geral.

35) São responsáveis pela limpeza do passeio e sarjeta, segundo o código de posturas do município de Congonhas:

- A) A Prefeitura.
B) Os munícipes.
C) Os geradores dos resíduos.
D) Os moradores, se fronteiros às residências.
E) Os proprietários de qualquer modalidade de imóvel urbano.

36) Na legislação federal que institui normas para licitações e contratos da Administração Pública, as obras e os serviços NÃO poderão ser licitados, quando:

- A) Houver projeto básico aprovado pela autoridade competente e disponível para exame dos interessados em participar do processo licitatório.
B) O produto dela esperado estiver contemplado nas metas estabelecidas no Plano Plurianual de que trata o Art. 165 da Constituição Federal, quando for o caso.
C) Existir orçamento detalhado em planilhas que expressem a composição de todos os seus custos unitários.
D) Computado como valor da obra ou serviço, para fins de julgamento das propostas de preços, a atualização monetária das obrigações de pagamento.
E) Houver previsão de recursos orçamentários que assegurem o pagamento das obrigações decorrentes de obras ou serviços a serem executados no exercício financeiro em curso, de acordo com o respectivo cronograma.



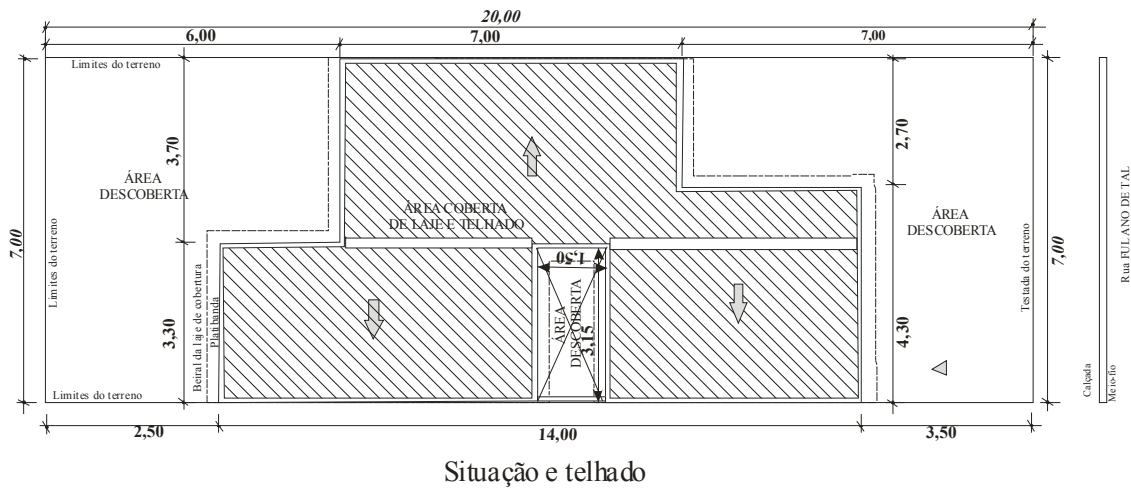
CONCURSO PÚBLICO – PREFEITURA MUNICIPAL DE CONGONHAS/MG

- 37) No município de Congonhas são obrigados pelo código de obras, os proprietários de:
- A) Terrenos situados em logradouros pavimentados ou dotados de guia a guarnecê-los com passeios.
 - B) Lotes não edificados e situados em vias pavimentadas a mantê-los murados no alinhamento.
 - C) Terrenos situados em logradouros pavimentados ou dotados de guia a guarnecê-los com passeio transversalmente na declividade de dois por cento no sentido da guia para o alinhamento.
 - D) Terrenos situados em logradouros pavimentados ou dotados de guia a guarnecê-los com passeio de pavimentação antiderrapante.
 - E) Terrenos situados em logradouros pavimentados ou dotados de guia a guarnecê-los com passeios em bom estado.
- 38) NÃO contempla a Lei Orgânica do município de Congonhas, sobre os servidores públicos:
- A) O cargo em comissão e a função de confiança serão exercidos, no âmbito do Poder Executivo e Legislativo, por servidor ocupante de cargo de carreira técnica e profissional.
 - B) A atividade administrativa permanente é exercida em quaisquer dos Poderes do Município, nas autarquias e nas fundações públicas, por servidor público, ocupante de cargo público em caráter efetivo ou em comissão, ou de função pública.
 - C) A atividade administrativa permanente é exercida nas sociedades de economia mista, empresas públicas e demais entidades de direito privado, sob o controle direto ou indireto do município, por empregado público, ocupante de emprego público ou de função de confiança.
 - D) A lei estabelecerá os casos de contratação por tempo determinado para atender a necessidade temporária de excepcional interesse público, inclusive a função de magistério.
 - E) A lei estabelecerá os casos de contratação por tempo determinado para atender a necessidade temporária de excepcional interesse público sendo vedado o desvio de função de pessoa contratada na forma autorizada nestas condições, bem como sua recontração.
- 39) É proibido, segundo o código de posturas do município de Congonhas, EXCETO:
- A) Podar, cortar, derrubar ou sacrificar árvores sem o consentimento expresso da Prefeitura.
 - B) Criar galinhas nos porões e no interior das habitações.
 - C) Distribuir nas vias públicas, panfletos ou anúncios com dimensões entre (10 x 15cm) e (30 x 40cm).
 - D) Trânsito pelos passeios de vendedores ambulantes, conduzindo cestos ou outros volumes grandes.
 - E) Formação de pastagens na zona urbana do município.
- 40) Aos incapazes na forma da lei, afirma o código de posturas do município de Congonhas, EXCETO:
- A) Não são diretamente puníveis das penas.
 - B) Recairá a pena sobre os pais, tutores ou pessoa sob cuja guarda estiver o menor.
 - C) Recairá a pena sobre o curador ou pessoa sob cuja guarda estiver o incapaz.
 - D) Recairá a pena sobre os que cometeram a infração, mesmo se através de coação.
 - E) Recairá a pena sobre aquela que der causa à contravenção forçada.
- 41) NÃO está sujeito a taxa de *royalties* e a taxa de licença para uso e ocupação dos solos nas vias e logradouros públicos, para fins ao desenvolvimento de atividades comerciais ou de prestação de serviços na municipalidade de Congonhas:
- A) Postes.
 - B) Vias férreas.
 - C) Redes de abastecimento de água.
 - D) Redes de drenagem.
 - E) Gasoduto.
- 42) Em razão da Taxa de Permeabilidade, menciona a Lei que dispõe sobre normas de uso e ocupação dos solos em Congonhas, que na parte do terreno não pavimentado, deverá:
- A) Ser mantida a vegetação existente.
 - B) Ser revegetadas as áreas prejudicadas pela construção, exigindo-se pelo menos o plantio de grama.
 - C) Ser mantida a continuidade com outras áreas limítrofes, a serem preservadas ou revegetadas.
 - D) Toda área do afastamento frontal será obrigatoriamente integrada à área exigida pela aplicação da taxa de permeabilidade.
 - E) Atender às taxas de permeabilidade estabelecidas para cada zona de uso e ocupação do solo que se situam no percentual mínimo entre 20% a 40%.
- 43) No geral, excetuando as Zonas de Uso Preferencialmente Residencial 2 (ZUR 2) e Comercial (ZC), na Zona Urbana do Distrito Sede de Congonhas não é parâmetro para a ocupação do solo, nas zonas definidas na Lei que dispõe sobre normas de uso e ocupação dos solos de Congonhas:
- A) A taxa de ocupação.
 - B) O coeficiente de aproveitamento.
 - C) O afastamento lateral e frontal mínimo.
 - D) A taxa de permeabilidade mínima.
 - E) A categoria de uso do solo.



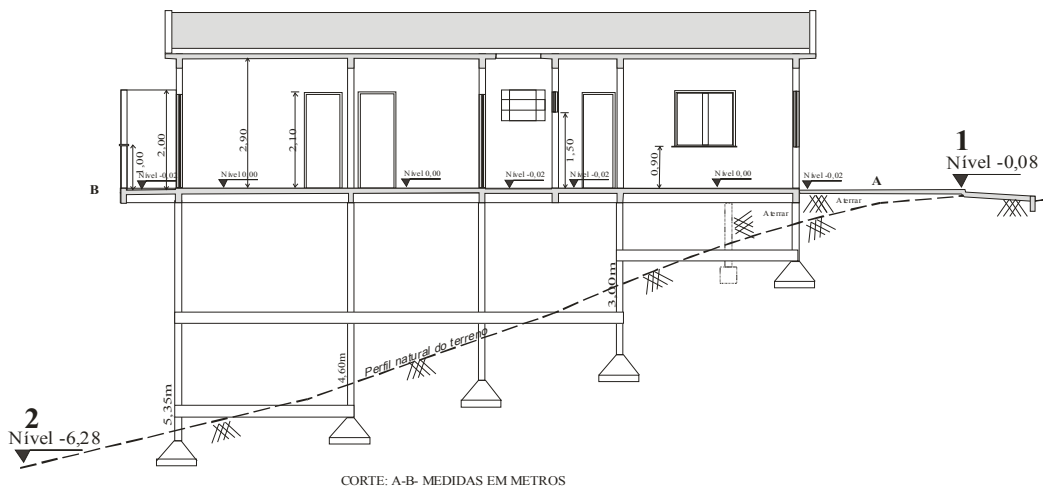
CONCURSO PÚBLICO – PREFEITURA MUNICIPAL DE CONGONHAS/MG

- 44) Segundo a Lei que dispõe sobre normas de uso e ocupação dos solos em Congonhas, são condições do aproveitamento da cobertura do último pavimento de edificações coletivas, como terraço:
- A) Tendo o perímetro aberto e a área livre excetuados acessos, casas de máquinas, caixas de escada, reservatórios de água, instalações sanitárias de uso coletivo e depósito de material de limpeza, conforme o caso, coberto até 60% de sua área.
 - B) Para uso comum dos moradores, quando de uso residencial multifamiliar ou misto multifamiliar.
 - C) Para uso comum dos usuários, quando se tratar de uso comercial e/ou de serviços.
 - D) Exista afastamento mínimo de 1,50m da borda do terraço à borda da cobertura com até 60% da área.
 - E) Acesso apenas através de escada de uso comum a partir do último pavimento.
- 45) A Lei de parcelamento dos solos no município de Congonhas intitula os dispositivos urbanos de coleta e afastamento de águas pluviais como sarjetas, bocas de lobo, galerias e outros; dispositivos de coleta, afastamento e tratamento dos esgotos sanitários; dispositivos de abastecimento de água potável como captação, adução, tratamento, reservação, distribuição e outros; as redes de distribuição de energia elétrica, os equipamentos de iluminação pública e as vias de circulação pavimentadas, com meio fio, como:
- A) Vias de circulação.
 - B) Loteamento.
 - C) Infraestrutura urbana básica.
 - D) Logradouros públicos.
 - E) N.R.A
- 46) Observe a figura apresentada:



Assinale a alternativa correspondente à área da construção da figura anterior:

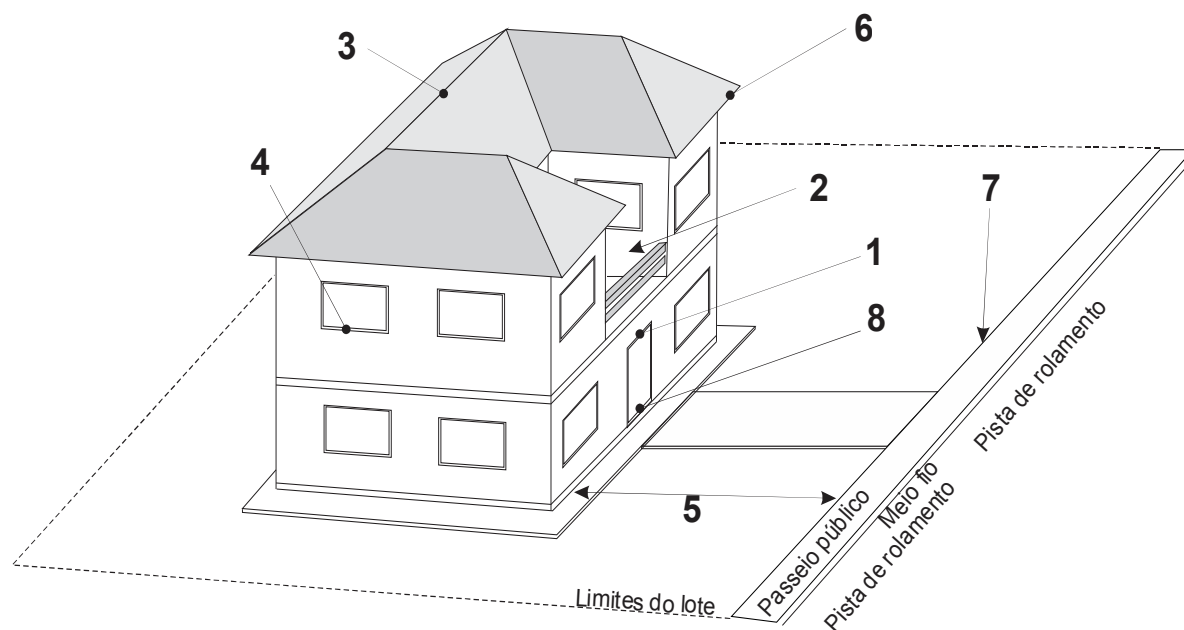
- A) Inferior a $65m^2$
 - B) $67,58m^2$
 - C) $75,6 m^2$
 - D) $70,88 m^2$
 - E) Superior a $76m^2$
- 47) Considerando que os níveis nos pontos 1 e 2 correspondam aos limites de frente e fundos do lote, avalie a inclinação natural do terreno em declive do lote que mede 10 x 25m:



- A) Abaixo de 21%.
- B) Entre 22% e 23%.
- C) Entre 23% e 24%.
- D) Entre 24% e 25%.
- E) Acima de 25%.



48) Na perspectiva que representa uma edificação residencial, identifique na ordem crescente, os pontos e elementos indicados:



- A) Cumieira; varanda; verga; peitoril; recuo; beiral; testada; soleira
- B) Verga; varanda; cumieira; peitoril; beiral; calçada; recuo; soleira
- C) Verga; varanda; cumieira; peitoril; recuo; beiral; testada; soleira
- D) Peitoril; varanda; verga; cumieira; recuo; beiral; soleira; testada
- E) Peitoril; varanda; cumieira; verga; beiral; recuo; soleira; testada

49) Os atos administrativos de competência do Prefeito devem ser expedidos com observância de algumas normas, conforme dispõe a Lei Orgânica de Congonhas. O uso de Portaria se dará nos seguintes casos, EXCETO:

- A) Provimento e vacância de cargos públicos.
- B) Criação de comissões e designação de seus membros.
- C) Regulamentação da lei instituída pelo Executivo.
- D) Designação para função gratificada.
- E) Abertura de sindicância e processo administrativo e aplicação de penalidades.

50) “O município manterá os livros necessários ao registro de seus serviços.” Considerando esta afirmativa, nas alternativas abaixo, marque **V** para as verdadeiras e **F** para as falsas:

- () Os livros poderão ser substituídos por fichas ou sistema informatizado, com garantia de fidedignidade.
- () Os livros deverão ser abertos, rubricados e encerrados pelo Prefeito e pelo Secretário desta.
- () Os livros, fichas ou outro sistema, estarão abertos a consultas de qualquer cidadão, desde que lhe seja deferida em requerimento fundamentado.

A sequência está correta em:

- A) V, V, F
- B) V, F, V
- C) V, V, V
- D) F, F, F
- E) F, V, V

CONHECIMENTOS GERAIS

51) “As conquistas alcançadas pelas minorias ocorrem sempre envolvidas em polêmicas e grandes desdobramentos que se tornam parte da história de um povo. Em meio a muita discussão, manifestações contrárias ou a favor, no dia 15 de julho de 2010, o Senado da Argentina aprovou uma lei por 33 votos a favor, 27 contra e 3 abstenções, que coloca esta nação em posição única na América Latina, embora duas outras (Colômbia e Uruguai) já tenham apresentados avanços no que diz respeito a mesma questão. Hoje, a Argentina se inclui num grupo onde se encontram países como Holanda, Bélgica, Espanha, Canadá, África do Sul, Portugal e Suécia.” O enunciado trata-se de:

- A) Legalização do aborto como uma intervenção natural de responsabilidade e escolha da mulher.
- B) Liberação do jogo e da abertura de negócios específicos a essa prática, como os cassinos.
- C) Reconhecimento dos crimes cometidos pela Ditadura Militar da década de 1970 e 1980, e do ressarcimento financeiro das famílias que tiveram vítimas do regime.
- D) Lei que autoriza o matrimônio de pessoas do mesmo sexo no país.
- E) Legalização do consumo de drogas, como a maconha, cocaína, sintéticas, entre outras, que passam a ser comercializadas livremente em drogarias e mercados específicos.



CONCURSO PÚBLICO – PREFEITURA MUNICIPAL DE CONGONHAS/MG

52) Existem grandes distorções quanto às nomenclaturas “Comunidade Britânica”, “Reino Unido”, “Grã-Bretanha” e “Inglaterra”, já que muitas pessoas acreditam tratar-se de sinônimos. Sobre esses conceitos, marque **V** para as afirmativas verdadeiras e **F** para as falsas:

- () A Grã-Bretanha é formada por Inglaterra, Escócia e País de Gales que se encontram situados numa mesma ilha.
() O Reino Unido é formado pela Inglaterra, Escócia, País de Gales, Irlanda e Irlanda do Norte.
() A moeda corrente no Reino Unido é o Euro, com exceção da Inglaterra que mantém a libra até 2012, quando fará um plebiscito popular.
() A Comunidade Britânica é formada por 53 estados independentes – o Reino Unido está incluído como um único estado – dentre os quais podemos destacar Austrália, África do Sul e Índia.

A sequência está correta em:

- A) V, V, F, F B) V, F, V, F C) V, F, F, V D) F, F, V, V E) F, V, F, V

53) Uma equipe da Universidade Hebraica de Jerusalém descobriu em escavações em *Tel Hazor*, no norte de Israel, o fragmento de uma tábua cuneiforme que apresenta semelhanças com o conteúdo e o momento da escritura do *Código de Hamurabi*, um dos mais antigos conjuntos de leis escritas que pregava, segundo a Bíblia, principalmente:

- A) “Olho por olho, dente por dente.”
B) “A defesa é o mais legítimo direito dos homens.”
C) “Todo homem luta com mais bravura pelos seus interesses que pelos seus direitos.”
D) “Faça sendo, aprenda fazendo.”
E) “O homem é responsável por si mesmo.”

54) “Sabe no futebol, quando você está naquela pressão dos minutos de acréscimo? É assim que me sinto”, disse ao G1 Efraim Zuroff, o maior caçador de nazistas do mundo, com uma risada desesperada ao telefone. Ele se referia ao pouco tempo que tem para colocar no banco dos réus alguns nazistas suspeitos — e até já condenados — por atos criminosos durante a Segunda Guerra Mundial. Na semana passada, Adolf Storms, um dos homens mais procurados por Zuroff, morreu na Alemanha, aos 90 anos. Infelizmente, muito infelizmente, ele morreu sem ser julgado”, disse o historiador.
(Giovana Sanchez, Do G1)

Sobre o Nazismo alemão do século XX, é correto afirmar:

- I. No plano econômico, o governo nazista alemão estimulou o crescimento da agricultura, da indústria de base e, sobretudo, da indústria bélica, gerando diminuição do desemprego e ignorando os termos do Tratado de Versalhes.
II. O presidente na Alemanha era tradicionalmente chamado de *Führer* (guia, condutor) e *Hitler* assumiu este posto em vitória esmagadora alcançada em eleição popular, realizada em 1934, quando finalmente o nazismo venceu o socialismo na Alemanha.
III. O III *Reich* (Terceiro Império), muito utilizado por *Hitler*, é a designação que se refere a uma sequência do Sacro Império Germânico, da Idade Média, e ao Segundo Império, que se estendeu da Unificação dos Estados germânicos, em 1871, à República, em 1918.
IV. O nazismo proclamava a “superioridade biológica da raça ariana” (a que pertenceria o povo alemão), mas não a necessidade de dominar as “raças inferiores” as quais eram profundamente desprezadas, àquela época, pelo povo alemão.

Estão corretas apenas as afirmativas:

- A) I, II B) III, IV C) I, III D) II, IV E) II, III

55) Afastado do governo cubano desde 2006, um dos mais importantes líderes políticos do século XX, Fidel Castro, fez oposição ao regime capitalista e à política internacional norte-americana durante cerca de cinco décadas em que se manteve a frente do poder em Cuba. Neste período, os EUA tiveram 10 presidentes, dos quais podemos citar, EXCETO:

- A) Richard Nixon. D) Ronald Reagen.
B) Franklin Roosevelt. E) John F. Kennedy.
C) George Bush.

CONHECIMENTOS LOCAIS

56) Marque **V** para as afirmativas verdadeiras e **F** para as falsas:

- () A Estrada Real Percorre 21km no município pela rota do chamado “Caminho Velho”, ligando o distrito de Lobo Leite ao povoado do Pequeri.
() A área industrial da Gerdau Açominas se encontra totalmente localizada em áreas do município de Congonhas.
() Grande parte da Mina de Fábrica, antiga Ferteco e, hoje, Vale, está localizada no município de Congonhas.
() Congonhas possui duas comunidades quilombolas: a Barra de Santo Antônio e o Campinho.

A sequência está correta em:

- A) V, V, F, F B) F, F, V, V C) V, F, F, V D) F, V, V, F E) V, F, V, F



CONCURSO PÚBLICO – PREFEITURA MUNICIPAL DE CONGONHAS/MG

57) “O município de Congonhas, emancipado politicamente em 17 de dezembro de 1938, já passou por 17 administrações municipais de 1939 a 2008, estando hoje, em sua 18ª administração a cargo do prefeito Anderson Costa Cabido.” Foi o primeiro prefeito de Congonhas:

- A) Altary de Souza Ferreira Júnior. D) Lamartine de Freitas.
B) Waldir Cunha. E) Alberto Teixeira Santos Filho.
C) Aristides Francisco Junqueira.

58) A atividade industrial em Congonhas é marcada, em especial, pela presença de grandes empresas do ramo de mineração e siderurgia, tornando-se a principal fonte de arrecadação do município e geração de riquezas. Sobre este setor, analise:

- I. Movimentos de fusões e incorporações, tão comuns atualmente no mercado, já podem ser percebidos no setor de mineração em Congonhas, onde ocorreu a aquisição da Companhia de Fomento Mineral pela CSN.
II. Congonhas, em função da antiga Ferteco e, hoje, da Vale, foi por muito tempo a única cidade mineira a possuir uma pelotizadora.
III. O fato de possuir duas grandes usinas siderúrgicas – a Vale e a Companhia Siderúrgica Nacional – transformam Congonhas num dos maiores centros produtores de minério de ferro do Brasil.
IV. No início desta década, o município assistiu a uma acirrada disputa entre a Gerdau Açominas e a CSN pelo controle da antiga Ferteco e da mina de Casa de Pedra.

Estão corretas apenas as afirmativas:

- A) I, II B) III, IV C) I, III D) II, IV E) I, IV

59) Congonhas possui uma grande rede educacional com centros de ensino de níveis fundamental, médio e superior, tanto públicos quanto privados. Marque a alternativa que apresenta uma unidade educacional que NÃO é pública em Congonhas:

- A) Escola Augusto Silva.
B) Escola Barão de Paraopeba.
C) CESU – Centro de Estudos Supletivos Professor Juvenal de Freitas Ribeiro.
D) Escola Politécnica Ramos.
E) Núcleo Psicopedagógico.

60) Analise as afirmativas correlatas:

- I. A Cachoeira de Santo Antônio está localizada no Parque da Cachoeira, que é um dos principais pontos de lazer e descanso diurno dos moradores de Congonhas.
II. O Parque está inserido na sub-bacia do rio Soledade, que passa pelo distrito de Lobo Leite e deságua no rio Maranhão.

Assinale a alternativa correta:

- A) As duas afirmativas estão totalmente corretas.
B) Apenas a primeira afirmativa está totalmente correta.
C) Apenas a segunda afirmativa está totalmente correta.
D) As duas afirmativas estão totalmente incorretas.
E) A segunda afirmativa está correta e a primeira está parcialmente incorreta.

