

PORTUGUÊS

COM BASE NO TEXTO ABAIXO, RESPONDA ÀS QUESTÕES DE 01 A 05.



Fonte: Revista Seleções – Reader’s Digest. Rio de Janeiro. Nº 510. Pág. 20. Maio de 2010.

01. De acordo com o texto é correto afirmar que:

- A) Há mais médicos em São Paulo por número de habitantes que no Distrito Federal e no Rio de Janeiro;
- B) Há uma taxa de médicos por habitante muito maior no Rio de Janeiro que em São Paulo;
- C) Há, em São Paulo, um maior número de médicos por habitante em relação a Goiás;
- D) Há um aumento maior em percentual no Rio de Janeiro, Distrito Federal e Goiás em relação ao aumento de 33% em São Paulo;
- E) Há, em São Paulo, 33% dos 57% dos médicos da região nordeste.

02. O “mas” que aparece no texto introduz uma frase cuja ideia:

- A) retoma argumentos exibidos anteriormente;
- B) ressalta visões distintas com relação ao exposto;
- C) expõe uma sequência de contra-argumentos aos fatos propostos;
- D) marca a contradição entre os fatos expostos para fazer sobressair a primeira argumentação;
- E) contradiz o que vem na sequência em relação ao fato anteriormente exposto.

03. Na frase “E no sudeste, que tem 42% da população do país, estão 57% dos médicos.”, o termo sublinhado tem valor de:

- A) adição, posto que une um enunciado a outro;
- B) contradição, visto que o segundo enunciado contrargumenta o primeiro;
- C) terminologia apenas introdutória do segundo enunciado, já que arremata o sentido do primeiro enunciado;
- D) consequência, visto que o segundo argumento é uma consequência do primeiro;
- E) adversidade, uma vez que o segundo enunciado tenta conformar o primeiro.

04. No fragmento do texto “[...] população e apenas 20% dos médicos.” O termo destacado pode ser substituído, sem alteração do sentido, por:

- A) porém, pois o termo e contrapõe duas verdades contrárias;
- B) com, já que o termo e conforma duas verdades idênticas;
- C) só, uma vez que o termo e anula a segunda verdade pela primeira;
- D) justo, visto que o termo e endossa o termo que lhe é subsequente;
- E) contudo, posto que o termo e contrasta as duas proposições que se relacionam.

05. No fragmento “[...] são os que apresentam as maiores taxas.”, o termo destacado faz referência exofórica a outro termo, constante da alternativa:

- A) médicos;
- B) habitantes;
- C) taxas;
- D) estados;
- E) percentuais;

AS QUESTÕES DE 06 A 10 ESTÃO BASEADAS NO TEXTO ABAIXO:



Vitória é uma menina de 2 anos que mora com sua família em uma casa de **apenas dois cômodos**, onde dividem um colchão velho e **repartem a pouca comida**: arroz com feijão ou ovo com farinha, quando tem.

Ela e seus quatro irmãos, dentre eles um bebê de 2 meses, **vivem doentes**, sofrem de lombriga, barriga d’água e doenças de pele. Vitória tem um olhar triste e distante, mas não esconde a sua esperança de viver.

Esta é uma história real, infelizmente, para Vitória e milhares de crianças que lutam para sobreviver todos os dias contra a pobreza e a miséria. **E você pode mudar a vida de uma delas!**

*Nome fictício

ança agora.

Fonte: Revista Seleções – Reader’s Digest. Rio de Janeiro. Nº 510. Pág. 111. Maio de 2010.

06. O termo destacado no fragmento do texto “Vitória é uma menina de 2 anos que mora ...” é:

- A) uma conjunção integrante que introduz uma oração subordinada;
- B) um pronome relativo que introduz uma oração coordenada;
- C) um pronome interrogativo;

- D) uma conjunção restritiva que introduz uma oração coordenada;
- E) uma conjunção integrante que introduz um período composto por coordenação.

07. No último parágrafo, o temo Esta faz uma retomada catafórica de:

- A) pobreza;
- B) miséria;
- C) Vitória;
- D) vida;
- E) história.

08. A conjunção E que inicia o fragmento do texto “E você pode dar a ela [...]”, geralmente relacionada à adição, nesse contexto desempenha o sentido de:

- A) contraste, uma vez que expõe outras chances para Vitória, contrapondo àquela de extrema pobreza;
- B) consequência, pois a chance é uma consequência de sua doação;
- C) introdução de intensidade afetiva, na qual pode ter o mesmo valor de uma interjeição, já que o texto por ser publicitário, faz uso de uma linguagem apelativa;
- D) facilitador de ideia, visto que estas mudam de sentido da primeira sentença para a segunda, introduzida pela conjunção e.
- E) adversidade, posto que as ideias se contrapõem.

09. No fragmento do texto “[...] mas não esconde a sua esperança.”, o termo em destaque faz uma retomada anafórica de:

- A) bebê;
- B) Vitória;
- C) esperança;
- D) ela;
- E) barriga.

10. Na frase “E você pode mudar a vida de uma delas”, o termo sublinhado é um:

- A) verbo principal cuja ideia é a de dever;
- B) verbo auxiliar cuja ideia é a de desejo;
- C) verbo modal cuja ideia é a de possibilidade;
- D) verbo principal cuja ideia é a de probabilidade;
- E) verbo auxiliar modal cuja ideia é a de necessidade.

CONHECIMENTOS GERAIS

11. Sobre o aspecto geográfico da cidade de Mari, é correto afirmar que:

- A) o município é, predominantemente, serrano;
- B) o município é verticalmente edificado;
- C) o município é urbanamente montanhoso;
- D) o município é tipicamente metropolitano;
- E) o município é urbanamente plano.

12. Entre os ilustres políticos que fazem parte da história de Mari, assinale o que foi prefeito no quadriênio 1993-1996.

- A) Adinaldo de oliveira Pontes
- B) Manoel Monteiro de Sampaio Filho
- C) José de Melo
- D) Vera Lúcia da Silva Pontes
- E) Antônio Gomes da Silva

13. Todos os municípios abaixo fazem limites geográficos com a cidade de Mari, **EXCETO**:

- A) Sapé
- B) Capim
- C) Mulungu
- D) Caldas Brandão
- E) Araçagi

14. Mari é conhecida economicamente pela predominância:

- A) na prestação de serviços cerâmicos;
- B) pela integração de granjas no setor de avicultura;
- C) na produção e no cultivo de mandioca;
- D) do comércio informal;
- E) de indústrias têxteis.

15. Dentre os gentílicos expostos abaixo, assinale o único utilizado para o cidadão que nasce na cidade de Mari.

- A) Marinense
- B) Mareense
- C) Mariense
- D) Mariaense
- E) Marilense

16. É sabido que a(o) padroeira(o) de Mari corresponde, religiosamente, a:

- A) Nossa Senhora da Luz
- B) Santa Rita de Cássia
- C) Sant’Ana
- D) São Sebastião
- E) Santo Antônio

17. A cidade de Mari foi fundada, historicamente, em:

- A) 14 de setembro de 1961;
- B) 17 de outubro de 1948;
- C) 22 de abril de 1954;
- D) 19 de setembro de 1948;
- E) 19 de setembro de 1958.

18. Como todo município que preza pelos aspectos institucionais, Mari também adota um brasão representativo. Desta forma, assinale a alternativa que apresenta as cores oficiais do brasão do município de Mari.

- A) Verde, amarelo, azul e branco.
- B) Vermelho, amarelo, roxo e verde.
- C) Azul, amarelo, lilás e verde.
- D) Rosa, amarelo, branco e vermelho.
- E) Laranja, vermelho, amarelo e roxo.

19. Recentemente, foi noticiado em toda a imprensa nacional que o recém-famoso jogador de futebol Neymar apresentou comportamentos agressivos depois de ter desrespeitado o capitão do seu time, bem como, o técnico, o qual foi demitido do clube por ter dado uma certa punição ao jogador como forma de corrigi-lo contrariando, desta forma, seu dirigentes. Dentre os times de futebol abaixo citado, assinale o qual o jogador Neymar faz parte.

- A) Flamengo
- B) Corinthians
- C) Palmeiras
- D) Santos
- E) São Paulo

20. Na Paraíba, há uma constante briga política pela autoria de determinadas ações políticas que beneficiam, sistematicamente, um político perante o seu eleitorado. Dentre essas ações, assinale, qual das universidades abaixo citadas instalou, através de conjuntura política, um campus universitário na cidade de Araruna.

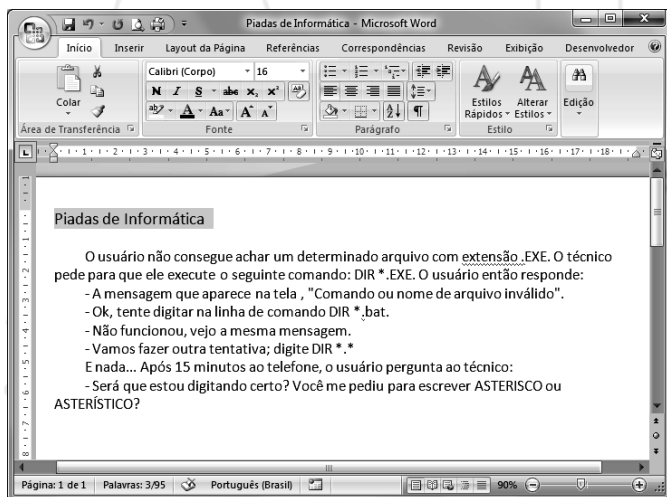
- A) Universidade Federal da Paraíba
- B) Universidade Federal de Campina Grande
- C) Centro Federal de Ensino Tecnológico
- D) Universidade Estadual da Paraíba
- E) Centro de Vocação Tecnológico

CONHECIMENTOS ESPECÍFICOS



Para as questões a seguir, considere a versão do Sistema Operacional Microsoft XP Professional e Office 2007, ambos em suas configurações padrões.

Juninho, em seu horário de almoço, resolve criar um documento contendo piadas sobre o tema *informática*. Após alguns minutos navegando na internet, o mesmo copiou a piada apresentada na imagem abaixo e já tratou de alterar algumas configurações de formatação.



21. Sobre a imagem, o texto e os recursos que o Word 2007 dispõe a um usuário, julgue as afirmativas abaixo e assinale a alternativa correta:

- I. O documento inteiro está formatado em fonte com tamanho 16.
- II. O documento possui apenas uma página.
- III. O parágrafo selecionado está com alinhamento *justificado*.
- IV. A página está sendo exibida em zoom de 90%.
- V. O documento foi salvo com o nome "Piadas de Informática".

Estão corretas as afirmativas:

- A) I, II, IV e V
- B) I, III e V
- C) I, II e IV
- D) II, IV e V
- E) I, II, III e IV

22. Continuando com o processo de formatação, Juninho pressionou as seguintes combinações de teclas: CTRL + E, CTRL + N. Com base na imagem acima, podemos afirmar que o texto sofreu as seguintes alterações, **respectivamente**:

- A) o documento inteiro ficou em *Itálico* e alinhado à esquerda;
- B) a frase "Piadas de Informática" foi alinhada no centro da página e ficou em negrito;
- C) a frase "Piadas de Informática" permaneceu alinhada à esquerda e ficou em negrito;
- D) o documento inteiro ficou com alinhamento centralizado e foi criado um novo documento em branco;
- E) o primeiro parágrafo ficou em negrito e com alinhamento centralizado.

23. Juninho decidiu mudar a palavra "ASTERISCO" (grafada toda em maiúsculo) para "asterisco" (grafada toda em minúsculo). Sabemos que para realizar essa operação, primeiramente, deve-se selecionar a palavra em questão. Assinale a alternativa que aponta uma forma **incorreta** de se fazer essa seleção:

- A) Clicar imediatamente à esquerda da letra "A" e, mantendo pressionadas as teclas CTRL e SHIFT, acionar uma vez a tecla →.
- B) Aplicar um duplo clique com o botão esquerdo do mouse entre as letras da palavra.
- C) Clicar imediatamente à esquerda da letra "A" e pressionar simultaneamente as teclas SHIFT e END.
- D) Clicar imediatamente à direita da letra "O" e, mantendo pressionadas as teclas CTRL e SHIFT, acionar uma vez a tecla ←.
- E) Clicar imediatamente à esquerda da letra "A" e, mantendo pressionada a tecla SHIFT, acionar nove vezes a tecla →.

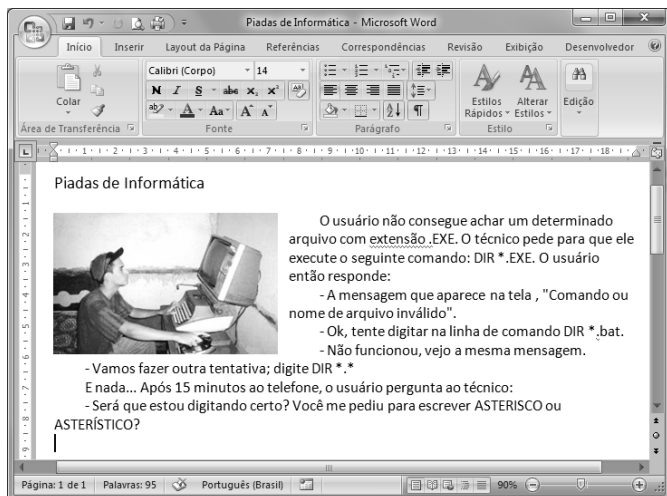
24. Agora que a palavra foi selecionada, para mudar sua grafia de maiúscula para minúscula, Juninho deve pressionar a(s) tecla(s):

- A) CTRL +]
- B) SHIFT + F3
- C) F4
- D) SHIFT + ENTER
- E) CTRL + F3

25. Juninho decide aumentar o espaçamento entre as linhas para facilitar a leitura. Esse efeito será aplicado através do comando:

- A)
- B)
- C)
- D)
- E)

26. Para incrementar seu texto-piada, *Juninho* resolve inserir uma figura no documento. Para que o texto fique ao redor da figura, conforme imagem abaixo, é necessário realizar os seguintes passos:



- A) Clicar com o botão direito no interior da figura e, no menu de contexto, selecionar a opção *Quebra de Texto Automática > Alinhado com o Texto*.
- B) Clicar com o botão esquerdo no interior da figura e, na guia *Layout da Página*, selecionar o comando *Quebras > Quebra Automática de Texto*.
- C) Clicar com o botão esquerdo no interior da figura e, na guia *Layout da Página*, selecionar o comando *Quebra de Texto Automática > Quadrado*.
- D) Clicar com o botão esquerdo no interior da figura e, na guia *Exibição*, selecionar o comando *Exibir Lado a Lado*.
- E) Clicar com o botão esquerdo no interior da figura e, na guia *Página Inicial*, selecionar o estilo *Sem Espaçamento*.

27. De volta ao trabalho, *Juninho* precisa criar uma planilha que calcule uma comissão de 15% para o funcionário que obteve uma venda mensal acima da média do total das vendas, conforme imagem abaixo:

	A	B	C
1	CÁLCULO DE COMISSÃO		
2			
3	FUNCIONÁRIO	VENDA MENSAL	COMISSÃO
4	Ana Clara	R\$ 1.100,00	R\$ 165,00
5	Antônio Marcos	R\$ 1.050,00	R\$ 157,50
6	Edjane	R\$ 1.090,00	R\$ 163,50
7	Laura	R\$ 800,00	R\$ -
8	Paulo	R\$ 969,00	R\$ -

Neste contexto, podemos concluir que *Juninho* utilizou na célula C6 a fórmula:

- A) $=SE(B4 < MÉDIA(B\$4:B\$8); B4 * 15\%; 0)$
- B) $=SE(B6 > MÉDIA(B\$4:B\$8); B6 * 15\%; 0)$
- C) $=SE(B6 > MÉDIA(B4:B8); B6 * (1 + 15/100); 0)$
- D) $=SE(B4 < MÉDIA(B4:B8); B6 * 1,15; 0)$
- E) $=SE(B6 > MÉDIA(B\$4:B\$8); B6 + 0,15; 0)$

28. Quando copiamos a fórmula de uma célula para outra, o Excel automaticamente atualiza as referências das células utilizadas nas fórmulas. Ao copiar a fórmula

=SOMA(\$B1:B\$7) da célula B8 para a célula C9, é correto afirmar que a célula C9 apresentará a fórmula:

- A) =SOMA(\$C2:C\$8)
- B) =SOMA(\$C1:C\$8)
- C) =SOMA(\$B2:B\$8)
- D) =SOMA(\$B2:C\$7)
- E) =SOMA(\$B1:C\$8)

29. Assinale a alternativa que contém a função do Excel que foi utilizada **incorretamente**:

- A) =AGORA()
- B) =PI(3,14)
- C) =ABS(-5,5)
- D) =MÉDIA(A1:A5)
- E) =RAIZ(B9)

30. Observe a planilha abaixo:

	A	B	C
1	série 1	série 2	série 3
2	1	1	2
3	2	3	2
4	3	3	1
5	1	2	2
6	3	3	1
7			

Ao selecionarmos a célula C7 e clicarmos no botão **Σ AutoSoma**, podemos afirmar que:

- A) será adicionada a fórmula =SOMA(C1:C7);
- B) será adicionada a fórmula =SOMA(A1:C6);
- C) será adicionada a fórmula =SOMA(A2:C6);
- D) será adicionada a fórmula =SOMA(C2:C6);
- E) será adicionada a fórmula =SOMA(A7:B7).

31. Ao digitar uma fórmula no Excel, *Juninho* notou que apareceu o seguinte valor de erro na célula: **#NOME?**. Esse erro ocorreu porque:

- A) o número apresentado na célula não cabe na largura da coluna.
- B) uma referência de célula é inválida.
- C) o Excel não reconhece o texto (nome da função) em uma fórmula.
- D) a fórmula ou função tentou realizar uma divisão por 0 (zero).
- E) a fórmula ou função possui valores numéricos inválidos.

32. Sem dúvidas, o serviço de busca mais utilizado em todo o mundo é o Google. A respeito das buscas realizadas através do site www.google.com.br, podemos afirmar que:



- I. O Google só retorna páginas que incluam todos os seus termos de busca. Não há necessidade de incluir “e” entre os termos.
- II. O Google ignora palavras e caracteres comuns, conhecidos como palavras descartáveis. O Google automaticamente descarta termos como “http” e “.com”, assim como dígitos ou letras isoladas, porque eles raramente ajudam na busca e podem torná-la consideravelmente mais lenta.
- III. As buscas no Google não são sensíveis a maiúsculas e minúsculas. Todas as palavras, independentemente da forma como forem escritas, serão entendidas como minúsculas. Por exemplo, buscas por “google”, “GOOGLE” ou “GoOgLe” trarão os mesmos resultados.
- IV. Você pode excluir uma palavra de sua busca pondo um sinal de menos (“-”) imediatamente na frente do termo que você quer evitar.
- V. Se no campo de busca for digitada uma expressão matemática, por exemplo, “1500 * 15%”, o Google exibirá o resultado dessa expressão.

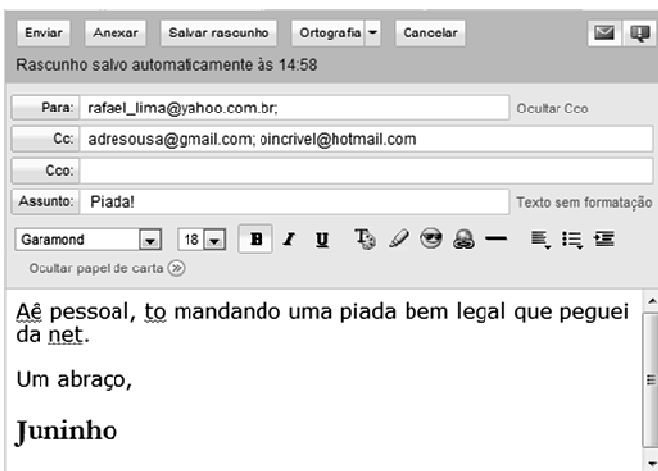
Estão corretas as afirmativas:

- A) I e III
- B) I, II e III
- C) I, IV e V
- D) I, II, III e IV
- E) I, II, III, IV e V

33. Assinale a única alternativa que não apresenta um serviço do Google:

- A) Gmail
- B) YouTube
- C) Orkut
- D) Twitter
- E) Maps

34. *Juninho* resolve enviar seu documento com a piada por e-mail para seus amigos. Utilizando um cliente de e-mail online, *Juninho* prepara a mensagem para compartilhar o documento que acabou de formatar, conforme imagem abaixo:



Com base na imagem e nos seus conhecimentos sobre correio eletrônico, julgue as afirmativas abaixo e assinale a alternativa correta:

- I. Para incluir o documento com a piada na mensagem, deve-se utilizar o comando *Anexar*.

- II. Os endereços de e-mail do campo *Cc* poderiam ser colocados no campo *Para*.
- III. Se tirarmos os endereços de e-mail do campo *Cc* e colocarmos no campo *Cco*, a mensagem só será enviada para o e-mail do campo *Para*.

Está(ão) correta(s):

- A) apenas a I;
- B) apenas a II;
- C) I e II;
- D) I e III;
- E) I, II e III.

35. A respeito do Internet Explorer 8, analise as afirmativas abaixo e, em seguida, assinale a alternativa correta:

- I. A Navegação InPrivate (*Segurança > Navegação InPrivate*) evita que o Internet Explorer armazene dados da sua sessão de navegação. Isso inclui cookies, arquivos de Internet temporários, histórico e outros dados.
- II. A combinação de teclas CTRL + N abre uma nova janela, enquanto a combinação CTRL + T abre uma nova guia.
- III. É possível aumentar e diminuir o zoom da página através das teclas CTRL + e CTRL -, respectivamente.
- IV. A combinação de teclas CTRL + D aciona o comando *Adicionar um Favorito*.

Estão corretas as afirmativas:

- A) II e IV
- B) II, III e IV
- C) I e III
- D) I, II e III
- E) I, II, III e IV

36. Observe os anúncios abaixo retirados do site www.americanas.com.br:

Computador c/ Intel® Core 2 Quad Q8300 2.5GHz 4GB 1TB (1.000GB) DVD-RW Linux - Qbex + Monitor LCD 21,5" Widescreen Multimídia 2236WA - AOC |
Código do Produto: 7221648 (3135198)



SUA MELHOR SUGESTÃO

De: R\$ 2.026,00 (Economize R\$ 429,00)

Por: R\$ 1.599,00

ou 12x de R\$ 133,25 sem juros

COMPRAR
COLOCAR NA SACOLA

R\$ 1.519,05 no boleto ou bankline (5% desconto)

5% COMPRAR
BOLETO / BANKLINE

Computador c/ Intel® Core 2 Duo E7500 2.93GHz 4GB 320GB DVD-RW c/ Office 2010 Starter (Word e Excel) Windows 7 Basic - Megaware + Monitor LCD 21,5" Widescreen W2243C - LG | Código do Produto: 7221852 (3139001)



SUA MELHOR SUGESTÃO

De: R\$ 1.976,00 (Economize R\$ 179,00)

Por: R\$ 1.799,00

ou 12x de R\$ 149,92 sem juros

COMPRAR
COLOCAR NA SACOLA

R\$ 1.709,05 no boleto ou bankline (5% desconto)

5% COMPRAR
BOLETO / BANKLINE

Observando os anúncios acima, podemos afirmar que:

- I. O primeiro computador possui maior espaço de armazenamento.
- II. *Core 2* faz referência a uma das famílias de processadores da *Intel*®.
- III. Apesar de não especificado no anúncio, o primeiro computador utiliza o sistema operacional *Microsoft® Windows 7*, assim como o segundo computador.
- IV. Ambos os computadores possuem a mesma quantidade de memória RAM.
- V. O primeiro computador, apesar de mais barato, apresenta o melhor hardware.

Está(ão) incorreta(s):

- A) apenas a II;
- B) apenas a III;
- C) apenas a V;
- D) II e III;
- E) III e V.

37. Assinale a alternativa que aponta o tipo de impressora cuja técnica de impressão se dá por meio de “agulhas”:



- A) Jato de tinta
- B) Laser
- C) Térmica
- D) Matricial
- E) Cera térmica

38. *Juninho* está aflito tentando localizar um arquivo do Word 2007 que contém piadas sobre política. Por não lembrar o nome do arquivo, ficou complicado localizá-lo em meio a mais de 500 arquivos na pasta *Meus Documentos*. *Juninho* resolve recorrer à ferramenta Pesquisar do Windows. Escolhendo a opção de pesquisa *Todos os arquivos e pastas*, *Juninho* coloca no campo destinado ao nome do arquivo o termo *.doc. Como resultado, foram listados cerca de 250 arquivos. *Juninho* poderia refinar ainda mais essa busca:

- I. substituindo o termo *.doc por *.docx, visto que o documento é do Word 2007;
- II. incluindo no campo *Texto contido no Arquivo* alguma palavra ou frase que porventura ele se lembra de alguma das piadas contidas no arquivo;
- III. selecionando a pasta *Meus Documentos* no campo Examinar.

Está(ão) correta(s) a(s) afirmativa(s):

- A) I, apenas;
- B) II, apenas;
- C) III, apenas;
- D) I e III;
- E) I, II e III.

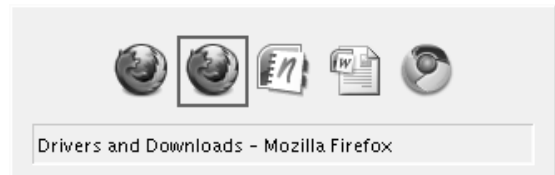
39. Após localizar o documento citado na questão anterior, *Juninho* deseja copiá-lo em um pen drive. Para tanto, ele poderia usar os seguintes métodos:

- I. selecionar o arquivo, pressionar as teclas CTRL + C, acessar o pen drive e pressionar as teclas CTRL + V;
- II. arrastar o arquivo para a unidade do pen drive através do Windows Explorer;
- III. clicar com o botão direito no arquivo, apontar para a opção *Enviar para* e, em seguida, escolher a unidade do pen drive.

Está(ão) correta(s) a(s) afirmativa(s):

- A) I, apenas;
- B) II, apenas;
- C) III, apenas;
- D) I e II;
- E) I, II e III.

40. Tentando aprender as teclas de atalho do Windows, *Juninho* esbarra com uma combinação de teclas que exibe a seguinte tela:



A mesma foi acessada através da combinação:

- A) CTRL + T
- B) ALT + J
- C) ALT + TAB
- D) CTRL + TAB
- E) CTRL + ALT + DEL