



CONCURSO PÚBLICO

MUNICÍPIO DE SANTA MARIA MADALENA

ESTADO DO RIO DE JANEIRO

EDITAL DE CONCURSO PÚBLICO Nº. 001/2010

INSTRUÇÕES

- 01 - Material a ser utilizado: caneta esferográfica azul ou preta. Os objetos restantes devem ser colocados em local indicado pelo fiscal da sala, inclusive aparelho celular desligado e devidamente identificado com etiqueta.
- 02 - Não é permitido consulta, utilização de livros, códigos, dicionários, apontamentos, apostilas, calculadoras e etc. Não é permitido ao candidato ingressar na sala de provas sem a respectiva identificação e o devido recolhimento de telefone celular, bip e outros aparelhos eletrônicos.
- 03 - Durante a prova, o candidato não deve levantar-se, comunicar-se com outros candidatos e nem fumar.
- 04 - A duração da prova é de 03 (três) horas, já incluindo o tempo destinado à entrega do Caderno de Provas e à identificação – que será feita no decorrer da prova – e ao preenchimento da Folha de Respostas (Gabarito). Para os candidatos ao cargo de Advogado, que realizarão, também provas discursivas, haverá acréscimo de 01 (uma) hora para a realização de uma peça processual/parecer, perfazendo assim, um total de 04 (quatro) horas para realização das provas objetivas e discursivas.
- 05 - Somente em caso de urgência pedir ao fiscal para ir ao sanitário, devendo no percurso permanecer absolutamente calado, podendo antes e depois da entrada sofrer revista através de detector de metais. Ao sair da sala no término da prova, o candidato não poderá utilizar o sanitário. Caso ocorra uma emergência, o fiscal deverá ser comunicado.
- 06 - O Caderno de Provas consta de 30 (trinta) questões de múltipla escolha para os cargos de nível alfabetizado e 40 (quarenta) questões para os cargos de nível fundamental, médio, médio técnico, médio magistério e superior. Leia-o atentamente.
- 07 - As questões das provas objetivas são do tipo múltipla escolha, com 05 (cinco) opções (A a E) e uma única resposta correta.**
- 08 - Ao receber o material de realização das provas, o candidato deverá conferir atentamente se o Caderno de Provas corresponde ao cargo a que está concorrendo, observando o nome do cargo na parte superior da próxima página, bem como se os dados constantes na Folha de Respostas (Gabarito) que lhe foi fornecida, estão corretos. Caso os dados estejam incorretos, ou o material esteja incompleto ou tenha qualquer imperfeição, o candidato deverá informar tal ocorrência ao fiscal.
- 09 - Os fiscais não estão autorizados a emitir opinião e prestar esclarecimentos sobre o conteúdo das provas. Cabe única e exclusivamente ao candidato interpretar e decidir.
- 10 - O candidato poderá retirar-se do local de realização das provas levando o Caderno de Provas, no decurso dos últimos 30 (trinta) minutos anteriores ao horário previsto para o seu término. O candidato poderá retirar-se do local de provas somente a partir dos 90 (noventa) minutos, após o início de sua realização, contudo não poderá levar consigo o Caderno de Provas.
- 11 - Os 3 (três) últimos candidatos de cada sala somente poderão sair juntos. Caso o candidato insista em sair do local de aplicação da prova, deverá assinar um termo desistindo do Concurso Público e, caso se negue, deverá ser lavrado o Termo de Ocorrência, testemunhado pelos 2 (dois) outros candidatos, pelo fiscal da sala e pelo coordenador da unidade escolar.

RESULTADOS E RECURSOS

- Os gabaritos oficiais preliminares das provas objetivas serão divulgados na Internet, no site www.consulplan.net, às 16h00min do dia subsequente ao da realização da prova escrita.
- Os recursos deverão ser apresentados, conforme determinado no item 8 do Edital de Concurso Público nº. 001/2010, sendo observados os seguintes aspectos:
- a) O candidato que desejar interpor recursos contra os gabaritos oficiais preliminares das provas objetivas disporá de **48 (quarenta e oito) horas ininterruptas, iniciando-se às 16h00min do dia 16 de agosto de 2010, encerrando-se às 16h00min do dia 18 de agosto de 2010**, em requerimento próprio disponibilizado no link correlato ao Concurso Público no site www.consulplan.net.
- b) A interposição de recursos poderá ser feita **somente via Internet**, através do **Sistema Eletrônico de Interposição de Recursos**, com acesso pelo candidato ao fornecer os dados referentes à sua inscrição, apenas no prazo recursal, à **Consulplan**, conforme disposições contidas no site www.consulplan.net, no link correspondente ao Concurso Público.

C
A
D
E
R
N
O
D
E
P
R
O
V
A
S

TEXTO:

Os perseguidos

Ainda tirei o maço de cigarros do bolso para conferir novamente o número do apartamento, que anotara: 910. Apertei o botão da campainha. Atrás de mim, o Moreira, muito sujo, arfava; subíramos os últimos andares pela escada, por precaução; depois de um mês de cadeia ele não estava muito forte. Soube que mais de uma vez fora surrado; ficara dias sem comer e sem sair de seu cubículo escuro, e por isto tinha aquela cara de retirante ou de cão batido. Não cão batido, pois seus olhos estavam muito acesos, como se tivesse febre, e sua voz me parecia ao mesmo tempo rouca e mais alta. Sua aparência me impressionava; mas acima de qualquer sentimento eu tinha o desgosto de vê-lo tão sujo; de suas roupas miseráveis desprendia-se um cheiro azedo; e eu tinha a penosa impressão de que ele não dava importância alguma a isso. É estranho que ele me tratasse agora com certa superioridade; entretanto, eu tinha pena dele; pena e desgosto.

(Rubem Braga, 200 crônicas escolhidas/Fragmento)

01) De acordo com o texto “*Os perseguidos*” marque **V** para as afirmativas verdadeiras e **F** para as falsas:

- () O número do apartamento estava anotado em um maço de cigarros.
 () Moreira estava muito sujo.
 () Moreira não estava muito forte, depois de um mês de cadeia.

A sequência está correta em:

- A) V, F, V B) F, F, V C) V, V, F D) V, V, V E) F, V, F

02) De acordo com o texto, “*Os perseguidos*”, analise:

- I. Moreira agia com certa superioridade.
 II. O número do apartamento era 910.
 III. Desprendia um cheiro azedo das roupas de Moreira.

Está(ão) correta(s) apenas a(s) afirmativa(s):

- A) II B) I, II, III C) I, II D) III E) II, III

03) Sobre o Moreira, marque o INCORRETO:

- A) Ficara dias sem comer. D) Estava forte e bem disposto.
 B) Tinha cara de retirante ou de cão batido. E) Seus olhos estavam muito acesos.
 C) Ficara dias sem sair de um cubículo escuro.

04) “*É estranho que ele me tratasse agora com certa superioridade; ...*” A palavra destacada apresenta como significado correto:

- A) Abatido, deprimido. D) Veloz.
 B) Magnífico. E) Sem pressa.
 C) Esquisito.

05) “*...e sua voz me parecia ao mesmo tempo rouca e mais alta.*” A palavra destacada apresenta como antônimo correto:

- A) Distante. D) Afastada.
 B) Limitada. E) Baixa.
 C) De pouco valor.

06) No trecho “*Apertei o botão da campainha.*” o ponto final (.) foi utilizado para:

- A) Finalizar questionamentos. D) Separar itens de uma numeração.
 B) Encerrar o período. E) Isolar expressões ou gírias.
 C) Marcar uma pequena pausa.

07) Assinale a afirmativa que se encontra escrita INCORRETAMENTE:

- A) Sua aparência era impressionante. D) O cão estava abatido.
 B) As roupas precisam ser cozidas. E) O maço de cigarros estava no bolso dele.
 C) Eu tinha pena dela.

08) “*Sua aparência me impressionava.*” A palavra destacada é acentuada pelo mesmo motivo que:

- A) É. B) Número. C) Ausência. D) Subíramos. E) Mês.

09) Assinale a única palavra que se encontra no diminutivo:






- A) Cubículo. B) Cão. C) Comer. D) Vez. E) Azedo.

10) São palavras que se encontram no masculino, EXCETO:

- A) Cheiro. B) Desgosto. C) Botão. D) Bolso. E) Escada.



MATEMÁTICA

- 11) Filó somou 16 mais 43. Do resultado desta soma, Filó subtraiu 35. Assinale o número encontrado:
 A) 21 B) 22 C) 23 D) 24 E) 25
- 12) Rafaela tem 12 anos e Vitória 18. A diferença de idade entre elas daqui a 10 anos será igual a:
 A) 6 B) 7 C) 8 D) 9 E) 10
- 13) Um ano tem 12 meses. Assinale a fração abaixo que corresponde a 4 meses do ano:
 A) $\frac{1}{2}$ B) $\frac{1}{3}$ C) $\frac{1}{4}$ D) $\frac{1}{5}$ E) $\frac{1}{6}$
- 14) Sabe-se que um determinado padeiro fabrica um pão com 250g de farinha de trigo. Com 10kg de farinha, esse padeiro poderá fazer quantos pães?
 A) 60 B) 50 C) 40 D) 30 E) 20
- 15) Um comerciante foi à feira e comprou 6 caixas de laranja a R\$54,00 cada e pagou:
 A) R\$432,00 B) R\$408,00 C) R\$365,00 D) R\$324,00 E) R\$303,00
- 16) O carro de André percorreu 325km em 5 horas. Se André andou sempre na mesma velocidade, quantos quilômetros percorreu em uma hora?
 A) 25km B) 35km C) 45km D) 55km E) 65km
- 17) Sabe-se que um time de futebol é composto por 11 jogadores. Portanto, 5 times de futebol, totalizam quantos jogadores?
 A) 25 B) 35 C) 45 D) 55 E) 65
- 18) Os numerais citados estão escritos por extenso. Identifique a correspondência INCORRETA:
 A) 70.000 (setenta mil)
 B) 93.461 (noventa e três mil e quatrocentos e sessenta e um)
 C) 2.020 (dois mil e vinte)
 D) 2.500 (dois mil e cinquenta)
 E) 2.830 (dois mil oitocentos e trinta)
- 19) “Uma esfera não tem face plana.” Nas figuras abaixo, identifique a que tem forma de esfera:
 A)  B)  C)  D)  E) 
- 20) Identifique a operação que apresenta o resultado INCORRETO:
 A) $40 + 20 + 5 = 65$ D) $30 \times 90 = 2.700$
 B) $320 - 60 = 260$ E) $36 \div 6 = 6$
 C) $9 \times 200 = 1.850$

CONHECIMENTOS GERAIS

- 21) A usina hidrelétrica de Itaipu é binacional porque pertence aos países:
 A) Brasil e Paraguai. D) Colômbia e Brasil.
 B) Brasil e Uruguai. E) Brasil e México.
 C) Argentina e Brasil.
- 22) O arquiteto construtor de Brasília, que já passou dos 100 anos de vida, chama-se:
 A) Oscar Niemeyer. D) José Chechin.
 B) Lúcio Costa. E) Luis Carlos Prestes.
 C) Juscelino Kubistchek.
- 23) O horto florestal existente em Santa Maria Madalena, denominado Joaquim dos Santos Lima, é pioneiro:
 A) Na plantação de pinus. D) No reflorestamento urbano e rural.
 B) Na formação de mudas. E) Nas espécies de flores cultivadas.
 C) No cultivo de plantas medicinais.
- 24) O eucalipto é madeira de recurso natural, matéria-prima usada na fabricação de:
 A) Petróleo e álcool. D) Tintas e massa corrida.
 B) Papel e móveis. E) Algodão e alumínio.
 C) Alimento *in natura*.

CONCURSO PÚBLICO – MUNICÍPIO DE SANTA MARIA MADALENA/RJ

- 25) O Brasil terá eleições para Presidente da República este ano e concorrem neste pleito candidatos, tais como, EXCETO:
- A) Marina Silva. D) Aécio Neves.
B) Dilma Roussef. E) José Maria Eymael.
C) José Serra.
- 26) A bandeira do Brasil tem as cores: verde, amarelo, azul e branco. O verde significa:
- A) Os rios. D) Nossas matas.
B) As várzeas. E) As cidades.
C) Os mares.
- 27) Marque abaixo, o município que NÃO faz limite geográfico com Santa Maria Madalena:
- A) São Fidélis. D) Nova Friburgo.
B) São Sebastião do Alto. E) Conceição de Macabu.
C) Trajano de Moraes.
- 28) A música de um compositor baiano (André Filho) “Cidade Maravilhosa, cheia de encantos mil...” foi transformada em Hino do:
- A) Maranhão. B) Rio de Janeiro. C) São Paulo. D) Pará. E) Bahia.
- 29) As maiores empresas aéreas brasileiras são:
- A) TAM e Azul. B) Gol e Webjet. C) TAM e Gol. D) Rico e Azul. E) Webjet e Rico.
- 30) Com uma corredeira de aproximados 50 metros, no 3º distrito de Santo Antônio do Imbé, existe um lugar de rara beleza natural denominado:
- A) Itapoã. D) Fonte da Saudade.
B) Cachoeirão. E) Cachoeira da Noiva.
C) Sossego.

