



GOVERNO DO ESTADO DO RIO GRANDE DO SUL  
SECRETARIA DE INFRAESTRUTURA E LOGÍSTICA

COMPANHIA ESTADUAL DE DISTRIBUIÇÃO DE ENERGIA ELÉTRICA

CONCURSO PÚBLICO CEEE-D 02/2010

# CONTADOR

## INSTRUÇÕES

Leia atentamente e cumpra rigorosamente as instruções que seguem, pois elas são parte integrante das provas e das normas que regem este Concurso Público.

1. Verifique se este caderno contém 50 (cinquenta) questões. Caso contrário, solicite ao fiscal da sala a sua substituição.
2. Cada questão oferece 5 (cinco) alternativas de respostas, representadas pelas letras **A, B, C, D, E**, sendo apenas 1 (uma) a resposta correta.
3. O tempo para a realização da prova é de 4 horas, incluindo o preenchimento da grade de respostas. O candidato só poderá retirar-se do recinto da prova, portando o caderno de provas, após 1 hora e 30 minutos do início da aplicação. Os dois últimos candidatos deverão retirar-se da sala de prova ao mesmo tempo, devendo assinar a ata da prova.
4. Nenhuma informação sobre as instruções e/ou sobre o conteúdo das questões será dada pelo fiscal, pois são parte integrante da prova.
5. No Caderno de Prova, o candidato poderá rabiscar, riscar, calcular, etc.
6. Os gabaritos preliminares serão divulgados no dia 29/06/2010, até as 15 horas, no *site* ([www.fundatec.com.br](http://www.fundatec.com.br)) e nos murais localizados na sede da Fundatec, Rua Prof. Cristiano Fischer, n° 2.012, Bairro: Partenon – Porto Alegre/RS.

**Instrução:** As questões de números **01** a **10** referem-se ao texto a seguir.

O impacto ambiental, econômico e social das hidrelétricas.

01 O Brasil vem construindo grandes empreendimentos hidrelétricos desde o começo dos anos 1960.  
02 A maior parte deles foi construída durante um período em que havia muito pouca – ou nenhuma –  
03 preocupação com os impactos ambientais e sociais de grandes obras de engenharia.

04 O histórico da implantação de tais empreendimentos registra custos ambientais e de  
05 reassentamento de populações atingidas, danos que foram muito subestimados e mesmo desconsiderados.  
06 Na época, não havia discussão prévia sobre as alternativas tecnológicas de geração de energia elétrica ou  
07 mesmo dos tamanhos e dos formatos dos lagos que seriam criados pelas grandes barragens.

08 As populações locais eram simplesmente notificadas de que a barragem seria construída e de que  
09 teriam que se mudar para outro local. Tais populações eram, muito frequentemente, indenizadas por suas  
10 perdas de maneira totalmente inadequada, normalmente em processos de negociação bastante assimétricos.

11 Assim, com o passar dos anos, depois de várias experiências bastante negativas – entre elas a  
12 construção das hidrelétricas de Itaparica, Sobradinho, Balbina e Tucuruí (as duas últimas na Amazônia) – e  
13 de pressões sociais realizadas por movimentos ambientalistas e sociais organizados, o próprio setor elétrico  
14 passou a tentar incorporar algumas dessas organizações sociais no processo de concepção e construção de  
15 uma usina hidrelétrica.

16 Os principais impactos negativos relacionados \_\_\_\_ construção e \_\_\_\_ operação de usinas  
17 hidrelétricas são normalmente sofridos por aqueles que viviam na área e que tiveram que se mudar. Na maior  
18 parte dos casos, as populações rurais reassentadas sofrem perdas consideráveis em seu padrão de vida,  
19 normalmente sequer se beneficiando da energia elétrica que começa a ser gerada. Além disso, as grandes  
20 hidrelétricas impactam, de maneira desigual, dependendo da região, nos meios físico, biótico e social de seus  
21 habitantes.

22 Nesse sentido, é de se esperar que novas hidrelétricas na Amazônia só irão aumentar a oposição  
23 da sociedade \_\_\_\_ construções desse tipo, previsão que é agravada por duas constatações, entre outras.  
24 Uma delas diz respeito à ausência de novas pesquisas mais detalhadas sobre as condições e as  
25 especificidades ambientais e sociais da região. A outra refere-se à falta de flexibilidade da política energética  
26 brasileira para adaptar seus projetos de engenharia não ao que seria o ideal, mas eventualmente a uma  
27 solução de compromisso que leve em conta, ao mesmo tempo, as questões energéticas e as condições  
28 ambientais e sociais locais, haja vista a fragilidade ambiental e social dos ecossistemas amazônicos.

\* O autor *Roberto Schaeffer* é professor do Programa de Planejamento Energético da Coordenação dos Programas de Pós-Graduação de Engenharia da Universidade Federal do Rio de Janeiro (Coppe/UFRJ).

<http://www.mudancasclimaticas.andi.org.br/content/o-futuro-da-energia-eletrica-no-brasil> (Texto adaptado)

**QUESTÃO 01** - Assinale a alternativa que completa corretamente as lacunas das linhas 16 e 23, respectivamente.

- A) à – à – a
- B) à – à – à
- C) a – a – a
- D) à – à – há
- E) a – a – à

**QUESTÃO 02** – Tanto os vocábulos como as expressões a seguir podem substituir **assimétricos** (linha 10) sem causar ambiguidade ao sentido do texto, à exceção de

- A) diferentes entre si.
- B) discrepantes entre si.
- C) desiguais.
- D) díspares.
- E) irregulares.

**QUESTÃO 03** – Assinale a alternativa que sintetiza a visão do autor, apresentada no texto, acerca da construção de usinas hidrelétricas no Brasil.

- A) Ele é contrário a esses empreendimentos por causa do impacto negativo que eles têm na sociedade de modo geral.
- B) Ele exime-se de emitir uma opinião categórica, mas descreve como a construção de uma usina pode afetar a natureza e as pessoas da região.
- C) Ele tenciona opor-se aos novos empreendimentos e espera que a sociedade, de modo geral, o acompanhe nessa oposição.
- D) Ele defende a realização de pesquisas mais detalhadas sobre o meio ambiente e as populações das regiões como condição para que se discuta a possibilidade de se construir uma hidrelétrica.
- E) Ele defende a construção de usinas desde que, caso seja constatada a fragilidade dos ecossistemas envolvidos, se dê a devida atenção a eles.

**QUESTÃO 04** – Considere as seguintes afirmações sobre o texto.

- I. O texto faz a ponderação de que um empreendimento hidrelétrico tem custos ambientais e de re-assentamento de populações atingidas; considerando-os como os principais impactos negativos.
- II. O texto afirma que, quando se construíram as primeiras usinas hidrelétricas, não se dava muita atenção à prevenção e à solução de danos sociais; por sinal, a indenização das perdas à população atingida nem sempre era feita de modo justo.
- III. O texto constata que não têm sido realizados estudos mais específicos sobre o ambiente e sobre a população dos locais, na Amazônia, onde podem ser construídas usinas hidrelétricas; com isso, é previsível que a população se manifeste contrariamente a esses empreendimentos.

Quais estão corretas?

- A) Apenas I.
- B) Apenas II.
- C) Apenas III.
- D) Apenas I e II.
- E) I, II e III.

**QUESTÃO 05** – Considere as seguintes possibilidades de mudanças de vocábulos do texto.

- I. Passar **discussão** (linha 06) para o plural.
- II. Passar **populações** (linha 08) para o singular.

Quantos outros vocábulos, nas respectivas frases, deveriam sofrer alterações para fins de concordância, caso essas mudanças fossem realizadas?

- A) Em I, dois; em II, cinco.
- B) Em I, três; em II, seis.
- C) Em I, um; em II, oito.
- D) Em I, um; em II, cinco.
- E) Em I, dois; em II, dez.

**QUESTÃO 06** – Assinale a alternativa que apresenta a correta passagem para a voz passiva da primeira frase do texto, transcrita a seguir, *O Brasil vem construindo grandes empreendimentos hidrelétricos desde o começo dos anos 1960.*

- A) Grandes empreendimentos hidrelétricos o Brasil vem construindo desde o começo dos anos 1960.
- B) Grandes empreendimentos hidrelétricos vem sendo construídos no Brasil desde o começo dos anos 1960.
- C) Grandes empreendimentos hidrelétricos, desde o começo dos anos 1960, o Brasil vem construindo.
- D) Grandes empreendimentos hidrelétricos vêm sendo construídos pelo Brasil desde o começo dos anos 1960.
- E) Grandes empreendimentos hidrelétricos têm sido construídos para o Brasil desde o começo dos anos 1960.

**QUESTÃO 07** – O vocábulo **Brasil** (linha 01) e a expressão **o próprio setor elétrico** (linha 13) estão sendo usados em sentido figurado. Qual é a figura de linguagem presente nos dois casos?

- A) A metonímia, pois emprega uma palavra ou expressão no lugar de outra com a qual está relacionada.
- B) A metáfora, pois faz um desvio da significação exata de uma palavra ou expressão.
- C) A perífrase, pois designa os seres por meio de seus atributos ou títulos.
- D) O pleonasma, pois emprega redundâncias com o fim de reforçar um sentido.
- E) O eufemismo, pois substitui vocábulos ou expressões por outros de conotação mais branda.

**QUESTÃO 08** – Assinale a alternativa que não pode substituir **haja vista** (linha 28) sob pena de provocar dano estrutural ao texto.

- A) considerando.
- B) tendo em vista.
- C) visto que.
- D) dada.
- E) sem perder de vista.

**QUESTÃO 09** – Relacione a coluna 1 à coluna 2, associando os sinais de pontuação do texto às respectivas explicações ou justificativas.

**1 Coluna**

1. Travessões (linha 02).
2. Vírgulas das linhas 09 e 11 (as duas ocorrências nos dois casos).
3. Vírgulas das linhas 12 (as duas ocorrências) e 20 (quarta ocorrência).

**2 Coluna**

- ( ) Separam elementos coordenados.
- ( ) Separam adjunto adverbial deslocado.
- ( ) Separam expressão que se deseja enfatizar.

A ordem correta de preenchimento dos parênteses, de cima para baixo, é:

- A) 1 – 2 – 3
- B) 1 – 3 – 2
- C) 2 – 1 – 3
- D) 3 – 1 – 2
- E) 3 – 2 – 1

**QUESTÃO 10** – As alternativas a seguir apresentam vocábulos (retirados do texto) que contêm, respectivamente: um hiato, um encontro consonantal e um dígrafo, à exceção de

- A) sociedade – impactos – questões
- B) biótico – obras – barragens
- C) construída – tecnológicas – ecossistemas
- D) ideal – constatações – engenharia
- E) prévia – pressões – fragilidade

Para a resolução das questões desta prova, considere os seguintes detalhes: (1) o *mouse* está configurado para uma pessoa que o utiliza com a mão direita (destro) e usa, com maior frequência, o botão esquerdo, que possui as funcionalidades de seleção ou de arrastar normal, entre outras. O botão da direita serve para ativar o menu de contexto ou de arrastar especial; (2) os botões do *mouse* estão devidamente configurados com a velocidade de duplo clique; (3) os programas utilizados nesta prova foram instalados com todas as suas configurações padrão, entretanto, caso tenham sido realizadas alterações que impactem a resolução da questão, elas serão alertadas no texto da questão ou mostradas visualmente, se necessário; (4) no enunciado e nas respostas de algumas questões existem palavras que foram digitadas entre aspas, apenas para destacá-las. Neste caso, para resolvê-las, desconsidere as aspas e atente somente para o texto propriamente dito; e (5) para resolver as questões dessa prova considere, apenas, os recursos disponibilizados para os candidatos, tais como essas orientações, os textos introdutórios das questões, os enunciados propriamente ditos e os dados e informações disponíveis nas figuras das questões, se houver.

A questão 11 baseia-se na Figura 1, que mostra a janela principal da Lixeira, do *Windows XP*. Nessa Figura, tracejou-se, intencionalmente, a área apontada pela seta nº 3, de modo a facilitar a resolução dessa questão.

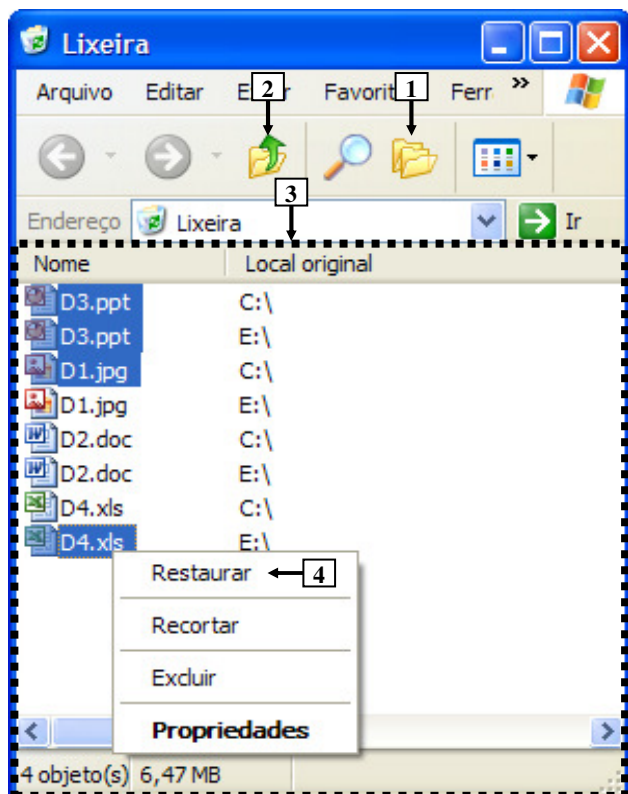
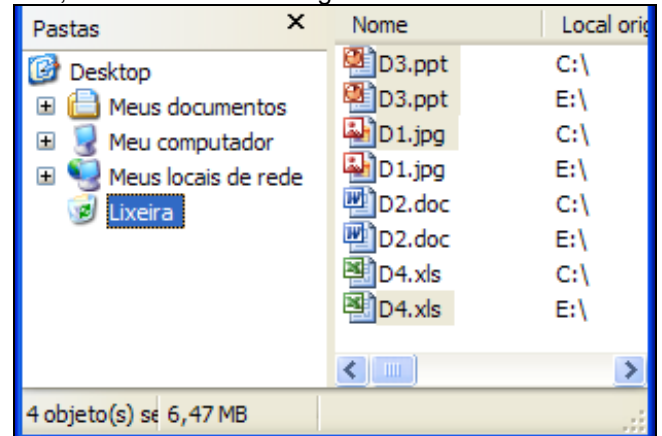


Figura 1 - Janela principal da Lixeira

**QUESTÃO 11** - Após observar a Figura 1, considere as seguintes alternativas sobre a Lixeira:

I. Pressionando-se uma vez o ícone apontado pela seta nº 1, a área tracejada, apontada pela seta nº 3, será mostrada da seguinte forma:



II. Pressionando-se duas ou mais vezes a tecla "ESC" do teclado, e, a seguir, dando-se apenas um clique com o botão esquerdo do *mouse* sobre o ícone apontado pela seta nº 2, pode-se afirmar que todos os arquivos que se encontram selecionados serão restaurados aos locais onde se encontravam quando foram excluídos.

III. Ao ser dado um clique com o botão esquerdo do *mouse* sobre o item de menu apontado pela seta nº 4, será restaurado, ao local onde se encontrava antes de ser excluído, apenas o arquivo "D4.xls".

Quais estão corretas?

- A) Apenas I.
- B) Apenas II.
- C) Apenas I e II.
- D) Apenas II e III.
- E) I, II e III.

A questão 12 baseia-se na Figura 2, do Word 2003, onde se pode observar que um documento foi elaborado e que se encontram visíveis as opções do menu apontado pela seta nº 1. A página desse documento está configurada com tamanho de papel A4, ou seja, largura de 21 centímetros e altura de 29,7 centímetros. Nessa Figura, tracejou-se, intencionalmente, a área apontada pela seta nº 2, de modo a facilitar a resolução dessa questão.

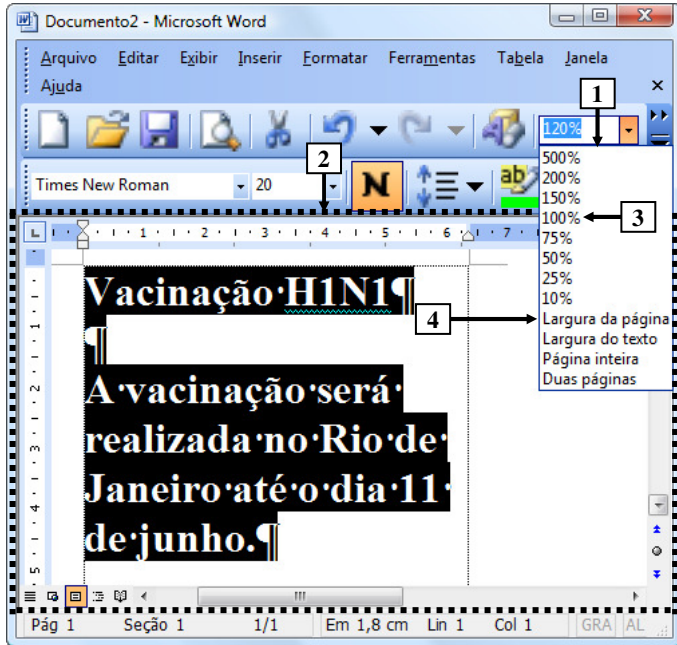
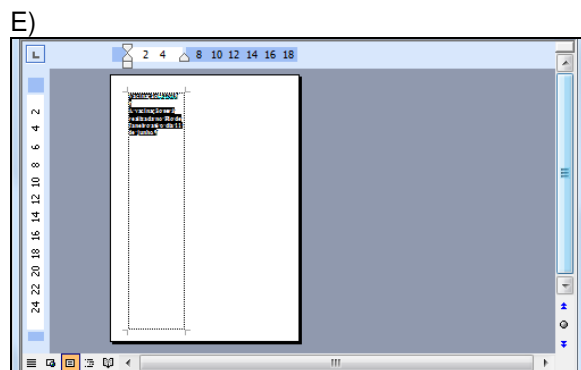
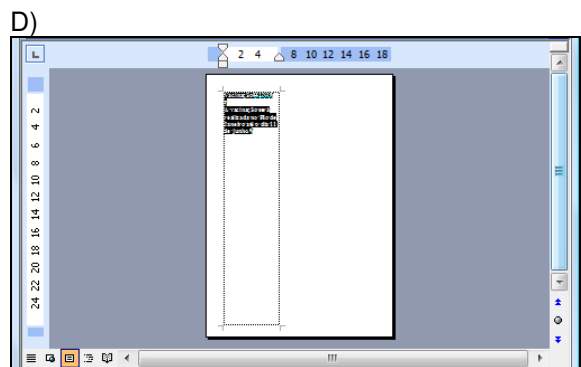
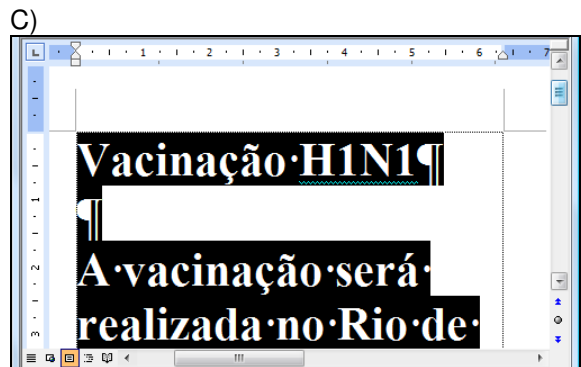
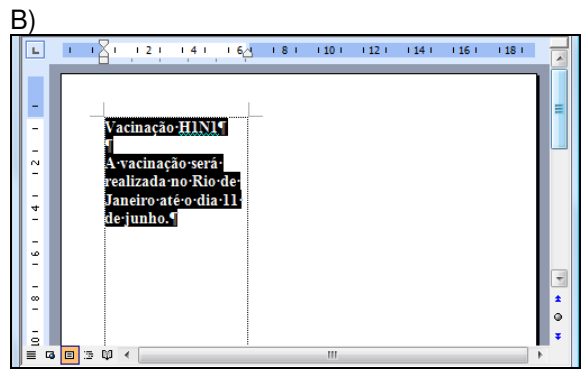
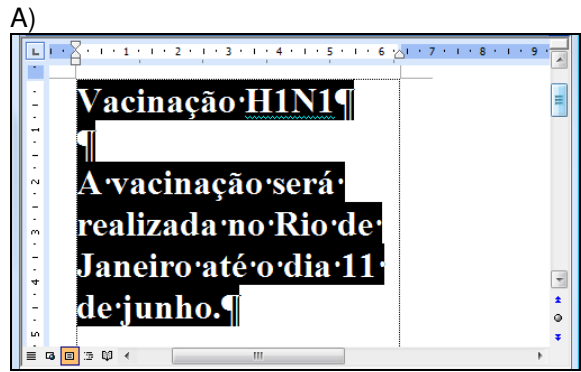


Figura 2 – Janela principal do Word 2003

**QUESTÃO 12** - Após observar a janela principal do Word 2003, mostrada na Figura 2, pode-se afirmar que, ao ser dado um clique com o botão esquerdo do mouse sobre o item de menu apontado pela seta nº 4 ("Largura da página"), a área desse editor de texto, tracejada e apontada pela seta nº 2, será mostrada da seguinte forma:



A questão 13 baseia-se na Figura 3, que mostra a janela principal do Word 2003 e, sobre ela, a caixa de diálogo "Personalizar".

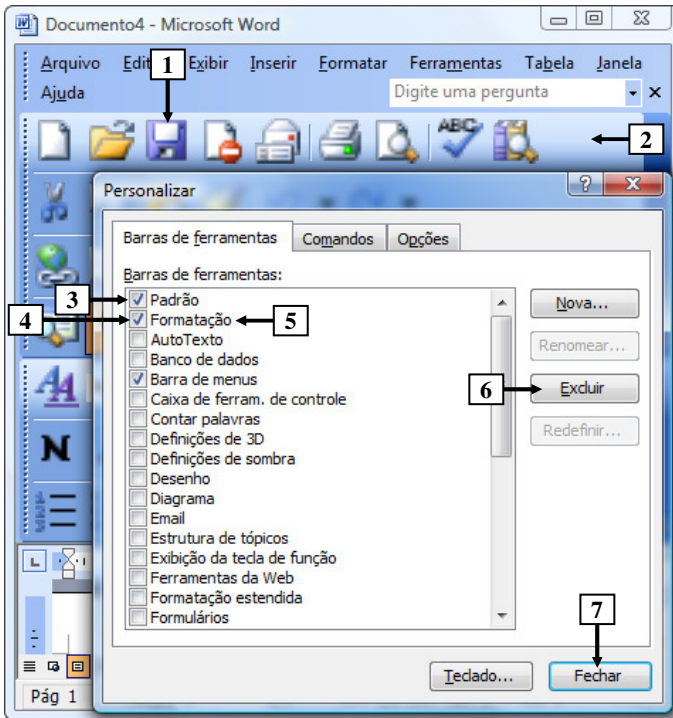


Figura 3 - Janela principal do Word 2003

**QUESTÃO 13** - Na janela principal do Word 2003, mostrada na Figura 3, para excluir da barra de ferramentas, apontada pela seta nº 2, apenas o ícone apontado pela seta nº 1, basta realizar, sequencialmente, as seguintes atividades:

- (1) dar um clique com o botão esquerdo do *mouse* sobre o local apontado pela seta nº 3, ocultando a marcação existente nesse local; e (2) pressionar o botão "Fechar" (seta nº 7).
- (1) dar um clique com o botão esquerdo do *mouse* sobre o local apontado pela seta nº 4, ocultando a marcação existente nesse local; e (2) pressionar o botão "Fechar" (seta nº 7).
- (1) dar um clique com o botão esquerdo do *mouse* sobre o ícone apontado pela seta nº 1, selecionando-o; (2) pressionar, uma vez, o botão "Excluir" (seta nº 6); e (3) pressionar o botão "Fechar" (seta nº 7).
- (1) dar um clique com o botão esquerdo do *mouse* sobre o ícone apontado pela seta nº 1, selecionando-o; (2) dar um clique com o botão esquerdo do *mouse* sobre a palavra "Formatação", apontada pela seta nº 5, selecionando-a; (3) pressionar uma vez o botão "Excluir" (seta nº 6); e (4) pressionar o botão "Fechar" (seta nº 7).
- (1) posicionar o cursor do *mouse* sobre o ícone apontado pela seta nº 1; (2) pressionar e segurar o botão esquerdo do *mouse*; (3) arrastar o cursor do *mouse* até o centro da caixa de diálogo "Personalizar"; (4) soltar o botão esquerdo do *mouse*; e (5) pressionar o botão "Fechar" (seta nº 7).

A questão 14 baseia-se na Figura 4, que mostra a janela principal do Word 2003.

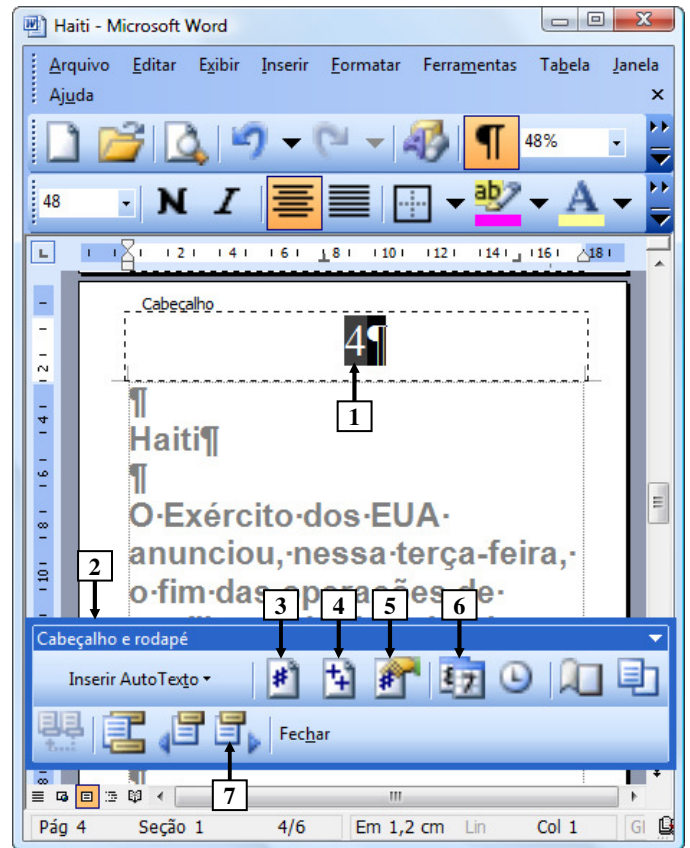


Figura 4 - Janela principal do Word 2003

**QUESTÃO 14** - Na Figura 4, do Word 2003, o número apontado pela seta nº 1 passou a ser exibido após ter sido pressionado o ícone da barra ferramentas "Cabeçalho e rodapé" (seta nº 2), apontado pela seta nº:

- 3.
- 4.
- 5.
- 6.
- 7.

As questões 15 e 16 baseiam-se na Figura 5, que mostra a janela principal do *Word* 2003, na qual se observam os seguintes detalhes: (1) digitou-se um texto na área de trabalho do *Word* 2003; (2) após as palavras apontadas pelas setas nº 1 e 3 terem sido digitadas, o *Word* 2003 inseriu, automaticamente, embaixo delas, uma linha ondulada na cor vermelha; (3) a seta nº 2 aponta para o ponto de inserção de texto no formato de uma barra vertical (" | "); (4) está sendo exibido, sobre a área de trabalho, o menu apontado pela seta nº 4; e (5) a seta nº 8 aponta para vários ícones que foram ampliados e destacados logo abaixo da janela principal do editor de texto, para facilitar a visualização e a resolução da questão.

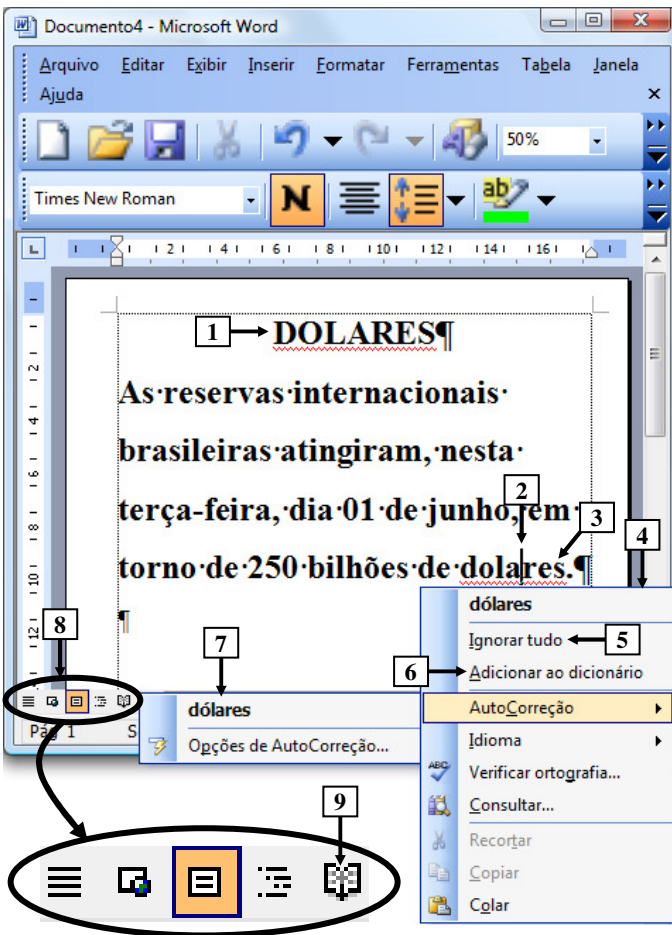
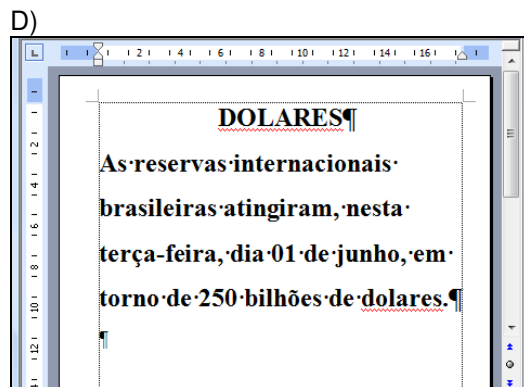
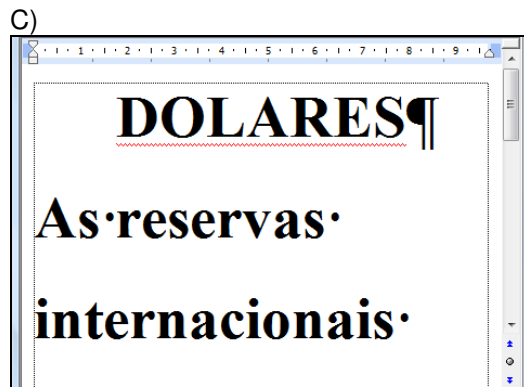
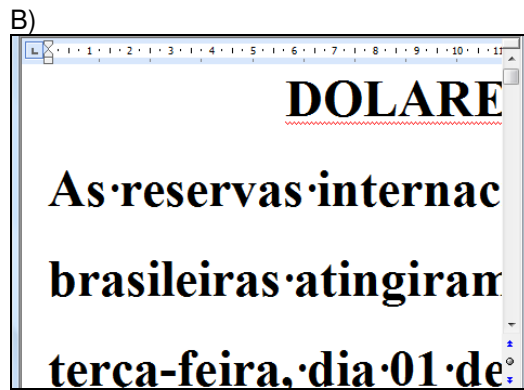
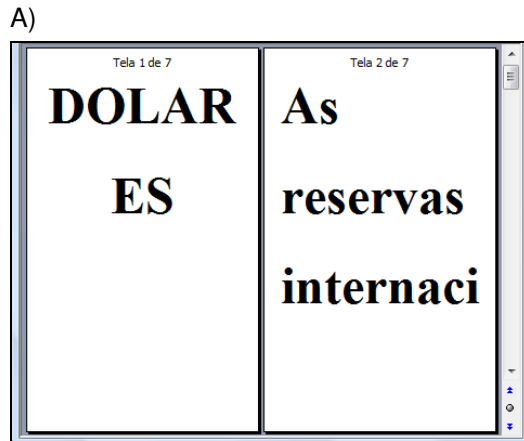


Figura 5- Janela principal do *Word* 2003

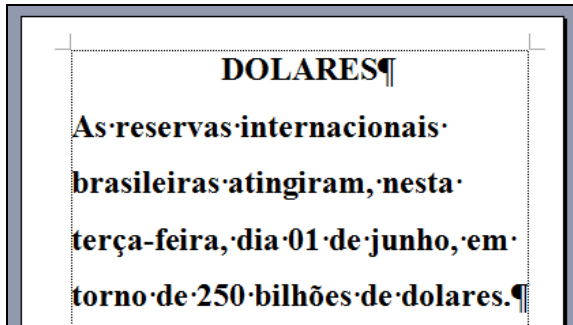
**QUESTÃO 15** - Na janela principal do *Word* 2003 (Figura 5), ao ser dado um clique com o botão esquerdo do *mouse* sobre o ícone apontado pela seta nº 9, pode-se afirmar que a área de trabalho desse editor de texto será mostrada da seguinte forma:



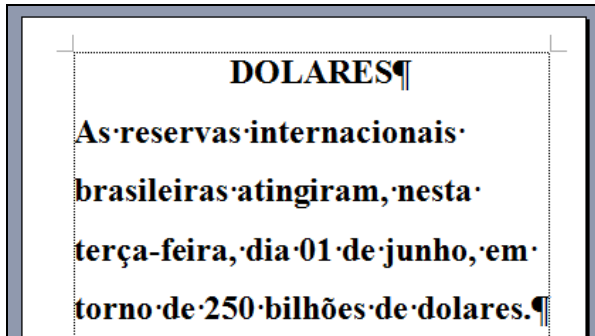


**QUESTÃO 16** - Na Figura 5, do *Word* 2003, ao ser dado um clique com o botão esquerdo do *mouse* sobre o ícone apontado pela seta nº:

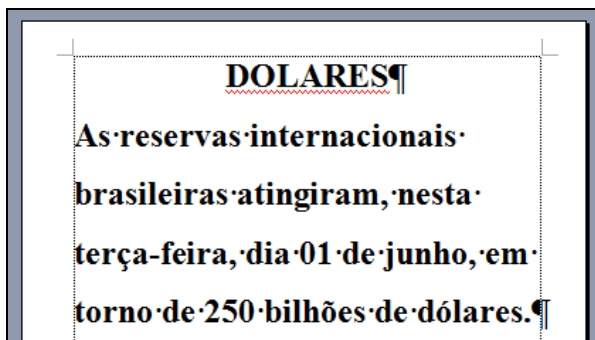
I. 5 ("Ignorar tudo"), pode-se afirmar que a área de trabalho desse editor de texto será mostrada da seguinte forma:



II. 6 ("Adicionar ao dicionário"), pode-se afirmar que a área de trabalho desse editor de texto será mostrada da seguinte forma:



III. 7 ("dólares"), pode-se afirmar que a área de trabalho desse editor de texto será mostrada da seguinte forma:



Quais estão corretas?

- A) Apenas II.
- B) Apenas III.
- C) Apenas I e III.
- D) Apenas II e III.
- E) I, II e III.

As questões 17 e 18 baseiam-se nas Figuras 6(a), 6(b) e 6(c), do *Excel* 2003. As Figuras 6(a) e 6(c) mostram a mesma planilha e o mesmo conteúdo. A Figura 6(a) mostra a janela principal do *Excel* 2003 antes de se realizar determinada formatação sobre a célula apontada pela seta nº 1. A Figura 6(b) mostra, intencionalmente, apenas parte da caixa de diálogo "Formatar células", ativada a partir da Figura 6(a), onde se inseriu, intencionalmente, no local apontado pela seta nº 3, um retângulo, para ocultar qualquer texto ou palavra existente neste local. A Figura 6(c) apresenta os seguintes aspectos: (1) a seta nº 10 aponta para o resultado obtido após ter sido realizada determinada formatação sobre essa mesma célula, na Figura 6(a), apontada pela seta nº 1; e (2) sobre essa Figura, está sendo exibido o menu apontado pela seta nº 8.

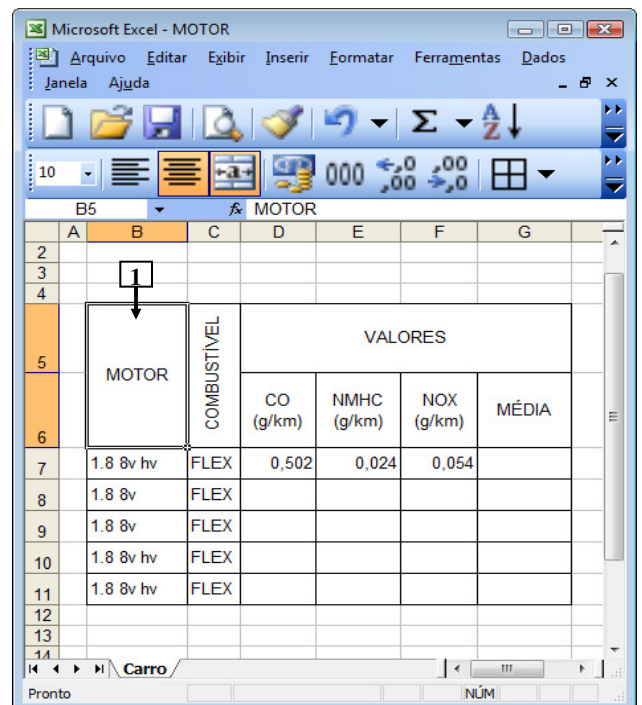


Figura 6(a) – Janela principal do *Excel* 2003 (antes)

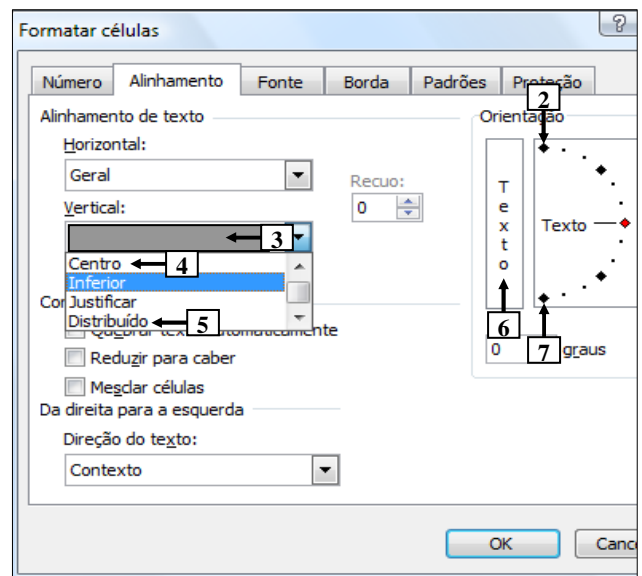


Figura 6(b) – Caixa de diálogo "Formatar células"

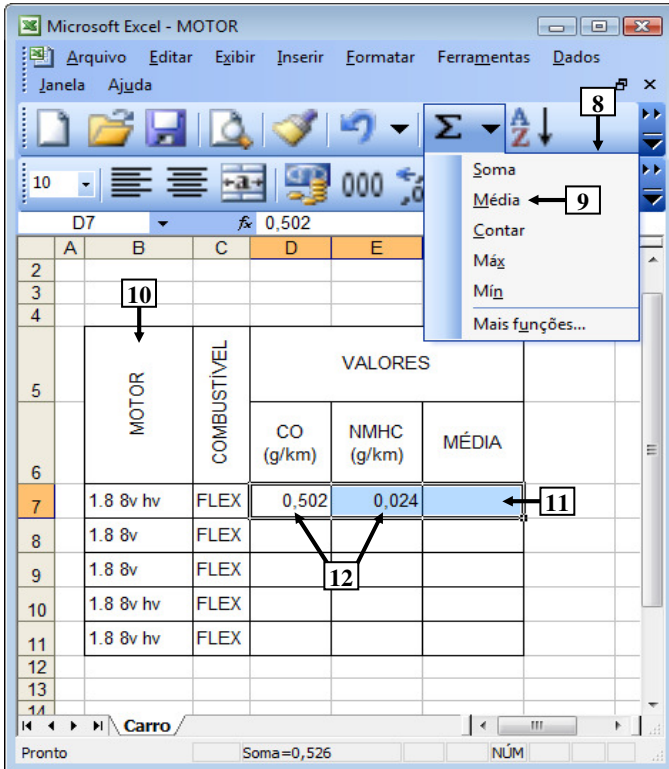


Figura 6(c) – Janela principal do Excel 2003 (após)

**QUESTÃO 17** - Na Figura 6(a), do Excel 2003, a seta nº 1 aponta para uma célula antes de ter sido realizada determinada formatação sobre ela. A seta nº 10 (Figura 6(c)) aponta para o resultado obtido após ter sido realizada determinada formatação, sobre a mesma célula da Figura 6(a). Para se obter o resultado mostrado na Figura 6(c), bastou, antes, na Figura 6(a), ativar a caixa de diálogo "Formatar células" (Figura 6(b)) e, a seguir, realizar sequencialmente as seguintes atividades nessa caixa de diálogo (Figura 6(b)):

- (1) selecionar o item apontado pela seta nº 2; e (2) pressionar o botão "OK".
- (1) selecionar o item apontado pela seta nº 4; e (2) pressionar o botão "OK".
- (1) selecionar o item apontado pela seta nº 5; e (2) pressionar o botão "OK".
- (1) dar um clique com o botão esquerdo do mouse sobre o local apontado pela seta nº 6; e (2) pressionar o botão "OK".
- (1) dar um clique com o botão esquerdo do mouse sobre o local apontado pela seta nº 7; e (2) pressionar o botão "OK".

**QUESTÃO 18** - Na Figura 6(c), do Excel 2003, para que seja mostrado, no local apontado pela seta nº 11, a média dos conteúdos das células apontadas pela seta nº 12, basta realizar sequencialmente a(s) seguinte(s) atividade(s):

- (1) Pressionar a tecla "ESC" do teclado duas ou mais vezes; (2) digitar a fórmula  $=D7+E7/2$ ; e (3) pressionar a tecla "ENTER" do teclado.
- (1) Pressionar a tecla "ESC" do teclado duas ou mais vezes; (2) digitar a fórmula  $SOMA(D7:E7)/2$ ; e (3) pressionar a tecla "ENTER" do teclado.
- dar um clique, com o botão esquerdo do mouse sobre o local apontado pela seta nº 9.

Quais estão corretas?

- Apenas III.
- Apenas I e II.
- Apenas I e III.
- Apenas II e III.
- I, II e III.

A questão 19 baseia-se na Figura 7, que mostra apenas parte da janela principal do Internet Explorer 8. Nessa Figura, inseriram-se, intencionalmente, duas linhas tracejadas, apontadas pela seta nº 2, de modo a facilitar a resolução da questão. Observação: incluiu-se, em todas as alternativas dessa questão, além da área central apontada pela seta nº 2, também, a lateral direita dessa janela.


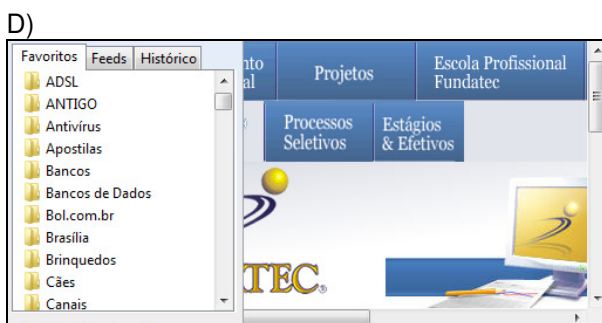
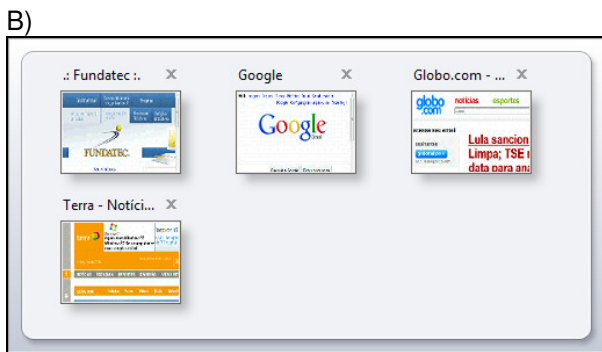


Figura 7 - Internet Explorer 8

**QUESTÃO 19** - Na janela principal do *Internet Explorer* 8 (Figura 7), ao ser dado um clique com o botão esquerdo do *mouse* sobre o ícone apontado pela seta nº 1, pode-se afirmar que a área central desse navegador, situada entre as linhas tracejadas, apontadas pela seta nº 2, mais o lado direito dessa janela, será mostrada da seguinte forma:



A questão 20 baseia-se nas Figuras 8(a) e 8(b), que mostram a janela principal do *Outlook* 2003. A Figura 8(a) mostra o *Outlook* 2003 antes de ser ativado determinado ícone nessa Figura. Sobre a Figura 8(b), considere os seguintes aspectos: (1) essa Figura mostra o resultado obtido após se ativar determinado ícone na janela principal do *Outlook* 2003, mostrada na Figura 8(a); e (2) inseriu-se, no local apontado pela seta nº 7, um retângulo de modo a ocultar, intencionalmente, os ícones existentes nesse local.

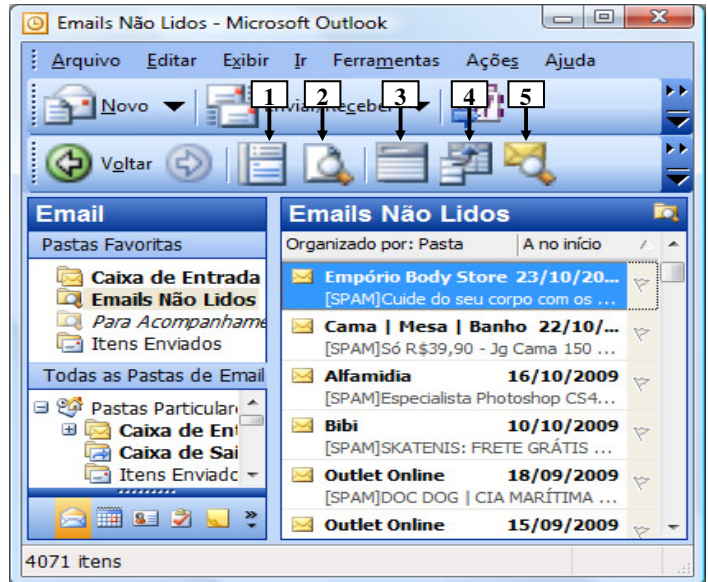


Figura 8(a) - Janela principal do *Outlook* 2003 (antes)

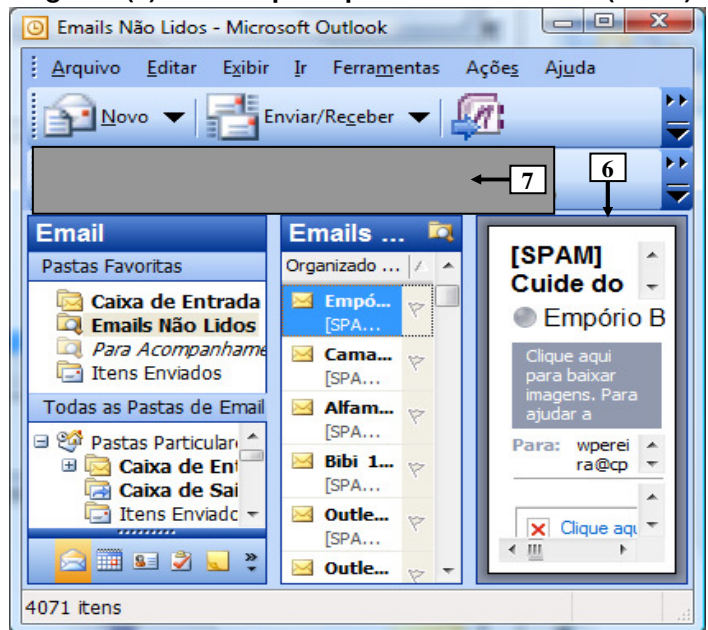


Figura 8(b) - Janela principal do *Outlook* 2003 (após)

**QUESTÃO 20** - Para que fosse mostrado, na Figura 8(b), o painel apontado pela seta nº 6, bastou, na janela principal do *Outlook* 2003, mostrada na Figura 8(a), dar um clique com o botão esquerdo do *mouse* sobre o ícone apontado pela seta nº:

- A) 1.
- B) 2.
- C) 3.
- D) 4.
- E) 5.

**CONHECIMENTOS ESPECÍFICOS**

**QUESTÃO 21** - De acordo com a Lei das Sociedades por Ações, atualmente em vigor, os direitos que tenham por objeto bens corpóreos destinados à manutenção das atividades da companhia ou da empresa ou exercidos com essa finalidade, inclusive os decorrentes de operações que transfiram à companhia os benefícios, riscos e controle desses bens, devem ser registrados no grupo de contas do Ativo denominado:

- A) Circulante.
- B) Bens Incorpóreos.
- C) Imobilizado.
- D) Diferido.
- E) Realizável a Longo Prazo.

**QUESTÃO 22** - Os Princípios Fundamentais de Contabilidade, normatizados pelo Conselho Federal de Contabilidade, são de observância obrigatória no exercício da profissão do Contador e, portanto, devem ser de pleno domínio do profissional. Um desses princípios é o que se refere, simultaneamente, à tempestividade e à integridade do registro do patrimônio e das suas mutações, determinando que este seja feito de imediato e com a extensão correta, independentemente das causas que as originaram. Esse é o Princípio da

- A) Competência.
- B) Continuidade.
- C) Oportunidade.
- D) Prudência.
- E) Simultaneidade.

**QUESTÃO 23** - Uma empresa comercial adquiriu mercadorias para revenda ao preço de R\$ 320.000,00. Sobre essas mercadorias, há incidência de ICMS de 12% e de IPI de 10%. Depois disso, a empresa comprou outras mercadorias para revender, ao preço de R\$ 180.000,00, isentas de IPI e com alíquota de ICMS de 18%, sendo que esses tributos foram destacados corretamente nas notas fiscais das duas compras. Considerando que a empresa não goza de nenhum regime especial de tributação, conclui-se que o valor incorporado a sua conta de estoque de mercadorias foi de R\$

- A) 429.200,00.
- B) 461.200,00.
- C) 500.000,00.
- D) 532.000,00.
- E) 602.800,00.

**QUESTÃO 24** - Na entidade ABC, a folha de pagamento de seus empregados, no mês de dezembro, foi de R\$ 10.000,00, dos quais foram descontados 11% a título de contribuição previdenciária, e mais R\$ 900,00 em favor da associação dos empregados. O valor líquido da folha de pagamento foi pago no próprio mês de dezembro, enquanto que os descontos somente foram repassados aos respectivos favorecidos em janeiro do ano seguinte. Desconsiderando quaisquer outros cálculos e valores relacionados à folha de pagamento, ou seja, levando em conta apenas os fatos e valores citados, está correto afirmar que a repercussão do registro contábil, no exercício encerrado em 31 de dezembro, foi uma redução patrimonial de R\$

- A) 8.000,00, se a entidade adota o regime de caixa.
- B) 8.000,00, se a entidade adota o regime de competência.
- C) 8.900,00, se a entidade adota o regime de caixa.
- D) 8.900,00, se a entidade adota o regime de competência.
- E) 10.000,00, se a entidade adota o regime de caixa.

**QUESTÃO 25** - De acordo com o Princípio da Competência, as receitas e despesas devem ser incluídas na apuração do resultado do período em que ocorrerem, sempre simultaneamente quando se correlacionarem, independente de recebimento ou pagamento. Para efeito desse princípio, as receitas consideram-se realizadas:

- I. Nas transações com terceiros, quando estes efetuarem o pagamento ou assumirem compromisso firme de efetivá-lo, quer pela investidura na propriedade de bens anteriormente pertencentes à entidade, quer pela fruição de serviços por esta prestados.
- II. Quando houver extinção parcial ou total de um ativo, qualquer que seja o motivo, sem o desaparecimento concomitante de um passivo de valor igual ou maior.
- III. Pela geração natural de novos ativos, independentemente de intervenção de terceiros.

Quais estão corretas?

- A) Apenas I.
- B) Apenas II.
- C) Apenas III.
- D) Apenas I e II.
- E) Apenas I e III.

**QUESTÃO 26** - A legislação societária vigente estabelece as normas gerais sobre as demonstrações financeiras das companhias, inclusive quanto ao agrupamento e à classificação dos elementos patrimoniais. De acordo com essas normas, por exemplo, numa companhia cujo único objeto explorado seja a prestação do serviço público de energia elétrica, devem ser classificados no Ativo Circulante os direitos realizáveis

- A) no curso do exercício social subsequente e as aplicações de recursos em despesas do exercício seguinte.
- B) derivados de adiantamentos a diretores e a acionistas da companhia.
- C) relativos a adiantamentos a acionistas e a participantes no lucro da companhia.
- D) referentes a empréstimos a diretores e a participantes no lucro da companhia.
- E) derivados de empréstimos a diretores e a acionistas da companhia.

**QUESTÃO 27** - De acordo com as novas e vigentes normas que regem a elaboração das demonstrações financeiras das companhias (mais precisamente o que prevê a Lei 11.638/2007), apenas uma das contas a seguir relacionadas não deve figurar no Patrimônio Líquido. Assinale a alternativa que corresponda a essa conta.

- A) Reservas de Capital.
- B) Capital Social.
- C) Ajustes de Avaliação Patrimonial.
- D) Lucros Acumulados.
- E) Prejuízos Acumulados.

**QUESTÃO 28** - Uma das inovações da Lei 11.638/2007 foi a exigência da Demonstração dos Fluxos de Caixa. Entretanto, nem todas as companhias estão obrigadas a elaborar e publicar tal demonstração. A lei dispensa dessa obrigatoriedade as companhias fechadas com patrimônio, na data do balanço, inferior a R\$

- A) 240.000,00.
- B) 360.000,00.
- C) 500.000,00.
- D) 1.000.000,00.
- E) 2.000.000,00.

**QUESTÃO 29** - As notas explicativas às demonstrações financeiras, nos termos da legislação societária vigente, visam a fornecer informações adicionais às demonstrações, não evidenciadas nestas e consideradas necessárias a uma mais adequada apresentação. Nesse sentido, as notas explicativas devem informar, por exemplo:

- I. Os investimentos em outras sociedades, quando estes não forem relevantes.
- II. Os ônus reais constituídos sobre elementos do ativo, as garantias prestadas a terceiros e outras responsabilidades eventuais ou contingentes.
- III. A taxa de juros, as datas de vencimento e as garantias das obrigações de curto prazo.

Quais estão corretas?

- A) Apenas I.
- B) Apenas II.
- C) Apenas III.
- D) Apenas I e II.
- E) Apenas II e III.

**QUESTÃO 30** - Na demonstração do resultado do exercício de uma companhia prestadora de serviço cujo faturamento bruto foi de R\$ 1.200.000,00, está evidenciado que as deduções da receita bruta correspondem a um montante equivalente a 25% de tudo que foi faturado pela empresa. Também está demonstrado que, sobre aquela mesma base de cálculo, o custo dos serviços prestados corresponde a 45% e das despesas operacionais a 15%. Com base nisso, a receita líquida que consta na referida demonstração é de R\$

- A) 180.000,00.
- B) 360.000,00.
- C) 720.000,00.
- D) 900.000,00.
- E) 1.020.000,00.

**QUESTÃO 31** - Após o processo licitatório ter sido concluído, a Administração deve convocar o licitante vencedor para assinatura do contrato. Deve-se observar, no entanto, que essa convocação possui um prazo para ser feita e que, caso não haja essa convocação, o licitante fica dispensado dos compromissos assumidos. A contar da data da entrega das propostas, o prazo de convocação é de

- A) trinta dias
- B) sessenta dias.
- C) setenta dias.
- D) noventa dias.
- E) cento e oitenta dias.

**QUESTÃO 32** - Relacione os conceitos de Contabilidade Financeira e de Contabilidade de Custos com suas respectivas descrições.

- ( ) Custo
- ( ) Desembolso
- ( ) Despesa
- ( ) Doação
- ( ) Perda

1. Gasto voluntário efetuado sem intenção de obtenção de receita e sem qualquer ligação com as atividades para as quais a empresa foi criada.
2. Pagamento de parte ou do total adquirido, elaborado ou comercializado; ou seja, a parcela ou o todo que foi pago.
3. Parcela do gasto que é aplicada na produção de bens ou serviços ou em qualquer outra função do processo produtivo; esse valor é desembolsado ou não.
4. Parcela do gasto desligada das atividades de elaboração dos bens e serviços, ou seja, independente do processo produtivo. São gastos decorrentes do consumo de bens e serviços ocorrido na obtenção de receitas.
5. Gasto involuntário e anormal que ocorre sem intenção de obtenção de receita, tais como parcelas de matéria-prima perdida em acidentes, como inundações e incêndios.

A ordem correta de preenchimento dos parênteses, de cima para baixo, é

- A) 1 – 2 – 3 – 4 – 5.
- B) 2 – 3 – 4 – 5 – 1.
- C) 3 – 2 – 4 – 1 – 5.
- D) 4 – 1 – 2 – 3 – 5.
- E) 5 – 4 – 3 – 2 – 1.

Para responder as questões 33 e 34, considere que, no último mês de maio, determinada empresa vendeu 250 unidades da mercadoria que produz, obtendo um lucro de R\$4,00 por unidade vendida. Todos produtos foram vendidos ao preço unitário de R\$28,00. O total das despesas e custos fixos da empresa, no período, foi de R\$1.000,00. Para a resolução das questões, desconsidere quaisquer implicações tributárias ou outras situações e valores não citados.

**QUESTÃO 33** - O total dos custos e despesas variáveis do período a que se referem as operações citadas foi de R\$

- A) 1.000,00.
- B) 2.000,00.
- C) 2.500,00.
- D) 3.500,00.
- E) 5.000,00.

**QUESTÃO 34** - Com base nos valores apurados no período, quantas unidades do produto precisam ser vendidas para a empresa atingir o ponto de equilíbrio?

- A) 40.
- B) 50.
- C) 75.
- D) 125.
- E) 500.

**QUESTÃO 35** - O planejamento do trabalho de auditoria interna deve considerar todos os fatores relevantes para sua execução. Considere os seguintes aspectos necessários para a execução da auditoria interna.

- I. O conhecimento detalhado dos sistemas contábil e de controles internos da entidade bem como de seu grau de confiabilidade.
- II. Os recursos técnicos, materiais ou imateriais, desconsiderando plenamente o trabalho de outros auditores.
- III. O foco na entidade auditada, não incluindo, no planejamento, as relações desta com entidades associadas ou partes relacionadas em nenhuma hipótese.

Quais estão corretas?

- A) Apenas I.
- B) Apenas II.
- C) Apenas III.
- D) Apenas I e II.
- E) Apenas II e III.

Para responder as questões 36 e 37, considere a tabela a seguir, que mostra os dados do balanço patrimonial.

ATIVO		PASSIVO	
Saldos em	31/12/09	Saldos em	31/12/09
Estoques	1.200,00	Fornecedores	1.300,00
Outras Contas	1.600,00	Outras Contas	700,00
<b>Circulante</b>	<b>2.800,00</b>	<b>Circulante</b>	<b>2.000,00</b>
Empréstimos	2.400,00	Capital Social	10.000,00
Outras Contas	800,00	Outras Contas	1.400,00
<b>Realizável Longo Prazo</b>	<b>3.200,00</b>	<b>Patrimônio Líquido</b>	<b>11.400,00</b>
Imobilizado	3.100,00		
Outras Contas	4.300,00		
<b>Permanente</b>	<b>7.400,00</b>		
<b>Total do Ativo</b>	<b>13.400,00</b>	<b>Total Passivo e PL</b>	<b>13.400,00</b>

**QUESTÃO 36** - De acordo com os valores apresentados, o índice de Liquidez Corrente ou Comum é de

- A) 0,80.
- B) 1,60.
- C) 1,40.
- D) 3,00.
- E) 3,70.

**QUESTÃO 37** - Em relação ao índice de Liquidez Seca, está correto afirmar que ele é

- A) maior que 1,0.
- B) menor que 1,0.
- C) desconhecido, por inexistência de contas no Passivo Exigível a Longo Prazo.
- D) desconhecido, por falta de detalhamento de contas do Passivo.
- E) desconhecido, por falta de detalhamento de contas do Ativo.

**QUESTÃO 38** - O custo das mercadorias vendidas de uma empresa comercial, em determinado ano, foi de R\$234.000,00. O estoque de mercadorias, no início daquele ano era de R\$ 3.600,00; e, no final, de R\$4.800,00. No ano seguinte, o custo das mercadorias vendidas foi de R\$246.000,00 e, no final do ano, o estoque era de R\$5.400,00. Em relação à rotação dos estoques da empresa, pode-se concluir que,

- A) no primeiro ano, a rotação dos estoque foi maior que no ano seguinte.
- B) no segundo ano, o prazo médio de estoque foi superior a 48 dias.
- C) no primeiro ano, o prazo médio de estoque foi inferior a 6 dias.
- D) no segundo ano, o prazo médio de estoque foi menor que no primeiro.
- E) no primeiro ano, o prazo médio de estoque superior a 7 dias.

**Para responder a questão 39, considere os dados da tabela a seguir.**

<b>Contas</b>	<b>R\$</b>
Receita Bruta	120.000,00
Deduções da Receita Bruta	48.000,00
Custo das Mercadorias Vendidas	45.000,00
Despesas Operacionais	18.000,00
Patrimônio Líquido	100.000,00
Total do Ativo	246.000,00

**QUESTÃO 39** - Considerando apenas os dados contidos na tabela acima, extraídos das demonstrações financeiras de uma empresa, pode-se afirmar que a Margem Operacional Líquida é de

- A) 9,00%.
- B) 12,50%.
- C) 22,50%.
- D) 27,00%.
- E) 72,00%.

**QUESTÃO 40** - O relatório do auditor interno é o produto final dos trabalhos desenvolvidos em uma entidade, que deve ser elaborado de acordo com as normas do Conselho Federal de Contabilidade. Assinale a alternativa que apresenta uma das normas para produção de relatório.

Entre as disposições das referidas normas pode ser citada a seguinte:

- A) A responsabilidade técnica pelo relatório do auditor interno deve ser de profissional habilitado junto ao Conselho Regional de Contabilidade, seja ele Contador ou Técnico em Contabilidade.
- B) Ao auditor interno é vedado mencionar, no seu relatório, quando for o caso, as áreas não examinadas, independentemente dos motivos pelos quais não as contemplou.
- C) No relatório, o auditor interno comunica os trabalhos realizados, suas conclusões, recomendações e as providências a serem tomadas pelos acionistas.
- D) O relatório do auditor interno não é confidencial e deve ser disponibilizado ao público em geral, especialmente aos acionistas, antes de ser apresentado para a pessoa que o tenha solicitado.
- E) O relatório deve ser redigido com objetividade e imparcialidade, de forma a expressar claramente os resultados dos trabalhos realizados.

**QUESTÃO 41** - O perito-contador nomeado ou escolhido deve declarar-se impedido quando não puder exercer suas atividades com imparcialidade e sem qualquer interferência de terceiros. Entretanto, há situações em que, à luz das normas vigentes, tal impedimento não pode ser alegado, como, por exemplo, quando o perito

- A) tiver atuado como perito-contador contratado ou prestado depoimento como testemunha no processo.
- B) tiver mantido com alguma das partes ou seus procuradores relação de trabalho como empregado ou administrador em qualquer época de sua carreira profissional.
- C) tiver cônjuge, parente, consanguíneo ou afim, em linha reta ou em linha colateral até o terceiro grau, ou houver entidades da qual esses façam parte do quadro societário ou de direção postulando no processo.
- D) tiver interesse, direto ou indireto, mediato ou imediato, por si, por seu cônjuge ou parente, consanguíneo ou afim, em linha reta ou em linha colateral até o terceiro grau, no resultado do trabalho pericial.
- E) exercer cargo ou função incompatível com a atividade de perito-contador, em função de impedimentos legais ou estatutários.

**QUESTÃO 42** - As compras e contratações da administração pública se submetem ao processo licitatório previsto no art. 37, inciso XXI, da Constituição Federal e regulamentado pela Lei 8.666/1993. Essa lei estabeleceu as modalidades de licitação, suas características e sua aplicabilidade. Considere as seguintes assertivas em relação ao que essa lei estabelece.

- I. Concorrência é a modalidade de licitação entre quaisquer interessados que, na fase inicial de habilitação preliminar, comprovem possuir os requisitos mínimos de qualificação exigidos no edital para execução de seu objeto.
- II. Nos casos em que couber convite, a Administração poderá utilizar a tomada de preços e, em qualquer caso, a concorrência.
- III. Quando, excepcionalmente, não for aplicável qualquer das modalidades previstas na Lei, a Administração poderá criar outra, para vigorar por tempo determinado.

Quais estão corretas?

- A) Apenas I.
- B) Apenas II.
- C) Apenas III.
- D) Apenas I e II.
- E) Apenas II e III.

**QUESTÃO 43** - A licitação pode ser dispensada ou inexigível em determinados casos previstos na Lei 8.666/1993. Ou seja, a Lei especifica as situações em que o processo licitatório é inexigível ou é dispensável. Dos casos citados a seguir, assinale aquele que não corresponde a uma hipótese prevista na lei em que a licitação é dispensada.

- A) Contratação de profissional de qualquer setor artístico, diretamente ou através de empresário exclusivo, desde que consagrado pela crítica especializada ou pela opinião pública.
- B) Nos casos de guerra ou grave perturbação da ordem.
- C) Quando não acudirem interessados à licitação anterior e esta, justificadamente, não puder ser repetida sem prejuízo para a Administração, mantidas, neste caso, todas as condições pre-estabelecidas.
- D) Quando houver possibilidade de comprometimento da segurança nacional, nos casos estabelecidos em decreto do Presidente da República, ouvido o Conselho de Defesa Nacional.
- E) Aquisição ou restauração de obras de arte e objetos históricos, de autenticidade certificada, desde que compatíveis ou inerentes às finalidades do órgão ou entidade.

**QUESTÃO 44** - Um ativo não-corrente (ou grupo de ativo), segundo as normas internacionais de contabilidade (IFRS), deve ser classificado como mantido para venda nas situações em que o seu valor será recuperado por meio de uma transação de venda, ao invés de ser recuperado por meio de seu uso, bem como nas situações em que o ativo está disponível para venda imediata nas condições atuais e, ainda, sua venda é altamente provável.

Em relação a esses ativos (ou grupo de ativos), classificados como mantidos para venda, as referidas normas estabelecem, também, que:

- I. Devem ser mensurados pelo menor valor entre o valor contábil e o valor justo menos o custo para vendê-los.
- II. Continuam sofrendo depreciação normalmente até a data de sua realização (venda).
- III. Devem ser apresentados separadamente no balanço patrimonial.

Quais estão corretas?

- A) Apenas I.
- B) Apenas II.
- C) Apenas III.
- D) Apenas I e II.
- E) Apenas I e III.

**QUESTÃO 45** - De acordo com as instruções gerais sobre o plano de contas previsto no Manual de Contabilidade do Setor Elétrico editado pela ANEEL, as concessionárias e permissionárias de serviço público de energia elétrica, bem como as concessionárias de geração de energia elétrica, ao registrar suas receitas e despesas devem observar, por exemplo, que:

- I. As receitas e as despesas serão computadas quando da sua realização financeira, independentemente de quanto tenham sido auferidas e incorridas.
- II. O registro das despesas será efetuado com base em documentos hábeis e idôneos, segundo o regime de caixa.
- III. Os lançamentos contábeis serão registrados de acordo com a legislação comercial, desde que não conflitem com as disposições do Manual.

Quais estão corretas?

- A) Apenas I.
- B) Apenas II.
- C) Apenas III.
- D) Apenas I e II.
- E) Apenas I e III.



**QUESTÃO 46** - Supondo que uma empresa concessionária do setor elétrico, regulada pela Agência Nacional de Energia Elétrica, inclusive quanto à sua contabilidade, tenha contratado seguro contra incêndio de suas instalações, e imobilizado em serviço nas seguintes condições: a contratação do seguro ocorreu no mês de abril, a um custo total de R\$ 6.408,00. Esse valor foi todo pago quando feita a contratação em abril, ou seja, à vista, para a cobertura vigorar pelo período de doze (12) meses, a contar do pagamento da apólice. Do montante pago, R\$ 5.472,00 referem-se ao prêmio de seguro; os R\$ 936,00 restantes referem-se a despesas de emissão da apólice e respectivos tributos.

Considerando que a contabilização foi feita nos termos das normas vigentes, o total da despesa operacional resultante dessa operação e contabilizada no exercício social em que a apólice foi paga é de R\$

- A) 534,00.
- B) 4.806,00.
- C) 5.040,00.
- D) 5.742,00.
- E) 6.408,00.

**QUESTÃO 47** - De acordo com o plano de contas de uso obrigatório pelas concessionárias de serviços de energia elétrica, a conta Estoques (código 112.71), integrante do Ativo Circulante, no sistema patrimonial, é uma conta que, entre outras funções, destina-se ao registro de:

- I. Material de propriedade da concessionária para consumo nas suas atividades.
- II. Combustível convencional de propriedade da concessionária, para uso na produção de energia elétrica.
- III. Valores de adiantamentos efetuados a fornecedores de bens que compõe o ativo imobilizado da empresa concessionária.

Quais estão corretas?

- A) Apenas I.
- B) Apenas II.
- C) Apenas III.
- D) Apenas I e II.
- E) Apenas I e III.

**QUESTÃO 48** - A conta Máquinas e Equipamentos, destinada à contabilização das imobilizações em máquinas e equipamentos empregadas pela concessionária, de modo exclusivo e permanente, na consecução do objeto da concessão para o Serviço Público de Energia Elétrica, de acordo com o Manual ANEEL, que regula a matéria, é

- A) creditada pela imobilização, por transferência da subconta Imobilizado em Curso - Máquinas e Equipamentos.
- B) debitada quando retirada a imobilização, por transferência, em contrapartida ao crédito da conta Desativações em Curso.
- C) creditada, por transferência, pelo valor original dos bens e direitos retirados de operação para uso futuro, em contrapartida ao débito da subconta – Bens e Direitos para Uso Futuro.
- D) debitada, por transferência, pelo valor original dos bens e direitos retirados de operação e destinados à geração de renda, a crédito da subconta Investimentos – Bens de Renda.
- E) uma conta de saldo credor, que indica o total das imobilizações da empresa concessionária em máquinas e equipamentos.

**QUESTÃO 49** - As concessionárias e permissionárias dos serviços de energia elétrica devem incluir, nas notas explicativas às demonstrações contábeis, um tópico relativo às análises econômico-financeiras que trate especificamente a respeito dos seus investimentos. Quanto a esse tópico, deverão ser incluídas, nos termos regulamentares da ANEEL, informações a respeito de investimentos:

- I. Em preservação e/ou recuperação do meio ambiente.
- II. Em projetos de aumento do consumo de energia elétrica.
- III. Na ampliação da rede de iluminação pública.

Quais estão corretas?

- A) Apenas I.
- B) Apenas II.
- C) Apenas III.
- D) Apenas I e II.
- E) Apenas II e III.

**QUESTÃO 50** - Nas demonstrações contábeis de uma concessionária de serviços de energia, constam os saldos das contas descritos na tabela a seguir.

<b>Código</b>	<b>Título</b>	<b>Saldo (R\$)</b>
4	Contas de Compensação do Ativo	<b>316.000,00</b>
41	Bens e Direitos Próprios	<b>214.600,00</b>
411	Ativo Imobilizado – Bens com Remuneração em Suspenso	123.400,00
412	Ativo Imobilizado – Bens Totalmente Depreciados	34.500,00
413	Bens e Direitos em Garantia com Terceiros	56.700,00
42	Bens e Direitos de Terceiros – Contrapartida	<b>101.400,00</b>
421	Bens da União em Regime Especial de Utilização – Contrapartida	89.100,00
422	Conta de Consumo de Combustíveis – CCC – Contrapartida	12.300,00

Com base nessas informações, pode-se concluir que o total das contas de compensação do passivo é igual a R\$

- A) 66.900,00.
- B) 101.400,00.
- C) 214.600,00.
- D) 281.500,00.
- E) 316.000,00.