

PORTUGUÊS

COM BASE NO TEXTO I, RESPONDA AS QUESTÕES 01 A 02



1) Com base no texto, é **CORRETO** dizer:

- A) A menina estava triste porque o seu tio tinha “virado” crente;
- B) Dênis acha que a menina tem razão em estar triste;
- C) A tristeza da menina era pelo falecimento do seu tio;
- D) O tio da menina era viciado em jogo;
- E) O menino não entendeu a tristeza da menina porque ela não estava de luto.

2) Dênis, por ser nome de pessoa, é considerado um nome próprio. Assinale a alternativa em que a palavra **NÃO** é um nome próprio:

- A) Sapé;
- B) Tio;
- C) Cuiabá;
- D) São José;
- E) Deus.

TEXTO II

Dois camaradas se encontram quando estão passeando com seus cachorros na rua.

Um deles, muito convencido, diz:

- O meu cachorro consegue ler!
- O outro, mais convencido ainda:
- Eu já sabia. O meu cachorro me contou!

Amir Mattos

3) É **INCORRETO** dizer que, o texto, fala sobre:

- A) A vaidade dos cachorros;
- B) Para os donos os cachorros leem e falam;
- C) Os dois homens são convencidos;
- D) Um homem e o seu amigo;
- E) Dois cachorros considerados inteligentes.

4) Assinale a alternativa em que a palavra tem o mesmo número de fonemas da palavra **passeando**.

- A) Cachorro;

- B) Convenceu;
- C) Encontram;
- D) Quando;
- E) Consegue.

5) A palavra camarada **NÃO** significa;

- A) Amigo;
- B) Companheiro;
- C) Confrade;
- D) Colega;
- E) Malandro.

6) Na sociedade o cachorro é considerado:

- A) Um animal peçonhento;
- B) Um animal traiçoeiro;
- C) O melhor amigo do homem;
- D) O devorador de ratos;
- E) Perigo constante.

COM BASE NO DITADO POPULAR: “Quem com ferro fere, com ferro será ferido.” RESPONDA AS QUESTÕES 07 A 08

7) Este ditado popular fala sobre:

- A) Amizade fiel;
- B) Homem trabalhador;
- C) Aqui se faz, aqui se paga;
- D) O ferro quebrou;
- E) O ferreiro se machucou.

8) Assinale a alternativa em que todas as palavras são derivadas de **ferro**:

- A) ferver – fértil;
- B) ferreiro – ferrinho;
- C) ferrugem – ferida;
- D) ferrolho – febre;
- E) fada – ferradura.

9) Assinale a alternativa que completa correta e respectivamente as lacunas:

- I. Ela escreve muito _____.
- II. _____ ouviu o sinal, levantou-se.

- A) mal – Mal
- B) mal – Mau
- C) mau – Mal
- D) mau – Mau
- E) N.D.A.

10) Considere a oração:

“ A rua onde moro é **cheia de árvores**”.

A expressão destacada pode ser substituída pelo adjetivo:

- A) Arvorizada;

- B) Arvoreada;
- C) Urbanizada;
- D) Arborizada;
- E) Arboreada.

CONHECIMENTOS GERAIS

11) No ano de 2005 a comunidade católica mundial chorou a morte do Papa João Paulo II. Naquele mesmo ano, fora escolhido seu substituto, o qual adotou o nome de Bento XVI. Dentre as alternativas abaixo identifique o nome de batismo do Papa Bento XVI:

- A) Giuseppe Melchiorre;
- B) Giacomo Chiesa;
- C) Eugênio Pacelli;
- D) Albino Luciani;
- E) Joseph Alois Ratzinger.

12) Recentemente o Haiti fora devastado por um forte terremoto, onde milhares de pessoas perderam suas vidas. No mês de fevereiro de 2010, outro país, desta vez da América do Sul foi atingido por outro terremoto. O país ao qual nos referimos é:

- A) Uruguai;
- B) Argentina;
- C) Chile;
- D) Paraguai;
- E) Bolívia;

13) O Brasil já teve várias denominações em sua moeda a exemplo de cruzado, cruzeiro novo, dentre outras. Atualmente o Brasil tem como moeda oficial o Real, a qual foi instituída no governo do Presidente Itamar Franco. Essa moeda foi instituída no ano de:

- A) 1994;
- B) 1995;
- C) 1996;
- D) 1997;
- E) 1998.

14) O Presidente Luiz Inácio Lula da Silva governa o Brasil já no seu segundo mandato, tendo como atual Vice-Presidente:

- A) José Alckmin;
- B) Marco Maciel;
- C) José de Alencar;
- D) Michel Temer;
- E) José Sarney.

15) No ano de 2010 comemora-se o centenário de nascimento de um grande compositor, o qual tem em suas composições "Não tem tradução", "Rapaz folgado", dentre outras, ficando conhecido ainda como Poeta da Vila. Esse compositor é:

- A) Wilson Batista;

- B) Noel Rosa;
- C) Antonio Sergi;
- D) Carlos Roma;
- E) Chico Amaral.

16) O Estado da Paraíba é dotado de várias atrações turísticas. Dentre elas uma cidade onde já foram gravadas cenas de vários filmes, com destaque para O Auto da Compadecida. Esta cidade, conhecida como "Roliúde Nordestina" é:

- A) Cabaceiras;
- B) Patos;
- C) Sousa;
- D) Soledade;
- E) Taperoá;

17) No ano de 2010 foram realizadas as Olimpíadas de Inverno, onde várias modalidades de esportes praticadas no gelo foram disputadas. Dentre as alternativas abaixo identifique o país onde se realizaram as Olimpíadas de Inverno de 2010:

- A) Estados Unidos;
- B) França;
- C) Canadá;
- D) Suíça;
- E) Inglaterra.

18) A cidade de Sapé é berço de um dos mais renomados escritores da literatura nacional. Estamos falando de:

- A) Pedro Américo;
- B) Manoel Bandeira;
- C) José Lins do Rêgo;
- D) Augusto dos Anjos;
- E) Celso Furtado.

19) A denominação do nome Sapé originou-se da existência de um tipo de capim abundante na região, conhecido pelos indígenas como "Eça-pé", que significa:

- A) O que ilumina o caminho, que dá claridade;
- B) O que sai do caminho;
- C) O pássaro que come peixe;
- D) Aonde o Ipê vive;
- E) O que canta no caminho.

20) Na década de 60 no município de Sapé se desenvolveu um dos movimentos agrários de maior expressão no Brasil. Estamos falando do:

- A) Movimento Sem Terra;
- B) Movimento das Ligas Camponesas;
- C) Dos Centros de Cultura Popular;
- D) Da Pastoral da Terra;
- E) Do Sindicato dos Trabalhadores Rurais.

CONHECIMENTOS ESPECÍFICOS

21) Nos itens abaixo identifique alguns dos componentes do Sistema Nacional de Trânsito.

- I. CONTRAN.
- II. TELECOM.
- III. SEBRAE.
- IV. DNIT.
- V. VADE-MECUM.

As alternativas **CORRETAS** são:

- A) I, III;
- B) II, III;
- C) III, IV;
- D) I, IV;
- E) II, V.

22) Conforme o Inc. I do art. 17 do CTB (Código de Trânsito Brasileiro), julgar os recursos interpostos pelos infratores é competência do:

- A) CONTRAN;
- B) CETRAN;
- C) DETRAN;
- D) JARI;
- E) CIRETRAN.

23) Conforme o Inc. III do Art. 23 do CTB (Código de Trânsito Brasileiro), compete às Polícias Militares dos Estados e do Distrito Federal:

- A) Planejar, projetar, regulamentar e operar o trânsito de veículos, de pedestres e de animais, e promover o desenvolvimento da circulação e da segurança de ciclistas;
- B) Credenciar órgãos ou entidades para a execução de atividades previstas na legislação de trânsito, na forma estabelecida em norma do CONTRAN;
- C) Executar a fiscalização de trânsito, quando e conforme convênio firmado, como agente do órgão ou entidade executivos de trânsito ou executivos rodoviários, concomitantemente com os demais agentes credenciados;
- D) Implantar, manter e operar o sistema de sinalização, os dispositivos e os equipamentos de controle viário;
- E) Instruir os recursos interpostos das decisões do CONTRAN, ao Ministro ou dirigente coordenador máximo do Sistema Nacional de Trânsito.

24) Art. 29 do CTB (Código de Trânsito Brasileiro). O trânsito de veículos nas vias terrestres abertas à circulação obedecerá às seguintes normas:

Conforme a alínea "b" do Inc. III deste artigo, quando veículos, transitando por fluxos que se cruzem, se aproximarem de local não sinalizado, terá preferência de passagem.

- No caso de rotatória:

- A) Aquele que vem da esquerda;
- B) Aquele que vem da direita;
- C) Aquele que estiver circulando por ela;
- D) Aquele que vem de frente;
- E) N.D.R.

25) Art. 29 do CTB (Código de Trânsito Brasileiro). O trânsito de veículos nas vias terrestres abertas à circulação obedecerá às seguintes normas:

Conforme a alínea "a" do inc. III deste artigo, quando veículos, transitando por fluxos que se cruzem, se aproximarem de local não sinalizado, terá preferência de passagem.

- No caso de apenas um fluxo ser proveniente de rodovia:

- A) Aquele que vem da esquerda;
- B) Aquele que vem da direita;
- C) Aquele que estiver circulando por ela;
- D) Aquele que vem de frente;
- E) N.D.R.

26) Conforme os Incisos I, II e III do Art. 54 do CTB (Código de Trânsito Brasileiro). Os condutores de motocicletas, motonetas e ciclomotores só poderão circular nas vias:

- I. Utilizando capacete de segurança, com viseira ou óculos protetores.
- II. Com cinto de segurança.
- III. Segurando o guidom com as duas mãos.
- IV. Usando vestuário de proteção, de acordo com as especificações do CONTRAN.
- V. Segurando o guidom com uma das mãos.

As alternativas **CORRETAS** são:

- A) I, II, III;
- B) II, III, IV;
- C) III, II, IV;
- D) V, I, IV;
- E) III, I, IV.

27) Conforme os incisos I, II e III do art. 55 do CTB (Código de Trânsito Brasileiro). Os passageiros de motocicletas, motonetas e ciclomotores só poderão ser transportados se:

- I. Utilizando capacete de segurança.
- II. Com cinto de segurança especial para passageiros.
- III. Em carro lateral acoplado aos veículos ou em assento suplementar atrás do condutor.
- IV. Se criança em lugar especial na frente do condutor.
- V. Usando vestuário de proteção, de acordo com as especificações do CONTRAN.

Assinale a alternativa **CORRETA**.

- A) V, II, I;
- B) II, III, IV;
- C) I, III, V;
- D) I, III, II;
- E) III, IV, V.

28) Conforme o Art. 176 do CTB (Código de Trânsito Brasileiro) observe as proposituras abaixo e identifique circunstâncias que o condutor de veículo envolvido em acidente com vítima deixar de _____

_____ incorrerá em uma infração gravíssima, tendo como penalidade – multa (cinco vezes) e suspensão do direito de dirigir e como medida administrativa terá o documento de habilitação recolhido.

- I. De prestar ou providenciar socorro a vítima, podendo fazê-lo.
- II. De adotar providências, podendo fazê-lo, no sentido de evitar perigo para o trânsito no local.
- III. De se ausentar pelo motivo de tido conhecimento que parentes da vítima chegaram ao local.
- IV. De adotar providências para remover o veículo do local, quando determinadas por policial ou agente da autoridade de trânsito.
- V. De mexer no local do acidente para facilitar o trabalho do agente de trânsito.

As assertivas que preenchem a lacuna corretamente são:

- A) I, II, III;
- B) III, V, II;
- C) II, I, IV;
- D) V, III, IV;
- E) I, III, V.

29) Conforme o Art. 193 do CTB (Código de Trânsito Brasileiro). O condutor que transitar com o veículo em calçadas, passeios, passarelas, ciclovias, ciclofaixas, ilhas, refúgios, ajardinamentos, canteiros centrais e divisores de pista de rolamento, acostamentos, marcas de canalização, gramados e jardins públicos. Comete uma infração de natureza? E tem como penalidade?

- A) Leve e multa;
- B) Média e multa (duas vezes);
- C) Grave e multa (duas vezes);
- D) Gravíssima e multa (três vezes);
- E) Supergravíssima e multa (três vezes).

30) Conforme o inc. IX do art. 231 do CTB (Código de Trânsito Brasileiro). Transitar com o veículo, desligado ou desengrenado, em declive, acarreta em uma infração de natureza? Tem como penalidade? E medida administrativa?

- A) Leve, multa e sem medida administrativa;

- B) Média, multa e retenção do veículo;
- C) Grave, multa e apreensão do veículo;
- D) Gravíssima, multa e apreensão do veículo;
- E) N.D.R.

31) Sobre os componentes do motor observe a alternativa e responda:

É uma espécie de tampa do motor contra a qual o pistão comprime a mistura (ar e combustível) ou o ar. Geralmente possui furos com rosca onde são instaladas as velas de ignição ou os bicos injetores e onde estão instaladas as válvulas de admissão e escape.

- A) Biela;
- B) Cabeçote;
- C) Carter;
- D) Ventolina;
- E) Bomba injetora.

32) Componente do motor observe e responda:

É a parte inferior do bloco do motor, que cobre os componentes inferiores do motor e onde está depositado o óleo lubrificante.

- A) Carter;
- B) Cabeçote;
- C) Pistão;
- D) Bomba injetora;
- E) Biela.

33) Analise a afirmação sobre componentes do motor e responda abaixo:

É a parte móvel da câmara de combustão, recebe a força de expansão dos gases queimados, transmitida a biela, por intermédio de um pino de aço. É em geral fabricado em liga de alumínio.

- A) Bomba injetora;
- B) Pistão;
- C) Carter;
- D) Rotor;
- E) Roteador.

34) Julgue a afirmação sobre componentes do motor e responda:

Também conhecido como eixo de manivela, é o eixo motor propriamente dito, o qual, na maioria das vezes, é instalado na parte inferior do bloco, recebendo ainda as bielas que lhe imprimem movimento.

- A) Válvula;
- B) Pistão;
- C) Virabrequim;
- D) Bloco do motor;
- E) Cabeçote.

35) Quanto ao cinto de segurança: Ver se os cintos não possuem cortes para não se romperem numa emergência; conferir se não existem dobras que impeçam a perfeita elasticidade; testar o travamento; e verificar se os cintos dos bancos traseiros estão disponíveis para o passageiro. São atitudes que além de salvar vidas evita ao condutor conforme o art. 167 do CTB (Código de Transito Brasileiro), cometer uma infração de natureza? Ter como penalidade? E medida administrativa?

- A) Leve, multa e retenção do veículo até a colocação do cinto;
- B) Media, multa e retenção do veículo até a colocação do cinto;
- C) Grave, multa e retenção do veículo até a colocação do cinto;
- D) Gravíssima, multa e retenção do veículo até a colocação do cinto;
- E) Supergravíssima, multa e retenção do veículo até a colocação do cinto.

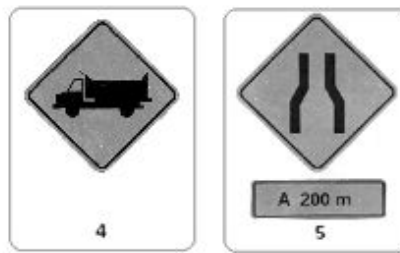
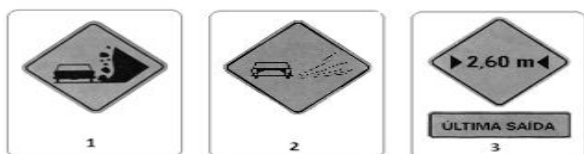
36) Segundo a OMS, a saúde é um estado de completo bem-estar físico, mental e social. E uma característica necessária para se manter saudável é a adoção de medidas higiênicas que visam manter o bem-estar próprio e geral. Julgue as afirmativas abaixo e assinale V, para verdadeiro, e F, para falso, quanto a medidas que são higiênicas:

- () Jogar, fora do carro, qualquer tipo de lixo quando se está transitando em uma rodovia, visto que não está se sujando a cidade em que se vive.
- () Jogar, fora do carro, apenas o lixo orgânico e/ou biodegradável enquanto se transita em uma rodovia, visto que este lixo se transforma em matéria-prima (adubo) para as plantas.
- () Escovar os dentes no mínimo duas vezes por dia, devendo as escovações serem realizadas no momento antes de dormir e ao acordar.
- () Em nosso clima, apenas um banho é necessário por dia, o qual deve ser tomado no período da noite, evitando que a sujeira e os microorganismos, que se impregnaram na pele durante o dia, contaminem sua cama de dormir.
- () Aparar pelos axilares e pubianos não são consideradas medidas higiênicas.

Marque a alternativa que traz a seqüência correta:

- A) F, F, F, F e F;
- B) F, V, V, V e V;
- C) F, V, V, F e F;
- D) V, F, V, V, e F;
- E) F, F, V, F e F.

37) Observe as placas e as afirmativas a seguir:




- I. A placa 1 indica risco de desmoronamento na pista, por isso deve-se ter cuidado redobrado.
- II. A placa 2 indica projeção de líquido nos pedestres, por isso deve-se reduzir a velocidade e andar mais ao centro da pista, evitando molhar os pedestres.
- III. A placa 3 indica que é a última saída para carros que possuem uma largura maior que 2,60 m, devendo o condutor destes veículos deixar a via de tráfego atual, evitando, assim, possíveis acidentes.
- IV. A placa 4 indica que só caminhões devem trafegar na faixa em questão, devendo os condutores de outros veículos se dirigirem a outra faixa.
- V. Indica a presença de ponte estreita a frente, devendo o condutor reduzir a velocidade e dobrar a atenção na passagem pela mesma.

Marque a alternativa abaixo que contém as afirmativas **INCORRETAS**:

- A) I e III;
- B) IV e V;
- C) I, II e IV;
- D) II, IV e V;
- E) II, III e V.

38)




De acordo com as placas acima, marque a alternativa **INCORRETA**:

- A) A placa 1 indica a presença de aclive acentuado;
- B) A placa 2 indica curva em "S" à direita;

- C) A placa 3 indica a presença de cruzamento de vias a frente;
D) A placa 4 indica a presença de via lateral a esquerda;
E) A placa 5 indica a presença de vento lateral.

39) Observe as placas abaixo:



Marque a alternativa que correlaciona corretamente a placa com o seu significado:

- A) A placa 1 indica que o motorista deve entrar na próxima via a direita;
B) A placa 2 indica fim de pista a frente;
C) A placa 3 indica que é proibido virar a esquerda;
D) A placa 4 indica que é proibido virar a direita;
E) A placa 5 indica passagem obrigatória.

40) Os fatores pessoais de insegurança são situações em que o trabalhador (condutor) está exposto a um maior risco de acidente no trabalho (trânsito), gerado por problemas não relacionados ao trabalho (profissão). Marque a alternativa abaixo que não contém um fator pessoal de insegurança (no trânsito).

- A) Presença de conflitos familiares no dia-a-dia do trabalhador (condutor);
B) Uso de substâncias tóxicas;
C) Presença de algum problema de saúde não tratado;
D) Falta de interesse pela atividade que desempenha;
E) N.D.A.