



PREFEITURA MUNICIPAL DE RIO LARGO

CONCURSO PÚBLICO

CARGO de Nível Superior

ODONTÓLOGO

PROVA TIPO

1

**Provas de Português, Raciocínio Lógico,
Geografia e História de Rio Largo e Conhecimentos Específicos.**

INSTRUÇÕES GERAIS

1. Este Caderno de Questões somente deverá ser aberto quando for autorizado pelo Fiscal.
2. **Assine** neste Caderno de Questões e coloque o número do seu documento de identificação.
3. Ao ser autorizado o início da prova, verifique se a numeração das questões e a paginação estão corretas. Verifique também, se contém 50 (cinquenta) questões objetivas com 05 (cinco) alternativas cada, caso contrário comunique imediatamente ao Fiscal.
4. Você dispõe de **3h** (três horas) para fazer esta prova. Faça-a com tranquilidade, mas **controle seu tempo**. Esse **tempo** inclui a marcação da **Folha de Respostas** das questões objetivas. Você somente poderá sair em definitivo do Local de Prova após decorridas **2h** (duas horas) do seu início.
5. Ao receber a **Folha de Respostas**, confira seu **nome, número do seu documento de identificação e cargo escolhido**.
6. Em hipótese alguma lhe será concedida outra Folha de Respostas.
7. Preencha a **Folha de Respostas** utilizando caneta esferográfica de tinta azul ou preta. Na **Folha de Respostas**, preencha completamente o círculo correspondente à alternativa escolhida, conforme modelo:

1	<input type="radio"/>	<input type="radio"/>	<input type="radio"/>	<input checked="" type="radio"/>	<input type="radio"/>
	A	B	C	D	E
8. Será atribuído o valor ZERO à questão que contenha na Folha de Respostas de questões objetivas: dupla marcação, marcação rasurada ou emendada, não preenchida totalmente ou que não tenha sido transcrita.
9. A correção da prova objetiva será efetuada de forma eletrônica e considerando-se apenas o conteúdo da **Folha de Respostas**.
10. Caso a Comissão julgue uma questão como sendo nula, seus pontos serão atribuídos à todos os candidatos.
11. Não será permitida qualquer espécie de consulta.
12. Ao terminar a prova, devolva ao Fiscal de Sala este **Caderno de Questões**, juntamente com a **Folha de Respostas** e assine a **Lista de Presença**.
13. Nas salas que apresentarem apenas um fiscal, os 3(três) últimos candidatos somente poderão ausentar-se juntos da sala de prova, após assinatura da Ata de Encerramento.

Boa Prova!

Nº do documento de identificação:

Assinatura do(a) candidato(a):





PORTUGUÊS

As questões de 1 a 3 referem-se ao texto seguinte.

1 No ensino, como em outras coisas, a liberdade deve
 3 ser questão de grau. Há liberdades que não podem ser
 5 toleradas. Uma vez conheci uma senhora que afirmava não
 7 se dever proibir coisa alguma a uma criança, pois deve
 9 desenvolver sua natureza de dentro para fora. “E se a sua
 11 natureza a levar a engolir alfinetes?” indaguei [...]. No
 13 entanto, toda criança abandonada a si mesma, mais cedo
 15 ou mais tarde, engolirá alfinetes, tomará veneno, cairá de
 17 uma janela alta ou doutra forma chegará a mau fim. Um
 pouquinho mais velhos, os meninos, podendo, não se
 lavam, comem demais, fumam até enjoar, apanham
 resfriados por molhar os pés, e assim por diante – além do
 fato de se divertirem importunando anciãos [...]. Quem
 advoga a liberdade da educação não quer dizer que as
 crianças devam fazer, o dia todo, o que lhes der na veneta.
 Deve existir um elemento de disciplina e autoridade; a
 questão é até que ponto, e como deve ser exercido.
 (Bertrand Russell)

1. Dadas as proposições seguintes,

- I. Um dos limites a serem atribuídos à liberdade é a integridade física da criança.
- II. A autonomia dada a uma criança deve estar associada à disciplina e à autoridade.
- III. A essência do texto é mostrar que as pessoas não sabem usar a liberdade.
- IV. A liberdade constitui valor absoluto, cabendo a cada um saber regular esta.

quais são verdadeiras?

- A) I e II, apenas.
- B) II e III, apenas.
- C) I e IV, apenas.
- D) II, III e IV.
- E) I, II e III.

2. Qual a função sintática das expressões **de grau** (linha 2), **os meninos** (linha 10) e **da educação** (linha 14), respectivamente?

- A) objeto indireto – sujeito – complemento nominal
- B) adjunto adnominal – aposto – complemento nominal
- C) objeto indireto – sujeito – adjunto adnominal
- D) complemento nominal – aposto – adjunto adnominal
- E) complemento nominal – sujeito – complemento nominal

3. O texto pode ser entendido como

- A) descritivo e dissertativo, pela transmissão da imagem de uma cena e apresentação de elementos argumentativos.
- B) narrativo, pelo diálogo que houve entre o autor e uma senhora.
- C) descritivo, porque expõe uma sequência de ações realizadas pelas crianças.
- D) dissertativo, porque há a exposição de um ponto de vista.
- E) narrativo e dissertativo, pela mistura de ocorrências e exposição de fatos e ideias.

As questões de 4 e 5 referem-se ao texto seguinte.

O homem vive entre diversos tipos de temporalidade. Na realidade, há uma percepção intuitiva de que os múltiplos sentidos de tempo se entrecruzam na vida cotidiana. A percepção mecânica objetiva, definida pelos relógios e calendários orienta nossas atividades rotineiras. Estabelece ritmos e nos auxilia operacionalmente a definir prazos e compromissos. Em um sentido consensual geral, o tempo determinado espacialmente pelos cronômetros, pela periodicidade dos meses e das estações do ano ou pela delimitação de períodos ou eras é uma abstração. O homem ocidental subordina-se pragmaticamente às suas determinações – horas, minutos, segundos, meses, anos... – e orienta as ações de acordo com sua imagem de continuidade e progressão (KENSKI, Vani Moreira. *Tecnologias e ensino presencial e a distância*. Campinas: Papyrus, 2003, p. 31).

4. Para a autora, a percepção mecânica do tempo

- A) provoca os entrecruzamentos instintivos.
- B) reformula os paradigmas sociais.
- C) estabelece formas sociais inusitadas.
- D) determina as ações cotidianas.
- E) dimensiona as ações intuitivas.

5. O parecer sobre a temporalidade está centrado numa contradição, num paradoxo. Essa assertiva pode ser vista em:

- A) o homem vive em diversas concepções de tempo.
- B) o tempo objetivo define as rotinas cotidianas.
- C) o homem ocidental está atrelado ao sentido de tempo cronológico.
- D) a sociedade humana encaminha-se pragmaticamente pela linha do tempo.
- E) a concepção objetiva de tempo é também uma abstração.

As questões 6 e 7 referem-se ao texto seguinte.

Como seriam as coisas e as pessoas antes que lhes tivéssemos dado o sentido de nossa esperança e visão humanas? Devia ser terrível. Chovia, as coisas se ensopavam sozinhas e secavam, e depois ardiam ao sol e se crestavam em poeira. Sem dar ao mundo o nosso sentido humano, como me assusto. Tenho medo da chuva, quando a separo da cidade e dos guarda-chuvas abertos, e dos campos se embebendo de água (Clarice Lispector).

6. Na oração “Sem dar ao mundo o nosso sentido humano”, o verbo

- A) suprime os complementos.
- B) é complementado por objeto direto e objeto indireto.
- C) é intransitivo.
- D) é acompanhado apenas por um adjunto adverbial.
- E) é complementado por um objeto indireto.



7. O excerto “Chovia, as coisas se ensopavam sozinhas e secavam, e depois ardiavam ao sol e se crestavam em poeira” pode ser reescrito sem desvio de sentido nem subversão da norma culta na opção:

- A) Chovia. Ensopava-se as coisas sozinhas e secavam, depois ardiavam ao sol e se crestavam em poeira.
- B) Chovia, mas as coisas se ensopavam sozinhas, depois secavam, ardiavam ao sol e se crestavam em poeira.
- C) Chovia. As coisas se ensopavam sozinhas e secavam. Depois ardiavam ao sol e crestava-se em poeira.
- D) Chovia. Ensopavam-se as coisas sozinhas, secavam, depois ardiavam ao sol e crestavam-se em poeira.
- E) Chovia, e depois as coisas, ensopavam-se sozinhas, ardiavam ao sol e se crestavam em poeira.

As questões 8 e 9 referem-se ao texto seguinte.

“Quis arrancá-lo dali, mas não pude; ele estava arraigado ao chão, e só continuou a andar quando a briga cessou inteiramente, e um dos cães, mordido e vencido, foi levar a sua fome a outra parte. Notei que ficara sinceramente alegre, posto contivesse a alegria, segundo convinha a um grande filósofo. Fez-me observar a beleza do espetáculo, lembrou o objeto da luta, concluiu que os cães tinham fome; mas a privação do alimento era nada para os efeitos gerais da filosofia. Nem deixou de recordar que em algumas partes do globo o espetáculo é mais grandioso: as criaturas humanas é que disputam aos cães os ossos e outros manjares menos apetecíveis; a luta que se complica muito, porque entra em ação a inteligência do homem, com todo o acúmulo de sagacidade que lhe deram os séculos” (Machado de Assis. *Memórias póstumas de Brás Cubas*).

8. A briga de cães, como pretexto, passa a ser um argumento secundário,

- A) visto que o argumento central é a briga dos homens pelo mesmo motivo, mas com o agravante da experiência e da sagacidade.
- B) visto que, em essência, o elemento temático central do texto é a problemática das guerras entre os indivíduos humanos.
- C) pois a ideia central se baseia completamente nas desigualdades humanas, produzida pela necessidade de sobrevivência de todas as criaturas.
- D) posto que o argumento principal é a satisfação de presenciar a luta dos homens pela sobrevivência.
- E) pois o caráter bestial, a que o autor se refere, associa-se somente aos cães.

9. No período “Concluiu que os cães tinham fome”, a oração “que os cães tinham fome” exerce a função de

- A) complemento nominal.
- B) predicativo.
- C) aposto.
- D) sujeito.
- E) objeto direto.

10. Quais os números entre parênteses que ocupam uma vírgula, pontuando adequadamente o texto abaixo, de acordo com a norma-padrão da língua portuguesa?

“O emprego de um vocábulo em sentido figurado (1) é um recurso natural (2) de que se serve (3) geralmente o povo para exprimir (4) com mais energia e rapidez (5) as suas ideias – essa é a analogia semântica.”

- A) 1 – 2 – 3 – 4 – 5
- B) 1 – 2 – 4 – 5
- C) 2 – 3 – 4
- D) 2 – 4 – 5
- E) 4 – 5

11. Assinale a opção incorreta quanto ao emprego do acento indicativo da crase.

- A) “A física contemporânea é fruto da mente humana e, portanto, limitada à nossa capacidade de ver e interpretar a realidade.”
- B) “É possível fixar quadros e pequenos objetos à parede sem uma única martelada.”
- C) “As cadeiras ficaram mais compactas e aliaram à tecnologia ergonômica leveza e modernidade.”
- D) “A fábrica japonesa atingiu a liderança mundial ao aliar mecânica confiável a preços atrativos – até a obsessão por corte de custos solapar à qualidade de seus carros.”
- E) “A velocidade com que se expandia era proporcional à sua valorização aos olhos dos investidores.”

12. Assinale o período que possui uma oração subordinada substantiva objetiva direta.

- A) “O levantamento, cujo público alvo é de classe média e alta e está concentrado na região Sudeste do Brasil, foi realizado com 28 mil usuários cadastrados no site.”
- B) “O novato Esmir Filho indica que pode vir a ter uma carreira das mais promissoras.”
- C) “Quando surgiram, os seriados precisavam ser palatáveis para filhos, pais e avós.”
- D) “Nos sites de relacionamento, milhões de pessoas que moram na cidade e nunca encostaram o pé na terra passam dia e noite plantando, colhendo e até roubando o gado do vizinho.”
- E) “Basta instalar um conector externo ou embutido, como as tomadas comuns.”

**RACIOCÍNIO LÓGICO**

13. Um professor propôs um problema com exatamente duas respostas corretas para cinco alunos. Ao resolver esse problema os alunos encontraram, como resposta, respectivamente, 1 e 9; 8 e 9; 8 e 5; 3 e 5; 9 e 6. Ao fazer a correção do problema o professor observou que um dos alunos errou as duas respostas, e os demais acertaram uma delas e erraram a outra. Nestas condições, podemos dizer que as respostas corretas do problema são:

- A) 3 e 5.
- B) 8 e 9.
- C) 8 e 3.
- D) 3 e 9.
- E) 9 e 6.

14. Adriana nasceu no dia 25 do mês de abril de 1974. Se, em um determinado ano, o mês de abril somente tem 4 domingos, podemos afirmar que o aniversário de Adriana não poderá acontecer em um dia de

- A) sexta-feira.
- B) terça-feira.
- C) quarta-feira.
- D) quinta-feira.
- E) sábado.

15. Marcelo trabalha como tipógrafo em uma gráfica. Para numerar as páginas de um livro de grosso volume, utilizou 2.989 algarismos. Nestas condições, podemos dizer que este livro possui

- A) 1216 páginas.
- B) 1024 páginas.
- C) 1124 páginas.
- D) 1016 páginas.
- E) 1116 páginas.

16. Considere a seguinte afirmação:

“Uma melancia pesa 3 kg mais meia melancia.”

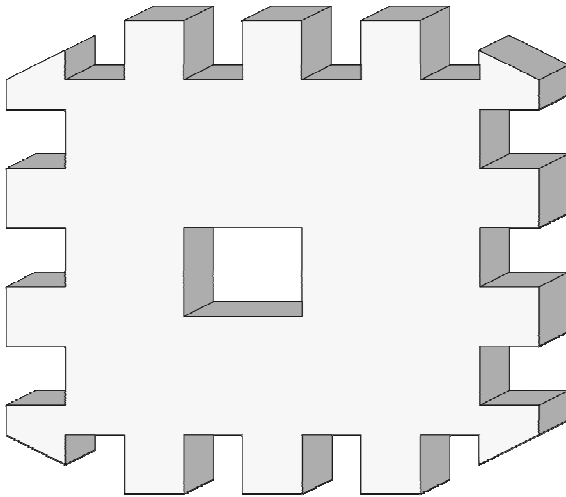
Podemos, então, concluir que uma melancia e meia pesa

- A) 6 kg.
- B) 7 kg.
- C) 8 kg.
- D) 9 kg.
- E) 10 kg.

17. Um aluno escreveu como tarefa de casa todos os números inteiros de 1 até 200. Podemos afirmar que nesta tarefa de casa o referido aluno escreveu o algarismo 9 quantas vezes?

- A) 28 vezes.
- B) 18 vezes.
- C) 40 vezes.
- D) 30 vezes.
- E) 38 vezes.

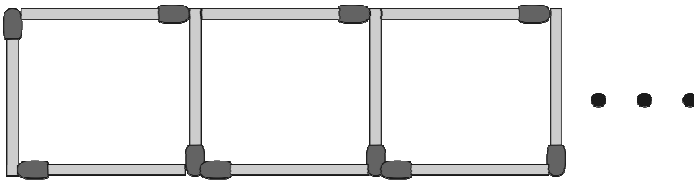
18. Observe o sólido vazado abaixo.



Então, em relação ao número de faces deste sólido, podemos dizer que ele é

- A) menor que 50.
- B) igual a 50.
- C) maior que 70.
- D) um número ímpar.
- E) divisível por 3.

19. Samuel está construindo uma sequência de quadrados com palitos de fósforos conforme figura abaixo.



Quantos palitos de fósforos são necessários para Samuel construir 133 quadrados?

- A) 500
- B) 480
- C) 400
- D) 380
- E) 580

20. Samuel, Vitor e Gabriel trabalhavam em uma Multinacional. Um deles tinha barba, outro tinha bigode e o outro não tinha barba. Cada um deles exercia dentro da empresa uma atividade diferente: um era arquiteto, outro era engenheiro e o outro era eletricista. O que tinha barba era arquiteto. Vitor era engenheiro. O que era eletricista não tinha bigode nem se chamava Samuel. Como se chamava o que não tinha barba e qual era sua profissão?

- A) Samuel – Engenheiro
- B) Vitor – Engenheiro
- C) Gabriel – Engenheiro
- D) Victor – Eletricista
- E) Gabriel – Eletricista



21. Quatro amigos apostaram uma corrida de bicicleta. Manoel disse: Pedro ganhou e Fábio chegou em segundo lugar. Fábio disse: Pedro chegou em segundo lugar e Antônio em terceiro lugar. Pedro disse: Antônio foi o último e Manoel o segundo. Sabendo-se que cada um dos rapazes disse uma verdade e uma mentira, podemos afirmar que

- A) Pedro chegou em último lugar e Antônio em terceiro.
- B) Pedro foi o primeiro colocado e Fábio o último colocado.
- C) Antônio foi o primeiro colocado e Manoel o último colocado.
- D) Fábio chegou em primeiro lugar e Pedro em segundo.
- E) Antônio chegou em terceiro lugar e Manoel em último.

22. Suponha que **a, b, c, d, e, f, g** e **h** denotem, nesta ordem, 8 crianças que brincam em uma roda. A brincadeira consiste em cantarolar sequencialmente a contagem de **1** a **14**, eliminando da brincadeira a criança que cantarolar o número **14**. Sabendo que a contagem é feita sempre no sentido horário e que a criança eliminada na primeira rodada foi a criança **b**, podemos afirmar que o início da contagem começou pela

- A) criança **e**.
- B) criança **d**.
- C) criança **c**.
- D) criança **a**.
- E) criança **b**.

23. Sejam **A** e **B** pontos de um plano cuja distância entre eles é **400 m**. Um robô irá fazer o percurso em linha reta entre os referidos pontos, conforme a seguinte regra: de dia ele percorrerá a distância de 40 m no sentido de **A** para **B** e a noite ele percorrerá a distância de 30 m no sentido de **B** para **A**. Nessas condições, em quantos dias o robô chegará ao ponto **B**?

- A) 35 dias
- B) 37 dias
- C) 36 dias
- D) 38 dias
- E) 39 dias

Geografia e História de Rio Largo

24. O município de Rio Largo limita-se

- A) ao norte com os municípios de Messias e Murici, ao sul com Satuba e Pilar, a leste com Atalaia e a oeste com Maceió.
- B) ao norte com os municípios de Satuba e Pilar, ao sul com Messias e Murici, a leste com Maceió e a oeste com Atalaia.
- C) ao norte com os municípios de Satuba e Pilar, ao sul com Messias e Murici, a leste com Atalaia e a oeste com Maceió.
- D) ao norte com os municípios de Messias, Murici e Pilar, ao sul com Satuba e Pilar, a leste com Maceió e a oeste com Atalaia.
- E) ao norte com os municípios de Messias e Murici, ao sul com Satuba e Pilar, a leste com Maceió e a oeste com Atalaia.

25. Dadas as proposições sobre o relevo do município de Rio Largo,

- I. Faz parte da unidade dos Tabuleiros Costeiros.
- II. Apresenta altitude média na área urbana em torno de 150 a 200 metros.
- III. Apresenta relevo formado por densos planaltos cristalinos.
- IV. Apresenta chapadas resultantes de intenso processo erosivo.

verifica-se que está(ão) correta(s)

- A) II, III e IV.
- B) I, apenas.
- C) III e IV, apenas.
- D) I e IV, apenas.
- E) I, II e III.

26. Analise as opções e identifique a que melhor representa a distribuição populacional, de acordo com os setores de atividades, no município de Rio Largo.

- A) A maior parte das ofertas de empregos no município está concentrada no setor primário da economia.
- B) O setor secundário absorveu e continua absorvendo o maior número de trabalhadores rio-larguenses.
- C) O setor terciário da economia é responsável pela maior geração de empregos no município.
- D) Os setores primário e secundário concentram o maior número de trabalhadores no município.
- E) O setor terciário vem perdendo um grande número de trabalhadores para o setor primário nos últimos anos.

27. O município de Rio Largo está situado na mesorregião

- A) do leste alagoano.
- B) de Maceió.
- C) do agreste alagoano.
- D) de Lourenço de Albuquerque.
- E) do oeste alagoano.

28. Dadas as proposições sobre a economia de Rio Largo,

- I. O município já foi sede de duas fábricas têxteis, Cachoeira e Progresso Alagoano, que muito contribuíram para o desenvolvimento do município em épocas passadas.
- II. Com o aumento da área de cultivo da cana-de-açúcar, houve uma redução das plantações de culturas alimentares.
- III. O Distrito Industrial de Rio Largo se tornou referência estadual pela grande e diversificada produtividade, absorvendo um grande número de trabalhadores do município e de seu entorno.
- IV. O aeroporto Zumbi dos Palmares, localizado no município de Rio Largo, é uma das principais fontes de tributos do município.

verifica-se que estão corretas

- A) I e II, apenas.
- B) II e IV, apenas.
- C) I e III, apenas.
- D) I, III e IV.
- E) II, III e IV.

29. A bacia do rio Mundaú encontra-se em acelerado processo de degradação ambiental. Os fatores abaixo são causas dessa degradação, exceto:

- A) lançamentos de esgotos domésticos no rio.
- B) desmatamento das matas ciliares.
- C) diminuição da profundidade do leito, decorrente do processo de assoreamento.
- D) lixiviação do solo decorrente de atividades agrárias.
- E) lançamento de despejos industriais no rio.


30. Observe o mapa a seguir.



Dentre as aglomerações urbanas do município de Rio Largo, destacam-se os povoados

- A) Terra Nova, Camurupim, Tabuleiro do Pinto, Águas Claras, Utinga etc.
- B) Utinga, Chã da Terra, Quebra Carro, Salgado, Lourenço de Albuquerque etc.
- C) Gustavo Paiva, Tabuleiro do Martins, Terra Nova etc.
- D) Utinga, Lourenço de Albuquerque, Tabuleiro do Pinto, Águas Claras, Pau Amarelo etc.
- E) Coqueiro Seco, Camurupim, Terra Nova, Tabuleiro do Pinto etc.

31. Considere a ilustração.



Ruínas da antiga fábrica de tecidos em Rio Largo.
In: Enciclopédia dos Municípios Alagoanos.

No final do século XIX, nas terras pertencentes a antigos engenhos em Rio Largo, foram estabelecidas duas fábricas têxteis:

- A) Progresso Alagoano e Carmem.
- B) Cachoeira e Agro-Fabril Mercantil.
- C) Carmem e Fábrica da Pedra.
- D) Progresso Alagoano e Agro-Fabril Mercantil.
- E) Cachoeira e Progresso Alagoano.

32. Com referência ao patrimônio histórico do município de Rio Largo, merece destaque o busto do comendador Gustavo Paiva, que é uma homenagem

- A) do operariado de Rio Largo, em 11 de setembro de 1946, ao grande empreendedor que marcou a história do município com sua visão social.
- B) do povo riolarguense ao fundador da Companhia de Fiação e Tecidos.
- C) ao centenário da Fábrica Cachoeira.
- D) ao comendador da Imperial Ordem da Rosa.
- E) à elevação de Rio Largo à categoria de cidade.

33. Em Rio Largo, em julho de 1894, uma usina começou a moer e tornou-se, à época, uma das maiores do setor em toda a América Latina, denominada

- A) Cachoeira do Meirim.
- B) Sumaúma.
- C) Brasileiro.
- D) Utinga Leão.
- E) Roçadinho.

34. Observe a gravura abaixo:



Via de acesso a Rio Largo.

In: Diego Maxuel Gomes da Silva.

Dadas as proposições abaixo sobre o município de Rio Largo,

- I. O desenvolvimento do polo industrial ocasionou a transferência da sede municipal para Rio Largo, que recebeu a categoria de cidade.
- II. A constituição de centro industrial, principalmente da Companhia Alagoana de Fiação e Tecidos (CAET), fez com que Rio Largo atingisse o seu apogeu.
- III. A decadência do transporte ferroviário elevou a economia de Rio Largo.
- IV. O distrito industrial de Rio Largo não conseguiu se expandir e possui poucas indústrias expressivas, como a cristal, de engarrafamento de água mineral.
- V. O advento das ferrovias foi de suma importância para o desenvolvimento econômico.

verifica-se que estão corretas

- A) I, IV e V.
- B) III, IV e V.
- C) I, II e III.
- D) I, II e V.
- E) II, III e IV.

35. Associe as datas aos acontecimentos de Rio Largo e, em seguida, assinale a opção correta.

1ª coluna	2ª coluna
1. 1915	() Rio Largo perde grande parte de seu território.
2. 1941	() Criação do município de Rio Largo.
3. 1960	() Transferência da sede da vila de Santa Luzia do Norte para o município de Rio Largo.
4. 1830	() Criação da comarca de Santa Luzia do Norte.
5. 1900	() Criação da paróquia de Rio Largo, pertencente à Arquidiocese de Maceió.

A sequência correta, de cima para baixo, está na opção

- A) 3, 4, 1, 5, 2.
- B) 5, 3, 2, 1, 4.
- C) 1, 5, 3, 2, 4.
- D) 3, 2, 5, 1, 4.
- E) 2, 3, 1, 5, 4.

CONHECIMENTOS ESPECÍFICOS

36. Dadas as assertivas seguintes, em relação as cavidades para amálgama,

- I. Os ângulos internos arredondados facilitam a adaptação do material durante a condensação e permitem uma melhor dissipação de esforços durante a mastigação.
- II. Os ângulos internos agudos dissipam a concentração de esforços evitando a ocorrência de fraturas.
- III. A determinação das paredes vestibular e lingual da caixa oclusal formando um ângulo de aproximadamente 70° com a superfície externa do dente é um fator de resistência da estrutura dentária e das bordas da futura restauração.
- IV. Em pacientes jovens a margem da parede gengival em cavidades de classe II conservadora sempre ficará localizada supragengivalmente em decorrência da localização da papila nesses pacientes.

verifica-se que estão corretas

- A) somente I e IV.
- B) somente II e III.
- C) somente I e III.
- D) somente II e IV.
- E) II, III e IV.

37. A prilocaína a 3% deve ser evitada em crianças portadoras de anemia pelo risco de

- A) aumentar o tempo de coagulação.
- B) aumentar o quadro de anemia.
- C) causar metemoglobinemia.
- D) choque anafilático.
- E) aumentar a frequência cardíaca.

38. Dadas as afirmações sobre a técnica anestésica de Gow-Gates,

- I. É utilizada para mandíbula com a boca aberta.
- II. É utilizada para a maxila com a boca aberta.
- III. Anestesia os nervos alveolar inferior, mentoniano, lingual, incisivo, milo-hióideo, auriculotemporal e bucal.
- IV. É utilizada para a mandíbula com a boca fechada.
- V. Produz anestesia sensitiva em praticamente todo o V3.

verifica-se que somente

- A) I, II e III são verdadeiras.
- B) I, III e V são verdadeiras.
- C) III e IV são verdadeiras.
- D) II e V são verdadeiras.
- E) III, IV e V são verdadeiras.

39. Quando da presença de um processo inflamatório agudo, a administração de um glicocorticoide

- A) favorece a formação de edema.
- B) desfavorece a formação de edema.
- C) favorece a marginação e migração leucocitária.
- D) favorece a cicatrização.
- E) favorece o aumento da permeabilidade capilar.

40. Quando a exposição pulpar ocorre por remoção de remanescente de dentina cariada ou se tivermos dúvida quanto à higidez da última camada de dentina, devemos optar pela realização da

- A) curetagem pulpar.
- B) proteção pulpar indireta.
- C) proteção pulpar direta.
- D) pulpectomia.
- E) pulpotomia.

41. A microbiota da infecção endodôntica primária é polimicrobiana constituída de microrganismos aeróbios, anaeróbios, gram positivos e gram negativos, com prevalência de

- A) aeróbios estritos.
- B) anaeróbios facultativos.
- C) anaeróbios estritos.
- D) aeróbios facultativos.
- E) leveduras.

42. O líquen plano é uma lesão cutânea comum que pode ter manifestação na mucosa. Em relação a esta patologia, é incorreto afirmar que

- A) a causa e a patogênese são desconhecidas, porém está relacionada a uma desordem autoimune medida por citotoxicidade linfocítica.
- B) as lesões orais podem ocorrer antes e ao mesmo tempo que as lesões cutâneas.
- C) a etiologia está relacionada à infecção fúngica por *Candida albicans* sendo, portanto, uma forma hiperplásica desta infecção.
- D) a maioria das células intraepiteliais são linfócitos CD8 e sua ativação pode ser responsável pela degeneração por liquefação das células basais.
- E) as lesões normalmente são simétricas e bilaterais e podem surgir em qualquer local da mucosa oral, sendo a mucosa jugal, a língua e gengiva os sítios mais comuns.

43. Dadas as afirmações abaixo,

- I. A hiperplasia associada a bordo de dentadura mal adaptada, geralmente ocorre no fundo de sulco vestibular, caracterizado por duas pregas teciduais, onde ocorre um sulco onde a borda da prótese se encaixa.
- II. A hiperplasia papilar ocorre em pacientes que dormem com as dentaduras e geralmente existe uma estomatite por *candida* associada à dentadura.
- III. O granuloma periférico de células gigantes ocorre em qualquer localização da mucosa oral, tendo, no entanto, preferência pela área de rebordo alveolar.
- IV. A estomatite nicotínica está associada às nitrosaminas produzidas pelo uso de cachimbo em longo prazo.

verifica-se que

- A) somente I, II e III são verdadeiras.
- B) somente I e II são verdadeiras.
- C) somente III e IV são verdadeiras.
- D) somente II e IV são verdadeiras.
- E) todas são verdadeiras.



44. Paciente de 22 anos apresenta pápula em forma de cúpula de coloração azulada na superfície ventral da língua que, por vezes, desaparecia e, depois de alguns dias, reaparecia. A história de trauma foi confirmada. O diagnóstico mais provável para lesão é:

- A) fibroma.
- B) granuloma piogênico.
- C) tumor de glândula salivar.
- D) fenômeno de extravasamento de muco.
- E) nevo azul.

45. Dada as afirmações abaixo,

- I. A amoxicilina não deve ser aplicada no terceiro trimestre de gravidez pois interfere com a calcificação do feto, resultando em osteogênese anormal e hipoplasia do esmalte dentário.
- II. A tetraciclina deve ser aplicada no terceiro trimestre de gravidez, pois não interfere com a calcificação do feto.
- III. A amoxicilina pode ser aplicada no terceiro trimestre de gravidez, pois não interfere com a calcificação do feto.
- IV. A tetraciclina não deve ser aplicada no terceiro trimestre de gravidez, pois interfere com a calcificação do feto, resultando em osteogênese anormal e hipoplasia do esmalte dentário.
- V. A cefalosporina possui efeito tóxico e desse modo não deve ser prescrita no período de gravidez, pois não é segura.

verifica-se que,

- A) somente I, II e III estão corretas.
- B) somente I e II estão corretas.
- C) somente I, II, IV e V estão corretas.
- D) somente III e IV estão corretas.
- E) todas estão corretas.

46. Dadas as afirmativas em relação a Estratégia de Saúde da Família (ESB),

- I. Ela foi criada e normatizada pela Norma Operacional de Assistência à Saúde em 1994, que definiu suas formas de financiamento, incluindo-a no Piso da Atenção Básica – PAB
- II. Cada equipe de saúde se responsabiliza pelo acompanhamento de cerca de 3 a 4 mil e 500 pessoas ou de 1000 famílias.
- III. As equipes de saúde bucal, modalidade I, são compostas por um Auxiliar de Saúde Bucal (ASB) e, um Cirurgião-Dentista (CD).
- IV. As equipes de saúde bucal, modalidade II, são compostas por um Auxiliar de Saúde Bucal (ASB), um Cirurgião-Dentista (CD), um Técnico em Higiene Dental (THD) e um Agente Comunitário de Saúde (ACS).

verifica-se que estão corretas

- A) I e II, apenas.
- B) I e IV, apenas.
- C) II e III, apenas.
- D) III e IV, apenas.
- E) II e V, apenas.

47. Em relação à estomatite aftosa recorrente, é correto afirmar que

- A) o estágio ulcerativo se caracteriza por um aumento acentuado das células T CD8.
- B) o estágio ulcerativo se caracteriza por uma diminuição acentuada das células T CD8.
- C) tem etiologia relacionada ao Herpes simples tipo 1.
- D) não é decorrente de danos imunomediados.
- E) decorre de traumatismos crônicos.

48. Dadas as proposições abaixo,

- I. A imunização contra hepatite B é realizada em três doses. A segunda dose um mês após a primeira e a terceira, seis meses após a segunda.
- II. Desinfecção é um processo que elimina micro-organismos patogênicos de seres inanimados, atingindo principalmente os esporos.
- III. Após a esterilização, quando bem empacotados e acondicionados os instrumentais permanecem estéreis por até 60 (sessenta) dias com segurança.
- IV. Na desinfecção de superfície, preconiza-se a técnica de “spray-wipe-spray” que inclui a pré-limpeza e desinfecção com um desinfetante.

verifica-se que estão corretas

- A) I e II, apenas.
- B) III e IV, apenas.
- C) I e IV, apenas.
- D) I, II e III, apenas.
- E) II e IV, apenas.

49. O período de risco de desenvolvimento de fluorose dental para os incisivos superiores permanentes é considerado alto para as crianças entre

- A) 6 e 12 meses.
- B) 15 e 30 meses.
- C) 30 e 48 meses.
- D) 48 e 72 meses.
- E) 30 e 72 meses.

50. Em relação as considerações abaixo,

- I. A primeira manifestação clínica da gengivite em crianças é o sangramento gengival à sondagem.
- II. As retrações gengivais atingem com grande frequência a dentição decídua; entretanto, elas somente devem ser motivo de preocupação por parte do cirurgião-dentista quando for originada por traumatismo dental.
- III. Os principais micro-organismos periodontopatogênicos são os *porphyromonas gingivalis* e *prevotella intermédia*, mas elas somente são encontradas nas crianças acima de cinco anos de idade.
- IV. O “col” é a região anatômica de maior vulnerabilidade ao desencadeamento da doença periodontal.

verifica-se que estão corretas

- A) I e IV, apenas.
- B) I, III e IV.
- C) I e II, apenas.
- D) IV, apenas.
- E) I, II e IV.

Mais um concurso com a realização:



Prefeitura Municipal de Rio Largo

